

教育部國民及學前教育署國民小學及國民中學
108 年基本學習內容標準化評量測驗
二年級數學科試卷




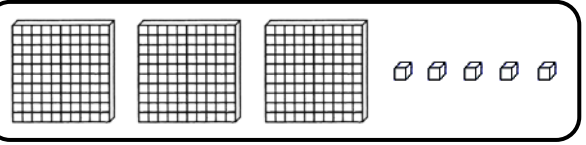

學校：	
班級：	座號：
姓名：	



一、選擇題，共 11 題，每題 4 分。

※請在正確選項前打勾，並請畫記清楚，不要超過格子。

範例：下列哪一個選項是這份考卷正確的答案？

<input checked="" type="checkbox"/>	(1) 打勾	<input type="checkbox"/>	(2) 寫數字
<input type="checkbox"/>	(3) 畫圈	<input type="checkbox"/>	(4) 畫叉

1. 一片  和 100 個  一樣多，數數看，下圖和多少個  合起來一樣多？
- 
- | | | | |
|-------------------------------------|-----------|--------------------------|-----------|
| <input type="checkbox"/> | (1) 35 個 | <input type="checkbox"/> | (2) 53 個 |
| <input checked="" type="checkbox"/> | (3) 305 個 | <input type="checkbox"/> | (4) 503 個 |
2. 媽媽買了一件上衣，付了下面圖的錢，請問媽媽付了多少钱？
- 
- | | | | |
|--------------------------|-----------|-------------------------------------|-----------|
| <input type="checkbox"/> | (1) 111 元 | <input type="checkbox"/> | (2) 456 元 |
| <input type="checkbox"/> | (3) 465 元 | <input checked="" type="checkbox"/> | (4) 546 元 |
3. 架子上有鮮奶 345 瓶，果汁比鮮奶多 287 瓶，果汁有多少瓶？
- | | | | |
|--------------------------|-----------|-------------------------------------|-----------|
| <input type="checkbox"/> | (1) 522 瓶 | <input type="checkbox"/> | (2) 532 瓶 |
| <input type="checkbox"/> | (3) 622 瓶 | <input checked="" type="checkbox"/> | (4) 632 瓶 |
4. 甲比乙高、乙比丙高，請問甲、乙、丙誰最高？
- | | | | |
|-------------------------------------|-------|--------------------------|---------|
| <input checked="" type="checkbox"/> | (1) 甲 | <input type="checkbox"/> | (2) 乙 |
| <input type="checkbox"/> | (3) 丙 | <input type="checkbox"/> | (4) 一樣高 |
5. 已經知道「 $36+48=84$ 」。
- 請問：哥哥原本有一些錢，花掉 48 元後，還剩下 36 元，哥哥原本有多少錢？
- | | | | |
|--------------------------|----------|-------------------------------------|----------|
| <input type="checkbox"/> | (1) 12 元 | <input type="checkbox"/> | (2) 36 元 |
| <input type="checkbox"/> | (3) 48 元 | <input checked="" type="checkbox"/> | (4) 84 元 |

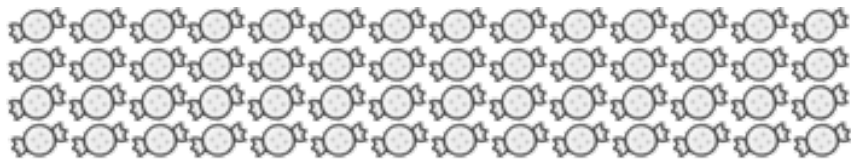
6. 下列哪一個問題可以用「 $5 \times 2 = 10$ 」算出答案？
- | | |
|-------------------------------------|---------------------------------|
| <input type="checkbox"/> | (1) 弟弟原有 5 元，媽媽再給他 2 元，現在他有多少元？ |
| <input type="checkbox"/> | (2) 哥哥原有 5 元，不小心丟掉 2 元，現在他有多少元？ |
| <input checked="" type="checkbox"/> | (3) 一本作業簿 5 元，姐姐買了 2 本，花了多少钱？ |
| <input type="checkbox"/> | (4) 小明有 5 元，小華比他多 2 元，小華有多少元？ |
7. 鐘面上時刻是幾點幾分？
- 
- | | | | |
|--------------------------|--------------|-------------------------------------|--------------|
| <input type="checkbox"/> | (1) 6 點 9 分 | <input checked="" type="checkbox"/> | (2) 6 點 45 分 |
| <input type="checkbox"/> | (3) 7 點 45 分 | <input type="checkbox"/> | (4) 9 點 7 分 |
8. 一條手鍊有 9 顆珠子，4 條手鍊有多少顆珠子？
- | | | | |
|--------------------------|----------|-------------------------------------|----------|
| <input type="checkbox"/> | (1) 32 顆 | <input checked="" type="checkbox"/> | (2) 36 顆 |
| <input type="checkbox"/> | (3) 54 顆 | <input type="checkbox"/> | (4) 63 顆 |
9. 把下面圖的 10 元都換成 5 元，請問全部會有多少個 5 元？
- 
- | | | | |
|-------------------------------------|----------|--------------------------|---------|
| <input checked="" type="checkbox"/> | (1) 14 個 | <input type="checkbox"/> | (2) 9 個 |
| <input type="checkbox"/> | (3) 5 個 | <input type="checkbox"/> | (4) 4 個 |
10. 桌子的長和 5 條紅繩接起來一樣長，也和 15 條藍繩接起來一樣長，也和 6 條白繩接起來一樣長，也和 25 條黑繩接起來一樣長，紅繩、藍繩、白繩和黑繩哪一條最長？
- | | | | |
|-------------------------------------|--------|--------------------------|--------|
| <input checked="" type="checkbox"/> | (1) 紅繩 | <input type="checkbox"/> | (2) 藍繩 |
| <input type="checkbox"/> | (3) 白繩 | <input type="checkbox"/> | (4) 黑繩 |

11. 「哥哥有 42 元，弟弟有 81 元，妹妹有 58 元，三個人合起來共有多少元？」
請問誰的算法和答案都正確？
甲：42+81=123，123+58=181
答：共有 181 元
乙：42+58=100，100+81=181
答：共有 181 元
丙：81+42=123，123+58=181
答：共有 181 元

- (1) 只有甲正確
(2) 只有乙正確
(3) 只有丙正確
(4) 甲、乙、丙都正確

二、填充題，共 12 題，每題 4 分。

12. 觀察下圖的糖果，已經知道 $14 \times 4 = 56$ ，
請問 $4 \times 14 = (56)$ 。



13. 算算看：

$$\begin{array}{r} 753 \\ - 28 \\ \hline 725 \end{array}$$

14. 在 \square 中填入 $<$ 、 $=$ 或 $>$ ：

$$235 - 28 \square 245 - 28$$

15. 「4 個百和 6 個十」合起來是 (460)。

16. 算算看：

$$\begin{array}{r} 80 \\ - 39 \\ \hline 41 \end{array}$$

17. 已經知道「 $3 \times 8 = 24$ 」，請完成下列算式：

- (1) $3 \times 9 = (27)$ 。
(2) $3 \times 10 = (30)$ 。
(3) $3 \times 11 = (33)$ 。

18. 在 \square 中填入 $<$ 、 $=$ 或 $>$ ：

$$\begin{array}{l} \text{已經知道 } 75 + 33 = 63 + 45 \\ 63 + 45 = 76 + 32 \end{array}$$

$$\text{請問 } 75 + 33 \square 76 + 32$$

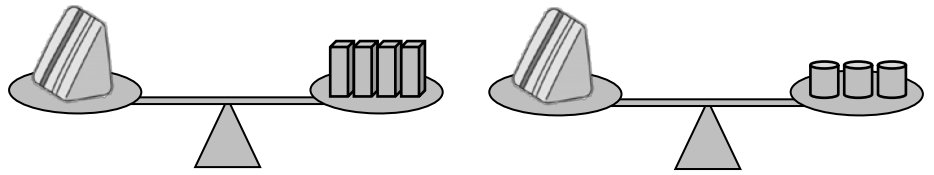
19. 哥哥把甲杯裝滿水，再把甲杯的水全部倒進乙杯，發現乙杯不但裝滿了，水還滿出來，哪一個杯子可以裝的水比較多？
圈圈看。(甲杯)，乙杯，一樣多

20. 看月曆，回答問題：

8 月						
一	二	三	四	五	六	日
	1	2	3	4	5	6
7	8	9	10	11	12	13
14	15	16	17	18	19	20
21	22	23	24	25	26	27
28	29	30	31			

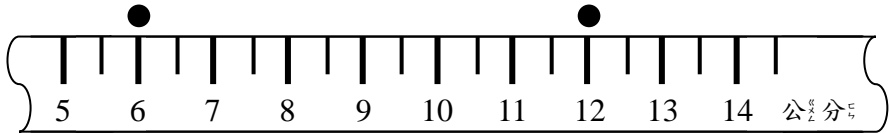
- (1) 8 月有 (31) 天。
(2) 爸爸從 8 月 2 日到 8 月 10 日出差，
共出差 (9) 天。

21. 觀察下面天平，和 哪一個比較重？

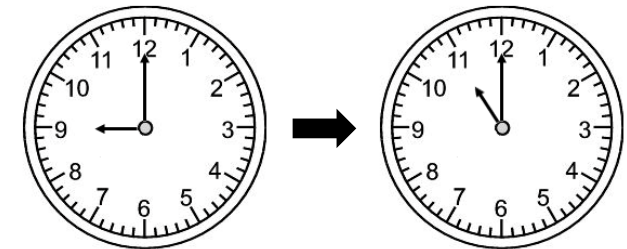


- 圈圈看。(大塊)，(小塊)

22. 下圖是一把直尺，畫出連接兩點的線段，
用圖中的尺量量看，這條線段長 (6) 公分。



23. 觀察下面時鐘，上午 9:00 到上午 11:00，
共經過 (2) 小時。



三、應用題，共 2 題，每題 4 分。

24. 「罐子裡有 86 顆彈珠，哥哥拿走一些後，還剩下 58 顆，哥哥拿走了多少顆？」
把做法用算式記錄下來，並寫出答案。
(86) \square (58) = (28) 或
(86) \square (28) = (58)
答：拿走了 (28) 顆

25. 「河邊有 74 隻水鳥，飛走 25 隻，又飛來 27 隻後，河邊有多少隻水鳥？」
把做法用算式記錄下來，並寫出答案。
先算：(74) \square (25) = (49)
再算：(49) \square (27) = (76) 或

先_一算_二：(74) + (27) = (101)

再_一算_二：(101) - (25) = (76)或_一

先_一算_二：(27) - (25) = (2)

再_一算_二：(74) + (2) = (76)

答_一：有_二(76)隻_一水_一鳥_二

