

教育部國民及學前教育署國民小學及國民中學
108 年基本學習內容標準化評量測驗
一年級數學科試卷

學校：	
班級：	座號：
姓名：	

一、選擇題，共 12 題，每題 4 分。

※ 請在正確選項前打勾，並請畫記清楚，不要超過格子。

範例：下列哪一個選項是這份考卷正確的答案方法？

<input checked="" type="checkbox"/>	(1) 打勾	<input type="checkbox"/>	(2) 寫數字
<input type="checkbox"/>	(3) 畫圈	<input type="checkbox"/>	(4) 畫叉

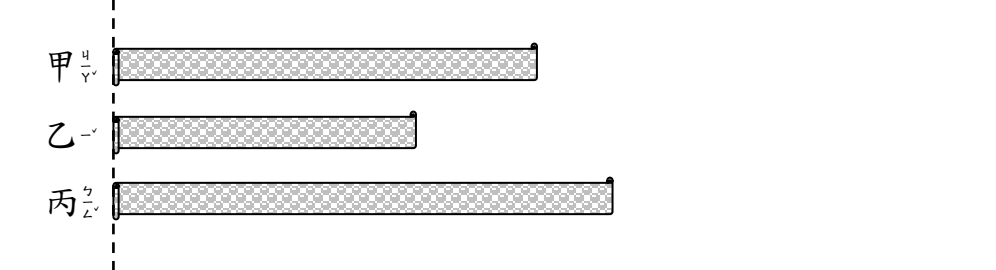
1. 姐姐參加射飛鏢比賽，第一次得到 17 分，第二次得到 26 分，一共得到幾分？

<input type="checkbox"/>	(1) 9 分	<input type="checkbox"/>	(2) 11 分
<input type="checkbox"/>	(3) 33 分	<input checked="" type="checkbox"/>	(4) 43 分

2. 小風全家到草莓園採草莓，爸爸採了 38 顆，媽媽採了 42 顆，姐姐採了 40 顆，小風採了 37 顆，誰採的草莓最多？


<input type="checkbox"/>	(1) 爸爸	<input checked="" type="checkbox"/>	(2) 媽媽
<input type="checkbox"/>	(3) 姐姐	<input type="checkbox"/>	(4) 小風

3. 請問哪一條綵帶最長，哪一條綵帶最短？



<input checked="" type="checkbox"/>	(1) 丙最長，乙最短
<input type="checkbox"/>	(2) 丙最長，甲最短
<input type="checkbox"/>	(3) 甲最長，乙最短
<input type="checkbox"/>	(4) 甲最長，丙最短

4. 下圖中，共有幾個長方形？

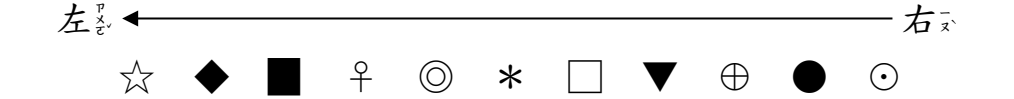


<input type="checkbox"/>	(1) 3 個	<input type="checkbox"/>	(2) 5 個
<input type="checkbox"/>	(3) 6 個	<input checked="" type="checkbox"/>	(4) 7 個

5. 姐姐有兩條繩子，甲繩和 15 個白色積木接起來一樣長，乙繩和 20 個白色積木接起來一樣長。下列哪個選項正確？





<input type="checkbox"/>	(1) 甲繩比較長
<input checked="" type="checkbox"/>	(2) 乙繩比較長
<input type="checkbox"/>	(3) 一樣長

6. 從右邊算起，♀排在第 8 個，請問⊕排在第幾個？



<input type="checkbox"/>	(1) 第 13 個	<input type="checkbox"/>	(2) 第 9 個
<input type="checkbox"/>	(3) 第 6 個	<input checked="" type="checkbox"/>	(4) 第 3 個





7. 下面哪個物品，可以滾動也可以堆疊？

<input type="checkbox"/>	(1) 	<input type="checkbox"/>	(2) 
<input checked="" type="checkbox"/>	(3) 	<input type="checkbox"/>	(4) 

8. 下面哪個說法正確？

<input type="checkbox"/>	(1) 下午 4 點看日出
<input type="checkbox"/>	(2) 中午 12 點天黑了
<input checked="" type="checkbox"/>	(3) 上午 6 點天亮了
<input type="checkbox"/>	(4) 上午 7 點太陽下山了

9. 爸爸下午 5 點半下班，下面哪個鐘面上表示的時刻是 5 點半？

<input type="checkbox"/>	(1) 	<input type="checkbox"/>	(2) 
<input checked="" type="checkbox"/>	(3) 	<input type="checkbox"/>	(4) 

10. 請問 3 個十和 16 個一，合起來是多少？

<input type="checkbox"/>	(1) 19	<input type="checkbox"/>	(2) 30
<input type="checkbox"/>	(3) 36	<input checked="" type="checkbox"/>	(4) 46



11. 「15 頂帽子分給 22 個人，一個人分 1 頂，請問帽子夠不夠，多或少幾頂？」
請問下列算式和答案哪個正確？

- ☒ (1) $22 - 15 = 7$ ，答：帽子不夠，少 7 頂。
☐ (2) $15 + 22 = 37$ ，答：帽子夠，多 37 頂。
☐ (3) $22 - 15 = 7$ ，答：帽子夠，多 7 頂。
☐ (4) $15 - 22 = 7$ ，答：帽子不夠，少 7 頂。

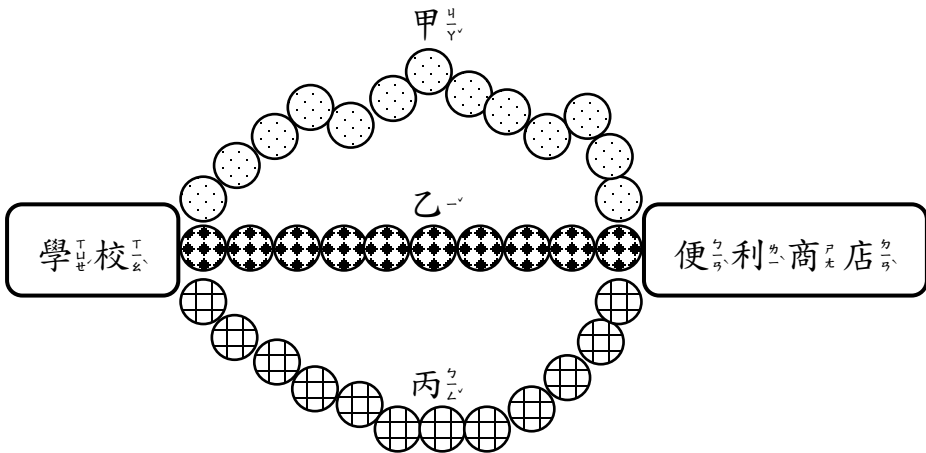
12. 請問 34 的十位數字是多多少？

- ☒ (1) 3 ☐ (2) 4
☐ (3) 30 ☐ (4) 40

二、填充題，共 12 題，每題 4 分。

13. 從學校到便利商店，哪一條路最短路？


圈圈看。(甲，☒乙，丙)





14. 下圖是莉莉的錢，夠不夠買一個 39 元的鉛筆盒？圈圈看。(☒夠， ☐不夠)



15. 每一個糖果罐有 10 顆糖果，數數看，下面共有 (40) 顆糖果。



16. 把下面的錢全部換成 ，共可以換成 (20) 個 .



17. 算算看：

- (1) $9 + 7 = (16)$ 。
(2) $17 - 9 = (8)$ 。

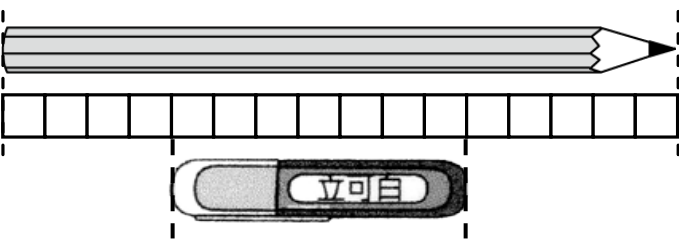
18. 數一數，下圖中的雞一共有 (32) 隻腳。

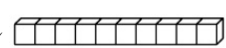



19. 算算看： $49 - 10 = (39)$ 。

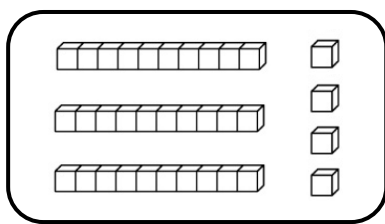
20. 農場裡有 21 隻母雞和 12 隻公雞，母雞比公雞多 (9) 隻。

21. 看圖比一比，立可白比鉛筆短 (9) 個 .



22. 一條  和 10 個  接起來一樣長。

數數看，下圖和 (34) 個  接起來一樣長。



23. 有三條繩子，紅繩子比黃繩子長，黃繩子比藍繩子短，哪一條繩子最短路？

圈圈看。(紅繩子，☒黃繩子，藍繩子)

24. 佳佳早上吃掉 13 顆糖果，下午吃掉 8 顆糖果；安安早上吃掉 8 顆糖果，下午吃掉 13 顆糖果，誰吃掉的糖果比較多？

圈圈看。(佳佳，安安，☒一樣多)

三、應用題，共 1 題，每題 4 分。

25. 「一箱蘋果有 24 顆，媽媽買了 2 箱，總共有幾顆？」

把做法用算式記錄下來，並寫出答案。

- (24) ☒ (24) = (48) 或
(24) ☒ (2) = (48) 或
(2) ☒ (24) = (48)

答：總共有 (48) 顆