

教育部國民及學前教育署國民小學及國民中學
109 年基本學習內容標準化評量測驗
二年級數學科試卷

學 校 名 稱：	
班 級 別：	座 號：
姓 名：	

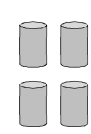


一、選擇題，共 11 題，每題 4 分。

※請在正確選項前打勾，並請畫記清楚，不要超過格子。




範例：下列哪一個選項是這份考卷正確的答案方法？

<input checked="" type="checkbox"/>	(1) 打勾	<input type="checkbox"/>	(2) 寫數字
<input type="checkbox"/>	(3) 畫圈	<input type="checkbox"/>	(4) 畫叉

1. 哪一個瓶子的容量最大？

甲 →  乙 →  丙 → 


<input type="checkbox"/>	(1) 甲	<input checked="" type="checkbox"/>	(2) 乙
<input type="checkbox"/>	(3) 丙	<input type="checkbox"/>	(4) 都一樣大

2. 100 代表 、10 代表 、1 代表 ，艾莎買了一本 213 元的故事繪本，要怎麼付錢才會剛剛好？

<input checked="" type="checkbox"/>	(1) 100、100、10、1、1、1
<input type="checkbox"/>	(2) 100、100、10、10、10、1
<input type="checkbox"/>	(3) 100、100、100、10、1、1
<input type="checkbox"/>	(4) 100、100、100、10、10、1

3. 下面三位小朋友中，誰最重？

小威 小麗 小威 小齊

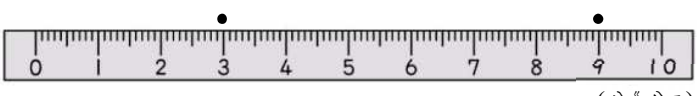


<input type="checkbox"/>	(1) 小威	<input type="checkbox"/>	(2) 小麗
<input checked="" type="checkbox"/>	(3) 小齊	<input type="checkbox"/>	(4) 一樣重

4. 下列哪一個說法正確？

<input type="checkbox"/>	(1) 609 比 906 大
<input type="checkbox"/>	(2) 913 比 931 大
<input type="checkbox"/>	(3) 868 比 868 大
<input checked="" type="checkbox"/>	(4) 550 比 505 大

5. 畫出連接兩點的線，再用圖中的尺量量看，請問畫出的線長多少公分？



(公分)

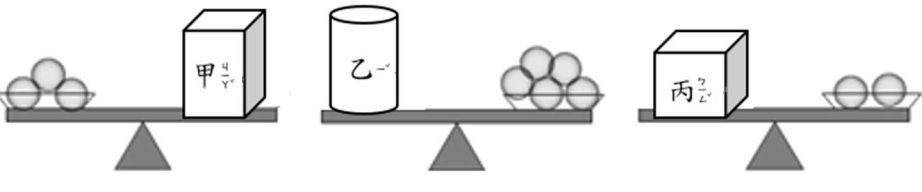
<input type="checkbox"/>	(1) 3 公分	<input checked="" type="checkbox"/>	(2) 6 公分
<input type="checkbox"/>	(3) 7 公分	<input type="checkbox"/>	(4) 9 公分

6. 茉莉的鉛筆和 5 塊橡皮擦一樣長，也和 3 個迴紋針一樣長。

1 塊橡皮擦和 1 個迴紋針哪個比較長？

<input type="checkbox"/>	(1) 橡皮擦	<input checked="" type="checkbox"/>	(2) 迴紋針
<input type="checkbox"/>	(3) 一樣長	<input type="checkbox"/>	(4) 不能比較

7. 甲、乙、丙三個物品中，哪一個最重？



<input type="checkbox"/>	(1) 甲	<input checked="" type="checkbox"/>	(2) 乙
<input type="checkbox"/>	(3) 丙	<input type="checkbox"/>	(4) 一樣重

8. 「文具盒裡有 87 個紅色花片、13 個白色花片、125 個黃色花片，文具盒裡總共有多少個花片？」下面哪一個算法正確？

甲的算法：87 + 13 = 100，100 + 125 = 225 答：225 個花片			
乙的算法：87 + 125 = 212，212 + 13 = 225 答：225 個花片			
丙的算法：13 + 125 = 138，138 + 87 = 225 答：225 個花片			

<input type="checkbox"/>	(1) 0 個人	<input type="checkbox"/>	(2) 1 個人
<input type="checkbox"/>	(3) 2 個人	<input checked="" type="checkbox"/>	(4) 3 個人

9. 已經知道 93 - 27 = 66，下列哪個算式正確？

<input type="checkbox"/>	(1) 66 - 27 = 93	<input checked="" type="checkbox"/>	(2) 93 - 66 = 27
<input type="checkbox"/>	(3) 66 - 93 = 27	<input type="checkbox"/>	(4) 27 + 93 = 66



10. 請問 4×9 比 4×8 多或少？

☒

☐

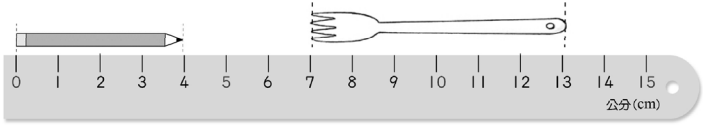
(1) 多 1 個 4
(3) 多 1 個 9

☐

☐

(2) 多 1 個 8
(4) 多 1

11. 用圖中的尺量量看，下圖中的鉛筆和叉子接起來的長是多少公分？



☐

☒

(1) 4 公分
(3) 10 公分

☐

☐

(2) 6 公分
(4) 13 公分

二、填充題，共 9 題，每題 4 分。

12. 曉莉有一條長 152 公分的圍巾，小珍有一條長 134 公分的圍巾，兩條圍巾共長 (286) 公分。

13. 已經知道 $24 \times 3 = 72$ ，請問 $3 \times 24 = (72)$ 。

14. 填填看，509 的百位數字是 (5)，十位數字是 (0)，個位數字是 (9)。

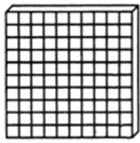
15. 比一比，請在 \square 中填入 $>$ 、 $=$ 或 $<$ 。
 $238 \square 238 - 5$

16. 一條土司有 9 片，7 條土司有 (63) 片。

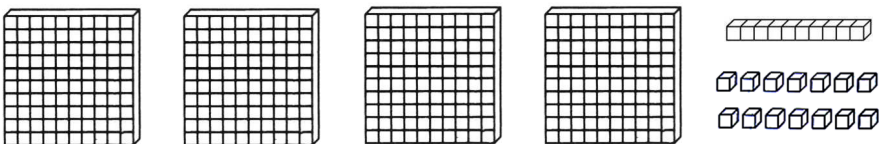
17. 已經知道 $8 \times 5 = 40$ ，請完成下列算式：

(1) $8 \times 6 = (48)$
(2) $8 \times 4 = (32)$

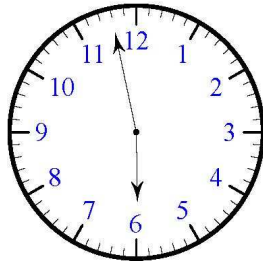
18. 小美從臺南坐車到臺中找外婆，小美上午 8 時出發，預計 2 小時後到達臺中，小美在上午 (10) 時到達臺中。



19. 一片和 100 個一樣多，一條和 10 個一樣多，數數看，下圖和 (424) 個合起來一樣多。



20. 鐘面上此刻是 (5) 時 (58) 分。



三、計算題，共 2 題，每題 4 分。

21. 寫成直式算算看：

$$\begin{array}{r} 82 \\ - 74 \\ \hline 8 \end{array}$$

22. 寫成直式算算看：

$$\begin{array}{r} 100 \\ - 7 \\ \hline 93 \end{array}$$

四、應用題，共 3 題，每題 4 分。

把做法用算式記錄下來，並寫出答案。

23. 小靜一天存 8 元，7 天共存了多少元？寫出乘法算式做做看。

$$(8) \times (7) = (56)$$

答：存了 (56) 元。

24. 麵包店裡原有 83 個麵包，上午賣出 34 個麵包，下午又做了 72 個麵包，店裡現在有多少個麵包？

$$\text{先算：} (83) \square (34) = (49)$$

$$\text{再算：} (49) \square (72) = (121)$$

或

$$\text{先算：} (83) \square (72) = (155)$$

$$\text{再算：} (155) \square (34) = (121)$$

答：(121) 個麵包。

25. 小恩有 60 元，小政比小恩多 35 元，小政有多少元？

$$(60) \square (35) = (95) \text{ 或}$$

$$(35) \square (60) = (95)$$

答：小政有 (95) 元。

