

臺中市立三光國中 114 學年度第一學期社會領域九年級補行評量題庫

範圍：第五冊

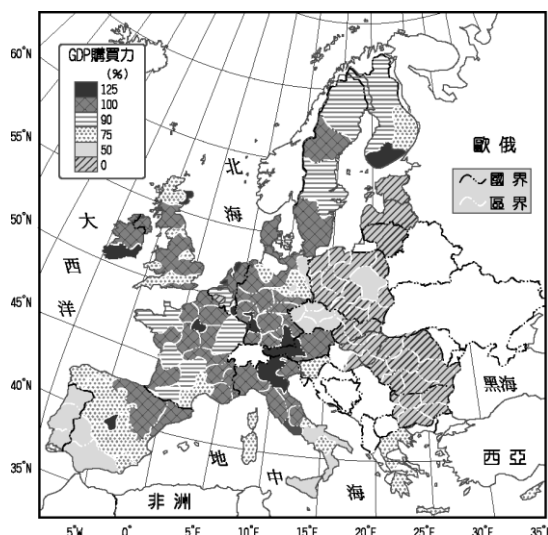
1. (D) 歐洲聯盟境內主要通行的貨幣為歐元。請問：若新加入的東歐國家欲發行歐元，則需要評估該國境內何項狀況？
(A)人口素質優劣狀況 (B)民主政治實施狀況 (C)礦產資源蘊藏量狀況 (D)國內財政經濟狀況。
2. (C) 近年來，中國與俄羅斯共同合作「泰納線」的管線工程，如附圖，希望透過運送某種資源，以提供中國的工業發展。上述的「某種資源」最可能為下列何者？



- (A)煤礦 (B)鐵礦 (C)石油 (D)電力。
3. (C) 附圖為印加古文明照片，照片中的遺址應位於哪一山脈？



- (A)洛磯山脈 (B)阿帕拉契山脈 (C)安地斯山脈 (D)阿爾卑斯山。
4. (B) 美國中南部的平原面積廣大，當地的農產品多利用哪一條河川運至墨西哥灣以對外出口？
(A)格蘭河 (B)密西西比河 (C)科羅拉多河 (D)五大湖運河。
 5. (A) 附圖為歐洲各國的 GDP 購買力分布圖，呈現國民的消費能力及經濟狀況。請由圖中資料判斷，哪一個地區的經濟發展相對較為落後？



- (A)東歐 (B)北歐 (C)西歐 (D)南歐。
6. (C) 俄羅斯為全世界面積最為廣大的國家。請問：該國境內的氣候類型主要為下列哪兩種？
(A)溫帶海洋性氣候、寒帶氣候 (B)溫帶大陸性氣候、溫帶海洋性氣候 (C)溫帶大陸性氣候、寒帶氣候 (D)溫帶海洋性氣候、溫帶沙漠氣候。
 7. (B) 小靜到國外旅遊，見到了被列為世界遺產的雪梨歌劇院，便在當地拍照留念，如附圖所示。請問：小靜所前往的國家為何？



- (A)紐西蘭 (B)澳洲 (C)美國 (D)法國。
8. (B) 1492 年哥倫布由伊比利半島出發，在橫越大西洋後，發現了新大陸。當時他所發現的大陸應該為下列何者？
(A)亞洲 (B)美洲 (C)非洲 (D)澳洲。
 9. (B) 南、北極兩地同處於地球極端點，形成各種不同的區域特色。下列有關這兩個地方的比較，何者錯誤？

	北極點	南極點
緯度	北緯 90 度	南緯 90 度
性質	陸地	海洋
永晝時間	6 月	12 月
極區溫度	較高	較低

(A)緯度 (B)性質 (C)永晝時間 (D)極區溫度。

10. (A) 附圖為 CNN 的新聞快報內容，主播應提醒下列哪一地區的民眾須特別注意後續災難的發生，做好相關預防措施？



(A)太平洋沿岸 (B)大西洋沿岸 (C)墨西哥灣沿岸 (D)北極海沿岸。

11. (B) 臺灣探險隊在歷經千辛萬苦抵達南極點後，欲在南極點上面向臺灣，向國人證明他們做到了。此時應該朝哪一個方向前進才會找到臺灣？

(A)東北方 (B)正北方 (C)西北方 (D)正南方。

12. (C) 紐西蘭的產業活動深受當地環境的影響，該國對外主要的出口商品中不包括下列何者？

(A)乳品 (B)羊毛 (C)小麥 (D)肉品。

13. (C) 歐洲的地形以平原為主，然各地區的發展卻受到冰河作用的影響而不同，如冰河堆積的平原從事牧業，沿海峽灣則從事海上活動。請問：該地區冰河作用的成因和下列哪兩者的關係最大？

(A)面積廣大、板塊撞擊 (B)海岸線長、地勢高聳 (C)地處高緯、地勢高聳 (D)面積廣大、緯度較高。

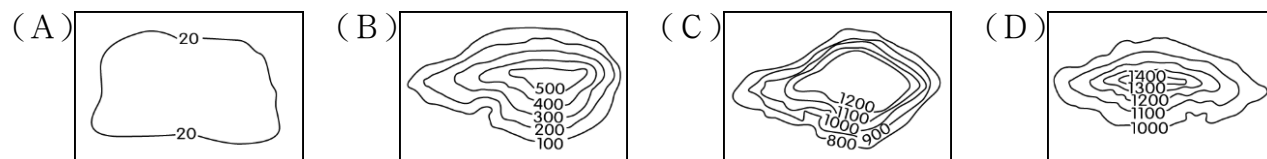
14. (B) 俄羅斯在帝國時期積極發展海上航運，以擴大勢力範圍。請問：目前境內的第一大港為下列何者？

(A)格但斯克 (B)聖彼得堡 (C)海參崴 (D)莫斯科。

15. (D) 大洋洲共分為三大島群及兩個較大的島國，其中哪一島群受到地理位置的影響，最可能見到年底最後一抹的落日？

(A)澳洲 (B)美拉尼西亞 (C)密克羅尼西亞 (D)玻里尼西亞。

16. (C) 澳洲和南極洲皆為一完整的大陸，且皆以下列何種地形為主體？



17. (B) 世界最長的安地斯山脈縱貫南美洲西部，是東西交通的障礙，所以智利與阿根廷兩國計畫興建打通安地斯山脈的隧道，該隧道有利於大西洋岸國家與太平洋岸國家間的貿易。在上述工程完工後，下列哪兩國間的運輸時間可望大幅縮短？

(A)智利至中國 (B)智利至西班牙 (C)阿根廷至法國 (D)阿根廷至挪威。

18. (C) 阿利安人進入印度之後，採取一連串的種族歧視措施，其主要原因為何？

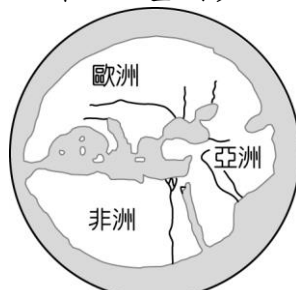
(A)土著的文化過於強勢，威脅阿利安人 (B)為了徹底同化原有的土著 (C)為了維護阿利安人的統治地位 (D)為了將土著徹底消滅。

19. (D) 上古時期有一個民族，他們借用當地的景象，尤其是鳥類和動物的形象作為符號，創造出一套不容易書寫的文字（如附圖），因此只用在宗教、紀念建築物和官方文件上。而這些寫在木頭、石頭或金屬上的文字，帶有裝飾意味，至於一般性的書寫，則加以簡化或變形，增加書寫速度。請問：這個民族應為下列何者？



(A)印度人 (B)蘇美人 (C)波斯人 (D)埃及人。

20. (C) 出生於西元前 550 年的赫喀提亞，大致以自己居住的地方為世界中心（圖的圓心），繪製出一張「世界全圖」，如附圖所示。他居住的地方最接近下列何處？〔100.第二次基測〕



(A)兩河流域 (B)印度半島 (C)愛琴海地區 (D)伊比利半島。

21. (C) 西方最早從事尋找新航路的國家為何？
(A)英國 (B)挪威 (C)葡萄牙 (D)德國。
22. (B) 歐洲波蘭的弗龍堡大教堂 2010 年為這位科學革命的天才設立墓碑，當時他提出的學說被天主教教會視為異端，但卻是現代天文學的起點，墓碑上的行星運行雕塑說明了他的成就。請問：上述最有可能是何人的墓？
(A)牛頓 (B)哥白尼 (C)笛卡兒 (D)達伽馬。
23. (B) 附圖是老師上課時提到的某教派特色，根據內容判斷，老師說明的是下列哪一教派？



- (A)路德教派 (B)喀爾文教派 (C)英國國教派 (D)天主教耶穌會。
24. (D) 這群人對自身事物的關心遠大於對神學的好奇；這群人喜愛美的事物，也不吝於資助藝術創作與公共建設；這群人對古希臘、羅馬文化展現高度興趣；他們精通拉丁文，但也使用各地方言進行創作。請問：上述「這群人」活躍的時間應該是何時？
(A)古羅馬時期 (B)希臘化時期 (C)西羅馬帝國時期 (D)文藝復興時期。
25. (A) 西元 11 世紀，基督教第一次分裂後，西歐各地普遍信仰哪一教派？
(A)羅馬公教 (B)希臘正教 (C)伊斯蘭教 (D)祆教。
26. (A) 農業是孕育人類文明的主要經濟活動，古文明的發源通常與其密切相關。若從世界四大古文明來看，可發現皆位於下列哪一位置？
(A)大河流域的氾濫平原 (B)乾燥酷熱的沙漠中央 (C)地勢高聳的高原頂部 (D)廣闊大洋上的火山島。
27. (D) 歷史課時老師在黑板上寫下：(甲)婆羅門教(乙)猶太教(丙)佛教(丁)基督教(戊)伊斯蘭教。請問：上述宗教中，哪些屬於一神信仰？
(A)甲丙丁 (B)甲乙丁 (C)乙丙丁 (D)乙丁戊。
28. (A) 西元 3 世紀，羅馬帝國因為未有明確繼任者，陷入軍人奪權內戰，又加上因氣候不佳而收成歉收、瘟疫四起使勞動力減少導致饑荒與棄耕農地拋出，此時對外又有日耳曼民族騷擾，而被史學家們稱為「三世紀危機」。最後由□□結束政治混亂局面，並另立東都加強對帝國東方控制。請問：上文缺空處應填入下列何者？
(A)君士坦丁 (B)屋大維 (C)凱撒 (D)亞歷山大。
29. (A) 針對工業革命後所造成的勞工被剝削問題，這群人認為應該要透過溫和的改革來推動改良，他們主張要建立互助互愛的社會服務，督促政府立法保障勞工，甚至最後這群人組成著名的英國工黨監督政府改革。請問：上述這群人的思想應該與下列何者較為接近？
(A)社會主義 (B)啟蒙思想 (C)科學革命 (D)自由經濟。
30. (D) 啟蒙運動思想家盧梭的《民約論》中，有何重要的、具原創性的主張？
(A)約束人類本性的最佳辦法，就是建立一個具有絕對權威的政府來控制他們 (B)政府必須在人民的同意之下，才能干涉人民的基本權利 (C)主張國家或政府的權力，應分為行政、立法、司法三個互相獨立又互相牽制的部分，自由的維持是靠這三個權力的均衡 (D)政府的權力是來自人民的委託。
31. (D) 2022 年卡達世足賽時，某國球員的球衣設計，是為致敬古老的阿茲提克文明，融入當時的民族藝術，球衣以白色為底，搭配暗紅色的圖騰，球衣的後內領還綴有羽蛇神的蛇身圖案。上述國家最可能是下列何者？
(A)巴西 (B)古巴 (C)秘魯 (D)墨西哥。
32. (B) 16 世紀時，蒙古後裔入侵印度，建立蒙兀兒帝國。請問：關於上述帝國的敘述，下列何者錯誤？
(A)統治者信奉伊斯蘭教 (B)19 世紀帝國衰亡成為西班牙殖民地 (C)以中央集權方式統治 (D)在 17 世紀時國勢達到極盛。
33. (B) 印度古文明曾在西元前 2300 年左右出現，但之後因來自西北方的民族入侵而滅亡。請問：西元前 2300 年左右，印度古文明在哪一個地區曾發展出城市文明？
(A)尼羅河流域 (B)印度河流域 (C)恆河流域 (D)兩河流域。
34. (B) 美美對埃及歷史特別有興趣，她研究發現古埃及國王具有哪些特色？(甲)稱為「法老」(乙)是尼羅河神之子(丙)金字塔為其陵墓(丁)代表循環不息的再生力量
(A)甲丁 (B)甲丙 (C)甲乙 (D)乙丙。
35. (C) 好久不見的曼殊和右勝相約咖啡廳喝下午茶，兩人正在分享彼此未來的行程，請根據附圖中對話判斷，下列敘述何者正確？



- (A)日圓與英鎊的匯率相同 (B)目前日圓升值 (C)目前英鎊升值 (D)右勝欲購買的是最常使用的外幣。
36. (D) 媽媽讓聖凱從附表中挑選一項禮品作為生日禮物，若聖凱單以喜好程度做選擇，下列何項敘述正確？

禮品項目	喜好程度	價格
球鞋	☆	890 元
手表	☆☆	650 元

背包	☆☆☆	580 元
水杯	☆☆☆☆	250 元

(A)選擇球鞋的機會成本是手表 (B)選擇手表的機會成本是球鞋 (C)選擇背包的機會成本是球鞋 (D)選擇水杯的機會成本是背包。

37. (D) 以下為俊珣與外國友人聊天的內容，請由內容判斷，下列何者可以解釋我國防疫措施的目的？

聊天室

歐文：我國疫情突然爆發，口罩、快篩劑和止痛藥比之前貴了 20 倍，我們一般人根本買不起。

俊珣：我國政府是以公權力管制，每個國民都能以低價買到防疫物品，不用擔心被商家囤貨或者炒高價錢。

(A)破壞市場價格 (B)增加國庫收入 (C)降低生產成本 (D)公平分配資源。

38. (B) 企業家庭日是一個能藉由一同參與團體活動，達到員工及眷屬對公司文化與核心價值的認同，並凝聚企業士氣的活動。根據上述內容判斷，企業舉辦家庭日的目的為下列何者？

(A)提高員工的生產力 (B)提高員工的向心力 (C)提升員工的判斷力 (D)提升員工的競爭力。

39. (C) 湘庭在做報告時負責準備生產模式的部分，下列何項說明應是他對「一日之所需，百工斯為備」的認知？

(A)依賴他人提供生活所需，將提高大幅成本 (B)在市場進行交易者，往往未經過理性考量 (C)個人日常需要的物品是許多人付出的成果 (D)人類應自給自足，才能創造最大的經濟效益。

40. (C) 在 21 世紀的今天，跨越國際的經濟活動普遍發生，根據以下媒體的報導判斷，這些跨國企業所做的改變目的為何？

經濟前線

近 10 年來，工資大幅調漲已讓在該地區設廠的優勢消失，許多跨國企業開始把生產製造的部門移到勞工眾多且工資較低廉的東南亞國家。


(A)開發自然資源 (B)避免勞資衝突 (C)降低生產成本 (D)降低國際運費。

41. (D) 附圖為某新聞談話節目的討論現場，關於來賓所指的「非金錢誘因」，下列何者屬之？



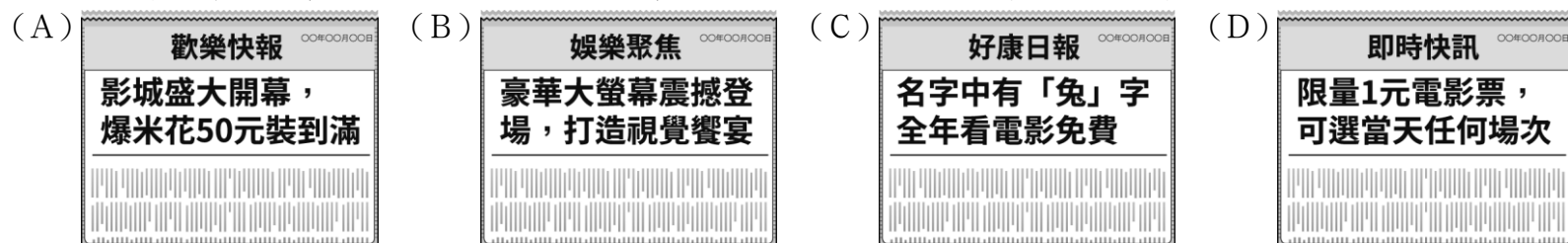
(A)發放育兒津貼 (B)發放生育補助 (C)減免個人稅金 (D)設置托兒設施。

42. (A) 附圖是一則網路新聞，文末的徵才要求是強調「就業」應具備哪一個條件？



(A)有工作能力 (B)有工作意願 (C)有找尋工作 (D)有目標理想。

43. (B) 佑弘正在學習市場競爭方式，想尋找非價格競爭的例子，下列哪一則社群媒體的報導符合需求？



44. (A) 面對經濟衰退，各企業紛紛尋求因應之道。附表是阿如家人工作的公司行號所採行的方法。請問：這三家業者所採取的是下列哪一種策略？〔93.第二次基測〕

公司行號	採行的方法
甲工廠	裁撤部分員工
乙公司	減少員工的加班時間
丙商店	暫停各種廣告活動

(A)降低生產成本 (B)增加生產數量 (C)提高單位利潤 (D)調降產品價格。

45. (B) 相較於名牌商品，下文中所討論的這類商品，其影響消費行為的主要因素，與下列何者最為相似？〔103.特招修訂〕

易上常見許多「仿冒商品」，也就是外觀和名牌商品幾乎一樣，但是價格較為低廉的商品。不過我們仔細想想，這類商品的存在，除了貌似名牌商品的外觀，主要還是因為消費者受到商品价格影響的心理，所以總是能吸引人們購買。

國內有些學者憂心地認為：仿冒商品缺乏獨特、創新的核心價值，且嚴重地侵害到智慧財產權。當仿冒的情況不限於商品，而擴大到其他領域時，將會使得產業的文化出現危機。因此，我國政府除了必須嚴格執行保護智慧財產權的相關法律外，建議更應積極地鼓勵廠商投入研發，製造更多享譽世界的臺灣精品。

- (A)領到年終獎金，計畫帶家人一起出國遊玩 (B)為節省開銷，至各賣場比較新鮮牛乳售價 (C)颱風即將侵襲臺灣，提前至超市搶購蔬菜 (D)為了支持偶像團體，購買他們代言的商品。
46. (A)以珍在漁港挑選海鮮，結帳後發現被調換成腐敗的海鮮，事後店家拒絕處理，她不知如何保障自己權益，於是在社群網站上發問，下列哪一位網友的建議最為正確？
(A)舒舒：聯繫地方消費者服務中心，辦理消費爭議申訴 (B)澄澄：撥打 1922 消費者服務專線，尋求專業協助
(C)弘弘：查詢《公平交易法》，依據法令提告惡質商家 (D)煌煌：行政院設置的消費者文教基金會提供調解諮詢。
47. (D)資穎的公民課本上貼有一張便條紙，如附圖。此便條紙的內容是哪一部法律規範的？

給付項目
• 失業給付
• 提早就業獎助津貼
• 職業訓練生活津貼
• 育嬰留職停薪津貼
• 失業之被保險人及其眷屬的健保費補助

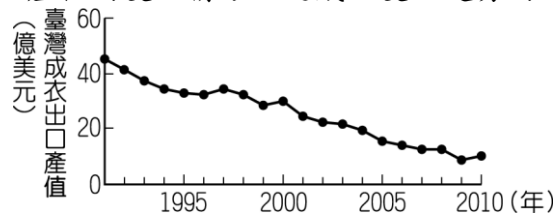
- (A)《勞動基準法》 (B)《勞工職業災害保險及保護法》 (C)《性別平等工作法》 (D)《就業保險法》。
48. (B)儲值卡為預付型交易，先付錢，再分期、分次享受商品或服務。附圖中有關儲值卡的規定是受到哪一部法律的保障？

◎屬於消費者與業者簽訂的一種契約
◎業者須履行契約
◎消費者應注意契約內容及可能發生的風險

- (A)《公平交易法》 (B)《消費者保護法》 (C)《社會秩序維護法》 (D)《民法》。
49. (D)阿發想了解貨幣歷史，以下是他在網路上查到的一段資料，由內容可知，以貝殼當作貨幣所產生的困擾為何？

的商代，已開始以貝殼作為貨幣使用了，隨著經濟活動的擴大，天然的貝殼作為貨幣漸漸供不應求，於是出現人工貝幣，如石貝幣、骨貝幣、蚌貝幣等。到了商代晚期，出現了用銅質的金屬貝幣。

- (A)保存不易 (B)本身不具任何價值 (C)價值衡量不易 (D)數量不敷所需。
50. (B)附圖為 1991 至 2010 年臺灣成衣出口產值的變化情形，造成該變化趨勢的主要原因為何？〔105.會考〕



- (A)加入世界貿易組織 (B)國內生產成本提高 (C)國外市場規模擴大 (D)產品附加價值提升。