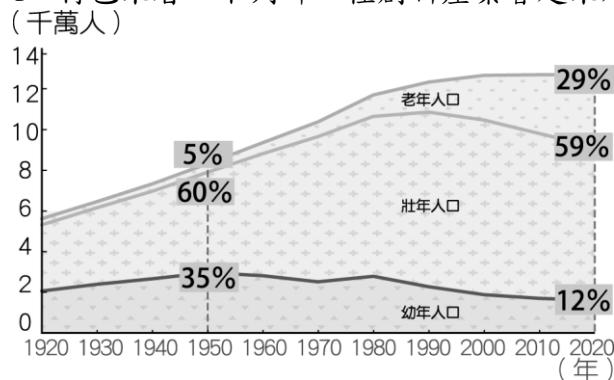


臺中市立三光國中 114 學年度第一學期社會領域八年級補行評量題庫

範圍：第三冊

1. (B) 北海道的觀光業相當發達，其中外國遊客中以臺灣人的比例最高。請問：北海道的觀光促進協會參加臺灣夏季旅展時，將主打當地何種特色最為適合？ (A)熱帶海洋風情 (B)涼爽避暑勝地 (C)時尚都會之旅 (D)古都風情尋幽。
2. (D) 附圖是日本人口結構統計圖，由日本人口特色來看，下列哪一種創新產業會越來越夯，需求量日增？



- (A)動漫產業 (B)大金冷氣 (C)太陽能產業 (D)外骨骼輔具。
3. (B) 21 世紀後，隨著中國的經濟持續成長，相關政策也隨之改變。附圖中的中國政令宣導政策，將有助於解決下列何項人口問題？



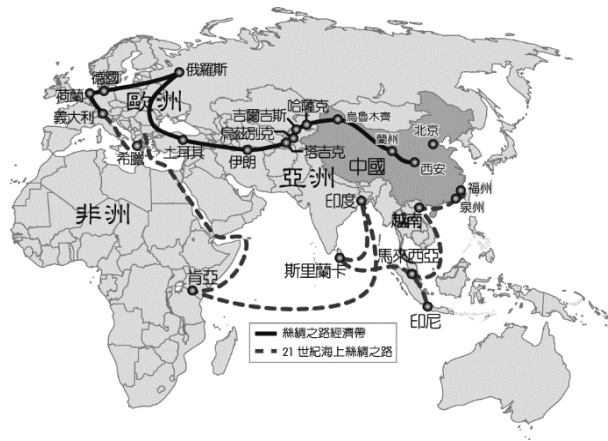
- (A)人口成長太快 (B)人口結構失衡 (C)人口密度過高 (D)人口分布不均。
4. (D) 為避免政府獨斷，權力的分立與制衡相當重要。關於附圖中娟柔所提及的制度，其運作過程的說明，下列何者正確？



- (A)立法院得對總統提出不信任案 (B)不信任案通過後，總統應提出辭職 (C)由行政院院長解散立法院 (D)立法院被動解散後，立法委員須重新選舉。
5. (B) 富峰收到馬來西亞朋友傳來以下一則訊息，根據內容判斷，下列何者較符合該友人欲表達的想法？
- 2018 年 5 月的選舉，已執政 61 年的政黨下臺。對許多民眾而言，這顯示了每個人都能用選票決定未來的執政者，得票數將代表他們的問政表現。雖然不知道下一次的當選者是誰，但是由人民當家的感覺真好。
- (A)民眾較難理解複雜的政治事務 (B)違反民意的政府將得不到民心 (C)民主選舉不利於政權和平轉移 (D)政黨利益的重要性大於人民福祉。
6. (B) 李教授探訪中國境內近 30 個民族生活的地區，發現東半部的民族多以農耕活動為主，西半部則以畜牧活動為主。請問：這和下列哪一種因素的關係最大？ (A)氣溫高低 (B)降水量多寡 (C)面積大小 (D)勞力豐缺。
7. (C) 2005 年時某博物館舉辦如附圖的展覽，以慶祝該事件 600 周年。請問：根據海報上的內容來看，此特展的主軸可能為何？



- (A)開通東西絲路 (B)蒙古三次西征 (C)鄭和出使西洋 (D)廣設驛站。
8. (B) 中國政府在 2015 年推動「一帶一路」的政策，希望能和鄰國間的往來更加密切。附圖為中國一帶一路路線圖，其中「二十一世紀海上絲綢之路」的規畫，串連好幾個洲，但不包括下列哪一洲？



(A)亞洲 (B)美洲 (C)非洲 (D)歐洲。

9. (D) 西元 1895 年某一天，太廟裡傳來陣陣哭聲，太廟旁的太監哭成一團，太廟裡的皇帝也哭得唏哩嘩啦，只聽見皇帝哀號說道：「臺灣割，則天下人心皆去……。」請問：上述的皇帝是何人？ (A)道光皇帝 (B)咸豐皇帝 (C)同治皇帝 (D)光緒皇帝。
10. (D) 第 15 任總統、副總統選舉於 2020 年 1 月 11 日舉行，玉菁在個人部落格上留言（如附圖），由留言內容可知玉菁以何種方式參與政治？



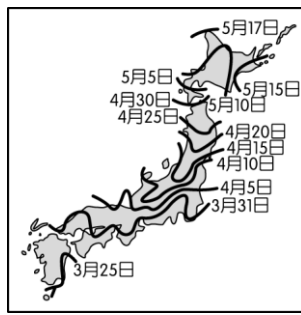
(A) Call-in 政論節目表達意見 (B)示威遊行表達訴求 (C)投入政黨活動 (D)參與投票。

11. (D) 我國各級地方政府提供人民不同需求的服務，由附圖中兩人的對話內容可知，此應屬於地方政府的哪一項職權？



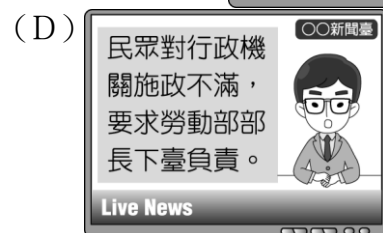
(A)社會福利 (B)安全衛生 (C)經濟發展 (D)教育文化。

12. (A) 中共國家主席習近平於 2014 年提出「一帶一路」政策，全名稱為「絲綢之路經濟帶和 21 世紀海上絲綢之路」；其中陸路「絲綢之路」在中國歷史上，早於漢代已經開通。請問：當時開通原因為何？ (A)聯絡西域各國，抵制匈奴 (B)企圖與大秦貿易，籌措攻打匈奴的經費 (C)因國力不敵匈奴，而開通和親路線 (D)為修長城，而開通運送材料的通道。
13. (D) 「這一段盛世長達一百三十多年，在平定封建諸侯的叛亂後，內部的統治愈見鞏固；對西北諸部多次用兵，將今日的蒙古、新疆、西藏納入版圖，君主的權力達於極盛。但在輝煌的表象下，有一股嚴厲的政風。政府雖然表面上大力支持學術事業，不少讀書人卻因文字觸犯忌諱慘遭迫害……。」這段文字描述的是何時的景況？ (A)漢代 (B)唐代 (C)明代 (D)清代。
14. (D) 民國 105 年 1 月 16 日總統、副總統選舉結束，執政黨八年來的施政政策不佳，因此落敗成為在野黨，獲勝的政黨希望未來採立法方式將政權交接的過程法制化，以確保政權的和平轉移。請問：人民透過定期選舉制度，決定治理國家的代表，此為何種精神的表現？ (A)獨裁政治 (B)文化傳承 (C)人治政治 (D)主權在民。
15. (A) 中國與南海周遭國家所產生的「南海爭議」，在於南海周遭國家均宣稱自己擁有該海域附近島嶼與相關天然資源的控制權及使用權，但卻不被其他國家所承認，因此彼此間衝突不斷。請問：上述應為國家哪一項組成要素的爭議？ (A)主權 (B)人民 (C)國籍 (D)政府。
16. (D) 歷史老師很喜歡看中國古裝戲，覺得好的戲劇不僅能呈現部分史實，而且可以作為上課講故事時的補充；例如：「芈月傳」最後結局時，提到「芈月過世後的第十八年，十三歲的嬴政登基，在他繼位後的第二十六年，統一整個中國。」上文中統一中國的為何人？ (A)漢武帝 (B)唐太宗 (C)北魏孝文帝 (D)秦始皇。
17. (D) 「山西多富商，山西富室，多經商起家。亢氏號稱數千萬兩，實為最鉅。」、「山右（西）大約商賈居首，其次猶肯力農，再次者謀入營武，最下者方令讀書。」由此推論哪個時代最可能出現上述的現象？ (A)秦漢 (B)隋唐 (C)兩宋 (D)明清。
18. (B) 春季為日本著名的賞櫻季節，滿開的櫻花花海吸引來自世界各地的觀光客前往，附圖為日本民間機構公布的櫻花開花日期預測。請問：下列哪一個地方的櫻花開花時間會最早？



(A)北海道 (B)九州 (C)四國 (D)本州。

19. (C) 早期中國沿海與南洋（東南亞）之間貿易的船隻，必須根據固定產生風向變化的「舶棹風」來決定往返的時間。這種所謂的「舶棹風」是指哪一種風？ (A)颱風 (B)西風 (C)季風 (D)龍捲風。
20. (B) 爾康與紫薇是一對青梅竹馬的戀人，他們抗拒了媒妁之言，自由戀愛，勇敢追求他們自己的幸福。而在當時，這樣的風氣已逐漸流行。請問：他們所處的時代最可能為何？ (A)明末清初 (B)清末 (C)唐代 (D)宋代。
21. (A) 「天下窯器（瓷器）所集，其民繁富，甲於一省。……萬杵之聲殷地，火光燭天，夜令人不能寢」故有「四時雷電鎮」之稱。請問：上文是對哪個手工業專業市鎮的描述？ (A)江西景德鎮 (B)安徽徽州 (C)浙江杭州 (D)江蘇南京。
22. (A) 以權力分立原則設置中央政府，為許多民主國家採取的分權方式，祐益欲進行一項主題分析：「當權力無法互相制衡時可能產生的亂象。」下列哪一則新聞內容較適合成為他的素材？ (A)



23. (A) 曄珠參加一場演講，聆聽一位逃離北韓的民眾分享自身經歷，摘要如下，其講述內容的意涵，應與下列何者最接近？

民眾被政府嚴密控制，連居住處所也無法自由選擇，違反法律會受到嚴重處罰。我們辛苦的付出勞力，但常常得抓昆蟲充饑，而領導人卻像從沒挨餓過似的身材壯碩，他除了享受人民貢獻的豐碩成果，而且擁有特權，法律根本無法規範他的行為。

(A)統治者不受法律約束，法律只用來限制人民 (B)在人治社會，法律是所有人唯一的依循標準 (C)不論在何種社會，法律地位永遠高於統治者 (D)必須依賴法律約束，才能促進社會安定和諧。

24. (C) 有一篇關於清末歷史人物的敘述：「他跟一批有志之士上書請願、組織學會、辦報紙，鼓吹政治革新的理念，大談救國思想」、「他得到皇帝的支持，推動政治改革，卻因保守派發動政變，使他的理想曇花一現，最後亡命海外。」。根據上述資料判斷，這篇文章介紹的人物是誰？ (A)李鴻章 (B)曾國藩 (C)康有為 (D)孫中山。
25. (C) 中國的民族眾多，形成多樣化的文化特色。其中生活於各地區的少數民族，為了適應當地的環境特色，因此形成各種特殊的居住形式。請問：圖(一)這種特殊的居住形式主要分布於圖(二)中的哪一個地區？



▲圖(一)



▲圖(二)

(A)甲 (B)乙 (C)丙 (D)丁。

26. (D) 朝鮮半島以北緯 38° 為界分成南、北韓。下列有關兩韓的地理環境比較，何者與緯度高低的關係最小？ (A)北韓的生長季較短 (B)南韓的糧食生產較多 (C)南韓的氣溫較高 (D)北韓的礦產較豐富。
27. (B) 關於公職人員選舉的原則，下列哪一位選民的理解最正確？ (A)

因為我在選舉區設籍才 6 個月，所以不具有投票權。



郭先生

(B) 我和總統都只擁有一張選票，且選票具有同等價值。



邱小姐

- 齊先生

潘小姐

圖例

- 華人遷移路線
- 主要集中地
- 次要集中地

Map labels include: 緬甸, 泰國, 寮國, 越南, 柬埔寨, 緬甸, 暹羅, 曼谷, 海防, 南寧, 廣州, 香港, 廈門, 澳門, 臺南, 菲律賓, 汶萊, 西貢, 檳城, 馬六甲, 新加坡, 棉蘭, 雅加達, 三寶壟, 印度, 尼, 東帝汶.

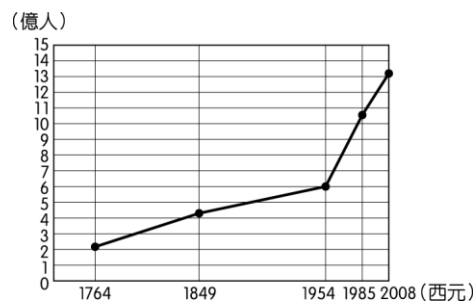
30. (C) 附表是亞洲四個國家的產業人口組成一覽表。請問：由南韓的產業人口組成可以直接顯示出下列何項特色？

國家	一級產業	二級產業	三級產業
寮國	62%	11%	27%
日本	6%	33%	61%
泰國	27%	27%	46%
南韓	12%	34%	54%

31. (C) 近年來由於日本的經濟低迷，中國買家紛紛前往當地收購旅館，其中以溫泉旅社為最多。臺灣建商也前往日本富士山附近，買下了占地 21,100 坪的森林溫泉飯店，雖然為日本的房地產交易帶來動力，卻也造成了該國民眾憂心獨有的泡湯文化因此改變。上述文化盛行的原因和下列何者關係最大？ (A)四面環海 (B)地勢高聳 (C)板塊交界 (D)高壓籠罩。
32. (C) 李先生在暑假帶著孩子前往中國旅遊，導遊在行前會議告知他們必須準備厚外套，以適應當地的氣候環境。請問：李先生所參加的行程最可能為下列何者？ (A)東北平原賞花之旅 (B)北京古都五日遊 (C)青藏高原尋幽之旅 (D)古絲路風情之旅。
33. (B) 正赫對動物有興趣，預計利用暑假和家人走訪臺灣知名的動物園，如附圖所示。圖中各動物園所在的行政區中，哪一個不屬於直轄市？




35. (D) 附圖為中國人口數統計圖，由圖中資料判斷，這對近年來中國經濟活動的發展會產生下列哪一影響？



(A)人口眾多，使整體工資居高不下，加重企業的生產成本 (B)壯年人口扶養率高，國民生活負擔沉重，消費市場萎縮 (C)男女性別比例不均，重工業勞力過剩，而商業人力不足 (D)人口數量龐大，日常用品的市場需求量大，商機潛力大。

36. (B) 中國於西元前 3 世紀時，人民面臨如附圖的轉變，此種轉變的關鍵史事為何？



(A)商鞅變法 (B)秦始皇改制 (C)漢武帝改革 (D)西漢推崇儒學。

37. (B) 清代自強運動時期，這個機構按照負責的事務，分成英國股、法國股、俄國股、美國股和海防股，並設有海關總稅務司署、同文館、清檔房、司務廳、電報處及銀庫等各個附屬機構，辦理外交、通商、海防、軍務、關稅等與洋務有關事宜。這個機構應該為下列何者？ (A)公行 (B)總理各國事務衙門 (C)驛站 (D)市舶司。

38. (C) 有一位臣子上書給皇帝：「鴉片流毒於天下，則危害甚巨，……使數十年後，中原幾無可以禦敵之兵，且無可以充餉之銀。」皇帝因而派他到廣州查禁鴉片。請問：上文應是哪一位臣子的上書？ (A)李鴻章 (B)奕訢 (C)林則徐 (D)曾國藩。

39. (D) 金庸武俠名著《射鵰英雄傳》中的人物郭靖、楊康，取名於「靖康之恥」。請問：造成北宋靖康之恥的民族是下列何者？ (A)契丹 (B)匈奴 (C)突厥 (D)女真。

40. (C) 2011 年 9 月，該山脈發生芮氏規模 6.9 地震，造成近 70 人死亡，10 萬戶居民受到影響。然而更有科學家指出，該地區因為累積大量的印澳板塊活動能量，將有更大規模地震發生的可能。請問：文中所指山脈可能為何？ (A)長白山 (B)秦嶺 (C)喜馬拉雅山 (D)大興安嶺。

41. (C) 「當時私營工廠首推印書廠，由於士人準備應科舉，供他參考的書籍，汗牛充棟。因考試出題變化，印刷廠效率很高，有的竟以月刊的形式出現。印刷及造紙業都很發達，有些書店還自營造紙工廠。」這種因科舉需要，印刷工廠蓬勃發展的盛況最早出現於何時？ (A)南北朝時期 (B)隋唐時期 (C)宋元時期 (D)明清時期。

42. (C) 一位立法委員為抗議第二次世界大戰時期臺灣原住民被徵召打仗，因此前往位於日本首都的靖國神社抗議，再度引起國人對此問題的重視。請問：上述立委前往從事抗議活動的地區應為下列何者？ (A)神戶 (B)大阪 (C)東京 (D)名古屋。

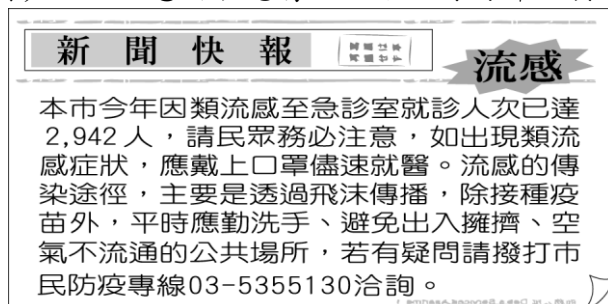
43. (C) 中國目前男性人口數量較女性多，兩者差距約高達三千多萬人，因此造成「剩男」的相關社會問題，導致近年來來自國外的女性新住民比例漸增。上述問題和下列何者的關係最大？ (A)就業市場以男性為主 (B)男性扶養費用較低 (C)新生兒性別比差距大 (D)引進大量男性國際移工。

44. (C) 為避免政府獨斷，各機構權力的行使會受到其他機構的約束。圖(一)、(二)中的對話是針對是哪一種制衡設計的說明？



(A)彈劾案 (B)不信任案 (C)覆議制度 (D)解散制度。

45. (A) 毓馥轉貼一則新聞訊息給家人(如附圖)，此訊息內容應屬於地方政府的哪一項職權？



(A)安全衛生 (B)經濟發展 (C)教育文化 (D)社會福利。

46. (A) 各國的交換學生在課堂上分享自身參與政治的經驗，下列何人最可能來自獨裁國家？ (A)美君：我國領導人握有國

家的最高控制權，人民很少接觸政治 (B)櫻蓮：下個月我要請假回國投票，因為我們即將舉行總統大選 (C)宏聖：如果民眾質疑某項公共政策，政府就必須做出修正調整 (D)世宇：我常去參加公聽會，直接和政府部門溝通政策制定問題。

47. (D) 現代國家是為人民而存在，附圖中所討論的事件顯示該國未具備現代民主國家的哪一項功能？



(A)改善教育環境 (B)促進產業發展 (C)扶助弱勢群體 (D)保障基本人權。

48. (C) NHK 快報：「日本氣象廳針對部分縣市發布暴風、大雨及洪水警報，並針對沿岸地區發布波浪警報。關東地區受到惡劣的天候影響，新幹線電纜掉落，而部分鐵道因為軌道積水，因此陸上交通大亂，機場航班也紛紛停飛。」請問：上述新聞中的自然災害最可能為下列何者？ (A)梅雨 (B)地震 (C)颱風 (D)暴風雪。

49. (B) 裕鈺參觀我國一政府部門時聽導覽人員說明如附圖所示，內容大意最接近下列何者？



(A)政府機關在執法上無所依循，依賴民眾監督 (B)在法治社會中，法律可對政府施政進行約束 (C)人民權利受到法律保障，此為人治社會特點 (D)法律限制政府權力行使，導致行政效率不彰。

50. (D) 附圖的漫畫，慈禧太后和光緒皇帝在什麼戰亂下逃出北京城，最後抵達西安？



(A)鴉片戰爭 (B)英法聯軍 (C)甲午戰爭 (D)八國聯軍。