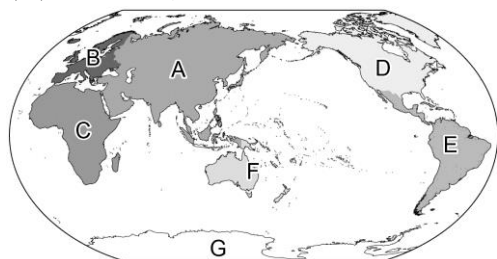


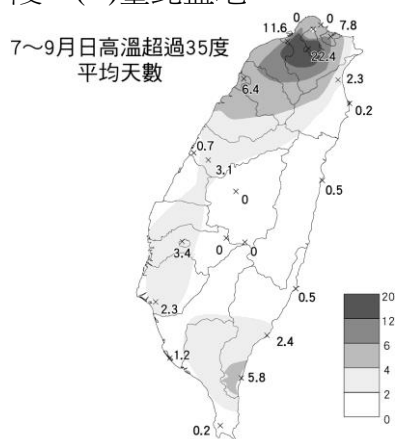
臺中市立三光國中 113 學年度第一學期社會領域七年級補行評量題庫

範圍：第一冊


1. (D) 臺灣河川名稱如濁水溪、汶水溪皆因河川水色混濁而得名。請問：臺灣河川普遍輸砂量較高的原因不包括何者？
(A)河川流速較快 (B)臺灣地質脆弱 (C)降水強度較大 (D)河川東西分流。
2. (D) 下列何者對臺灣東部海岸的描述錯誤？ (A)主要為岩岸 (B)東臨太平洋 (C)海岸線陡直 (D)多天然良港。
3. (D) 附圖為世界七大洲與三大洋的分布位置。請問：何者配對完全正確？ (A)A——非洲 (B)D——亞洲 (C)E——南極洲 (D)F——大洋洲。



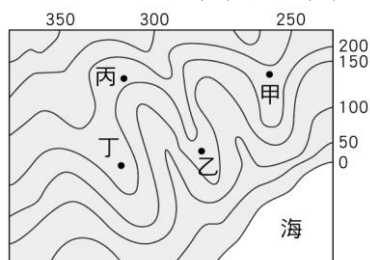
4. (C) 地球的氣候帶若從低緯至高緯，依序為何？ (A)溫帶→熱帶→寒帶 (B)溫帶→寒帶→熱帶 (C)熱帶→溫帶→寒帶 (D)熱帶→寒帶→溫帶。
5. (D) 時節進入酷暑，臺灣各地近來經常出現高溫，當日高溫大於 35 度稱為「猛暑日」，附圖為臺灣 7~9 月出現「猛暑日」的平均天數分布圖，請問：臺灣哪一種地形區出現「猛暑日」的天數最多？ (A)嘉南平原 (B)雪山山脈 (C)新竹丘陵 (D)臺北盆地。



6. (B) 設置國家公園等保護區最主要的目的是下列何者？ (A)均衡城鄉差距 (B)落實環境保育 (C)推動經濟發展 (D)增加國家稅收。
7. (C) 臺灣最高峰位於下列哪一座山脈之中？ (A)阿里山山脈 (B)中央山脈 (C)玉山山脈 (D)雪山山脈。
8. (D) 地形剖面圖的垂直軸跟水平軸分別代表什麼單位？ (A)海拔、高差 (B)距離、高度 (C)高差、海拔 (D)高度、距離。
9. (A) 在東半球的紐西蘭看完跨年煙火後，坐飛機往東，跨越國際換日線至夏威夷，則時間或日期會如何變動？ (A)日期減一天 (B)日期加一天 (C)日期不變 (D)時區不變。
10. (C) 「風」的成因為何？ (A)空氣由高溫處向低溫處流動 (B)空氣由高空處向低空處流動 (C)空氣由高壓處向低壓處流動 (D)空氣由密度低處向密度高處流動。
11. (D) 造成附圖這種災害的主要原因不包括下列何項條件？ (A)過多的降水 (B)過陡的坡面 (C)鬆散的地質構造 (D)平地種植過多的蔬菜。

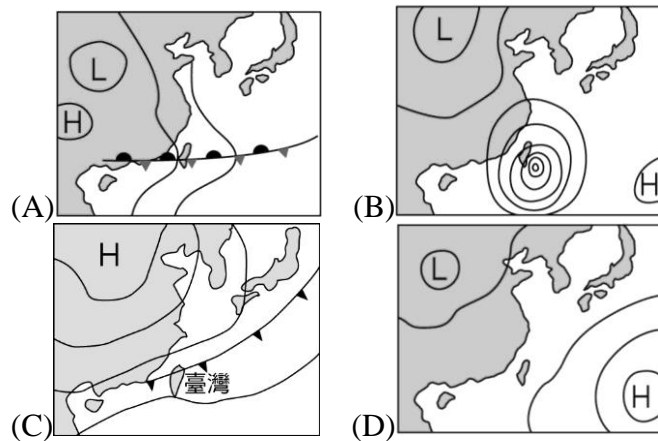


12. (B) (甲)紐西蘭位於大洋洲 (乙)臺灣的東南方 (丙)東臨太平洋、西接印度洋 (丁)經緯度約(41°S, 174°E) (戊)位於南半球。請問：上述哪兩個是最符合相對位置的表達方式？ (A)甲戊 (B)乙丙 (C)丙丁 (D)丁戊。
13. (C) 附圖為某地區的等高線地形圖。萌萌全家利用假日到該地的河畔烤肉、戲水。依據此圖判斷，下列何者最可能是他們烤肉的地點？ (A)甲 (B)乙 (C)丙 (D)丁。

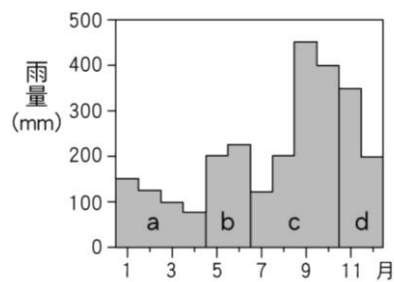


14. (C) 西元 2016 年 1 月 24 日，臺灣出現數十年來最強的一波寒流，全臺從南到北急凍，成了凍番薯，中央氣象局(今之中央氣象署)網站罕見的以「帝王級寒流」來形容這波冷空氣的威力。氣象局(署)表示，寒流影響期間，全臺氣溫偏低，除東半部及北部山區有短暫陣雨外，其他地區都是多雲到晴的天氣型態。根據以上新聞報導可知，臺灣當時的地面天氣圖

最有可能為下列何者？



15. (B) 除了南極洲外，下列哪一個洲亦沒有赤道通過？ (A)大洋洲 (B)歐洲 (C)非洲 (D)亞洲。
16. (A) 臺灣降水時間的分布是影響河川流量變化的主因，下列哪一條河川因流域內降雨的季節分布平均，所以流量最穩定？ (A)淡水河 (B)大甲溪 (C)曾文溪 (D)高屏溪。
17. (C) 附圖為臺灣東部年降水量分布圖。圖中依月分將降水量分為四大降水來源，哪一個時期的降水與颱風雨有關？ (A)a (B)b (C)c (D)d。



18. (B) 臺中市石岡區土牛國小的涼亭內有一花崗岩雕刻而成的長方體石碑，碑文刻著「朴仔籬處，南北計長二百八十五丈五尺(約 952 公尺)，共堆土牛一十九個。每土牛長二丈(約 6.6 公尺)，底闊一丈(約 3.3 公尺)，高八尺(約 2.7 公尺)，頂寬六尺(約 2 公尺)。每溝長一十五丈(約 50 公尺)，闊一丈二尺(約 4 公尺)，深六尺(約 2 公尺)。乾隆二十六年正月，彰化縣知縣張立。」當時立此石碑用意為何？ (A)禁止漢人偷渡來臺 (B)嚴禁漢人越界開墾番地 (C)實施「寓兵於農」鼓勵拓墾 (D)鼓勵原漢合作開墾水源和土地。
19. (B) 臺灣原住民是至今最早居住在臺灣的居民，對於他們數千年來的文化發展，今人可以利用怎樣的方式達到較「客觀」的理解？ (A)到部落訪問年紀較大的長老 (B)可以透過考古與傳說的相互輔助來研究 (C)找尋早期原住民族在當時所記錄下來的文字 (D)蒐集部落的傳說故事。
20. (D) 十九世紀中期臺灣開港通商，吸引了各國勢力前來發展，彷彿又回到大航海的時代。請問：這種轉變，當時臺灣哪一個城市並未直接受影響？ (A)淡水 (B)雞籠 (C)打狗 (D)鹿港。
21. (B) 彰化縣政府於每年 11 月會在灌溉水道舉辦「跑水節」活動，以感念先人開鑿灌溉水道，造就彰化平原盛產稻米的根基。請問：上述的「跑水節」活動應該是在哪個水利設施舉辦？ (A)瑠公圳 (B)八堡圳 (C)貓霧揀圳 (D)曹公圳。
22. (B) 「此地清代原為化外之地，不受清廷管轄。後來日軍藉故入侵，來臺辦理防務的大臣為避免再有類似事件，特意於此地設縣並修築城牆，以加強防禦。」請問：文中提及的城牆應該位於何地？ (A)卑南 (B)恆春 (C)左營 (D)安平。
23. (D) 每年屏東的東港鮑魚季遠近馳名，在清帝國治臺初期，東港屬於哪一個行政區？ (A)承天府 (B)淡水廳 (C)彰化縣 (D)鳳山縣。
24. (A) 1670 年，臺灣中部的沙轆社與外來政權發生衝突，造成眾多平埔族群與漢人死傷慘重，也讓當地的部落聯盟分崩離析。這個部落聯盟可能是下列何者？ (A)大肚王 (B)卑南王 (C)噶瑪蘭族 (D)馬賽族。
25. (A) 下列哪一個名稱是十六世紀日本人對臺灣的稱呼？ (A)高山國 (B)小琉球 (C)福爾摩沙 (D)大員。
26. (C) 新聞報導：「這群毛利青少年是來自距離臺灣 9,000 公里的紐西蘭，他們特地去參觀臺東史前博物館，發現他們身上的玉珮項鍊，工具魚鉤、農具鋤頭、武器巴圖，都跟展示廳陳列的考古遺址文物非常相似。」請問：報導所指考古遺址為何？ (A)長濱文化 (B)圓山文化 (C)卑南文化 (D)十三行文化。
27. (D) 人類學者將臺灣原住民族歸類為「南島語族系統」之中，該系統分布範圍相當廣大，使用的語言超過一千三百多種，人口高達兩億五千萬。關於我們對「南島語系」的理解，下列何者說法為是？ (A)臺灣是南島語系分布最東的地方 (B)臺灣各原住民族是在同一個時期移居至此 (C)南島語族包括印度原生的人種 (D)臺灣同時是早期原住民族移入與向外擴散的地點。
28. (B) 每年 3 月大甲媽祖出巡是漢人社會的年度盛事，其路線是從臺中大甲出發到雲林北港與嘉義新港，之後再回到大甲。請問：若是在康熙年間，這條出巡的路線屬於哪一個地方行政機關管轄？ (A)臺灣縣 (B)諸羅縣 (C)鳳山縣 (D)彰化縣。
29. (B) 雍正元年(西元 1723 年)，針對朱一貴事件平定有功的福建官兵所宣布的詔書如下：「兵部分別議敘福建官兵克復臺灣功。臺灣地方，自古未屬中國，皇考(康熙帝)聖略神威，取入版圖。逆賊朱一貴等倡亂，占據臺地。皇考籌畫周詳，指授地方官員，遣調官兵，七日之內，剿除數萬賊眾，克復全臺。」上述的事件後，清廷採取哪一政策來因應？ (A)改卑南廳為臺東直隸州 (B)增設淡水廳及彰化縣等行政區 (C)諸羅縣改為嘉義縣 (D)廢除渡臺禁令。
30. (B) (甲)鄭成功圍攻荷蘭人 (乙)海商在澎湖、臺灣活動 (丙)荷蘭人占領臺灣南部 (丁)荷蘭人驅離在臺的西班牙人。根據臺灣歷史的發展，上列史事的排列順序應該為何？ (A)甲丁丙乙 (B)乙丙丁甲 (C)乙丁丙甲 (D)丙乙甲丁。
31. (B) 小華想要了解清帝國時期彰化平原的水利建設，他應該多參考哪一個水利設施的興建過程？ (A)瑠公圳 (B)八堡圳 (C)曹公圳 (D)嘉南大圳。
32. (A) 澎湖馬公天后宮是臺灣地區最古老的寺廟之一，該廟主祀的神祇在今天已經是臺灣社會最普遍且受重視的信仰對象之一。

。探究其中的背景，臺灣社會所以盛行該神祇的信仰，主要是該神祇的屬性，與臺灣早年社會的哪項特性最有關聯？

(A)航海活動盛行 (B)農業是主要經濟活動 (C)醫療落後，瘟疫不斷 (D)遊民眾多，械鬥頻繁。

33. (A) 四姐妹訪問了爺爺奶奶關於家族在清代移民到臺灣的故事，發現他們的祖先來自中國廣東潮州，訪問完後，四個人各自整理了重點，但其中有人記錯爺爺奶奶的話了。請問：四人當中哪些人的說法正確？

輝人：我們的祖先除了原鄉的信仰外，也和其他地區來的人共同信仰媽祖與王爺。

華莎：我們的祖先信仰開漳聖王，而鄰近的漳州地區的移民則信仰三山國王。

頌樂：初期來臺時，祖先們以中國原鄉的同姓先祖作為祭祀對象，稱為開臺祖。

玫星：從祭祀唐山祖轉變到祭祀開臺祖，代表移民的土地認同可能漸漸由中國原鄉轉移到臺灣。

(A)輝人、玫星 (B)華莎、頌樂 (C)輝人、華莎 (D)頌樂、玫星。

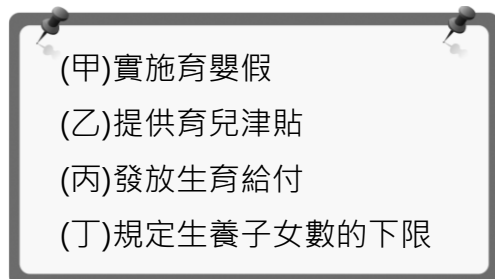
34. (C) 根據西元 2020 年的新聞報導，在基隆和平島的考古遺址，除了挖掘出教堂的後殿牆基，也發現有歐洲人的墓葬和原住民小孩甕棺。關於這個考古遺址的敘述，以下何者正確？ (A)這個遺址位於大肚王的勢力範圍 (B)墓葬中的原住民小孩應來自新港社 (C)墓葬中的歐洲人可能為西班牙人 (D)此教堂最早由荷蘭人所設立。

35. (B) 班會進行中，小高以口頭方式提出了【甲】，並經過一人以上附議而成立。上述【甲】應為下列何者？ (A)提案 (B)動議 (C)秩序問題 (D)權宜問題。

36. (D) 不少女性在職涯中經常為了養育兒女或是照顧家人，被迫要離開職場，等到想重回職場，卻受限於年紀增長而不好找工作。為此，勞動部推動「婦出江湖」職能精進計畫，規畫課程讓婦女朋友找回自信，也和企業合作，鼓勵多雇用二度就業婦女，彌補人力資源的短缺。前述內容主要與現代社會的何種趨勢相關？ (A)婚姻觀念的轉變 (B)生育觀念的變化 (C)居住與就業地點的變遷 (D)女性就業的普遍。

37. (A) 我國政府為了解決現代父母的生養難題，已開始擬訂各項政策因應。下圖何者是目前我國政府已實施的因應方案？

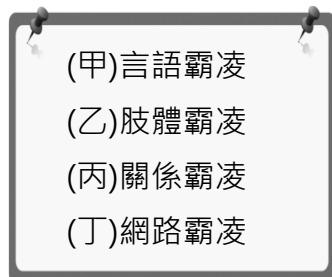
(A)甲乙丙 (B)甲乙丁 (C)甲丙丁 (D)乙丙丁。



38. (C) 家人之間關係親密，生活上常會有許多互動，但難免有時會有衝突發生。請問：面對家人之間的衝突，下列哪一作法最適切？ (A)衝突過了就好，不用太在意 (B)直接報警，讓公權力介入 (C)好好溝通，相互尊重彼此看法 (D)聽父母的話就對了，孩子不需有個人看法。

39. (B) 高雄某職業學校長期辦理原住民學生「母語專班」，並積極推動原住民族語認證考試，讓學生不至於與本身的文化脫軌，原住民學生也指出，透過學校提供免費的母語課程，自己就可以在傳承族語上作出一些貢獻，傳承祖先的智慧。上文中文學校開設族語課程可以解決原住民族的哪一個危機？ (A)人口流失 (B)文化傳承 (C)獵場技巧 (D)利益分配。

40. (D) 校園霸凌是一種有意圖的攻擊性行為，通常會發生在力量不對等的學生之間。霸凌並非為偶發事件，而是指長期且多次發生的事件。依此判斷，附圖中的哪些代號是常見的校園霸凌類型？ (A)甲乙 (B)丙丁 (C)甲乙丁 (D)甲乙丙丁。



41. (C) 根據《民法》的規定，下列哪一組彼此之間是姻親中的「配偶的血親」關係？ (A)伯母和媽媽 (B)公公與小姑 (C)姨丈與外婆 (D)姑丈和姨丈。

42. (B) 家人間因哪三種關係而形成了親屬？ (A)甲乙丙 (B)甲乙丁 (C)甲丙丁 (D)乙丙丁。



43. (A) 課堂上，老師請珊珊選出哪個人與自己是「直系血親」的關係，則珊珊應該選擇下列何者？ (A)祖父 (B)伯伯 (C)舅舅 (D)堂哥。

44. (A) 下列哪個國際組織的宣言揭示，兒童因身心尚未成熟，因此其出生前與出生後，均須獲得特別的保護與照顧，並且另定公約，確立兒童為權力的主體？ (A)聯合國 (B)世界貿易組織 (C)世界衛生組織 (D)國際特赦組織。

45. (A) 下列關於霸凌的敘述，何者正確？ (A)言語上的謾罵也會構成霸凌行為 (B)只會發生在師生之間 (C)屬於偶發事件 (D)是開玩笑的行為，不會觸犯法律。

46. (A) 光華部落位在花蓮縣吉安鄉，鄉公所協助建立部落裡的聚會所。由於原住民族文化認為所有場所都有祖靈駐守，因此公所邀請部落的巫師到聚會所舉行儀式，希望在祈福後順利啟用。上述內容反映部落具備何種意義？ (A)傳統信仰中心 (B)基本政治組織 (C)生產分配中心 (D)語言文化傳承。

47. (B) 以下是曉華在公民課本中看到的一段話——

每個人都是獨立自主的個體，都有其存在的意義與價值，應該受到平等的尊重。

上述這段話的意義和下列哪一項觀念最相近？ (A)人需要了解自己的優缺點 (B)人人皆有權享有人性尊嚴 (C)吃飽穿暖是人生重要需求 (D)找到適當定位能發揮所長。

48. (D) 我國施行國民義務教育，規定所有國小畢業學生皆須進入國中就讀，以期讓國民的素質得以透過教育而提升。請問：對於該政策的敘述，下列何者不正確？ (A)國民義務教育的實施，讓學生有機會透過更多學習，來決定自己想要的生活方式 (B)部分生活條件相對不足的人，因為國家政策的介入，而有受教育的機會 (C)國家制定此政策是希望讓不同性別、財富及社經背景的人民，都能擁有受教育的權利 (D)政府強制人民受教育，是侵害了個人自我決定的權利。
49. (C) 附表為主計總處調查報告，顯示在家務分工、育兒照顧責任上，女性仍居於主要照顧者的角色。依據此表可知，我國在哪一方面的家庭平權仍有努力空間？ (A)親子平權方面 (B)手足平權方面 (C)配偶平權方面 (D)婆媳平權方面。

項目	男性	女性
申請育嬰津貼人數	15,636人 約占 17%	76,632人 約占 83%
每日照顧家人及做家務時間	1.13 小時	3.81 小時

50. (B) 史懷哲小時候跟人打架，輸的那方不服氣的說：「如果我像你每天有肉湯吃，我才不會輸你。」當下，打贏的他才意識到雙方存在著貧富差距；長大後他離開舒適圈到非洲行醫，還蓋了教堂及醫院，幫助許多受苦難的人，使他們能夠享有身為人應有的生存條件。請問：史懷哲選擇到非洲行醫助人的行動呈現出下列哪項意涵？ (A)弱肉強食 (B)人性尊嚴 (C)個人優勢 (D)發展才能。