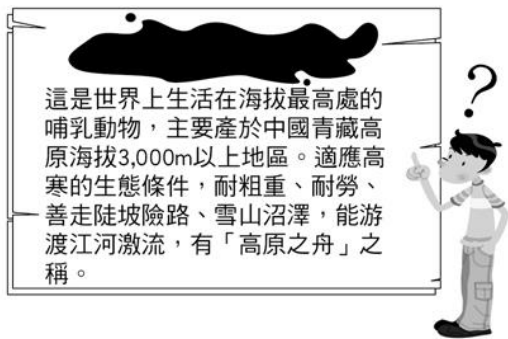


一、單選題：

- (C) 下列何者位於南美洲西部，且為世界上最長的山脈？ (A)喜馬拉雅山脈 (B)阿爾卑斯山脈 (C)安地斯山脈 (D)落磯山脈。
- (C) 海南島成為中國最適合發展熱帶栽培業的地區，與何項地理環境最相關？ (A)經度 (B)季風 (C)緯度 (D)地形。
- (A) 「這個城市北倚燕山、西有太行山屏障，南控華北平原為其腹地，亦為北方的政治、經濟和軍事中心。現為中華人民共和國的首都，也是西元 2008 年夏季奧運的主辦城市。」上文所描述的最可能是下列哪一個城市？ (A)北京 (B)西安 (C)天津 (D)太原。
- (A) 圖中陸半球上圍繞著北極海的是哪兩個陸塊？ (A)亞洲、北美洲 (B)澳洲、南極洲 (C)非洲、南美洲 (D)歐洲、亞洲。

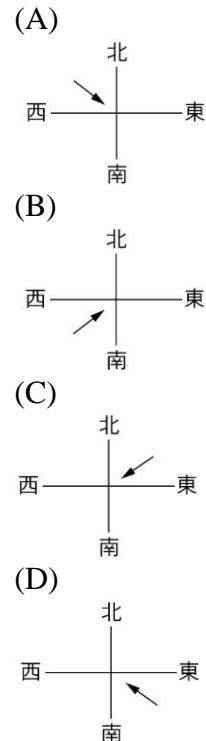


- (B) 附圖為動物園展示館中，某種動物標本的介紹，此標本的名稱應是下列哪種動物？ (A)駱駝 (B)犛牛 (C)灘羊 (D)藏綿羊。



- (C) 中國的東北地區一般稱之為「關外」。請問：這主要是指下列哪一個界線以外的地區？ (A)太行山以東 (B)秦嶺以北 (C)長城以北 (D)大興安嶺以北。
- (A) 福建沿海多島嶼，其主要成因為何？ (A)山脈沉海，山頭露出水面而成 (B)珊瑚礁堆積而成 (C)火山噴發而成 (D)沙洲堆積而成。
- (B) 東南亞國協(ASEAN)為亞太經濟板塊重要的一部分，但因東協境內國家經濟發展性質相似，缺乏互補性，為彌補此缺憾，東協積極尋找具有互補的國家結合，最近開始醞釀「東協+1」，其中「1」是指哪一國家？ (A)印度 (B)中國 (C)越南 (D)印尼。
- (B) 全球氣候分類中，溫帶氣候主要以哪兩個緯度之間為範圍？ (A)0 度~23.5 度 (B)23.5 度~66.5 度 (C)66.5 度~90 度 (D)90 度~180 度。
- (A) 中國哪一少數民族信仰佛教，長期實施教教合一，宗教已成為人們精神生活與社會生活不可分離的一部分，政治、歷史、文化、藝術無不瀰漫濃厚的宗教氣息？ (A)藏族 (B)回族 (C)蒙古族 (D)維吾爾族。

- (C) 地理老師請同學進行世界地形之最，所在大洲的填答遊戲，下列哪一個題目的答案應位於亞洲？ (A)世界最長的山脈 (B)緯度最高的洲 (C)世界最高的高原 (D)世界最大的平原。
- (D) 日本重要工業區多集中在太平洋沿岸，其主要原因不包含下列何者？ (A)地形平坦 (B)交通便利 (C)鄰近航線 (D)礦產豐富。
- (A) 「札幌雪祭」是北海道最具代表性也是最大規模的活動，每年吸引著全世界各地的旅人，在冬天飛往北海道欣賞這場「雪」的華麗之宴。日本冬季的降雪，與哪道季風經過日本海並夾帶大量水氣有關？

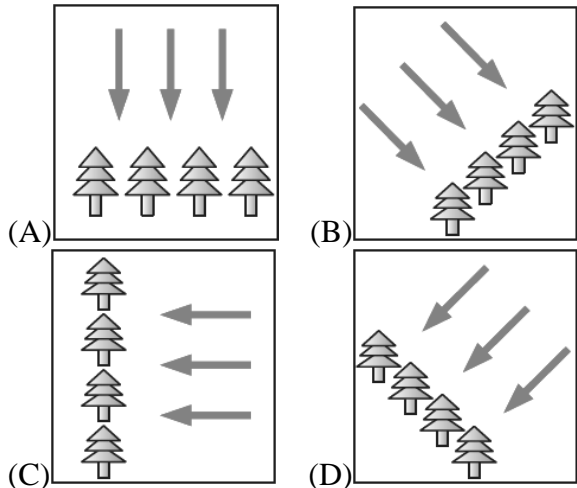


- (C) 富士山是日本人心目中的聖山，也是日本的精神象徵，其標高為 3,776 公尺，比臺灣最高峰的玉山 3,952 公尺來得低，但在日本許多風景明信片中均可發現，富士山的山頭終年積雪。請問：影響此一情形產生的主要因素為何？ (A)距海較近 (B)雨量較多 (C)緯度較高 (D)開發程度。
- (C) 關於全球人口最稀少的四個地區，何地的氣候特徵描述正確？ (A)撒哈拉沙漠：溼熱 (B)亞馬孫盆地：乾熱 (C)青藏高原：高寒 (D)南極大陸：溼冷。
- (D) 喜愛旅遊的愛家對世界各地的文化相當感興趣，他在網路上事先搜尋了歐洲相關文化，請問：下列何者最不可能是他所搜尋出的資料？ (A)芬蘭戴帽節 (B)西班牙鬥牛節 (C)德國啤酒節 (D)印度排燈節。
- (C) 河西走廊的綠洲主要是以哪一山脈所流下的雪水，加以開鑿溝渠而供灌溉水源？ (A)阿爾泰山 (B)大興安嶺 (C)祁連山 (D)秦嶺。
- (B) 華南的河川上游水流湍急，主要可提供下列何項功能？ (A)灌溉 (B)發電 (C)航運 (D)養殖。
- (D) 贊松從西藏到臺灣依親，剛開始不太適應臺灣的生活習慣，經過環島的旅遊體驗，慢慢發現臺灣的多元環境。請問：下列哪一種旅遊體驗是贊松在家鄉所無法體驗的？ (A)登山 (B)參觀牧羊活動 (C)乘坐火車 (D)海中浮潛。
- (D) 「地勢崎嶇不平，多伏流、峰林及地下洞穴，耕地及人口主要集中於山間盆地。」上述景觀最有可能出現在附圖中的哪一個高原？ (A)甲 (B)乙

(C)丙 (D)丁。



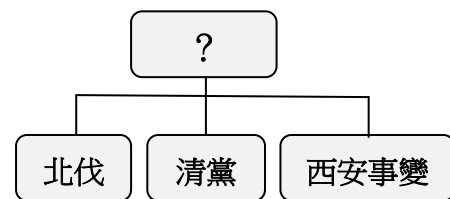
21. (D)下列何者不是蒙新地區主要的地形區？ (A)河西走廊 (B)河套平原 (C)內蒙古高原 (D)柴達木盆地。
22. (A)下列哪一個不是影響世界氣候的主要原因？ (A)陸塊大小 (B)緯度 (C)地形 (D)距海遠近。
23. (B)東北亞包括南、北韓和日本等三國，下列關於其環境的敘述中，屬於三個國家的共同點有幾項？ (甲)屬於同一時區 (乙)皆屬副熱帶季風氣候 (丙)皆位於環太平洋火山地震帶 (丁)文化均受到中國影響 (A)一 (B)二 (C)三 (D)四項。
24. (C)「該礦產提供山西省一半以上的財政收入，可說是山西的經濟之本。」請問：該礦產指的是下列何者？ (A)鐵礦 (B)銅礦 (C)煤礦 (D)石油。
25. (B)中國北方的黃土高原黃土層堆積深厚，黃土主要來自於內蒙古高原一帶。請問：這些黃土主要是由哪一種動力攜帶至此而堆積的？ (A)夏季季風 (B)冬季季風 (C)焚風 (D)黃河。
26. (A)地理學中稱「能量主要來自地球內部，岩漿活動引起地殼變動或火山活動，構成大範圍、原始地表形貌的力量」為下列何者？ (A)內營力 (B)外營力 (C)自轉力 (D)科氏力。
27. (B)「綠色長城」是中國華北、東北、西北的重要防護林，其目的是防止沙漠化蔓延及沙塵暴的襲擊。請問：若依當地季風風向判斷，其樹林的栽種方向應為下列何者？



28. (D)溥儀在回憶錄中提到：「我一生中有幾次當皇帝的經驗，第一次在我三歲的時候，第二次是莫名其妙的受到軍閥的支持而登基，不過卻只登基十多天便被迫下臺了……。」請問：溥儀回憶的第二次登基所指為何？ (A)廣州軍政府的成立 (B)接受二十一條要求 (C)洪憲帝制 (D)張勳復辟。
29. (D)「為了鎮壓四川的保路抗爭，清廷調動部分湖北新軍進入四川，而革命黨遂趁防務空虛之際，一舉成功地發動了武昌起義。」請問：上述起義發動時，正值何年？ (A)甲午年 (B)乙未年 (C)庚子年 (D)辛亥年。
30. (D)中共在躲避國民政府追剿期間，展開所謂的「二萬五千里長征」。請問：此時期的中共由何人實際主掌軍政大權，並成為中共的領袖人物？ (A)朱德

(B)周恩來 (C)鄧小平 (D)毛澤東。

31. (A)西元 1989 年，北京的學生因提出民主改革訴求，而引發百萬人大遊行，最後導致何種事件的發生？ (A)六四天安門事件 (B)五四運動 (C)大躍進運動 (D)文化大革命。
32. (C)北伐末期，奉系領袖被日軍炸死後，何人繼承其位，並宣布歸服國民政府？ (A)段祺瑞 (B)孫傳芳 (C)張學良 (D)黎元洪。
33. (A)導致中共發生「六四天安門事件」的主因為何？ (A)經濟開放、政治保守 (B)毛澤東極權獨裁 (C)經濟保守、政治開放 (D)文化大革命的延續。
34. (D)民國 16 年，國民政府由廣州遷往武漢，共產黨員則暗中進行分化活動，他們擁戴汪兆銘，排擠蔣中正，企圖操縱武漢政府，國民黨人遂於南京另組政府。請問：此事件史稱為何？ (A)護法運動 (B)七七事變 (C)張勳復辟 (D)寧漢分裂。
35. (C)由於國民政府不斷退敗，終於在民國 38 年年底退出大陸，遷移至何地以圖復興？ (A)海南島 (B)大陳島 (C)臺灣 (D)香港。
36. (D)西元 1989 年，北京學生提出民主改革的訴求，引發百萬人大遊行，鄧小平下令軍隊鎮壓，造成震驚世界的什麼事件？ (A)二二八事件 (B)五四運動 (C)新文化運動 (D)六四天安門事件。
37. (A)清朝在某場戰爭結束後，便有人開始認識到西方船堅炮利的威力驚人，因此，有人提出應該要「師夷長技以制夷」。請問：這樣的主張是在哪場戰爭以後提出的？ (A)鴉片戰爭 (B)英法聯軍 (C)中法戰爭 (D)太平天國之亂。
38. (D)民國 4 年，為取得日本的支持，誰接受大部分日本所提出的「二十一條要求」？ (A)孫中山 (B)蔡鍔 (C)溥儀 (D)袁世凱。
39. (A)唯辰在整理歷史課本的資料，她試圖將相關性的資料放在一起，整理成附圖。根據圖中內容判斷，「？」應指下列何者？ (A)蔣中正 (B)張作霖 (C)孫中山 (D)段祺瑞。



40. (B)一九六〇年代，黃土高原上土高爐升起，農民大量投入土法煉鋼。請問：這種景象，正是中共推動何種運動的時期？ (A)抗美援朝 (B)大躍進運動 (C)改革開放 (D)文化大革命。
41. (D)國民政府成立後，在哪段時期曾積極從事建設，建立中國邁入現代化的基礎？ (A)民國元年～民國 6 年 (B)民國 6 年～民國 15 年 (C)民國 15 年～民國 17 年 (D)民國 17 年～民國 26 年。
42. (D)中共統治期間，為了順利推動各項政策與活動，於是喊出了許多口號，下列哪一項口號與毛澤東無關？ (A)「超英趕美」 (B)「抗美援朝」 (C)「革命無罪、造反有理」 (D)「不管是黑貓白貓，會抓老鼠的就是好貓」。
43. (C)鄧小平推動的「改革開放」政策，主要是針對哪個部門的改變所發動的政策？ (A)法律 (B)教育 (C)經濟 (D)政治。
44. (B)西元 1950 年，中共首次和美國直接交戰，並提出「抗美援朝」的口號，當時世界局勢為何？ (A)民族自決喚醒殖民地民族意識 (B)民主與共產意

識型態對峙 (C)區域統合形成潮流 (D)孤立主義左右國際形勢。

45. (A)除了東北的土地，中國西北的領土也是俄國覬覦對象，俄國利用怎麼樣的方式，順利兼併中國西北廣大的領土？ (A)勘定西疆國界 (B)發動戰爭暴取豪奪 (C)鼓勵人民移居此處 (D)趁著鴉片戰爭期間進行占領。
46. (C)紅衛兵呼喊「革命無罪、造反有理」，到處破壞歷史文物與中國固有的道德觀念，並到處批鬥各界人物，造成中國文化莫大的傷害。請問：下列哪些人是紅衛兵的主要組成分子？ (A)政府官員 (B)家庭婦女 (C)青年學生 (D)海外華僑。
47. (A)一九八〇年代，有位美國報社駐中國大陸的記者曾經密訪一位中國青年女性，這位女性說她小時候因為忙著政治活動、背誦《毛語錄》讚揚毛澤東、忙著搞鬥爭，幾乎沒上過什麼學。長大後，對於年輕時的失學感到相當後悔，也沒法再回到城市。請問：這可能是女青年參加下列哪一項運動的影響？ (A)文化大革命 (B)大躍進運動 (C)人民公社 (D)改革開放。
48. (B)清朝時期，外國勢力在中國的活動範圍原本只限於沿海地區。但自何時開始，外國勢力就逐漸進入內地？ (A)鴉片戰爭之後 (B)英法聯軍之後 (C)《馬關條約》簽訂之後 (D)《南京條約》簽訂之後。
49. (A)在宣統年間推行的立憲運動中，其頒布的內閣名單，閣員大多屬於哪個民族？ (A)滿族 (B)漢族 (C)蒙古族 (D)藏族。
50. (A)在十九世紀中葉以前，中國周遭的國家必須例行向中國進貢。但在什麼事件之後，這樣的進貢關係已開始轉變？ (A)鴉片戰爭 (B)中法戰爭 (C)英法聯軍 (D)牡丹社事件。
51. (B)「人有多大膽，地有多大產」、「超英趕美」。請問：上述兩種口號最有可能出現在中共發展的哪個時期？ (A)韓戰時期 (B)大躍進時期 (C)長征時期 (D)聯俄容共時期。
52. (A)西元 1978 年鄧小平執政後，改走務實路線，有下列哪一項策略可以說明？ (A)四個現代化 (B)六四運動 (C)破四舊、立四新 (D)大躍進運動。
53. (B)一次大戰後，中華民國以戰勝國的姿態參與哪場會議，並期望能從該會議上爭取於清代時所喪失的土地與權力，沒想到該會議卻將德國於山東的權益轉讓予日本，消息傳回中國後，憤怒的民眾發動了五四運動？ (A)開羅會議 (B)巴黎和會 (C)雅爾達會議 (D)東南互保協議。
54. (D)戊戌變法的重要特色之一，在於包含政治與教育層面的改革。請問：下列哪些為教育上的新措施？ (甲)公費留學制度 (乙)設同文館 (丙)廢八股考試 (丁)設京師大學堂 (A)甲乙 (B)甲丁 (C)乙丙 (D)丙丁。
55. (C)處理衝突有許多種途徑，下列方法當中，哪項是不適當的做法？ (A)和解 (B)調解 (C)關說 (D)訴訟。
56. (C)憲法具備了三種特性，下列何者不是憲法所具備的三種特性之一？ (A)最高性 (B)穩定性 (C)普通性 (D)原則性。
57. (B)以下是老師為學生講述法律概念時，用來加以輔助說明的資料——

民眾不服交通違規裁決的結果，需於收到裁決書後30日內，向管轄的地方法院行政訴訟庭提起訴訟，逾時則不予受理。

根據內容判斷，下列何者最符合老師所要講述的概念？ (A)法律不溯及既往原則 (B)不要讓自己的權利睡著了 (C)權力分立原則 (D)無罪推定原則。

58. (B)我國有關遺產繼承的法定繼承制度，是以下列何者為原則？ (A)拋棄繼承 (B)限定繼承 (C)自由繼承 (D)全部繼承。
59. (D)《刑法》的內容主要包含下列哪些要點？(甲)政府職權 (乙)何種行為構成犯罪(丙)人民基本權利 (丁)犯罪行為如何處罰 (A)甲丙 (B)甲丁 (C)乙丙 (D)乙丁。
60. (B)訴訟權是指當人民的權利或利益受到不法侵害時，可向下列哪個機關提起訴訟，以保障自身的權利？ (A)行政機關 (B)法院 (C)立法院 (D)訴願管轄機關。
61. (D)現代法治國家除了對犯罪者處以【甲】之外，也愈來愈重視對犯罪行為人的教育，矯正並制止不當行為再度發生。上述的【甲】應為下列何者？ (A)罰鍰 (B)拘役 (C)報復 (D)刑罰。
62. (D)依據我國《刑法》的精神，犯罪的成立必須考量的條件不包括下列何者？ (A)行為符合《刑法》規定的犯罪構成要件 (B)行為具有違法性 (C)行為人須有責任能力 (D)犯罪行為必須立即被發現。
63. (D)如果對行政機關的訴願決定不服，可以依法向行政法院提起下列何者？ (A)請願 (B)民事訴訟 (C)刑事訴訟 (D)行政訴訟。
64. (C)「在■■■中，法律是由專制君主或少數具有權勢的人做決定。在此種社會中，人民的生命、自由、財產較無法獲得保障。」根據內容判斷，文中的■■■應填入下列何者？ (A)法治社會 (B)民主國家 (C)人治社會 (D)君主立憲。
65. (C)目前我國的義務教育年限為幾年？ (A)3 (B)6 (C)9 (D)12。
66. (D)檢察官依偵查結果，若認為沒有犯罪嫌疑時，應採取下列何種做法？ (A)提起自訴 (B)提起公訴 (C)做出起訴處分 (D)做出不起訴處分。
67. (B)人權觀念的發展，起初是人民為了反抗君主壓迫，要求個人權利的保障，故消極要求國家不得侵害其何項權利？ (A)平等權 (B)自由權 (C)受益權 (D)參政權。
68. (A)下列何種救濟方式，在法律上較不具效力？ (A)自力救濟 (B)提起訴訟 (C)訴願 (D)申請仲裁。
69. (A)14歲的宗翰因為考試時不讓阿吉看其答案，使阿吉心存不滿，放學後便邀集校內一些不良學生將宗翰打成重傷。上述阿吉侵害同學身體的作為，已觸犯了下列何種法律？ (A)《刑法》 (B)《民法》 (C)《憲法》 (D)行政法。
70. (C)如果遇到霸凌事件，除了向學校反映以外，還可以撥打「去霸凌高關懷」專線。下列哪組號碼是「去霸凌高關懷」專線？ (A)0800-198-885 (B)0800-123-885 (C)0800-200-885 (D)0800-000-885。
71. (D)「因應時代及環境變遷所產生的人權觀念，人民可

要求擁有一個舒適健康而合於居住與成長的環境。」這是指下列何種權利？(A)平等權 (B)自由權 (C)參政權 (D)環境權。

72. (B) 公然用不雅的言詞或行動侮辱他人，就構成何種犯罪？(A)誹謗 (B)公然侮辱 (C)恐嚇取財 (D)傷害。
73. (C) 根據目前《民法》的規定，婚姻要成立，不需要下列何種要素？(A)書面形式 (B)兩人以上證人 (C)公開儀式 (D)向戶政機關登記。
74. (D) 老師上課時跟大家說明了一項法律原則：「在法律上，要處罰一項行為時，該行為必須是法律已明文規範為犯罪的行為，才可以處罰。」請問：老師所說的話與下列哪項法律原則最相符？(A)受益原則 (B)平等原則 (C)誠實信用原則 (D)罪刑法定原則。
75. (A) 法律和命令不可以抵觸下列何者，否則該法律和命令無效？(A)憲法 (B)總統命令 (C)《民法》 (D)司法院命令。
76. (A) 行政訴訟採三級二審制，交通裁決事件的第一審法院為下列何者？(A)地方法院行政訴訟庭 (B)高等行政法院 (C)最高行政法院 (D)地方法院民事法庭。
77. (A) 我國《刑法》明定：「行為之處罰，以行為時之法律有明文規定者為限。」可見我國《刑法》對犯罪的判斷和處罰，遵守下列何種精神？(A)罪刑法定原則 (B)回復原狀原則 (C)誠實信用原則 (D)負擔能力原則。
78. (C) 想要讓自己或他人不法擁有，而以強暴、脅迫、藥劑、催眠術或其他方法，使他人無法抗拒，而強取他人物品，這是指下列何種犯罪？(A)竊盜罪 (B)搶奪罪 (C)強盜罪 (D)恐嚇取財罪。
79. (B) 我國《憲法》第 16 條規定，人民有請願、訴願、訴訟之權。請問：下列何者是訴願的受理機關？(A)法院 (B)主管行政機關 (C)民意機關 (D)憲法法庭。
80. (A) 人民有受國民教育之權利與義務，這是下列何者的規定？(A)《憲法》 (B)《民法》 (C)《刑事訴訟法》 (D)《社會秩序維護法》。