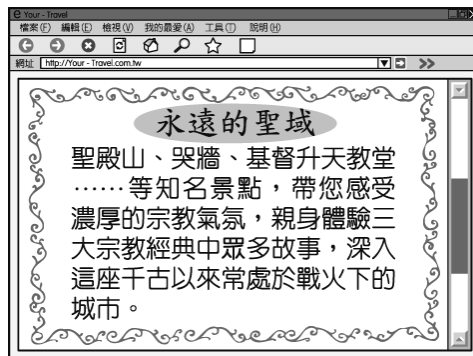



北韓	310 億美元	1258 美元
南韓	1.412 兆美元	2 萬 7561 美元

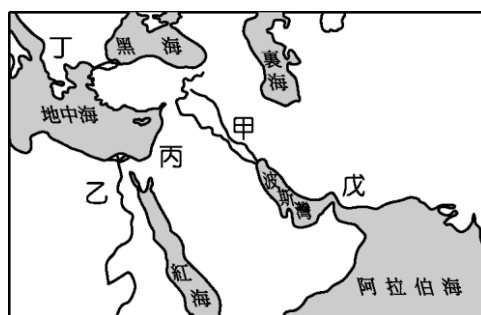
13. (C) 某石油公司要前往西亞的產油國家洽談購油事項，需要有熟悉當地語言的人隨行。請問：當地所通行的語言為下列何者？ (A) 英語 (B) 拉丁語 (C) 阿拉伯語 (D) 泰語。
14. (B) 東南亞的氣候依其地理位置的不同，主要分為下列哪兩種氣候類型？(甲) 熱帶雨林氣候(乙) 熱帶莽原氣候(丙) 熱帶季風氣候(丁) 熱帶沙漠氣候 (A) 甲乙 (B) 甲丙 (C) 乙丁 (D) 丙丁。
15. (A) 日本位於亞洲大陸東緣，該地區的氣候類型主要為下列何者？ (A) 溫帶季風氣候 (B) 副熱帶季風氣候 (C) 溫帶大陸性氣候 (D) 熱帶季風氣候。
16. (C) 在西亞利用沿海海域對外航運，有利於重要資源的輸出。請問：西亞的西北側與哪一個海洋相鄰？ (A) 阿拉伯海 (B) 印度洋 (C) 地中海 (D) 紅海。
17. (C) 孝介在網路上看到一則旅行社的廣告如附圖，由圖中資訊可知，這是在宣傳哪一都市的旅遊行程？(A) 伊斯坦堡 (B) 麥加 (C) 耶路撒冷 (D) 杜拜。



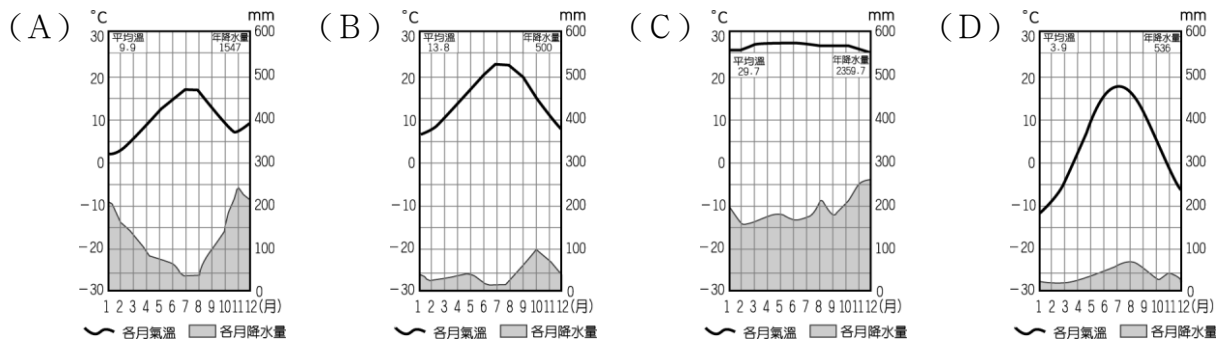
18. (C) 西亞與北非的畜牧業為當地傳統的產業活動，該地區多以何種方式進行牧業活動？ (A) 放牧 (B) 欄牧 (C) 游牧 (D) 酪農業。
19. (C) 進入 21 世紀後，石油資源的缺乏使得該資源更加珍貴。請問：東南亞重要的石油生產國中不包括下列何者？ (A) 馬來西亞 (B) 印尼 (C) 泰國 (D) 汶萊。
20. (D) 佩貞到世界各地旅遊，拍下許多照片給親友共賞。以下的四張照片，何者是尼羅河流域的古蹟？



21. (D) 小李放假時看到電視正在介紹印度之旅，尤其泰姬瑪哈陵的壯麗景觀更是令其嚮往。請問：在下列何時前往印度最為涼爽舒適？ (A) 4 月 (B) 6 月 (C) 9 月 (D) 1 月。
22. (A) 古代的蘇美人、巴比倫人、亞述人及加爾底亞人等曾在「兩河流域」創造輝煌的文明，影響後世深遠。請問：附圖中哪一個地區為其文明發源地？




23. (B) 印度各地區的人口分布並不平均，其中以東部加爾各答地區人口最為集中。請問：這和下列哪些因素的關係最大？ (A) 地形、氣溫 (B) 地形、降水量 (C) 地形、洋流 (D) 降水量、氣溫。
24. (C) 「近三十年來，馬來西亞和印尼成為全球棕油主要輸出國，輸出量分居世界第一、二位，油棕產業為兩國帶來大量外匯以及農村人口的就業機會。」由上文可推測，油棕主要分布於下列哪一種氣候區？



25. (A) 萌萌暑假到印尼的峇里島度假，參觀當地最著名的布沙基寺，欣賞其秀麗的建築特色。請問：峇里島地區主要的宗教信仰為下列何者？ (A) 印度教 (B) 佛教 (C) 伊斯蘭教 (D) 基督教。
26. (C) 在全球化趨勢下，日本的經濟發展正面臨其他國家競爭。請問：該國目前的工業發展方向主要為下列何者？ (A) 高勞力工業 (B) 低成本工業 (C) 高附加價值工業 (D) 原物料開採工業。
27. (A) 臺灣的翰林海運往返世界各主要大陸之間，該公司貨輪若由西亞要前往北非及地中海，必須通過下列何處？ (A) 蘇伊士運河 (B) 松德海峽 (C) 巴拿馬運河 (D) 麻六甲海峽。
28. (A) 西元 1966 年毛澤東為重新奪權，發動文化大革命，利用青年學生組成紅衛兵，做為其整肅異己的奪權工具。請問：下列何者為當時的口號？ (A) 革命無罪、造反有理 (B) 外爭主權，內除國賊 (C) 超英趕美 (D) 抗美援朝。
29. (C) 「國民政府宣布將遷都□□，以西南各省做為抗戰大後方，並利用中國廣土眾民的條件，制定長期抗戰方針。」請問：□□是指哪一個都市？ (A) 南京 (B) 成都 (C) 重慶 (D) 北平。
30. (A) 1980 年代，正當全世界的共產政權都一一走向瓦解轉型之際，中國也興起一波波的民主改革訴求，六四天安門事件的展開即為一例。請問：六四天安門事件最早是由何地的學生所發起？ (A) 北京 (B) 臺灣 (C) 香港 (D) 東京。
31. (B) 武昌起事後，成功推翻清廷，建立民國。但民初政局仍動盪不安，其原因來自下列何人缺乏維護共和體制的信念，推動擴充總統職權後，更想恢復帝制？ (A) 孫中山 (B) 袁世凱 (C) 蔣中正 (D) 梁啟超。
32. (D) 民國 12 年，孫中山領導的中國國民黨採行「聯俄容共」的政策，接受蘇聯的援助，並同意中共黨員以個人身分加入。孫中山採行上述政策是想解決下列哪一情況？ (A) 日本不停侵擾東北 (B) 袁世凱恢復帝制 (C) 中共擴張並建立政權 (D) 軍閥割據。
33. (B) 民國 21 年，日本於東北成立「滿洲國」，以何人為傀儡皇帝？ (A) 梁啟超 (B) 溥儀 (C) 蔣中正 (D) 袁世凱。
34. (D) 西元 1949 年，中國共產黨領導的人民解放軍取得國共內戰的勝利，控制了中國大陸；10 月 1 日，中華人民共和國政府在下述何處宣告成立？ (A) 延安 (B) 武漢 (C) 南京 (D) 北京。
35. (D) 中華民國第一任臨時大總統是由下列何人所擔任的？ (A) 蔣中正 (B) 袁世凱 (C) 溥儀 (D) 孫中山。
36. (C) 魯迅曾於《新青年》雜誌上發表小說《狂人日記》，文中使用新式標點符號。請問：魯迅是在何種背景下發表此篇小說？ (A) 革命運動 (B) 立憲運動 (C) 新文化運動 (D) 庚子後新政。
37. (D) 《保路同志會宣言》：「川人極端反對者，不在借款，而在借以喪失國權之款；不在路歸國有，而在名則國有，實為外國所有。」此段話的背景為何？ (A) 自強運動 (B) 戊戌變法 (C) 義和團事件 (D) 鐵路收歸國有。
38. (B) 「東北淪亡，時逾五載，疆土日蹙……前方守土將士浴血殺敵，後方之外交當局仍力謀妥協。」文中所指「東北淪亡」是指哪一史事？ (A) 五四運動 (B) 九一八事變 (C) 滿洲國成立 (D) 一二八事變。
39. (D) 阿列在逛書店，發現一本書叫做《國父們：被遺忘的中國近代史》，書中提到黃興、宋教仁、孫中山、汪精衛等人，阿列才發現原來創立中華民國不只是孫中山一人的功勞。請問：當年孫文整合其他革命團體，進而成立的新組織是下列何者？ (A) 華興會 (B) 興中會 (C) 中華革命黨 (D) 同盟會。
40. (B) 小毛收集甲午戰爭、牡丹社事件、五九國恥等史事資料，發現這些史事均與何國的侵略有關？ (A) 俄國 (B) 日本 (C) 英國 (D) 德國。
41. (A) 小惠在爺爺的遺物中發現一張舊紙鈔，如附圖，她發現這張紙鈔的面額比現今市面上流通的鈔票面額大很多。請問：這張舊紙鈔的面額代表當時中國面臨何種問題？ (A) 嚴重通貨膨脹 (B) 政府貪汙腐化 (C) 戰爭大獲全勝 (D) 憲政實施順利。



42. (B) 附圖農村壁畫的出現，正值中國農業浮誇風最盛期，為了配合中央的政策，地方虛報糧食產量，這股浮誇風也延燒至農畜業。請問：這幅壁畫出現在中共的哪一政策期間？ (A) 土地改革 (B) 大躍進 (C) 文化大革命 (D) 改革開放。



43. (A)第二次世界大戰結束後，聯合國成立，為了避免再度發生類似二次大戰的大規模戰爭，聯合國成立安全理事會，可對破壞和平的國家出兵制裁，並設置五個常任理事國擁有否決權。請問：下列何者不是五個常任理事國之一？ (A) 日本 (B) 法國 (C) 蘇聯 (D) 中國。
44. (C) 19 世紀末以來，歐洲各國為爭取在華特權、瓜分中國利益，紛紛租借港灣，其中山東膠州灣地區是被下列哪個國家所租借？ (A) 法國 (B) 英國 (C) 德國 (D) 美國。
45. (C) 依據《建國大綱》一書，中華民國的建國程序一共分為軍政時期、訓政時期以及憲政時期。請問：該書的作者為下列何人？ (A) 梁啟超 (B) 陳獨秀 (C) 孫中山 (D) 蔣中正。
46. (D) 《落葉歸根》是作者嚴君玲回憶她的成長歷程，其中有一段寫到，君玲的父親是上海當時非常有錢的大商人，在國共內戰期間，將名下資產換成美金和黃金並轉移到香港分散風險。但君玲的姑姑選擇相信政府，將手上持有的美金和黃金換成金圓券，卻面臨嚴重的□，從此失去所有的財產，對國民政府失去信任。請問：□應填入下列何者？ (A) 官員貪汙腐化 (B) 外交挫敗 (C) 戰爭失利 (D) 通貨膨脹。
47. (A) 一封發給北京某報社的電報，主要內容如下：「……學生為了山東問題，向曹、章、陸等官員進行示威，部分官員受傷嚴重，政府因此傾向判處學生死刑，並解散大學。……有人認為學生只是出自愛國熱誠，並沒有別的企圖，即使有過失，也是可以原諒的。」請問：這封電報應是為下列哪一事件而發的？〔92.第一次基測〕 (A) 五四運動 (B) 西安事變 (C) 文化大革命 (D) 六四天安門事件。
48. (A) 哪一個國家為了越戰投入非常可觀的兵力和財力，但卻損失慘重，導致國內反戰情緒高漲？ (A) 美國 (B) 英國 (C) 法國 (D) 蘇聯。
49. (D) 博物館中正展示影響世界歷史重大的老照片，其中一張名為開羅會議三巨頭的照片（如附圖）。請問：該照片中不會出現下列何人？(A) 蔣中正 (B) 邱吉爾 (C) 羅斯福 (D) 溥儀。



50. (D) 20 世紀初，清廷推動立憲運動時，民間出現打油詩：「有音無形，有調無人，雖可娛人，究屬愚人。」請問：該首打油詩的出現，反映當時民眾何種心態？ (A) 高度支持清廷的改革 (B) 對立憲運動懷抱極大期待 (C) 認為清廷對預備立憲誠意十足 (D) 認為立憲改革不具意義。
51. (D) 「大量的西方文學作品引進國內，其中也包括了共產主義。」請問：上述景象發生於何時？ (A) 自強運動時期 (B) 百日維新時期 (C) 武昌起事時期 (D) 新文化運動時期。
52. (C) 孫中山曾說：「沒有好革命軍，中國的革命永遠還是要失敗。」這是因為他在民國以後的革命事業，曾遭遇多次的失敗。依據孫中山先生的說法，下列哪一史事有助於國民革命的成功？ (A) 袁氏稱帝 (B) 黃花岡之役 (C) 黃埔建軍 (D) 軍閥亂政。
53. (D) 小慧回憶起她年輕時所參與的學生運動：「那一年是 1989 年，我與一群大學生聚集在廣場，向政府提出我們希望政治改革的訴求。但是，後來政府卻動用軍隊鎮壓了這場學生運動。」請幫她找出與該事件相關的照片是下列哪一張？ (A) (B)



(C)



(D)

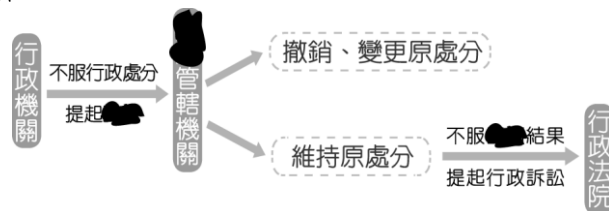


54. (D)有人形容現今中國大陸市場像一塊磁鐵，將世界的資金吸收過去，中國目前已經成為世界重要的經濟體之一。請問：因為何人開始的政策改變，中國大陸的經濟發展？ (A)毛澤東 (B)蔣中正 (C)孫中山 (D)鄧小平。
55. (C)「由少年法院(庭)之法官以言詞指明少年的不良行為，告知少年應遵守之事項，並可要求少年寫悔過書。」上述屬於何種保護處分？ (A)安置輔導 (B)感化教育 (C)訓誡 (D)保護管束。
56. (A)《民法》中規定，請求返還借款期限之「消滅時效」，是以幾年為限？ (A)15年 (B)20年 (C)25年 (D)30年。
57. (C)新聞報導：「某知名人士疑似涉及不法活動，經檢察官偵查後提起公訴，全案目前正由臺北地方法院審理中。」對於上述訴訟案件，法院最不可能出現下列何種判決結果？〔107.會考〕 (A)處以有期徒刑 (B)宣告褫奪公權 (C)處以高額罰鍰 (D)沒收犯罪所得。
58. (C)新聞報導：「某市長與市議員涉嫌聯手貪汙1億元，經地檢署偵查終結，認為有犯罪的可能，將2人提起○○。」請問：上述○○應為下列何者？ (A)告訴 (B)自訴 (C)公訴 (D)告發。
59. (A)阿妙在某網頁上看到「免費提供民眾聲請調解」的文宣。請問：文宣中的「調解」是如何解決糾紛？ (A)由公正第三人居間協調當事人的糾紛 (B)依法定程序，請求法官作出公正的判決 (C)報警後由警方強制執行 (D)當事人約定，互相讓步，以緩和紛爭。
60. (D)附圖中這位官員所指的行政處分，下列何者屬之？(A)拘役 (B)罰金 (C)無期徒刑 (D)吊銷執照。

製油工廠的負責人將為他們的行為負起行政責任，我們將給予最嚴厲的行政處分，請民眾放心。



61. (C)小楊於段考前整理公民科重點，筆記中不小心被汗漬遮住部分內容。請問：汗漬處應填入下列何者？(A)和解 (B)調解 (C)訴願 (D)訴訟。



62. (A)刑罰除了處罰犯罪外，還希望達到下列何項目的？ (A)預防及矯正犯罪 (B)培訓模範公民 (C)維護國家形象 (D)展現政府公權力。
63. (D)阿奇是一位國中生，因家中發生重大變故，以致無法在原本的家庭繼續生活，社會局可依據下列哪一種法律的規定，將他安置於寄養家庭？〔93.第一次基測修訂〕 (A)《家庭暴力防治法》 (B)《少年事件處理法》 (C)《全民健康保險法》 (D)《兒童及少年福利與權益保障法》。
64. (A)根據新聞內容，劉姓農民的行為應是何種刑事訴訟程序？(A)告發 (B)自首 (C)公訴 (D)自訴。

焦點新聞

涉及殺警案的曾姓嫌犯逃亡山區，被一劉姓農民發現，立刻通報警局，警方於下午兩點將嫌犯緝捕到案。

65. (B)一對夫妻正在聊天，如附圖所示。他們談論的主題與下列何者最相關？(A)檢察官的審判 (B)警察的職權 (C)報案的流程 (D)刑罰目的與種類。



66. (B) 17 歲的芳如被判處接受感化教育。請問：下列何者為施行感化教育的場所？ (A) 少年之家 (B) 少年矯正學校 (C) 兒童之家 (D) 育幼院。
67. (D) 下列關於犯罪的討論，哪個人的觀念較為正確？ (A) 煜夜：刑事訴訟法主要規範犯罪的行為與類型 (B) 小魚：刑法規範犯罪的追訴及處罰犯罪的過程 (C) 無缺：僅檢察官能對犯罪嫌疑人提起刑事訴訟 (D) 艾克：檢察官不會主動調查告訴乃論的刑事案。
68. (C) 附圖中的先生無法討回租金，應是基於下列哪一項權利行使的概念？ (A) 誠實信用原則 (B) 禁止權利濫用 (C) 消滅時效 (D) 契約自由原則。



69. (A) 阿城在學校與同學吵架，回家後便透過電子郵件散播病毒，導致同學家中電腦資料均損壞。請問：阿城的行為可能觸犯何種罪行？ (A) 妨害電腦使用罪 (B) 毀損罪 (C) 妨害風化罪 (D) 妨害名譽罪。
70. (D) 某市的少年警察隊舉辦微電影創作大賽，主題為「曝險少年」，期許透過投稿影片的傳播，能預防少年偏差行為。請問：下列關於影片中未成年人的行為的描述，何者不符合主題？ (A) 文英無正當理由經常攜帶棍棒、西瓜刀 (B) 尚泰施用毒品咖啡包而尚未觸犯刑罰法律 (C) 鋼太計畫偷竊物品，準備好相關工具 (D) 朱里經常逃學、逃家，出入少年不當進入之場所。
71. (A) 小綜是個國中生，與經紀公司談好合約並簽約，不過這份合約必須得到法定代理人同意才有效，這是因為小綜在法律上屬於下列何者？ (A) 限制行為能力人 (B) 無行為能力人 (C) 受監護宣告者 (D) 完全行為能力人。
72. (C) 行政機關做出各種行政處分時，必須遵守行政法規的相關規定。人民若是違反行政法規，將會受到行政機關的制裁，並負起何種責任？ (A) 民事責任 (B) 刑事責任 (C) 行政責任 (D) 道義責任。
73. (D) 阿明今年剛滿 16 歲，犯了擄人勒贖罪，他可能面臨何種法律制裁？ (A) 感化教育 (B) 保護管束 (C) 訓誡 (D) 有期徒刑。
74. (D) 關於「民事訴訟」的敘述，下列何者正確？ (A) 此為針對犯罪行為向法院所提出的訴訟 (B) 得由檢察官進行偵查後，認為必要時向法院提起訴訟 (C) 法官會主動介入訴訟案件的調查與蒐證工作 (D) 必須由當事人主動提出，法院才會審理。
75. (A) 關於《民法》規定，下列何項行為具有法律效力？ (A) 剛滿 14 歲的阿盛領取學校發放的獎學金 (B) 剛滿 17 歲的阿倫拿零用錢買一輛機車 (C) 剛滿 5 歲的小明到文具店買文具用品 (D) 剛滿 19 歲的小香不顧父母反對去申請信用卡。
76. (D) 小黑為解說某項法律蒐集了以下案例。請問：小黑解說的是哪一法律？ (A) 《民法》 (B) 《憲法》 (C) 《憲法增修條文》 (D) 《刑法》。

☆連續縱火案件引發人心惶惶。
 ☆一高級官員竊取國防機密外洩。
 ☆女子遭前男友拘禁於住處。

77. (D) 下列四個同學正在討論《刑法》罰金與沒收的差異，其中哪一位同學的說明最為正確？ (A) 罰金必須附加於主刑科處，而沒收不需要。



(B) 罰金必須附加於從刑科處，而沒收不需要。



(C) 罰金可以單獨科處，而沒收必須附加於主刑。



(D) 罰金可以單獨科處，沒收可以單獨宣告。



78. (D) 一名網友在社群網站上詢問法律問題，下列何人的回答最正確？(A)小翊：雙方只簽名而沒有蓋章，效力不足 (B)小浩：簽約當下，必須有兩名證人在現場 (C)小湘：書面只是參考，口頭約定才是重點 (D)小瑤：成立，而且簽訂書面契約更有保障。

閒聊論壇

發問：為了防疫需要，我向廠商訂購一批口罩，雙方在買賣契約上簽名，約定好一個月後交貨，這樣是否已符合訂立契約的原則？

79. (B) 關於民事糾紛的法律責任，下列敘述何者正確？(A)對於不履行義務者，其權利仍受法律保障 (B)民事賠償以回復原狀為原則 (C)因故意或過失，侵害他人權利的行為，屬於契約不履行 (D)傷害他人身體健康不屬於侵權行為。
80. (D) 依照《兒童及少年福利與權益保障法》規定，父母、監護人對兒少應負保護的責任，若是父母、監護人未善盡職責，可能會受到什麼處罰？(甲)罰鍰(乙)沒收(丙)親職教育輔導(丁)褫奪公權 (A)甲乙 (B)乙丙 (C)甲丁 (D)甲丙。