

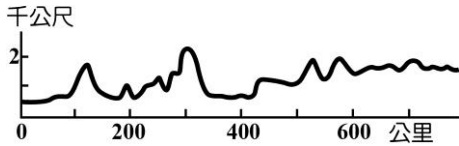
# 台中市立三光國中109學年度 七年級 社會科 補考題庫

## 範圍：第一冊

### 一、選擇

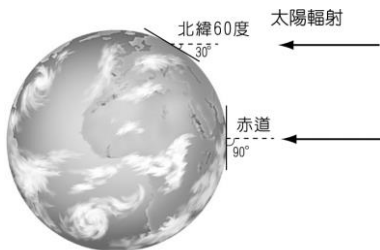
- (D) 臺灣面積雖小，但地形卻十分複雜。臺灣島的地形主體，不包括下列何種地形？ (A)山地 (B)台地 (C)盆地 (D)高原。
- (A) 地圖上的方位通常是以英文來標示。請問：哪個英文字母代表的是北方？ (A)「N」 (B)「E」 (C)「W」 (D)「S」。
- (A) 河川在不同河段的水量不一，一般而言，河川水量以哪個河段最多？ (A)下游 (B)中游 (C)上游 (D)源流。
- (D) 附表為世界前四大島嶼的面積資料，若統一使用 B4 大小的紙張繪製各島嶼的地圖，則繪製哪座島嶼所使用的比例尺最大？ (A)格陵蘭島 (B)新幾內亞島 (C)婆羅洲 (D)馬達加斯加島。

排名	名稱	面積 (平方公里)
1	格陵蘭島	2,130,800
2	新幾內亞島	785,753
3	婆羅洲	748,168
4	馬達加斯加島	587,713

- (D) 改變地表形貌的力量，主要可以分為外營力與內營力兩種。所謂內營力是指地球內部的熱力作用，下列何者即屬於內營力的作用？ (A)冰河侵蝕 (B)風力侵蝕 (C)河流堆積 (D)板塊擠壓。
  - (C) 地球的氣候帶若從低緯至高緯，依序為何？ (A)溫帶→熱帶→寒帶 (B)溫帶→寒帶→熱帶 (C)熱帶→溫帶→寒帶 (D)熱帶→寒帶→溫帶。
  - (B) 四面環海的臺灣共有 35 座燈塔，其中透過極東(三貂角)、極西(國聖)、極南(鵝鑾鼻)、極北(富貴角)四座燈塔，可描繪出臺灣的基本輪廓。請問：哪一座燈塔附近最容易看見沙洲地形？ (A)三貂角燈塔 (B)國聖燈塔 (C)鵝鑾鼻燈塔 (D)富貴角燈塔。
  - (D) 小丸子在圖書館查詢地形表示方法的相關資料，附圖就是其中一種，請問這屬於何種地形的表示方法？ (A)航空照片 (B)衛星影像 (C)分層設色圖 (D)地形剖面圖。
- 
- (B) 山地或丘陵直接與海洋相臨所形成的岩石海岸，稱為何者？ (A)沙岸 (B)岩岸 (C)泥岸 (D)礫岸。
  - (D) 「明峰坐在阿楊的南方，曉琪坐在阿楊的東北方，小寶坐在阿楊的西方。」這句敘述中，主要是以何者作為相對位置的基準？ (A)明峰 (B)曉琪 (C)小寶 (D)阿楊。
  - (B) 阿明：「這張寶藏圖上看起來有很多寶藏呢！」  
阿美：「你怎麼確定這個標示是寶藏呢？有可能其實是地雷呢！」  
根據上述對話，他們的寶藏圖在哪一個部分標示不夠明確？ (A)圖名 (B)圖例 (C)方向標 (D)比例尺。
  - (D) 下列哪個地區的降水量主要集中在夏季，有明顯的乾溼季之分？ (A)臺北 (B)基隆 (C)宜蘭 (D)屏東。
  - (A) (甲)東半球和西半球 (乙)北半球和南半球。上述甲、乙的劃分，主要是依據下列何者？ (A)甲——本初經線；乙——赤道 (B)甲——赤道；乙——本初經線 (C)甲——北回歸線；乙——南回歸線 (D)甲——南回歸線；乙——赤道。
  - (D) 聖誕節時，芬蘭的居民穿著厚重大衣，與澳洲的居民穿著短袖裝扮大不相同，與下列何者最有關係？ (A)地形 (B)地球由西向東轉 (C)經度不同 (D)地軸傾斜。
  - (B) 地圖上的網格與經緯線，可以提供我們何項地理資訊？ (A)地形 (B)位置 (C)行政區劃

(D)人口。

16. (A) 關於南、北半球季節差異之相關概念，何者敘述正確？ (A) 每年 3~9 月太陽直射北半球，北半球炎熱 (B) 每年 3~9 月太陽直射南半球，南半球炎熱 (C) 太陽直射範圍赤道~北回歸線之間 (D) 南北半球季節相同。
17. (C) 臺灣屬季風氣候區，冬季多東北風。請問：下列何者為臺灣冬季的季風風向？ (A) ↘ (B) ↗ (C) ↙ (D) ↖。
18. (A) 小美的地理老師要求大家在上完第一課時，在一張 B4 紙畫出該校的校園地圖。小美的學校為長度 300 公尺，寬度 150 公尺的長方形校園，如果要最符合 B4 紙(353×250 mm)的規格，小美繪製地圖時的比例尺應該採取多少最為適宜？ (A) 1:1,000 (B) 1:3,000 (C) 1:500 (D) 1:10,000。
19. (D) 小明翻閱爸爸媽媽以前出遊的照片，發現其中有一張照片，爸爸媽媽站在奇特的柱狀石壁前，笑得非常開心，照片背面寫著「玄武岩前合影留念，西元 2001 年夏天。」請問：爸爸媽媽應該是到哪裡出遊？ (A) 琉球嶼 (B) 蘭嶼 (C) 金門烈嶼 (D) 澎湖群島。
20. (D) 四面環海的臺灣共有 35 座燈塔，其中臺灣四極點的燈塔分別位於三貂角、尖仔尾、鵝鑾鼻與富貴角。小康打算利用跨年假期騎腳踏車環島一周，請問在新年倒數的前夕，他應該要到四個極點之中的何處，才能最快迎接第一道曙光臺灣的國際電話的到來？ (A) 尖仔尾 (B) 鵝鑾鼻 (C) 富貴角 (D) 三貂角。
21. (B) 寒假期間，城城一家人從臺北出發到高雄遊玩，出發時，因天氣寒冷飄雨，故穿上保暖衣物及攜帶雨具；但到了高雄之後，當地艷陽高照、涼爽舒適，使他們紛紛脫下身上禦寒的衣物。請問：城城到高雄後，天氣為何會有如此的改變？  
(A) 臺北氣壓較高雄高，冷空氣籠罩上空  
(B) 高雄較臺北緯度低，氣溫會較臺北高  
(C) 高雄面迎冬季季風，氣候較舒適宜人  
(D) 臺北屬於盆地地形，水氣較容易聚集。
22. (C) 颱風來襲造成的山崩、土石流等現象，常使得山區道路及橋梁柔腸寸斷，故工程人員在施工進行時，希望盡可能避免此災害情形的發生，則在進行山區道路與橋梁規畫時，最應重視地圖上哪項要素的評估？ (A) 圖例 (B) 座標 (C) 等高線 (D) 比例尺。
23. (C) 下圖為緯度和太陽照射角度的關係圖，此圖顯示出下列哪種現象？ (A) 高度愈高，氣溫愈低 (B) 緯度愈高，降水愈多 (C) 緯度愈高，氣溫愈低 (D) 高度愈高，氣壓愈低。



24. (C) 地理老師正在黑板上講解臺灣的降雨特色，並繪製附圖讓同學了解降水的成因。請問：這種降水類型最可能出現在下列哪個日期？ (A) 2 月 16 日 (B) 4 月 25 日 (C) 7 月 30 日 (D) 11 月 4 日。



25. (D) 阿呆利用暑假騎自行車走遍全臺灣，某日他經過一個南北狹長的平原區，左右兩側皆為高山，他知道其中一座山脈是臺灣的脊梁。由地形判斷，他應該是位於哪個地形區？ (A)

嘉南平原 (B)臺中盆地 (C)蘭陽平原 (D)花東縱谷平原。

26. (C) 大雄想繪製一張日本富士山的地形剖面圖，他需要哪種資料的輔助，才能正確繪製出富士山的地形起伏情形？ (A)航空照片 (B)立體地形圖 (C)等高線地形圖 (D)衛星雲圖。
27. (D) 三年忠班教室後方貼有四張 A3 大小的地圖。請問：哪張地圖的比例尺最小？ (A)木柵區街道圖 (B)高雄市景點圖 (C)臺灣縣市圖 (D)世界行政區圖。
28. (D) 時人常笑稱「中華民國萬萬稅」，但追溯歷史，荷蘭在臺時期便已經開始對漢人以各種名義課徵稅收，諸如七歲以上漢人移民皆需繳交的人頭稅，或是買賣房子時要繳交稅率 10% 的房屋交易稅等。這些稅收繁雜，對來臺開墾的漢人移民來說是沉重負擔，於是他們紛紛起而反抗，尤其以郭懷一所領導的抗荷事件規模最大。請問：該悲劇發生於何年何地？ (A)西元 1624 年，安平 (B)西元 1626 年，淡水 (C)西元 1642 年，雞籠 (D)西元 1652 年，赤崁。
29. (D) 西元 1644 年，李自成攻陷北京，隨後滿清入關，鄭成功以何地為根據地大舉北伐，繼續抗清？ (A)上海、杭州 (B)寧波、杭州 (C)福州、廈門 (D)金門、廈門。
30. (A) 臺灣開港通商後，一位蘇格蘭籍人士隨即以基督長老教會傳教士與醫生的雙重身分前往臺南府城傳教。他傳道的方式以行醫為主，傳教為輔。請問：這位傳教士應為下列何者？ (A)馬雅各 (B)馬偕 (C)韋麻郎 (D)郭懷一。
31. (D) 「新港文字」是以羅馬文字拼注平埔族的語言而創立的文字。創立該文字的人是何者？ (A)西班牙人 (B)葡萄牙人 (C)日本人 (D)荷蘭人。
32. (B) 清帝國時期，促使臺灣政經的重心北移，其最主要的原因為何？ (A)稅收增加，有助於臺灣發展近代化 (B)北部茶、樟腦業的貿易額超越南部 (C)糖業的發展為臺灣賺取許多外匯 (D)全臺經濟重心向來偏重南部所致。
33. (C) 信元選擇「吳沙」作為歷史報告的主題，而且打算實地考察。請問：信元最可能選擇下列哪種行程？ (A)到屏東研究農作 (B)到澎湖考察古蹟 (C)到宜蘭探訪耆老 (D)到高雄參觀水圳。
34. (C) 統治者採取「為防臺而治臺」政策，使得駐臺的官兵經常輪調，甚至不許百姓興築城牆，種種的規定，都是為了防範變亂再起。上述情況最有可能是下列哪個時期的史事？ (A)荷蘭人占領臺灣時期 (B)鄭氏經營臺灣時期 (C)清帝國統治初期 (D)十九世紀中期臺灣開港通商後。
35. (C) 關於附圖中歷史人物的事蹟，以下敘述何者有誤？ (A)曾以金門、廈門一帶作為據點 (B)繼承父親的商貿基礎，擴大海上武裝軍隊 (C)從基隆港登陸攻取臺灣以便長期作戰 (D)曾受封為國姓爺，力圖反清復明。

去向紅毛番說，如果不想被我軍攻擊就投降吧！本王允許他們居住，做生意，並安全的回到巴達維亞城！



36. (B) 十七世紀，澎湖曾短暫被荷蘭人占領，臺灣南、北部也先後為荷蘭人和西班牙人占領，作為貿易及傳教的中心。請問：荷蘭與西班牙占領臺灣，是因為臺灣哪一項優越的條件所致？ (A)物產 (B)位置 (C)氣候 (D)地形。
37. (D) 荷蘭人占領、統治臺灣有三十餘年的時間，最後在西元 1662 年被何人擊敗才退出臺灣？ (A)

韋麻郎 (B)沈有容 (C)郭懷一 (D)鄭成功。

38. (B) 清帝國時期，臺灣的原住民被統治者分為「生番」和「熟番」，這種分類方法是根據下列何者？ (A)主要居住地區的分布 (B)是否有納稅、服勞役 (C)移民來臺時間的早晚 (D)經濟活動的差異。
39. (D) 史家對於清帝國時期感興趣的探究主題之一，即是漢人的移入。請問：下列關於清帝國時期漢人移民來臺的敘述，何者正確？ (A)大多來自福建、廣西省 (B)清朝全面開放漢人渡臺 (C)漢人來臺大都從事礦業 (D)漢人來臺較少居住東部。
40. (D) 「南島語族」是指語言為南島語系的民族。請問「南島語族」不包含以下何處的居民？ (A)臺灣 (B)馬來西亞 (C)馬達加斯加 (D)日本。
41. (B) 依附圖的引文判斷，這位靖海侯即為何人？ (A)沈有容 (B)施琅 (C)顏思齊 (D)鄭成功。

西元 1683 年 6 月，他指揮清軍水師在海戰中大勝鄭氏水師，使在臺的鄭氏統治者率臣民降清，他也因功授靖海將軍，並封靖海侯。

42. (D) 十四世紀時，明朝政府鑑於中國大陸東南沿海多禍患，為維持治安，鞏固政權，拒絕外國商賈來航，甚至禁止人民出海活動，更進一步將澎湖漢人遷回福建。明朝政府的這項舉動所要防範的主要為下列何者？ (A)荷蘭人 (B)西班牙人 (C)日本人 (D)海盜。
43. (C) 平埔族、卑南族和阿美族居住在平原地區，經濟活動除了狩獵、漁撈之外，也從事農耕活動。下列何者是他們傳統的主要作物？ (A)水稻 (B)小麥 (C)小米 (D)高粱。
44. (D) 清帝國治理初期，臺灣西部平原從鹿場變成穀倉，臺產的稻米供福建內地之用，臺灣因此淡出亞洲貿易網絡，轉型為大清帝國國內沿海經濟中的一環。請問：上述時期，經營兩岸的商業組織為下列何者？ (A)海商集團 (B)買辦 (C)洋行 (D)郊商。
45. (A) 清初曾頒布海禁政策，並將沿海省分的民眾遷往內陸，直至康熙年間又開放海禁，沿海居民出海者日多。請問：海禁的實施與解除分別與何者有關？ (A)封鎖鄭氏政權、攻克臺灣 (B)防範海盜、攻克臺灣 (C)防範海盜、開港通商 (D)鎖國政策、開港通商。
46. (A) 清帝國時期，沈葆楨對臺灣有諸多建設，其中哪一項對臺灣東部的開發影響最大？ (A)開發北、中、南三條聯絡東部道路 (B)在東部設立炮臺，防禦外敵入侵 (C)設立恆春縣，方便管理原住民 (D)實施劃界封山，禁止漢人侵入番界開墾。
47. (B) (甲)鄭成功圍攻荷蘭人 (乙)海商在澎湖、臺灣活動 (丙)荷蘭人占領臺灣南部 (丁)鄭芝龍降清。根據臺灣歷史的發展，上列史事的排列順序應該為何？ (A)甲丁丙乙 (B)乙丙丁甲 (C)乙丁丙甲 (D)丙乙甲丁。
48. (D) 一場英法聯軍，打亂了臺灣原本的步調，開港通商更讓臺灣經濟加速轉型。有關英法聯軍對臺灣的影響，下列何者正確？ (A)清廷將臺灣提升為省級行政區，開始加強統治 (B)英法聯軍之後，基督教傳入臺灣，傳教士開始研發新港文，向原住民傳教 (C)英法聯軍之後，清廷對臺灣實施海禁政策，外國勢力不得進入臺灣 (D)英法聯軍之後，臺灣的強勢出口產品變成茶、糖、樟腦。
49. (B) 清帝國時期因為貿易量的增加，臺灣開始有「三大港口」名稱的出現。請問：以下何者不包含在三大港之內？ (A)臺南 (B)淡水 (C)鹿港 (D)艋舺。
50. (C) 臺灣歷史上有一段時期，島內的最高統治者被稱為「駐臺長官」，其經濟的治理方針，是將臺灣發展成國際貿易轉運站。為了便於管理原住民部落，他們透過部落長老維持秩序。請問：這個時期的臺灣，最高統治者是哪國人？ (A)葡萄牙人 (B)西班牙人 (C)荷蘭人 (D)日本人。
51. (A) 十七世紀時，荷蘭的商隊曾想占領澎湖作為商業根據地，最後卻被何人所逼退？ (A)沈有容 (B)鄭芝龍 (C)鄭成功 (D)顏思齊。
52. (B) 夢夢正在整理歷史重點，她寫下兩個重點，如附圖所示。依重點內容判斷，這個歷史主題

為何？ (A)唐山祖在臺灣的發展 (B)清帝國時期的行郊組織 (C)鄭氏政權時期的貿易政策 (D)荷蘭聯合東印度公司的貿易活動。



53. (D) 祺祺身為霧峰林家後代，卻不知道家族曾協助清廷平定清代臺灣歷時最久的抗官事件，長輩會怎麼向祺祺說明這段關於家族的歷史？ (A)此次事件起事者為朱一貴，歷時三年多才平定亂事 (B)當時亂事遍布全臺，幸好林家奮力抵抗 (C)林家人率眾與抗官群眾多次激戰，終於在康熙 60 年平定亂事 (D)霧峰林家因平亂有功，一躍而成為中臺灣最有勢力的家族。
54. (D) 思涵規畫在暑假時前往臺灣花東地區旅遊，除了欣賞美麗風景，也安排史前文化的實地體驗活動，下列哪些文化遺址是參觀的重點？ (甲)圓山 (乙)十三行 (丙)長濱 (丁)卑南 (A)甲乙 (B)甲丁 (C)乙丙 (D)丙丁。
55. (A) 一樁 15 歲中學生持假槍指著教師的社會新聞，在法國再度引起民眾對校園暴力問題的關注。校園暴力事件在我國也層出不窮，讓學生家長憂心不已。對此，教育當局應強化下列哪項政策的執行成效？ (A)校園安全 (B)環境教育 (C)學生自治 (D)零體罰。
56. (C) 以下是宜辰和同學關於家庭生活的對話，根據對話內容判斷，哪位同學的家庭較具有平權觀念？ (A)宜辰 (B)佩臻 (C)綠蕪 (D)傅恆。

◆宜辰：妹妹常沒經過我同意就將我的衣服拿去穿，感覺很不舒服！

◆佩臻：我弟弟認為，家事是女生的事，他是男生不需要做家事。

◆綠蕪：我家是爸爸負責煮飯，媽媽負責洗碗善後，我則負責倒垃圾。

◆傅恆：我爸覺得時代不同了，家事應由男生一肩扛起。

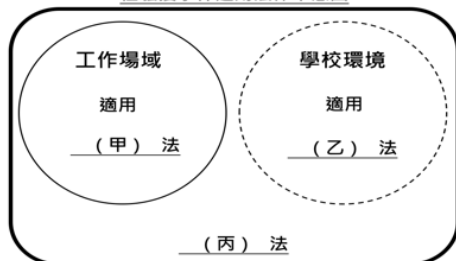
57. (A) 從臺南市白河區的蓮花節、鹽水區的蜂炮，以及新北市平溪區的放天燈活動來看，可展現出下列何種意義？ (A)表現地方文物特色 (B)政府統籌分配公共事務的能力 (C)表現人民的創造力 (D)彌補國家資源的不足。
58. (C) 以下四位同學應老師要求，發表自己的讀書方法——

小波：我能做到課前預習、課後複習的工夫。  
 迪西：老師上課的重點，我都能記錄下來。  
 拉拉：所有科目我都一字不漏的把課文背下來。  
 丁丁：我會利用下課時間與老師討論問題。

根據內容判斷，哪位同學的讀書方法不正確？ (A)小波 (B)迪西 (C)拉拉 (D)丁丁。

59. (D) 美國喬治亞州州法規定，學生一學年中，如有 5 天未經請假而無故缺席，其父母、監護人或相關看顧人就算觸法。法官可酌情裁處 25 美元以上、100 美元以下的罰款，30 天以內的拘役、勞役，或是合併處分。請問：此作法強調家庭的何項功能？ (A)經濟 (B)保護與照顧 (C)生育 (D)教育。
60. (A) 阿宸到各親戚家拜年，其中一位親戚是姐姐的二哥的舅舅的母親，請問：在《民法》上，這位親戚與阿宸是下列何種親屬關係？ (A)直系血親 (B)旁系血親 (C)法定血親 (D)沒有關係。
61. (C) 古時候因戰亂頻仍，許多人不得已而顛沛流離，當四散的江西人相遇時論起上一代的淵源，意外發現彼此有表親關係，於是產生了「江西老表」一詞。請問：根據我國目前的法律規定，表哥與表妹屬於何種親屬關係？ (A)直系血親 (B)姻親 (C)旁系血親 (D)法定血親。
62. (A) 當自己或身邊的親友遭遇家庭暴力的威脅時，必須及時做出合適的處置，方能避免更嚴重的後果。申請「保護令」是避免傷害最具體的方式之一。關於保護令的核發權責，以下敘述何者正確？ (A)由地方法院核發 (B)由地區警察局核發 (C)由社會局核發 (D)由家庭暴力暨性侵害防治中心核發。
63. (B) 正偉的爸爸和媽媽為了慶祝結婚二十週年紀念，決定來一趟峇里島全家福之旅。爸爸和媽媽之間是屬於何種親屬關係？ (A)姻親 (B)配偶 (C)法定血親 (D)自然血親。
64. (D) 南投縣埔里鎮桃米社區打造出以豐富的自然生態聞名的「桃米生態村」。這是用何種方法來追求社區的永續發展？ (A)學校教育 (B)社區大學 (C)古蹟維護 (D)環境生態。
65. (B) 現今是大數據與人工智慧的時代，據專家預測，以後將有愈來愈多人再怎麼工作也無法溫飽。西元 2017 年，芬蘭政府推出「全民基本收入」的試運行：定期定額的現金給付，無條件的發給所有合法居民，無需審查有多少資產，也不強制工作，讓人民維持最低的生活保障。這種新穎的想法，是為了下列哪個目的？ (A)維持經濟成長 (B)維護人性尊嚴 (C)調和人際互動 (D)促進產業升級。
66. (B) 右圖是公民老師在上課時，說明性騷擾事件適用法源的簡報。請問：下列敘述何者正確？ (A)甲應該填入《性騷擾防治法》 (B)乙應該填入《性別平等教育法》 (C)丙應該填入《性別工作平等法》 (D)若是在校園內發生性騷擾事件，不應撥打 113 求助。

性騷擾事件適用法律示意圖



67. (C) 電影「超人特攻隊 2」裡強調女力萬歲！超能先生在家裡學習當一個家庭主夫，彈力女超人成為打頭陣的超級英雄。請問：此一電影情節安排落實了何種理念？ (A)性騷擾的防治 (B)性別平等的革除 (C)性別刻板印象的破除 (D)生理性別與社會性別的整合。
68. (B) 下列哪項法律制定的目的，是要促使兩性在職場的地位更趨平等？ (A)《性騷擾防治法》

(B)《性別工作平等法》 (C)《性別平等教育法》 (D)《民法》。

69. (C) 為了生態保育，政府嚴禁民眾隨意狩獵，但依照《野生動物保育法》第 21-1 條，臺灣原住民族基於傳統文化、祭儀，得以獵捕、宰殺或利用野生動物。請問：關於此規定的敘述，下列何者正確？ (A)人類文化傳承凌駕於生態保育之上 (B)政府開放給原住民族狩獵，卻對一般民眾嚴禁，是法律的不公平 (C)代表政府尊重原住民族傳統狩獵文化 (D)法律這樣規範是因為過去原住民族多在山林濫捕濫殺。
70. (B) 媒體報導某知名大學男大生對前幾任女友暴力相向、軟禁甚至性侵對方等，女方向校方反應，校方回應表示已啟動性平會並展開調查。請問：校方組成性平會所依法源應為下列何者？ (A)《民法》 (B)《性別平等教育法》 (C)《性別工作平等法》 (D)《性騷擾防治法》。
71. (D) 在家庭中，只憑藉著父母親的努力，並不足以維持一個幸福快樂的家庭。身為子女的我們，應該怎麼做，才能幫助家庭和樂融融？ (A)大人的煩惱，與我們無關，所以不要過問 (B)專心的把書念好，其他的事情都不要做 (C)為了增加家庭收入，放學後應多打工 (D)對家人多多關心，彼此多協助、體諒。
72. (A) 新聞報導：「行政院研議採用補貼與減稅並行的政策，為國人『催生』。因此，財政部正在研擬可行的減稅方案。」依此判斷，上述措施最有可能改善下列哪項問題？ (A)出生率下降 (B)離婚率上升 (C)老年人口增加 (D)家庭暴力頻傳。
73. (B) 吾郎讀幼稚園時，父親因為工作出意外而往生。到了小學五年級時，吾郎的母親帶著吾郎改嫁給英毅。這三人成立的家庭屬於下列哪種家庭生活模式？ (A)隔代教養家庭 (B)重組家庭 (C)兩地家庭 (D)單親家庭。
74. (C) 老陳兩兄弟在年長後決定攜手共創事業，以維繫基本生活，兩兄弟的配偶也義無反顧投入經營行列，兩兄弟的配偶之間的關係為何？ (A)連襟 (B)血親 (C)妯娌 (D)無關係。
75. (B) 小明進入國中階段，對於未來的規畫有了更多的期待。下列何種方法，可以幫助他達到「認識自我」的目標？ (A)假日與同學相約逛街吃美食 (B)毛遂自薦，主動擔任班級幹部職位 (C)熬夜玩線上手機遊戲，只想著如何突破關卡 (D)沉迷於交友網站，花大量時間和
76. (B) 班會進行中，若發生得提出「權宜問題」或「秩序問題」的情況時，根據《會議規範》的規定，同學應該向下列何人提出？ (A)導師 (B)主席 (C)司儀 (D)紀錄。
77. (B) 性別刻板印象造成了性別不平等，下列相關敘述何者正確？ (A)應該以「性別」來判定一個人的成就 (B)應回歸「個人」的本質 (C)受害者都是女性，男性則完全不受影響 (D)不同性別各有專屬的工作項目，應該在自己的崗位上好好努力。
78. (C) 酒駕常造成嚴重的傷害，政府因而制定法律，懲罰酒測值超過標準的駕駛。請問：下列敘述何者錯誤？ (A)政府透過法律來保障用路人的生命完整 (B)限制喝酒駕駛人的用路權益是為了保護其他民眾的人權 (C)酒後是否開車上路是駕駛的自我決定權，必須受到保障 (D)國家透過法律保障人權，但也必須從人性尊嚴角度來考量是否傷害人權。
79. (A) 來自屏東鄉下的吳寶春，小時候討厭上學，因為不知道求學的意義何在。國中畢業後北上當麵包學徒時，認識的國字不到五百個，一斤等於十六兩都搞不清楚！這時他才發現學習的重要性，開始持續、跨領域的學習，終於在世界麵包大師比賽獲得冠軍。請問：在他的自我發展歷程中，下列敘述何者錯誤？ (A)他是受到學校課程的啟發，而找尋到自己的目標 (B)學習的重要性不應只存在於就學階段 (C)當學徒的生活，讓他深感自己的不足而虛心學習 (D)立定目標後他找到自己的定位，得以發揮所長。
80. (C) 對學生而言，學校生活最重要的事莫過於下列何者？(甲)課業學習 (乙)敦親睦鄰 (丙)參加補習 (丁)人際關係 (A)甲乙 (B)甲丙 (C)甲丁 (D)乙丙。