

臺中市立至善國中八年級第二學期社會科補考題庫

班級：

座號：

姓名

- () 1 西亞某國位於主要斷層線上，地震頻繁，1999 年該國西北部發生強烈強震，當時約有 1 萬 8000 人罹難。2023 年 2 月，該國中南部發生 7.8 級主震，在主震發生後 20 分鐘內，再發生分別 6.7 級和 5.6 級強烈餘震，造成嚴重死傷。根據西亞的地理環境判斷，該國為下列哪個國家？

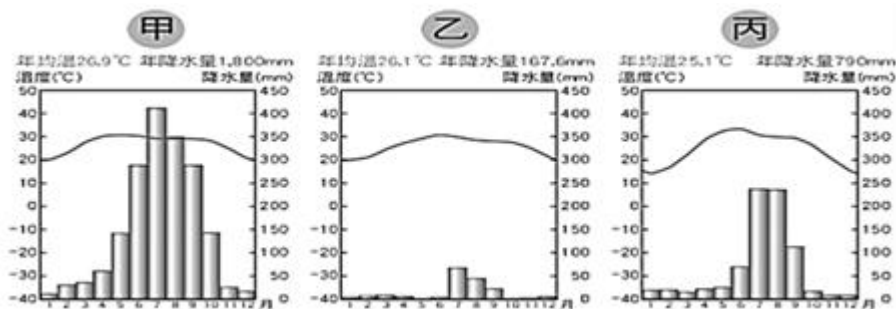
(A)伊拉克 (B)土耳其 (C)以色列 (D)沙烏地阿拉伯

- () 2. 非洲綠色長城（英語：Great Green Wall），具體做法為種植跨越非洲大陸的樹牆，選用的物種大多為當地的植物，可適應當地年雨量僅 100 至 400 毫米的氣候。如右圖所示，深黑色部分就是綠色長城計畫的分布位置，從分布位置可知，綠色長城主要圍繞哪一個地區呢？



(A)伊朗高原 (B)撒哈拉沙漠
(C)美索不達米亞平原 (D)安納托利亞高原

- () 3. 下圖是印度大平原上三個都市的氣候圖，若依據其位置「由西向東」排列，應為下列何種順序？



(A)甲乙丙 (B)甲丙乙 (C)乙丙甲 (D)乙甲丙

- () 4. 下表甲~丁分別是南亞人口前四大國家:印度、巴基斯坦、孟加拉、斯里蘭卡(未按順序)的基本資料表，根據表格資料判斷，A 最可能是何種宗教？

| 國家 | 項目 | 人口數 | 國土面積 | A 宗教 | B 宗教 |
|----|----|---------|----------|------|------|
| | | 單位：萬人 | 單位：萬平方公里 | | 單位：% |
| 甲國 | | 2,191 | 6.6 | 15.0 | 5.0 |
| 乙國 | | 16,468 | 14.8 | 8.5 | 90.5 |
| 丙國 | | 138,000 | 316.6 | 80.0 | 14.0 |
| 丁國 | | 22,089 | 88.2 | 1.5 | 97.0 |

(A)佛教 (B)印度教 (C)天主教 (D)伊斯蘭教

- () 5. 印度是新興經濟體中成長最快速的國家，究其原因，除了擁有廣大的消費市場與實施經濟改革之外，更重要的是印度政府對其科技發展向來十分重視，也十分重視科學數理工程教育，也因此吸引下列何種產業的外國企業前往投資？

(A)電話客服產業 (B)紡織成衣產業 (C)軟體設計產業 (D)熱帶栽培產業

- () 6. 雨林聯盟 (Rainforest Alliance, RFA) 為非營利組織，宗旨是減緩熱帶雨林的消失，透過協助農場與產銷管理、認證生產過程符合標準的產品，達到保護環境與生產者的利益，目前輔導的作物除了可可外，有約 20 多種種植在熱帶雨林的作物，請問：下列何者最可能是認證的作物之一？

(A)小麥 (B)葡萄 (C)棉花 (D)咖啡

- () 7. 19 世紀末，歐洲殖民者不顧非洲民族的複雜情況、聚居區域和傳統界線，強行瓜分非洲，各自劃定勢力範圍，且劃分時為求便利，多按經緯線劃出不同區塊制定成邊界線，造成很多國家的界線接近直線。請問：這種劃分邊界線的方式，容易導致下列哪一問題發生？

(A)栽種單一經濟作物風險大 (B)削弱非洲當地生產力
(C)不同族群因政治與利益分配時有紛爭 (D)破壞當地自然環境

() 8. 地理老師預計明年七月前往南非洲，遊歷的路線順序為右圖中丁—甲—乙—丙，請問：地理老師依序看見的景觀何者正確？



- (A) 乾燥炎熱的葡萄園—生氣蓬勃的莽原—荒涼沙漠—熱帶雨林
- (B) 乾燥炎熱的葡萄園—了無生氣的莽原—熱帶雨林—荒涼沙漠
- (C) 陰雨綿綿的葡萄園—荒涼沙漠—生氣蓬勃的莽原—熱帶雨林
- (D) 陰雨綿綿的葡萄園—荒涼沙漠—了無生氣的莽原—熱帶雨林

() 9. 下圖是西非各國最大都市的分布圖，此分布與殖民時期發展出的經濟特色相關。下列哪一地區多數國家的最大都市，其發展歷程與分布特色與西非最為相似？



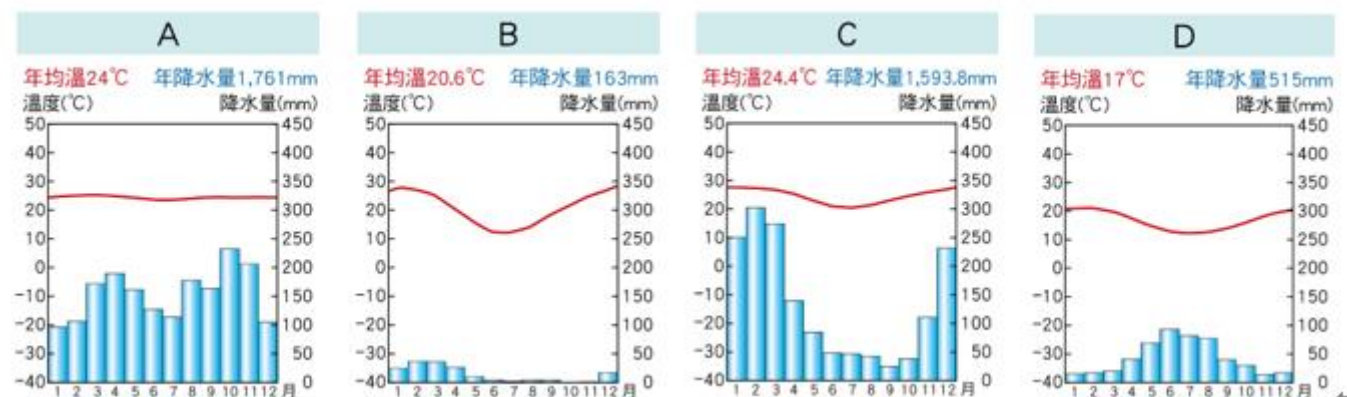
- (A) 東北亞 (B) 東南亞 (C) 西亞 (D) 中亞

() 10. 地理老師上課要同學做一份國家的地理報告，同學上網查詢某國家的資料，下表是他整理出來該國家的各項簡介，請根據表中內容，他所報告的國家是下列何者？


- (A) 埃及 (B) 土耳其 (C) 以色列 (D) 伊拉克

| | |
|------|------------------------------------|
| 項目 | 特徵 |
| 位置 | 西臨地中海 |
| 氣候 | 北部雨量較多的溫帶地中海型氣候 南部雨量較少的熱帶乾燥氣候 |
| 族群 | 74.2% 猶太裔 · 20.9% 阿拉伯裔 · 4.8% 其他族裔 |
| 主要語言 | 希伯來語 |

() 11. 「每年6~9月乾季，賽倫蓋提國家公園中數百萬頭的牛羚往北邊前進，至草量較多的馬賽馬拉國家公園。到了11月雨季牛羚再南返回到自己家園。」請問：上述動物遷徙景觀與當地哪一種氣候類型有關？

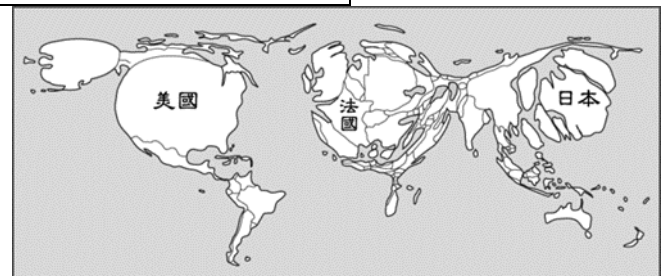


() 12. 許多人到國外旅行，習慣攜帶一些臺灣的泡麵食品，可以節省餐費，又可以化解鄉愁。但是，到沙烏地阿拉伯遊玩，要遵守當地的宗教信仰，由於宗教規定，因此該國嚴禁旅客攜帶違規教義的物品入境，若是帶了違反限制規定的物品，有可能會被原機遣返。請問，以下哪個食品，光從名稱就知道違反限制規定，若被查獲，很有可能會敗興而歸呢？



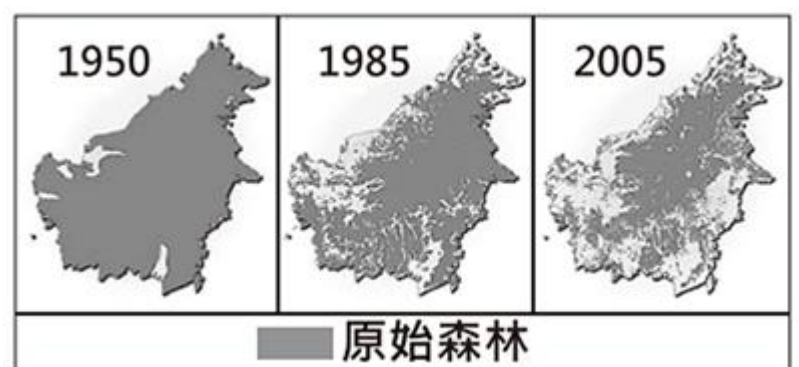


- () 13. 右圖是世界銀行根據各國 GDP 資料所繪製的地圖。GDP 愈高的國家，在圖中的面積就會愈大；反之，則面積就會愈小。由該圖判斷，下列四個地區中，何者的 GDP 最低？
 (A) 南亞 (B) 西非 (C) 西歐 (D) 東南亞



- () 14. 「在布吉納法索的南部，博博人 (Bobo) 善於製作片狀面具，在乾季、播種季節、喪禮等特殊日子裡，舞者戴著面具，身穿蓑衣，表演著充滿活力的舞蹈。這裡的人們將面具視為一種與自然『溝通』媒介，在人類與超自然相遇時，面具扮演通靈的角色」請問：上述中的信仰文化具有哪一特色？
 (A) 面具創作曾在殖民時期受到西方野獸派影響 (B) 生產技術進步，時常舉辦慶典
 (C) 反映人定勝天的意志力 (D) 相信萬物有靈論，形滅靈魂不滅
- () 15. 根據 2019 年資料統計，全世界估計有近 6.9 億人面臨食物不足處於飢餓狀態，其中非洲有超過 2.5 億人且數量增長速度快於世界其他地區。分析其中原因可能有 (甲) 內戰頻繁 (乙) 乾旱問題 (丙) 糧食作物種植空間不足 (丁) 童工問題嚴重。請問：非洲食物不足導致饑荒問題是因為上述哪些原因造成？
 (A) 甲乙丙 (B) 甲乙丁 (C) 乙丙丁 (D) 甲丙丁
- () 16. 印度及巴基斯坦部分地區去年(2022)遭到極端熱浪侵襲，氣溫創下 122 年以來新高，印度部分地區的氣溫更超過攝氏 60 度，根據內容判斷，印度及巴基斯坦遭受此現象時，最有可能是幾月份的新聞消息？
 (A) 2 月 (B) 5 月 (C) 8 月 (D) 10 月

- () 17. 森林的消失受各種不同的自然及人為因素影響，大規模種植作物為重要的因素之一。東南亞婆羅洲島分屬印尼、馬來西亞、汶萊三國，右圖為某國際組織運用衛星影像資料，繪製婆羅洲島自 1950~2005 年原始森林不同時期面積的變化。圖中森林面積的變化最可能反映何種作物的大量種植？
 (A) 小麥 (B) 茶葉
 (C) 黃麻 (D) 油棕



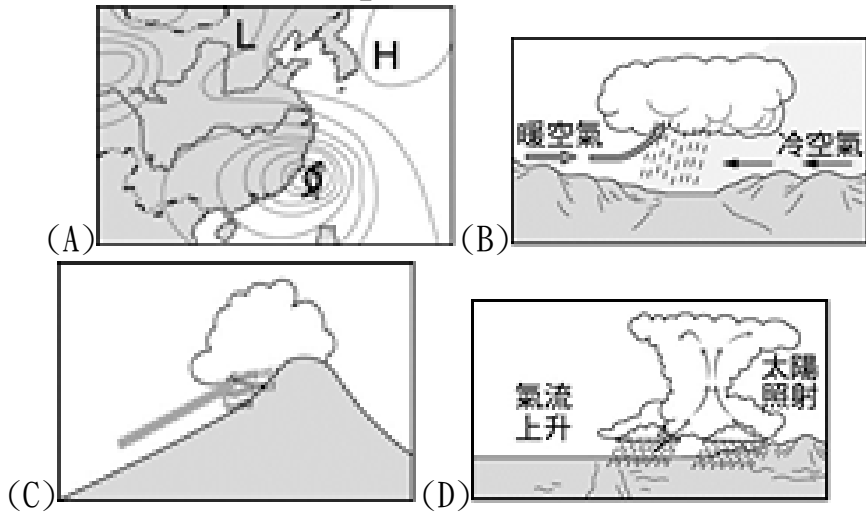
- () 18. 某國更因運河而增加許多外匯收入，曾多次發行運河紀念郵票(如右圖 9)，請問上列郵票最可能是何國發行的？
 (A) 埃及
 (B) 以色列
 (C) 敘利亞
 (D) 沙烏地阿拉伯



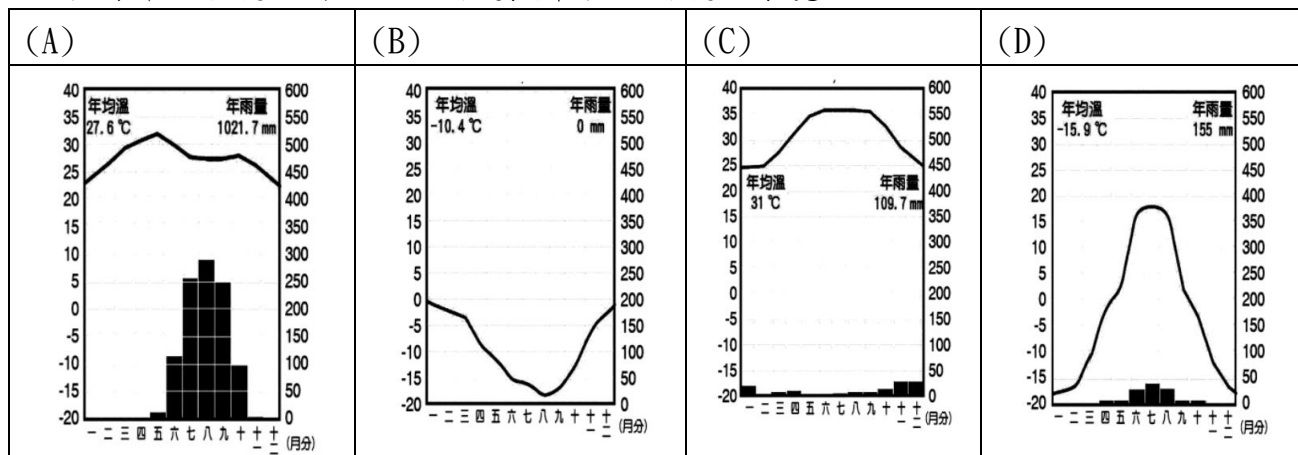
【圖 9】

- () 19. 「距離台灣 3600 多公里外的南亞，有一個不起眼的小鎮—乞拉朋吉。因環境得天獨厚而有個浪漫的名字—雨極之地。終年浸淫在雲居深處，豐沛雨量與多河地形，孕育出獨有卡西文

化與樹根橋樑。」請問：乞拉朋吉的降水類型為何？



() 20. 下列哪一張氣候圖，呈現的是熱帶沙漠的氣候環境？

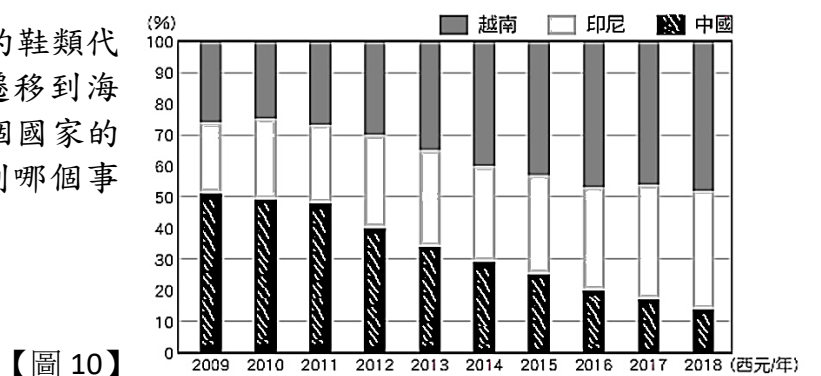


() 21. 西亞與北非日溫差大，多強風與裸露沙地，常有沙塵暴的發現，與下列哪一個環境特色關係最密切？

- (A) 緯度較低
- (B) 降水較少
- (C) 高原遍布
- (D) 日照充足

() 22. 發跡於臺灣中部的寶成鞋業是目前全球前幾大的鞋類代工廠，該企業自一九八〇年代就陸續把生產線遷移到海外，【圖 10】是該集團在越南、印尼、中國三個國家的製鞋生產線比例變化。請問：從圖表可說明下列哪個事實？

- (A) 寶成鞋業投資中國投資的比重逐年上升
- (B) 寶成鞋業對中國的依賴逐年漸減
- (C) 寶成鞋業每年的獲利大致穩定
- (D) 寶成鞋業逐漸減少東南亞國家的投資比例。



【圖 10】


() 23. 卡達身為世足賽的主辦國，為了讓比賽順利進行，以及吸引各國球迷到場為支持的隊伍加油，做了很多準備，請問下列何者錯誤？

- (A) 所有場館內部皆安裝空調，隔絕白天難耐的高溫及沙塵暴
- (B) 為了避免雨季影響球賽進行，特別協調將賽程移至十二月
- (C) 穆斯林在公共場所禁止飲酒，因此特別設置遊客飲酒專區
- (D) 為幫助本國選手補充足夠的蛋白質，準備牛肉與雞肉料理

() 24. 【圖 11】是永鴻在雜誌上看到的漫畫，介紹東南亞某國家的主要生產作物的用途，關於此作物的生產

型態或特色，下列哪一個說明正確？

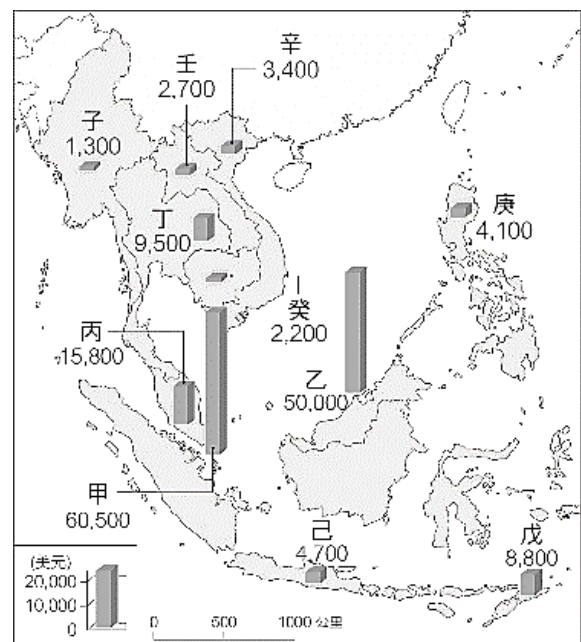
- (A)不需要大量的勞力 (B)作物自給自足為主
(C)在溼冷的氣候種植 (D)經濟作物為主



【圖 11】

- () 25. 「從 2001 到 2017 年，在印尼砍伐超過 2400 萬公頃森林，幾乎等於一個英國面積。這段期間印尼全國森林耗損有一半以上都是為了開發種植。砍伐森林將使數百萬印尼原住民的生活遭受不可回復的改變，也會加速全球氣候變遷。」請問：文中提及森林砍伐是為了種植，最可能是要種植下列那一種作物？
(A)棉花 (B)小麥 (C)油棕 (D)甜菜。

- () 26. 【圖 12】為西元 2011 年東南亞 11 個國家的平均國民所得比較圖，如果前往其中所得最低的國家，最可能觀察到下列哪一種現象？
(A)到處可見到金碧輝煌的佛寺
(B)牛隻漫步在高速公路的車道
(C)天主教教堂為民眾活動中心
(D)居民的飲食中不會出現豬肉



【圖 12】

- () 27. 加拿大記者在 2013 年 7 月前往南亞的孟加拉首都達卡採訪，並潛入當地一家成衣廠進行臥底採訪時，發現一群慘遭剝削的童工，甚至 1 名 9 歲女童被指派為該名記者的主管。請問：上文中的加拿大記者前往孟加拉首都達卡採訪時，最可能遇到何種天候狀況？
(A)滂沱大雨 (B)酷熱乾燥
(C)強風漫塵 (D)涼爽宜人。

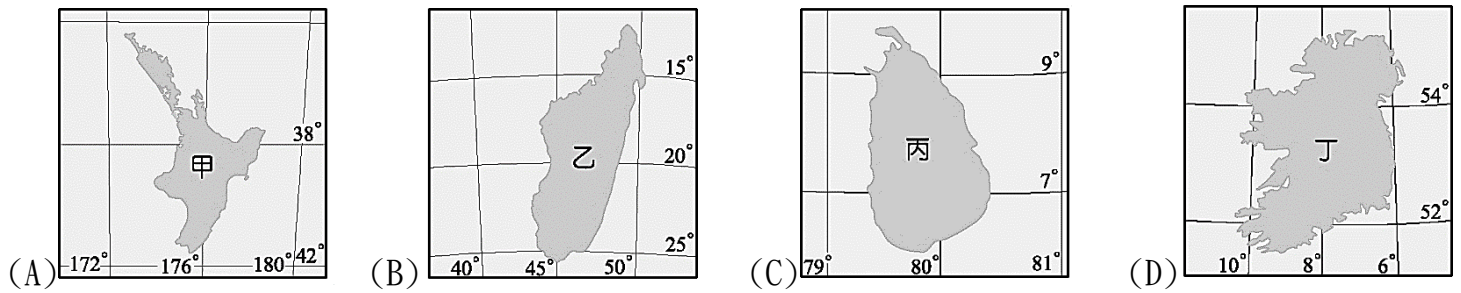
- () 28. 「這個國家是次大陸上最強的國家，該國自第二次世界大戰迄今的外交政策有顯著的轉變。該國是昔日不結盟運動的推動國之一，但近年來推出一連串的東進政策，曾一度加入區域全面經濟夥伴協定 (RCEP)，也是美國提出的印太戰略重要伙伴。」請問：文中提及的國家應為下列何者？
(A)不丹 (B)印度 (C)孟加拉 (D)巴基斯坦。

- () 29. 「世界呼叫，印度回答」、「當美國的火車乘客撥打客服專線要詢問當地的火車時刻表、行駛路線和細節時，客服專線卻越過了千山萬水，在印度的某個角落響起，回答的竟是遠在印度德干高原上邦加羅爾的印度人。」印度之所以能成為美國客服的委外產業中心，與下列何者的關連性最小？
(A)勞工的薪資低廉 (B)具有時差的優勢 (C)英語為官方語言 (D)民眾教育水準高。

| 項目 | 北東協 | 南東協 |
|--------|---------|------|
| 地理區域 | 中南半島 | 南洋群島 |
| 主要氣候 | 熱帶雨林 | 熱帶季風 |
| 宗教信仰 | 伊斯蘭教為主 | 佛教較多 |
| 主要發展方向 | 經濟向印度靠攏 | |

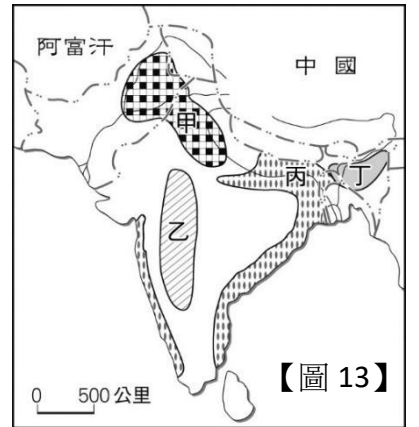
- () 30. 東南亞國家協會以泰國南端為界【表一】成北方(北東協)的緬甸、越南、柬埔寨、寮國，和南方(南東協)的馬來西亞、新加坡、菲律賓、印尼、汶萊。【表一】關於北東協與南東協的相關敘述，哪一個選項符合事實？
(A)地理區域 (B)主要氣候
(C)宗教信仰 (D)主要發展方向。

- () 31. 位於熱帶氣候區內的島國 - 斯里蘭卡，如同印度半島的一滴眼淚，鑲嵌在廣闊的印度洋海面上。有「寶石王國」、「印度洋上的明珠」美稱，被馬可波羅認為是最美麗的島嶼。而受到經度位置的影響，時間較臺灣晚 3 個小時。請根據上文資料判斷，下列哪一個島嶼最可能是斯里蘭卡？



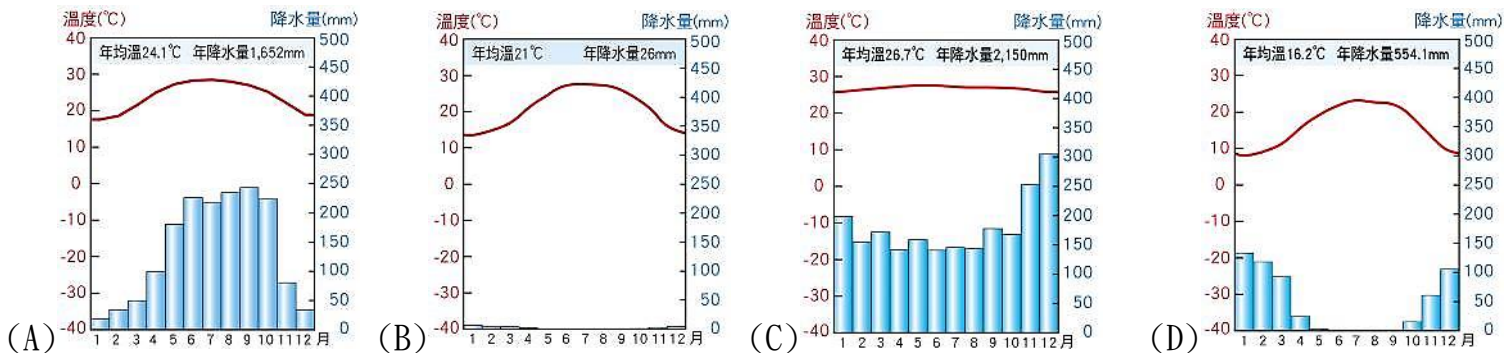
- () 32. 紅茶起源於中國福建，但是量少價格貴，當時英國風靡喝茶，每年至少消費 3 磅茶葉。於是英國透過擴大通商和戰爭掠奪從中國獲得茶葉，並且將其樹苗帶至氣候近似中國的印度阿薩姆地區種植。阿薩姆成為印度最大的茶葉產區。請問：英國人將中國取得的茶樹樹苗帶至印度種植，途中會經過哪一個地區？
 (A) 日本列島 (B) 南洋群島 (C) 琉球群島 (D) 朝鮮半島。

- () 33. 2020 年東非爆發 70 年來最嚴重蝗蟲危機，甚至波及至印度、中國，2021 年蝗蟲危機再度上演，已在肯亞、衣索比亞現蹤跡。聯合國農糧組織 (FAO) 向全球發出預警，要各國防堵新冠肺炎之際，也必須高度戒備蝗災。【圖 13】是南亞的農業分布圖，聯合國農糧組織成員到達南亞勘查，下列探勘地區何者正確？



- (A) 甲區是茶葉產地 (B) 乙區是棉花產地
 (C) 丙區是小麥產地 (D) 丁區是黃麻產地

- () 34. 「油棕植物的果實，可榨取、提煉出豐富的油脂。最常見的食用棕櫚油、家庭用品洗髮精、沐浴乳、化妝品、清潔劑等，都有棕櫚油的成分。目前兩個全球最大的棕櫚油出產國為印尼和馬來西亞，為了追求更大的利潤，將當地的天然植被砍伐，清出來的空間以利油棕種植。」請問：油棕樹最適合生長的地區，其氣候類型與下列哪一張氣候圖相符？

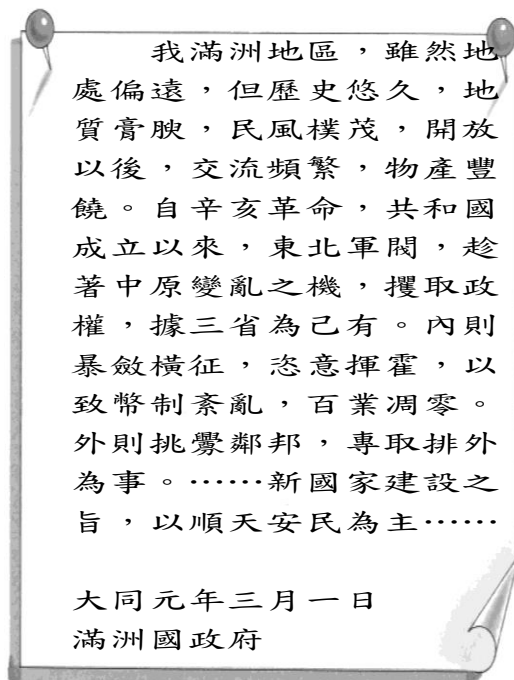


- () 35. 第二次世界大戰結束後不久，隨即爆發國共內戰，期間國民政府節節敗退，最後造成大陸淪陷。請問：使大陸淪為共軍之手的原因有哪些？ (甲) 國民政府抗日失敗，導致國軍元氣大傷 (乙) 國民政府部分官員貪汙腐敗 (丙) 國軍數目遠不如共軍 (丁) 物資不足，物價飛漲 (戊) 蘇聯因調停失敗，不再對國民政府進行援助 (A) 甲丁 (B) 乙丙 (C) 丁戊 (D) 乙丁

- () 36. 以下是一位外國記者在報導某一個時期的上海實況：「上海的工廠地帶可以看到轟炸的痕跡，有來到了戰場的感覺。但是如果來到租界區，興盛的商業中心立即映入眼中。在此，歐、美國家的主要銀行林立，國民政府的官方銀行-中央銀行、以及中國銀行、交通銀行等仍然繼續繁忙地繼續營業，處理租界區內法幣的發行與交易。」請問：這位記者最可能是在報導何時的上海？(A) 1890 年代 (B) 1910 年代 (C) 1930 年代 (D) 1950 年代

- () 37. 以下這篇短文修改自〈滿洲國建國宣言〉，文章旨在宣示滿洲國的建立。請問：下列相關敘述何者正確？(A) 滿洲國的成立與盧溝橋事變息息相關 (B) 滿洲國實際上是蘇聯成立的傀儡政權，國民政府並

不承認 (C)滿洲國的皇帝是溥儀，這是他第三度稱帝 (D) 宣言中提到中華民國建立後，東北地區為軍閥所控制，此軍閥指的是段祺瑞



- () 38. 中華民國建國至今，歷經許多階段的發展，其中包括(甲)中日八年戰爭(乙)北伐(丙)國共內戰 (丁)軍閥割據(戊)十年建設。請問：其出現的先後順序為何？ (A)甲乙丙丁戊 (B)丁乙戊甲丙(C)丁戊乙甲丙 (D)乙丁戊甲丙
- () 39. 「蝴蝶效應」指的是在一個動力系統中，初始條件下微小的變化能引起整個系統長期而巨大的連鎖反應。綜觀中國現代史上的政治發展，的確有政治人物為了維護個人利益推動政治運動，卻引發全國乃至於全世界的風潮。請問：前文所述的政治運動，最可能與下面哪個選項有關？ (A)革命無罪，造反有理 (B)停止內戰，一致抗日 (C)吃飯不花錢，努力搞生產 (D)外爭主權，內除國賊。
- () 40. 國民政府於民國 17 年完成北伐後，象徵著中國從過往的軍政時期走向訓政的階段，也代表著告別過往軍閥亂政的現象，來到建設國家的新局面。下列關於「訓政」時期的敘述，何者正確？ (A)「訓政」是依據蔣中正的建國理念，目的在訓練人民參政 (B)訓政時期國民政府展開各項現代化建設，例如推動以銀元取代銀兩 (C)訓政初期，國民政府致力於與中國共產黨合作，聯共抗日 (D)訓政時期國民政府開放多元政黨，參與國家統治的討論
- () 41. 六四天安門事件發生後，以美國為首的西方國家紛紛採取行動抗議中國政府的作為。有關西方國家的回應，下列敘述何者正確？ (A)西方國家紛紛與中國斷交 (B)部分西方國家開始與中國建立邦交 (C)對中國展開小規模的軍事攻擊 (D)給予中國經濟制裁的懲罰。
- () 42. 國民政府某時期的作戰策略，頗令當時中國群眾不滿。許多學生認為「中國人不應該打中國人，不應該自相殘殺」，應該槍口一致對外，集合大家的力量在存亡之秋，共同對抗侵略者。請問：關於上述的

說法，下列何者正確？ (A)某時期應為國共內戰時期 (B)當時的作戰策略是先攘外後安內 (C)當時

最主要的侵略者是日本 (D)對國民政府作戰策略的不滿，最後導致了七七事變的發生。

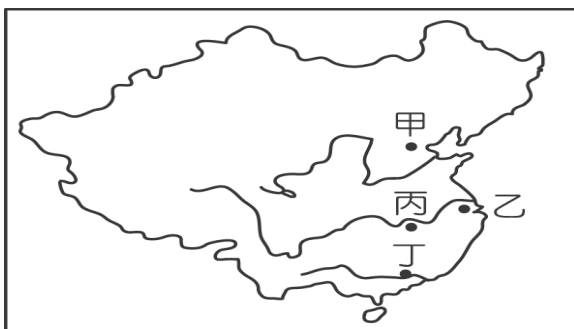
() 43. 下列短文是第二次世界大戰末期，甲國所寫的投降詔書部分原文：

「……帝國之所以向英、美宣戰，實為希求帝國於東亞之安定。至於排斥他國主權，侵犯他國領土，非我本意。……戰局並未好轉，世界大勢不利於我。加之，敵方最近使用殘酷之炸彈，頻殺無辜，慘害所及，實難逆料。若繼續作戰，將導致我民族之滅亡，並破壞人類之文明。」請問：下列相關敘述，正確的有那些？(甲)甲國指的是日本 (乙)文中提到甲國之所以向英、美宣戰，其實，真正的目的是為了掠奪南洋地區的資源 (丙)文中的敵方指的是英國 (丁)「九一八事變」屬於文中所述「侵犯他國領土」之具體事證 (A)甲乙 (B)丙丁 (C)甲丙 (D)乙丁

* 請仔細閱讀下面短文【節錄自《中國人民站起來了》一書】，並回答第 44 題：

中國人經過了長時間的奮鬥下，終於遠離清末以來外國列強勢力的蠶食鯨吞，真真正正獨立成為一個國家。這年，數以萬計的群眾，在天安門聆聽著領導人在看臺上慷慨激昂的演說，許多人一邊跳躍的揮舞著國旗，一邊帶著笑容的掉下了眼淚。自此之後，這個被建立出的嶄新中國，隨著領導人將近三十年的時間，企圖一路往前。根據部分外國人的觀察，中國建國之後的三十年施政，並非政通人和，反而出現許多匪夷所思與倒行逆施的作為。

() 44. (甲)短文一開始提到的經過長時間的奮鬥，「長時間」約有 200 年之久 (乙)這年，數以萬計的群眾，「這年」應是 1945 年 (丙)天安門位於下圖中的甲地 (丁)在看台上慷慨激昂演說的領導人是毛澤東 (戊)匪夷所思與倒行逆施的作為，指的是先有文化大革命、後有大躍進運動 請問：上列相關敘述，正確的有那些？ (A)甲乙 (B)丙丁 (C)丁戊 (D)甲丙

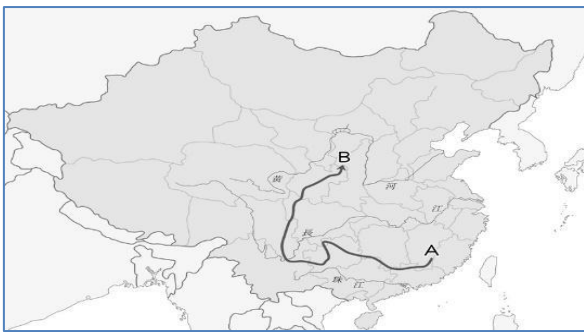


() 45. 以下是幾則中國現代史上報紙的標題，請問：根據史實發生的先後順序，應如何排列？

- (甲) 日軍比賽「百人斬」，南京宛如人間地獄
- (乙) 美國海軍基地珍珠港遭日人轟炸，美國決定對日本宣戰
- (丙) 日軍在北平近郊盧溝橋演習，與中國軍隊發生衝突
- (丁) 日本製造九一八事變，東北淪陷

(A)甲丙丁乙 (B)丙甲乙丁 (C)丁丙甲乙 (D)丁甲丙乙

- () 46. 文哲在整理政府遷臺後，中華民國的歷屆總統表，發現蔣中正可以連續擔任這麼多屆總統的原因，與「某」法條的頒布息息相關。請問：下列與某法條相關的敘述，何者正確？ (A)某法條指的是《中華民國訓政時期約法》 (B)某法條的頒布是因應國民政府多次圍剿中共失利 (C)某法條頒布的時間約在民國 20 年代中期 (D)某法條於民國 80 年李登輝總統任內廢除
- () 47. 佳龍在週末下午看了一本歷史小說，在閱讀的過程中卻突然感到天旋地轉。原來，他竟「穿書」成為該本小說的主角。他在書中率領了 6 艘航空母艦、6 艘潛水艇、8 艘油輪與 183 架飛機，突襲了美國在太平洋的海軍基地。請問：接下來佳龍最可能會歷經下列何事？ (A)在基地聽到中國正式對日宣戰的消息 (B)率領軍隊占領及轟炸台灣 (C)駕駛 B52 轟炸機在東京、長崎投擲原子彈 (D)進攻上海，企圖速戰速決，結束中國戰事
- () 48. 附圖為一九三〇年代某場軍事行動路線圖。請問：下列相關敘述，何者正確？ (A)這場軍事行動是由中國國民黨發起的 (B) A 點是山西，B 點是陝西 (C) 這場軍事行動發生在北伐期間 (D) 這場軍事行動最後在西安事變發生後，宣告結束



**以下引文是某位紅衛兵的日記，請閱讀引文並回答第 49 題：

我們班的紅衛兵，配戴紅衛兵手套，一連兩天，投入了聲勢浩大的「破四舊」運動。昨天我們的「破四舊」，首先是針對個人姓名中的「四舊」開刀。石成金說，他的名字裡包含了「點石成金」的意思，這個名字與舊封建有連結，他已經發誓要永遠效忠於偉大的主席，做一位忠誠的紅衛兵，所以他將名字改成石衛兵……。

(節錄自陳煥仁，《紅衛兵日記》)

- () 49. 這些紅衛兵原先都是青年學生，但在此期間，他們離開了學校，在街頭上搞起革命。請問：以下哪個現象不會出現在這名紅衛兵的日記裡？ (A)在各地建土高爐，砍樹伐林，將家裡的鐵器拿來煉鋼 (B)破壞傳統文化，批判儒家思想 (C)在天安門參加集會，宣傳毛主席思想 (D)舉辦批鬥大會，鬥爭地主。
- () 50. 主恩為了完成歷史報告，蒐集了以下相關的資料：


資料一：為避免共黨勢力擴大，下令在上海清除共黨勢力。

資料二：打擊軍閥的勢力，協助中國完成統一。

資料三：受到張學良的挾持後，同意一致抗日的政策。

請問：主恩這份歷史報告的主題應是下列何人？ (A)孫中山 (B)蔣中正 (C)毛澤東 (D)袁世凱

- () 51. 「條約共五號，第一號：關於日本繼承德國在山東的特權。第二號：關於日本國在南滿與東部內蒙古享有優越地位…第五號：關於全中國」，以上為一份中國與日本在民國初年的外交史料。請問：下列相關敘述，何者正確？(A)日本利用第2次世界大戰期間，趁機派兵進佔德國在山東的勢力範圍 (B)此條約是當時日本向南京政府提出的二十一條要求(C)袁世凱大總統最後接受了大部分的條文(D)巴黎和會決議將山東權益讓與日本，引發新文化運動
- () 52. 民國4年，陳獨秀創辦新青年雜誌，揭開新文化運動的序幕。請問：下列何者可能是這份雜誌刊載的文章標題？(A)拒絕西方思想的毒害 (B)擁抱德先生 (C)儒家思想是救國的唯一寶典 (D)帝制是最適合中國人的政治體制
- () 53. 袁世凱是清末民初的重要人物，他是幹練的大臣，也是精明的軍事統帥，他的許多作為對近代中國的歷史發展有深刻的影響。請問，下列相關敘述，何者正確？(A)鴉片戰爭後，清廷開始編練新軍，袁世凱編練北洋軍，成效最著 (B)逼迫溥儀退位後，出任中華民國第一任臨時大總統 (C)二次革命後，在北京就任中華民國正式大總統 (D)洪憲帝制歷時5年，最終失敗，說明帝制已無法得到當時國人的支持
- () 54. 《民報》(如附圖)是1905年同盟會發行的機關報，為其主要發表言論及鼓吹思想的重要刊物。請問：在此刊物中應該會看到什麼樣的言論？ (A)「天下一家，共享太平」 (B)「推翻滿清，再造中華」 (C)「君主立憲，建立內閣」 (D)「外爭主權，內除國賊」。



- () 55. 中華民國建立之後，曾歷經過一段相當漫長的「軍閥割據時期」。下列關於這段時期的敘述，正確的有那些？ (甲)軍閥勢力的形成與辛亥革命後軍隊國家化的現象密切相關 (乙)軍閥割據時期開始於民國5年袁世凱去世後 (丙)民國12年，孫中山為了與軍閥抗衡，主張容共，允許國民黨員以個人身份加入共產黨 (丁)軍閥割據時期的結束與蔣中正領導北伐成功有關。(A)甲乙 (B)丙丁 (C)甲丙 (D)乙丁
- () 56. 附表是民國2年國會大選結果，其數字是各黨所占議會席次的比例。請問：下列相關敘述，何者正確？ (A)甲黨最有可能是國民黨 (B)乙黨的領袖是宋教仁 (C)甲黨主張總統制 (D)這次選舉結果引發段祺瑞不滿，進一步毀棄臨時約法。

| 黨籍 | 眾議院人數 | 參議院人數 | 合計 |
|----|-------|-------|-----|
| 甲黨 | 269 | 123 | 392 |
| 乙黨 | 120 | 55 | 175 |
| 丙黨 | 18 | 6 | 24 |
| 丁黨 | 16 | 8 | 24 |

- () 57. 「這一年」的年號變了兩次，第一次是改成「宣統9年」，居首功的將領被封為直隸總督兼北洋大臣，此事遭到全國反對，北京十幾家報社停刊以示抗議。12天後，前國務總理帶部隊攻入北京，又恢復原來的紀年。對上述事件的敘述，下列何者正確？ (A)「這一年」是民國5年 (B)此事件是洪憲帝制 (C)被封為「直隸總督兼北洋大臣」的是袁世凱 (D)「前國務總理」是段祺瑞。

- () 58. 中國國民黨於民國 14-17 年間，分別在廣州、武漢及南京設立了國民政府。請問：下列相關敘述，正確的有那些？ (甲)廣州國民政府的前身是護法政府 (乙)孫中山實施清黨，並在南京另立國民政府 (丙)北伐期間，武漢國民政府為親共人士把持 (丁)南京的國民政府位於下圖中的丙地。(A)甲乙 (B)丙丁 (C)乙丁 (D)甲丙



- () 59. 上歷史課時，老師請同學上台發表關於民初「新文化運動」的個人見解，請問：那些人的見解是正確的？ (A) 小新、風間 (B) 正男、阿呆 (C) 風間、阿呆 (D) 小新、妮妮

小新： <<新文化>>雜誌揭開新文化運動的序幕
 風間： 北京大學校長蔡元培提倡自由學風
 正男： 胡適鼓吹以文言文取代白話文
 阿呆： 新文化運動主張全面學習西方文化
 妮妮： 魯迅的<<狂人日記>>極力讚揚儒家文化的美好

- () 60. 中國共產黨在近現代的中國歷史中具有舉足輕重的地位，從共產黨建立後的相關經歷與重要發展來看，下列敘述何者正確？ (A)共產主義思想於新文化運動期間傳入中國 (B)中國共產黨於民國 10 年在日本扶植下成立 (C)陳獨秀、胡適是中國共產黨創黨元老 (D)孫中山在北伐的過程中，曾決定清除黨內的共產黨分子。
- () 61. 《臨時約法》是中華民國憲法頒布前，國家的根本大法。下列相關敘述，何者正確？ (A)《臨時約法》頒布於袁世凱擔任正式大總統之後 (B)《臨時約法》主張中華民國採行內閣制，由總統負責實際政務 (C)袁世凱、段祺瑞曾先後破壞《臨時約法》 (D)蔣中正在廣州成立護法政府，與北京政府形成南北分裂
- () 62. 中華民國在亞洲歷史上具有其「不容抹滅」的意義，請問：「最大」的意義應為下列何者？ (A)為亞洲第一個民主共和國 (B)成功驅趕異族的統治 (C)建立最早的憲政體制 (D)成為當時國力最強大的亞洲國家。
- () 63. 周瑩生活在 20 世紀初的中國，時值中國面臨由舊傳統走向新時代的變革階段，以下是當時某文章的部分內容：「身為新時代的女性，我們應起來(甲)支持不纏足運動，(乙)堅信女子無才便是德。(丙)婚姻則當自由戀愛，自由結婚；(丁)婚後，主張男主外女主內，應在家操持家務，相夫教子。」周瑩作為一個新時代的女性，在上文內容中他會贊成的觀點有哪些？(A)乙丙 (B)甲丙(C)甲丁(D)乙丁。
- () 64. 美國記者川埔在第一次世界大戰期間(1914-1918 年)派駐在中國採訪新聞，他見證到的歷史事件，應該包括下列哪些？(甲)洪憲帝制 (乙)護法運動 (丙)北伐清黨 (丁)五四運動 (戊)二次革命 (A)甲乙 (B)丙丁 (C)甲丁 (D)乙戊
- () 65. 民初國家時局動盪不安，新知識分子為了救亡圖存，於民國 8 年掀起了一場「五四運動」。這場運動的背景、經過和結果如下 (A)民 6 年，因總統黎元洪對德宣戰，中國得以戰勝國身分出席巴黎和會 (B)日本利用巴黎和會繼承德國在東北的特權 (C)五四運動是一場僅由學生參與的愛國運動 (D)北京政府在輿論壓力下，最後拒簽巴黎和約。
- () 66. 孫中山先生被尊稱為中華民國的國父，他為救中國而四處奔走革命，下列有關他革命事蹟的敘述，何者正確： (A)受到八國聯軍清朝慘敗的教訓，先後成立興中會、同盟會等組織，鼓吹革命 (B)辛亥革命爆發後，他被推選為第一任正式大總統 (C)民國 6 年他發起護法運動，討伐袁世凱違法亂紀 (D)民國 12 年取法俄國革命成功的經驗，主張聯俄容共
- () 67. 目前我國《兒童及少年福利與權益保障法》已經規定，成年人故意對兒少犯罪，可加重其刑至二分之一。下列關於該法規的敘述，何者有誤？ (A)鼓勵提供休閒娛樂文化活動及空間 (B)對有進修或就業

意願的少年提供職業訓練或就業輔導 (C)提供兒童及少年家庭諮詢服務和醫療照顧 (D)將目睹家庭

暴力的兒少納入核發保護令的範圍。

- () 68. 為遏止廠商刻意運用假訊息的行銷手法，影響國民生活安定並阻礙全體社會經濟發展，我國修正《刑法》第 251 條，規定若以廣播電視、電子通訊、網際網路等傳播工具散布不實訊息，意圖影響農產品、工業必需的物品、經行政院公告的生活必需品等交易價格，最重可處 3 年徒刑及 30 萬元罰金。針對《刑法》第 251 條的修正，下列敘述何者不正確？ (A) 操縱涉及國民健康與衛生等生活必需品，是犯罪行為 (B) 《刑法》第 251 條可達到保護人民、維持社會秩序的目的 (C) 本條文的修正是為了展現國家的統治權 (D) 修正《刑法》第 251 條是在界定犯罪構成行為與相關處罰。
- () 69. 大偉偷窺隔壁女鄰居更衣，又偷拆她的信件，檢察官僅就偷拆信件的部分起訴，認為沒有正當理由開拆他人之封緘信函，構成妨害書信秘密罪；但偷窺的部分，因沒有攝錄或使用其他輔助工具，不能構成妨害秘密罪，僅能以《社會秩序維護法》故意窺視他人臥室、浴室、廁所、更衣室，足以妨害其隱私者，處新臺幣 6,000 元以下罰鍰。下列何者並非檢察官做出此一起訴行為的原因？ (A) 法律明確規定行為是否構成犯罪 (B) 須有法律規定才能動用到刑罰權 (C) 其他社會規範無法規範時才處理 (D) 保障人民的權利不會任意被侵犯。
- () 70. 老師在課堂上講解我國刑罰的相關規定，小武將其整理成筆記——

| 項目 | 種類 | 處罰 | 性質 |
|----|----|------|-----|
| 甲 | 主刑 | 死刑 | 生命刑 |
| 乙 | 主刑 | 徒刑 | 自由刑 |
| 丙 | 從刑 | 罰鍰 | 財產刑 |
| 丁 | 從刑 | 褫奪公權 | 自由刑 |

因他的觀念不夠清楚，因此其中有些錯誤。老師請同學協助指出其中的問題，以下何人的說法正確？ (A) 甲有誤，死刑屬於自由刑 (B) 乙有誤，徒刑不屬於刑罰 (C) 丙有誤，罰鍰屬於主刑 (D) 丁有誤，褫奪公權不屬於自由刑。

- () 71. 我國的監獄會針對受刑人開辦技職課程，讓受刑人可以在服刑期間習得一技之長，也有些受刑人在獄方協助下修習空中大學的課程。這些措施都是希望他們服刑期滿出獄後，能儘速展開新的生活，進而社會有所貢獻。以上敘述強調了刑罰的何種功能？ (A) 矯正措施，教化受刑人減輕其再犯可能 (B) 嚇阻機制，讓潛在的犯罪者不敢以身試法 (C) 懲罰措施，為犯罪行為付出代價 (D) 修復功能，彌補犯罪行為造成的傷害。

- () 72. 網路社群是很方便的訊息交流管道，但由於開放性高，使用上又具有可匿名的特性，許多人往往任意發表不負責任的言論。國中生如果在網路上以不雅字眼匿名留言羞辱他人，可能產生的結果為何？ (A) 雖不應該，但只要匿名就無法追查，不會受到追究 (B) 網路上的任何言論皆屬於言論自由範圍，受《憲法》保障 (C) 可能觸犯《兒童權利公約》，必須承擔行政責任 (D) 可能觸犯《刑法》的公然侮辱罪，必須承擔刑事責任。

- () 73. 暑假來臨前，各地方政府為防止青少年涉足妨害身心健康場所，受誘惑加入幫派或飆車、吸毒等，都會結合相關單位辦理「暑期保護青少年——青春專案」，希望讓孩子們擁有一個健康又安全的環境。根據

《兒童及少年福利與權益保障法》的規定，對於下圖專案內容的說明，下列何者正確？ (A) 第 1 項是提供兒少的福利措施 (B) 兒少有第 2 項中的行為會被處以徒刑 (C) 第 3 項是針對兒少的保護措施

(D) 違反第 4 項的青少年會被處以刑罰。

| 青春專案 |
|-----------------------------|
| 1. 避免進入不良場所接觸不良人員。 |
| 2. 加強易飆車或鬧事路段的臨檢取締。 |
| 3. 擴大查緝如 KTV、撞球場等場所，深夜勸導回家。 |
| 4. 加強社交網站的管理，避免被引誘或強制性交易。 |

- () 74. 下列有關《勞動基準法》的敘述，何者錯誤？ (A) 童工是指 15 歲以上未滿 16 歲的受雇者 (B) 童工

需要上學，業主應給予在例假日的工作機會 (C)童工每日工作時間不得超過8小時，每週工作時數不得超過40小時 (D)《勞動基準法》是經立法院三讀通過的法律。

- () 75. 下列對於兒少相關法律的敘述，何者正確？ (A)《兒童及少年福利與權益保障法》規定任何人不得讓兒童及少年出入不良場所 (B)《兒童權利公約施行法》規定不可將6歲以下小孩單獨留在家中 (C)《兒童權利宣言》規定兒少不得超過合理時間連續使用電子產品 (D)《勞動基準法》規定雇主不可

雇用未滿16歲的人。

- () 76. 下列四起事件中，何者違反《兒童及少年性剝削防制條例》？ (A)「網站負責人」未能防範未滿18歲

的青少年利用假身分下載收看A片 (B)未滿18歲少年之「父母」知悉少年觀看A片，卻未加以禁止 (C)一對同為15歲的小情侶，在情投意合之下發生性行為 (D)「影視公司負責人」拍攝未滿18歲者猥褻行為的影片牟利。

- () 77. 我國制定《兒童及少年福利與權益保障法》的主要目的不包括下列何者？ (A)促進少年身心健全發展 (B)保護少年遠離不良生活環境 (C)規範父母親權及懲戒權的範圍 (D)增進成年人對兒少的照顧責任。

- () 78. 關於聯合國《兒童權利公約》的敘述，下列何者正確？ (A)屬宣示性質，對簽署國不具法律約束力 (B)是聯合國大會通過具有法律約束力的法規 (C)其內容對我國直接具有法律拘束力 (D)設定了兒童權利保障的最高標準。

- () 79. 《兒童及少年福利與權益保障法》第41條規定，為確保兒童及少年之遊戲及休閒權利，促進其身心健康，除法律另有規定外，高級中等以下學校學生每週學習節數，應依中央教育主管機關訂定之課程綱要規定。上述規定主要在落實《兒童權利公約》的哪一項原則？ (A)不歧視 (B)尊重兒童意見 (C)保障兒童生存發展權 (D)維護兒童最佳利益。

- () 80. 面對兒童或少年遭遇性剝削行為，下列相關保護措施與處罰得敘述，何者不正確？ (A)民眾可以撥打113專線通報 (B)其父母會被處以罰鍰和接受親職教育輔導 (C)教育人員得知後應於24小時內通報主管機關 (D)政府可依情節輕重對加害者處以罰鍰或刑罰。

- () 81. 我國對於收賄的公務員，可處以十年以上有期徒刑，但民間企業員工出現同樣的行為，卻常以刑罰較輕的背信罪處罰。上述相同的行為，會因犯罪者身分不同而受到不同懲罰的情況，與下列何種原則的關係最密切？ (A)誠實信用 (B)罪刑法定 (C)契約自由 (D)無罪推定。

- () 82. 立法院於2016年通過《刑法》部分條文修正案及增訂《刑法施行法》第十條之三的條文，新增○○專章，明定○○具有獨立性的法律效果，並於2016年7月1日施行，如此一來，就能追討被告實際犯罪所得還給被害人或繳納公庫。上述○○最可能是指下列何者？ (A)罰鍰 (B)管收 (C)沒收 (D)褫奪公權。

- () 83. 某法律第十條規定：「施用第一級毒品者，處6月以上5年以下有期徒刑。」又第二十條規定：「犯第十

條之罪者，檢察官應聲請法院裁定……令被告或少年入勒戒所觀察勒戒，其期間不得逾2月。」根據上述內容判斷，下列四位同學對於勒戒的說明，何者正確？ (A)美環：是預防施用毒品者再度犯罪 (B)野口：是刑罰的主刑，可單獨行使 (C)花輪：這是一種行政管制 (D)丸尾：是要藉此達到懲罰犯罪的效果。

- () 84. 為了讓每位病患不分貧富貴賤，均能享有公平就醫的待遇，因此我國於民國83年通過《全民健康保險法》，並於隔年依法實施全民健保，期使能以社會大多數人的力量，共同化解人民就醫的經濟障礙。

依

上述可知，該法律的制定具有何種目的？(甲)保障人民權利 (乙)維護社會秩序 (丙)促使社會進步 (丁)伸張國家權力 (A)甲乙 (B)甲丙 (C)乙丙 (D)丙丁。

- () 85. 在傳統的君主封建時代中，「人治」是國家運作的核心，代表國家的統治以掌權者的意志為依歸。隨

著社會變遷，現代民主國家開始重視「法治」精神。關於「法治精神」在民主社會中的定位，下列敘述何者正確？ (A)由人組成的社會終究要以「人治」為原則，「法治」則作為輔助的工具 (B)「法

治」

意味著法律可自行妥善運作，法治社會中可以完全杜絕「人」的影響力 (C)在法治社會中，法律由統治者制定，作為管理國家與人民的強力工具 (D)「人治」的效果往往因人而異，「法治」才可以建立穩定而客觀的標準。

- () 86. 我國《憲法》第2條規定：「中華民國之主權屬於國民全體……」，落實了我國為強調「主權在民」

之民主國家。下列哪一現象適足以得到印證？ (A)為因應抗疫需求，衛福部將許多口罩工廠納入國家隊，徵收其一定比例之口罩產能 (B)按《行政程序法》規定，行政命令可由行政機關依其職權逕行發布，無須通過立法程序 (C)《公投法》修正後首度舉辦公投，共有 10 個公投案合併於西元 2018 年的九合一大選同時進行 (D)司法院大法官於西元 2017 年釋憲宣布，禁止同性締結具親密性之永久關係屬於違憲。

- () 87. 我國《憲法增修條文》第 10 條規定：「國家應維護婦女之人格尊嚴，保障婦女之人身安全，消除性別歧視，促進兩性地位之實質平等。」因此政府制定《性別工作平等法》，不僅保障女性的工作權利，也

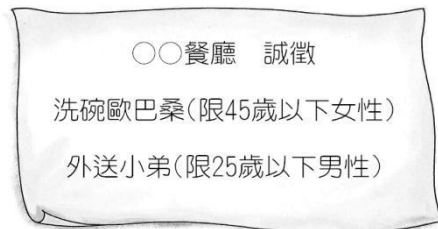
落實性別平等的觀念。下列相關敘述，何者正確？ (A)《性別工作平等法》在落實《憲法增修條文》的規範 (B)《性別工作平等法》屬於命令 (C)《憲法增修條文》的內容如果與《性別工作平等法》的規定相抵觸，則《憲法增修條文》無效 (D)《憲法增修條文》是由監察院審議通過的。

- () 88. 臺中市政府依據 (甲)《兒童及少年福利與權益保障法》，訂定 (乙)《臺中市弱勢兒童及少年生活扶助

與托育及醫療費用補助辦法》。下列關於甲、乙的說明，何者正確？ (A)甲、乙的制定，主要目的皆在維護社會秩序 (B)乙的制定、修改程序比甲嚴格 (C)乙的訂定，主要在促進地方政府的經濟發展 (D)甲的法律位階與《傳染病防治法》相同。

- () 89. 下列是我國《憲法》修改的程序，其中哪項程序的敘述錯誤？ (A)立法委員提案 (B)立法院表決通過，提出《憲法》修正案 (C)提案經公告半年 (D)全體國民投票有效票過半數同意。

- () 90. 以下是萍萍看到的一則徵才廣告——



根據內容判斷，此徵才廣告已違反《憲法》保障人民的哪項基本權利？ (A)平等權、受益權 (B)人格權、財產權 (C)受益權、自由權 (D)平等權、自由權。

- () 91. 建志認為自己所屬選區內的民意代表，違背了競選時所提出的政見，於是發動連署提案罷免該位民意代表。上述建志行使的人民基本權利類型與下列何者最類似？ (A)自己籌組新政黨 (B)參加國家考試擔任公務人員 (C)依照個人需求遷移居住地點 (D)接受國民義務教育完成學業。
- () 92. 臺灣素來自詡為法治國家，具備完整的法律制定程序，並有相關的機關與人員切實執行，下列四位法律系學生的說法，何者錯誤？ (A)政府部門須依法行政，不得濫權 (B)司法部門下設法院，並依法審判 (C)法律經立法機關三讀通過後，立刻生效 (D)行政、司法、考試及監察院皆可向立法院提案制定或修改法律。
- () 93. 西元 2017 年立法院通過修正《公民投票法》部分條文，大幅降低公投限制，使得該年度的公投成為全國性公民投票案數最多的一次。阿福整理了公投的相關法律如下表，以了解其精神與辦理的相關事務

(甲)《公民投票法》第 1 條：「依據憲法主權在民之原則，為確保國民直接民權之行使，特制定本法。」

(乙)《公民投票法施行細則》第 2 條：「全國性公民投票之主管機關為中央選舉委員會，依本法及中央法規辦理相關事項，並指揮監督直轄市、縣(市)選舉委員會辦理之。……」

下列針對上述法條內容所做的分析，何者正確？(A)甲顯示出，行政行為須依行政法去執行 (B)乙可看出，日常生活和行政法息息相關 (C)甲呈現出，行政法將憲法的規範具體化 (D)乙可結論，行政法並非一部獨立的法典。

- () 94. 「行政管制」是指行政機關主動規範人民原可自由從事的行為，使其必須依法規方可為之。據此觀點，以下何者並不屬於行政管制？ (A)警察於深夜在路口實施臨檢酒駕 (B)消防局針對違反消防法規的社區開立罰單 (C)高速公路於連假指定時段有高承載規定，未滿3人的車輛不得駛上高速公路 (D)媽祖繞境期間，各地方政府派出警員協助維持交通順暢。
- () 95. 「訴願」與「行政訴訟」是兩種與人民權益相關的救濟程序，以下關於這兩者的敘述何者正確？ (A)「訴願」是人民伸張權益的途徑，「行政訴訟」是政府處分人民的方式 (B)人民欲提起「訴願」前，必須經過「行政訴訟」的程序 (C)任何法院皆可受理人民提出的行政訴訟案 (D)訴願目的在於請求政府撤銷或變更原有的行政處分。
- () 96. 部分中醫診所發生違法開立硃砂等禁藥一事，衛生局依違反《醫師法》(甲)裁罰10萬元，針對醫師未詳細記載配置用藥內容於病歷，(乙)依違反《醫師法》裁罰2萬元，並停止門診業務一個月。衛福部中醫藥司(丙)要求各縣市衛生局限期清查轄內中醫診所、中藥房等，另與環保署毒物及化學物質局合作，(丁)對列管化學物質進行流向管理。有關上述畫線中政府的處理方式，下列何說明並不恰當？ (A)甲：裁罰金額是違反行政法處以的罰鍰 (B)乙：藉由處罰方式限制政府權力的侵害 (C)丙：透過命令的形式來排除危害的行為 (D)丁：對違規者是處罰，對民眾是種保障。
- () 97. 立法院三讀通過《嚴重特殊傳染性肺炎防治及紓困振興特別條例》，規定從民國109年1月15日起至110年6月30日，中央流行疫情指揮中心指揮官為了防治、控制疫情需要，得實施必要的應變處置或措施，若違反者，可裁罰5萬元以上、100萬元以下的罰鍰。上述法律可顯示出下表中的哪些意義？ (A)甲、乙、丙 (B)丙、丁、戊 (C)甲、乙、戊 (D)乙、丙、戊。

- | |
|---|
| (甲)立法機關節制行政行為 (乙)法律授權限制人民權利 (丙)政府應該依據法律執行 (丁)抵觸上位階法令，無效 (戊)落實憲法保障人民自由 |
|---|

- () 98. 大型重機團體發起活動陳情，認為根據《道路交通管理處罰條例》，大型重機得依交通部公告的路段及時段行駛於國道，而目前卻僅有國3甲及臺64線快速道路開放行駛。交通部高速公路局表示，民調顯示反對意見居多，尤其大型車輛更在意開放重機上國道後的國道行車秩序，所以至今遲遲未開放。針對上文內容的敘述，下列何者正確？ (A)立法院未能制定可保障人民權益的法律 (B)重機團體爭取法律已授權下的行政行為 (C)開放大型重機上國道缺乏法律作為依據 (D)大型車輛關注行政命令與憲法位階關係。
- () 99. 江大海收到使用牌照稅繳款書，內容如下圖。下列何者無法從繳款書的內容中觀察到？ (A)行政法與日常生活息息相關 (B)行政法規範人民的義務承擔 (C)行政法補充憲法概括性規定 (D)行政行為須依法律規範。

納稅義務人：江大海
車牌號碼：ABC-1234
使用期間：109 年 01 月 01
日起至 109 年 12 月 31 日

| 交通工 具種類 | 汽缸容量 (馬力) | 應繳 金額 |
|------------|--------------|------------|
| 自用小 客車 | 1799 | \$ 7120 |

繳納期間：自 109 年 04 月
01 日起至 109 年 4 月 30
日

❖ 小提醒：

1. 《使用牌照稅法》第 25 條規定，繳稅若未於期限內繳清，每超過 2 日會按金額加徵 1% 滯納金，逾 30 日仍未繳納者，移送強制執行。
2. 便利商店均有代收，記得要準時繳款。

- () 100. 「罰鍰」是人民有違法行為時相當常見的一種處罰方式，以下關於罰鍰的相關討論，何者正確？
(A) 是以剝奪自由作為處罰方式 (B) 罰鍰金額無一定標準，可由行政機關任意決定 (C) 民眾對罰鍰處分不服可尋求行政救濟來維護權益 (D) 罰鍰處分必須透過法院之判決始得宣告。