

單選題：共一百題

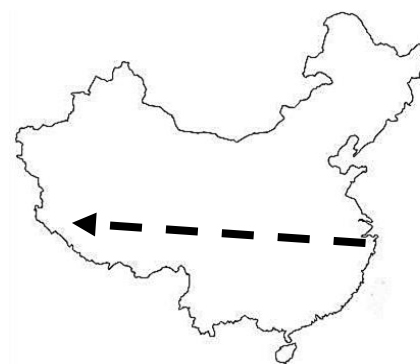
八年級地理科：第1-33題

- () 1. 小禎在中國自助旅行，拍攝了一張當地的建築物照片(如右圖)。導遊提到，在這裡，到處可見這樣平頂長方形的房子。以前居民就地取材，因此晾房大多用土塊砌成，現在則多以磚造為主，建築也更高大堅固。為了通風，牆壁上則有許多整齊、大小一致的方形洞孔。當乾熱的風吹來，掛在房裡的新鮮水果，只需要45天，就能變成甜度極高的果乾!請問，小禎到中國哪裡旅行呢?



(A) 華北平原 (B) 雲貴高原 (C) 四川盆地 (D) 塔里木盆地

- () 2. 有一地理學家七月時沿著右圖中箭號路線從中國東部到西部進行田野調查，請問下列哪一項敘述「不是」此地理學家會感受到的變化?



- (A) 地勢愈來愈高，要注意身體狀況避免發生高山症。
 (B) 人口愈來愈稀疏，愈難找到可以吃飯休息的餐館。
 (C) 農業活動愈來愈發達，可以看到遼闊的麥田景觀。
 (D) 日溫差愈來愈大，要隨著早晚氣溫變化增減衣物。

- () 3. 最近有一部改編自真人真事的電影正在宣傳，描述一位中國鄉下農民，他2歲兒子失蹤，從此沒有音訊，於是這位父親騎著一台破舊機車，跑遍中國各地尋找兒子的故事。導演說明片名由來，是因為自從中國執行某政策後，好多家庭都是一個孩子，所以當孩子丟了，對家庭和孩子來說，都是失去與孤獨。」請問，導演所提及的政策，是下列哪一項政策呢?

(A) 改革開放 (B) 計畫生育 (C) 鼓勵移民 (D) 開放二胎

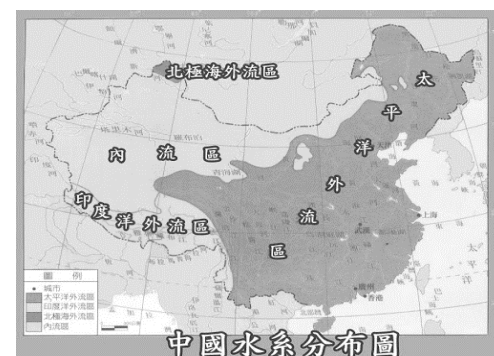
- () 4. 右圖是中國居民傳統的維生方式分布圖，這兩種維生方式的空間分布，與下列哪一個地理要素的關係最密切?



(A) 地形種類 (B) 氣候乾濕 (C) 河川長短 (D) 氣溫高低

- () 5. 「爆竹聲中一歲除」，民眾在開春時會放煙火鞭炮，藉此替新的一年增添好運，而中國北京在除夕夜內的鞭炮也導致空氣汙染，若按照北京的氣候判斷，這些空氣汙染順著風向對下列何區的影響最大呢? (A) 天津市 (B) 廣州市 (C) 上海市 (D) 重慶市

- () 6. 右圖是中國水系分布圖，外流區指的是河流注入海洋的地區。從圖上可以看出，中國水系以太平洋外流區為主。造成上述現象，主要的原因為何?



- (A) 地勢西高東低
 (B) 冬夏風向相反
 (C) 人口西少東多
 (D) 降水東多西少

- () 7. 曉華一家人，準備利用暑假到中國內蒙古自治區自助旅行，以下的行程安排，不會列到這家人的旅遊行程中呢?

- (A) 在廣大的草原上騎馬 (B) 品嚐牧民家馬奶與肉食
 (C) 夜晚在蒙古包入睡 (D) 購買犛牛毛編織的圍巾

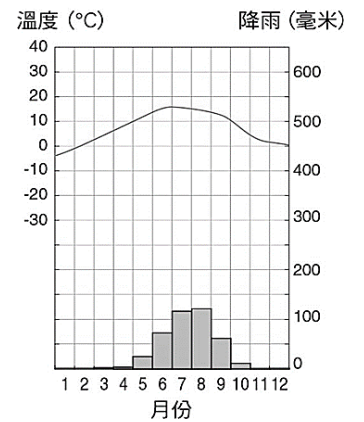
*台灣當紅的偶像藝人即將到中國拍攝最新的廣告，右圖是廣告公司提供當地的氣候資料，身為粉絲的你，請為偶像提供一些重要的出發提醒。

()8. 根據廣告拍攝地點的氣候圖，這位藝人最有可能到右圖的何處拍攝廣告呢？

(A)甲(B)乙(C)丙(D)丁。

()9. 身為粉絲的你，會建議這位藝人在行李箱帶哪些物品呢？

(A)甲乙(B)乙丁(C)乙丙(D)甲丁



攜帶物品	說明
甲 比基尼泳裝	鄰近海邊，可以到沙灘戲水追浪
乙 防曬乳	日照強烈，為避免曬傷
丙 瓶裝水	當地人口密度高，工業汙染嚴重
丁 登山鞋	地勢高聳崎嶇，避免滑倒受傷

2021年5月11日發布的《第七次全國人口普查公報》顯示中華人民共和國全國總人口約為14億人，其年齡結構如下表所示。本普查資料指出，去年中國共有一千兩百萬名新生兒出生，比起2016年仍少了400萬。雖自2016年開始，中國人口政策轉變，允許夫妻可以擁有兩名孩子，但從人口普查的數據來看，新生兒比例增加的幅度確實有限。可見1980年代的人口政策，仍深深影響中國目前的人口結構，隨著中國0-14歲人口比例下降的同時，中國15-64歲的主要勞動人口也比上次普查少了四千萬人。最後，根據聯合國訂定的標準，中國的人口結構現象，已經是「高齡化社會」的情形。請同學根據本文，回答下列問題：

年齡	0—14歲人口	15—64歲人口	65歲及以上人口
人數(單位:人)	253,383,938	967,759,506	190,635,280
所占全國比例	17.95%	68.55%	13.50%

()10. 文中根據聯合國的標準，中國已經步入高齡化社會，該標準為下列何項？

- (A)0-14歲人口比例低於18% (B)15-64歲人口比例低於70%
(C)65歲及以上人口比例高於7% (D)65歲及以上人口比例高於12%

()11. 1980年代的人口政策，當初實施目的，是為了解決何種問題？

- (A)性別比失衡 (B)高齡化社會 (C)資源不足隱憂 (D)勞力人口缺乏

()12. 右表是中國2020年貿易總額統計排名，下列為同學們針對貿易總額為中國第一的行政區，提出的「原因」推論，請問下列何者推論最正確？

前五名行政區	貿易總額(億元)	後五名行政區	貿易總額(億元)
廣東省	70844.82	海南省	933.00
江蘇省	44500.47	甘肅省	372.76
浙江省	33807.99	寧夏回族自治區	123.17
上海市	34828.47	青海省	22.81
山東省	22009.35	西藏自治區	21.33

- (A)靜香:這是中國政治與交通的核心，所以貿易額高
(B)大雄:煤、鐵、石油礦產含量豐富，重工業產值高
(C)胖虎:中國都市化程度最高的地區，勞力資源充足
(D)小夫:最早經濟改革開放地區，獲取最多外來資金

()13. 根據2020年中國人口普查，發現某城市平均年齡只有32.5歲，是中國最年輕的城市。專家推測其原因為此城市全年氣候暖濕，適宜居住，而且是1980年代改革開放後才快速興起，目前轉型成新創企業與人才集中的都市，請問此都市為何？

- (A)北京 (B)上海 (C)深圳 (D)重慶

()14. 許多國家積極推動綠色能源，中國政府規劃發展風力發電，需要的自然環境為風力強勁的乾燥地區。請問，下面哪個地方，最適合進行推廣風力發電呢？

- (A)雲南省 (B)廣東省 (C)西藏自治區 (D)內蒙古自治區

()15. 下表是中國某個經濟帶的分析表，根據右表內容，

這是哪一個經濟帶的分析表呢？

- (A)東部經濟帶 (B)中部經濟帶
(C)西部經濟帶 (D)南部經濟帶

說明	
發展優勢	1) 能源基地，為本帶經濟核心： ① 有全國最大煤產地山西省→以煤炭為中心的重化工業 ② 最大原油生產地黑龍江省：分布於哈爾濱至長春 ③ 最大水電生產地湖北省：分布於長江三峽水電為中心的長江中游地區、重慶至武漢
	2) 農林產豐富：糧食產量占全國約2/3，林業占3/5
	3) 陸運便利：鐵、公路里程居三地帶首位
	4) 金屬礦產豐富：銅、鋁、金、銀等礦產儲量為全國首位
發展限制	1) 缺乏直接對外的港口 2) 缺乏具競爭力的產品和大宗出口物資，工業產值低

()16. 中國於1970年代末推動的改革開放政策，帶動經濟快速成長，但是卻加深區域發展失衡現象。下列關於中國的新聞報導，何者最能反映中國區域發展不均的現象？

- (A) 農曆春節將湧現數億人次返鄉人潮，堪稱地表最大規模的人口移動
(B) 推動海上絲路計畫，發展從中國沿海的港口經印度洋至歐洲的航線
(C) 南方近年降雨減少，旱象環生，南水北調將威脅南方用水的供應量
(D) 今年持續出現多起沙塵暴，已直接威脅北京、上海及南京等大都市

()17. 2015年，某會議經過長時間磋商，終於達成一份取代《京都議定書》的協議，預期將改變人類長期以來的經濟發展與生活型態。下列何者應是該協議的內容？

- (A) 持續監控以避免臭氧層持續受到破壞 (B) 會員國須要努力降低碳排放總量
(C) 推動立法來保護瀕臨絕種動物的復育 (D) 降低因跨國的河川使用導致衝突

()18. 在抗擊新冠疫情過程中，在線新經濟呈現出蓬勃興起態勢，成為產業發展的新熱點。比如，在線買菜、在線學習、在線直播、在線逛展、在線文娛，成為「宅生活」的選擇，連平時只逛菜市場的老人學會網上下單。這個位居中國海岸線中點與長江出海口，作為中國重要的經濟中心城市，城市人口達兩千多萬的城市，提出在線新經濟發展行動方案，全力發展在線新經濟！請問，這請問此都市為何？

- (A) 北京 (B) 上海 (C) 深圳 (D) 重慶

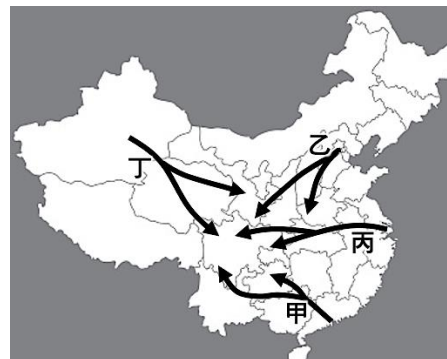
2019年有一部廣告「啥是佩奇」登上了微博熱搜，影片裡的農村爺爺為了表達對孫兒的疼愛，拼了老命要去了解什麼是「佩奇」，引來網友紛紛留言：「看完淚流滿面」。這部影片反映了「空巢老人+留守兒童」已成為中國農村家庭的標準配備。據統計，截至2017年大陸有2.8億農民工至沿海城市工作，因為農村戶籍的孩子無法在城裡享有義務教育，於是留在農村讓爺爺奶奶隔代扶養，造就了6000萬留守兒童大軍。請根據上文內容，回答以下問題：

()19. 造成農村空巢老人、留守兒童眾多的主因為何？

- (A) 東農西牧的傳統維生方式
(B) 嚴格控管一胎化生育政策
(C) 中國工業發展的區域不均
(D) 昔日以技術密集工業為主

()20. 下列哪個路線「較不可能」是大批農民工返鄉過年的路線？

- (A) 甲 (B) 乙 (C) 丙 (D) 丁



下圖是中國生態環境部發布的新聞稿，根據統計，每年自10月起，受氣象條件影響，中國部分區域正式進入污染天氣高發季節。為了改善居民的生活品質，該區城市積極要求工廠企業排放廢氣等措施，希望透過區域產業結構、能源結構和交通運輸結構等方面的調整，讓藍天重現。請回答下列問題：

()21. 根據圖中資料判斷，下列哪個城市，是本次汙染的影響範圍呢？

(A)上海市 (B)天津市 (C)重慶市 (D)廣州市

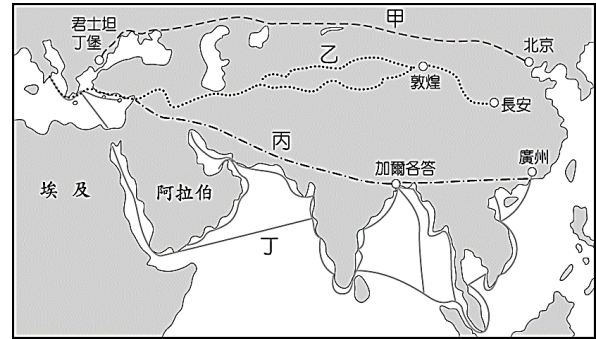
- ()22. 這一次的汙染物質，可能造成下列哪個國家的困擾呢？
(A)隨著夏季的東南季風，影響日本 (B)隨著冬季的西北季風，影響南韓
(C)隨著夏季的西南季風，影響臺灣 (D)隨著冬季的東北季風，影響俄羅斯
- ()23. 2021 年東京奧運預計將有大量外國旅客訪日，為了方便旅客辨識，日方打算修改溫泉符號，在浴盆和三道水蒸氣之間，加了 3 個人型剪。請問：日本當地泡湯文化盛行的原因與下列何者關係最相似？
(A)形成溫帶季風氣候 (B)沿海有寒暖流交會 (C)日本的食魚文化 (D)海嘯發生頻率高
- ()24. 1990 到 2008 年期間，北韓在「全球飢餓指數」惡化的排名中位居第二。造成北韓糧產不足，常有饑荒的問題，除了政治制度的影響外，與下列何項自然因素最密切？
(A)火山活動與地震頻繁 (B)年雨量少於 500 毫米
(C)颱風侵襲次數多 (D)生長季短、平原少。
- ()25. 『下流老人』是由日本 2015 年出現的新名詞，源自日本社會學者藤田孝典的著作。這個名詞意指日本近年來，因年金制度恐破產、照顧人力長期缺乏、高齡醫療品質不足，出現大量過著中下階層生活的老人，作者認為若是政府不提出有效政策，可能出現『1 億人的老後崩壞』現象。根據上述內容可看出，目前日本所面臨的社會現象應該為下列何者？
(A)高齡化 (B)死亡率高 (C)都市化 (D)人口密度高
- ()26. 泡菜為南韓傳統食物，近年來，南韓推出專門存放泡菜的「泡菜冰箱」以供日常食用，可見泡菜對南韓人生活飲食的重要性。請問：南韓盛行泡菜最可能受到下列何種環境因素的影響？
(A)梅雨季長，食物容易發霉 (B)冬季少雨，無法種植蔬菜
(C)夏季酷熱，食物容易發酵 (D)冬季嚴寒，新鮮蔬菜不足。
- ()27. 日本企業雖然有許多工廠外移至海外，但仍可維持其國際競爭力，其主因可能為何？
(A)封閉國內市場 (B)使用大量國際移工 (C)重視技術研發 (D)不斷淘汰老舊工廠。
- ()28. 「日本火山活躍，其活火山數量約占全球活火山總數的十分之一，且地震頻繁。」以上內容與日本何種地理特徵有關？
(A)以溫帶季風氣候為主 (B)位居在板塊接觸地帶
(C)河川較短小，缺乏航運價值 (D)山多田少，山地為主體地形。
- ()29. 在日劇中，經常出現劇中人物食用生魚片的畫面。日本人喜愛海鮮，多樣的海鮮飲食方式，也成為吸引觀光客的特色之一。請問：日本漁業發達、魚獲量豐富的主要原因為何？
(A)海岸平直，魚塭眾多 (B)寒、暖流交會，魚群容易聚集
(C)氣候舒適，利於魚群繁殖 (D)漁業勞動人力充足而低廉。
- ()30. 日本著名的世界文化遺產白川村「合掌造」傳統家屋。這種屋頂呈現大角度傾斜的建築特色，與該地哪一項環境因素最有關係？
(A)位於環太平洋火山地震帶 (B)冬季降雪量大，利於排雪
(C)山多田少，空間狹小 (D)夏季濕熱，方便散熱
- ()31. 近年來，南韓政府積極發展精密機械、電子、資訊等產業，具有相當的成效，例如：從事通訊業的三星 (Samsung) 公司，即在國際市場上占有一席之地。上述產業屬於哪種類型的產業活動？
(A)能源密集性產業 (B)原料密集性產業 (C)勞力密集性產業 (D)技術、資本密集性產業
- ()32. 日本開始尋找其他投資方式，以直接投資海外、經濟合作等方法，積極經營跨國企業。主要原因為下列何者？
(A)進出口貿易額減少 (B)日本國民所得降低 (C)日本產品品質不再 (D)降低工業生產成本
- ()33. 三星集團是南韓十大財閥之首，2019 年營運收入高達 3000 億美元，占全國生產總值的 1/4，該集團

的一舉一動 都牽動著南韓經濟，其他如現代與 LG 等大型企業也不遑多讓，均在南韓經濟中扮演重要地位。請問：上述目前南韓的經濟發展狀況，可能導致何種社會現象？

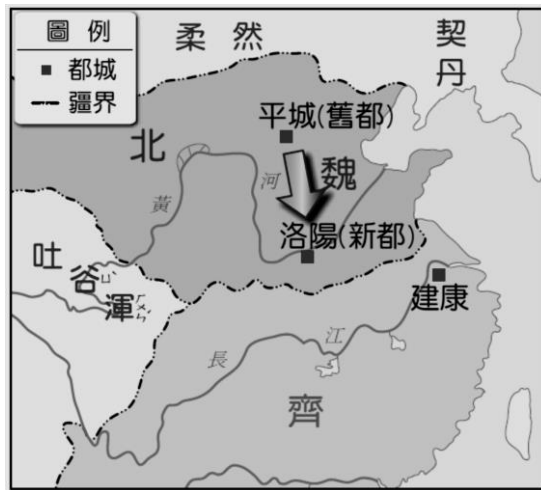
- (A) 中小企業蓬勃發展 (B) 社會貧富差距擴大 (C) 國內產業空洞化 (D) 政策與企業不同調

八年級歷史科：第 34—67 題

- () 34. 天成上臺報告有關「絲綢之路」的敘述，下列何者正確？(A)絲綢之路為下圖甲路線 (B)絲綢之路的建立與秦始皇欲聯合西域各國共同對抗匈奴有關 (C)絲綢之路最遠到達大食—羅馬帝國 (D)佛教經由絲路傳入，豐富中國人的精神生活。



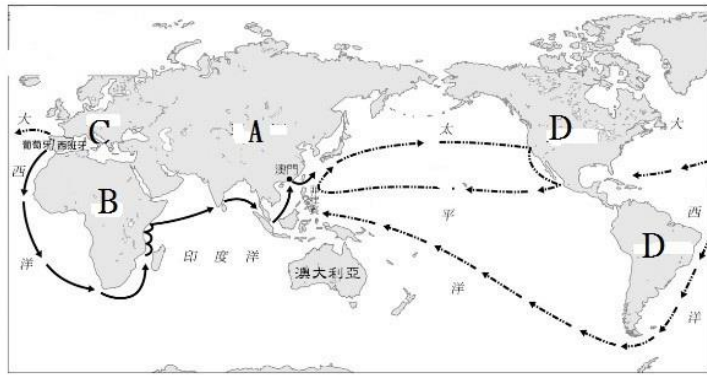
- () 35. 下列魏晉南北朝政治的分合的敘述，何者正確？(A)魏晉南北朝中唯一統一中國的朝代是曹魏 (B)永嘉之禍後，中國陷入北方為五代十國、南方為東晉的分裂局勢 (C)統治者依賴世族統治，出現「上品無寒門，下品無世族」的流弊 (D)「六朝」是曹魏、西晉、宋、齊、梁、陳的合稱，首都皆在今日南京一地。
- () 36. 下列關於「九品官人法」與「科舉制度」，何者正確？(A)兩者為選才制度，皆必須通過考試才能任官 (B)前者助長世族勢力的發展；後者使平民入仕的機會增加 (C)前者於曹魏時開始實施；後者開始於唐朝 (D)前者注重個人能力；後者強調家世背景。
- () 37. 智淵、子維與東東分別為西周貴族、平民與奴隸階級，關於此三人的生活敘述何者正確？(A)智淵與子維皆受到禮樂制度的規範，以確立上下尊卑秩序 (B)子維與東東的後代子孫，仍分別為平民與奴隸，階級世襲無法改變 (C)智淵、子維與東東不論身分皆可接受教育 (D)子維靠經商致富，可以晉升為貴族。
- () 38. 下列關於匈奴的敘述何者正確？(A)分布在長城以北，以農業為生 (B)西周時攻陷首都鎬京，導致西周滅亡 (C)漢武帝時匈奴遷入黃河流域，胡漢衝突不斷 (D)西晉亡於匈奴攻陷首都洛陽，史稱永嘉之禍。
- () 39. 關於漢武帝實施的政策，下列敘述何者正確？(A)要求地方官員推舉孝廉之人才擔任官員 (B)鼓勵學術思想多元發展 (C)統一文字、貨幣，有助於文化交流與貿易發展 (D)設立太學，教授學子道家思想，成績優異者可出任官職。
- () 40. 唐朝國力強盛，外來文化豐富多元。下列有關唐朝文化請選出正確敘述？(A)唐朝胡漢觀念淡薄，與魏晉南北朝時期胡漢融合有關 (B)唐朝以漢人文化為主，胡人文化漸消失於社會中 (C)日本文化也傳入中國，唐朝建築受到日本東大寺影響 (D)阿拉伯人至中國貿易傳入造紙術，影響中國文化發展。
- () 41. 鮮卑族智凱響應政府的遷都政策(如下圖)，請問智凱的生活還會出現何種情景？(A)當時下令遷都的皇帝是北魏孝文帝 (B)智凱謹守鮮卑族的傳統文化，不敢更改 (C)智凱響應遷都，象徵經濟中心的南移 (D)智凱只能與胡人結婚，不可與漢人結婚。



- () 42. 每個時期對付外族的方式不盡相同，請問下列敘述正確的有：(甲)唐朝皇室有胡人血統，但謹守胡漢之別，推行漢化政策 (乙)漢武帝修築長城，防禦北方外患匈奴 (丙)漢朝初年以和親與貿易方式，維持與匈奴的和平關係 (丁)唐太宗滅東突厥，被尊為天可汗。(A)甲乙 (B)乙丙 (C)丙丁 (D)甲丁。
- () 43. 關於佛教在中國的發展，下列敘述何者正確？(A)佛教起源於印度，於東漢傳入中國 (B)魏晉南北朝時佛教開始中國化，最受歡迎的是「禪宗」 (C)雲岡石窟與龍門石窟見證佛教在唐朝的興盛 (D)唐朝時佛教信仰傳入日本與朝鮮，成為東亞共同文化之一。
- () 44. 智鈞穿越時空來到中國唐朝一座城市，此城市是中國第一座經過規畫而建設的城市，其採取住商分離的坊市分離制度，城市中可以看到許多外國人，他們可能來自波斯、突厥、吐蕃或新羅等地。請問智鈞穿越時空到達的城市是？(A)長安 (B)洛陽 (C)南京 (D)北京。
- () 45. 北宋在一場對抗外族的戰爭中，皇帝登上前線城樓督戰，結果「諸軍皆呼萬歲，聲聞數十里，氣勢百倍」。最後交戰雙方達成停戰協議，簽訂「澶淵之盟」結束戰爭。請問關於此場戰役的敘述，下列何者正確？(A)交戰雙方是北宋與金國 (B)北宋以公主和親換取和平 (C)此為中國首度以對等外交關係締結的盟約 (D)此戰爭為岳飛作品「滿江紅」中所寫道的「靖康恥，猶未雪」一事。
- () 46. 位於東亞的中國、朝鮮與日本，一方面互相競爭，另一方面在文化層面卻也有相似之處。試就這三個國家的互動選出正確的敘述？(A)唐朝時，中國派遣使節到日本學習其法律與制度 (B)日本流寇侵擾明朝東南沿海，並在沿海進行走私貿易 (C)朝鮮與中國為敵對關係，明朝派兵進攻朝鮮，因日本援助朝鮮而失敗 (D)朝鮮為中國藩屬國，於明清兩朝都到中國進行朝貢貿易。

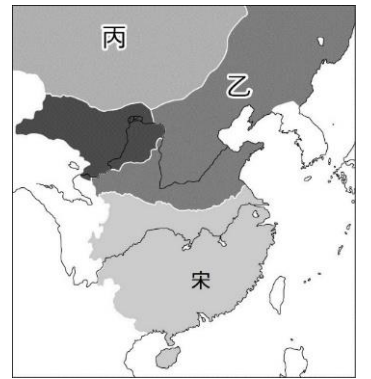
*新航路發現後，歐洲人來到亞洲貿易與傳教，對亞洲許多國家產生了莫大的影響。請回答47-48題

- () 47. 當歐洲人到日本貿易與傳教時，日本採取哪些措施因應：(甲)實施鎖國政策 (乙)只開放東京港貿易 (丙)只允許中國與荷蘭到日本貿易 (丁)以開放態度接受歐洲人的宗教與文化。(A)甲乙 (B)甲丙 (C)乙丙 (D)丙丁。
- () 48. 面對歐洲人勢力，亞洲其他地區又有哪些改變？(A)荷蘭人占領台灣南部，並對原住民傳播基督教信仰 (B)葡萄牙人佔領菲律賓，使得當地出現許多葡萄牙式建築 (C)教宗允許中國教徒「祭祖祀孔」，使利瑪竇等傳教士在中國傳教順利 (D)中國清朝康熙皇帝禁教，使得中西文化交流中斷。
- () 49. 阿拉伯人擅長海上貿易，自阿拉伯半島出發，往東航行橫越印度洋，南洋到達中國。下列關於阿拉伯人在中國的發展何者正確？(A)唐朝時，阿拉伯人需要到驛站處理進出口貨物稅收事宜 (B)唐朝時，阿拉伯人將中國的指南針傳入歐洲 (C)宋朝時，阿拉伯人將伊斯蘭教傳入中國，中國也出現清真寺建築 (D)元朝時，阿拉伯人因擅長管理財政，被任命管理國家財政事務。
- () 50. 阿睿在課本中看到下圖，由圖中所描繪的路線圖來判斷，下列敘述何者正確？(A)此圖為阿拉伯人的海上貿易路線圖 (B)圖中B地作物傳入中國，紓解糧食不足問題 (C)此路線使中國對外貿易出超，白銀大量流入中國 (D)中國展開海外探險，致使華僑移民南洋。



() 51. 關於蒙古人的敘述何者正確？(A)鐵木真建立蒙古國；成吉思汗建元朝，滅南宋 (B)蒙古人 13 世紀展開三次西征，建立四大汗國，版圖橫跨歐亞二洲 (C)歧視對待版圖內各民族，只有蒙古人能擔任政府官員 (D)元朝是繼女真人之後，第二個統一中國的草原民族。

() 52. 「這是北宋的一場重大災難，「甲國」士兵大舉揮軍南下，並攻陷京城開封地區，使徽、欽二帝與後宮嬪妃、皇子、宗室貴族多達三千多人被俘虜北去，皇室的財物則被洗劫一空。」請根據上文選出正確敘述？(A)此場重大災難為永嘉之禍 (B)文中甲國是指金國 (C)此戰役後中國形勢如右圖，右圖中乙地為蒙古統治區域 (D)右圖宋朝有驍勇善戰岳飛等名將，後來成功收復北方失土。

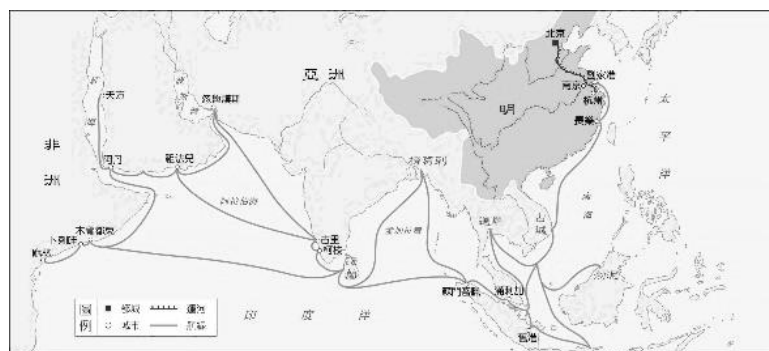


() 53. 中國宋元明清之際，為歐亞多國多民族互動之際，不論海路陸路往來頻繁，也促成多項的文化交流。請就下列與文化交流的敘述選出正確的選項？(A)鄭和下西洋將指南針西傳至歐洲，有助於日後歐洲發現新航路 (B)基督教長老教會利瑪竇翻譯西學《幾何原本》；也將中國的典籍、園林建築傳入歐洲 (C)阿拉伯人與中國戰爭後學會印刷術，並將印刷術西傳至歐洲 (D)蒙古人透過與宋朝戰爭學會火藥技術，並隨蒙古西征西傳至歐洲。

() 54. 下列關於女真族的歷史發展，哪一項敘述正確？(A)唐宋之際女真族崛起，取得燕雲十六州後，對北宋的威脅提高 (B)明朝中期後女真族再次崛起，建國號為滿洲，亦有人稱為滿清 (C)清朝康熙皇帝將臺灣納入中國版圖 (D)是第一個統一中國的草原民族。

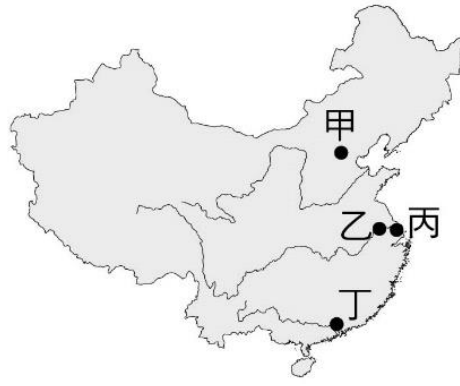
() 55. 關於明朝的敘述，下列何者正確？(A)明朝的建立者為趙匡胤 (B)明朝外患有北方契丹人與東北方滿洲人 (C)明朝為防範北方外患滿洲，將首都遷至北京 (D)明朝末年流寇作亂，政府無力平定，最終走向滅亡。

() 56. 下圖為中國最大規模之一的對外航海行動，關於此行動下列何者正確？(A)東南亞部分區域因而納入朝貢體系 (B)中國政府藉此開拓通往歐洲的新航路 (C)促成西方科技傳入中國 (D)番薯、玉米等作物透過此管道輸入中國。

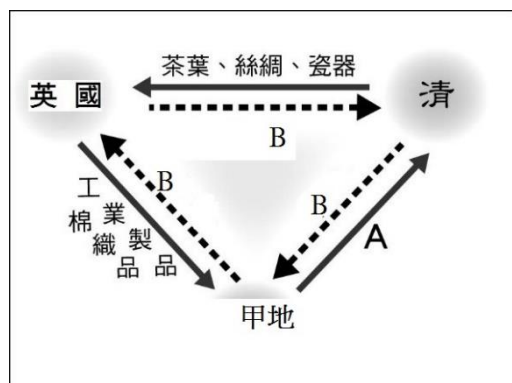


() 57. 關於明清兩朝的國際外交活動—朝貢，下列敘述正確的有？(甲)朝貢貿易反映中國天朝的國際觀 (乙)朝貢貿易是將與中國貿易者視為平等往來的國家 (丙)各國須接受中國的冊封，才能與中國通商 (丁)中國進行朝貢貿易是基於經濟利益的考量，有助於招徠外國商人來華，促使對外貿易興盛。
(A)甲乙 (B)甲丙 (C)乙丁 (D)丙丁。

- () 58. 「上海英租界」是歷史上英國在中國上海的租界區，是中國近代歷史上第一個外國居留地與租界。租界內的警務與司法都不受清朝管轄。請根據上文選出正確的敘述？(A)「租界」一權源自於辛丑條約 (B)上文描述的城市—上海，位於下圖中的丁地 (C)上海出現西式洋樓、吃西餐、喝咖啡也成了時尚生活 (D)在上海辦髮儒服成為中西人士時髦的表現。



- () 59. 清朝在改革浪潮的壓力下，決定成立內閣組織。內閣組織的成員一共13個人，其中8名滿洲人，4名漢人，1名蒙古人，而滿洲皇族更占了5名，皇室比例偏高。請根據上文選出正確敘述？(A)此改革為立憲運動 (B)此改革受到八國聯軍的刺激而產生 (C)此內閣成員深受民眾喜愛，尊稱為「皇族內閣」 (D)此改革結果，擴大了改革派的勢力。
- () 60. 下列有關自強運動的敘述，正確的有？(甲)受到鴉片戰爭戰敗刺激而展開 (乙)成立總理衙門，負責辦理外交工作 (丙)學習西方船堅炮利，成立北洋艦隊 (丁)成立京師大學堂，展開新式教育。(A)甲乙 (B)乙丙 (C)丙丁 (D)甲丁。
- () 61. 下圖是十九世紀前期，中英與甲地的三角貿易圖，圖中的「甲地」是英國的殖民地。請根據下圖，選出正確的描述？(A)圖中甲地為印尼 (B)圖中自甲地出口到中國的A商品為鴉片 (C)圖中的B貨幣指的是銅錢 (D)英國派馬加爾尼到中國，期望拓展中國貿易，買更多的絲綢與茶葉。



- () 62. 甲國是清末中國北方最大外患；乙國原為亞洲小國，在19世紀末的對華戰爭後，一躍成為亞洲強國。這兩國原本是1900年對中國戰爭中的盟友，戰爭結束後，兩國卻因為在華利益的衝突，於數年後引發戰爭，並影響中國展開改革運動。請依據上文選出正確的敘述？(A)甲國為日本，乙國為俄國 (B)文中1900年的對華戰爭是指甲午戰爭 (C)甲乙兩國因爭奪中國東北利益而爆發戰爭 (D)促使中國展開改革指的是庚子後新政。
- () 63. 請依據下列與日本有關的三則資料，選出正確答案
 資料一：明確禁止日本人出國、禁止在外的日本人回國，並規定與外國的貿易僅在一地進行，貿易對象僅限於甲國和乙國。
 資料二：16世紀下半葉，西方文化、宗教與日本傳統發生衝突。
 資料三：日本開放港口圈定外國人居留地，以及簽訂片面最惠國待遇的條款等。
 (A)此三段資料按照時間先後順序排列二一三 (B)資料一中的甲國和乙國是指中國與西班牙 (C)資料一中與外國貿易的地方是指江戶 (D)資料三中日本最先開放英國人進入日本貿易。
- () 64. 清朝末年的對外戰爭多數以敗戰收場，簽訂許多喪權辱國的條約。下列戰爭與條約的敘述何者正確？
 (A)甲午戰爭後，中國陷入瓜分危機 (B)辛丑條約給予外人在通商口岸設置工廠，對中國工業發展影響

甚大 (C)南京條約給予英國領事裁判權，影響中國財政收入 (D)鴉片戰爭讓外國人的勢力由沿海深入到內陸。

- () 65. 中日兩國遭受外力入侵後，皆曾興起富國強兵的改革運動，有關兩者改革運動的比較，下列敘述何者正確？(A)中國自強運動由慈禧太后發起，日本明治維新則由明治天皇領導 (B)自強運動與明治維新皆為制度層面的改革 (C)明治維新實施君主專制，明治天皇掌握大權 (D)甲午戰爭證明中國自強運動失敗，日本明治維新成功。
- () 66. 19世紀末至20世紀初，慈禧太后可說得上是當時中國最具影響力的女性之一。下列關於慈禧太后的敘述何者正確？(A)她必須對八國聯軍攻打中國負起責任 (B)她極力反對改革，未曾推動改革運動 (C)她是戊戌變法的主要倡導者 (D)她不畏懼外敵入侵，從未逃離北京避難。
- () 67. 北京西城區阜成門外有一塊墓碑上寫著：「利先生，諱瑪竇，號西泰，大西洋意大利人。自幼入會真修，明萬曆壬午年航海手入中華行教。萬曆庚子年來都，萬曆庚戌年卒，在世五十九年，在會四十二年。」這塊墓碑雖經過清末的義和團亂事與後來文化大革命的破壞，但最終能修復並列為文物保存。請問：此墓碑所記載的人物對歷史的發展有下列哪一項貢獻？(A)中國的天主教信徒從此以後可以祭祖祀孔，得到教宗的全力支持 (B)將義大利納入明清時期的朝貢貿易體系當中 (C)將西方科技傳入中國，促成中西文化交流 (D)中國因此結束閉關自守政策

八年級公民科：第68-100題

- () 68. 為因應臺中市市民需求，臺中市政府積極推動居家照顧服務，協助因身心受損致日常生活功能需他人協助之居家老人及身心障礙者，得到所需之持續性照顧，並紓緩家庭照顧者的壓力。這是現代民主國家的何種目的？
(A)保衛國家安全 (B)維持社會秩序 (C)不受國際干涉 (D)發展社會福利
- () 69. 各政黨在選舉前，除了舉辦黨內初選外，亦常以「民調」數字為基礎決定候選人，以爭取執政的機會。上述做法顯示民主政治具有何種特色？
(A)民意政治、責任政治 (B)法治政治、政黨政治
(C)政黨政治、民意政治 (D)責任政治、法治政治
- () 70. 王老師上公民課時，請同學們表達對「民主政治」的看法，下列哪些同學的觀念是正確的？
宜亭：政府的組成受民意的監督
詩文：政府的運作不受法律規範
怡君：國家的主權屬於全體國民
柏誠：政府的施政須優先考量政黨的利益
(A)宜亭、詩文 (B)宜亭、怡君 (C)柏誠、怡君 (D)柏誠、宜亭
- () 71. 「絕對的權力，會造成絕對的腐敗」，因此分權制衡，是現代民主政治的內涵之一。著名的分權理論有二：三權分立與五權分立。請問：下列哪些敘述正確？
(甲)三權分立→孫中山，五權分立→孟德斯鳩。
(乙)將監察權從立法權中獨立出來，可以杜絕議會專制。
(丙)三權分立→美國，五權分立→中華民國。

(丁)將考試權從行政權獨立出來，會造成行政權萎縮、無能。

(A)甲乙 (B)丙丁 (C)乙丙 (D)甲丁

() 72. 巧愉看到一段歷史敘述：

從二里頭文化遺址的描述內容判斷，最能看出
哪些國家組成要素？

- (A)政府、主權
- (B)主權、領土
- (C)人民、領土
- (D)人民、政府

二里頭文化遺址中發現當時
政治中心——規模宏大的宮殿
基址，以及各種青銅器，反映
出政治威權的強化……顯示
當時已有國家組織的出現。

() 73. 下圖是美國最高法院大法官艾蕾娜·卡根(Elena Kagan)在其就任演講稿中部分內容：

最高法院(美國最高司法機構)的
責任，是確保政府永不越界或是
侵害人民的權利。

這段文字從三權分立的角度來看，下列哪一個敘述最接近該法官所要表達的意思？

(A)

節制司法權的無限擴張，認為
司法權不應該使用法律來霸凌
無知的人民，損其權利

(B)

制衡行政權及立法權，透過制
定周詳的法律，來避免政府侵
害到人民的自由與權利

(C)

權力使人腐化，最高法院存在
的目的是避免政府獲得絕對的
權力，侵害人民的權利

(D)

提供人民權力，使得民眾的意
志得以被政府所採納，落實「主
權在民」的民主精神

() 74. 英國首相請求該國女王於重大決策時，關閉國會 5 個星期。此舉由最高法院判決，認為促請女王關閉國會，不僅缺乏合理理由、且嚴重影響國會行使民主職權，因此無效，國會須在最短時間內重新召開。下列哪一位學者在分析此事時，論點較為正確？

- (A)學者甲：法院解決立法權專制困境
- (B)學者乙：該國實施五權分立的制度
- (C)學者丙：司法權制衡行政權的展現
- (D)學者丁：行政權出現效率低落問題

- () 75. 貝蒂是美國籍人士，來臺灣工作認識張先生，兩人結婚後生下兒子國書。根據我國《國籍法》的規定，下列敘述何者正確？
- (A) 國書必須透過歸化的方式，才能成為我國國民。
 (B) 父親張先生是我國的國民，國書即是我國國民。
 (C) 等國書成年之後，才能選擇是否成為我國國民。
 (D) 因為母親貝蒂是美國籍，所以國書不能成為我國國民。
- () 76. 下列是有關「國家」和「政府」的差異，請問下列敘述何者正確？
- (A) 國家是政府事務的執行者，所以政府就是國家。
 (B) 國家涵蓋的範圍較廣，政府是國家的組成要素之一。
 (C) 國家的統治權屬於人民全體，國家的主權屬於執政的政府。
 (D) 國家的更替代表國家統治權的移轉，國際上的地位也隨之改變。

題組

(一) 2021年12月，我國舉辦四大公投，針對核四重啟、中油遷離桃園大潭、禁止萊豬進口和公投綁大選等重大議題，由人民投票決定政府未來的施政方向，若公投案通過，政府必須遵守公投結果，並加以執行。發起公投案的在野黨呼籲民眾四案均投同意，踴躍表達自己的意見，讓這次公投體現主權在民的理念。請問：

- () 77. 上文中，並未彰顯民主國家政府運作的那一個特色？
- (A) 法治政治 (B) 民意政治 (C) 責任政治 (D) 政黨政治
- () 78. 根據上文，主張投下「同意」票的政黨，在民主國家中通常扮演什麼角色？ (A) 組織政府 (B) 負責決策 (C) 執行政策 (D) 監督施政

(二) 附表為亞洲某一國家近四任總統大選主要政黨得票率，第十五任總統當選之後，結束乙黨自開國以來長達50年的執政。請問：

	甲黨	乙黨
第十五任總統大選	40.3% (當選)	38.7%
第十六任總統大選	48.9% (當選)	46.5%
第十七任總統大選	26.1%	48.7% (當選)
第十八任總統大選	48%	51.5% (當選)

- () 79. 從題目敘述中，顯示該國已經經歷了幾次政黨輪替？
- (A) 1次 (B) 2次 (C) 3次 (D) 4次
- () 80. 政黨輪替顯示人民以選票表達對執政黨施政的不滿，此所代表的意義為何？
- (A) 政黨輪替時，無法和平轉移政權。 (B) 政黨施政時，必須對人民負責。

(C)政黨參選時，須推出優秀的候選人。(D)政黨成立時，應匯集民眾的意見。

(三)法國大革命期間，法國國民議會通過《人權宣言》，重要內容節錄如下：

第一條：「人們生來始終是自由的，在權利上是平等的。」第三條：「一切主權的本源主要寄於國民，任何團體、任何個人均不得行使未由國民明確授予的權利。」第七條：「所有公民都有權親自或經過代表參與制訂法律。」請問：

()81. 由前文的敘述判斷，國家法律的目的最可能是下列何者？

(A)鞏固國王權力 (B)鞏固政府權力 (C)剝奪人民權利 (D)保障人民權利

()82. 下列是有關「人治社會」和「法治社會」的差異，請問下列敘述何者正確？

甲：「人治社會」統治者不受法律約束，法律的執行也是依據統治者的想法而變動。

乙：「法治社會」意味著人民可自行制定法律，法治社會中可以完全杜絕「人」的影響力。

丙：「人治」的效果往往因人而異，「法治」才可以建立穩定而客觀的標準。

丁：在「法治社會」中，法律由統治者制定。作為管理國家與人民的強力工具。

(A)甲乙 (B)丙丁 (C)甲丙 (D)甲乙丙

(四)根據報導，有日本武官指出中國漁民登上釣魚臺，而這些漁民實際上是中國民兵，通常假扮成漁民。日本駐美國大使館表示，中國船隻經常進入附近的○○捕漁，甚至會進入到釣魚臺□□內。中國海警船接連不斷的進入到釣魚臺附近海域，日本認為中國正在試探日本的底線。目前日方還沒有向釣魚臺派遣軍隊的計畫，如果日本將部隊部署到釣魚臺，將加劇緊張局勢，但日方不想升級對立的局勢。請問：

()83. 依據上述內容，有關釣魚臺的問題，主要是在爭奪哪些國家要素的擁有權？

(A)人民、領土 (B)領土、主權 (C)政府、領土 (D)政府、主權

()84. 上述的○○與□□分別指下列何者？

(A)經濟海域；領海 (B)領陸；領海 (C)領海；公海 (D)領海；經濟海域

()85. 某地方新聞快報：「甲提出整治地方親水公園的計畫，乙正開會質詢相關人員。」請問：上則新聞中提到的甲、乙兩機關分別為何？

(A)縣政府、縣議會 (B)縣政府、立法院

(C)縣議會、縣政府 (D)縣政府、市民代表會

()86. 下列是有關「預算」與「決算」的敘述，請問：下列那些的敘述正確？

(甲)立法院應編列「預算」，送交行政院審查。

(乙)行政院應編列「預算」，送交立法院審查。

(丙)立法院審核「決算」後，送交監察院審計部審核。

(丁)監察院審計部審核「決算」報告後，送交立法院審議。

(A)甲乙 (B)乙丙 (C)甲丙 (D)乙丁

() 87. 新聞時事報導：「監察委員調查法官集體收受立法委員賄賂案，近日將提出【甲】，包括高院法官、檢察官、書記官等五人，其被【甲】後將移送司法院【乙】，最重可判刑與撤職處分。」

請問：新聞中提到的【甲】、【乙】分別是什麼？

(A)彈劾、憲法法庭 (B)糾舉、懲戒法院
(C)彈劾、懲戒法院 (D)糾舉、憲法法庭

() 88. 下列是班上同學對中央政府相關人員職權的比喻。請問：哪些比喻例子正確？

(甲)行政院：公務員的任免者

(乙)立法委員：法律接生婆

(丙)大法官：《憲法》守護神

(丁)監察委員：公務員的監督者

(A)甲乙丙 (B)乙丙丁 (C)甲丙丁 (D)甲乙丁

() 89. 小璇在網路上看到一則新聞：「【甲】日前通過《農漁會法》修正案，行政院在收到該院之公文後，認為窒礙難行，於是決定在呈請【乙】核可後，動用【丙】權，請【甲】重新討論。」

請問：新聞中提到的【甲】、【乙】、【丙】分別是下列何者？

(A)立法院、總統、覆議權

(B)立法院、總統、審查權

(C)行政院、司法院、審查權

(D)行政院、監察院、覆議權

() 90. 請問：下列何人是在立法院任職？

靜香：「她必須準備施政報告，並向立法委員報告。」

森田：「他負責辦理高等、普通考試，為國家選拔人才。」

花道：「他針對美國含萊克多巴胺豬肉可能會進入校園午餐的疑慮，質詢行政院農委會官員。」

英倫：「她根據人民的陳情，調查違法失職的公務人員。」

(A)靜香 (B)森田 (C)花道 (D)英倫

() 91. 請問；附圖對話中所提到的制衡方式應是指下列何者？



(A)提出彈劾案 (B)提出糾正案 (C)提出不信任案 (D)提出覆議制度

- () 92. 立法委員是依「單一選區兩票制」的方式產生。下列關於立法委員的敘述，何者正確？
- (A)任期四年，連選得連任一次 (B)一個選區選出一位立法委員
(C)目前我國的立法委員有 235 席 (D)立委是屬於地方的民意代表
- () 93. 紐西蘭自 2004 年起，向農民徵收牛、羊、鹿的「放屁稅」，希望能藉此處理溫室氣體排放的問題。臺灣為降低二氧化碳的排放量，也思考是否制定相關稅法來課徵綠色稅，但是許多業者擔心競爭力會因此而下降，引發反彈聲浪。我國若要採行制定相關稅法來課徵綠色稅，須經中央政府某院同意後才可執行。請問：下列何者也是該院的職權？
- (A)提出領土變更案 (B)掌理公務人員退休事宜 (C)彈劾違法公務人員 (D)審理政黨違憲的解散案件
- () 94. 921 大地震剛發生時，臺灣還沒有災防法，沒有重大災害的救助法源，前李登輝總統在大地震發生的第 5 天即發布緊急命令，定出救災重建不受預算法及公共債務法的限制，及各種中央、地方救災和重建的緊急措施。下列是有關緊急命令的發布流程：(甲)行政院會議之決議，由(乙)總統發布緊急命令，並於(丙)5 日內，並提交(丁)行政院追認。
- 請問：上述哪些說法正確？
- (A)甲乙 (B)乙丙 (C)乙丁 (D)甲丁
- () 95. 某政治思想家主張：「政府之正當權力是得自被治理者的同意而產生。」此處所謂的「同意」，通常是指公開且普通的直接選舉過程。請問：下列哪一公職人員的產生，符合上述選舉原則？
- (A) 監察委員 (B)行政院院長
(C) 縣(市)議員 (D)省諮議員
- () 96. 桃園市於民國 106 年正式施行《桃園市發展低碳綠色城市自治條例》，規定市內各公私立學校應每年對教職員工及學生實施兩小時以上低碳環境教育。而市府各局處權責各有劃分，為建立低碳綠色城市的目標努力。請問：根據上述，下列何者正確？
- (A)桃園市與新竹市屬於同一地方政府層級
(B)《桃園市發展低碳綠色城市自治條例》須經桃園市民代表會審議通過
(C)《桃園市發展低碳綠色城市自治條例》的推動應由桃園市政府負責監督
(D)在地方政府的工作項目中，發展低碳城市包含了安全衛生及教育文化等工作。
- () 97. 依照《地方制度法》，和平區為台中市 29 個行政區之一。請問：下列關於「和平區」的敘述，何者正確？
- (A)和平區公所為行政院的派出機關 (B)和平區區長為台中市市長指派
(C)立法機關為和平區民代表會 (D)和平區公所負責審議地方法規與預算
- () 98. 新聞報導：「《嘉義市食品安全管理自治條例》草案經◆◆三讀通過，成為全臺第一個訂定美豬瘦肉精零檢出條款的縣市，轄內販售豬肉及其製品不得檢出瘦肉精，業者應主動下架、停止販售，違者將處 1 萬元以上、10 萬元以下罰鍰。」請問：下列相關敘述，何者正確？

- (A)◆◆應為立法院 (B)◆◆應為直轄市山地原住民區民代表會
(C)嘉義市為直轄市 (D)報導內容屬於地方政府自治事務的安全衛生項目

() 99. 星宇在校外教學時參觀台北市議會，請問：下列各項事務，何者是他在議場中不會看到的？

- (A)審查台北市政府提出的教育預算 (B)質詢台北市政府教育處處長
(C)對台北市政府的不當施政提出糾正案 (D)審查發展觀光產業的各項地方法規

() 100. 教育部公告新型冠狀病毒 (COVID-19) 停課標準：「高中以下班級有一名師生確診，該班停課十四天；一校有兩名師生確診，全校停課十四天。」對此，各縣市教育單位積極針對停課補課、輔導及評量方式等，研擬應對措施。請問：教育部和各縣市教育單位的分權方式屬於下列何者？

- (A)均權制度 (B)地方自治 (C)覆議制度 (D)水平分權