

單選題：共一百題

七年級地理科：第 1—33 題

- () 1. 長榮貨櫃輪長賜號西元 2021 年 3 月 5 日從台北港出發，卻在紅海北向進入蘇伊士運河時，在河口南端 6 哩處，船身偏離航道，觸底擱淺，造成運河雙向大阻塞。網友想透過「貨櫃輪船即時動態地圖網站」找出目前長賜號在蘇伊士運河的情形，如【圖一】標示處即為長賜號位置，若縮小【圖一】的涵蓋範圍，將會變動下列哪一項地圖要素？ (A) 圖名 (B) 圖例 (C) 方向標 (D) 比例尺



【圖一】

- () 2. 根據聯合國《海洋法公約》規定，各國擁有在其經濟海域內資源的使用權。臺灣因四面環海，島嶼眾多，擁有廣大的經濟海域，但因與鄰近國家的經濟海域重疊，經常有漁業上的糾紛。上文所述的鄰近國家不包含下列何者？ (A) 中國 (B) 日本 (C) 菲律賓 (D) 南韓
- () 3. 關於台灣「相對位置」的敘述，下列何者正確？
 (A) 大致在東經 120~122 度，北緯 22~25 度 (B) 位於越南的西北方
 (C) 掌控太平洋西側南北往來的通道 (D) 從遼闊的大西洋進入亞洲大陸的重要門戶
- () 4. 台灣櫻花鉤吻鮭屬於陸封型的淡水魚類，是台灣唯一一種溫帶性魚類，也是只產於台灣的特有種，該魚種曾瀕臨絕跡，經鄰近的雪霸國家公園管理處多年來推動保育措施下，族群數量逐年攀升。除了上述魚種，台灣還有許多特有生物，此現象的形成與下列哪項環境因素最相關？
 (A) 附近海域有寒、暖流交會 (B) 位於亞洲大陸邊緣的孤立島嶼
 (C) 山地面積占比高，山脈多呈南北向 (D) 北回歸線通過，位居溫熱帶交界處
- () 5. 太平島位於南海南沙群島北部，經緯度位置約為 (114°E, 10°N)，面積 0.51 平方公里，是南沙群島中最大的天然島嶼，與台灣本島相距約 1600 公里，目前由我國實際掌控，但菲律賓、越南及中國皆主張擁有太平島主權。請問：依照太平島的經緯度位置判斷，其位於哪一個時區？
 (A) GMT+9 (B) GMT+8 (C) GMT+7 (D) GMT+6
- () 6. 【表一】是四架飛機的航線資訊，起始點都在 0 度經線，分別沿著所規劃的路線繞地球一圈，則何者航行的里程最長？ (A) 甲 (B) 乙 (C) 丙 (D) 丁

【表一】

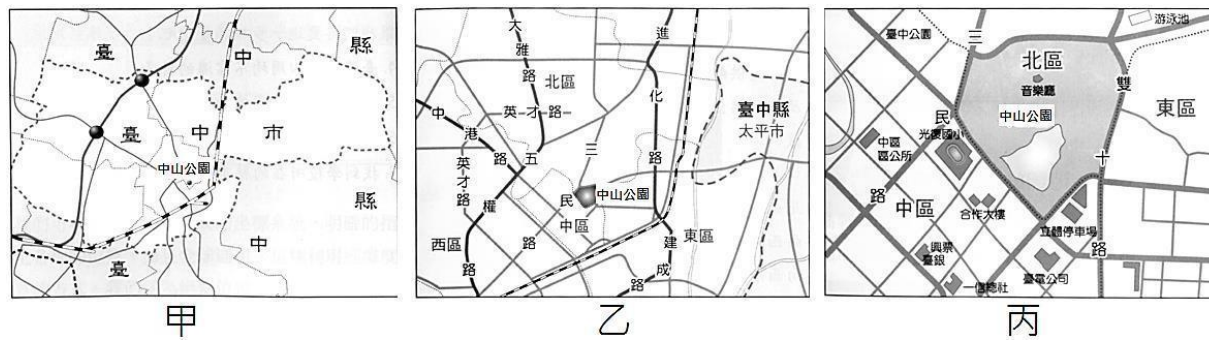
甲	沿 0 緯線繞地球一圈
乙	沿 23.5 緯線繞地球一圈
丙	沿 40 緯線繞地球一圈
丁	沿 66.5 緯線繞地球一圈

- () 7. 關於經緯線的比較，【表二】中的敘述何者正確？
 (A) 甲 (B) 乙 (C) 丙 (D) 丁

【表二】

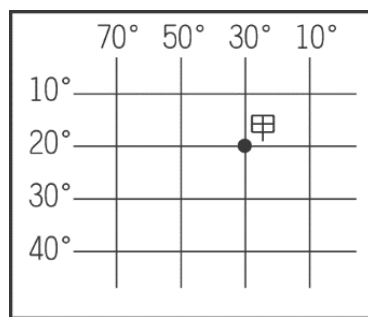
	(甲) 長度	(乙) 度數	(丙) 特色	(丁) 影響
經線	等長	東西經各 90 度	相互平行	氣候
緯線	由赤道向兩極變短	南北緯各 180 度	交會於南北兩極	時間

- () 8. 至善國中前門到後門的實際距離約為 200 公尺，在地圖上用尺量是 10 公分，請問此張地圖的比例尺是多少？ (A) 1:20 (B) 1:200 (C) 1:2000 (D) 1:20000
- () 9. 強烈颱風「燦樹」目前在北緯 15 度，東經 130 度，正朝台灣方向前進，颱風眼清晰可見。請問：颱風「燦樹」位於台灣的哪一個方向？ (A) 西北方 (B) 西南方 (C) 東北方 (D) 東南方
- () 10. 【圖二】為三種不同比例尺的台中市中山公園位置圖，下列敘述何者正確？
 (A) 甲涵蓋範圍最小，內容最詳盡 (B) 乙涵蓋範圍最大，內容最簡略
 (C) 比例尺大小順序為：甲 < 乙 < 丙 (D) 丙涵蓋範圍最大，內容最詳盡



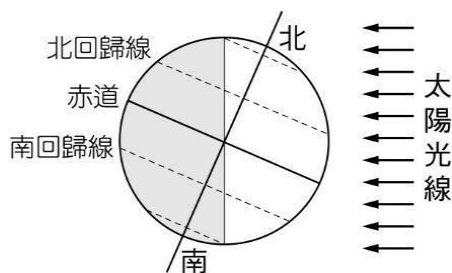
【圖二】

- () 11. 根據經緯線判斷，在【圖三】中甲的經緯度位置為何？
 (A) (30°W, 20°N) (B) (30°E, 20°S) (C) (20°E, 30°N) (D) (30°W, 20°S)



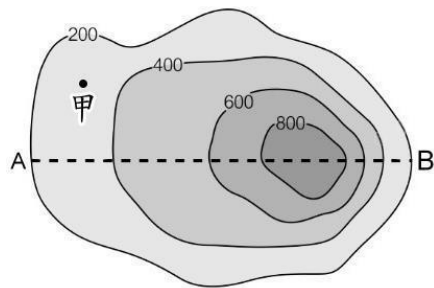
【圖三】

- () 12. 受地軸傾斜影響，太陽的直射帶會在南北回歸線間來回移動，因而形成春夏秋冬的四季變化，如【圖四】所示，此時的台灣可能在過哪一個節日？
 (A) 兒童節 (B) 端午節 (C) 中秋節 (D) 聖誕節

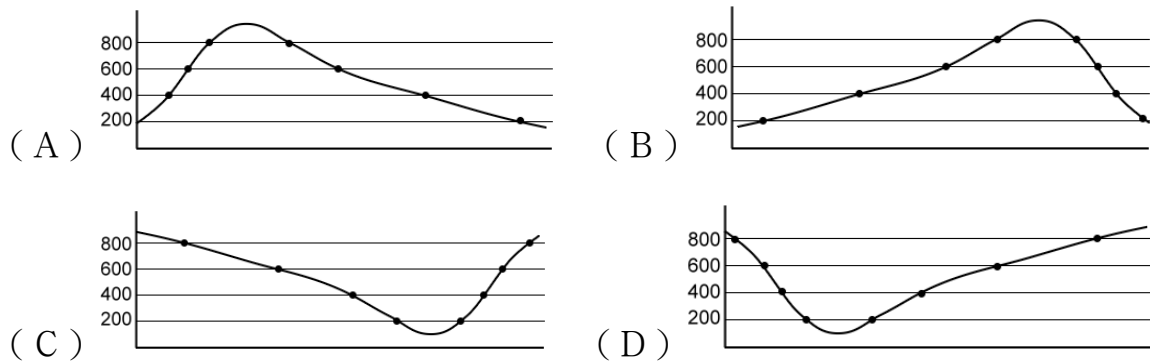


【圖四】

- () 13. 台灣因山林面積大，巡查不易，出現許多違法開發山林資源的事件。政府機關若要快速比對不同時間的地表狀況，找出可能遭到大範圍違法伐林的地點，使用下列哪一種地圖最為適合？
 (A) 分層設色圖 (B) 衛星影像圖 (C) 地形剖面圖 (D) 等高線地形圖
- () 14. 郁永河曾在《裨海紀遊》一書中描述了『大屯火山群』：「石作覽靛色，有沸泉，草色萎黃，無生意。山麓白氣謠，是為黃穴。穴中毒煙噴人，觸腦欲裂。」請問：出現上述此種地理景觀的營力作用與下列何者最為相似？
 (A) 台南七股昔日製鹽業發達 (B) 野柳多蕈狀岩與岬灣海岸
 (C) 彰化雲林沿海一帶地層下陷 (D) 綠島朝日溫泉為海底溫泉
- () 15. 【圖一】是某地的等高線地形圖，若以 AB 連線作為剖面線，畫一張地形剖面圖，則其地形剖面圖最接近下列何者？



【圖一】

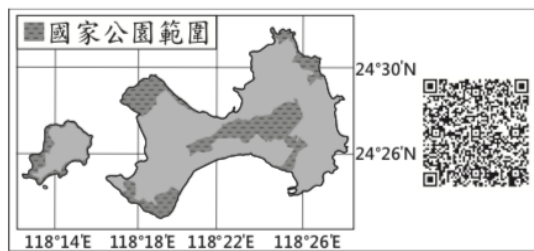


- () 16. 臺灣地形多山，鐵路路線常需興建隧道，才能克服地形障礙。【圖二】為臺灣鐵路路線分布圖，若依照臺灣的地形分布判斷，哪一路段沒有穿越山地或丘陵的隧道？
 (A) 甲 (B) 乙 (C) 丙 (D) 丁



【圖二】

- () 17. QR Code 是目前常見的一種二維條碼。利用手機對準 QR Code 拍照，再搭配解碼軟體，就可以顯示條碼內儲存的訊息。【圖三】是針對臺灣某國家公園特色所設計的 QR Code，將其解碼後，得到的訊息最可能包括下列何者？
 (A) 火山活動形成的噴氣 (B) 傳統的閩南式建築聚落
 (C) 雄偉壯麗的峽谷景觀 (D) 珊瑚礁堆砌的防風牆

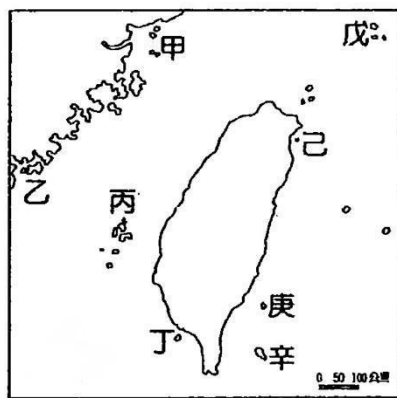


【圖三】

※台灣島誕生在大陸板塊與海洋板塊的碰撞，地質型態多樣。先民們渡海開拓、討海求生，與潮流的起落共呼吸，並發展出豐富多樣的文化樣貌。請根據【圖四】來回答下列問題：

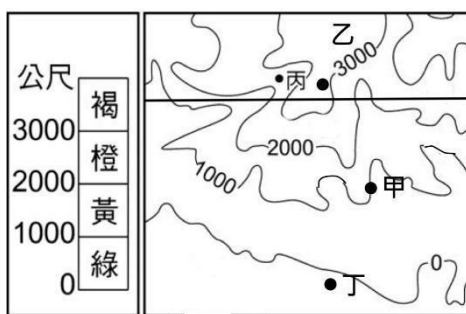
- () 18. 阿至、阿善、阿國和阿中四個同學在討論【圖四】中台灣各個離島的特色。請問誰的敘述最為正確？
 (A) 阿至說：『甲』島嶼附近常有中國漁船進入海域捕魚，常引發糾紛。該島嶼是國防前線，近年因戰地任務解除，因而轉型發展觀光業，每年春夏季的「藍眼淚」海洋奇景，吸引眾多遊客前往
 (B) 阿善說：我非常喜歡『乙』這座島嶼的碧海藍天、捕魚人家和仙人掌冰的好滋味。當地人早期就地取材用硧砧石蓋的房子相當具有特色。
 (C) 阿國說：若到『丙』島嶼遊玩，可以規劃浮潛活動，也可在日出時，浸泡在世界罕見的海底溫泉欣賞日出。
 (D) 阿中說：『戊』島嶼孤懸於海中，外型貌似浮龜而得名，屬於宜蘭頭城鎮管轄

- () 19. 2019 年台灣與吉里巴斯斷交，這是一個橫跨東西南北半球區域的國家，平均海拔高度 2 公尺，由 32 個環礁島和一個珊瑚礁島組成，擁有世界最大的海洋保護區，受到全球暖化的衝擊，被譽為下一個亞特蘭提斯城。請問：【圖四】中台灣哪一個離島與吉里巴斯的島嶼形成原因相同？
 (A) 甲 (B) 丙 (C) 丁 (D) 辛



【圖四】

※等高線指的是地形圖上高度相同的各點所連成的閉合曲線，是等值線的一種特殊形式，能反映一片區域的整體地勢情況。請根據【圖五】來回答下列問題：



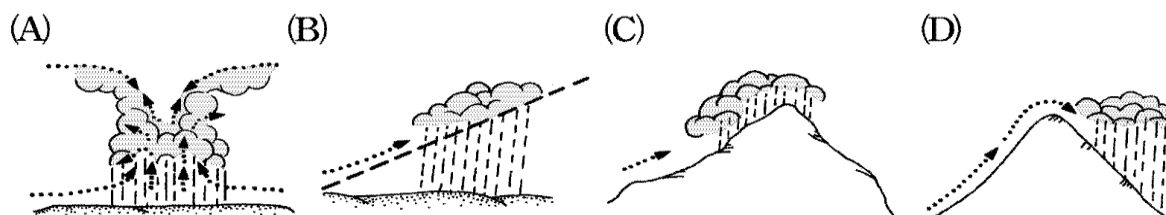
【圖五】

- () 20. 根據【圖五】中的高度繪製分層設色圖時，『丙』地上應該塗上什麼顏色？
 (A) 綠色 (B) 黃色 (C) 橙色 (D) 褐色
- () 21. 根據【圖五】中四個地點的等高線分布狀況判斷，哪一個地點最可能是河谷所在？
 (A) 甲 (B) 乙 (C) 丙 (D) 丁
- () 22. 請問【圖五】中『乙』地高度可能為下列何者？
 (A) 2000 公尺 (B) 2900 公尺 (C) 3000 公尺 (D) 3200 公尺
- () 23. 【表一】中的甲、乙、丙代表台灣的三條主要河川，根據表中資訊判斷，此三條河川由北而南的分布依序為何？(A) 甲乙丙 (B) 乙丙甲 (C) 丙甲乙 (D) 丙乙甲。

【表一】

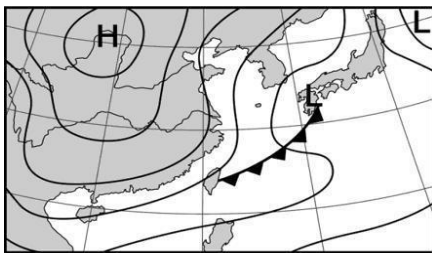
河川	
甲	上游支流有櫻花鉤吻鮭的棲息河域，下游河口附近有高美濕地
乙	河口附近的七股潟湖，是黑面琵鷺南下過冬的棲息地
丙	水量豐穩，無明顯枯水期，早期具航運價值

- () 24. 冬季季風在亞洲大陸原本屬性是乾冷，但吹至台灣前先經過黃海、東海海面，因此挾帶豐富的水氣，抵達台灣東北部遇到雪山山脈等地形而在迎風坡抬升形成降雨。根據上述判斷此種降雨類型應屬於下列哪一種？



- () 25. 台灣年降水量充沛，但是平均每人可再生水資源卻不算豐富，主要是哪些因素造成的？
 (A) 土地面積狹小且人口密集 (B) 蒸發量大且人口密集
 (C) 土地面積狹小且山地地形廣布 (D) 河川流速快且降水季節分布平均。

- () 26. 新聞快訊：「2021年10月16日新北市雙溪區虎豹潭，因上游暴雨導致河川水位瞬間暴漲，使得6人遭洪水沖走。」上述意外發生與臺灣河川哪一特性有關？
 (A) 西部河川較東部長 (B) 河川含沙量較高
 (C) 河川冬夏季流量變化大 (D) 河川坡度陡峭且流速快。
- () 27. 【圖六】是某日的東亞地面天氣圖，根據圖中資料判斷，下列敘述何者正確？
 (A) 低氣壓盤據於陸地，氣溫驟降 (B) 正值冬季，各地晴朗而寒冷
 (C) 滯留鋒過境台灣，帶來降雨 (D) 受颱風影響，此時台灣風雨正盛。



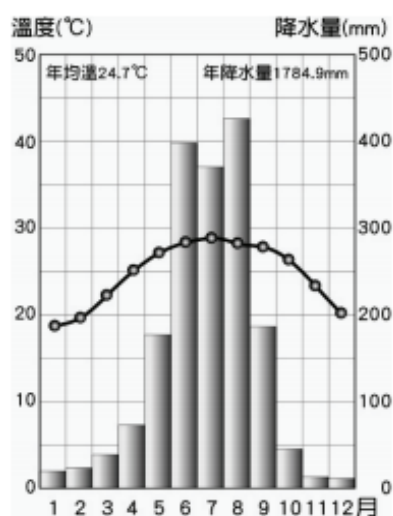
【圖六】

- () 28. 【圖七】為小善在網路上看到的某日下午一點臺灣部分測站的氣溫資料，當時臺灣氣溫空間分布的差異與下列何者關係最為密切？
 (A) 蒸發旺盛形成熱對流 (B) 滯留鋒面持續向北移
 (C) 熱帶低氣壓逐漸增強 (D) 大陸冷氣團逐漸南下。



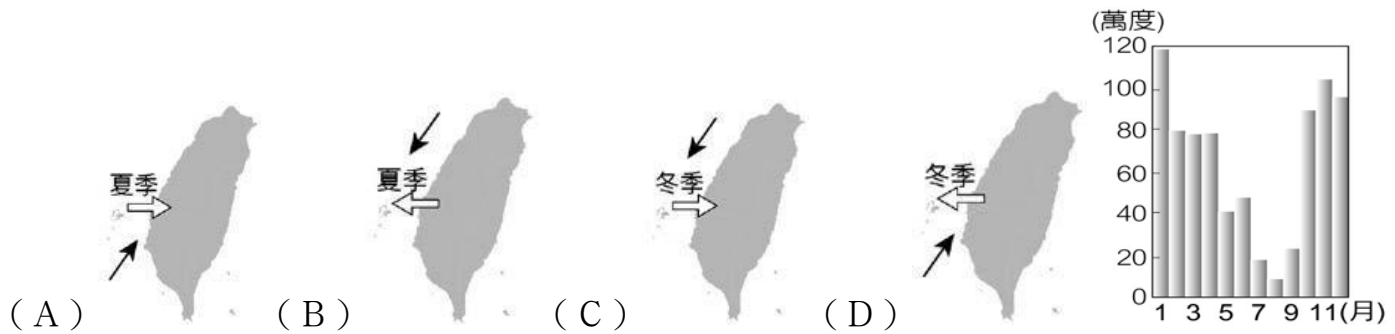
【圖七】

- () 29. 由【圖八】高雄氣候圖可得知，降水主要集中在夏季全年降水量平均一年中最高溫在七月年溫差為24.7度C，上述哪些是屬於高雄的氣候特徵？
 (A) (B) (C) (D)。



【圖八】

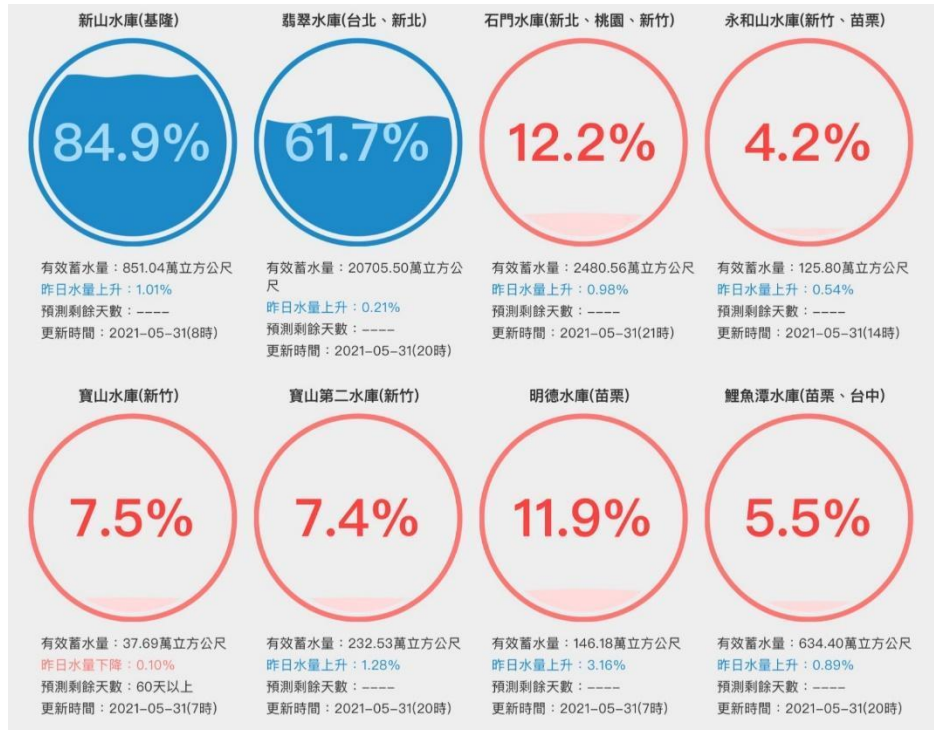
- () 30. 【圖九】是澎湖部分風力發電機組的發電量。政府計畫在該地擴大推動風力發電以取代火力發電，但受限於風力的季節性差異，需在澎湖與雲林間架設海底電纜，發電量高的季節可將多餘電力輸往臺灣本島，而發電量低的季節則依賴臺灣本島支援。若以⇔表示輸電方向，以→表示盛行風風向，則下列何者為上述現象的正確示意圖？



【圖九】

() 31. 2021 年 5 月台灣各地水情大不同，請根據【圖十】判斷在春季時台灣各地水庫蓄水量出現差異的原因為何？

- (A) 人口多寡影響 (B) 北部冬季盛行風帶來雨水
(C) 五六月鋒面滯留影響 (D) 北部為颱風主要侵襲路徑。



【圖十】

*【表二】是臺灣四地(恆春、臺南、宜蘭、阿里山)觀測站的氣候統計資料，請根據表中資料回答下列問題：

【表二】

測站	1 月均溫 $^{\circ}\text{C}$	7 月均溫 $^{\circ}\text{C}$	年降水量 (mm)
甲	15.8	28.1	2739.5
乙	18.1	28.3	1736.2
丙	20.4	27.9	2165.1
丁	5.6	14.1	3980.2


() 32. 依照四地的溫度資料，請將年溫差由小至大排列，下列選項何者正確？

- (A) 丙丁乙甲 (B) 丙乙甲丁 (C) 甲乙丙丁 (D) 丁丙甲乙。

() 33. 造成丙區 1 月溫度較高的原因為何？(A) 緯度 (B) 地形 (C) 距海近 (D) 氣壓低。

七年級歷史科：第 34—66 題

() 34. 下圖是臺灣某考古遺址中，同一文化層出土的四種石器。圖中何者最適合作為判斷該文化層所屬時代的證據？(A)甲 (B)乙 (C)丙 (D)丁【111 年國中會考社會科試題】





- () 35. 今年暑假，政柏和家人參加臺灣離島三天兩夜的旅遊活動，他在當地的天后宮看到一塊石碑，上面有「沈有容諭退紅毛番韋麻郎等」幾個字。請問：有關此事的敘述，下列何者正確？
- (A)紅毛番指的是西班牙人 (B)離島指的是澎湖 (C)此離島地最終為紅毛番占領 (D)沈有容與紅毛番經過激烈戰鬥，最終擊敗入侵的紅毛番。
- () 36. 同學們參加學校舉辦的「考古大歷險」活動，第一關打開錦囊，發現如下兩張線索卡。請問：線索卡中的文字提示應為下列何者？



- (A)新北八里區 (B)新石器時代 (C)敲打製作石器 (D)石板棺與陪葬品。
- () 37. 下表呈現史前人類生活情形的變化，若要以「舊石器時代→新石器時代」的方式，表示舊石器時代至新石器時代的文化變遷，表中甲、乙、丙、丁何者最為適切？ (A)甲 (B)乙 (C)丙 (D)丁

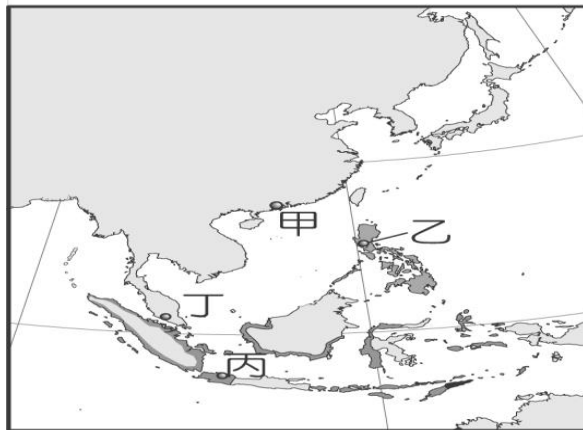
甲	種植根莖類作物→種植稻米
乙	打製石器→磨製石器
丙	燒製陶器→冶煉鐵器
丁	不知用火→用火煮食

- () 38. 荷治時期，(甲)鹿皮 (乙)香料 (丙)稻米 (丁)絲綢 (戊)蔗糖，都是臺灣重要的輸出轉運商品。請問：上述商品中，哪些是所謂的轉運商品？ (A)甲丁 (B)乙丙 (C)乙丁 (D)丙戊。
- () 39. 西元1670年9月，台灣當時統治者與英國簽訂通商協議：雙方保證互相保護對方人民的安全；臺灣允諾英人可來臺從事各項貿易、保障英人的航行不受干擾、可在臺設立商館；英國公司需經常留一鐵匠在臺灣，替此政權製造槍炮，每艘英船必載有火藥、火槍等貨物。下列何者是簽訂此通商協議最大的目的？
- (A)英國想藉機對鄭氏政權傳播基督教 (B)鄭氏政權欲與英國聯手抗清 (C)鄭氏政權為了出口軍用品到英國 (D)鄭氏政權想獲取軍用物資以抗清。
- () 40. 以下三張附圖所描繪的是不同時期的臺灣史前文化特色，請問：下列敘述何者正確？
- (A)三張圖片的時間先後順序為乙→甲→丙 (B)乙圖可能是目前台灣發現最早的舊石器時代文化 (C)甲圖已經開始出現農業生活 (D)丙圖可能是大坌坑文化



- () 41. 關於鄭氏政權時期的各項經濟措施，下列敘述何者正確？ (A)當時拓墾範圍以承天府為中心，向北、向南逐漸擴散 (B)生產大量稻米及蔗糖，以供外銷 (C)全面斷絕與中國大陸的經貿往來，將貿易的重心放在日本與南洋 (D)為解決糧食問題，在台灣北部實行軍屯
- () 42. 有本臺灣史分析17世紀時「某國」占領臺灣的目的(如下左表所示)。根據表中內容判斷，「某國」在東亞占領的貿易據點，應位於下右圖中的何地？ (A)甲 (B)乙 (C)丙 (D)丁。

政治軍事	對抗當時占領南臺灣的歐洲國家，並確保馬尼拉的安全。
經濟	希望維持與中、日兩國貿易的順暢，並吸引漢人和日本人至北臺灣貿易。
宗教	推展海外傳教事業。



- () 43. 以下為三個不同的時期，臺灣統治者對於原住民族施行的教育政策。請排出這三個時期的先後順序？ (A)甲乙丙 (B)乙丙甲 (C)丙甲乙 (D)丙乙甲。

甲：由於「山胞」的知識貧乏，風氣閉塞，對受教育並不感興趣，但若不對山地文化進行改造，他們仍會停留在茹毛飲血、以手取食的原始生活狀態，因此我們應該對落後地區進行教育，廣設山地的國民學校。

乙：我們為「高砂族」設立了學校，在他們接受完基礎教育後，選拔頭腦清楚、身體健全、性情溫和的蕃人繼續栽培，如此一來，他們便能成為我們往後開發山地的助力。

丙：為了招撫這些凶狠又野蠻的「番人」，我們要他們各部落各送幾位「番童」來學我們的語言文字及禮儀，讓他們知書達禮，不再那麼野蠻。

- () 44. 附圖為十七世紀歐洲人占領台江的形勢圖，而甲、乙兩城是當時歐洲人所建立的城堡，下列關於「乙城」的敘述，何者正確？ (A)為西班牙人所建築 (B)是當時的統治中心 (C)地點在今日臺南赤崁樓 (D)此城為普羅民遮城。



- () 45. 明清兩代都曾經實施過海禁政策，下列關於海禁政策的敘述，何者正確？ (A)明代為了防備海盜而實行海禁 (B)清代的海禁是規定來台的漢人男子必須領有渡臺證照 (C)明代是為防範荷蘭的侵擾而實施海禁 (D)清代為了打擊日軍侵臺而實施海禁政策。
- () 46. 清雍正年間，曾調整臺灣的行政區劃為一府四縣二廳。請問：當時清廷調整行政區劃，與下列哪些情形密切相關？ (甲)閩粵移民的日增 (乙)臺灣版圖的擴大 (丙)反清事件的發生 (丁)西方外患的入侵 (A)甲乙 (B)甲丙 (C)乙丙 (D)甲丁。
- () 47. 杰倫在排練一場關於「大航海時代下的臺灣」的話劇，他的臺詞如下：「聽說他是個狠角色，動用軍隊把公司趕走……原本以為公司走了之後，我們的生活會好一些，結果他們擴大開墾，我們有好多地方都被搶去種東西了……他後來派軍隊來打我們，我方死了好多人……。」請問杰倫所扮演的可能是哪一方的角色？ (A)荷蘭人 (B)西班牙人 (C)清帝國 (D)大肚王。

- () 48. 荷蘭人在統治臺灣原住民時，會以「地方會議」(Landdag)的方式進行管理。關於此種荷蘭人和原住民的互動方式，下列敘述何者正確？ (A)此方法屬於直接統治的一種 (B)部落長老與荷蘭官員地位平等 (C)部落長老實際上並無管理部落的權利 (D)會議中部落長老會被授予象徵權威的權杖。
- () 49. 請仔細閱讀以下兩份跟十七世紀平埔族目加溜灣社相關的資料。請問：下列敘述何者正確？ (A)資料一反應西班牙人以羅馬字拼寫原住民語言以利傳教 (B)目加溜灣社是屬於平埔族凱達格蘭族的一支 (C)資料一發生之時間早於資料二 (D)資料二中的學者沈光文居住在台灣中部地區。

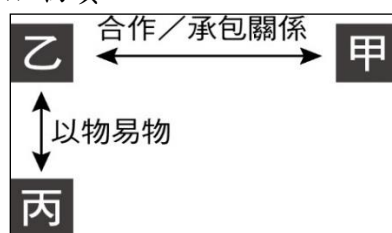
資料一：為了教化當地居民，目加溜灣社東邊建有學校，以新港語為標準教學，此外還建了教堂以傳教。

資料二：1662年，學者沈光文居住於目加溜灣社，以漢語教授番童、醫治病人度日。

- () 50. 劉銘傳在淡水修建「滬尾炮臺」，並在城樓親題「北門鎖鑰」(如附圖)，顯示淡水在海防上的重要地位。關於修建滬尾炮臺的歷史背景，下列哪一敘述正確？ (A)「滬尾炮臺」的修建是源自於日軍侵臺 (B)西班牙人為與荷蘭人競爭東亞貿易航路，派兵進佔台灣北部 (C)牡丹社事件促使劉銘傳來臺督軍 (D)清法戰爭使清帝國更重視對台灣的經營。



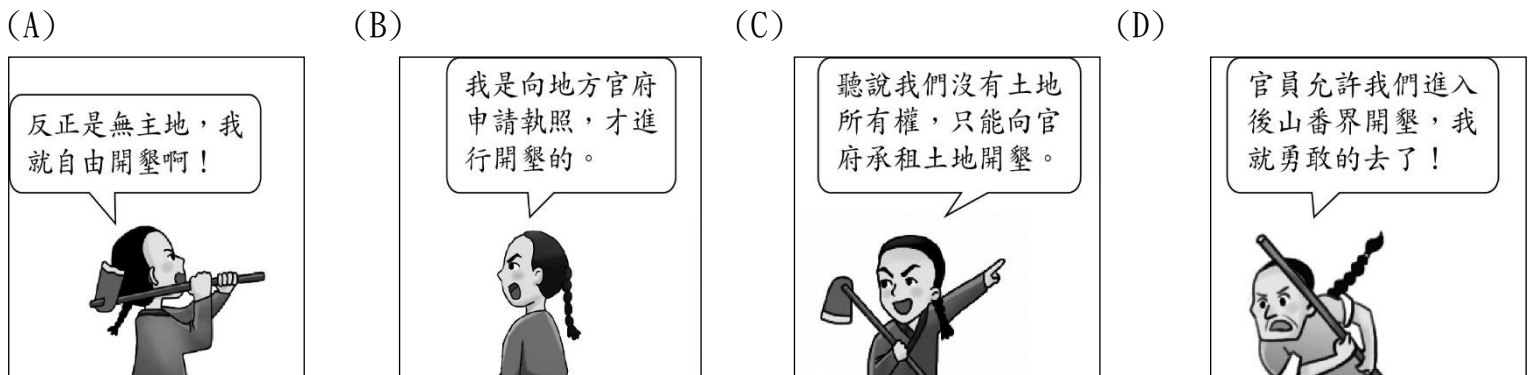
- () 51. 小蘭於光緒9年(西元1883年)來到臺灣，她應該會看到下列何種景象？ (A)清廷持續開挖土牛溝阻絕漢人入山開墾 (B)民眾趕往臺南府城準備搭火車 (C)來自中國大陸攜家帶眷的移民在港口上岸 (D)日軍威脅北台灣的基隆、淡水等地。
- () 52. 附圖是某政權在臺灣期間，為方便管理而發展出的特殊貿易模式。請問：下列相關敘述何者正確？ (A)某政權指的是鄭氏 (B)甲是荷蘭人，透過乙取得鹿皮 (C)丙是漢人，以布匹交換甲的軍火 (D)乙是原住民，自丙取得鐵器等生活物資。



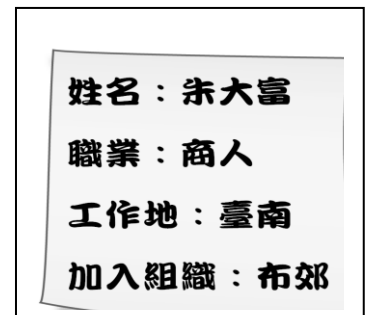
- () 53. 下列是光緒年間一位外國軍官在家書中提及他所看到的臺灣現況：「為了能就近補充煤礦，我們必需攻下基隆，但此地的炮臺地理位置佳，威力又強，清帝國所派指揮官率領的軍隊也不是省油的燈。」對於上述內容，下列何項的分析最為合理？ (A)文中提到的軍事指揮官是劉銘傳 (B)當時的基隆隸屬於臺灣府淡水廳 (C)此時期清廷仍嚴禁漢人男子攜眷渡臺 (D)家書中所提到的戰爭是日軍攻臺。
- () 54. 有一份軍事報告記載如下。下列關於這份報告的解讀，何者正確？ (A)這份報告記載的時間應是一六六〇年代 (B)背景為荷蘭人攻打大肚王 (C)報告乃是記載荷蘭聯合麻豆社攻打鄭軍 (D)最後結果荷蘭人遭麻豆社原住民驅離。

地方民眾投向鄭軍，眾人歡呼。原住民各社長老及首長皆欣然接受鄭軍給予的衣服、帽子、鞋子等，麻豆社居民一聽到國姓爺來，態度上立刻變得蠻橫，不再服從韓布爾克傳教士，變本加厲舉行斬取首級等異教徒儀式，且對荷人無情的攻擊。

- () 55. 西元 2020 年，清華大學考古隊在基隆和平島的考古發現，可說是台灣近年來最重要的歷史遺跡發掘成果。除了挖掘出教堂的後殿牆基，也發現有歐洲人的墓葬和原住民小孩甕棺。關於這個考古遺址的敘述，以下何者正確？ (A) 這個遺址位於 17 世紀時大肚王的勢力範圍 (B) 墓葬中的原住民小孩應屬於平埔族西拉雅族人 (C) 墓葬中的歐洲人可能為西班牙人 (D) 此教堂最早由荷蘭人所設立。
- () 56. 下列是清帝國初期四位移民到臺灣的漢人，因土地開墾問題被政府官員審問時的供詞，請問：哪移民才是合法取得土地開發權的？



- () 57. 阿信參加歷史知識大競賽，看到了右圖中的提示後，須推論提示中人物的生活，下列何者最正確？ (A) 朱大富應該是鄭氏時期的商人 (B) 當時臺灣最繁榮的港口應該是淡水 (C) 朱大富常常到中國大陸經商 (D) 他加入的組織是以宗族為主的團體。



- () 58. 下列是清帝國時期某次民變首領被抓後所做的口供。請詳讀內容，下列相關敘述，何者正確？ (A) 此民變的首領為朱一貴 (B) 此民變的首領是被迫加入民間秘密組織 (C) 這是清帝國時期發生時間最早的一場民變 (D) 首領供稱起事主因為官逼民反。

我年三十二歲，乾隆三十八年，隨父母來到臺灣，趕車度日。時常聽見說，漳、泉兩府，設有天地會，邀集多人，立誓結盟，患難相救。我同林泮……等，平日意氣相投，遂於乾隆五十一年八月內，拜盟起會。後來，斗六門地方，有楊光勳弟兄，因分家起釁，立會招人入夥被人告發，並牽連我們一齊呈告。彰化文武官員，差人各處查辦，衙役等從中勒索，無論好人、歹人，紛紛亂拿，以致各村莊俱被滋擾。那時，林泮等房屋已被官兵燒毀，……起意招集各莊民人，抗拒官兵，就來邀我。

- () 59. 以下為兩則與清帝國時期「大嵙崁事件」有關的資料，請問：下列相關敘述，何者正確？
- (甲) 兩段資料中所提到的「山地裡的資源」與「林地裡的經濟商品原料」，指的是樟腦
- (乙) 兩則資料立場不同，資料一為漢人觀點，資料二為原住民觀點
- (丙) 資料二中的巡撫大人廢除渡臺禁令，鼓勵漢人來臺拓墾
- (丁) 「大嵙崁事件」是發生在台灣建省以後的歷史事件
- (A) 甲丁 (B) 乙丙 (C) 甲丙 (D) 乙丁

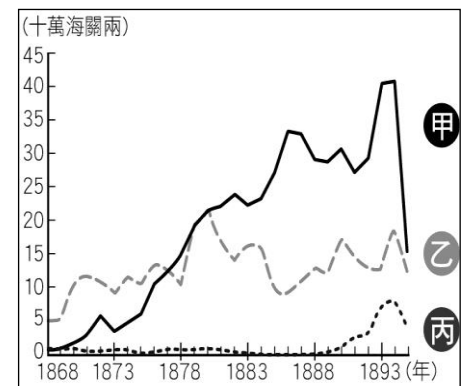
資料一
西元 1886 年 2 月，大概有 1500 名士兵，從四周入侵我們的土地，有意占領大嵙崁，奪取山地裡的資源。當初我們沒有抗爭，但感到憤怒，對方派人安慰並且要求歸順，說如果接受他們的命令，會給好的東西，因此我們才同意舉行歸順儀式。

資料二
西元 1886 年 2 月，大嵙崁的「番」人相當強悍，不願聽從我們的招撫，為了保護進墾大嵙崁區域的漢民，並且確保林地裡的經濟商品原料，士紳黃希文等人願自備軍糧，率勇探路。鄰近的部落經黃希文多次遊說，仍不願意投降，於是我們便進兵攻擊。後來由巡撫大人親自督軍進攻，「番」人終於投降。

() 60. □開放與蚶江對渡通商後，每天進出□的商船就多達上百艘，開啟了□貿易的黃金時代，與大陸的對渡通商或是臺灣島內的貿易都相當蓬勃，之後甚至有凌駕臺南府城之勢。《彰化縣志》裡記載著：「街衢(四通八達的街路)縱橫皆有，大街長三里許，泉、廈郊商居多，舟車輻輳，百貨充盈。臺自郡域而外，各處貨市，當以□為最。」請問：下列相關敘述何者正確？(A) 當時經由□出口最大量的商品是茶葉 (B) □指的是鹿耳門 (C) 《彰化縣志》裡記載的應是台灣開港通商前的貿易情況 (D)同一個時期台灣北部的最大港是淡水

() 61. 成功將「Formosa Oolong Tea」推廣到歐美地區而有「台灣茶葉之父」的李春生，是清帝國時期著名的買辦商人，而他同時也被喻為是台灣基督教長老教會的奠基者，因此，在近代台灣的歷史發展中具有一席之地。請問：下列關於李春生的敘述，何者正確？(A) 李春生當時應是艋舺地區的大商人 (B) 李春生的祖籍是福建省泉州府，屬於客家人 (C) 李春生透過郊商協助處理商務，與洋行交涉 (D) 篤信基督教的李春生可能協助馬偕在台灣的傳教事業

() 62. 附圖是阿興上台做歷史報告時所附上的「清帝國時期臺灣三大商品出口總值比較圖」，希望能考一考同學是否了解臺灣開港後的出口情況。請問：下列哪位同學的回答是正確的？(A) 小新：甲是出口歷史最為悠久的茶葉 (B) 風間：乙是開港通商後最大宗的輸出品茶葉 (C) 妮妮：丙是產量曾居世界第一的樟腦 (D) 甲乙丙三項商品都是利用淡水港出口



() 63. 重大事件的發生，常會對當時的歷史造成深遠的影響。請問：下列事件跟造成影響的配對，何者正確？(甲)牡丹社事件—臺灣開港通商 (乙)朱一貴事件—臺灣增設臺北府 (丙)清法戰爭—臺灣建省 (丁)英法聯軍—西方文化再度引進臺灣 (戊)戴潮春事件—廢除劃界封山 (己)渡臺禁令的頒布—有唐山公無唐山媽 (A) 甲丙丁 (B) 甲丙己 (C) 乙丁戊 (D) 丙丁己。

() 64. 鄭用錫被譽為「開臺進士」，他曾寫了一篇文章〈勸和論〉，意在規勸發生衝突的兩方能放下仇恨、化解宿怨，文章部分內容如下：「臺為五方雜處，自林逆倡亂以來，有分為閩、粵焉，有分為漳、泉焉。」請問：鄭用錫所要規勸的衝突情形為何？(A) 漢人發動的反政府民變 (B) 以祖籍劃分的械鬥 (C) 漢人與生番的對立 (D) 清廷與英法的抗爭。

() 65. 名燕：「放寬漢人出入番界的限制。」佩珍：「取消禁止漢原通婚等規定。」依柔：「開築北、中、南地區聯絡東部的道路。」根據以上三位同學陳述的內容，他們應是在討論清帝國時期的哪一政策？(A) 渡臺禁令 (B) 劃界封山 (C) 開山撫番 (D) 海禁政策。

() 66. 四姐妹訪問了爺爺奶奶關於家族在清代移民到臺灣的故事，發現他們的祖先來自中國廣東潮州，訪問完後，四個人各自整理了重點，但其中有人記錯爺爺奶奶的話了。請問：四人當中哪些人的說法正確？(A) 小美、小珍 (B) 小莉、小芸 (C) 小美、小莉 (D) 小美、小芸。

小美：我們的祖先除了原鄉的信仰外，也和其他地區來的人共同信仰媽祖與王爺。

小珍：我們的祖先信仰開漳聖王，而鄰近的漳州地區的移民則信仰三山國王。

小莉：初期來臺時，祖先們以中國原鄉的同姓先祖作為祭祀對象，稱為開臺祖。

小芸：從祭祀唐山祖轉變到祭祀開臺祖，代表移民的土地認同可能漸漸由中國原鄉轉移到臺灣。

- () 67. 小玉在校園中被性騷擾，根據相關法規，負責受理檢舉的法定單位應為下列何者？ (A)輔導處(室) (B)學務處(或教導處) (C)教務處 (D)性別平等教育委員會。
- () 68. 人權觀察組織 HRW 推出《2021 世界人權報告》，針對世界各國的人權狀況進行年度回顧：在中國的部分，主要聚焦過去一年香港、新疆等地的人權問題，以及新冠肺炎(COVID-19)疫情期間中國各地發生的各類禁止批評政府和打壓事件，認為中國人權狀況「惡化」；在美國的部分，關注黑人命也是命運動引發的抗議示威，顯示對少數族裔權利的保護不力，以及政府對新冠肺炎疫情的處置不當等問題進行分析，認為美國人權有「重大缺失」。針對上述此份報告，可做出下列何項結論？ (A)人權的保障仍有賴世界各國付出行動 (B)各國已開始提供相關資源，協助經濟弱勢者維護尊嚴 (C)人權不是普世價值，因文化差異而不同 (D)各國人性尊嚴已獲得充分的維護。
- () 69. 小剛從小就喜歡玩洋娃娃，一直以來他都希望可以成為一名服裝設計師，但是此舉在家中不被接受，受到父母強烈反對，認為這份工作並不適合男生。上述小剛的父母反對他當服裝設計師，顯示出下列何種觀念？ (A)性騷擾 (B)性侵害 (C)性別刻板印象 (D)性別歧視。
- () 70. 世界經濟論壇對 144 個國家進行研究後，發布的「2017 年全球性別差距報告」顯示：「雖然總體來說男女薪酬不平等的情況減緩，但若要徹底消弭差距，還需 100 年，男女進一步在經濟上要完全平等，則至少還要 217 年。」上文是採用何種角度來檢視性別間是否存在不公平的現象？ (A)責任負擔 (B)貢獻程度 (C)需求滿足 (D)利益分配。
- () 71. 小林喜歡幫一些同學取綽號「男人婆」、「娘娘腔」等稱號，因此，小林的做法為何？ (A)肯定每個人具有獨特的氣質 (B)考慮到他人的感受 (C)帶有貶抑的性別偏見 (D)找出每個人的差異性。
- () 72. 升上國三的小平，對於未來要選擇高中或是高職就讀感到茫然，父母告訴小平：「無論未來是選擇高中或者是高職就讀，我們都支持你，但是選擇之後就要好好讀書，發展自己的興趣。」關於小平父母對他的一席話，讓他覺得很安心，這是以下哪一個概念的展現？ (A)生理需求 (B)性別歧視 (C)性別偏見 (D)尊重人性尊嚴。
- () 73. 小強經常對小華說黃色笑話，令小華覺得不舒服，在一旁的同學做了以下的發言。下列哪一位同學的看法較正確？ (A)小芬：同學之間不要太計較 (B)阿龍：只是開玩笑而已，不用大驚小怪 (C)小麗：小強已構成性騷擾了 (D)小虎：說黃色笑話是表示友誼的方式。
- () 74. 《憲法》第 8 條規定：「人民身體之自由應予保障。除現行犯之逮捕由法律另定外，非經司法或警察機關依法定程序，不得逮捕拘禁。非由法院依法定程序，不得審問處罰。非依法定程序之逮捕、拘禁、審問、處罰，得拒絕之。」請問：上述《憲法》是屬於何種保障人權的具體作法？ (A)政府提供生存保障 (B)個人積極維護人權 (C)政府宣導防疫觀念 (D)立法禁止侵害人權。
- () 75. 健康國中驚傳有老師在辦公室對同事性騷擾，消息傳出後，社會議論紛紛。當事人任職的學校應該依據哪一部法律進行處理？ (A)《性別平等教育法》 (B)《性騷擾防治法》 (C)《性別工作平等法》 (D)《刑法》。
- () 76. 聯合國先後發表《世界人權宣言》、《公民與政治權利國際公約》及《經濟社會文化權利國際公約》，其目的主要是解決國際社會的哪一項議題？ (A)追求永續發展 (B)促進經濟成長 (C)建立普世人權 (D)防止疾病擴散。
- () 77. 我們如果想要破除性別刻板印象，建立性別平等社會，需要長期的努力才能展現成效。下列哪些屬於適當的方法？ (甲)改善法令制度 (乙)落實性別平等觀念 (丙)促進性別良好互動 (丁)立法規定男女互不往來。 (A)甲乙丙 (B)甲乙丁 (C)甲丙丁 (D)乙丙丁。

- ()78. 已故作家劉俠女士患有類風溼關節炎，創立了伊甸社會福利基金會，服務身心障礙人士；沒有雙手的楊恩典參與口足畫家協會，畫出一片天地。上述兩人能自由選擇與決定人生目標，以及發展自己的才能，可讓人體會到下列何項正面的啟示？ (A) 貧困殘障是人類的悲哀 (B) 知名度愈高的人，愈有號召力 (C) 理想要遠大，才能造福人群 (D) 發展自己的才能是享有人性尊嚴的具體表現。
- ()79. 玫瑰少年葉永鋕不像一般社會期待的陽剛男生，他喜歡編織、烹飪，這也使他常受到班上同學的欺負，罵他「娘娘腔」，以至於後來他不敢在下課時去上廁所。某天，他趁著上課時間去上廁所後就沒再回來。從性別的觀點來看，對於上述事件的分析說明，下列何者正確？ (A) 依現行法律可交由學校性別平等教育委員會調查處理 (B) 葉永鋕因生理與社會性別不一致，因此需要矯正 (C) 可從利益分配的角度檢視葉永鋕受不公平的處境 (D) 葉永鋕在學校遭受同學的取笑，與性別偏見無關。
- ()80. 大明等公車時，對身旁女子勾肩搭背，被害人感到不舒服，即時報警處處理，順利逮補大明，請問：大明會被依違反下列哪一項法律而函送法辦？ (A) 民法 (B) 性騷擾防治法 (C) 性別平等教育法 (D) 性別工作平等法。
- ()81. 如果父母親經常對子女使用暴力或濫用親權，相關人士可以依法律聲請限制或禁止父母親行使親權。這是指下列哪一項法律？
(A) 《憲法》 (B) 《民法》 (C) 《家庭暴力防治法》 (D) 《幼兒教育及照顧法》。
- ()82. 小莉的爸爸和媽媽在她國小的時候就離婚了。小莉跟媽媽一起住。今年，小莉的媽媽再婚，家中多了一個新爸爸，新爸爸有兩個小孩，現在小莉的家共有五個人。請問上述屬於哪種家庭組成方式？
(A) 單親家庭 (B) 頂客家庭 (C) 重組家庭 (D) 兩地家庭。
- ()83. 請依照以下新住民阮氏的日記內容，判斷政府此舉應為協助家庭發揮何種功能？
(A) 教育 (B) 生育 (C) 經濟 (D) 照顧。

我嫁到臺灣已經近十年，一開始真的很不能習慣臺灣的天氣、飲食和文化，更遑論小孩上學以後，還會拿臺灣的歷史、地理等課業問題，來詢問我這個根本沒在臺灣念過書的媽媽。所幸政府舉辦各種免費的語言課程，讓我可以跟我的孩子有共同話題，也不會因為看不懂中文而無法幫他檢查作業。

- ()84. 附表為太陽國針對國內生育率所做的統計，根據表中數據，下列對於該國的推斷，何者較為正確？
(A) 已邁入高齡化社會 (B) 勞動力將可能短缺 (C) 公共托育設施不足 (D) 出生嬰兒性別失衡。

期間(年)	生育率(人)
1970~1979	3.6
1980~1989	2.3
1990~1999	1.6
2000~2010	1.4
2010~至今	1.2

- ()85. 小偉在過年除夕夜時，到祖父家吃年夜飯，遇到好久不見的姑姑及姑姑的兒子小明。請問：小偉與小明是什麼親戚關係？
(A) 堂兄弟姊妹 (B) 姻親 (C) 直系血親 (D) 表兄弟姊妹。
- ()86. 近年來政府制定《家庭暴力防治法》的目的，是為了防止家庭暴力的發生，其中針對孩童方面的保障，也是為了達成家庭的哪項功能？
(A) 生育 (B) 保護與照顧 (C) 教育 (D) 經濟。
- ()87. 下列哪種家庭型態屬於頂客家庭(DINK)？

(A)大明和太太還有小孩一起住 (B)小華和先生都是教師，但不生小孩

(C)小英跟爺爺、奶奶住在一起 (D)林玲自己一個人住在高雄市。

()88. 根據聯合國調查顯示，因疫情關係，民眾居家隔離時間長，家暴案件上升 20%。請問：當發生家暴時，下列機構與其所提供的協助配對，哪一項不正確？

(A)113 保護專線→24 小時家暴通報服務 (B)法院→禁止或限制施暴父母的親權

(C)家庭暴力暨性侵害防治中心→緊急安置服務 (D)警察局→核發緊急保護令給被害人。

()89. 原住民族是最早居住在臺灣的族群，政府為了保障原住民族基本權益與文化傳承特別制定了哪一部法律？

(A)憲法 (B)國家語言發展法 (C)原住民族教育法 (D)原住民族基本法。

()90. 美麗社區召集社區住戶，討論元宵節慶祝活動舉辦方式，以下為會議中大家表示的意見：

安安說：擔任主席的我，優先提出以猜燈謎的方式舉辦。

平平說：我建議舉辦吃湯圓園遊會，並結合自備容器，減塑活動推動環保。

康康說：我附議平平的意見，並可以獎勵表現好的居民。

小宇說：辦理社區活動要花費很多時間與金錢，根本不需要辦理。

請問：依據「會議規則」來判斷，下列選項何者正確？

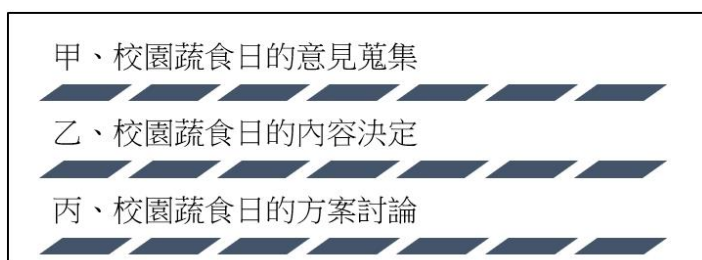
(A)四人的說法皆為好的提議，因此都應列入討論的提案內 (B)安安因為角色的關係，原則上不應發表意見與參與討論 (C)針對康康意見應提秩序問題，以免影響未得獎的住戶權益 (D)小宇的發言已超出議題討論範圍，可提出權宜問題處理。

()91. 布農族人 Talum Suqluman(漢人姓名為王光祿)曾持有槍械並狩獵保育類動物，違反相關法律而被判刑，許多原住民族團體憤而示威抗議，認為此判決結果即導因於未了解原住民族在傳統領域的狩獵文化與習俗，引發社會大眾爭論。根據上文判斷，原住民族面臨部落危機時採取了下列何種因應策略？

(A)要求政府設置專責機構處理相關事務 (B)發動社會運動爭取原住民族群的權益

(C)要求政府正名來保障原住民族的權益 (D)積極推動部落永續發展創造就業生機。

()92. 公民課時，老師以下圖中的例子，說明校園公共事務的參與步驟。根據圖中內容判斷，下列何種進行的順序較為適當？ (A)甲→乙→丙 (B)甲→丙→乙 (C)乙→甲→丙 (D)丙→甲→乙。



()93. 附表為提案與動議的比較，何者為正確？

選項	(A)提出時機	(B)提出形式	(C)成立條件	(D)適用項目
動議	開會前	口頭	須一人以上附署	決定學校獎懲制度
提案	開會中	書面	須一人以上附議	選拔班級幹部

()94. 班遊時小玉和同學們參觀原住民博物館，館內有一幅「祖靈」照片讓小玉印象深刻。祖靈是許多原住民族崇敬的對象，祖靈屋更凝聚部落族人的向心力，此展現出原住民族部落的何種重要性？

(A)傳統信仰重心 (B)基本政治組織 (C)生產分配中心 (D)語言文化傳承。

()95. 政府為保障學生的學習權益，明確規範校園中的學生權利，下列相關之說明何者最正確？

(A)任意翻動他人書包侵害到其學習方面的權利

(B)落實學生校園權利的保障只跟師生之間有關

(C)老師可因干擾學習的情形暫時保管學生物品

(D)校園霸凌行為屬於偶發事件並不會觸犯法律。

()96.老師藉著戶外教學讓學生學習一些原住民族語，帶著學生走入部落中與耆老們互動。學生事前先挑選傳統音樂，帶著預先存入音樂的平板，與耆老們展開一場戶外音樂會，其中學生都有安排任務，有負責一起歌唱與舞蹈的學生；有攝影組的學生拿著平板四處取景，捕捉同學與耆老們互動的每個瞬間。回校後並透過科技剪輯拍攝的影音，保留下珍貴的原民舞蹈紀錄。針對此戶外課程在設計上，最重要目的為何？

- (A)學習部落共工互助機制 (B)表達對祖靈崇敬的信仰
(C)決定部落政治組成方式 (D)從事文化的認同與傳承。

()97.公民課時，老師請同學們針對「學生的權利與責任」發表看法。下列何者說法最正確？

(A)佳佳	學生享有財產權，故無論任何情況，老師都不得沒收學生物品。
(B)靜芬	學生享有受教權，故學生在上課時不得吵鬧影響其他人的學習。
(C)書賢	學生享有身體自主權，故學校無法強迫學生到校上課接受教育。
(D)小新	未成年學生僅需享受權利，因年齡尚幼，故還不需要負擔責任。

()98. 社區意識是指居住在同一個地區的居民，對該地區產生一種休戚與共的歸屬感和認同感。依據上述定義，下列何者的說法最能表現出社區意識？

(A)小偉	我住的社區的住戶大部分都是公務員。
(B)小莉	我住的社區經常辦理各項資源回收活動。
(C)小玲	我住的社區的居民的生活水準都很高。
(D)小明	我屬於這社區，願意為這社區努力解決社區問題。

()99.學生自治可以幫助學生培養民主精神，下列何者才是符合學生自治精神的做法？

- (A)在遵守社會規範及學校規定為前提下進行 (B)對於學生們不喜歡的規定可以自行修改
(C)堅持個人意見，強力說服他人 (D)與學生有關的所有事情都可由學生自治做出決定，沒有事項限制。

()100.志強為了撰寫文章，上網搜尋「社區」的相關資料，在他找到的資料中，下列哪一項內容正確？

- (A)一條街不足以構成社區 (B)社區是政府劃定的法定單位
(C)社區沒有固定範圍 (D)須有一個鄉鎮的區域範圍才能構成社區。