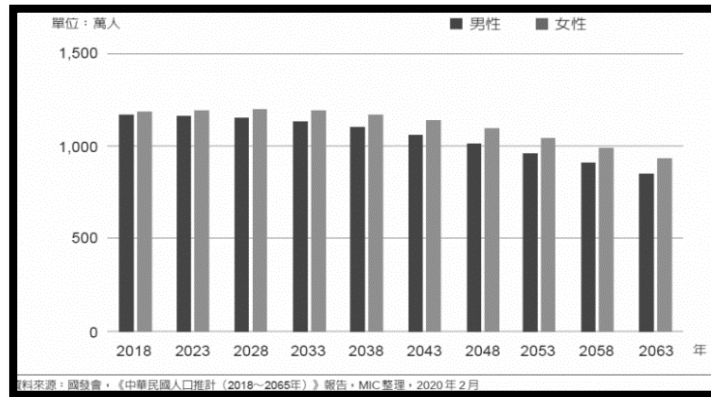


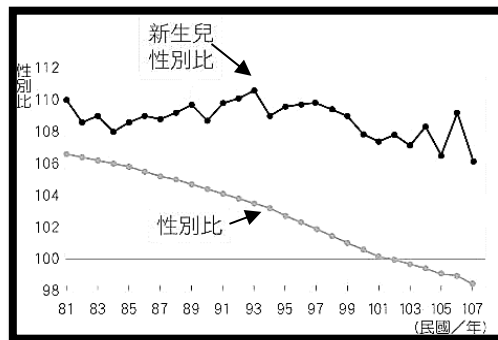
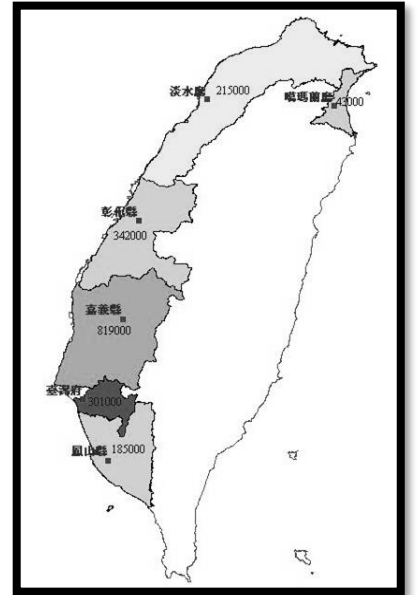
一、單一選擇題

地理科：第 1-17 題

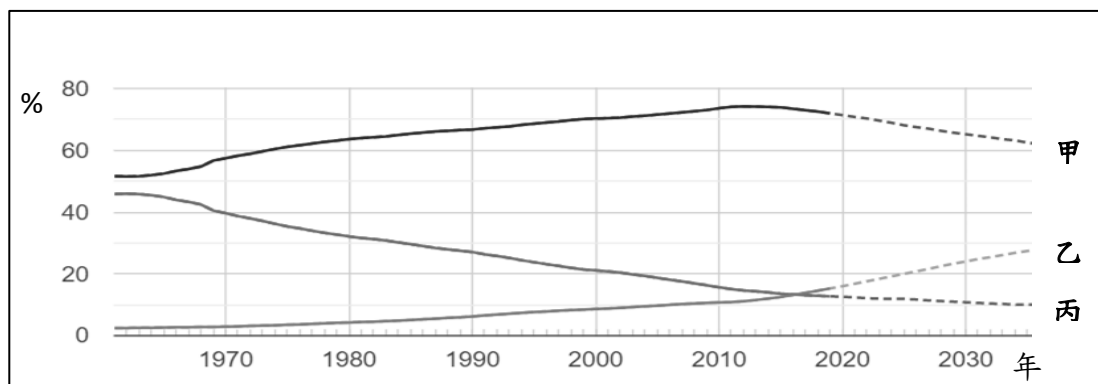
- () 1. 下圖是 2018-2063 年台灣男女總人數的推估資料，深色為男性人口資料，淺色為女性人口資料。依照資料，我們可以獲得下列何種人口訊息？



- (A) 台灣男性的總人口數多於女性總人口數
(B) 臺灣的男女人數差距隨著時間越來越小
(C) 台灣女多於男主是因為女性預期壽命長
(D) 整體來說，台灣的人口性別比大於 100
- () 2. 右圖是嘉慶十六年，台灣各縣的人口數推估資料(資料來源:台灣歷史文化地圖 <http://thcts.sinica.edu.tw/themes/rc10.php>)，顏色越深表示人口數越多。從圖中顏色深淺變化，可以推知當時台灣人口分布，具有下列何特徵？
- (A) 山地因為有原住民開墾，人口多於平地
(B) 南部地區因開發較早，人口數多於北部
(C) 東部觀光就業機會多，人口數多於西部
(D) 南、北部人口分布與台灣目前狀況一致
- () 3. 每個年代，政府會因應當下人口結構，推出口號，呼籲民眾配合相關政策。判斷本張圖表資訊，這個國家最有可能推出以下哪個口號呢？



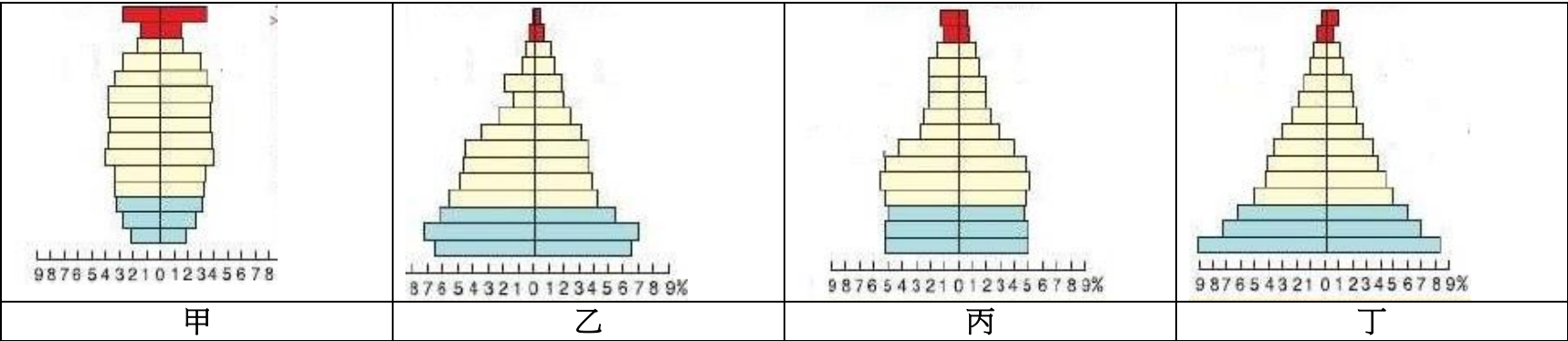
- (A) 孩子是家庭最棒的傳家寶 (B) 一個不嫌少，兩個恰恰好
(C) 婚後三年，生第一個孩子 (D) 女兒像身上的背心，貼心
- () 4. 下圖為國家發展委員會統計台灣不同時期並推估至 2030 年的老年、壯年及幼年人口所佔比例。請問 2020 年的扶養比最接近下列哪個數值？



- (A) 20% (B) 40% (C) 60% (D) 80 %

背面尚有試題

立法院院會已經三讀通過「中高齡者及高齡者就業促進法」(中高齡者是四十五歲至六十五歲民眾，高齡者則是六十五歲以上民眾)，雇主對求職民眾若涉及職場年齡歧視，可處三十萬元以上、一五〇萬元以下罰鍰。另外，還開放雇主以「定期勞動契約」僱用六十五歲以上勞工，雇主僱用依法退休的高齡者，中央主管機關可提供經費補助。由此政策可知，政府開始調整職場勞動力結構，推動樂齡就業，讓高齡者健康老化，透過延後退休年齡，這群人可以持續在職場貢獻所長。下面有四張台灣不同時期的人口金字塔圖，請回答下列問題

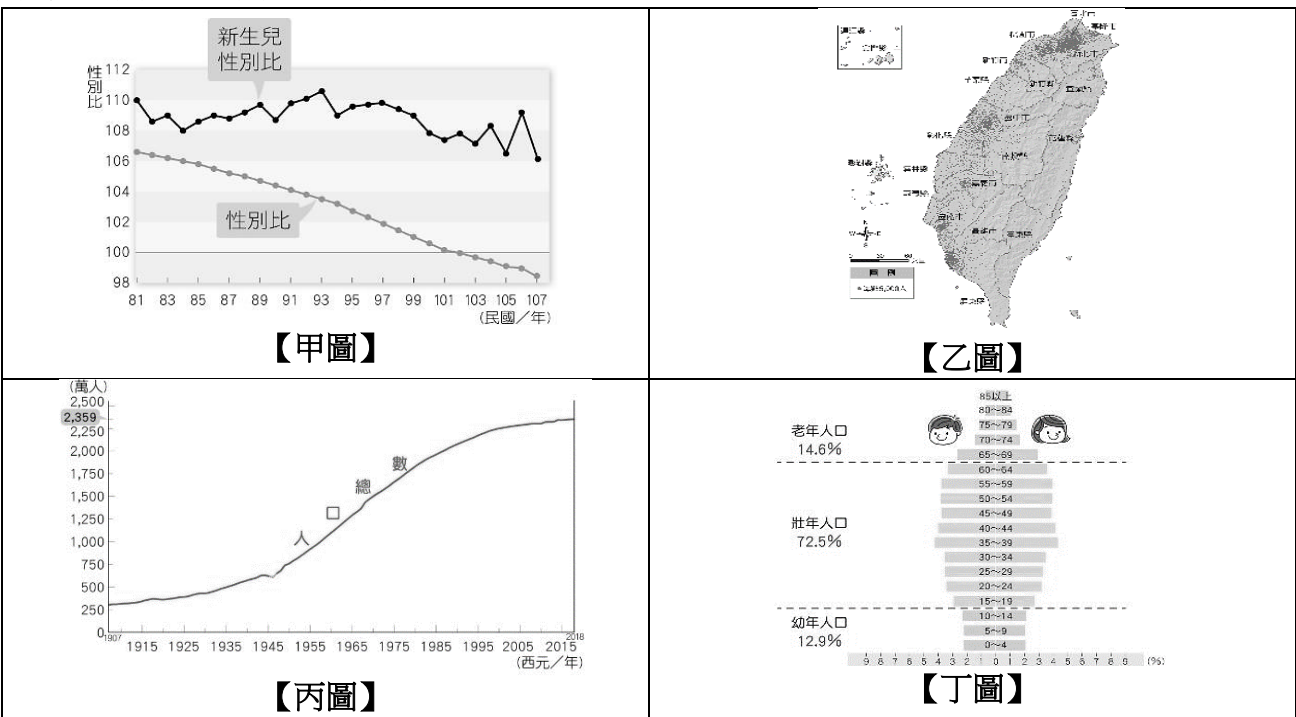


- () 5. 請問這個法規的制定是為了解決什麼人口問題？
 (A)人口分布不均 (B)社會增加率上升 (C)性別比上升 (D)扶養比上升
- () 6. 立法院三讀通過的法案，是因為台灣目前處於哪一個人口金字塔的狀態呢？
 (A) 甲 (B)乙 (C)丙 (D)丁
- () 7. 請排出這四張人口金字塔的時間順序？(時間越早，排越前面)
 (A)丙乙甲丁 (B)甲丁乙丙 (C)乙丁丙甲 (D)丁丙乙甲
- () 8. 哪一個階段，出現了出生率下降，導致台灣境內的人口成長趨緩呢？
 (A)甲→乙 (B)甲→丙 (C)丙→乙 (D)丁→丙

根據台灣移民署統計資料顯示，2020 年有 10813 名香港居民取得台灣居留許可，創歷史新高。移民主要原因，是因為香港政治歧見嚴重、居住環境擁擠與不滿意政治制度。下表為 2020 年香港政府公布人口資料：

移入人口	10100 人	移出人口	49900 人
出生人口	43100 人	死亡人口	49800 人
2019 總人口	7520700 人	2020 總人口	7474200 人
人口成長	-46500 人		

- () 9. 有關香港 2020 年人口變化的敘述下列何者正確？
 (A)社會增加呈現負成長 (B)出生的人口數多於死亡人口
 (C)人口密度較去年提高 (D)人口增減受自然增加影響大
- () 10. 上述表格內容資料，可以轉繪成哪一種下列何種類型的人口資訊圖呢？
 (A)甲 (B)乙 (C)丙 (C)丁



- () 11. 有關香港移民至台灣的說明，何者正確？
 (A)國內遷移，香港有拉力 (B)國際遷移，香港有推力
 (C)暫時性遷移，台灣有拉力 (D)永久性遷移，台灣有推力

下表是 109 年，台灣四個縣市的人口成長變化，請依據表格數據回答下列問題：

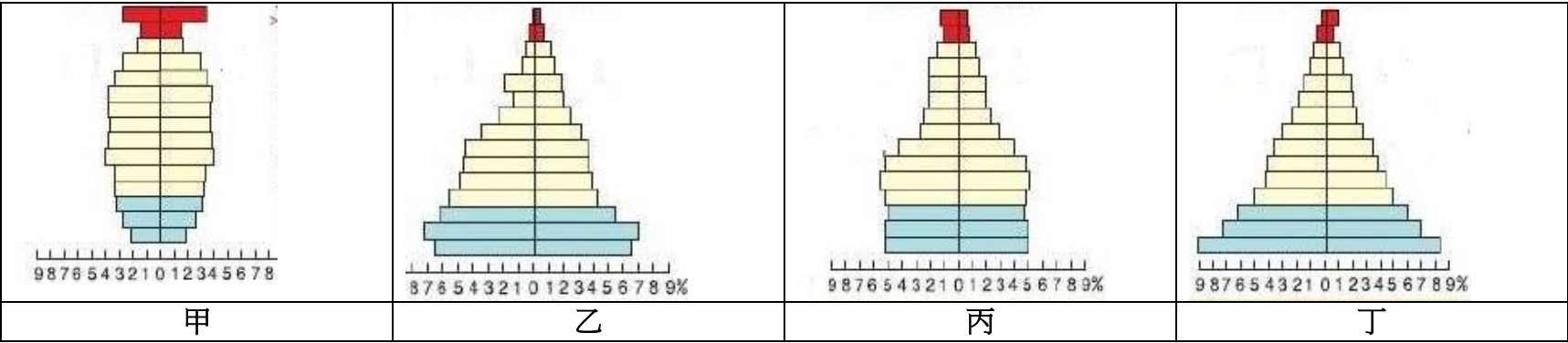
縣 市	出生率‰	死亡率‰	移入率‰	移出率‰	人口增加數
甲	7	7	45	62	-21000 人
乙	9	6	46	41	+300 人
丙	7	6	44	43	+8500 人
丁	10	8	25	31	-1200 人

- () 12. 哪一個縣市的自然增加率最低？
(A)甲(B)乙(C)丙(D)丁。
- () 13. 哪一個縣市的社會增加率最高？
(A)甲(B)乙(C)丙(D)丁
- () 14. 根據表格，丙縣市人口增加數最多的原因是？
(A)醫療條件較為優越 (B)移入率小於移出率(C)施行獎勵生育政策(D)該縣市人口總數較多

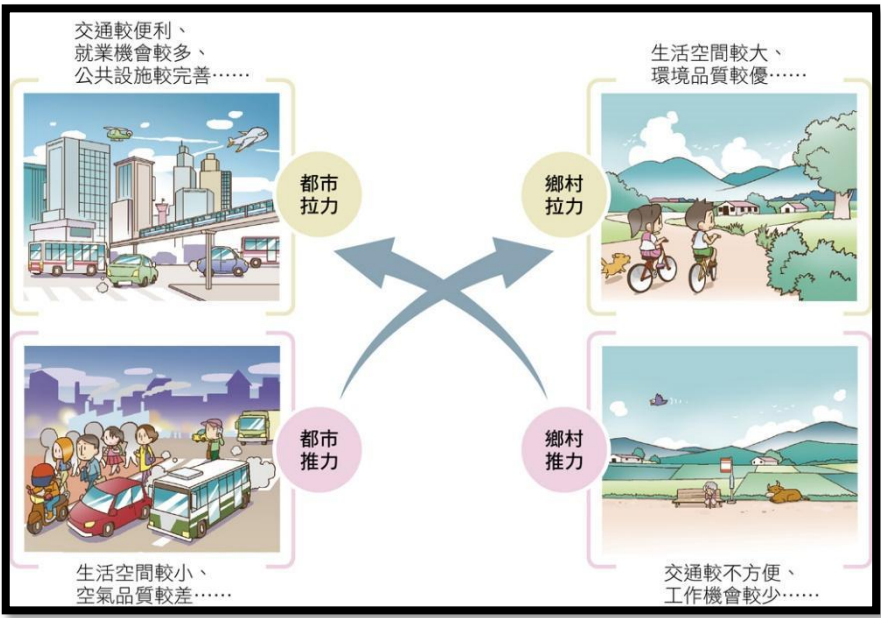
隨著醫療的進步，人類平均年齡隨之增高，已開發國家快速高齡化社會問題日益被重視，根據美國研究機構人口資料局統計，2016 年全球女性平均壽命為 74 歲，全球男性平均壽命為 70 歲，逐年增高中。由此可見，未來高齡者的食、衣、住、行、育、樂等相關產業發展會是極為重要的一環。

在家庭結構改變，獨居老人增加的現代社會，政府推出『青銀共居』的想法，指青年人與長者共同居住。2017 年起，新北市政府推動臺灣第一處青銀共居試辦。非建立於血緣關係之上的青銀共居模式漸被推廣，青銀共居可以同時滿足高齡者的居住與陪伴需求，也可以讓離鄉青年在異地有個家。請同學回答下列問題：

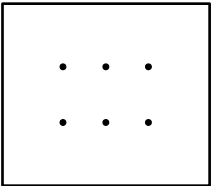
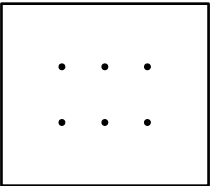
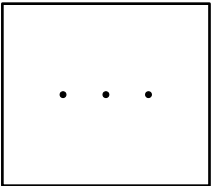
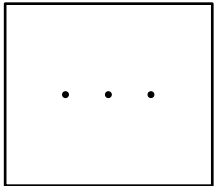
- () 15. 下列哪一個國家的人口金字塔，推動青銀共居的政策需求最大呢？



- (A)甲圖 (B)乙圖 (C)丙圖 (D)丁圖
- () 16. 請問敘述中的「離鄉青年」，屬於下圖中哪一種人口遷移原因和形式？



- (A)都市拉力、國內遷移 (B)鄉村拉力、國內遷移 (C)都市推力、國際遷移 (D)鄉村推力、國際遷移
- () 17. 青銀共居的政策，除了考量人口結構外，還有居住空間的不足。假設以下四張圖片的人口結構與經濟發展一致，哪個地區最需要施行青銀共居的政策呢?(每點表示 10000 人，下方為比例尺表示)



- (A) 1:100 (B)1:1000 (C) 1:100 (D)1:1000

背面尚有試題

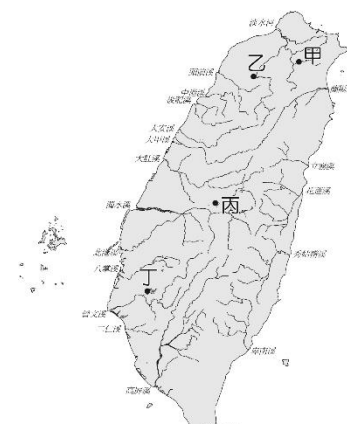
歷史科：第 18—34 題

- () 18. 右圖是臺灣近代史上相當著名的旗幟—藍地黃虎旗，請問它的出現與下列哪件史實有關？(A)余清芳反抗日人的象徵
(B)臺灣割讓日本後，劉銘傳號召士紳成立臺灣民主國
(C)抵抗法軍侵略臺灣
(D)劉永福以此旗幟為號召鎮守台南




- () 19. 連橫的《臺灣通史》：「朝廷保兵恤民，遣使行成，日本要索臺灣，竟有割臺之款，事出意外。聞信之日，紳民憤恨，哭聲震天。雖經○○○巡撫電奏迭爭，並請代臺紳民兩次電奏，懇請改約。內外臣工，俱抱不平，爭者甚眾，無如勢難挽回。」請依據上文選出確的敘述？(A)上文所抗議之事，是指甲午戰爭失敗後的結果 (B)清朝派遣沈葆楨到台灣因應戰事 (C)上文中的巡撫為丘逢甲 (D)戰爭的起因是琉球漁民被殺害。
- () 20. 有關日本統治臺灣的方式，何者敘述正確？(A)臺灣總督是在臺的最高行政長官，但無權管轄立法與軍事 (B)台灣人民會稱呼台灣總督為「大人」，以表尊重 (C)實施保甲制度，協助警察推動政務 (D)在警察中挑選青壯男子組成壯丁團，負責逮捕犯人。

- () 21. 日治時期在臺灣興建此建設，其功用有防洪、有排水，但是更重要的是能夠發電。其產生的電力，更是日治時期經濟發展的主要動力。請問關於此建設的敘述何者正確？

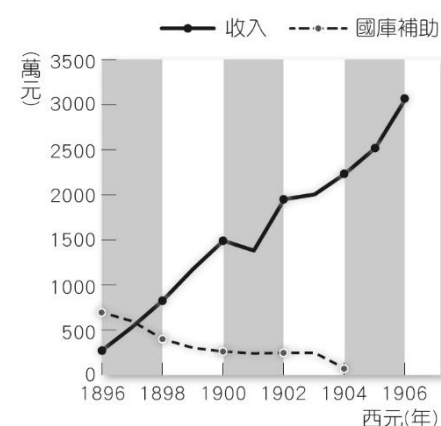


- (A)此建設位於右圖中丁地
(B)此建設實施的背景為「工業日本，農業台灣」的經濟策略
(C)發電的主要目的是為了發展軍需工業
(D)實施皇民化運動後才動工興建此建設
- () 22. 右圖為一幅日治時期的諷刺漫畫，圖中描述著為了改善日治初期臺灣財政不良，總督府藉由實施哪一商品的專賣，來獲取龐大的利潤？(A)茶葉 (B)蔗糖 (C)酒品 (D)鴉片。



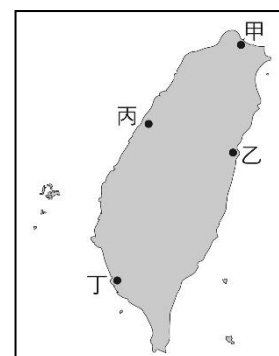
- () 23. 下列關於蔗糖的敘述何者正確？(A)鄭氏時期，因大量種植稻米，致使甘蔗量少，蔗糖無法出口 (B)清領後期，劉銘傳引進新式機器生產蔗糖，出口量曾達世界第一 (C)日治時期，臺灣成為世界的糖業王國之一 (D)日治時期，日月潭發電所的完工，大幅提高甘蔗的產量。

- () 24. 右圖為西元 1896~1906 年臺灣財政收支圖。日本殖民臺灣初期，行政財源主要仰賴日本中央所提供的補助金，後來總督府的財政收入逐年增加，至西元 1905 年後財政已完全自立。請依據右圖選出正確敘述：(甲)日本鎮壓各地的反抗勢力，造成軍事支出十分龐大，是需要日本國庫補助的主因 (乙)日本資本家不願到臺灣投資，導致在台獲利收入有限 (丙)實施專賣制度與基礎建設，大幅提高在台收入 (丁)實施「工業日本，農業南洋」成效頗佳，導致在台收入大增。(A)甲乙 (B)甲丙 (C)乙丙 (D)丙丁。



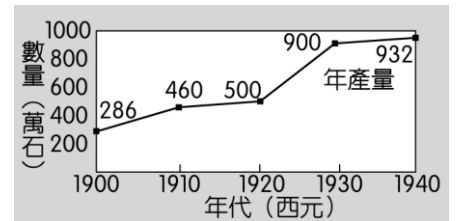
- () 25. 臺灣總督府的理蕃政策對原住民的經濟、文化產生很大的影響。下列總督府理蕃政策相關的敘述何者正確？(A)總督府採取先鎮壓後安撫政策 (B)原住民與番地警察相處融洽，共同維護部落治安 (C)霧社事件後，總督府強迫山區原住民遷往山下，影響原住民原有的部落組織型態 (D)原住民與日本合作開採森林資源與樟腦，獲利豐富。

- () 26. 日治時期，總督府為了加強殖民統治和經濟活動的進行，在交通方面進行了多項的建設。其中在右圖中的哪兩個地方，整建了港口，成為貨物進出口的重要門戶？
(A)甲乙 (B)甲丁 (C)乙丁 (D)丙丁。



- () 27. 林靜香出生於 1930 年的臺北，長大後響應政府政策，她改名為「小林靜香」，並說國語，穿著和服。後來靜香的哥哥接受政府徵召當兵參戰，沒想到自此與哥哥天人永隔。請根據上文敘述選出正確答案？
(A)靜香響應的政府政策為「南進政策」(B)靜香的哥哥會被政府徵召到南洋作戰 (C)靜香可以和家人搭乘火車環島一周 (D)靜香定期與家人至附近的土地公廟拜拜，祈求全家平安。

- () 28. 右圖為日治時期臺灣稻米生產量的曲線圖。根據此圖判斷，臺灣稻米生產量增加的主要原因為何？(甲)蓬萊米改良成功(乙)嘉南大圳的興建(丙)「工業臺灣，農業南洋」政策的推行(丁)中國大陸地區對臺灣稻米的大量需求。(A)甲乙(B)甲丁(C)乙丙(D)丙丁。



- () 29. 出身臺南的阿輝是日治時期的蔗農，何者可能出現在他的生活中？(A)因種植甘蔗，獲利豐富，生活不虞匱乏(B)使用中央銀行統一發行的貨幣貿易(C)缺乏灌溉用水，收成不佳(D)因政府實施定期的戶口調查，家中人口被政府確實掌握。
- () 30. 西元 1898 年後，日本人開始在臺灣進行各項基礎建設，而日本人為何要大力在臺灣推行現代化的建設？(A)日本把臺灣人當成本國人看待，營造進步的社會環境(B)日本人強調和平，要造福各地人民(C)日本失業情況嚴重，將許多失業人口移往臺灣工作(D)有利於日本對臺灣資源的剝削。
- () 31. 一智準備參加台南市政府主辦的「噶吧哖古戰場路跑」活動，他上網查看該活動的文宣，其內容如下：「西元 1915 年夏天，這裡爆發了日治時期規模最大、犧牲最慘重，最具影響力的武裝抗日事件——『噶吧哖事件』，歷經百年演變，這裡成為了閃耀的紅寶石——芒果的故鄉：玉井。」此路跑活動串聯該事件相關的地景、廟宇、古厝等地為路線，讓參與路跑民眾可一邊休閒運動，又懷抱思古之幽情。請問：上述提供的「噶吧哖事件」文宣內容，應該會出現下列哪一項資訊？(A)此事件的領導者是唐景崧(B)是以民間宗教信仰的力量集結群眾(C)成功推翻當時的執政者(D)此後臺人的武裝抗日行動變本加厲，日人防不勝防。

*原住民積年累月的被壓迫剝削，強制勞役、遲發工錢，加上日本警察誘姦山地婦女後再把其遺棄等。在當天早晨群起對統治者起義，分隊襲擊附近的警察分駐所十三處，同時進襲警察分室、學校、郵政局、日本人官舍等，砍殺了各地警察及公學校舉行秋季運動會的日本人一百三十六名（其中有二人是著日人服裝的臺灣人被誤殺），又殺傷了二百十五人，替同胞洩憤。能引發原住民同胞全體一致對日本人實施屠殺，必然是長年來的受辱怨氣，見有人發難則全體不計後果大加報復。【回答 32、33 題】

- () 32. 上文中所敘述的是什麼事件？(A)霧社事件 (B)西來庵事件 (C)玉井事件 (D)林爽文事件。
- () 33. 承上題的敘述，何者正確？(A)此抗日事件的領導者是莫那魯道(B)發動此事件是西拉雅族(C)此事件後，總督府持續鎮壓原住民 (D)此事件後，原住民對日本統治採取全面抗拒態度。
- () 34. 根據以下資料，何者敘述正確？

資料一：第一憨，種甘蔗乎會社磅。

資料二：1905 年 6 月臺灣總督府規定：為制止各製糖工廠間的原料爭奪，避免擾亂蔗價，各蔗作區畫定一定範圍的區域。此區域內的甘蔗未經許可，不得運出區域之外，或供作砂糖以外成品的製作原料。

- (A)資料一的「會社」指的是歐洲人成立的洋行 (B)資料二的規定，可保障日資糖廠，使其可低價收購甘蔗原料(C)資料二的規定，保障臺灣蔗農，使蔗農有固定買主與穩定的銷路(D)這是在臺灣總督府實施「工業臺灣，農業南洋」政策下的措施。

公民科：第 35—50 題

- () 35. 培養個人在社會中應表現符合社會期待的技能及其特有的行為模式，像醫師行醫救人、法官公正審案，是很重要的學習過程。上述是強調哪一方面學習的重要性？ (A)社會互動 (B)社會角色 (C)自我認同 (D)職業訓練。
- () 36. 下列有關「社會化途徑」的敘述，何者正確？

(甲)家庭是個人早期人格發展，
學習社會生活最重要的地方
(乙)能提供有系統、有組織的學習是學校
(丙)在個人社會化的歷程中，傳播媒體具有很大的影響力
(丁)同儕團體對於社會化的影響力是相當可觀的，在青少年時期尤其明顯

- (A)乙丙 (B)丙丁 (C)甲乙丙 (D)甲乙丙丁。
- () 37. 以下是惠萍在網路上看到的一則訊息——

校園藥物濫用對學子健康安全形成極大隱憂，有關單位針對家長、學生進行訪談，發現少年對藥物濫用的資訊多得自新聞媒體；而受朋友慫恿、好玩刺激，則是藥物濫用最主要的原因。

由上述可知，青少年的價值觀，極易受到下列何者的負面影響，而產生偏差行為？ (甲)家庭 (乙)學校 (丙)同儕團體 (丁)傳播媒體 (A)甲乙 (B)甲丙 (C)乙丙 (D)丙丁。

- () 38. 許多上班族都會抱怨開會，覺得開會常會打斷原本的工作進度，也沒達到開會預期的效率。但是《哈佛商業評論》專欄作家歸結出公司老闆愛開會的原因，最大理由是透過開會可以鼓勵交流，交換訊息。對於上述評論，最能表現出的意義下列何者正確？ (A)顯示權威並建立老闆的威信 (B)僅對公司追求的利益有幫助 (C)會議缺乏效率無法達到目標 (D)有助蒐集成員意見做出最佳決策。
- () 39. 王爺爺為了投下神聖的一票，在總統大選前，他認真閱讀選舉公報，比較各政黨總統候選人的政見。上述王爺爺的精神，具備何種現代公民德性？ (A)充實知能、積極參與 (B)遵守法律、發揮道德 (C)理性思考、相互尊重 (D)捍衛正義、促進公益。
- () 40. 在公有停車場與路邊停車格中，都可以看到藍色線條規畫的身心障礙者停車格，多數民眾不會任意占用該停車格停車。上述舉動展現出何種現代公民德性？ (A)相互尊重 (B)捍衛正義 (C)區隔特殊族群 (D)參與公共事務。
- () 41. 許多攤販為了方便，在人行道或騎樓做生意，嚴重影響行人「行」的權益。由此可見，上述攤販應加強下列哪項現代公民德性？ (A)捍衛正義 (B)理性思考 (C)發揮道德 (D)促進公益。
- () 42. 宗勳每月固定捐款給「台灣導盲犬協會」，作為設立導盲犬學校的費用。他希望透過這樣的舉動，幫助更多視障朋友，讓未來的導盲犬能夠接受專業的導盲訓練，並順利成為視障朋友的「第二雙眼睛」。根據上述內容判斷，宗勳的作為最能彰顯下列何種現代公民德性？ (A)促進公益 (B)相互尊重 (C)充實知能 (D)遵守法律。
- () 43. 人民可以透過集會遊行，表達自己的立場和意見。「集會」是指下列何者？ (A)人民依共同的理念、興趣或職業，組成各類型的團體 (B)於公共場所或公眾得出入之場所舉行會議、演說或其他聚眾活動 (C)由兩個以上的個人所組成，成員彼此具有一定程度的認同感 (D)民眾出於自由意志奉獻自己的力量，不以獲取報酬為目的。
- () 44. 世界上大部分的國家都將結社自由視為人民的基本權利，請問：在我國，人民籌組政黨與參與政治活動的權利，受到何種法律的保障？ (A)《憲法》 (B)《民法》 (C)《刑法》 (D)《組織犯罪防制條例》。
- () 45. 某國政府宣布為嚇阻非法移民，將移除現行不得扣留移民孩童超過 20 天的規定。此項宣布隨即引發人權團體的痛批，抗議政府透過移民政策，把孩童當成攻擊的目標，並揚言會挑戰政府並做出廢除該項宣布的相關行動。從文中來判斷，人權團體是透過下列哪一個方式來參與公共事務？ (A)從志願服務

中體會生命可貴 (B)扮演個人與政府間的監督橋梁 (C)憑藉學習進行自我專業提升 (D)透過成員互動尋求情感歸屬。

- () 46. 環保團體「反抗滅絕」(Extinction Rebellion, XR)在澳洲與紐西蘭各個城市，啟動為期兩週的全球公民運動，要求各國政府緊急採取行動對抗氣候變遷。澳洲環保人士莫頓說：「我們試過請願、遊說與遊行，但時間愈來愈少。」「我們沒有選擇，只能反抗，直到我們的政府宣布氣候與生態進入危急狀態，並採取能夠拯救我們的行動。」上述環保團體的主要訴求目的為何？ (A)彌補政府專業不足 (B)增進民眾公共參與 (C)關注弱勢群體福利 (D)改變政府施政方向。
- () 47. 在社會各界有許多志願服務者無私奉獻，主動參與社會事務的推動。所謂「志願服務」是指下列何者？ (A)於公眾得出入之場所舉行會議或聚眾活動 (B)由具有相同職業的人所組織而成 (C)出於自由意志、不以獲取報酬為目的，付出時間及精神服務社會及他人 (D)主要在促進國民參與政治。
- () 48. 隨著社會進步，臺灣社會已有許多志工透過志願服務，參與社會上的公益團體。下列相關敘述，何者正確？ (A)為共同關注的經濟利益而努力 (B)志工服務不以獲取報酬為目的 (C)《組織犯罪防制條例》是要透過法律來限制志工團體的活動 (D)台灣團結聯盟即是志工團體。
- () 49. 「地球公民基金會」是以推展環境保護為宗旨的團體，該團體長年關注我國多起污染案件，發現《水污染防治法》罰則太輕無法嚇阻不法業者，多次到立法院請願、進行遊說，終於促成《水污染防治法》修正完成，加重刑責以嚇阻違法業者污染河川。請問：此團體的作為，最能呈現出下列何項內涵？ (A)減少政府對公共政策的影響力 (B)為弱勢族群爭取急難救助資源 (C)擴大民間團體在經費及人員運用的自主性 (D)監督政府施政及推動公共政策以維護公益。
- () 50. 小真是班上的國文小老師，也是校刊社的主編，有時她會為了調配這兩項職務的時間而顧此失彼，也減少了與同學相處的機會及複習功課的時間。依此判斷，小真面臨何種情境？ (A)社區參與 (B)角色衝突 (C)學生自治 (D)實現自我。

地理科：第 51—67 題

- () 51. Covid-19 改變全球的生活型態，讓大家都不敢進行國際旅遊。疫情控制相對好的臺灣，大家對於戶外活動的需求增加。台灣農委會也順勢推出許多活動(如右圖所示)，鼓勵民眾參加。請問，這些活動能達到下列何項目的？

跟著水果去旅行	
11月	南投埔里草原花卉鮮果嘉年華
12月	苗栗大湖戀戀草莓季
1月	南投水里蕉遊趣
2月	宜蘭員山採金趣棗新鮮
3月	臺東卑南後花園採釋迦
4月	臺中新社蜜桃成熟好採桃

- (A)提高單位面積產量
(B)建立農產產銷履歷
(C)提升農業附加價值
(D)增加農產品出口量

- () 52. 行政院農委會輔導處：「…為加強協助青年投入農業經營，提供以下之輔導措施：一、培育青年之農業專業職能，二、協助青年農民取得經營農地，三、提供青年創業資金，四、推動百大青農輔導，五、建立在地青年農民交流與服務平台，六、建置青年農民創業入口網…」請問：上述政府方案最主要是要解決台灣農業發展的哪項困境？



地點	成本 (萬元)
甲	50
乙	100
丙	180
丁	200

- (A)農業通路類型狹窄 (B)農漁村勞動人口老化
(C)農業易受自然環境影響 (D)耕作集約，生產成本高
- () 53. 王先生計畫在圖中的甲、乙、丙、丁選擇一地開設工廠，右表呈現選擇不同地點設廠的生產成本。若不同設廠地點的成本差異僅來自運輸成本，則相較於原料，該工廠產品具有下列何種特性？
(A)易腐敗 (B)易破碎 (C)重量增加 (D)體積變小

- () 54. 下圖為半導體的晶圓製作流程示意圖，由下圖可以判斷這種工業的特性為何？

※狹隘的資本主義求生筆記

晶圓製造流程示意圖



(A) 設廠靠近原料產地 (B)產品附加價值大 (C)需要大量低廉勞力 (D)需要政府資金挹注

- () 55. 下表是台灣部分產業類別占工業產值百分比，分別是紡織業、石油及煤產品製造業、電子製造業、食品及飲料製造業，請根據下表數據判斷，哪一項產業最有可能是電子製造業？

選項	民國 50 年	民國 70 年	民國 90 年	民國 107 年
(A)	15%	11%	4%	2%
(B)	5%	10%	5%	7%
(C)	0%	2%	16%	27%
(D)	31%	11%	5%	4%

- () 56. 中國曾以禁止進口澳洲紅酒、台灣鳳梨與挪威鮭魚等手段，向這些國家施壓，而近期的「新疆棉事件」，更是中國運用經濟手段來達到政治效果，除了相關品牌代言人表態切割外，更有不少企業紛紛表示支持新疆棉。請問，這些國際企業容易受到中國的經濟威脅，主要是因為中國掌握哪一項重要的工廠設廠因素呢？ (A)原料豐富 (B)勞力低廉 (C)市場廣大 (D)創新技術

- () 57. 臺灣是自然資源不足、國內市場有限的國家，需要出口產品、進口原料，因此國際貿易依存度高。經濟部國貿局公布 2021 年 1 月至 2 月臺灣對各國的貿易情形，下表為臺灣和主要四個貿易夥伴的關係，以下哪個敘述符合現況？

國家	貿易總額(億美元)	出口額(億美元)	進口額(億美元)
中國	376.8	261.1	115.7
美國	142.5	85.8	56.7
日本	121.8	43.3	78.5
新加坡	55.7	37.3	18.4

- (A)與美國貿易互動狀況為出超 (B)臺灣最大的出口市場是日本
(C)日本有較多的資金流向臺灣 (D)和歐洲國家有緊密貿易關係

- () 58. 台灣鳳梨罐頭最輝煌的時期，年產值高達 120 億台幣，養活無數家庭，直到 1980 年代工商業快速發展，農村人口流向都市，工資上揚，台灣在世界鳳梨罐頭的版圖中逐漸被泰國、菲律賓等國取代，而當時掌握台灣鳳梨罐頭生產的台鳳公司和台東興業也轉向印尼等地投資，由此台製鳳梨罐頭漸漸走入歷史。從上述內容可以推論，鳳梨罐頭工廠生產地點的轉移，跟哪一項工業生產要素有關？

- (A)市場 (B)勞力 (C)原料 (D)動力

毛豆，日本人稱「枝豆」，就是發育至八分飽滿的大豆，毛豆「怕冷」，一旦日照少、氣溫低，就可能種出次等品，無法外銷。泰國、中國、越南都能生產，以食品安全挑剔著稱的日本，卻鍾愛臺灣製。

目前，台糖公司釋出南部地區上千公頃田地，豆農改採美式大農場模式，規模從 30 公頃變數百公頃，購入採收機來縮短作業時間，讓採收、運輸，到加工成冷凍毛豆半成品，幾乎都在「黃金 4 小時」內完成，讓毛豆甜度提高。加上改良品種，推出高雄六號到十號毛豆，其中高雄九號讓毛豆增產 15%，品質數一數二的「高雄九號」，色澤好、豆仁甘甜，受日本顧客喜愛，但，2007 年，泰國與日本簽署自由貿易協定(FTA)，泰國輸日的農產品關稅，將從 6%降至 0%(台灣仍是用 6%關稅)，泰國毛豆價格優勢大增。日本消費者雖然願意用較高價格購買台灣毛豆，但泰國毛豆品質也不差，加上人力成本低於台灣，又有零關稅優勢，長期來看，是不容小覷的對手。

- () 59. 以毛豆的生長特性來看，下列哪個地區是最適合種植的地理環境？

- (A)臺北盆地 (B)彰化平原 (C)屏東平原 (D)蘭陽平原

- () 60. 文中提及豆農改變農場模式，反映台灣農業原本大都是屬於下列何種型態的耕作型態？

- (A)高度機械化耕作 (B)集約式耕作 (C)單位勞力產量高 (D)總產量大的商業農業

- () 61. 「高雄九號」讓毛豆增產 15%，其原因與下列何者最相關？

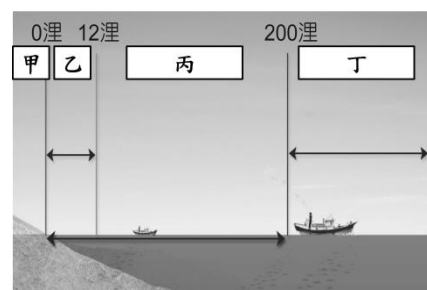
- (A)平原廣大 (B)品種改良 (C)氣候暖濕 (D)集約農業

- () 62. 面對泰國的競爭，你認為該如何做才能拉開與對手的差距？

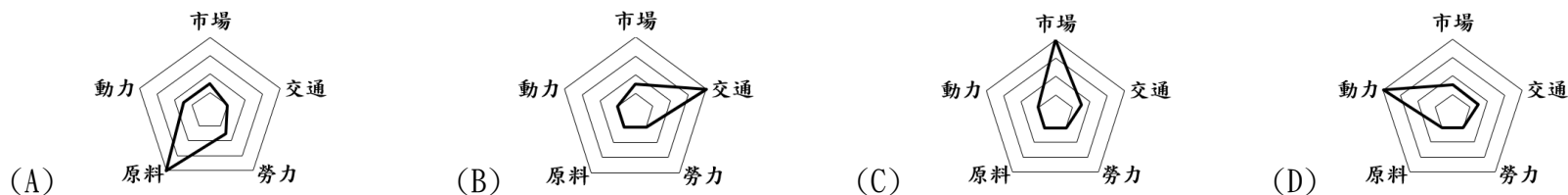
- (A)發展觀光農業增加觀光商機 (B)設立農業博覽會增加國人消費

- (C)全民公投強迫日本與台灣簽署 FTA (D)開拓市場避免過度集中單一國家

天下雜誌，2021 年 2 月報導，這股洋流為台灣東部帶來豐富漁業資源，加上南方澳獨特的天然地形，讓宜蘭成為鯖魚的故鄉。鯖魚是迴游性魚類，每年隨著洋流來台，目前全台灣每年捕撈約 5 萬噸鯖魚，其中九成都來自蘇澳。宜蘭蘇澳「老船長」鯖魚罐頭品牌 30 幾年前從幾艘漁船開始，後來船隊根據鯖魚重量分選，大隻進罐頭工廠做成鯖魚罐頭，趁著鯖魚新鮮，做成可以保存較久的罐頭，銷售到全臺各地；小隻進冷凍工廠加工賣給遠洋漁船作為捕撈深海魚用的魚餌。工廠設立時間，正逢趕上漁業及食品工業的蓬勃期，冷凍魚餌事業一度吃下遠洋魚餌最大市佔，罐頭廠品牌老船長如今更是台灣第三大鯖魚罐頭品牌…。請依據雜誌內容，回答下列問題：



- () 63. 請問，蘇澳之所以成為鯖魚的故鄉，主要的發展優勢是什麼？
 (A)黑潮流經 (B)大陸棚廣大 (C)箱網養殖技術佳 (D)中國沿岸流流經
- () 64. 「老船長」工廠提供的捕撈深海魚用魚餌的漁船，主要活動於右圖中哪段海域範圍？
 (A)甲 (B)乙 (C)丙 (D)丁
- () 65. 「老船長」工廠設在蘇澳主要考量的因素，符合下列哪張雷達圖的比重(雷達圖離中心越遠，表示是該產業最重要的區設廠影響因素)？



你有吃過乖乖嗎？乖乖其實是用玉米粉製作的點心餅乾，但這幾年進行創意行銷，甚至用米來做乖乖。這些乖乖，在一般門市甚至買不到，共同特點都是和地方作物結合、限定地點販售、採用優質原料、國產米，甚至使用當地米種。右圖為阿美族太巴塢部落特產有機無毒紅糯米乖乖，是「太巴塢限定款」，只能在光豐農會才能買到！地方限定米乖乖，以農產帶動地方經濟，期待以農產帶動地方經濟，讓消費者以吃臺灣農產品為流行。請配合右圖，回答下列問題



- () 66. 本款乖乖所使用的紅糯米原料，符合台灣的農業轉型何項特色？
 (A) 農耕過程不使用農藥化肥 (B) 拉近農夫與消費者間距離
 (C) 產銷履歷讓消費者更安心 (D) 用農村景觀吸引觀光人潮
- () 67. 乖乖所掀起的消費活動，能直接地降低下列哪一項台灣農業問題所帶來的衝擊呢？
 (A)農村勞動力不足 (B)市場糧食價格高
 (C)稻米單位產量低 (D)人民食米需求低

歷史科：第 68—84 題

- () 68. 嘉恩將臺灣人口成長的數據作成下表。下列關於台灣人口的敘述何者正確？(A)表中 1905 年台灣人口 310 萬，因尚未進行人口普查，只是大略的估算值 (B) 1905-1943 年，人口呈現大幅成長，應與現代化醫療與衛生觀念的建立有關 (C) 1943-1946 年人口減少，與武裝抗日事件頻傳，總督府大量屠殺台灣人民有關 (D) 1946-1950 年人口呈現大幅成長，與糧食充足，致使人口大量增加有關。

年代（西元）	人口數目（人）
1905	310 萬
1943	660 萬
1946	610 萬
1950	750 萬
1996	2100 萬

- () 69. 下列哪幾項是李登輝任職總統期間其主要的政治措施？(甲)開放黨禁、報禁 (乙)中央民意代表全面改選 (丙)解除戒嚴 (丁)直轄市市長民選。(A)甲乙 (B)甲丙 (C)乙丁 (D)丙丁。

* 以下兩段資料是有關日治時期臺灣政治社會運動的發展。【回答 70、71 題】

資料一：某份請願書提到：「最近國際局勢平衡，遠東和平可以確保，政府應借鏡世界思潮，速置臺灣民選之議會，予臺人平等之待遇，均霑憲政之恩澤。」

資料二：某知識分子：「臺灣文化協會成立後，知識分子紛紛響應蔣先生的高見，最令人感動。」

- () 70. 關於資料一的敘述何者正確？(A)文中的世界思潮為民族自決 (B)此活動的發起人為蔣渭水 (C)此活動目的是要制衡行政長官的專制 (D)多次請願終於成功設置臺灣議會。
- () 71. 關於日治時期的政治社會運動下列何者正確？(A)出現在第一次世界大戰後 (B)主要訴求是倡導獨立 (C)資料二中的台灣文化協會成立目的是呼應殖民政府的皇民化政策 (D)日治時期結束，台人的政治社會運動才停止。

* 以下兩段資料是戰後台灣時期的人民生活敘述【回答 72、73 題】

資料一：「臺灣光復真吃虧，餓死同胞一大堆，物價一日一日貴，阿山（大陸人）一日一日肥。」

資料二：「在那一個時代，校園裡沒有人敢公開批評時政，只有私下竊語，但這有些危險，因為有人會向學校行政當局或是黨部檢舉。」

- () 72. 資料一顯示當時臺灣物資缺乏，物價飛漲，而這種情況與什麼事件有關？(A)二二八事件爆發，急需民生物資 (B)實施戒嚴，物資進出口遭到限制 (C)第二次世界大戰爆發，物資採專賣制度 (D)為支援國共內戰，物資多運往中國大陸。
- () 73. 關於資料二的敘述何者正確？(A)時間發生在民國 60、70 年代 (B)文中的「向黨部檢舉」，是指向共產黨檢舉 (C)台灣人民提出民主改革的要求，導致二二八事件的發生 (D)當時常見的政府宣導標語有「隱瞞匪諜，與匪諜同罪」、「小心！匪諜就在身邊」等。
- () 74. 下表顯示日治時期某一年臺灣的教育狀況，從表中可看出當時的教育情形為何？(A)臺人基礎教育較日人更為普及 (B)升學管道暢通，臺人紛紛入學 (C)臺人與日人都有平等的受教權 (D)臺人基礎教育不足且高等教育升學不易。

項目		日人	台人
基礎教育	學生數(人)	23,711	210,277
	學齡兒童就學率(%)	98.2	28.2
中等學校	學生數(人)	477	251
專門學校	學生數(人)	6,856	4,642

- () 75. 歷史老師在課堂上介紹了某部法律的內容，這部法律曾經過多次的修訂。下列為此法律最初制訂的條文部分內容：

一、總統在「甲」時期，為避免國家或人民遭遇緊急危難，或應付財政經濟上重大變故，得經行政院會議之決議，為緊急處分，不受《憲法》第 39 或 43 條所規定程序之限制。

二、：「甲」時期之終止，由總統宣告，或由立法院咨請總統宣告之。

請根據上文選出正確的敘述？(A)此法律發布背景是為了因應國共內戰的戰爭局勢 (B)其法律為《戒嚴令》 (C)中華民國政府遷台後才頒布此法律 (D)由蔣經國總統宣告終止此法律。

* 隨著二二八紀念碑在臺北新公園舉行落成典禮後，延宕多年的二二八事件終於以平和、理性的結局落幕了。

【回答 76、77 題】

- () 76. (甲)語言隔閡 (乙)官員貪污 (丙)物價飛漲 (丁)實施戒嚴。哪些是此事件發生時的背景？(A)甲乙丙 (B)甲乙丁 (C)甲丙丁 (D)乙丙丁。
- () 77. 有關二二八事件的經過及造成的影響，下列何者正確？(A)事件發生的導火線為政府查緝鴉片 (B)事件爆發，當時台灣地區最高的行政官員是蔣中正 (C)政府實施清鄉政策，造成許多民眾傷亡 (D)事件發生後，有助於台灣族群和平相處。。
- () 78. 1940 年元熙參加台中中學校畢業 10 年的同學會，可能會發生哪些情形：(甲)跟同學約定子時聚會，大家準時出席 (乙)元熙穿著西裝、戴紳士帽，並攜纏足的老婆出席 (丙)與同學分享赴日本留學的經驗 (丁)和同學相約下星期日搭火車到台北北投的公共溫泉洗浴？(A)甲乙 (B)乙丙 (C)丙丁 (D)甲丁。

- () 79. 關於台灣選舉歷史的進展何者正確？(A)台灣第一次選舉是在中華民國時期 (B)民國 39 年起，台灣人民可以選舉地方首長與民意代表 (C)白色恐怖時期，台灣人民無法選舉投票 (D)首位中華民國選總統為馬英九。
- () 80. 關於日治時期的教育發展，下列敘述何者正確？(A)教育的目的是為了開啟台灣人民的智慧，提升知識力 (B)初等教育的差別待遇方針，分為日人就讀的公學校及台人就讀的小學校 (C)總督府成立臺北帝國大學做為在臺日人接受高等教育的學校 (D)日治初期實施六年義務教育，落實日語教學。
- () 81. 臺灣省政府實施戒嚴，限制人民多項自由。關於戒嚴時期的敘述何者正確？(A)受到政府遷台的影響實施 (B)限制人民遷徙自由，不准人民搬遷，以全面掌控台灣社會 (C)政黨的成立與報章雜誌的出版都受到政府嚴格的審核 (D)由李登輝總統宣布解除戒嚴。
- () 82. 下列戰爭：(甲)甲午戰爭 (乙)第一次世界大戰 (丙)第二次世界大戰 (丁)國共內戰 皆對台灣政局產生巨大影響。請根據上述戰爭，選出正確敘述？(A)台灣光復與丁有關 (B)日治時期的開端與結束分別受到甲丙的影響 (C)有關中華民國政府因丙戰敗，搬遷來台 (D)日治時期的皇民化運動推行與乙爆發有關。
- () 83. 民國 38 年台灣某份刊物的創刊宗旨寫道：「第一、我們要向全國國民宣傳自由與民主的真實價值，並且要督促政府切實改革政治經濟，努力建立自由民主的社會。第二、我們要支持政府並督促政府用種種力量抵抗共產黨鐵幕之下剝奪一切自由的極權政治，不讓他們擴張勢力範圍。第三、我們要盡我們的努力，援助淪陷區的同胞，幫助他們早日恢復自由……。」但這份刊物卻在民國 49 年停刊。請問關於這份刊物的敘述何者正確？(A)這份刊物應為《美麗島》雜誌 (B)此雜誌的創辦人為雷震 (C)創辦人在高雄舉行遊行活動，呼籲解除戒嚴 (D)停刊的原因與創辦人意圖籌組民主進步黨，以制衡執政黨勢力有關。
- () 84. 台灣原住民是指在台灣最早定居的族群，但隨著台灣外來族群的統治，台灣原住民的文化面臨沒落甚至失傳的困境。不同時期的統治者對台灣原住民有不同的統治方式，請選出正確敘述？(A)清領時期的劃界封山政策，隔離生番和熟番避免衝突發生 (B)日治時期以「社」取代「族」作為原住民的分類，例如霧社事件 (C)日治時期皇民化運動的推展只限漢人，對原住民沒有影響 (D)中華民國政府實施山地平地化政策，設置山地鄉，強化政府對山地社會的控制。

公民科：第 85—100 題

- () 85. 在傳統社會中，許多性別不平等的現象被視為是正常的。直到西元 1970 年開始，有女性組成團體，發起女權運動。到了今天，性別平等的觀念已普遍被大家所接受，甚至成為法律規範必須注意的面向。上述顯示了下列何種意涵？ (A)社會失去規範 (B)文化的約制性更強大 (C)次文化可能逐漸轉變為主流文化 (D)不同文化之間具有差異性。
- () 86. 小華參加國際夏令營時聽見貝多芬的《給愛麗絲》鋼琴曲，他一楞後便開懷大笑，傑克好奇的問他有什麼好笑的地方。小華說：「在臺灣，我們聽到這首歌就是要準備倒垃圾了！」《給愛麗絲》提醒臺灣人要倒垃圾，這與下列哪一項文化的特性相同？ (A)各國遇見朋友時都有打招呼的行為 (B)有些國家打招呼用握手、有些則是磨鼻子 (C)某連鎖比薩店推出臭豆腐比薩 (D)行天宮雖然取消燒香拜拜，但人們還是用手誠心敬拜。
- () 87. 從下圖的兩則新聞摘要中，可以看出報導中國家出現何種狀況？ (A)透過文化位階來否認少數族群的文化認同 (B)藉由制定政策來加強傳統文化的傳承 (C)經由大眾傳播媒體宣揚以達到文化多樣性 (D)文化交流以打破長期存在的刻板印象。

新聞一：

截至西元 2018 年 9 月，有 110 萬名中國平民住進維吾爾或哈薩克族等少數族群家裡，一起喝茶、吃飯、聊天，回報思想狀況，執行教化和監視。

新聞二：

「思想轉化」的方式：第一是「長時間死記硬背漢語」，其次為「學習中國日益嚴格的宗教法規」，再來即是「以對黨的忠誠取代宗教信仰及文化認同」。

() 88. 以下是某篇網路新聞的內容——

科技發展能使資訊的傳播與獲取更有效率，但一名電腦駭客就曾假借美國聯邦調查局(FBI)和中央情報局(CIA)名義，寄發暗藏病毒的電子郵件，造成全球電腦病毒大流行，損害公眾利益。

由上述科技發展所產生的利與弊，顯示當前社會應更加注重下列何者的提升？ (A)角色衝突 (B)生產技術 (C)倫理價值 (D)風俗習慣。

() 89. 以下幾位來自不同國家的年輕人在網路上分享：

家豪：「過幾天，我就要滿 16 歲！父母打算帶我到臺南去參加成年禮活動，聽說要匍匐爬過七娘媽的神桌，爬出來後就象徵出人頭地，長大成人。」

東賢：「在我國，要到 19 歲才會舉行傳統的成年儀式，長輩為男生戴上黑色禮帽，為女生盤起頭髮，插上簪子，戴上彩色小帽，最後再換上傳統韓服舉行儀式。參與者要向長輩行跪拜大禮，並集體宣讀被認為成人的行為標準。」

高橋：「相比之下，我國就比較簡單，滿 20 歲那天穿著傳統和服在地方的社區會館參加政府舉辦的儀式，活動中還可以獲贈紀念品呢！」

下列哪一項描述與上述的分享內容無關？ (A)此規範有助於建立符合社會期待的價值觀與行為模式 (B)透過正式規範改變非正式規範，能發揮穩定社會秩序 (C)雖不具強制力，但透過此規範仍有助於維持社會發展 (D)社會規範因國家而有差異，無需同樣標準要求一致性。

() 90. 小妍是一名法律系畢業的學生，準備要參加律師資格的國家考試，附圖為她在閱讀《民法》時，看到

的條文內容。依據該條文內容判斷，下列相關描述何者正確？ (A)正式規範是最高限度的行為準則 (B)非正式規範成為正式規範的基礎 (C)正式規範可以改變不合時宜的非正式規範 (D)非正式規範與正式規範間彼此不會產生任何影響。

法規名稱：民法

第 1084 條

子女應孝敬父母。

父母對於未成年之子女，有保護及教養之權利義務。

第 1114 條

左列親屬，互負扶養之義務：

一、直系血親相互間。

二、夫妻之一方與他方之父母同居者，其相互間。

三、兄弟姐妹相互間。

四、家長家屬相互間。

- () 91. 位於北港媽祖廟前的森興燈籠，為一間五代傳承的手工燈籠，至今約有百多年的歷史。現年 52 歲的老闆林聰賢接手該項手工技術已有 30 年之久，一般傳統的燈籠是以白色為代表，但因感覺白色不吉利，現在多以紅色作為廟會喜慶用途。根據上述，目前的林老闆手工編製紅色燈籠作為喜慶用途，屬於下列何種行為？ (A)不同文化的接觸與交流 (B)尊重外來文化 (C)保存歷史建築 (D)文化傳承與創新。
- () 92. 小明看到一篇新聞報導：「臺灣藝術家蕭青陽憑藉董事長樂團『祭』唱片包裝，入圍了第 61 屆葛來美獎。這是蕭青陽第 5 度入圍，他表示這次專輯封面設計，是根據董事長樂團音樂風格，以臺灣民間祭祀的傳統文化為概念，將封面設計成金紙形式，歌詞也是用燙印方式印製，樂迷拿到專輯打開封面，就像是臺灣傳統拜拜時，向神明、祖先祈求心靈平安的一種感覺。他說能再次讓臺灣傳統文化之美被國際看見，很興奮！」根據上述內容判斷，蕭青陽的設計入圍美國葛來美獎，展現下列何者？ (A)文化交流 (B)文化衝突 (C)文化不平等 (D)文化位階。
- () 93. 小華閱覽雜誌時，看到某篇文章介紹：「雲門舞集創辦人林懷民在西元 2019 年底交棒前發表了最後一支舞作《秋水》，46 年的舞蹈生涯，創作出 90 支舞。他的舞蹈語彙，從最早師承瑪莎葛蘭姆，加上京劇武功。20 年後，引入打坐、太極導引的呼吸與氣功、內家拳的纏絲勁、書法，在國際間有著極高的辨識度。」依此判斷，林懷民的表現有助於達成下列何種目標？ (A)文化傳承 (B)文化衝突 (C)文化創新 (D)文化競爭。
- () 94. 民國 96 年 5 月，立法院三讀修正《民法·親屬編》部分條文，將過去子女出生從父姓的規定，修正為在子女出生登記前，父母應以書面約定從父姓或母姓；子女出生登記後或未成年前，姓氏也得由父母以書面約定變更，但變更以一次為限。上述法律的修訂雖有助於改善性別不平等現象，但更重要的是價值觀念的改變。價值觀念屬於下列何種文化的內涵？ (A)次文化 (B)物質文化 (C)主流文化 (D)非物質文化。
- () 95. 第 24 屆金曲獎最佳客語歌手獎得主湯宇歆，在 9 歲時舉家移居到巴拉圭，但家中仍以客語溝通，所以對客家文化並不陌生。成長過程接受兩種風格迥異的文化洗禮，激發出嶄新的音樂曲風。湯宇歆表示，客家音樂不應被傳統及國界局限，融入多元文化，將流行與傳統、東方與西方結合，才能使客家音樂發展出新樣貌。根據上文所述，該歌手展現了何種文化態度？ (A)強調保存傳統文化的重要，排斥外來文化 (B)肯認自我文化，並能融合其他文化 (C)重視流行文化的發展，認為本土文化已經過時 (D)強調政府應立法保障客家音樂文化。
- () 96. 「艋舺青山王遶境」是臺北萬華地區重要的廟會活動，青山王原本是泉州惠安人的地方信仰，經過多年發展成為地方上重要的宗教活動，為了讓民眾真正了解此活動的意涵，有民間團體舉行收費式的導覽活動，讓參加導覽的成員能近距離接觸陣頭儀式、深入了解遶境文化，希望能達到此文化活動代代流傳的目的。關於上文所述，下列說明何者最正確？ (A)遶境活動呈現在政策上落實各族群的平等 (B)導覽活動採取收費方式將會形成文化位階的現象 (C)廟會活動屬次文化，須透過文化創新才能成為主流文化 (D)文中的導覽活動，是透過了解多元文化來落實文化傳承。
- () 97. 許多民眾出國旅遊會購買藥物(藥品、醫療器材)，回國後甚至在網路上從事販售行為。政府提醒民眾，藥品並非一般商品，使用上有其風險，不應當土產買，也不能當伴手禮，餽贈親朋好友。藥品只能自用，絕對不能販賣或轉移給他人。藥品攜入，必須具備藥商資格的公司，並取得藥品許可證，才可合法進口藥品。如果將帶回的藥品拿去販賣，依《藥事法》規定，最重可處 10 年以下有期徒刑，得

併科新臺幣 1 億元以下罰金。上述政府運用何種方式來從事藥物販售的把關？ (A)公權力的制裁 (B)社會輿論的批評 (C)內在良知的譴責 (D)超自然力量的約束。

- () 98. 國際人權大師哈斯瑪教授曾經強調，人們若片面賦予《刑法》安全預防義務，將破壞人權方面的保障；國家應以其他手段使安全政策更有成效。下列關於「法律規範」的敘述，何者錯誤？ (A)現代國家主要依據法律規範約束成員的行為 (B)唯有提高處罰的刑度，社會才能和諧穩定 (C)法律無法將社會各層面細節完全規範 (D)社會仍需其他非正式規範使人產生約束自我的力量。
- () 99. 我國於西元 2019 年再次修正《道路交通管理處罰條例》，將汽車駕駛人(甲)酒駕的最高罰款從 9 萬提高至 12 萬，還新增「連坐式處罰」，(乙)若駕駛人酒測值超標，可處同車乘客(年滿 18 歲)罰款；有學者表示，罰則的提高也許能提高嚇阻力，但(丙)更希望長久以來宴席上的「乾杯文化」能轉變為「以茶代酒」，否則酒駕肇事造成他人傷亡，(丁)一輩子都逃不了良心的譴責。關於前文畫線部分的分析，下列何者正確？ (A)(甲)屬非正式規範的修正，約束外在行為 (B)(乙)在啟迪個人內在良知，不具有強制力 (C)(丙)透過法律修正來影響風俗習慣的改變 (D)(丁)唯有透過公權力制裁才能達到此效果。
- () 100. 隨著環保意識覺醒，為有效改善環境衛生，維護國民健康，制定並修正《廢棄物清理法》，另外藉由法律的處罰，更加強落實此一觀念。例如：主人攜帶寵物出門時，放任其在公共場所便溺，卻不清理者，將依該法第 50 條規定，處新臺幣 1,200 元以上 6,000 元以下罰鍰。經限期改善，屆期仍未完成改善者，按日連續處罰。根據上述內容判斷，下列有關社會規範間的敘述，何者正確？ (A)社會規範彼此間相互影響 (B)社會規範須耗時才易更動 (C)倫理道德可彌補法律不足 (D)社會規範允許效力有差異。

試題到此結束，請同學細心檢查！