

一、題組(共 40 題，每題 2.5 分)

(一)中國因環境問題日益嚴重，於是訂定許多環境保護措施，企圖解決這些環境問題。請回答下列問題。

1.「三北防護林」西起新疆，東至黑龍江省，綿延萬里，工程浩大。請問：此「三北」是指哪三個地區？(甲)東北 (乙)華北 (丙)蒙新 (丁)華中 (戊)華南 (己)青藏 (A)甲乙丙 (B)甲丙己 (C)乙丙己 (D)乙丁戊。

2.「三北防護林工程」所因應的環境問題為何？(A)沙漠化 (B)地層下陷 (C)海水倒灌 (D)水患。

(二)長江三峽大壩是中國近年來重大工程建設之一，也是目前世界上規模最大的水利工程。請依敘述回答下列問題。

3.配合長江三峽大壩水利工程的興建，中國於四川地區選擇了一個城市，升格為第四個直轄市。請問：該城市為下列何者？(A)廣州 (B)香港 (C)澳門 (D)重慶。

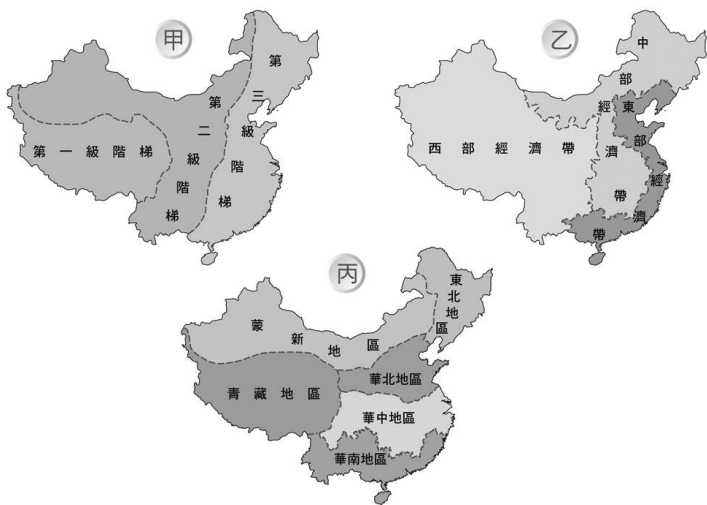
4.三峽大壩完工之後，會使得哪個三角洲的面積縮減？(A)珠江三角洲 (B)長江三角洲 (C)尼羅河三角洲 (D)百慕達三角洲。

(三)中國人口主要集中在東半部，此區地形以平原、丘陵為主體，因地勢較平緩，農業發達。請回答以下問題。

5.平原地形地勢平緩與其成因有關。請問：中國主要平原的成因為何？(A)冰河侵蝕 (B)風力堆積 (C)火山爆發 (D)河流沖積。

6.中國南部丘陵地區因居民沿等高線開闢梯田，增加可耕地面積，因此農業發達；這些地區除了生產糧食，亦種植許多經濟作物。下列哪種作物在此區較常見？(A)咖啡 (B)茶樹 (C)棉花 (D)甘蔗。

(四)下面三張圖為中國地理區的劃分，請依圖回答下列問題。



7.甲圖是以下列何者作為劃分依據？(A)地勢高低 (B)經濟發展 (C)民族分布 (D)河川水系。

8.乙圖中的哪個經濟帶是中國經濟發展最好的區域？(A)東部 (B)中部 (C)西部 (D)以上皆是。

9.下列哪個省級行政區位於丙圖中的華中地區？(A)新疆維吾爾自治區 (B)內蒙古自治區 (C)上海市 (D)西藏自治區。

10.某界線是中國重要的地理分界，不僅劃分中國的南部與北部區域，在氣候上也是一月月均溫 0 度 C 等溫線，年雨量 750 毫米等雨量線，請問此條界線為何？(A)秦嶺-淮河 (B)喜馬

拉雅山 (C)太行山 (D)中央山脈。

11.丙圖中哪個地區的鄰國最多？(A)華北地區 (B)華中地區 (C)蒙新地區 (D)華南地區。

(五)中國氣候多樣，為了適應各種氣候類型，滿足居民食、衣、住、行所需，因而發展出不同的生活方式。

12.下圖為中國廣西傳統騎樓建築，請問此種建築形式，主要與何種氣候因素有關？(A)降雨日數多 (B)日照時數短 (C)緯度高 (D)冬季季風強烈。



13.此地區乾燥少雨，居民取當地的泥、沙及石灰為建材，建構出「人家半鑿山腰住，車馬多從頭頂過」的窯洞建築景觀。請問：上述應出現於下列何處？(A)東北平原 (B)珠江三角洲 (C)黃土高原 (D)青藏高原。

(六)請在閱讀短文後，回答下列問題。

傳說中，蒙古族的祖先是蒼狼與白鹿的結晶，所以成吉思汗被尊為蒼狼的子孫。……他發動第一次西征，先消滅花刺子模，打敗俄羅斯的聯軍，並將蒙古領土擴大到中亞與南俄……又滅西夏。

成吉思汗的子孫窩闊臺滅了金國，並派拔都發動第二次西征，直逼波蘭、威尼斯等地，震驚歐洲人，歐洲人稱之為「黃禍」。……蒙古第三次西征，由旭烈兀出兵，攻下大食的都城。

14.文中提到的「三次西征」發生在哪個時期？(A)十一世紀 (B)十二世紀 (C)十三世紀 (D)十四世紀。

15.蒙古西征期間，曾經攻陷大食的都城；所謂的「大食」是指哪個民族？(A)印度人 (B)羅馬人 (C)俄羅斯人 (D)阿拉伯人。

(七)下列是有關遠古時期人類生活的說明。請回答相關問題：

訊息一：三個人正在居住的洞穴中鑽木取火，準備燒烤食物，旁邊有一個人正在洞穴中打製石器。

訊息二：兩個人正在從事簡單的農業種植活動，干欄式建築旁邊還有一個人正在燒製陶器。

16.由訊息一中所顯示的情景，可知這最可能是下列哪個文化遺址的生活型態？(A)北京人 (B)仰韶文化 (C)龍山文化 (D)河姆渡文化。

17.由訊息二中的情景判斷，下列相關說明何者正確？(A)此地的人類以小米為主食 (B)此時正處於舊石器時代 (C)這時期可能已經出現定居聚落 (D)人類的糧食來源來自於採集與狩獵。

(八)請閱讀短文，並回答下列問題。

堯知道自己的兒子丹朱不夠賢能，因此將君位傳給舜。堯說：「傳位給舜，天下人都能得到利益，只有丹朱一個人痛苦；但若傳位給丹朱，天下人可能會不幸，只有丹朱一個人得到好處。」

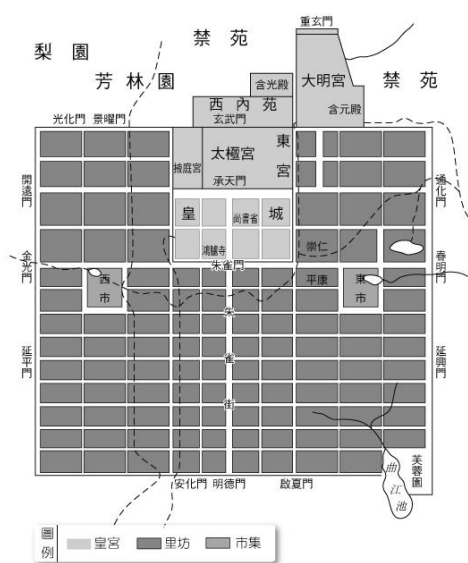
舜的兒子商均不成材，他想效法堯的作法，把君位傳給禹。舜死後，禹登上君位。丹朱與商均分別得到唐和虞的封地，他們以客人的身分拜見禹，禹也不把他們當臣下對待，以表示不敢專擅君位。

後來，禹雖然把君位傳給益，但因為禹的兒子啟很賢能，天下人心都歸向他，且益輔佐禹的時間不長，諸侯們並不擁戴益，而都去朝拜啟，於是啟就繼承了君位。

18.文中所提到堯與舜傳承君位的方式為何？ (A)君位世襲 (B)禪讓政治 (C)公開投票 (D)武力爭奪。

19.由文中可知禹死後，由其子啟繼承君位，這種現象在中國歷史上有何意義？ (A)開啟了部落推舉的政治體制 (B)為封建制度的展開奠定基礎 (C)開啟君位傳子的家天下局面 (D)開啟君位傳賢的公天下局面。

(九)下圖是唐代長安城的平面圖，請參考圖片內容回答下列問題：



20.長安城的格局規畫整齊，道路平整筆直、四通八達，形成早期都城建立的典範。這種方整的格局稱為什麼？ (A)輻射狀格局 (B)棋盤式格局 (C)雙中心格局 (D)坊市合格局。

21.隋唐時代的人民進行交易時必須受到時間、地點等諸多限制，無法自由設立攤位，也無法隨意進行買賣。這是受到哪項政策影響所致？ (A)邊境貿易 (B)坊市合一 (C)坊市分離 (D)市舶司貿易。

22.中唐以後，人們若覺得交易時攜帶銅錢不便，可以先將銅錢加以兌換，需要使用时再換回銅錢即可；這種兌換錢幣的制度稱為什麼？ (A)寶鈔 (B)會子 (C)交子 (D)飛錢。

(十)下圖人物是魏晉之際的風流人物「竹林七賢想像圖」。請依序回答下列問題：



23.造成竹林七賢行為舉止不受拘束的主要原因為何？ (A)各國國君提倡清靜無為的黃老之術 (B)世族家教頗為自由，放任子弟追求自我 (C)政治社會情況混亂，士人選擇逃避現實 (D)佛、道教傳播迅速，出家、皈依風氣盛行。

24.他們聚集在一起談論道理時，最可能參考下列哪部書籍？ (A)孟子 (B)莊子 (C)史記 (D)論語。

(十一)鄭和七次下西洋，是中國航海史上的創舉。請閱讀下列短文，並回答問題：

鄭和七次出使中，船隻最多達兩百艘，最少也有六十二艘，船上的人員最多達兩萬七千人。這些船隊雖配備強大的武裝，但並不用武力，而是利用瓷器、絲綢、鐵器、金屬貨幣等，交換各國的珍珠寶石、香料及珍禽異獸，藉此贏取各國的信任。許多國家在鄭和訪問後，都與明朝建立邦交與貿易往來，部分國家的使團甚至是搭乘鄭和的船隻來「朝貢」的。在此後的一段頗長時間裡，明代聲威一度可與唐太宗的天可汗制度媲美。

至今許多國家仍保有明代鄭和的遺跡，如印尼的三寶壟市，鄭和遠航時曾在此登陸暫住，那裡原本一片荒涼，後來華僑因為鄭和來過便定居於此，逐漸形成興旺的海港。每年在鄭和登陸的日子，華僑都會舉行盛大遊行，以紀念鄭和。

25.明代在處理對外關係上，始終維持什麼樣的原則？ (A)對等貿易 (B)朝貢貿易 (C)武裝貿易 (D)關稅貿易。

26.明代的「西洋」主要是指今日的何處海域？ (A)波斯灣與大西洋一帶 (B)臺灣海峽與太平洋一帶 (C)南洋西區與印度洋一帶 (D)非洲西岸與地中海一帶。

27.明代曾將鄭和下西洋的壯舉編成戲劇演出，並寫成小說、故事流傳鄉里。依書名研判，下列哪部小說最有可能是以鄭和的事蹟為主要內容？ (A)西遊記 (B)天工開物 (C)東方見聞錄 (D)奉天命三保下西洋。

28.請問「專屬經濟海域」最有可能是國家組成要素中何種概念的延伸？ (A)人民 (B)領土 (C)政府 (D)主權。

29.承上題，政府的外交作為和「保衛海疆、保護漁民」的行動應與國家成立的何種目的最有關係？ (A)保障人民安全 (B)維護社會秩序 (C)促進經濟發展 (D)保護基本人權。

(十二)請根據以下資料回答相關問題：

#### ●資料一

西元2013年9月間，挪威舉行國會大選，當時的總理史托騰柏格為了貼近選民生活、了解選民的真實心聲，在某個他與國王開完會後的禮拜五，喬裝成計程車司機載客，並把載客實錄上傳到臉書(Facebook)、推特(Twitter)和YouTube上。他在影片中說：「對我來說，傾聽民眾真實想法很重要。民眾最容易吐露心聲的地方，就是在計程車上。」

30.依據文中若干關鍵字詞，如國會、總理、國王、選民等，判斷挪威最有可能是屬於下列何種類型的國家？ (A)民主共和國 (B)獨裁共和國 (C)君主立憲國 (D)君主獨裁國。

31.挪威總理說：「對我來說，傾聽民眾真實想法很重要。」這句話顯示了民主政治的何種特色？ (A)政黨政治 (B)法治政治 (C)責任政治 (D)民意政治。

(十三)關於公民政治，回答下列問題：

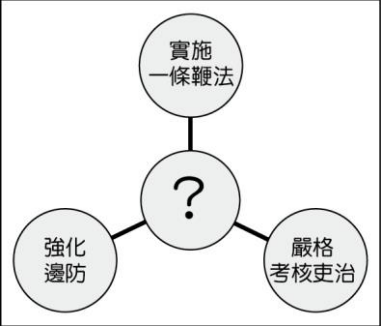
32.國慶攜帶投票通知單、身分證與印章，前往投票所親自投票，請問符合選舉哪項原則？ (A)普通原則 (B)平等原則 (C)直接原則 (D)無記名原則。

33.國慶將蓋好的選票對折不外露，投入票箱，請問此舉符合選舉哪項原則？ (A)普通原則 (B)平等原則 (C)直接原則 (D)無記名原則。

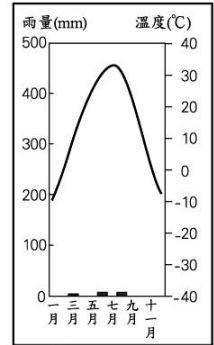
34.如果國慶使用自己準備的卡通圖章蓋印選票，這張選票是否有效？ (A)有效，因為沒有國慶的名字 (B)有效，因為不知道是誰投的 (C)無效，要使用特定的圈選工具 (D)無

效，因為不莊重。

- 35.選舉結果的確定，是由哪個單位負責？ (A) 行政院 (B) 選舉委員會 (C)候選人競選總部 (D)推薦候選人的政黨。
- 36.請問臺東縣政府舉辦熱氣球嘉年華會，屬於地方政府自治事務中的哪一個項目？ (A)交通建設 (B)社會服務 (C)經濟發展 (D)安全衛生。
- 37.臺東縣政府在熱氣球嘉年華會的現場安排警察人員指揮交通，屬於地方政府自治事務中的哪一個項目？ (A)教育文化 (B)經濟發展 (C)社會服務 (D)安全衛生。
- 38.根據上文的敘述，熱氣球嘉年華會的活動與停車費收入可以增加地方政府何項財源收入？ (A)中央補助 (B)自行籌措 (C)地方稅收 (D)企業贊助。
- 39.選舉人投票時領取兩張選舉票，投票的對象分別為何？ (A)全國立法委員、區域立法委員 (B)區域及原住民立法委員、政黨 (C)一般立法委員、原住民立法委員 (D)區域立法委員、不分區立法委員。
- 40.承上所述，該候選人之年齡限制為何？ (A)年滿 20 歲 (B)年滿 23 歲 (C)年滿 30 歲 (D)年滿 40 歲。
- 41.怡萱參加百萬學堂的電視益智節目，她選擇歷史題來答題，大螢幕上出現如附圖的提示，而圖中的「？」指的是一位著名中國歷史上的改革者。請問：怡萱要答出哪個答案才能得分？ (A)張居正 (B)商鞅 (C)王安石 (D)王莽。



- 42.石敬瑭為了換取某國的幫助，割讓燕雲十六州，之後他滅後唐自立，建立後晉。宋初時曾力圖收復燕雲十六州，但未能成功。請問：當時石敬瑭將土地割讓給何國？ (A)西夏 (B)遼國 (C)金國 (D)蒙古。
- 43.雖然金滅了北宋，但卻無立即攻滅南宋，兩方形成長期對峙，直到哪個民族興起，金與南宋都被這個民族所滅亡？ (A)契丹 (B)党項 (C)女真 (D)蒙古。
- 44.人類為克服自然環境的限制，常發展出特殊的生活方式。附圖為中國某地區氣候圖，下列何者最有可能是當地人民的生活方式？ (A)以犛牛為主要馱獸 (B)穿著方便穿脫的單袖袍子 (C)住所多為平頂式建築 (D)以稻米為主食。



- 45.博文是北宋時期的商人，他時常往來各地經商，下列哪一件事件不可能發生在他身上？ (A)使用寶鈔作為主要交易的貨幣 (B)可以上瓦子欣賞節目或說書 (C)晚上可以逛夜市 (D)見到國內商業城市紛紛興起。
- 46.公民老師請同學就「政黨輪替」主題，發表自己的看法。下列何人的敘述較為正確？ (A)甲：「目前我國經歷過一次政黨輪替。」 (B)乙：「政黨輪替是指執政黨獲得選民支持，

再次獲得執政權。」 (C)丙：「執政黨不應常換，政黨輪替不是好現象。」 (D)丁：「政黨輪替的壓力可讓執政黨隨時警惕，避免腐化。」

- 47.一位讀書人說道：「身處這個時代必須體認到一點，唯有參加科舉考試才能出人頭地，因此許多家族都盡心盡力培養子弟念書，為的是希望子弟能高中科舉光耀門楣。」這應該是哪個時代讀書人的寫照？ (A)漢朝 (B)北魏 (C)隋朝 (D)宋朝。
- 48.依琳參加了一場史學研討會，研討會的內容主要是在討論張騫、玄奘、鄭和、利瑪竇等人的事蹟。請問：這場研討會主題應該是下列何者？ (A)史學名著欣賞 (B)科技的發展 (C)中外文化的交流 (D)宗教的發展。
- 49.從附表的甲乙丙丁四地氣候資料判斷，何處為溫帶草原氣候？ (A)甲 (B)乙 (C)丙 (D)丁。

地點	1 月月均溫(°C)	年降水量(mm)
甲	-5.5	355
乙	-15.2	185
丙	-3.7	622
丁	5.6	1,230

- 50.對民主國家而言，政黨輪替最大的價值在於下列何者？ (A)任何政黨都有機會取得執政權 (B)沒有政黨可以預見選舉的結果 (C)在野黨可以嚴格監督政府施政，獲取選民的認同 (D)執政黨必須建立執政績效，才能免於遭到淘汰。