

# 臺中市立安和國中 114 學年度第一學期三年級社會領域補行評量題庫

範圍： 第五冊（全）

1. (C) 在探討世界特殊地形時，老師提到某地因緯度高、氣候嚴酷，形成寒漠景觀。下列哪一地區最符合上述特徵？

(A) 東南亞 (B) 北非 (C) 南極洲 (D) 南美洲。

**解析：**(C) 南極洲因緯度高、氣候嚴酷，形成寒漠景觀。

2. (B) 虎克船長在太平洋中航行，發現某些島嶼的面積雖然不大，但島上的山脈卻高聳入雲達數千公尺。請問：他此時見到的最可能為何種性質的島嶼？

(A) 珊瑚礁島 (B) 火山島 (C) 大陸島 (D) 沙洲島。

**解析：**火山島多為板塊地帶的火山活動所造成，因此地勢較高。

3. (A) 世界各地的海陸分布位置，對區域發展的影響很大。在早期，非洲人被以奴役的方式強押至北美洲販賣的過程中，必須經過下列哪一個海域？

(A) 大西洋 (B) 太平洋 (C) 印度洋 (D) 北極海。

**解析：**非洲西部為大西洋，越過大西洋後可到達美洲。

4. (A) 人類至少在 2 千年前已知道利用一種盛產於西班牙、葡萄牙、義大利和北非的作物，榨取其果核中的油脂成為食用油，這種油近年來因富含單元不飽和脂肪酸而成為世人新寵。依氣候條件判斷，上述作物應為何？

(A) 橄欖 (B) 花生 (C) 玉米 (D) 大豆。

**解析：**盛產在西班牙、葡萄牙、義大利的食用油是橄欖。

5. (B) 全球氣候變遷受到人類活動的影響相當大，近年來的氣候變遷和下列何者的關係最為直接？

(A) 農業活動 (B) 工業發展 (C) 人口增加 (D) 日照角度。

**解析：**工業發展快速排放大量溫室氣體，為氣溫快速增加的主要因素。

6. (C) 2012 年豪華郵輪「歌詩達協和號」在義大利中部小島附近觸礁，造成至少 32 人死亡的悲劇，船長則因不顧乘客死活棄船逃跑而遭到逮捕。上述事件中郵輪沉沒的海域應該為何？

(A) 太平洋 (B) 大西洋 (C) 地中海 (D) 黑海。

**解析：**義大利濱臨地中海。

7. (A) 彩華想利用暑假出國旅遊，計畫參觀百年歷史古城、洋蔥式屋頂的教堂和共黨遺留的「農城」景觀，並品嚐馬鈴薯大餐。她應該選擇下列哪一個行程？〔92.第二次基測〕

(A) 東歐四國九日遊 (B) 中南半島七日遊 (C) 印度尼泊爾精選十五日遊 (D) 北京皇城美食經典五日遊。

**解析：**文中所述為東歐。

8. (D) 1992 年，美洲三個國家簽署北美自由貿易協定，直到 2020 年，下列哪一個條約正式生效，取代北美自由貿易協定？

(A) EU (B) APEC (C) NAFTA (D) USMCA。

**解析：**(D) 美墨加協定 (USMCA) 2020 年正式生效，取代北美自由貿易協定。

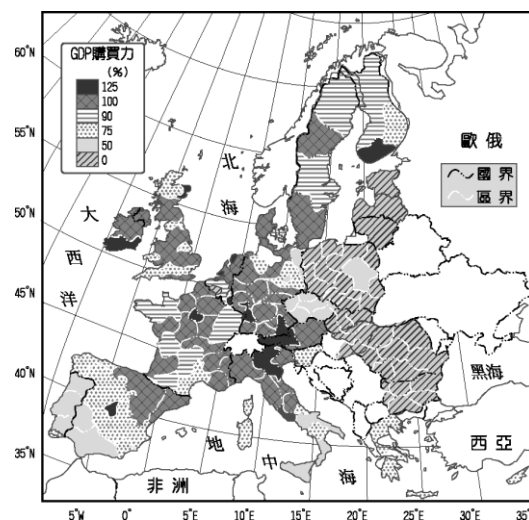
9. (A) 陳同學為國內頂尖大學的電機系學生，他在畢業後若欲前往美國「矽谷」就業，下列何處較為適合？



(A) 甲 (B) 乙 (C) 丙 (D) 丁。

**解析：**美國的科技業主要分布於西南部的加州一帶，稱之為矽谷。

10. (A) 附圖為歐洲各國的 GDP 購買力分布圖，呈現國民的消費能力及經濟狀況。請由圖中資料判斷，哪一個地區的經濟發展相對較為落後？



(A) 東歐 (B) 北歐 (C) 西歐 (D) 南歐。

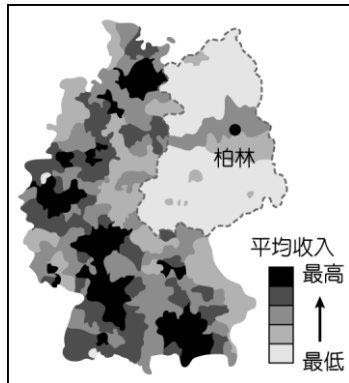
**解析：**東歐的 GDP 購買力最低。

11. (B) 李小姐打算前往東歐旅行，探訪蕭邦的出生地與體驗布拉格的氣息。請問：若不想遇到當地的雨季，應該避免在哪一個季節出發？

(A) 春季 (B) 夏季 (C) 秋季 (D) 冬季。

**解析：**東歐為溫帶大陸性氣候，夏雨冬乾，因此夏季為主要的雨季。

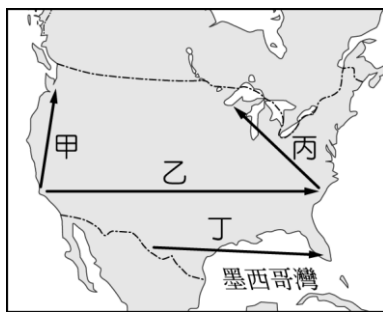
12. (C) 附圖為 2003 年某國納稅者平均收入高低的分布，其中，低收入者明顯集中在虛線範圍內，這種現象主要是因為該區受下列何者的影響？〔100.北北基〕



(A)地形崎嶇而交通不便 (B)終年低溫且潮溼多雨 (C)曾長期實施計畫經濟 (D)殖民地式的經濟型態。

**解析**：柏林為德國首都，曾經因為德國分裂為東德與西德，而分為兩區，虛線範圍內屬共產國家，經濟上採計畫經濟，國民所得與生活水準較低。

13. (C) 美國自 2022 年聖誕節開始至 2023 年 3 月，冬季風暴持續發酵，北美大平原進入風雪警戒，各大機場航班陸續取消，附圖中哪條航線最有可能因暴風雪而停飛？



(A)甲 (B)乙 (C)丙 (D)丁。

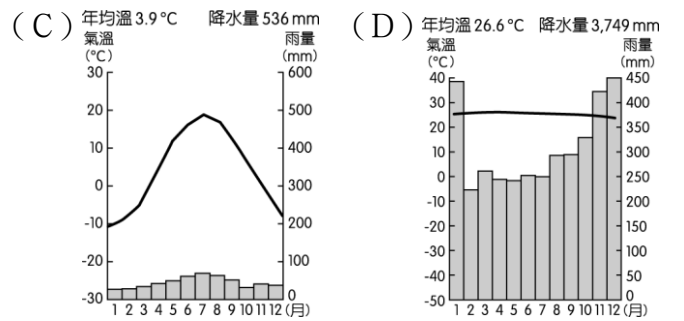
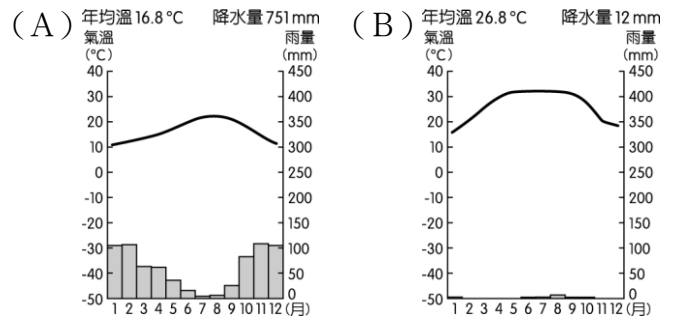
**解析**：暴風雪好發於北美大平原北部五大湖區，故選(C)。

14. (C) 英國在 2016 年公投決定退出歐盟後，於 2017 年啟動脫歐程序，2020 年正式退出歐盟。在英國退出歐盟後，下列何者所受到的影響最小？

(A)商品關稅 (B)國界管制 (C)貨幣轉換 (D)出口貿易。

**解析**：英國在歐盟會員期間，未使用歐元，因此影響較小。

15. (D) 附圖為茲卡病毒警戒圖，以圖中茲卡病毒警戒區判斷，其分布的氣候環境包括下列哪一氣候？



**解析**：圖中分布地區主要為中南美洲低緯度地帶，包括熱帶雨林氣候、熱帶莽原氣候，故選(D)。

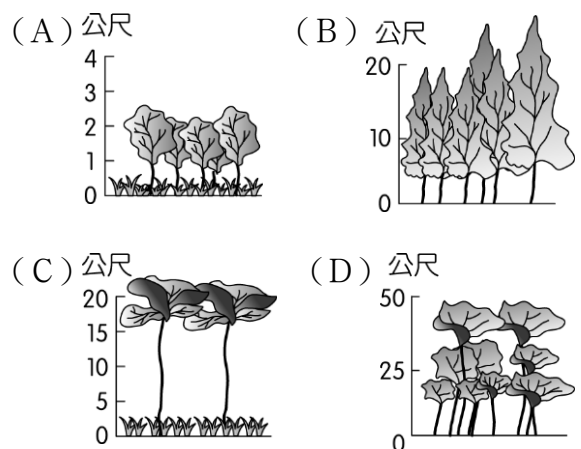
16. (A) 捷克的易北河流域有一種在乾旱或水位下降時才會從河岸露出的水文地標，稱作飢餓之石 (hunger stones)，如附圖。自古以來，歐洲人運用此方法記錄低水位及乾旱的日期，應多是發生在何時？



(A)冬末春初 (B)春夏交替 (C)夏秋之交 (D)秋冬之際。

**解析**：捷克位在東歐地區，屬溫帶大陸性氣候，夏季為主要雨季，乾旱多好發於冬末春初。

17. (D) 芒果日報指出：「在土地需求的驅動下，巴西的環境破壞將造成生物多樣性的下降，以及二氧化碳吸收量的減少，地球將因此付出極大代價。」上述所指的環境破壞，主要應是指下列哪一種植被的砍伐？



**解析**：巴西的環境破壞將造成生物多樣性的下降，指的是熱帶雨林，故選(D)。

- 18.(C) 11 世紀末，「某勢力」掌控耶路撒冷，阻撓基督徒前往聖地朝聖，甚至對信徒施以迫害，引發羅

馬教宗號召信徒組成軍隊，展開一連串軍事行動。上述「某勢力」最可能為下列何者？  
(A) 蒙古人 (B) 日耳曼人 (C) 塞爾柱土耳其人 (D) 鄂圖曼土耳其人。

**解析**：塞爾柱土耳其人迫害前往耶路撒冷朝聖的基督徒，羅馬教宗於是號召信徒多次組織軍隊，意圖奪取耶路撒冷。

19. (B) 「馬其頓有個古老的傳說，如果有人能解開神殿前馬車轡頭上亂纏打結的繩子就能成為全天下的王，當時有一個年輕人大步走向前，一刀斬斷所有的繩結，後來果然成為全世界的王。」請問：故事中這個年輕人最有可能是誰？  
(A) 歐幾里德 (B) 亞歷山大 (C) 柏拉圖 (D) 荷馬。

**解析**：馬其頓的亞歷山大繼位後大舉東征，建立橫跨歐、亞、非三洲的大帝國。

20. (D) 文藝復興的原意是古典文化的再生與創造力的復興，其中的「古典文化」是指下列何者？  
(A) 西亞、埃及文化 (B) 佛教、伊斯蘭文化 (C) 中國的儒家文化 (D) 古希臘與羅馬文化。

**解析**：(D) 義大利學者從古希臘、羅馬典籍的研究中，重新找回人文思想。

21. (C) 西方的歷史由「地中海時代」變為「大西洋時代」，此轉變是由於哪一事件的發生？  
(A) 日耳曼民族入侵西羅馬帝國 (B) 伊斯蘭教勢力退出伊比利半島 (C) 大航海時代 (D) 宗教戰爭。

**解析**：自大航海時代起，歐洲歷史發展的重心，逐漸從地中海轉移至大西洋地區。

22. (A) 西元前 3500 年左右，蘇美人沿著兩河流域建立農業聚落，逐漸發展成□□，這些□□彼此形成同盟，有些又形成敵對陣營，最後被巴比倫人統一。請問：上文缺空處應填入下列何者？  
(A) 城邦 (B) 帝國 (C) 部落 (D) 港口。

**解析**：兩河流域的發展最先由蘇美人建立城邦。

23. (A) 「但是當我把所有的思想都視為虛假的時候，我又立刻發覺，這個產生這種思想的『我』也是絕對重要的，因此才注意到『我思故我在』的真理是如此的穩固，如此的確定。因此，我決定毫不猶豫地接受它，作為我所尋求哲學的第一原理。」其講述這段話的人最有可能是下列何者？  
(A) 笛卡兒 (B) 培根 (C) 牛頓 (D) 伽利略。

**解析**：(A) 由「我思故我在」可知。

24. (A) 《漢摩拉比法典》是目前已知較早的成文法典，下面列舉的是它部分條文的內容：「(1) 甲如果傷害乙的眼睛，則乙也可以傷害甲的眼睛。(2) 如果有一座房子因建築者施工不慎而倒塌，並且壓死了屋主，則該建築者應處死。」請問：

這些內容反映出哪一種立法精神？〔90.第二次基測〕

(A) 以牙還牙的報復主義 (B) 強調寬容的博愛思想 (C) 和平理性的補償觀念 (D) 嚴以律己的犧牲精神。

**解析**：「以牙還牙，以眼還眼」即是一種報復主義。

25. (A) 大米閱讀名人傳記，書中描述著：「此人相信由歐洲西岸向西航行，橫越大西洋，即可到達東方，因此在西班牙女王的支持下，開始航行，並且意外的發現了美洲新大陸。」請問：大米閱讀的是何人的傳記？  
(A) 哥倫布 (B) 達伽馬 (C) 麥哲倫 (D) 狄亞士。

**解析**：哥倫布得到西班牙王室的資助，向西橫渡大西洋抵達美洲。

26. (A) 有些學者認為英國國教派不應該當作新教的一員，他們從教義上比對英國國教派和羅馬公教後，發現變革並不大，主因是當初英國國教派創立只是為了解決亨利八世棘手的問題。請問：上述的問題是哪一方面？  
(A) 婚姻 (B) 財政 (C) 領土 (D) 殖民地。

**解析**：亨利八世為解決婚姻問題，創立英國國教派。

27. (C) 西亞古文明中，有一部法典，人民被分為數種階級：自由人、次等人、下等人及奴隸。當罪刑發生時，若受害者為自由人，法律則判定對方必須被報復；若受害者是下等人時，則被定以金錢賠償了事。此為極不合乎人權平等的觀念，且強調報復的原則。請問：此應為下列哪一法典的精神？  
(A) 《蘇美法典》 (B) 《印度法典》 (C) 《漢摩拉比法典》 (D) 《埃及法典》。

**解析**：《漢摩拉比法典》，強調「以牙還牙，以眼還眼」的報復原則。

28. (C) 西班牙和葡萄牙在大航海時代是競爭對手，請問：這兩個國家最大的差別在何處？  
(A) 信仰的宗教不同 (B) 探險活動有無獲得王室資助 (C) 前往探險的航行方向不同 (D) 探險的目的不同。

**解析**：葡萄牙率先往東方找尋新航路，西班牙選擇往西航行。

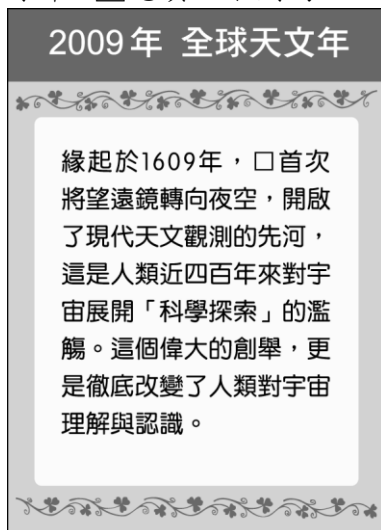
29. (B) 阿拉伯人靠著伊斯蘭教凝聚勢力，建立了地跨歐、亞、非三洲的大帝國，其亞洲東部疆域，部分與中國為鄰，伊斯蘭教因而傳入中國。請問：此時相當於中國的哪一個朝代？  
(A) 漢代 (B) 唐代 (C) 明代 (D) 清代。

**解析**：阿拉伯勢力擴張至中亞，一度與唐帝國發生衝突。

30. (D) 歐幾里德是屬於哪一個時期的重要科學家？  
(A) 蘇美城邦時期 (B) 印度阿育王時期 (C) 古希臘城邦時期 (D) 希臘化時期。

**解析**：(D)歐幾里德是希臘化時期的科學家。

31. (B) 附圖是林老師在整理資料時發現的舊海報，根據海報內容判斷，□應填入下列何人？



- (A)哥白尼 (B)伽利略 (C)笛卡兒 (D)牛頓。

**解析**：17世紀伽利略使用望遠鏡觀察天體運行，證實了「太陽中心說」。

32. (D) 宗教改革不只是一場信仰改革運動，它對近代歐洲的轉變影響甚大，下列何者是其影響？  
(A)追求精緻的文化生活，贊助藝文創作 (B)將中國的造紙術與指南針西傳 (C)基督教融合新教走向統一 (D)肯定工作的價值，促成歐洲經濟的成長。

**解析**：新教肯定工作的價值，不再將獲利視為罪惡，促成歐洲經濟的成長。

33. (D) 小雯出國參觀某地建築，發現其內部設計別具特色(如圖)。請問：這座建築建造的時間地點，最可能為下列何者？



- (A)西元前5世紀，印度 (B)西元前1世紀，羅馬 (C)8世紀，巴格達 (D)12世紀，英國。

34. (A) 下列是老師規畫「伊斯蘭文明的巡禮」造訪的三個城市，依照該城市含括於伊斯蘭世界的時間先後順序排列，何者正確？

甲：沙烏地阿拉伯的麥加  
乙：土耳其的伊斯坦堡  
丙：西班牙的哥多華

- (A)甲丙乙 (B)甲乙丙 (C)乙丙甲 (D)丙甲乙。

**解析**：7世紀，穆罕默德在阿拉伯半島創立伊斯蘭教，8世紀，阿拉伯帝國擴張至伊比利半島，15世紀，鄂圖曼帝國攻陷君士坦丁堡(今伊斯坦堡)。

35. (D) 宥潔週末時，上午透過網拍向賣家(甲)訂購水果，下午去學校向同學(乙)購買二手漫畫，傍晚去便利商店(丙)買零食，晚上則使用網路影音平

臺(丁)訂閱觀看電影。以上哪些是在「無形市場」完成交易？

- (A)甲乙 (B)丙丁 (C)乙丙 (D)甲丁。

**解析**：無形市場指不需要固定實體店面的交易。甲網路購買水果、丁網路訂閱電影，皆屬於無形市場。

36. (B) 幾位朋友運用公民課學到的經濟學概念分析以下新聞，下列何人的說明正確？

**財經新聞追蹤**

2022年8月美國簽署《晶片與科學法案》，提供30億美元補助金吸引台積電前往設廠。

(A)小霖：美國提供的負向誘因可以提高台積電的利益 (B)小瑞：正向誘因會增加台積電前往美國設廠的機率 (C)小皓：非金錢誘因將成為台積電做決定的關鍵原因 (D)小孜：台積電決定設廠美國應是衡量機會成本較高。

**解析**：(A)正向誘因(C)新聞中只提到金錢誘因(D)機會成本較低。

37. (D) 由於以物易物的不便，因此發明了貨幣作為交易的媒介，而在一個國家中，貨幣價值的高低，是以哪一項標準來衡量的？〔90.第一次基測〕  
(A)國民所得的高低 (B)貨幣的製作成本 (C)國民存款金額的多寡 (D)貨幣所能購買的商品數量。

**解析**：由於貨幣本身並無太高的價值(製作成本很低)，且其價值是固定的(1百元的紙鈔，面值永遠是1百元)，但是因為物價是會變動的，因此貨幣價值的高低是以它所能購買的商品數量來決定。

38. (B) 附圖中，詹先生的消費行為是受到下列哪一項因素的影響？



- (A)個人偏好 (B)收入多寡 (C)預期心理 (D)商品價格。

**解析**：由於老闆加薪，收入增加，因此買車代步。

39. (B) 泓燦上臺報告時擷取以下新聞說明經濟生活的運作，下列何者應為他的分析內容？

**亞洲財經**

知名航空公司發現飛往中國的機票價格下滑，但飛往南韓的機票價格提高，因此考慮暫停販售中國機位，改飛南韓航線。

- (A)生產品質的高低會影響消費者的購買意願 (B)生產者會根據產品價格決定生產數量 (C)應將有限資源投注在機會成本最高的產品

(D)降低人力成本是生產者最重視的經營策略。

**解析**：生產者從事生產行為的主要目的是為了獲取利潤，因此某項產品價格提高，生產者會增加生產數量。

40. (B) 生活在 21 世紀的今天，經濟活動將許多國家的人們串聯在一起。依照以下聊天內容判斷，下列說明何者正確？

小巴：剛剛接我電話的客服人員，口音很特別。

小燕：他應該是在國外，透過網路轉接替你服務。

小潔：現在很多公司都選擇在工資比較便宜的國家，僱用客服人員。

- (A)航空運輸發達使得上述僱用方式變成可能  
(B)公司將各部門設於不同國家稱為國際分工  
(C)公司做出這樣的決定目的在增加生產成本  
(D)國內客服行業人員工資應比國外便宜許多。

**解析**：(A)應是資訊科技發展的應用(C)應是減少生產成本(D)國內工資若較便宜，公司會選擇在國內聘僱。

41. (C) 附圖中三者都具有交易媒介的功能，其與貨幣有關的稱呼由左至右依序為下列何者？



- (A)塑膠貨幣、商品貨幣、法定貨幣 (B)法定貨幣、商品貨幣、塑膠貨幣 (C)商品貨幣、法定貨幣、塑膠貨幣 (D)塑膠貨幣、法定貨幣、商品貨幣。

**解析**：貝殼：商品貨幣；紙鈔：法定貨幣；信用卡：塑膠貨幣。

42. (C) 由於智慧型手機與網際網路的普及，網路成為民眾經常使用的購物管道。依照新聞內容判斷，下列何項敘述最為正確？

**新聞跑馬燈**

網路各大電商舉辦雙 11 購物節活動，商品售價打 2~9 折優惠，民眾購買的貨物包裹像小山一樣堆滿超商。店員表示，交易量已經超過平常的 2 倍。

- (A)民眾購物意願受非金錢誘因影響 (B)收入多寡是決定民眾購物次數的主因 (C)商品價格變低，民眾會增加購買數量 (D)民眾因對商品的個人偏好而增加購買數量。

**解析**：民眾因商品價格變低而增加購買數量。

43. (A) 企業在世界各地設立工廠或分公司，稱之為跨國企業。請問：企業採取這種營運方式最主要目的為何？

- (A)降低生產成本 (B)擴展國內市場 (C)節省產品包裝 (D)降低溫室效應。

**解析**：企業在國外成本較低地區設廠製造，可以降低生產成本。

44. (A) 小翼是漫畫《海賊王》的忠實粉絲，他整理漫畫中人物懸賞金前三名的排行如附表。請問：懸賞金額高低顯示貝里具有下列的哪一功能？

名次	人物	懸賞金
1	海賊王哥爾·D·羅傑	55 億 6840 萬貝里
2	前四皇白鬍子	50 億 4600 萬貝里
3	四皇凱多	46 億 1110 萬貝里

- (A)價值衡量 (B)交易媒介 (C)價值儲藏 (D)債務清償。

**解析**：懸賞金愈高代表價值愈高。

45. (D) 政府開放進口商品後，對我國部分產業造成衝擊，為求生存，有毛巾業者將毛巾製作成蛋糕、點心模樣，色彩繽紛的毛巾商品，締造了銷售佳績，業者更因此轉型為觀光工廠，開創毛巾產業的第二春。根據上述，業者採取下列何種方式來面對危機？

- (A)提升銷售技巧 (B)結合政府力量 (C)拓展海外市場 (D)從事產業轉型。

**解析**：業者調整產品定位，將傳統毛巾產業銷售模式，轉換成觀光產業。

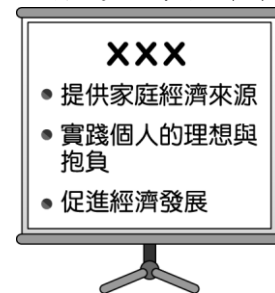
46. (D) 小冬的學校提供了三種畢業旅行方案供學生選擇，附表為他對此三種方案的偏好順序。根據表中內容判斷，小冬選擇不同方案的機會成本，其高低順序應為下列何者？〔103.特招〕

方案	行程	偏好順位
甲	花東逍遙遊	第三喜歡
乙	墾丁戲水樂	第一喜歡
丙	澎湖浮潛趣	第二喜歡

- (A)乙 > 丙 > 甲 (B)甲 > 丙 > 乙 (C)乙 > 丙 = 甲 (D)甲 = 丙 > 乙。

**解析**：(D)選擇甲或丙的機會成本都為第一順位的乙，代價最高，選擇乙的機會成本為第二順位的丙，代價也最低，故甲 = 丙 > 乙。

47. (A) 紐國假日參加勞動局舉辦的工作坊，邀請講師與民眾互動，附圖為演講者的簡報之一。請問：此頁簡報內容的標題應為下列何者？



- (A)市場勞動的重要性 (B)無酬勞動的價值 (C)勞動市場的變化 (D)勞動成果的展現。

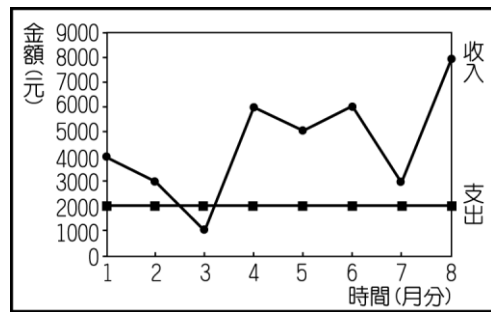
**解析**：附圖內容皆在強調有酬勞動的重要性。

48. (C) 在一次演講中，講對臺下的學生說：「時間很貴，過去的講者會讓你覺得在浪費時間，你只好去做對你來說比較有值的事情，例如：滑手機或

睡覺。」請問：下列何者最符合講者這段話的意涵？

- (A) 學生選擇聽演講的機會成本是滑手機加上睡覺得到的快樂 (B) 稀少性是指資源總數的多寡，因此聽演講的時間具稀少性 (C) 學生想做的事很多，但時間是有限的，因此聽演講的時間具稀少性 (D) 過去的講者讓學生認為聽演講的機會成本最低，因此選擇不聽演講。

49. (B) 林媽媽年初準備經營小吃店時，以1萬元購買機器設備，附圖是她營業8個月來（每月底結算當月）收入與支出的情形。請問：若不考慮其他因素，林媽媽回收當初購置機器設備的成本後並開始有盈餘，應是從幾月分開始？



- (A) 5月 (B) 6月 (C) 7月 (D) 8月。

**解析**：利潤＝銷貨收入－生產成本。

林媽媽從1月分到6月分的收支狀況為：

$(4,000 - 2,000) + (3,000 - 2,000) + (1,000 - 2,000) + (6,000 - 2,000) + (5,000 - 2,000) + (6,000 - 2,000) = 13,000$  元，扣除購置機器設備的成本1萬元，則從6月分開始有盈餘。

50. (A) 某機關希望縮短使用者的停車時間，提高停車場車位的流動率，使車位能讓更多洽公民眾使用，因此設計新的停車費率，如附表所示。該機關設定表中停車費率所運用的經濟學概念，與下列何者最相似？〔110.會考〕

停車時間	收費金額
20分鐘內離場	0元
第一個小時	40元
第二個小時起	每小時100元

- (A) 慶祝擴大營業，全店半價促銷 (B) 物價持續上漲，貨幣價值降低 (C) 提高銷貨收入，增加公司利潤 (D) 香蕉價格下跌，種植農民變少。

**解析**：商品價格高時，消費者會減少消費；商品價格低時，消費者會增加消費。