

臺中市立安和國中 112 學年度第一學期三年級社會領域補行評量題庫

範圍：第五冊（全）

1. (C) 下文為社群網站上網友分享的一則訊息，根據內容判斷，下列敘述何者正確？

好康報報 地方首長宣布在期限內為本市市民者，可領到政府發放的紓困金 6,000 元，戶政事務所因此湧入千人，大排長龍預備將戶籍遷入，使辦理其他事務的民眾受到嚴重延誤。戶政單位緊急呼籲勿隨意遷戶籍，如果沒有實際居住，或是領完紓困金後立刻遷出，屬違反《戶籍法》的情形，將罰款 3,000 元到 9,000 元。

- (A) 民眾遷戶籍是受到非金錢誘因影響 (B) 此政策對民眾完全沒有誘因 (C) 民眾應衡量機會成本再決定是否遷戶籍 (D) 戶政單位呼籲的內容屬於正向誘因。
2. (B) 西元 16 世紀時，促使歐洲發生宗教改革最主要的原因為何？ (A) 教宗欲革除教會的陋規 (B) 大眾對天主教教會的腐敗感到不滿 (C) 政治領袖藉機打擊教會 (D) 伊斯蘭教勢力的擴張。
3. (D) 附圖是兩張不同時期的聖母抱子圖，請問：甲、乙分別是哪一時期的畫作？

(A) 希臘羅馬時期、中世紀 (B) 希臘化時期、文藝復興時期 (C) 文藝復興時期、中世紀 (D) 中世紀、文藝復興時期。



4. (C) 2020 年 10 月 11 日墨西哥的社運組織發起「我們要將它拉倒」的抗議行動，他們的目標是城市中佇立的哥倫布雕像。造成墨西哥社運組織如此憤怒的原因為 16 世紀時，哥倫布等歐洲殖民者為美洲帶來許多影響，其中不包括下列何者？ (A) 帶來傳染病 (B) 屠殺原住民 (C) 消滅馬雅文明 (D) 造成人口銳減。
5. (C) 曉玲於週休二日時間閱讀了一本世界著名的小說《環遊世界八十天》，於是她上網去找首先完成繞行地球一周壯舉的資料。請問：完成這項壯舉的國家為何？ (A) 英國 (B) 葡萄牙 (C) 西班牙 (D) 法國。
6. (D) 泰姬瑪哈陵位於印度北方邦阿格拉，是一座用白色大理石建造的陵墓，是印度知名度最高的古蹟之一。它是蒙兀兒王朝第五代皇帝沙賈汗為了紀念他的第二任妻子興建的陵墓。這座建築也被視為蒙兀兒帝國藝術風格最精緻的代表。請問：泰姬瑪哈陵的藝術風格融合哪些文化元素？(甲) 埃及(乙) 伊斯蘭(丙) 印度(丁) 英國 (A) 甲乙 (B) 甲丙 (C) 甲丁 (D) 乙丙。
7. (A) 2023 年棒球經典賽，中華隊對上荷蘭隊，有些球迷拿出鄭成功像，希望球賽能像鄭成功一樣戰勝荷蘭人，但卻被另一群球迷制止，因為中華隊裡有原住民球員，鄭氏政權其實是高壓統治臺灣原住民，對原住民造成不可抹滅的傷害。綜觀世界發展史，其實相似的軌跡一直不斷在發生，新來的殖民者，挾著船堅炮利、文化優勢對當地原住民造成傷害。請問：下列何地較不會看到類似上述的軌跡？ (A) 英國 (B) 澳洲 (C) 印度 (D) 墨西哥。
8. (B) 東歐早期為共產主義國家，實行計畫經濟而影響經濟發展。請問：近年來，該地區因為何項因素而使經濟快速成長？ (A) 石油開採 (B) 經濟改革開放 (C) 引進外勞 (D) 轉口貿易興盛。
9. (D) 鯊鯊的班級打算在校慶園遊會販賣餐飲，正在討論該選擇哪一品項，他們列出各商品的預估總利潤如附表。在不考慮其他因素的情形下，單以利潤作為選擇的標準，下列哪一位同學運用機會成本所做的分析最正確？

熱食	炸熱狗	章魚燒	關東煮	炒泡麵
利潤	3,600 元	2,500 元	3,000 元	3,800 元

(A) 阿帛：我們應該選擇炸熱狗，因為其機會成本最低 (B) 阿珈：每樣商品的機會成本是其他三樣利潤總和 (C) 阿瑣：選擇章魚燒利潤最低，所以其機會成本最低 (D) 阿布：選擇炒泡麵的機會成本比選擇關東煮低。

10. (C) 國人長期以來偏好持有外幣，擁有外幣帳戶者超過 5 成，最常被兌換的外幣為美金。若要以新臺幣來買進美金以賺取價差，則下列哪一時機最適當？ (A)新臺幣貶值，美金貶值 (B)新臺幣升值，美金升值 (C)新臺幣升值，美金貶值 (D)新臺幣貶值，美金升值。

11. (C) 經濟不景氣，許多百貨公司業績直直落，各家百貨的競爭更加激烈。附表是和平百貨所提出的四種因應方案，何者屬於最直接降低成本的做法？

方案	因應做法
甲	消費 2,000 元以上贈送滿額禮
乙	延長營業時間
丙	將電梯小姐工作時數減半
丁	各類專櫃商品打九折

(A)甲方案 (B)乙方案 (C)丙方案 (D)丁方案。

12. (B) 新聞中屢屢出現「過勞死」案件，已經喚起社會大眾關注勞工超時工作的問題。上述凸顯出下列何者的重要性？ (A)雇主應考慮員工的工作態度 (B)雇主應保障市場勞動參與 (C)雇主應提升勞動力素質 (D)雇主應降低生產成本。

13. (C) 如果用相同金額的貨幣所能購買的商品數量變多，代表物價下跌，此時會出現下列何種情形？ (A)與貨幣價值無關 (B)貨幣貶值 (C)貨幣升值 (D)貨幣破產。

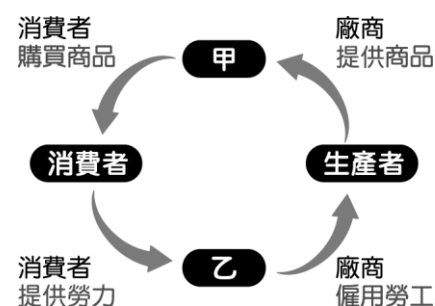
14. (C) 日本漫畫《羅馬浴場》，描述一位羅馬帝國時期的羅馬建築設計師，穿越時空來到現代日本，吸收日本浴場文化後，重回羅馬改造浴場。請問：下列哪一情境最有可能出現在漫畫中？ (A)希臘聯軍擊敗波斯大軍 (B)工人正在興建帕德嫩神廟 (C)引用《十二銅表法》捍衛權利 (D)使用希臘文寫信給朋友。

15. (D) 珮岑在路上巧遇許久不見的國中同學芳嫻，根據附圖中兩人的對話判斷，下列敘述何者有誤？



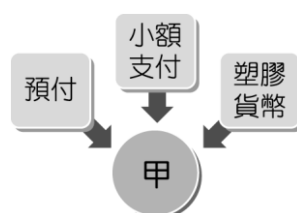
(A)芳嫻為失業者 (B)珮岑為受僱者 (C)兩人皆為勞動力 (D)兩人皆從事有酬勞動。

16. (C) 鴻婷看到一張圖片是關於商品交易與市場的介紹，如附圖，下列何者較可能是該圖片的說明？



(A)甲專指「有形市場」 (B)甲專指「無形市場」 (C)人力銀行即屬於乙 (D)生產者在乙收取利潤。

17. (D) 品均課後複習公民課文內容，自行繪製如附圖的關鍵字重點整理。請問：圖中「甲」處應填入下列何者？



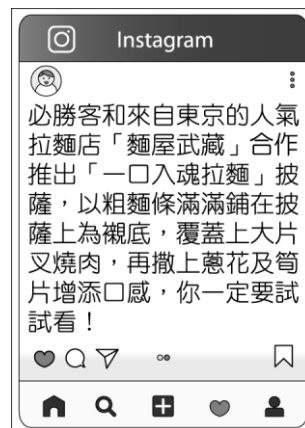
(A)貨幣和儲值卡的差異 (B)貨幣的演變 (C)法定貨幣的功能 (D)儲值卡的特性。

18. (B) 便利商店為了刺激消費者的購買欲望，每天固定會針對某些商品推出「同款商品第二件六折」的促銷活動。上述做法是採取下列哪一種策略？ (A)提升商品功能 (B)降低商品價格 (C)增加商品種類 (D)改變消費型態。

19. (D) 因為資源的「稀少性」，使得我們必須以最有效率的方式來運用資源，而對於資源「稀少性」的解釋，下列何者錯誤？ (A)縱使是百萬富翁，也有感到稀少的時候 (B)稀少是指相對於人們想要的數量，無法讓人毫無節制地予取予求 (C)資源不足以滿足人類的欲望，那資源就具有稀少性 (D)稀少取決於資源總數量的多寡。

20. (D) 小波追蹤的 IG 美食帳號發布新貼文如附圖，圖中的活動是屬於哪一種市場競爭方式？

(A)成本競爭 (B)非成本競爭 (C)價格競爭 (D)非價格競爭。



21. (A) 驤坤這次報告主題是探討 2002 年我國加入世界貿易組織後，開放農產品進口為國內消費者帶來的益處，他想蒐集當時媒體的報導來輔助說明，下列哪一則新聞最符合他的需要？ (A) 經濟快訊：進口水果滿足多元消費需求 (B) 財經前線：國內農產品已面臨滯銷困境 (C) 生活週報：農民增加產量準備外銷他國 (D) 社會焦點：國內農業生產成本居高不下。

22. (D) 好友 Anna 的生日即將到來，Peter 於網路商店訂製了馬克杯準備作為禮物，如附圖。請問：若 Peter 收到商品後不滿意，他可以怎麼做？

(A)在猶豫期內向商家要求退貨 (B)在實體店面購買故無猶豫期 (C)此商品易腐敗，故不在猶豫期的保障內 (D)屬於客製化商品，無法退換貨。



23. (C) 小希的專題報告主題是專業分工，他想搜尋網路新聞作為例子加以解說，下列何者最可能是他所採用的資料？ (A) 航空公司勞資雙方談判破局 (B) 鄰國間諜盜取電子商業機密 (C) 科技大廠高薪聘請清潔人員 (D) 他國惡意禁止本土產品外銷。

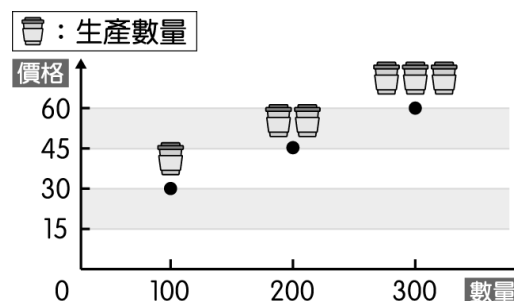
24. (A) 社群媒體刊登一篇社論，主要內容如下，這篇文章的標題最可能為下列何者？

都會區寸土寸金，平常要找個停車位並不容易，而政府規畫的公有停車空間會設置身心障礙者專用停車位，以保障身心障礙者的停車權益。

(A)在資源分配中達成公平正義目的 (B)如何建設數位化的健康城市 (C)公共閒置空間的運用與管理 (D)運用行銷技巧以增加營業額。

25. (D) 瑤筠在課堂上聽老師解說附圖，做筆記時卻只抄到「當其他條件不變，……」，他來不及抄的部分最可能為下列何者？

(A)飲料價格上漲時，顧客會減少飲料的消費數量 (B)飲料價格上漲時，顧客會增加飲料的消費數量 (C)飲料價格上漲時，廠商會減少飲料的生產數量 (D)飲料價格上漲時，廠商會增加飲料的生產數量。

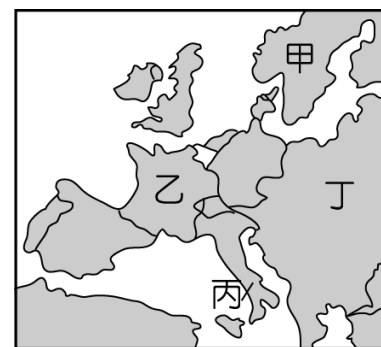


26. (C) 俄羅斯境內哪一個地區石油蘊藏量豐富，成為重要的經濟來源？ (A)歐俄平原 (B)太平洋沿岸 (C)西伯利亞 (D)波羅的海。

27. (A) 美洲的面積相當廣大，可以下列何項因素來區分，分成北美洲和中南美洲？ (A)文化特色 (B)氣候類型 (C)產業活動 (D)地形種類。

28. (D) 附圖為歐洲簡圖，請依影響氣候的因素判斷，圖中哪一個地點的年溫差最大、年降水量不多，以夏季降水為主？

(A)甲 (B)乙 (C)丙 (D)丁。



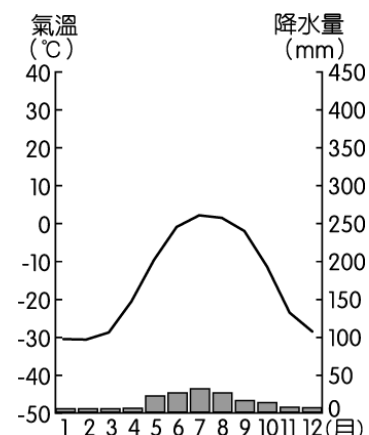
29. (C) 中南美洲的農業易受市場價格波動的影響。請問：這和何種熱帶栽培業的生產方式關係最大？ (A)經濟作物為主 (B)耕種面積廣大 (C)種植單一作物 (D)勞工技術不高。

30. (D) 西北航道是指從大西洋經北極海，再進入太平洋的航道，以往受冰封影響，航運有限；但依 2007 年的觀測，海冰融化程度加大，航運之利已有改善。請問：若該航道將來進入大規模商業運輸的階段，最不利下列哪個國家的經濟發展？
(A)丹麥 (B)日本 (C)加拿大 (D)巴拿馬。

31. (B) 美國東南部大西洋沿岸受到暖流的影響，形成下列哪一種氣候類型？ (A)溫帶大陸性氣候 (B)夏雨型暖溫帶氣候
(C)高地氣候 (D)溫帶海洋性氣候。

32. (B) 附圖是某個地區的氣候圖，由圖中內容判斷，這是指何種氣候類型？

(A)高地氣候 (B)寒帶氣候 (C)熱帶季風氣候 (D)溫帶海洋性氣候。



33. (B) 虎克船長在太平洋中航行，發現某些島嶼的面積雖然不大，但島上的山脈卻高聳入雲達數千公尺。請問：他此時見到的最可能為何種性質的島嶼？ (A)珊瑚礁島 (B)火山島
(C)大陸島 (D)沙洲島。

34. (D) 《京都議定書》之後，聯合國氣候會議協商多著重於哪兩項議題？ (A)減塑、減碳 (B)減塑、垃圾減量 (C)全球暖化、減氧 (D)全球暖化、減碳。

35. (D) 下列哪一個國家的農業以粗放畜牧業為主，羊肉、羊毛、乳製品出口名列前茅？ (A)帛琉 (B)澳洲 (C)吐瓦魯 (D)紐西蘭。

36. (B) 美國提升與大洋洲的經濟及外交合作，加強軍事演習，巡邏艦在太平洋與盟國進行演練，結束後會抵達美國哪一個軍事島嶼？ (A)帛琉 (B)關島 (C)斐濟 (D)大溪地。

37. (B) 南、北極兩地同處於地球極端點，形成各種不同的區域特色。下列有關這兩個地方的比較，何者錯誤？

	北極點	南極點
緯度	北緯 90 度	南緯 90 度
性質	陸地	海洋
永晝時間	6 月	12 月
極區溫度	較高	較低

(A)緯度 (B)性質 (C)永晝時間 (D)極區溫度。

38. (D) 美國的農牧業活動相當發達，商業性的出口導向帶來豐富的收益。請問：美國對外出口的農牧業產品不包括下列何者？
(A)小麥 (B)牛肉 (C)棉花 (D)咖啡。

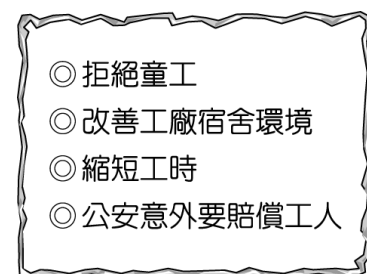
39. (C) 附圖為某區域性組織的標誌，該組織會員國之間的合作相當密切。請問：該組織目前主要的合作層面中尚未包括下列何者？



(A)經濟 (B)外交 (C)國防 (D)司法。

40. (C) 附圖是威廉在街上所發的傳單內容。請問：威廉支持的學說應是下列何者？

(A)資本主義 (B)自由主義 (C)社會主義 (D)民族主義。

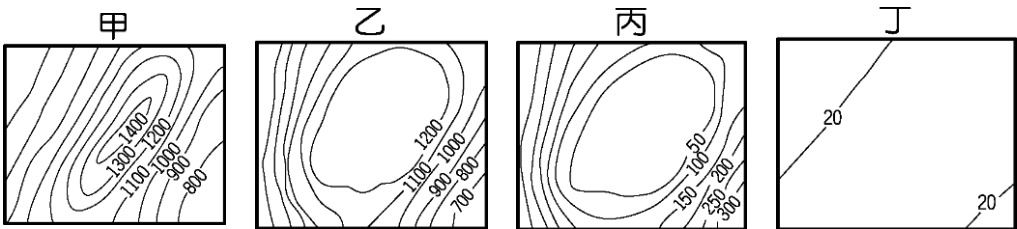


41. (A) 下列哪一種文字是經由腓尼基人傳到歐洲？ (A)象形文字 (B)楔形文字 (C)希臘文字 (D)甲骨文字。

42. (A) 阿泰喜歡看金庸武俠小說，《倚天屠龍記》提到一個由西域傳入的教派崇拜火與光明，並且相信世界有善神跟惡神。由這個教派的教義可推測其最有可能起源自以下哪個地理區？ (A) 伊朗高原 (B) 阿拉伯高原 (C) 兩河流域 (D) 地中海東岸。
43. (D) 啟蒙運動思想家盧梭的《民約論》中，有何重要的、具原創性的主張？ (A) 約束人類本性的最佳辦法，就是建立一個具有絕對權威的政府來控制他們 (B) 政府必須在人民的同意之下，才能干涉人民的基本權利 (C) 主張國家或政府的權力，應分為行政、立法、司法三個互相獨立又互相牽制的部分，自由的維持是靠這三個權力的均衡 (D) 政府的權力是來自人民的委託。
44. (C) 小雲研讀《世界史》時，將阿拉伯帝國與鄂圖曼帝國做比較，下列哪一項資料正確？ (A) 興起的時間相同 (B) 疆域範圍相同 (C) 同是伊斯蘭教勢力 (D) 均曾阻撓基督教徒朝聖。
45. (C) 阿喆在比較兩個宗教如附表。請問：他的筆記哪裡寫錯了？

項目	羅馬公教	希臘正教
傳布地區	西歐各國	拜占庭帝國
信仰中心	羅馬	君士坦丁堡
政教關係	政教合一	政教分離
分裂時間	11 世紀中期	

- (A) 傳布地區 (B) 信仰中心 (C) 政教關係 (D) 分裂時間。
46. (B) 希臘化文化是一種融合性的文化，而這種文化是由哪些文化所共同締造出來的？(甲)西亞(乙)印度(丙)羅馬(丁)埃及(戊)希臘 (A) 甲乙丁 (B) 甲丁戊 (C) 乙丁戊 (D) 丙丁戊。
47. (D) 這位學者發現從前的哲學過於專注於文字，尤其是話語和辯論，而不是實際觀察物質世界。他所著作的《新方法論》概述了一種新的邏輯系統，提出以觀察和實驗為基礎的科學認識理論，獲得大量現象後從中歸納出科學真理，他也被尊稱為「現代科學方法論之父」。請問：這位學者是下列何者？ (A) 牛頓 (B) 伽利略 (C) 笛卡兒 (D) 培根。
48. (B) 釋迦牟尼，意為釋迦族之聖者。他本來是古印度河流域迦毗羅衛國的太子，在約西元前 6 世紀時，在菩提樹下冥思開悟，他主張眾生平等，認為人可以藉由修行脫離生死輪迴，吸引信徒跟隨。請問：釋迦牟尼提倡的宗教是針對哪一個宗教的改革？ (A) 猶太教 (B) 婆羅門教 (C) 佛教 (D) 祆教。
49. (A) 根據路透社報導，俄羅斯境內的西伯利亞東部太平洋沿岸地區發生了大地震，造成人員及財產的損失。請問：該地區的地形主體為附圖中何者？



- (A) 甲 (B) 乙 (C) 丙 (D) 丁。
50. (B) 俄羅斯首都莫斯科為境內最大的城市，人口分布密集。請問：該都市人口聚集的主要因素除了政治經濟重心外，尚包括下列何者？ (A) 礦產豐富 (B) 降水量較多 (C) 冬暖夏涼 (D) 四季如春。