

臺中市立安和國中 112 學年度第一學期七年級社會領域補行評量題庫

範圍： 第一冊（全）

※伊朗一名 22 歲女性阿米尼（Mahsa Amini），因戴頭巾的方式不符合標準，遭到道德警察以不遵守國家禮儀規定的理由拘捕，拘留於「再教育中心」後突然傳出死訊，大批民眾懷疑她遭警方動用暴力因而身亡，走上首都德黑蘭等城市的街頭抗議，事件越演越烈。外媒報導，伊朗於 1979 年革命後，基於伊斯蘭教的教義，女性不分國籍與宗教，在公共場合一律需要戴頭巾遮住頭髮，違規者將受到處罰。報導指出，萊希政權於去（2021）年上任後，為了維持體制的認同，進而鞏固保守派對他的支持，對頭巾的要求變得相當嚴格，認為不戴頭巾是伊斯蘭社會的腐敗行為，但這樣的行為也讓追求自由的年輕世代感到不滿。萊希政權目前正在嚴加防範，擔憂阿米尼之死，會招來民眾對政權和體制的批判。請回答第 1~3 題。

- (A) 1. 伊朗基於伊斯蘭教的教義，認為女性在公共場所應該要以頭巾遮住頭髮，是基於女性不能隨便裸露身體，這樣的行為表現才是符合社會體制對女性的期待，這是屬於下列何種性別概念？ (A) 社會性別 (B) 生理性別 (C) 性別偏見 (D) 性別歧視。
- (B) 2. 萊希政權認為女性在公共場所不戴頭巾是伊斯蘭社會的個人腐敗行為，這是屬於哪一種性別概念？ (A) 性別歧視 (B) 性別偏見 (C) 性別刻板印象 (D) 性別角色。
- (D) 3. 上述伊斯蘭社會僵化守舊的觀念，讓追求自由的年輕世代感到不滿。這是造成哪一方面的性別不平等？ (A) 責任承擔 (B) 貢獻肯定 (C) 利益分配 (D) 需求滿足。

※在臺灣原住民中，分佈於臺灣東部的阿美族與卑南族，是最為特殊的民族，因為這兩個民族都是典型的母系社會，女性在家族中具有絕對優勢的地位，男性則處於從屬地位，因此採取贅婚制度，婚後共同居住在女方家中。阿美族的男性認為，入贅是一種光榮，因為丈夫可以藉此機會改善妻子家中的生活情況。除此之外，在家族中，家長是由女性擔任，財產的繼承也是由母親傳給女兒；年幼的子女與母親居住，並以母親的姓氏作為命名的原則。除了母系社會的傳統外，另一項特色便是男性年齡階級制度。藉由不同年齡而將男性加以編組，負責處理部落中政治、軍事、司法、宗教等公共事務。女性雖然是家中的主宰，然而，家族對外的代表卻是由男性負責，女性無法參與部落中的公共事務，也不能進入部落中的男性會所，部落中的首長與祭司多半也是由男性繼承。隨著日本在臺殖民與國民政府來臺，入贅婚的習俗，也隨著時代而改為父系社會的嫁娶婚，子女的姓氏也多跟隨父親。部落中的男性由於外出工作，也逐漸掌握家中經濟權力，傳統的母系社會色彩逐漸淡去，象徵著傳統原住民文化，在現代社會中受到衝擊與變化。請回答第 4~5 題。

- (B) 4. 依上述情況，下列有關阿美族與卑南族的敘述何者最為適切？ (A) 是一個女尊男卑的母系社會 (B) 是透過男主外女主內的分工合作，來達成男女平等的一種社會模式 (C) 是男性權力至上的父權社會制度 (D) 男主外女主內的分工使每個人的不同特質與潛能得以充分發揮。
- (D) 5. 有關上述傳統原住民文化在現代社會中已受到衝擊而逐漸改變，下列敘述何者較不適切？ (A) 傳統男女的分工模式是基於對男女特質、能力的性別刻板印象，忽視個別差異 (B) 傳統男女分工模式過於固定僵化影響個人自我實現 (C) 傳統男女分工模式在利益分配的面向較不符合平等原則 (D) 傳統男女分工模式在責任承擔的面向較不符合平等原則。

※2017 年 5 月一位在北京網路企業上班的女性，她懷孕了，立刻將這個喜訊告訴老闆。不久，公司發出徵才啟事，職務內容和她一模一樣。7 月，她的職位就被新人取代，公司也不再發薪水給她。表面上，中國政府似乎致力維護婦女權利和就業平等：「婦女解放」是中國共產黨官方意識形態的重要目標之一，官員也不斷制定遏止職場歧視的政策。2019 年，中國中央政府九個部門共同發出一份通知，說明落實禁止就業性別歧視法規的具體措施。2021 年，人力資源和社會保障部（即中國主要的勞動監管部門）承諾要修訂防治性別歧視的法規，並且加強執法，然而，有關當局至今仍未貫徹執行現有的性別歧視防治法規。雖然當局宣稱持續打擊就業性別歧視，卻又因擔心人口逐漸老化而提出「二孩政策」，並在全國大力宣導女性（而非男性）應當退出職場，在家養育子女。請回答第 6 題。

- (C) 6. 文中有關中國在促進職場性別平等的作法，下列敘述何者錯誤？ (A) 宣示婦女就業的平等權益 (B) 修訂促進婦女工作平等的法規 (C) 落實執行促進婦女就業平等的法規 (D) 對於婦女平等就業的權益在觀念上與法規制定層面並不一致。

※人本教育基金會日前接獲投訴，某國中教師在 25 年前擔任導師時，利用權勢性侵女學生長達 4 年多。市長接受媒體採訪時表示，這件案子雖是 25 年前的事，但市府高度重視，依法處理有一定的程序，事隔久遠，調查也需要一段時間，市府會發文給該師曾任教的學校，調查除了當事人之外是否還有其他受害者。市府絕對會鍥而不捨、多管齊下，只要相關會議有明確決議，會公開透明對外說明。請回答第 7~8 題。

- (C) 7. 市府針對上文中事件的調查處理，依據的是下列哪一項法律？
 (A)《性別平等教育法》 (B)《性別工作平等法》
 (C)《性騷擾防治法》 (D)《刑法》。
- (D) 8. 關於上文事件的處理程序，下列敘述何者正確？
 (A)事涉隱私，受害人必須親自向學校或市府提出檢舉
 (B)學校中輔導室是受理檢舉的單位
 (C)事件的調查單位是學務處
 (D)文中提到的相關會議是由性別平等教育委員會召開

#大有和小婷結婚多年，原本只想享受甜蜜的兩人世界，小婷也想當個職業婦女和先生共同打拼多賺點錢，一直沒打算生小孩。沒想到過了幾年想法慢慢改變，想生個小孩讓家庭生活更為完整，但開始計畫生育後，卻一直都無法順利懷孕。眼看著年紀越來越大，嘗試作了兩次試管嬰兒也都沒有成功。小婷的姊姊小鳳，原已育有兩子，小家庭雖然忙碌，卻是幸福滿滿。但自從她的丈夫被公司外派至大陸工作後，夫婦倆聚少離多，她希望先生把工作辭掉回台灣重新謀職，先生卻一直不肯，兩人感情逐漸疏離。後來發現，原來丈夫在大陸已另結新歡，傷心之餘決定協議離婚，卻又發現意外懷孕，又生下一個兒子小文。離婚後，姊姊考量自己年紀已較大，為了能全心照顧兩個較大的兒子，於是徵得丈夫同意，將剛滿月的小文讓給大有和小婷他們夫婦倆當兒子。同時，小婷和小鳳兩姊妹也決定搬住在同一棟社區大樓，雖然不同樓層，但方便就近互相照應。最近大有的爸爸因病過世，他怕媽媽獨居沒人陪伴照顧，把媽媽接來同住，夫婦倆工作晚下班時，也可以請媽媽幫忙看顧一下小孩。請回答第9~16題。

- (D) 9. 依民法的規定，大有和小婷可以透過《甲》法律程序讓小文成為自己的小孩，《甲》是指下列何者？ (A)認領 (B)認養 (C)領養 (D)收養。
- (B) 10. 承上題，有關大有、小婷夫婦和小文之間的親屬關係，在法律程序完成前後的差異，下列敘述何者錯誤？
 (A)小婷和小文原本是自然血親，完成程序後是擬制血親
 (B)小鳳和小文的親屬關係原本是直系血親，完成程序後沒有親屬關係
 (C)小婷和小文的親屬關係原本是旁系血親，完成程序後是直系血親
 (D)大有和小文原本是姻親，完成法律程序之後是直系血親。
- (D) 11. 依據上文，小婷、小鳳兩姊妹的家庭所包含的親屬關係，下列選項中何者有誤？
 (A)配偶、直系血親、配偶的血親
 (B)配偶、直系血親、旁系血親、血親的配偶
 (C)法定血親、旁系血親、配偶
 (D)旁系血親、配偶的血親、配偶的血親的配偶。
- (C) 12. 承上題，現在兩姊妹的家庭所屬的家庭型態，分別屬於下列何者？甲、聯合家庭 乙、核心家庭 丙、折衷家庭 丁、血緣家庭 戊、重組家庭 己、單親家庭

- (A)甲、戊 (B)乙、己
 (C)丙、己 (D)丁、戊。

- (B) 13. 依據上文，兩姊妹婚後的家庭生活模式都曾歷經改變，主要受到哪些因素的影響？下列選項何者正確？
 (A)小婷：就業場域、生育觀念
 (B)小鳳：就業場域、婚姻價值觀
 (C)小婷：婚姻價值觀、生育觀念
 (D)小鳳：生育觀念、婚姻價值觀。
- (B) 14. 依據上文，小婷、小鳳兩姊妹住在同一棟大樓，主要是為了提昇何項家庭功能？
 (A)教育功能 (B)保護與照顧功能
 (C)經濟功能 (D)生育功能。
- (A) 15. 大有和小婷的家庭，未能發揮家庭的哪一項功能？
 (A)生育功能 (B)經濟功能
 (C)保護與照顧功能 (D)教育功能。
- (C) 16. 家庭具備生育、教育、經濟、保護與照顧功能，進入工商業社會之後，家庭型態及功能產生許多變化。下列敘述何者正確？
 (A)女性就業普遍，雙薪家庭增加，媒體及補習班等教育機構補充部分教育功能，使家庭教育功能大為提升
 (B)養育子女觀念改變，生養子女負擔增加，所以重質不重量，以提升家庭生育功能
 (C)家庭的經濟功能，生產活動已改由工廠及商店取代，家庭多由父母共同外出工作賺取收入，並透過市場消費滿足家人各項需求
 (D)就業因素導致家庭成員分散、每戶家庭人數減少，子女與長輩的照顧須由專業人員或機構代替，家庭已不具保護與照顧功能。

■ 歷史：


- (A) 17. 臺灣原住民可分為平埔族和高山各族，若要比較平埔族和高山各族的異同，下列敘述何者正確？
 (A)前者居住在平原地帶，後者多居住在山區或東部地區
 (B)前者分布在臺灣東部，後者分布在臺灣西部
 (C)前者有阿美族，後者有西拉雅族
 (D)皆屬於南島語系的民族，在漢人移入臺灣時已有一套文字系統。
- (C) 18. 臺灣自17世紀起，一直為各國所競逐的目標，主要原因是臺灣地處中國大陸東南沿海，戰略地位重要，是哪一海域南來北往的交通樞紐？
 (A)東太平洋
 (B)印度洋
 (C)西太平洋
 (D)大西洋。

- (C) 19. 16 世紀後期，中國東南沿海地區的走私貿易和海上劫掠活動為何由澎湖轉移至臺灣本島？
- (A) 清代實施海禁政策
(B) 澎湖四周不利航海
(C) 明朝政府駐軍澎湖
(D) 臺灣本島發現金礦。

- (A) 20. 16、17 世紀以來，由於大航海時代的緣故，臺灣的國際地位變得更加重要。在荷蘭領臺之前，早已在臺灣本島進行貿易的外國勢力是下列何者？
- (A) 日本 (B) 俄國 (C) 美國 (D) 韓國。

- (A) 21. 東方青蒼要寫一篇臺灣史報告，他主要以《熱蘭遮城日記》、聯合東印度公司檔案等史料作為參考依據。依此判斷，他寫的是臺灣哪一時期的歷史？
- (A) 荷蘭統治時期 (B) 清帝國早期
(C) 清帝國晚期 (D) 鄭氏政權時期。

- (B) 22. 附圖為展示於澎湖天后宮的「臺澎第一碑」。請問：此碑應呈現了下列哪一項事件？



- (A) 西班牙東來亞洲尋求貿易
(B) 明軍將領逼退澎湖荷蘭人
(C) 荷蘭人攻打澳門葡萄牙人
(D) 葡萄牙強占澳門作根據地。

- (C) 23. 有一本歷史書籍記載：「鄭成功來臺灣經營，帶來很多士兵及眷屬，為解決糧食問題而實施『寓兵於農』的屯田制度，今天可以從臺灣南部地區的地名，看出屯田的影子。」下列哪一個地名與屯田有關？

- (A) 高雄市美濃區 (B) 臺南市白河區
(C) 高雄市左營區 (D) 屏東縣車城鄉。

- (D) 24. 下表是某一組織的重要事件整理，根據內容判斷，下列何者最適合放入表中的「？」處？

重要事件
★成立於十七世紀初
★ ?
★曾在臺灣、南非好望角等地建立殖民地
★在日本鎖國時期，獲准與日本貿易

- (A) 從印度輸出大量瓷器販賣至中國
(B) 以白銀吸引中國商人至馬尼拉交易
(C) 以澳門為據點，推動亞洲傳教事業
(D) 設亞洲總部於巴達維亞，統籌經營。

- (B) 25. 下列是清帝國治理初期四位移民到臺灣的漢人，因土地開墾問題被政府官員審問時的供詞，哪位移民的說詞是正確且合法擁有土地開發權？



- (B) 26. 一年一班在校慶時要表演一齣「清代風雲」的歷史劇，但其中有一段情節安排錯誤，可能是下列何者？

- (A) 施琅向康熙皇帝報告與鄭氏軍隊戰爭的結果
(B) 施世榜利用八堡圳灌溉今高雄一帶的農地
(C) 街上出現一批男性遊民無所事事
(D) 嘉慶皇帝接納大臣的建議，決定設置噶瑪蘭廳

- (A) 27. 現今鹿港某事務所的店門嵌有「泉郊會館」四個字，此地原為清帝國時期鹿港八郊之一的「金長順」。下列敘述何者正確？

- (A) 「郊」的組織成員以商人為主
(B) 「泉郊」是以貿易商品的種類做劃分
(C) 鹿港相當繁榮，當時有「一鹿二府三艋舺」之稱
(D) 泉郊的商人貿易地區在天津、煙臺一帶。

- (D) 28. 柔尹參加歷史知識大競賽，看到了右圖中的提示後，須推論提示中人物的生活，下列何者最正確？

姓名：朱大富
職業：商人
工作地：臺南
加入組織：布郊

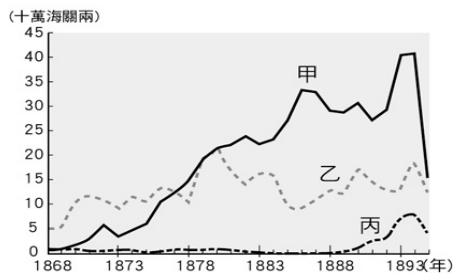
- (A) 朱大富應該是鄭氏治臺時期的商人
(B) 當時臺灣最繁榮的港口應該是淡水
(C) 他加入的組織是以宗族為主的團體
(D) 配合主要的貿易區在中國大陸經商。

- (B) 29. 附圖是道欣「臺灣歷史小論文」的關鍵字，由此判斷，她的報告主題應與下列何者最為相關？

*彰化鹿港鎮五福街
*臺北萬華剝皮寮老街
*臺南中西區神農老街

- (A) 清代臺灣農業發展史 (B) 清代臺灣郊商興衰史
(C) 清代移民社會與文化 (D) 清末開港通商的影響。

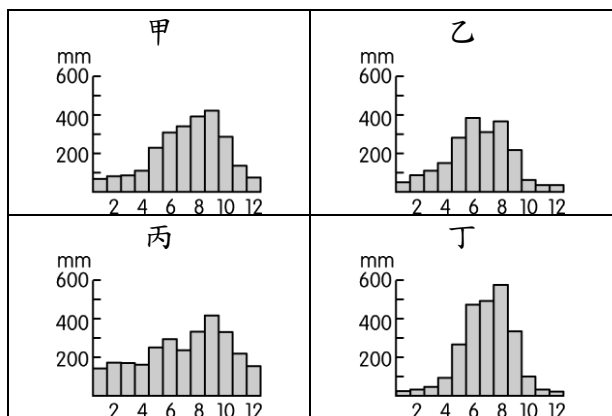
- (A) 30. 品瑞看到一張臺灣在清帝國時期的重要出口商品統計表，如附圖所示，由圖中可知當時最重要的出口商品為甲、乙、丙商品，這三樣商品按照順序來看應該是下列何者？



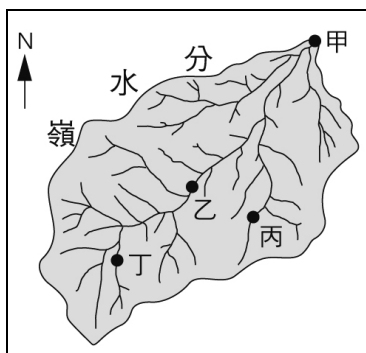
- (A) 茶、糖、樟腦 (B) 糖、茶、樟腦
(C) 樟腦、茶、糖 (D) 樟腦、糖、茶。
- (D) 31. 歷史老師帶領著學生參觀臺南安平的英商德記洋行，並介紹洋行的歷史背景。請問：此一洋行是在哪一世紀成立的？
(A) 十六世紀 (B) 十七世紀
(C) 十八世紀 (D) 十九世紀。
- (C) 32. 清帝國時期，茶葉出口為臺灣帶來可觀的貿易額，大稻埕也因此崛起。關於當時臺灣茶的敘述，下列何者正確？
(A) 產地在臺灣南部的平原地區
(B) 以打狗為出口港
(C) 主要銷往歐洲、美國等地
(D) 為當時出口商品貿易額的第二位。

■ 地理

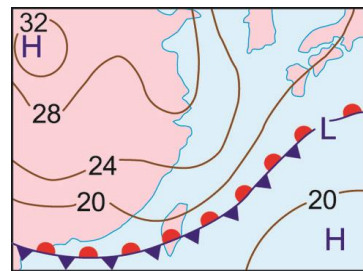
- (C) 34. 臺灣北、中、南、東四個區域的降水量分布圖如附圖所示。請問：其中哪一個較可能為北部地區的降水分布圖？
(A) 甲 (B) 乙 (C) 丙 (D) 丁。



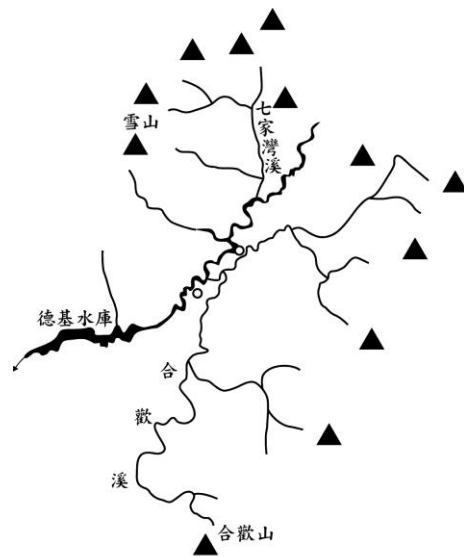
- (A) 35. 附圖為流域示意圖，圖中哪一個地點的地勢最低？(A) 甲 (B) 乙 (C) 丙 (D) 丁。



- (B) 36. 每當颱風過境臺灣後，河川與水庫泥沙含量便會增多，使水源濁度升高，自來水公司必須緊急限制用水。臺灣泥沙淤積量多的原因為下列何者？
(A) 河川東西分流 (B) 河川坡陡流急
(C) 河川流域廣大 (D) 河流水位變化大。
- (D) 37. 附圖為某日氣象報告中的地面天氣圖，請依圖中的資料判斷，當時臺灣的天氣狀態為何？
(A) 寒冷多霧 (B) 連日高溫
(C) 颱風來襲 (D) 陰雨綿綿。

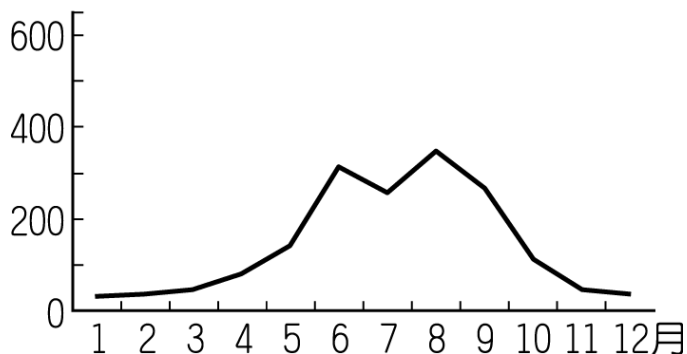


- (C) 38. 棲息於七家灣溪的臺灣國寶魚「櫻花鉤吻鮭」，必須生長在水溫攝氏 16 度以下的溪流中，是位於副熱帶之臺灣唯一一種溫帶性魚類，也是只產於臺灣的特有生物。附圖為七家灣溪附近的水系圖，請問：下列敘述何者錯誤？
(A) 七家灣溪屬德基水庫集水區
(B) 附圖整體地勢應為東高西低
(C) 合歡溪位於七家灣溪的下游
(D) 七家灣溪屬於大甲溪的支流。



- (C) 39. 附圖為臺灣某河川的流量變化圖，請根據圖中資料加以判斷，該條河川最可能為下列何者？
(A) 淡水河 (B) 蘭陽溪
(C) 秀姑巒溪 (D) 濁水溪。

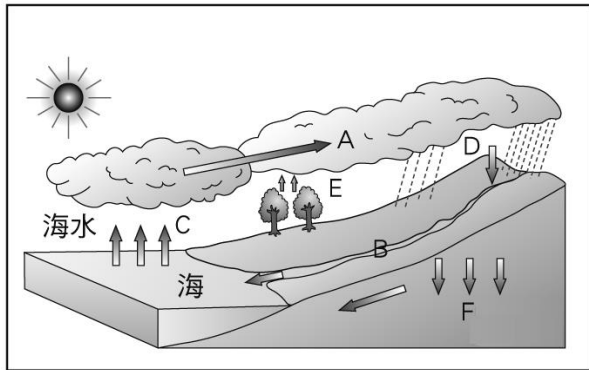
(流量/立方公尺)




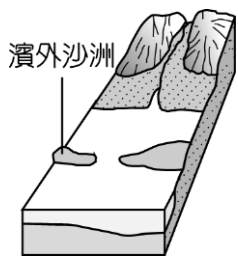
- (B) 40. 下列有關臺灣的氣候敘述，何者正確？
 (A) 冬季東南季風盛行，花蓮、臺東一帶多雨
 (B) 臺灣降水量，山地多於平地
 (C) 緯度關係，冬季不會有低於 10°C 以下的寒冷天氣
 (D) 夏季時吹暖溼的東南氣流，東南部降雨最多。

※第 41-42 題為題組題

附圖為水循環示意圖。請問：

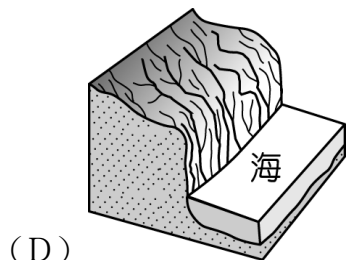
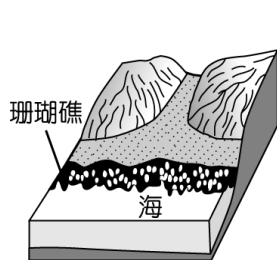


- (B) 41. 附圖中的過程，何者代表「地表逕流」？
 (A) A (B) B (C) D (D) F。
 (B) 42. 附圖中「C」的作用是什麼？
 (A) 蒸散 (B) 蒸發 (C) 降水 (D) 凝結。
 (D) 34. 宜蘭外海的龜山島，早期為軍事用地，極為神祕。近年來開放觀光後，當地豐富的地形景觀成為熱門景點。請問：該島嶼的地形成因主要為下列何者？
 (A) 內營力、斷層作用 (B) 外營力、堆積作用
 (C) 外營力、板塊張裂 (D) 內營力、火山活動。
 (A) 35. 夏天時節，海邊微微海風總帶來度假的悠閒氣息，居民在平淺的沙岸上汲取海水後以日晒法取鹽，成為聚落的主要產業。請問：上文中敘述的地點應位於下列哪一種海岸類型？



(A)

(B)



(C)

(D)

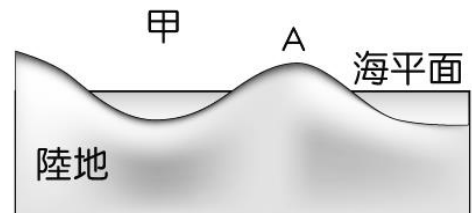
- (B) 36. 這個國家公園是台灣在戰後時期第一個成立的國家公園，成立於 1982 年。全境氣候為熱帶季風氣候，植被及林相為熱帶季風雨林，並有石灰岩地形及珊瑚礁海蝕景觀及生態園區。請問，此座國家公園分布在附圖中的哪裡？
 (A) 甲 (B) 戊 (C) 辛 (D) 庚。



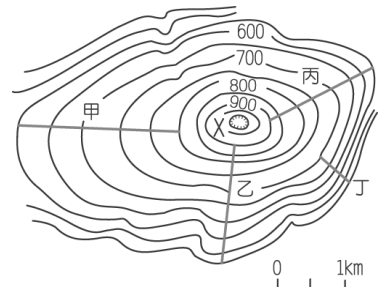
- (D) 37. 玉長公路編號為臺 30 線，歷經十年工程，於 2007 年完工，全長 16.22 公里，是唯一以隧道方式(長 2.66 公里)穿越海岸山脈的公路，將原本 2 小時車程大幅縮短為 90 分鐘。玉長隧道開通後，遊客可以橫跨海岸山脈，暢遊花東縱谷與東海岸線的山水美景。請問下列對此座山脈的敘述何者正確？
 (A) 山脈北起蘇澳
 (B) 山脈是臺灣山脈主要的分水嶺
 (C) 山脈為臺灣最高峰
 (D) 山脈屬菲律賓海板塊



- (C) 38. 被河水挾帶到海中的泥沙，若堆積在淺海地區並露出海面時，稱為「沙洲」，如附圖中的「A」。請問：在台灣的港口中，哪一個港口是由圖中「甲」的地形改建？
 (A) 基隆港 (B) 蘇澳港 (C) 高雄港 (D) 台中港。

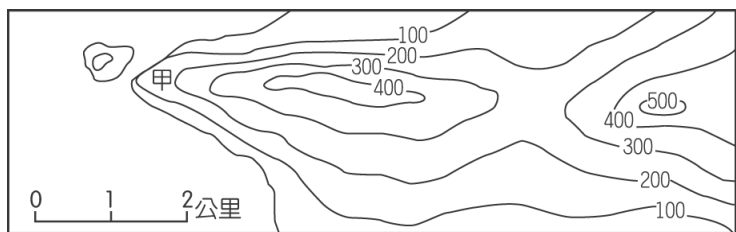


- (A) 39. 陽明山國家公園為推廣國人更加親近國家公園，體驗臺灣自然之美，因此想在山坡上興建一個生態走廊，讓遊客在吸收大自然芬多精的同時，也能更加了解臺灣的自然環境。請問：附圖中所規畫的四條路線中，哪一條的坡度最緩，最適合全家大小一同出遊？
 (A) 甲 (B) 乙
 (C) 丙 (D) 丁。



(C) 40. 位於太平洋的關島洋溢著熱帶風情，氣候溫暖，四季皆為度假的旺季。附圖為關島東南方的地形簡圖。請問：圖中 有關「甲」處海岸地形的敘述，何者最為正確？

- (A) 白沙遍布，為著名的沙灘
- (B) 水淺清澈，沙岸地形為主
- (C) 岩壁陡峭，海浪侵蝕盛行
- (D) 屬於珊瑚礁海岸，利於發展養殖漁業。

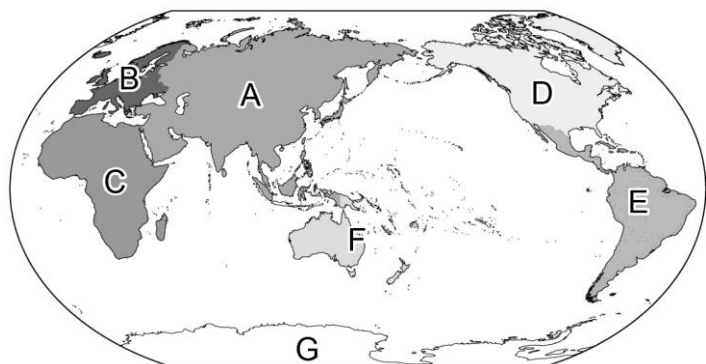


(D) 41. 使用不同的比例尺圖幅相同的情況下，所繪地區涵蓋的範圍也不同。下列敘述何者正確？

- (A) 比例尺愈大，內容愈簡略
- (B) 世界地圖通常採用大比例尺
- (C) 比例尺愈大，涵蓋的範圍愈大
- (D) 比例尺愈大，涵蓋的範圍愈小

(D) 42. 附圖為世界七大洲與三大洋的分布位置。請問：何者配對完全正確？

- (A) A—非洲 (B) D—亞洲
- (C) E—南極洲 (D) F—大洋洲。

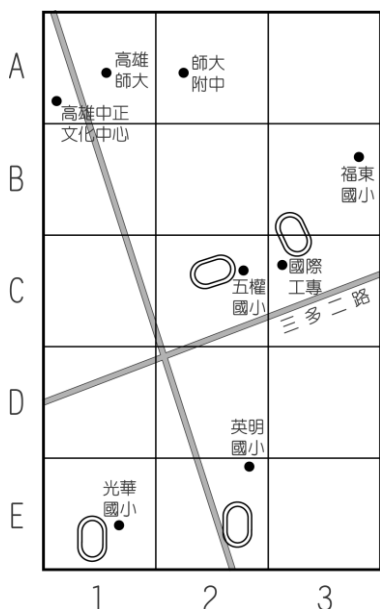


(B) 43. 若用相對位置的概念來描述臺灣的位置，下列哪一種說法正確？

- (A) 臺灣位於菲律賓南方
- (B) 臺灣位於太平洋的西側
- (C) 臺灣位於北緯 22~25 度
- (D) 臺灣位於東經 120~122 度

※第 44-45 題為題組題

附圖為高雄市部分街道圖。請問：



(A) 44. 下列哪一種符號的圖例，用來表示地圖中福東、五權、光華三所國小最合適？

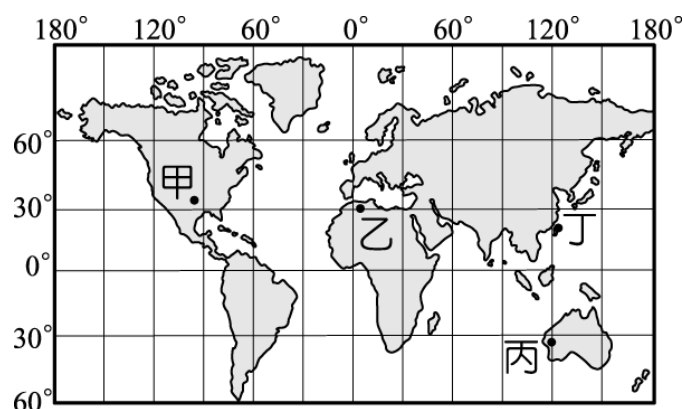
- (A) (B) (C) (D)

(B) 45. 若以網格座標來表示位置，高雄師大位在圖上哪一網格中？

- (A) (2, A) (B) (1, A)
- (C) (A, 1) (D) (3, B)。

※第 46-47 題為題組題

2012 年 8 月 25 日，人類第一個登陸月球的美國太空人阿姆斯壯辭世，這位劃時代的英雄留給人們無限的緬懷。1969 年，阿姆斯壯乘坐「阿波羅 11 號」到外太空，見到了太空中地球的美麗模樣，當他踏上月球的那一步，可說是名副其實跨出人類的一大步。下圖為世界簡圖，請問：



(C) 46. 「阿波羅 11 號」在結束任務後，順利返回地球。降落地點的位置為北緯 13 度 19 分，西經 169 度 9 分。依據上圖判斷，返回地球的船艙應是降落在哪一個海洋？

- (A) 大西洋 (B) 印度洋
- (C) 太平洋 (D) 北極海。

(D) 47. 阿姆斯壯從外太空中拍攝地球，傳回一張張的照片，幫助我們進一步了解地球的原貌。下圖的衛星影像圖主要呈現哪一洲的陸地景觀？

- (A) 歐洲 (B) 非洲 (C) 美洲 (D) 亞洲。



※第 48-50 題為題組題

臺北市政府以打造臺北為「新年城」的概念，作為每年跨年活動的創意主軸。俊傑和同學約好今年要一起參加跨年晚會，附表是他事先整理好的臺北市跨年晚會的位置資訊，準備提供同學參考。請依表中資訊回答下列問題：

甲	25.03769°N, 121.56444°E
乙	市府前市民廣場
丙	12/31 07:00PM~01:00AM
丁	臺北最 High 新年城

- (A) 48. 俊傑整理的表格中，哪一個是晚會舉辦場地的絕對位置說明？ (A)甲 (B)乙 (C)丙 (D)丁。
- (D) 49. 外國遊客若要來臺北跨年，哪一位比較沒有日夜顛倒的時差，以及冬夏相反的季節差異等問題？
(A)來自阿根廷(34°S, 58°W)的 Jason
(B)來自冰島(64.15°N, 21.88°W)的 Emily
(C)來自洛杉磯(34°N, 118°W)的 Kevin
(D)來自日本(34°N, 135°E)的藤木。
- (A) 50. 來台遊玩的外國旅客，拿著臺灣的鈔票，稱讚鈔票非常漂亮。在 500 元、1,000 元及 2,000 元鈔票的背面，分別可看到「臺灣梅花鹿」、「臺灣帝雉」以及「櫻花鉤吻鮭(臺灣鮭魚)」等三種臺灣特有生物。請問：下列何者是造就臺灣特有生物眾多的原因？
(A)冰河期後形成孤島環境
(B)屬於溫暖的副熱帶氣候
(C)位置在歐亞大陸的邊緣
(D)位於寒暖洋流的交會處。