

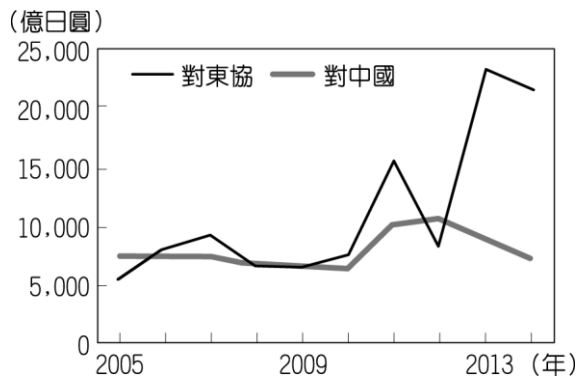
臺中市立安和國中 111 學年度第二學期二年級社會領域補行評量題庫

範圍：第四冊（全）

1. (D) 小靜到曼谷旅行時，發現這裡四處可感受當地虔誠的宗教氛圍，除了金碧輝煌的寺廟之外，連到連鎖速食店都可看到附圖中麥當勞叔叔擺出不同於其他國家的姿勢。請問：曼谷當地主要的宗教為何？



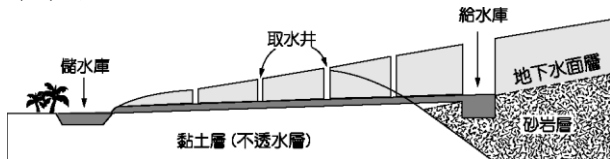
- (A)基督教 (B)伊斯蘭教 (C)印度教 (D)佛教。
2. (C) 「新加坡的土地面積雖然不大，但因具有某項優越的條件，加上政府政策的指導，成功地讓新加坡的煉油產業快速發展，現已成為世界第三大煉油中心。」文中所述的優越條件應是指下列何者？ (A)為主要石油生產國 (B)人口多且勞力充足 (C)地理位置佳且海運便利 (D)國內重工業市場需求大。
3. (B) 附圖為日本近年來對於東協國家和中國的投資金額統計圖，由圖中可知，日本對兩者投資金額差距擴大與下列何者關係最為密切？



- (A)東南亞天災日益頻繁 (B)東協的生產成本較低 (C)中國實施全面開放二胎 (D)東協反日意識漸趨高漲。
4. (D) 根據世界人口基金會於2006年的統計，全球平均每秒增加2.6人，每年增加超過8,000萬人。不過，各地人口成長的速度相當不平均，目前增加最快的地區，絕大多數位在平均國民所得偏低的開發中國家。依照上述統計資料，附圖中的甲、乙、丙、丁何者是屬於這種類型的國家？




- (A)甲 (B)乙 (C)丙 (D)丁。
5. (B) 小美到西亞與北非自助旅行，發現西亞與北非當地的氣候類型以乾燥少雨的沙漠及草原氣候為主，因此在她的行李箱中必須準備大量的防晒油及遮陽帽，以避免在烈日下晒傷肌膚。請問：該地區形成這種氣候類型的主要原因為何？ (A)涼流流經 (B)高氣壓籠罩 (C)距海遙遠 (D)背西風坡。
6. (C) 西亞的產業活動受到自然環境的影響相當大，形成各種不同的生活方式。請問：西亞傳統的灌溉工程如附圖所示，當地興建該水利工程最主要的原因為何？



- (A)地形崎嶇起伏 (B)土壤鬆散流失 (C)氣候乾燥少雨 (D)河川定期氾濫。
7. (C) 非洲因為開發的時間較晚，而曾有「黑暗大陸」之稱。事實上該地區在古代曾有偉大的大河文明出現，為當地帶來了進步的農業活動，並留有金字塔等人類遺跡。請問：上文中所指的非洲古文明分布於現在哪一個國家境內？ (A)肯亞 (B)南非 (C)埃及 (D)衣索比亞。
8. (C) 漠南非洲對外的海運交通較為不便，因此普遍開發較晚。請問：這種情況和該地區的何種海岸線特色關係最大？ (A)西側緊鄰大西洋，波浪洶湧 (B)海岸線長，港口過於分散 (C)海岸陡峭平直，缺少天然港灣 (D)地塊古老，沿岸沙灘水淺。
9. (C) 漠南非洲肯亞的動物大遷移為當地一年一度的盛典，總是吸引大量的旅客前往觀賞。請問：在漠南非洲，獅子、大象等野生動物的棲息地多位於哪一種氣候帶內？ (A)熱帶雨林氣候 (B)高地氣候 (C)熱帶莽原氣候 (D)熱帶沙漠氣候。
10. (D) 卡爾是全球旅遊權威指南《寂寞星球》的編輯，他曾走過沙漠氣候及莽原氣候的知名景點，這兩種氣候環境的主要差異為下列何者？ (A)溫度高低 (B)溫差大小 (C)風力強弱 (D)降水多寡。


11. (A) 清遜帝溥儀在自己的自傳中道：「有一天在養心殿東暖閣里，隆裕太后坐在靠南窗的炕上，用手絹擦著眼。她面前的紅氈子墊上，跪著一個粗胖的老頭子，也是滿臉淚痕。殿里別無他人，安靜得很。胖老頭抽縮著鼻子，聲響很大，一邊說著話。再後來太后帶著他舉行最後一次朝見儀式，頒布詔書。那天氣氛很不一樣，滿朝哀戚之色。但他只想著等一下要去逗蝲蛄玩，完全沒想過大清國在那天之後已經結束了。」請問：上述事件後，中國進入了何種新局面？
(A)終結兩千多年的帝制 (B)從此國家主權被少數革命派掌握 (C)充分鞏固主權在民的立國宏規 (D)成為亞洲第一個君主立憲國家。
12. (A) 清末，中央政府積弱不振，各地開始擁兵自重，到民國5年袁世凱過世後，各地陷入軍閥割據的局面。他們以中國的鐵路、礦產權利換取外國的支持，最終目的為奪取象徵中央的北京政府。下列敘述何者符合袁世凱死後的情況？
(A)各地戰亂不斷，和平希望渺茫 (B)各地軍隊均效忠中華民國總統 (C)列強瓜分中國領土 (D)軍閥彼此合作談判，並未出現戰爭畫面。
13. (A) 第一次世界大戰期間，中國考量自身優劣，初期採取中立立場，僅派遣華工赴歐洲協助戰事。直至戰爭後期，中國才決定參戰。請問：在此戰爭中中國結果為何？ (A)戰勝國；但無法收回山東權利 (B)戰敗國；續簽不平等條約 (C)戰勝國；廢除所有不平等條約 (D)戰敗國；再度割讓土地。
14. (D) 下圖是一幅民國初年繪製的漫畫，請思考本篇漫畫是受到下列何種社會風氣的影響最深？



- (A)白話文開始流行 (B)兒童文學的產生 (C)引入共產主義思想 (D)男女平等觀念風行。
15. (C) 附表為某一時期官方所頒行機關學校放假日期的部分內容，根據內容判斷，此一日程最可能由下列何者所頒行？

放假日期	放假事由及天數
1/1	中華民國開國紀念，放假一天
1/2-1/3	新年，放假二天
3/12	孫中山逝世紀念，放假一天
3/29	黃花岡七十二烈士殉國紀念，放假一天
10/10	中華民國國慶紀念，放假一天
11/12	孫中山誕辰紀念，放假一天

- (A) 1895 年的清廷 (B) 1912 年的北京臨時政府 (C) 1929 年的南京國民政府 (D) 1945 年的臺灣總督府。
16. (C) 民初以來，中外與地方銀行各種貨幣並存，重量不一，成色雜亂的現象，直到何時才改善？ (A)湖北軍政府成立時 (B)五四運動時 (C)十年建設期間 (D)抗戰勝利後。
17. (B) 妮妮在書中找到一幅圖畫如附圖，圖片旁的註解寫著：「1934 年 10 月 16 日紅軍在江西出發長征。」請問：這張圖是在描述什麼歷史事件？



- (A)國民革命軍的北伐 (B)中共的二萬五千里長征 (C)八國聯軍，太后與皇帝出逃京城 (D)辛亥革命。
18. (D) 1926 年，昭和天皇即位後，日本面臨國內外財經危機，社會情勢不穩，導致某勢力抬頭，該勢力影響下軍人地位崇高，且成人會支持與刻意教育兒童進行軍事操練。文中某勢力所信仰的應是下列哪一概念？ (A)民主共和 (B)共產主義 (C)民族自決 (D)軍國主義。
19. (D) 1975 年蔣中正去世後，張學良曾寫了一副「關懷之殷，情同骨肉；政見之爭，宛若仇讎」輓聯悼蔣，並稱蔣對他是「白粉知己」，兩人的情誼最後卻因何事而鬧翻，從此宛若仇讎（敵人）？ (A)五四運動 (B)新文化運動 (C)國民黨改組 (D)西安事變。
20. (A) 電影《決戰中途島》講述第二次世界大戰期間，美國逆轉勝的關鍵戰役，在此戰役之前，美軍一直被日本壓制，無法在太平洋獲得絕對控制權。請問：美國無法獲得絕對控制權的開始和下列哪一場戰爭有關？ (A)珍珠港事件 (B)西安事變 (C)盧溝橋事變 (D)九一八事變。
21. (C) 韓國電影《花漾奶奶秀英文》，故事主軸環繞著一位個性古怪，卻執著於學英文的老奶奶。在電影的後半段，才發現老奶奶學英文並不是為了尋找失散多年的親人，而是為了有朝一日能走上國際舞臺，代替第二次世界大戰時認識的朋友，為和她有相同遭遇的女人們發聲，要求日本政府道歉並賠償她們所遭受的非人道待遇。請問：老奶奶可能曾有下列何種遭遇？ (A)被日本政府強徵土地 (B)被日本政府強召當護士 (C)被日本政府強迫當慰安婦 (D)兒子被日本政府強制徵兵後死亡。

22. (C) 明哲是一位歷史研究員，當他在整理民眾捐贈的舊資料時，發現一張有趣的情境漫畫，如附圖，當時的民眾買東西，需要攜帶一整個包袱的紙鈔。請問：這張漫畫在反映何種社會現象？



- (A) 政府貪汙腐化 (B) 憲政實施順利 (C) 通貨膨脹嚴重 (D) 紙鈔面額太小。
23. (D) 中共史上有一位人物「使中共能取得韓戰的不敗而能與美國對峙的局面，也順利完成了第一個5年計畫的目標。第一個5年計畫的成功，使他充滿樂觀主義，認為共黨憑藉群眾運動來使中國走入先進國家之列，進而推動大躍進，違背經濟發展模式，終導致中國的大災難……。」請問：上文所描述的人物應是指下列何人？ (A) 陳獨秀 (B) 蔡元培 (C) 張學良 (D) 毛澤東。
24. (B) 附圖的歷史人物所提出的「貓論」，是在說明：無論計畫經濟還是市場經濟，都只是一種資源配置手段，與政治制度無關。只要能夠發展生產力的，都可以在實踐中使用。這個理論進而促成中國的改革開放。請問：此歷史人物是誰？



- (A) 毛澤東 (B) 鄧小平 (C) 蔣中正 (D) 陳獨秀。
25. (B) 1955年，亞洲、非洲許多國家在印尼召開會議，主張促進亞、非國家之間的友好合作；1960年代，印度、埃及等國強調獨立自主和不與美、蘇強權結盟。請問：上述會議與立場，最可能反映出下列何者？ (A) 太平洋戰爭的結束 (B) 冷戰時代的對峙 (C) 共產世界的瓦解 (D) 兩次石油危機。
26. (A) 1950年代，在附圖的文宣上，可以看到兩名前往□□作戰的中國人民解放軍，胸前配有志願軍的胸章。請問：上述□□指的是下列何地？



- (A) 朝鮮 (B) 日本 (C) 臺灣 (D) 香港。
27. (C) 中國因為出兵支援其他共產國家，國際影響力逐漸變大，附圖為當時中國協助其他國家時，國內宣傳畫之一。請問：最後這場戰爭的結果為何？



- (A) 親美方大獲全勝，逐出共產勢力 (B) 南北雙方最後畫定停戰線，各據一方 (C) 美軍退出戰場，該國成為共產國家 (D) 美軍退出戰場，該國依然維持原狀。
28. (A) 附圖中的深色色塊區域為某一個國際組織的會員國分布範圍。請問：該組織的會旗為何？





29. (A) 買賣行為在我們日常生活中十分普遍。根據附圖對話，下列何項推論正確？



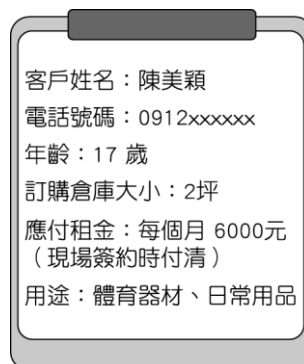
(A) 雙方互動的結果並未達成買賣契約 (B) 雙方在財產權利義務關係上發生糾紛 (C) 老闆可依法要求顧客交付價金 (D) 顧客可依法要求老闆交付商品。

30. (B) 網路購物盛行，許多民眾透過網路下單購買需要的物品。依照附圖所示，老闆的處理方式可視為下列何種概念的表現？




(A) 契約自由原則 (B) 誠實信用原則 (C) 權利禁止濫用原則 (D) 消滅時效。

31. (B) 毅裕經營迷你倉庫出租，他收到一張網路訂單如附圖，依照我國法律規定，若要讓這張訂單成立，下列說明何者正確？



(A) 倉庫空間為日常生活所必需，只要雙方同意即為有效 (B) 客戶為限制行為能力人，必須得到法定代理人同意，才有效力 (C) 客戶已受監護宣告，須由法定代理人代為簽約付款 (D) 此租賃契約屬於單純受益行為，雙方約定後即成立。

32. (D) 公民老師在課堂上講解一則案例如附圖所示，有關圖中情境所衍生的法律關係，下列說明何者正確？



(A) 此案例屬於《民法》中的債務不履行 (B) 郁賢並非故意，在法律上其實不須賠償 (C) 賠償金額任由機車主人決定金額多寡 (D) 依法律規定，民事賠償以回復原狀為原則。

33. (C) 以下是盈禎上課報告時所舉的案例，根據內容判斷，何者最可能是該報告的主題？

- * 無良房東拒絕履行租賃契約義務，雙方對簿公堂。
- * 網路拍賣標錯價糾紛，取得共識後進入調解階段。
- * 小型車禍多採私下和解，事後反悔經常造成爭議。

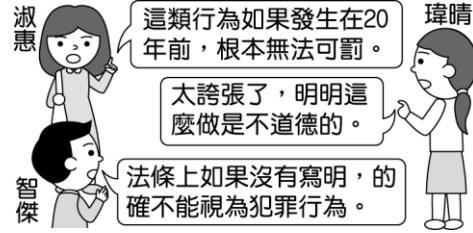
(A) 政府公權力的執行與效果 (B) 司法系統面臨改革的困境 (C) 解決民事糾紛的處理方式 (D) 法律限制人民權利的發展。

34. (D) 小黑為解說某項法律蒐集了以下案例。請問：小黑解說的是哪一法律？

- ☆ 連續縱火案件引發人心惶惶。
- ☆ 一高級官員竊取國防機密外洩。
- ☆ 女子遭前男友拘禁於住處。

(A) 《民法》 (B) 《憲法》 (C) 《憲法增修條文》 (D) 《刑法》。

35. (D) 幾名同學正在討論一起刑事案件，依照附圖他們的發言，可說明哪一項法律概念的效果？



(A)消滅時效 (B)誠實信用原則 (C)契約自由原則 (D)罪刑法定原則。

36. (D) 我國《刑法》明文規定刑罰目的與種類，由附圖對話推論，該名候選人當時受到的刑罰最可能為下列何者？



(A)沒收 (B)拘役 (C)罰金 (D)褫奪公權。

37. (D) 巧雁挑選一則新聞解釋責任能力與犯罪行為處罰間的關係，根據新聞內容，犯罪集團主謀的說法應是基於下列何者？

警方逮捕犯罪集團成員十數人，主謀表示專門吸收 12、13 歲的國中生犯案，利用他們販毒或是交付贓物，因為即使被抓，也不會受到《刑法》制裁。

(A)年滿 80 歲以上者、瘡啞人，為得減輕其刑的範圍 (B)因精神障礙導致無法辨識行為違法者，在《刑法》上不罰 (C)因心智缺陷導致辨識違法能力減低者，得減輕處罰 (D)未滿 14 歲者，心智尚未成熟，不以《刑法》處罰。

38. (B) 附圖是米米家庭群組裡的對話，根據圖中內容判斷，○○應為下列何者？



(A)自訴 (B)偵查 (C)起訴 (D)審判。

39. (B) 當人民權益遭受損害，可採取救濟方式來保障自身的權益。根據附圖中梅茵的事件，俊傑的建議應為下列何者？



(A)向檢察官報案 (B)提起訴願 (C)提出行政訴訟 (D)委任律師提起自訴。

40. (D) 法律條文大多艱澀難懂，法院為了讓一般大眾可以快速了解而製作懶人包供下載觀看。附圖為某法修法之懶人包的其中一頁，根據圖中內容判斷，此法應為下列哪一部法律？



(A)《刑法》 (B)《兒童及少年福利與權益保障法》 (C)《兒童及少年性剝削防制條例》 (D)《少年事件處理法》。