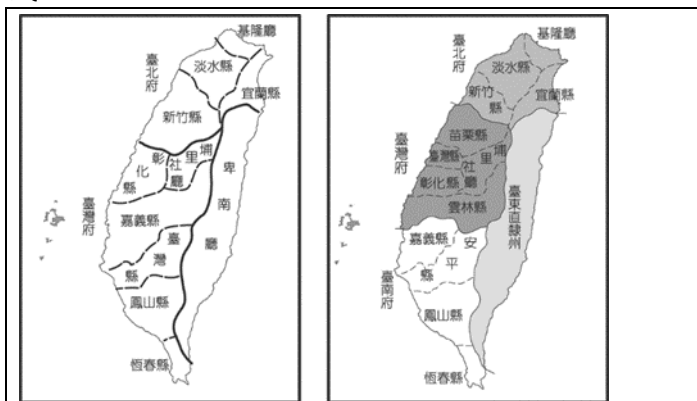


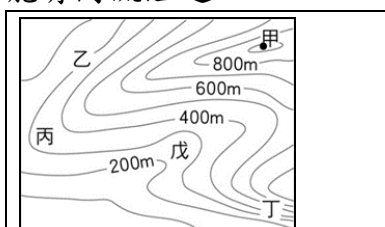
臺中市立漢口國民中學社會科-七年級-補考題庫

範圍：第一、二冊全部

- ()日治時期，日本人類學者對臺灣的族群生活進行相關研究。請問：當時日本學者在政府的委託報告中，會將「泰雅族」分類在下列哪一族群中？(A)高砂族 (B)平埔族 (C)山地同胞 (D)熟番。
- ()西元1919年澎湖馬公天后宮的祭壇下被挖出一座石碑，經查驗後發現其為臺灣史上年代最早的石碑，上面記載了17世紀初，一位明朝將領勸退了當時意圖佔領澎湖的海上勢力。請問：此海上「勢力」應該是下列何者？(A)鄭芝龍的海商集團 (B)西班牙的無敵艦隊 (C)荷蘭聯合東印度公司 (D)葡萄牙的海上艦隊。
- ()臺灣原住民是屬於南島語族。南島語族範圍相當廣泛，南太平洋和印度洋多處皆屬之，但哪一處並不屬於南島語族範圍？(A)紐西蘭 (B)澳大利亞 (C)馬達加斯加 (D)復活節島。
- ()由於新冠肺炎疫情，許多的大型活動改為線上進行，阿翰為了參加國外歌手在巴西里約(43°W) 當地8月13日下午5點的線上演唱會，請問他必須在臺灣時間幾點上線？(A)8/13下午4點 (B)8/14凌晨4點 (C)8/13晚上9點 (D)8/14早上10點。
- ()各國的紙鈔設計常將能展現國家特色的人物、動植物或是建築物放上去，像是台灣的一千元、兩千元紙鈔上面就能看到豐富的台灣特有種，如：櫻花鉤吻鮭、帝雉、塔塔加薊，請問台灣特有種眾多的原因和下列何者關？(A)位在太平洋西側 (B)北回歸線經過 (C)位在航運中繼站 (D)孤立的島嶼環境。
- ()黑潮為全球第二大洋流，途經菲律賓、臺灣、日本，是洄游性魚類喜歡搭乘的超通暢海洋高速公路。例如：每年4~7月黑鮪魚隨著黑潮來到台灣東部海域。下列有關「黑潮」的特性何者正確？(A)寒流，高緯區流向中緯區 (B)涼流，中緯區流向高緯區 (C)暖流，低緯區流向高緯區 (D)暖流，高緯區流向低緯區。
- ()使用網站和社群軟體時會發現網頁時常呈現使用者感興趣的內容，這其實是我們的瀏覽紀錄、個人資料甚至是位置資訊，在不知不覺中被網路公司蒐集並使用，透過大數據分析呈現符合使用者的特定內容。請問：針對上述情形下列敘述何者正確？(A)為了享受資訊的便利，就必須透露個人所有資料 (B)這些資訊並不影響個人的生命安全，故無需太過在意 (C)網購平台的會員隱私條款都差不多，加入會員時不須詳讀直接打勾同意即可 (D)在人性尊嚴的考量下，每個人應有權決定這些資訊是否被擷取及使用。
- ()臺東地區觀光產業興盛，吸引不少年輕族群移居臺東就業，為鼓勵勞工就業移動，勞動部發放「跨域就業津貼」，包括交通、租屋與搬遷補助金等。原本在臺北擔任調酒師的佳芬，經由勞動部高屏澎東分署臺東就業中心協助她順利在臺東市找到工作，定居臺東後也有更多時間能陪伴家人。勞動部對於相關的就業措施，展現下列何種意義？(A)政府積極提供勞工工作的保障 (B)政府禁止勞工人權受他人侵害 (C)勞工依法爭取自己的權利 (D)政府立法破除對勞工的觀念上偏見。
- ()2022年俄烏戰爭開戰後，許多國家紛紛在國際活動上聲援烏克蘭，譴責俄羅斯的行為不僅破壞國際秩序，也造成烏克蘭國民生命財產嚴重損傷。包含德國在內的35個國家要求國際體育界嚴厲制裁俄羅斯和白俄羅斯體育協會及官員、禁止兩國選手出賽，藉此表達對俄羅斯入侵烏克蘭的抗議。上述情形凸顯國際上對於哪個觀念的重視？(A)基本人權保障是普世價值 (B)其他國家以牙換牙報復俄羅斯 (C)人性尊嚴隨國家強弱而定 (D)只有透過戰爭才能維護烏克蘭國民的人性尊嚴。
- ()小玉在臺灣歷史博物館參觀時，看到一張用羅馬字拼注原住民語言的土地契約，他想進一步了解該契約的歷史背景，應該查閱下列哪一篇文章？(A)〈基督教在臺傳布史〉(B)〈淺談蛤仔難地區的發展〉(C)〈鄭氏王朝拓墾的故事〉(D)〈葡萄牙與福爾摩沙的故事〉。
- ()某本歷史書籍中出現右邊的地圖，分別代表臺灣歷史上兩個不同時期的行政區域劃分圖。請問從圖左到圖右反映出臺灣歷史發展的何種過程？(A)清帝國積極建設臺灣，依照詳盡的計畫開墾土地 (B)臺灣移民越來越多，實行開山撫番，增加漢人開墾地 (C)列強侵略刺激清廷，臺灣改設為省並調整行政區域 (D)日軍首次出兵侵臺，使清廷注重管理東部原住民。



- ()臺中市土牛國小校園內有一塊「奉憲勘定地界」石碑，內容寫著「勘定朴子籬處，南北計長貳佰捌拾伍丈伍尺，共堆土牛壹拾玖個。每土牛長貳丈，底闊壹丈，高捌尺，頂闊陸尺。每溝長壹拾伍丈，闊壹丈貳尺，深陸尺。永禁民人逾越私墾。乾隆貳拾陸年 正月○日 彰化縣知縣張 立。」請問此石碑的設立與下列何者相關？(A)渡臺禁令政策的頒行 (B)大肚王的擴張 (C)走私貿易的盛行 (D)劃界封山政策的執行。
- ()過年時大華帶全家人回家鄉拜訪親戚，因為難得相聚，奶奶用在地食材煮了一桌好菜，包含鮮蚵豆腐煲、炒蛤蜊、香煎虱目魚肚等等，讓大家飽餐一頓，吃飽飯後大華一家人還去大伯的蚵田一邊體驗採蚵，一邊欣賞夕陽美景。請問下列何者最可能是大華的家鄉？(A)花蓮縣豐濱鄉 (B)南投縣埔里鎮 (C)台東縣池上鄉 (D)嘉義縣布袋鎮。
- ()下列為近年來臺灣的自然環境相關報導，何者的地形營力與其他三者不同？甲：連日大雨造成山區發生土石流、乙：918台東大地震造成花蓮玉里樓房倒塌、丙：野柳女王頭面臨斷頭危機、丁：嘉義縣東石鄉外海的外傘頂沙洲面積縮小。(A)甲 (B)乙 (C)丙 (D)丁。
- ()關於圖五等高線地形圖的敘述何者錯誤？(A)甲地的高度介於800M~900M之間 (B)丙為山脊 (C)丁的坡度最陡 (D)戊可能有河流經過。



臺中市立漢口國民中學社會科-七年級-補考題庫

範圍：第一、二冊全部

33. () 下列關於主流文化與次文化的比較，何者是錯誤的？

	(A) 組成原因	(B) 成員規模	(C) 等級	(D) 實例
主流文化	社會當中多數人的價值和信念	較大	較高	一夫一妻
次文化	社會當中特定團體的價值和信念	較小	較低	火星文

34. () 工廠在設立之初，為了降低生產成本、提高利潤，選擇合適的地點設廠，稱為什麼？

(A) 工業區位 (B) 工業類型 (C) 工業規模 (D) 工業特色。

35. () 民國76年是兩岸關係邁入新紀元的一年。這一年我國政府除了解除戒嚴之外，更推動了下列哪一項事務？

(A) 兩岸軍備交流 (B) 兩岸直接通航 (C) 完成一國兩制 (D) 開放民眾赴大陸探親。

36. () 下列四位同學正在討論各自對於傳播媒體的看法，哪幾位的意見是正確的？(A) 小芬、小珊、小文 (B) 小芬、小珊、小蕙

(C) 小珊、小文、小蕙 (D) 小芬、小文、小蕙。



37. () 日本統治期間，統治者運用警察制度嚴密控制臺灣社會，當時原住民頭目因不滿日本官吏高壓統治，起而率眾抗爭，爆發了下列哪一事件？(A) 劉永福抗日 (B) 牡丹社事件 (C) 噶吧嘒事件 (D) 霧社事件。

38. () 小芬聽到新聞報導：「近年來，成年人犯罪的共犯率平均維持在10%左右，青少年的共犯率卻均維持在 50%左右，青少年常以為這次我罩你，下次你也要來幫我，於是集體犯罪的成員愈來愈多。」請問：青少年共犯率偏高的原因主要是受到何種因素影響？(A) 家庭 (B) 學校 (C) 同儕團體 (D) 傳播媒體。

39. () 下列四位同學對於「社會互動」的敘述，何者的社會互動屬於「競爭」的方式？(A) 小芬 (B) 小珊 (C) 小文 (D) 小蕙。



40. () 環境品質文教基金會不定期的公布其研究調查報告，除了讓民眾了解並共同關心各項環境議題，更可以發揮下列何項功能？(A) 奠定團體的學術地位 (B) 增加團體本身的營利 (C) 取代政府環境保護的工作 (D) 提供專業意見並監督政府。

41. () 小君奶奶總是把摩托車稱為「歐兜賣」、生魚片稱為「沙西米」。由這些詞彙可知，小君奶奶深受哪一時期統治的影響？

(A) 荷治時期 (B) 鄭氏時期 (C) 清領時期 (D) 日治時期。

42. () 下列是小珊說明某概念前，先行呈現的問題情境。根據內容判斷，她最可能說明下列何項概念？

(A) 社會角色 (B) 性別角色 (C) 角色衝突 (D) 家庭暴力。

設想你是一名交通警察，當你攔下酒醉開車的駕駛人時，發現這位駕駛人正好是你的堂哥。你會作何反應？照樣開罰單嗎？或是偷偷放走他？

43. () 商業活動中，批發與零售最大差異是決定於買賣貨物的什麼？(A) 品質優劣 (B) 種類多寡 (C) 有效期限 (D) 數量多寡。

44. () 民國38年政府來臺，在缺乏豐富天然資源的條件下，締造出眾所矚目的臺灣經濟奇蹟。當時政府最先實施哪一方面的改革，奠定日後經濟發展的基礎？(A) 國防 (B) 土地 (C) 貿易 (D) 教育。

45. () 附表是民國70年代以後，臺灣所出現的部分社會運動，根據內容判斷，下列哪一項為表中四種社會運動所共同具有的特性？

(A) 以獲取社會資源為最終目標 (B) 以促進社會民主發展為目的 (C) 以爭取社會公平正義為訴求 (D) 均採用暴力抗爭活動為手段。

興起時間	社會運動
民國71年	女權運動
民國76年	農民運動
民國79年	車禍受難者救援運動
民國81年	雛妓救援與終止運動

46. () 下列是小文在書上看到一個名詞解釋所舉例的名人故事。請問：下列何者最有可能是這個名詞？

(A) 社會文化 (B) 社會互動 (C) 社會問題 (D) 社會流動。

企業家林百里出生於上海，一歲時隨著父母逃難到香港，在難民營般的調景嶺貧民窟成長，後來到臺灣就讀臺灣大學，一路磨練到創立廣達電子，至今已經是身價三千多億的科技富豪。


47. () 班上同學正在討論戰後臺灣政治變遷相關事項，請問：下列敘述何者正確？(A) 小雲：「大陸來臺人士多和臺灣人民相處融洽，沒有語言、文化的問題」(B) 小慧：「美麗島事件過後，政府將陳儀免職並調離臺灣」(C) 小嘉：「民國38年政

臺中市立漢口國民中學社會科-七年級-補考題庫

範圍：第一、二冊全部

府發布戒嚴令，同年年底中央政府播遷來臺」(D)小蘭：「中華民國退守臺灣以後，政府立刻解嚴」。

48. ()圖一是筱方暑假去某外島旅遊，在當地景點拍攝的照片。由照片內容推測她應是去圖二哪一地點？
(A)甲 (B)乙 (C)丙 (D)丁。




49. ()張爺爺看到圖(三)與圖(四)兩張住家附近相差三十年的照片，他感嘆地說：「時代真的不同，大家普遍使用的交通工具也不一樣了！」從這兩張照片的差異中，最明顯看出下列何種概念？(A)社會規範 (B)社會制度 (C)社會變遷 (D)社會福利。

▲圖(三)



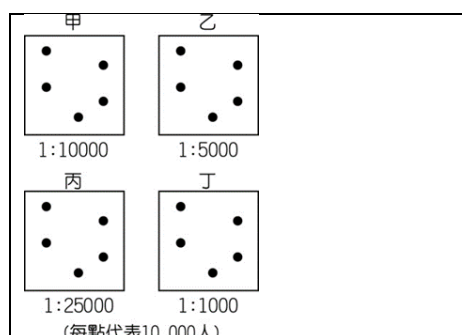
▲圖(四)



50. ()為打擊幫派組織犯罪，以維護社會秩序，政府特別制定下列何項法律來因應？(A)《憲法》 (B)《人民團體法》 (C)《性別工作平等法》 (D)《組織犯罪防制條例》。
51. ()1927年蔣渭水等人組臺灣民眾黨，這是臺灣歷史上第一個合法的政黨，曾舉辦多次演講會，討論民權、自治等概念。請問：下列哪個團體與臺灣民眾黨屬於同一類型的人民團體？(A)臺灣客家學會 (B)臺灣鐵路工會 (C)臺灣原住民族自治聯盟 (D)喜憨兒社會福利基金會。
52. ()臺灣許多工廠紛紛到中國、東南亞設廠，此類工業區位的選擇，主要是考量何種因素？
(A)政策 (B)勞工 (C)資金 (D)動力。
53. ()日本占領臺灣後，日人為了增加財政收入，曾實施專賣制度，由政府獨占經營。請問：下列哪項物品，被日人列為專賣商品之一？(A)鴉片 (B)茶葉 (C)甘蔗 (D)稻米。
54. ()臺灣的森林資源豐富，與本地自然環境的何種特點最相關？(A)平原廣大，終年高溫 (B)山地廣布，氣候溼潤 (C)夏熱冬寒，乾溼分明 (D)四面環海，海岸線長。
55. ()附表是臺灣自耕地與佃耕地的比例變化。請問：之所以會出現這種變化的主要原因為下列何項？(A)美麗島事件後的土地賠償 (B)中華民國政府遷臺後的土地改革 (C)清領時期結束，將土地歸還給人民 (D)高科技產業發達後，帶動農業發展。

項目	民國37年	民國42年	民國45年
自耕地	56%	83%	85%
佃耕地	44%	17%	15%

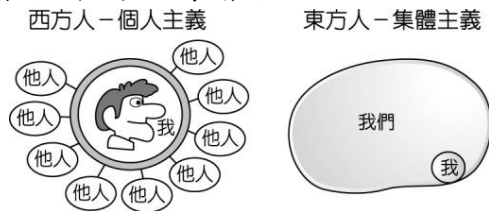
56. ()歌仔戲起源於宜蘭，發展至今約有100多年的歷史。從早期的歌謠到現在的劇場表演，最能表現下列何項意涵？
(A)主流文化 (B)文化創新 (C)多元文化 (D)文化傳承。
57. ()有一本書上寫到：「此時，政府視教育為同化臺灣人的重要手段，因此在臺灣實施西式教育。初等教育以六年制公學校為主軸，取代了原先傳統書院、學堂，對日後教育發展有深遠的影響。」這應是描述下列哪一時期的情況？(A)荷蘭統治時期 (B)鄭氏統治時期 (C)清朝統治時期 (D)日本統治時期。
58. ()根據調查發現有許多學生突破「技職等於黑手」的傳統觀念，以考量畢業後的專業技能與本身的適性發展作為選填志願的標準，轉而就讀公立高職。請問：根據上述內容，這是屬於哪個層面的社會變遷？(A)價值觀念 (B)器物生活 (C)社會制度 (D)風俗習慣。
59. ()日本治臺時期，總督府得以瓦解可能存在的反抗勢力，而且能確實掌握臺灣的戶口，奠定堅實的統治基礎，與下列何者「最」有關係？(A)《六三法》 (B)日本軍隊 (C)皇民化運動 (D)警察與保甲制度。
60. ()老子哲學中提到「守柔」，認為事物太過於剛強則容易斷折，例如：舌頭軟而牙齒硬，但隨著時間的經過，牙齒都掉光了，舌頭卻還在。其主要目的是在教導人們要謙卑遜讓，以退為進。這種對生命抱持的態度是屬於文化的何種層次？
(A)器物層次 (B)制度層次 (C)理念層次 (D)藝術層次。
61. ()「好好吃速食店」希望挑選一個地區設立分店，請利用附圖中甲、乙、丙、丁四個地區的人口密度圖，幫「好好吃速食店」找出最適合的設廠地點為何？(A)甲 (B)乙 (C)丙 (D)丁。



臺中市立漢口國民中學社會科-七年級-補考題庫

範圍：第一、二冊全部

62. () 附圖是小文比較東西方文化差異時，用來輔助說明研究議題的圖形。根據內容判斷，他最可能是在探討下列哪項主題？
 (A) 社會角色 (B) 性別角色 (C) 群己關係 (D) 親屬關係。



63. () 為方便研究，我們常依不同特色或性質將歷史分為若干階段或時期，下列有關臺灣歷史分期的發展順序，何者正確？
 (A) 荷蘭統治→鄭氏統治→清朝統治→日本統治 (B) 荷蘭統治→鄭氏統治→日本統治→清朝統治
 (C) 荷蘭統治→清朝統治→鄭氏統治→日本統治 (D) 鄭氏統治→荷蘭統治→清朝統治→日本統治。
64. () 下列是某研究機關所做的「社會變遷調查」資料。根據內容判斷，此一調查認為少子化與下列何項社會變遷層次有關？
 (A) 物質生活 (B) 法令制度 (C) 價值觀念 (D) 宗教信仰。

過去的農業社會需要壯丁耕作，因此人們抱持著「多子多孫多福氣」、「重男輕女」等觀念。時至今日，約有四成的民眾 認同「生育子女不是成家主要的目的」、「生男生女都無所謂」等想法，愈來愈多人不想把時間、金錢花在兒女身上。

65. () 我國政府發布文告：「海內外全體同胞們：第26屆聯合國大會違反《憲章》規定，通過阿爾巴尼亞等附匪國家之提案，牽引毛共匪幫竊取中華民國在聯合國及安全理事會中的席位；我們本『漢賊不兩立』之立場及維護《憲章》之尊嚴，已在該案支付表決之前，宣布退出所參與締造的聯合國……」。請問：此文告最有可能是民國哪一年發布的？
 (A) 36年 (B) 38年 (C) 60年 (D) 68年。
66. () 「囧」原義為光明、明亮，現常被當作網路上的一種臉孔符號，以表達皺眉、失意、不知所措等情緒，青少年網友經常使用。請問：網路上所發展出來的火星文，屬於現代社會文化中的哪種型態？
 (A) 次文化 (B) 主流文化 (C) 大眾文化 (D) 上流文化。
67. () 每年冬季，臺灣漁民在臺灣海峽捕獲烏魚。請問：這是哪種類型的漁業？
 (A) 遠洋漁業 (B) 近海漁業 (C) 養殖漁業 (D) 淡水漁業。
68. () 近來政府欲施行「能源稅」政策，引起自行開車通勤的民眾反彈。臺灣哪個區域因產業發展最為發達、大眾交通運輸最為便捷，上述政策可能造成的影響較其他區域小？(A) 北部區域 (B) 中部區域 (C) 南部區域 (D) 東部區域。
69. () 一國的人口成長主要受四大要素控制，即出生、死亡、移入、移出。針對此四大要素與臺灣目前的人口狀況，下列哪位同學的說法最正確？(A) 純希：出生率不斷上升中 (B) 欣怡：死亡率變動不大 (C) 古馳：移入人口有下降趨勢 (D) 正人：移出率高是臺灣人口減少的主因。
70. () 臺灣近年來積極推動科學工業園區，以帶動國家經濟進一步的發展。請問：目前臺灣哪一地區還沒有設立科學工業園區？
 (A) 北部 (B) 中部 (C) 南部 (D) 東部。
71. () 區域發展程度較高的地區，通常具備下列何項特色？(A) 生活環境品質較好 (B) 享有的資源相對不足 (C) 醫療、教育資源較豐 (D) 公共建設與人為開發較為緩慢。
72. () 某年出生人數減某年死亡人數，再除以該年人口總數後，用千分率來表示，稱為下列哪一項人口資料？
 (A) 出生率 (B) 死亡率 (C) 自然增加率 (D) 社會增加率。
73. () 下列針對台灣近年的人口議題討論，下列何者正確？ (A) 因應幼年人口比例越來越高，政府應減少社會福利支出以減輕負擔 (B) 政府只需要張貼人口政策宣傳口號即可提高生育率 (C) 性別比失衡應提倡重男輕女的觀念 (D) 近年來台灣扶養比上升和老年人口比例上升有關。
74. () 依照我國國籍法規定，下列何者具備「中華民國國民」的身分？(A) 來自韓國的留學生恩斌 (B) 在安養院工作的印尼看護辛利 (C) 爸爸是美國人、媽媽是台灣人的小安 (D) 因公司外派，從日本來台灣支援分公司三年的鈴木健太。
75. () 人們時常說團結力量大，因此日常生活中存在各式各樣的團體，下列關於團體的敘述何者正確？ (A) 團體是指三人以上所組成 (B) 家庭是屬於自願加入的團體 (C) 參加大學裡的台中同鄉會能夠滿足情感需求 (D) 每個人不可能同時屬於多個團體。

七年級補考題庫參考答案：

1.	A	2.	C	3.	B	4.	B	5.	D	6.	C	7.	D	8.	A	9.	A	10.	A
11.	C	12.	D	13.	D	14.	B	15.	A	16.	B	17.	B	18.	D	19.	C	20.	B
21.	C	22.	D	23.	B	24.	B	25.	B	26.	A	27.	C	28.	D	29.	D	30.	C
31.	A	32.	D	33.	C	34.	A	35.	D	36.	C	37.	D	38.	C	39.	B	40.	D
41.	C	42.	D	43.	D	44.	B	45.	C	46.	D	47.	C	48.	B	49.	C	50.	D
51.	C	52.	B	53.	A	54.	B	55.	B	56.	B	57.	D	58.	A	59.	D	60.	C
61.	D	62.	C	63.	A	64.	C	65.	C	66.	A	67.	B	68.	A	69.	B	70.	D
71.	C	72.	C	73.	D	74.	C	75.	C										