

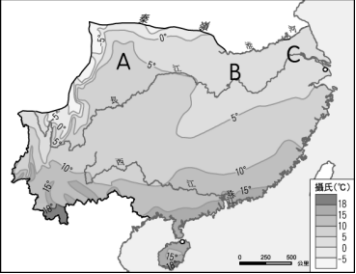
臺中市立漢口國民中學 社會科 二年級下學期 補考題庫卷

★請注意題號，並在答案卡上使用 2B 鉛筆正確畫記，以免無法讀卡記分。★

班級：_____ 座號：_____ 姓名：_____

一、單一選擇題

- (C) 下列行政區中：(甲)福建(乙)廣東(丙)廣西(丁)貴州(戊)雲南，哪些地區石灰岩地形最為發達？(A)甲乙丙 (B)乙丁戊 (C)丙丁戊 (D)甲丙丁。
- (D) 「此特別行政區位於珠江口東側，早期曾被英國殖民，因港口條件優越，且位於世界主要航線上，成為著名的轉口港。」請問：此特別行政區是指下列何者？(A)重慶 (B)上海 (C)澳門 (D)香港。
- (B) 附圖為中國南部地區一月等溫線圖，圖中 A 地一月月均溫高於 B、C 兩地的主要原因為何？(A)距海較遙遠 (B)北側有高山 (C)南側有高原 (D)地勢較平坦。



- (D) 造成黃河水位變化大的原因，可能有哪些？(甲)年雨量不多(乙)河床坡度陡(丙)年雨量變率大(丁)降雨集中在夏季。(A)乙丁 (B)甲乙 (C)乙丙 (D)丙丁。
- (C) 近年來中國北部地區工業發展面臨許多困境，包括下列何者？(A)交通運輸不便 (B)工廠設備太新 (C)礦產逐漸枯竭 (D)民營事業生產缺乏效率。
- (B) 河西走廊自古為東西往來的交通要道。請問：交通要道的形成所具備的條件是什麼？(A)氣候溫和，雨量多 (B)有綠洲提供商旅所需 (C)文化古國多，交易方便 (D)北有高山阻隔，不受風寒。
- (D) 「三山夾兩盆」是中國某個行政區的地形寫照。請問：此行政區是指下列何者？(A)甘肅省 (B)西藏自治區 (C)內蒙古自治區 (D)新疆維吾爾自治區。
- (C) 位於新疆維吾爾自治區的塔里木盆地，屬於下列哪種氣候類型？(A)高地氣候 (B)溫帶草原氣候 (C)溫帶沙漠氣候 (D)溫帶季風氣候。
- (A) 「在山頭，終年一片白雪覆蓋；山腰之際，則有森林與草原交錯，翠綠的青稞與潺潺的河水，共舞著收成的前景。」請問：此景觀會出現在下列哪個地形區？(A)藏南縱谷 (B)塔里木盆地 (C)柴達木盆地 (D)準噶爾盆地。
- (A) 「天府之國」、「湖廣熟，天下足」皆是形容華中何項產業發達？(A)農業 (B)工業 (C)商業 (D)礦業。
- (C) 小天想開飛機繞地球一圈。請問：小天沿著下列哪條緯線飛行經過的陸地最少？(A) 0° (B) 60°N (C) 60°S (D) 23.5°N。
- (C) 世界七大洲中，面積最小的是哪洲？(A)亞洲 (B)非洲 (C)大洋洲 (D)北美洲。
- (C) 華中地區整體的氣候特徵，以下何者正確？(甲)夏季氣溫偏高(乙)降雨集中夏季(丙)冬季低於0°C(丁)夏季會有鋒面雨。(A)甲乙丙 (B)甲丙丁 (C)甲乙丁 (D)乙丙丁。
- (A) 長江黃金水道與中國東部海岸線形成「T」字型發展軸線，受到長三角的影響，長江沿岸城市近年發展迅速，長江上游有一大城市，由於優越的位置，成為西部大開發的重要地區，加上三峽大壩工程，已經升格為直轄市。請問該城市為何？(A)重慶 (B)武漢 (C)宜昌 (D)成都。
- (A) 「黃河在此處先沿著賀蘭山向北，經陰山阻擋後向東，再沿著呂梁山向南，形成『几』字狀。西漢時，漢武帝派軍隊擊敗匈奴，占領此處，並築城以屯田、養馬，作為防禦和進攻匈奴的基地，當時，人們引黃河灌溉，農業迅速發展，經濟繁榮。」上文介紹的地方應是位在今日何地？(A)華北平原 (B)河套地區 (C)河西走廊 (D)塔里木盆地。

16. (B) 下圖為安心旅行團的團員在某一國家內的對話內容：



團員正在旅遊的國家，主要信奉哪個宗教？(A)天主教 (B)印度教 (C)藏傳佛教 (D)伊斯蘭教。

- (D) 住在臺灣的小薰放暑假時，她在國外念書的哥哥在放寒假，由此推測小薰的哥哥較可能住在下列哪個國家？(A)日本 (B)英國 (C)加拿大 (D)澳大利亞。
- (B) 下文是 19 世紀一位來華外國人對當時中國局勢的看法：「……這些廣西人之間有一種家庭般的氣氛，這使他們以『弟兄』相稱顯得很貼切。他們共用家舍，衣服、食物、金銀珠寶皆存放在『聖庫』中……這些人的起事已成為帝國的心腹之患。」這位外國人應是描述下列哪一歷史事件？(A)鴉片戰爭 (B)太平天國 (C)亞羅船事件 (D)戴潮春事件。
- (C) 西元 1850 年代，一名英國人在廣州毆打了當地居民，但是當地官府無法將他治罪，只能把他交給英國領事來處理。這是因為當時清廷給予英國下列哪一種權利？(A)租界 (B)協定關稅 (C)領事裁判權 (D)片面最惠國待遇。
- (B) 宜靜在複習歷史課文時，針對清末列強的侵略，整理了一份表格。請問：附表的主題應該是什麼？(A)英國的入侵 (B)俄國的侵占 (C)法國的逼迫 (D)美國的出擊。


時間	簽訂條約	喪失領土
咸豐 8 年	璦琿條約	黑龍江以北
咸豐 10 年	北京條約	烏蘇里江以東

- (B) 日本工業區多分布於太平洋沿岸，主要的因素為何？(A)利用當地豐富的水力 (B)方便原料和產品進出口 (C)當地擁有較高技術的勞工 (D)沿海地區有豐富的礦產資源。
- (D) 清代某大臣上奏：「兩年前，我們選送六位廣方言館學生到北京考試，後來總理衙門來函稱讚這六名學生表現卓越。有鑑於新開埠的港口及地方上新建的學堂亟需人才，將由這批學生來擔任相關職務。」這份奏摺所陳述的情況最可能發生在下列何時？(A)三藩之亂期間 (B)鴉片戰爭之時 (C)英法聯軍之時 (D)自強運動期間。
- (C) 小秦看到有篇介紹某位清末歷史人物的文章，其中敘述：「他與一批有志之士上書請願，鼓吹政治革新的理念，主張維新變法。後來，他得到皇帝支持，開始推動政治改革，但因守舊派發動政變，推翻改革，他只好逃亡海外。」根據以上的敘述，這篇文章介紹的歷史人物應是下列何者？(A)曾國藩 (B)李鴻章 (C)康有為 (D)孫中山。
- (B) 1990 到 2008 年期間，北韓在「全球飢餓指數」惡化的排名中位居第二。造成北韓糧產不足，常有饑荒的問題，除了政治制度的影響外，與下列何項自然因素關係最密切？(A)颱風侵襲次數多 (B)生長季短、平原少 (C)火山活動與地震頻繁 (D)年雨量少於 500 毫米。
- (D) 南亞恆河平原和中國鄱陽盆地的緯度相近，但一月的月均溫，恆河平原卻比鄱陽盆地高 10°C 左右。形成上述差異的原因，主要是因為恆河平原具備下列何項特性所致？(A)境內湖泊眾多 (B)太陽輻射較強 (C)午後多對流雨 (D)北有高山屏障。
- (D) 在中國面臨被列強瓜分的危機時，某國提出一項政策，暫時緩和瓜分危機。請問：這是哪個國家提出的哪項政策？(A)日本——明治維新 (B)俄國——聯合德法 (C)英國——協定關稅 (D)美國——門戶開放。
- (C) 長江流域內的各大盆地，素有「火爐」之稱，意指在夏季溫度相當的高。請問：形成此稱呼的主要原因為何？(A)地勢崎嶇不平 (B)緯度較其他地區低 (C)盆地地形散熱不易 (D)盆地底部時常發生洪患。
- (D) 中國上海市從清末開放對外通商後，吸引許多商人在此投資，逐漸發展成中國最大的工商業都市。這和該地具備哪項條件最有關係？(A)歷史悠久，古都色彩濃厚 (B)水電動力充沛，能源充足 (C)農礦資源豐富，勞工眾多 (D)位在長江下游，腹地廣大。
- (D) 中國歷史上某一時期，曾有教授和大學生主張以口語化的新文學來取代舊式古典文學，並有意識的反對許多傳統觀念與習俗，將男女個人從傳統束縛中解放出來。這樣的主張應出現於下列何時？(A)自強運動 (B)百日維新 (C)黃金十年 (D)新文化運動。
- (C) 有一本小說，內容描述戰爭時期的學校生活，當時首都由南京遷到重慶，敵人則在原首都另立政權。書中主角隨政府撤退至西南後方，最後響應政府的號召而投筆從戎。這部小說的創作背景應是下列何者？(A)民國 15~17 年間國民革命軍北伐 (B)民國 23~25 年間中共「長征」 (C)民國 26~34 年間對日抗

戰 (D)民國39~42年間韓戰衝突。

31. (A) 陳奶奶回憶說：「在那個年代，市面流通著各種貨幣，後來政府廢除銀兩，規定一律改用銀元；再過一陣子，政府規定只能用指定銀行發行的紙幣，終於解除了幣制混亂的局面。」陳奶奶描述的應是下列哪一時期？(A)民國17~26年黃金十年 (B)民國26~34年八年抗戰 (C)民國35~38年國共內戰 (D)民國62~68年十項建設。

32. (C) 附圖是中國歷史上某段時期民眾花費100元法幣所能購買物品的變化，對於這種轉變，下列何者的解釋最適切？(A)農業科技改良，增加物產種類 (B)國際能源危機，促使物價下跌 (C)戰禍頻繁，導致民間通貨膨脹 (D)社會安定，民生需求日益縮減。



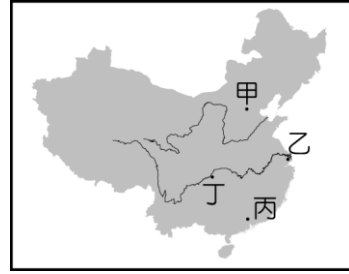
33. (A) 若中國橫斷山脈的河川受到汙染，將影響到下游的用水和生態環境。請問：下列何處會受到影響？(A)中南半島 (B)印度半島 (C)朝鮮半島 (D)南洋群島。
34. (C) 菲律賓曾先後被哪兩個國家殖民，因此大部分居民信奉天主教、說英語？(A)荷蘭、西班牙 (B)英國、葡萄牙 (C)西班牙、美國 (D)西班牙、葡萄牙。
35. (D) 印度半島每年11月至隔年2月為涼季，此時氣候乾燥涼爽，形成此現象的因素為何？(A)緯度適中 (B)寒流經過 (C)處於季風轉換期 (D)北有高山阻擋東北季風。
36. (B) 諸葛亮曾說：「益州（今四川盆地）險塞，沃野千里，天府之國也」，請問：「益州險塞」這句話最可以反映出四川的何種地形特色？(A)灌溉便利、農業發達 (B)地形封閉，易守難攻 (C)日照少，有「蜀犬吠日」之諺 (D)土壤肥沃，有「紅盆地」之稱。
37. (C) 義芬在書中看到以下內容：「神助拳……只因鬼子鬧中原……天無雨，地焦旱，全是教堂止住天，神發怒，仙發怨……附著人體把拳傳……洋鬼子，盡除完，大清一統靖（平定）江山。」這些話語的出現與下列何者有關？(A)清初秘密結社眾多，假借宗教名義排外 (B)自強運動推行西化，激發傳統宗族群起抗清 (C)清末外力侵逼，民間仇外心理釀成義和團事變 (D)社會動盪不安，湘軍習武練拳以對抗太平天國。
38. (A) 科舉制度曾在中國實施一千多年，影響深遠。請問：下列哪兩個朝代，分別代表著科舉制度的開始與結束？(A)隋朝、清朝 (B)唐朝、清朝 (C)宋朝、清朝 (D)明朝、清朝。
39. (C) 「當時，先是段祺瑞與黎元洪彼此意見不合，繼而張勳藉機推動復辟。段祺瑞驅逐張勳後，欲拒絕恢復國會與約法，引發孫中山在南方號召護法。其他還有張作霖、馮國璋等占據地盤，中國動盪不安。」這是描述下列哪一時期的政治情勢？(A)清末革命與立憲的對峙 (B)洪憲帝制實施下的紛擾 (C)民初軍閥混戰的亂象 (D)自強運動時期的國內紛爭。
40. (D) 附圖為民國初年的一幅漫畫，圖中站在北京城樓上，手執大刀的一隻老猿，暗喻一位為了遂行專制而暗殺國民黨代理理事長的政治人物。請問：圖中的老猿，指的應是下列何人？(A)孫中山 (B)段祺瑞 (C)宋教仁 (D)袁世凱。



41. (A) 槍擊要犯黃嫌因殺人罪被法院判處：甲、無期徒刑；乙、褫奪公權終身。請問：有關甲、乙的敘述，下列何者正確？(A)甲：主刑，乙：從刑 (B)甲：從刑，乙：主刑 (C)乙與罰金屬於同種刑罰 (D)只要犯罪就會被褫奪公權。
42. (D) 對於《刑法》的敘述，下列何者正確？(A)《刑法》一旦制定，即無修改的必要 (B)人民可以選擇性的遵守《刑法》的規定 (C)任何的犯罪行為，一定是出於故意的行為 (D)一個違反道德規範的行為，若法律並未規定其為違法行為，則不得當作或比照犯罪行為而加以處罰。
43. (A) 「必須出於故意或過失的行為」是犯罪的成立要件之一，請問：下列何者的行為並不符合「過失」的條件？(A)光修看到鄰桌客人的皮包未關好而順手牽羊 (B)智孝打掃廁所未放置

警告標誌而導致客人滑倒受傷 (C)小國在陽臺澆花不慎將花盆推落砸傷路人 (D)阿振酒醉駕車撞傷路人。

44. (B) 新聞報導：「消費者保護團體主張，不肖廠商為謀利而製造問題商品，且以不實廣告行銷宣傳，政府應加重對企業經營者的行政罰則。」請問：上述說法，應是指提高下列何種處罰標準？(A)賠償金額 (B)罰鍰額度 (C)徒刑期限 (D)罰金額度。
45. (D) 老師在課堂上要同學以「八年抗戰」（西元1937~1945年）的歷史為背景，進行角色扮演。下列哪一位同學應是扮演當時國民政府官員的角色？(A)阿基：「為了結束戰爭，我們不得不在當地投下原子彈。」 (B)大華：「我們利用對外戰爭壯大了勢力，最後終於取得中國的政權。」 (C)小莉：「這次戰爭使我們控制東亞的夢想破滅，傷亡慘重，最後宣布投降。」 (D)文文：「這戰爭使我們與各國另訂平等新約，解脫百年來不平等條約的束縛。」
46. (A) 陳奶奶回憶說：「在那個年代，市面流通著各種貨幣，後來政府廢除銀兩，規定一律改用銀元；再過一陣子，政府規定只能用指定銀行發行的紙幣，終於解除了幣制混亂的局面。」陳奶奶描述的應是下列哪一時期？(A)民國17~26年黃金十年 (B)民國26~34年八年抗戰 (C)民國35~38年國共內戰 (D)民國62~68年十項建設。
47. (B) 小寧對民國6年至17年的政治情勢，做了一些整理，下列哪一個選項，是他最有可能的結論？(A)袁氏稱帝，民主夢碎 (B)軍閥割據，列強干政 (C)黎段爭執，溥儀復辟 (D)實施訓政，十年建設。
48. (A) 小慧回憶起她年輕時所參與的學生運動：「那一年是西元1989年，我與北京的一群大學生聚集在廣場，向政府提出我們希望政治改革的訴求。但是，後來政府卻動用軍隊鎮壓了這場學生運動。」請問：從文中的敘述，小慧提到的事件，發生在附圖中哪個地區？(A)甲 (B)乙 (C)丙 (D)丁。



49. (D) 阿強14歲，父母知道他抽菸習慣，卻從未制止。鄰近的雜貨店也知道阿強未成年，還是賣菸給他。請問：父母與商家的行為，顯然已違反哪項法律的規定？(A)《刑法》 (B)《少年事件處理法》 (C)《社會秩序維護法》 (D)《兒童及少年福利與權益保障法》。
50. (B) 阿明與阿中是同班同學，兩個人在補習回家途中，看見路邊的機車未熄火，臨時起意將它騎走。車主報警後，兩人在回家途中被警方查獲。由於是初犯，依據《少年事件處理法》規定，少年法庭的法官要求雙方父母帶回管教。請問：這裡所指的「少年」是指哪階段？(A)14歲以下 (B)12歲以上未滿18歲 (C)14歲以上未滿18歲 (D)15歲以上未滿20歲。
51. (D) 小陳夫妻開了一家連鎖超商，為了招募工讀生，他們在報紙上刊登徵人啟事。請問：來應徵的眾人中，下列哪個人會被拒絕？(A)剛退伍的宗偉（23歲） (B)高職畢業的緯庭（18歲） (C)高二的學生敬藤（17歲） (D)國二的學生美貞（14歲）。
52. (A) 依據《少年事件處理法》的規定，若少年犯罪情節輕微，將依保護事件處理。請問：下列哪一項不屬於保護事件的處分方式？(A)判處刑罰 (B)保護管束 (C)假日生活輔導 (D)接受感化教育。
53. (D) 阿奇是一位國中生，因家中發生重大變故，以致無法在原本的家庭繼續生活，社會局可依據下列哪種法律的規定，將他安置於寄養家庭？(A)《家庭暴力防治法》 (B)《少年事件處理法》 (C)《社會秩序維護法》 (D)《兒童及少年福利與權益保障法》。
54. (A) 農業科技改良，增加物產種類 (B)國際能源危機，促使物價下跌 (C)戰禍頻繁，導致民間通貨膨脹 (D)社會安定，民生需求日益縮減。
55. (D) 有一部電影劇情如下：「祥子回到故鄉，那裡充斥著『破四舊、立四新』的標語，他看到村長被劃分為『地主』階級而遭受殘酷的公審。後來，祥子的妻子難產，醫院裡的醫生們卻已在『打倒學術權威』的口號下被迫離開……。」這部電影的時空背景最可能是下列何者？(A)國共內戰下的臺灣 (B)軍閥混

戰時期的華北 (C)滿洲國成立後的東北 (D)文化大革命時期的中國。

56. (B) 嘉雯對生物科技發展很感興趣，心想未來複製人若被允許，則有關親屬關係、財產繼承等法律規範勢必需要修訂。若她想了解現行法律的相關規定，應該選讀下列哪一本書籍？ (A)《憲法》 (B)《民法概要》 (C)《著作權法》 (D)《兒童及少年福利與權益保障法》。
57. (B) 我國的各種法規，通常具有保障個人權利或促進社會發展等目的，除此之外，有些法律還有警告、禁止、制裁、指示和輔助等功能。下列我國的哪一種法律是以警告、禁止和制裁的功能為其主要特性？ (A)《民法》 (B)《刑法》 (C)《憲法》 (D)《民事訴訟法》。
58. (D) 下列關於「罪刑法定原則」的敘述，何者正確？ (甲)阿方：「我只要想辦法鑽法律漏洞，不要被抓到就好了！」 (乙)敏淇：「罪刑法定原則的目的在防止政府濫權追訴，也可保障人民的基本權利。」 (丙)小呆：「罪刑法定原則強調犯罪行為應根據行為時的法律，來裁定犯罪行為要受到什麼刑罰。」 (丁)如山：「罪刑法定原則是指不管犯罪與刑罰，一概需要法律上的明文規定；如果法律上沒有明文的處罰規定，則任何行為都不得論罪科刑。」 (A)甲乙丙 (B)甲乙丁 (C)甲丙丁 (D)乙丙丁。
59. (C) 林小姐手術失敗，地方法院法官判決醫師須支付 100 萬元的賠償金，林小姐認為金額太少，她應該到何處上訴？ (A)地方法院 (B)最高法院 (C)高等法院 (D)高等行政法院。
60. (C) 王老闆對欠稅 10 萬元被處以罰鍰一事訴願失敗，他可到何處提起行政訴訟？ (A)地方法院 (B)地方法院行政訴訟庭 (C)高等法院 (D)高等法院。