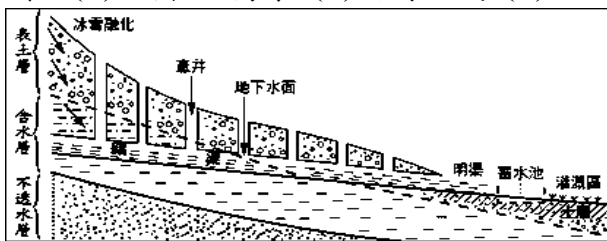
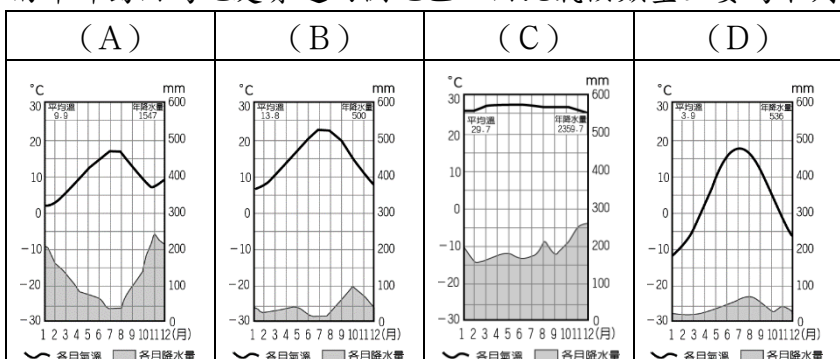


- ( D ) 1. 在孫中山的領導下，革命組織成功推翻了滿清政權，新中國的建立指日可待。請問：上述的革命組織所指為何？  
 (A) 國民黨 (B) 義和團 (C) 興中會 (D) 同盟會。
- ( B ) 2. 民國 8 年的「五四運動」，起因於巴黎和會中，允許何國繼承德國在山東的權利？(A) 英國 (B) 日本 (C) 美國 (D) 蘇聯。
- ( C ) 3. 中共建立政權初期，對內接受下列哪一個國家的援助？(A) 美國 (B) 德國 (C) 蘇聯 (D) 日本。
- ( D ) 4. 上歷史課時，老師在黑板上寫出下列人物：「胡適、陳獨秀、魯迅」。請問：老師上課的主題應是下列何者？  
 (A) 辛亥革命 (B) 五四運動 (C) 二次革命 (D) 新文化運動。
- ( B ) 5. 西安事變發生後，張學良等人曾向全國發出救國主張，其中有一項是希望國民政府停止下列何種軍事行動？  
 (A) 誓師北伐 (B) 圍剿中共 (C) 對抗日本 (D) 二次革命。
- ( A ) 6. 天安門廣場在民國 8 年與 78 年都曾經是重要事件的歷史舞臺，這兩次事件最初都是由哪一群人所推動？  
 (A) 學生 (B) 商人 (C) 婦女 (D) 軍人。
- ( D ) 7. 西元 1976 年，號稱十年災難的文化大革命終於畫下了句點。請問：這場浩劫之所以結束的原因為何？  
 (A) 蔣中正去世 (B) 孫中山上臺 (C) 鄧小平下臺 (D) 毛澤東去世。
- ( B ) 8. 北伐統一後到抗戰爆發前，中國情勢仍然不穩定，內憂外患交迫，其中「內憂」與「外患」主要是指下列何者？  
 (A) 軍閥、俄國 (B) 中共、日本 (C) 軍閥、英國 (D) 滿清、美國。
- ( C ) 9. 韓戰初期，北韓共軍勢如破竹，占領大部分的南韓領土，後來因哪一部隊的介入，才遏止北韓的攻勢？  
 (A) 中共的「志願軍」 (B) 東南亞公約組織 (C) 聯合國 (D) 歐洲聯盟。
- ( B ) 10. 民國初年，軍閥統治期間，軍閥間若發生衝突，他們解決問題的途徑是透過哪一種方式？  
 (A) 由北京政府協商 (B) 以武力解決 (C) 由國會協商 (D) 由列強介入協商。
- ( C ) 11. 孫中山逝世前留下「革命尚未成功，同志仍須努力」的遺囑。請問：他所謂「革命尚未成功」是指下列何者？  
 (A) 滿清尚未推翻 (B) 袁世凱竊國稱帝 (C) 軍閥尚未消滅，全國尚未統一 (D) 二次革命未成功。
- ( A ) 12. 民國 26 年底，美國戰地記者約翰拍攝到日本在中國某地屠殺無辜百姓，甚至舉行殺人比賽，造成極大的傷亡。請問：他拍攝的地點應是中國的哪個城市？(A) 南京 (B) 北京 (C) 重慶 (D) 濟南。
- ( C ) 13. 抗戰後期，由於美國在哪兩地投下原子彈，迫使日本宣布無條件投降？  
 (A) 東京、橫濱 (B) 臺北、東京 (C) 廣島、長崎 (D) 京都、大阪。
- ( A ) 14. 西元 1949 年 10 月 1 日，中華人民共和國政府在下列何處宣告成立？ (A) 北京 (B) 武漢 (C) 南京 (D) 延安。
- ( D ) 15. 雙十國慶日的由來，是祝賀在何地的起義成功，推翻滿清？(A) 南京 (B) 廣州 (C) 北京 (D) 武昌。
- ( D ) 16. 韓國有句俗話說：「泡菜是半個糧食」，餐桌上少不了泡菜，許多家庭更有泡菜專用冰箱，這種飲食習慣主要是配合韓國何項環境特色而形成？(A) 梅雨季長，食物保存不易 (B) 夏季酷熱，食物容易敗壞 (C) 降水量稀少，無法種植蔬菜 (D) 冬季嚴寒，缺乏新鮮蔬菜
- ( C ) 17. 西亞地區氣候乾燥，為了有效利用水源，發展出特殊的灌溉系統如下圖，該水利灌溉系統，主要可在西亞何處看到？(A) 阿拉伯高原 (B) 兩河流域 (C) 伊朗高原 (D) 地中海沿岸



- ( A ) 18. 「♨」此符號代表溫泉，上方畫了三道熱氣，是代表一天當中泡湯的最好時段為：晚餐前、晚餐後，以及睡覺前，總共三次，可以見得日本人非常喜歡泡溫泉。溫泉的形成與日本何項環境條件關係最密切？(A) 處太平洋火環帶 (B) 平原分布於東岸 (C) 屬溫帶季風氣候 (D) 有寒暖流交會
- ( C ) 19. 南洋群島因為地處赤道兩側地區，因此氣候類型主要為下列何者？



- ( C ) 20. 東南亞傳統上由於地理位置的關係，文化發展受到周遭國家的影響極為明顯。其中哪一個國家受中國文化的影響最深？(A) 菲律賓 (B) 印尼 (C) 越南 (D) 泰國

( B )21. 下列有關東南亞熱帶栽培業與當地傳統稻作農業的比較，何者錯誤？

項目	熱帶栽培業	稻作農業
(A)主要產區	熱帶雨林氣候	熱帶季風氣候
(B)種植特色	機械化高	勞力密集
(C)主要特性	經濟作物	糧食作物
(D)主要用途	出口買賣	自給自足

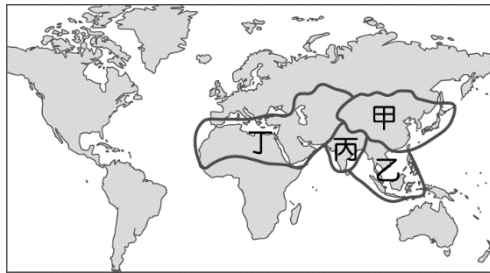
( D )22. 南亞的印度屬於熱帶季風氣候區，當地的氣候特性受到風向的轉換而有不同，其中以下列哪一個季節的氣候最為舒適宜人，成為最佳的旅遊時節？(A)熱季 (B)雨季 (C)乾季 (D)涼季

( B )23. 印度半島的地形區可分為：(甲)喜馬拉雅山(乙)德干高原(丙)印度大平原。若由北向南排列，其正確順序為何？  
(A)甲乙丙 (B)甲丙乙 (C)乙甲丙 (D)丙乙甲。

( C )24. 非洲東北端的蘇伊士運河為世界重要的航運通道，該運河主要為哪兩個海域之間的交通要道？ (A)太平洋、大西洋 (B)太平洋、印度洋 (C)地中海、紅海 (D)大西洋、地中海

( A )25. 西亞與北非的乾燥氣候面積相當廣大，這和下列哪一項因素的關係最為密切？(A)位於副熱帶高氣壓下方 (B)沿岸海域有暖流經過 (C)距海遙遠，水氣難以深入 (D)高山環繞，焚風出現頻仍

( D )26. 世界各地依其區域特色形成不同的文化區，附圖中哪一區的生活方式主要以乾燥氣候下的農牧業活動為主，並且信奉伊斯蘭教，因此劃分為相同區域？(A)甲 (B)乙 (C)丙 (D)丁。



( B )27. 東南亞曾是歐美強權的殖民地，也因此造成了東南亞文化充滿殖民色彩。下列哪個東南亞人文特徵與其殖民歷史較無關連？(A)菲律賓信奉天主教(B)稻田面積廣大(C)多港埠型都市(D)新加坡官方語言為英語

( B )28. 巴勒斯坦被稱為西亞的火藥庫，其原因之一為 1948 年以色列建國之後，形成了哪兩個教派之間的衝突？  
(A)猶太教、基督教 (B)猶太教、伊斯蘭教 (C)猶太教、天主教 (D)基督教、伊斯蘭教。

( A )29. 西亞的石油蘊藏量相當豐富，最主要的產油地區分布於下列何處？ (A)波斯灣沿岸 (B)伊朗高原 (C)地中海沿岸 (D)安納托力亞高原

( D )30. 二次戰後，朝鮮半島分裂成北韓與南韓兩個國家，關於兩國比較下列何者正確？

	南韓	北韓
(A)體制	共產	民主
(B)農業	年僅一穫	年可二穫
(C)礦產	盛產煤鐵	仰賴進口
(D)產業	民生工業	軍事工業

( B )31. 行政法除了規範政府的行為之外，每個人從出生到死亡，許多行為也都會涉及行政法的適用，下列何者屬於「應適用行政法」的事件？ (A)因課業糾紛，某甲唆使某乙打傷同學 (B)駕駛人未通過警察的酒測臨檢而受罰 (C)屋主追討租屋房客所積欠的房屋租金 (D)建商要蓋房子，強制原住戶拆屋還地。

( D )32. 針對公民教育政策的方向，許多學者專家、教師及家長代表均提出自己的見解。請根據下圖討論內容推論，與會者希望將什麼教學目標納入教育政策？ A)讓學生熟悉青少年諮商輔導機制 (B)讓學生了解家庭暴力防治的方法 (C)讓學生認識兒童及少年保護措施 (D)讓學生增進兒童及少年法律常識。



( D )33. 康康在網路上看到一段話，提到權力擁有者常可能有意無意侵犯人民的基本人權，因此「愈擁有別人不懂的專業，愈須謙虛；愈掌有令人敬畏的公權力，愈須謹慎」。依據上述觀點，下面哪一位網友的回應最為適切？ (A)會提起訴訟者一定是權利被侵犯，當司法機關執行公權力時，必須著重在保障原告的權利 (B)司法人員是替天行道，對重大的刑案要限期追訴並速審速決 (C)當犯罪行為極端殘忍，激起廣大民憤時，檢察官在偵查過程時應盡快公開被告

犯行以彰顯正義 (D)當檢警為偵查犯罪而必須進行搜索、監聽時，要在侵害最小且必要的範圍內依法進行。

- ( C ) 34. 青少年的身心尚未成熟，基於保護的目的，其犯罪可以減輕刑責。依據我國《刑法》的規定，符合減輕刑責的年齡範圍為何？ (A)12歲以上，未滿20歲 (B)12歲以上，未滿18歲 (C)14歲以上，未滿18歲 (D)14歲以上，未滿20歲。
- ( A ) 35. 根據《警察職權行使法》的規定，警察行使職權時，應著制服或出示證件表明身分，並應告知事由，警察未依此規定行使職權者，人民得拒絕之。上述內容最主要在強調下列何種法治觀念？ (A)法律規範政府的作為，而人民權利受到法律保障 (B)法律制定生效後，對於違法者即產生約束的作用 (C)行政機關修改不合時宜的命令，以保障人民權利 (D)法律是由民意代表所制定，也是人民意思的展現。
- ( D ) 36. 新聞報導一名70歲的老先生酒駕，被警方攔下後，不僅以言語辱罵對方，還出手攻擊臨檢的員警，事後老先生解釋當時因為喝醉酒而神智不清，所以完全沒有辨識能力，才導致行為不當，但警方仍將他移送法辦。關於老先生所應負擔刑事責任的說明，下列何者正確？ (A)因已經高齡70歲，為限制責任能力人，依法得減輕其刑 (B)因為當時有精神障礙，已沒有辨識能力，不需負擔刑責 (C)其當時已有心智缺陷，只需負擔部分責任並可減輕刑責 (D)雖酒醉但無精神障礙或心智缺陷，須承擔完全刑事責任。
- ( D ) 37. 下列哪些對象為兒童權利公約所宣示保護的對象？ (甲)3歲的小柚子 (乙)13歲的國二生 (丙)滿18歲的高三生 (丁)15歲國中肄業的小非 (戊)7歲還沒辦理入學的阿丁 (己)未滿18歲已在就業的魯魯 (A)甲乙丙丁戊 (B)甲丙丁戊己 (C)乙丙丁戊己 (D)甲乙丁戊己。
- ( C ) 38. 關於行政法的相關規範，下列敘述何者正確？ (A)由行政機關所制定的各種法律和命令，皆可以稱為行政法 (B)為了規範國家行政權如何運作，所制定的法典稱為行政法 (C)《社會秩序維護法》、《道路交通管理處罰條例》屬行政法的範疇 (D)主要目的是為了讓政府依法行使權利、人民依法承擔義務。
- ( A ) 39. 立晨因故與他人發生紛爭，接到一份調解通知書，下列何者最有可能是立晨發生的紛爭內容？ (A)車禍損害事件 (B)殺害他人性命 (C)財物遭人竊取 (D)不服酒駕罰單
- ( D ) 40. 下圖是對於我國憲法、法律與命令的介紹，下列敘述何者正確？ (A)該介紹呈現出憲法的穩定性 (B)三者皆須經立法院三讀通過 (C)命令是由司法機關制定而成 (D)命令可用來補充和落實法律。

憲法是我國所有法律的根源，法律必須基於憲法的精神與內容制定，而命令也必須遵守法律規定，因此法律和命令不得牴觸憲法，命令也不可以牴觸法律，如果牴觸則無效。

- ( D ) 41. 小康喜歡和朋友高歌一曲紓解壓力，某日小康在家裡忘我的唱歌直到深夜，嘹亮的歌聲在社區中迴響，鄰居不堪其擾而向警方報案，警方獲報後到場制止小康並科以罰鍰。針對此狀況，下列相關敘述何者正確？ (A)在家唱歌是小康的自由權，警察不得處罰 (B)警察對小康科以罰鍰已違反依法行政原則 (C)警察對小康科的罰鍰是給鄰居的金錢賠償 (D)警察須依照法律規定才能對小康科以罰鍰。
- ( C ) 42. 下圖是阿布在公民與社會課教到「犯罪與刑罰」時所做的筆記，但其中一處他剛好分心沒聽到老師的說明，請依照筆記內容，幫阿布找出空格中的正確答案。 (A)權力分立 (B)監督制衡 (C)罪刑法定 (D)以暴制暴。

【           】原則：  
1.國家行使刑罰權時須遵守的原則。  
2.強調犯罪和處罰都須有法律明文規定。  
3.刑法的最高原則。

- ( C ) 43. 某天晚上，庭華在開車回家的路上，因為大雨視線不良，不小心把一位闖紅燈的老太太撞成重傷，經過調查後，檢察官依過失重傷罪將庭華起訴，因此庭華便委託律師進行辯護。請依上文判斷，下列敘述何者正確？ (A)老太太

在本案的身分是原告 (B)對庭華提起訴訟的人是法官 (C)庭華的律師在法庭上擔任的角色是代表被告 (D)最後決定庭華是否應負刑事責任的人是書記官

- ( C ) 44. 某立法委員於立院發表質詢內容如下圖。請問該立委所稱之法規，最有可能為下列何者？ (A)兒童權利宣言 (B)少年事件處理法 (C)兒童權利公約施行法 (D)兒童及少年福利與權益保障法。

行政院雖然依法成立「兒童及少年福利與權益推動小組」，但其組成成員是否也應考慮納入 6~18 歲的兒童及少年代表？讓兒少有權針對影響自己的事務自由表達意見，更能實踐保護兒少的精神。

- ( A ) 45. 大學生辰洋未經過珊珊同意就私自使用珊珊的手機，結果不慎將手機摔落地面，造成螢幕破裂。下列何者為辰洋應承擔的民事責任及方式？ (A)侵權行為、損害賠償 (B)侵權行為、解除契約 (C)債務不履行、損害賠償 (D)債務不履行、解除契約