

7 下社會領域地理科 補考題庫(請好好研讀!)

一、單題

1. (A) 附圖是臺灣某博物館的宣傳海報，這海報的出現代表機關開始對臺灣哪個人文議題的重視？



- (A)多元族群 (B)節慶祭典 (C)性別平等 (D)教育普及。
2. (C) 清帝國時期有大批漢人從中國東南沿海省分渡海來臺開墾，這一現象對臺灣人口數量的成長而言，是屬於怎樣的變化？
- (A)自然增加為正值 (B)自然增加為負值 (C)社會增加為正值 (D)社會增加為負值。
3. (A) 下表為 2010 年臺灣北、中、南、東四大區域的產業人口比例，其中何者為北部區域？【105 年會考】

產業 \ 區域	甲	乙	丙	丁
第一級產業	1	15	7	9
第二級產業	34	23	36	40
第三級產業	65	62	57	51

單位：%

- (A)甲 (B)乙 (C)丙 (D)丁。
4. (A) 附表是亞米國四個港口對外輸出額與其所創造就業機會的統計表。根據表中內容推斷，哪一個港口對亞米國的經濟發展最有貢獻？

港口	輸出值 (百萬元)	創造就業機會 (個)
加德港	52,251	1,045,013
蒙馬港	17,353	347,098
里昂港	15,714	358,276
普羅港	9,180	183,597

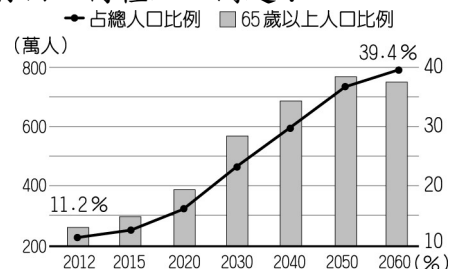
(A)加德港 (B)蒙馬港 (C)里昂港

(D)普羅港。

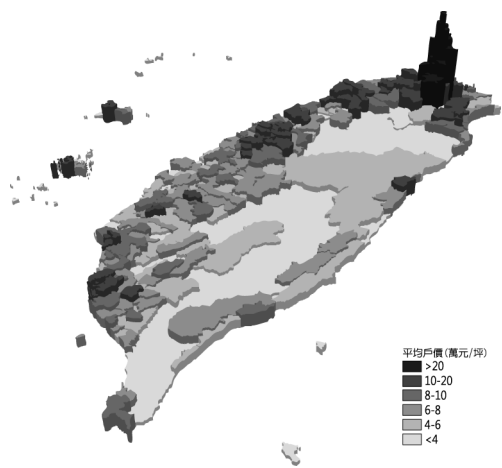
5. (B) 王老師觀察臺灣的漁業活動分布地區，若由沿海向海洋延伸過去，依作業地區的距離遠近，由近至遠依序應為下列何者？
- (A)近海漁業、沿岸漁業、遠洋漁業
(B)沿岸漁業、近海漁業、遠洋漁業
(C)近海漁業、遠洋漁業、沿岸漁業
(D)遠洋漁業、沿岸漁業、近海漁業。
6. (C) 隨著經濟的發展，消費市場也跟著轉變，因此畜牧業等相關產品市場需求量大幅上升。請問：下列四種常見的畜牧方式中，哪一項為臺灣畜牧業的主要型態？

	畜牧方式
甲	逐水草而居，須經常移動尋找天然牧草。
乙	在水草豐美、面積廣大的牧場內放養牛、馬。
丙	將牲畜養在欄舍內，並定時餵以飼料。
丁	山坡草地野放牛隻，隨季節變化而上、下山。

- (A)甲 (B)乙 (C)丙 (D)丁。
7. (C) 附圖為我國國家發展委員會的臺灣老年人口比例統計與預估圖，由圖推測，臺灣將面臨何種人口問題？




- (A)人口成長快速 (B)人口分布不均
(C)扶養比增加 (D)人口集中。
8. (A) 政府相關單位在推廣建國百年的活動時，由於下列哪一個區域的原住民族比例最高，富有珍貴的傳統文化，因此將當地列為重要的文化體驗區，積極向世界各地推廣？
- (A)東部區域 (B)北部區域 (C)中部區域 (D)南部區域。
9. (D) 附圖為臺灣的房價分布圖，請試由圖中資料判斷，房價的高低和下列何者關係最為明顯？



- (A)面積大小 (B)降水量多寡
(C)地勢高低 (D)工商發展。

10. (D) 如果用附圖水池裡進水與出水的情形，來比喻一個地區人口數量的變化，下列敘述哪一項最正確？〔93.第一次基測〕



- (A)人口成長只受到進水量的影響
(B)人口增加表示排水量大於進水量
(C)人口減少表示進水量大於排水量
(D)人口總數不變表示進水量等於排水量。

11. (D) 電腦的發明，造成工業生產自動化，產量大幅提高。請問：這種科技的發展，主要會降低哪一項生產因素的成本？〔95.第一次基測〕

- (A)原料 (B)動力 (C)市場
(D)勞工。

12. (D) 鄉土學專家阿笠博士說：「這裡早期水源缺乏，居民集中開墾，因而聚落型態呈現房舍比較集中的景觀。」阿笠博士所介紹的最可能是下列哪一地區？

- (A)臺東綠島 (B)宜蘭平原 (C)新竹丘陵 (D)嘉南平原。

13. (A) 「每年春季，飛魚群會隨著暖流來到臺灣附近海域，此時居住在該海域島嶼上的達悟族人會舉行招魚祭，之後才開始捕捉魚，剛開始僅限於在夜間以燈光誘捕，至夏季時才可在白天捕捉飛魚。」上文中的「暖流」是指下列何者？

- (A)黑潮 (B)親潮 (C)中國沿岸流
(D)北太平洋暖流。

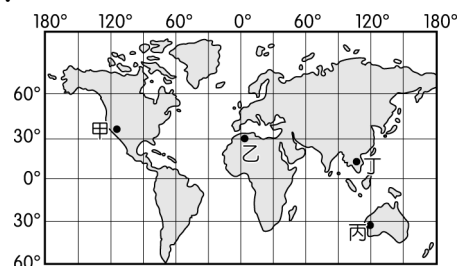
14. (C) 在臺灣工業發展的歷程中，依賴港口運輸原物料的重工業扎根在高雄，使其成為鋼鐵、石化工業的重鎮，亦曾締造世界第三大貨櫃港的紀錄，擁有「港都」的美譽。重工業相關產業選擇在高雄港附近設廠的原因，與何種工業區位條件有關？

- (A)原料 (B)動力 (C)交通
(D)勞工。

15. (C) 日治時期，製糖株式會社利用小火車（俗稱五分車）將蔗農採收的甘蔗直接運到糖廠加工，依據糖廠的設廠區位判斷，當時哪一區的五分車分布最密集？

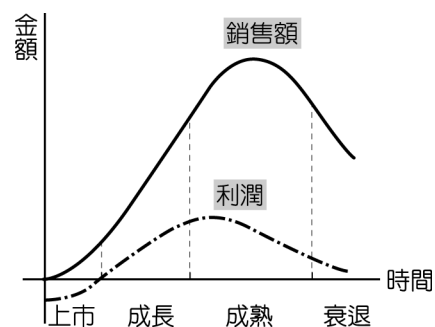
- (A)埔里盆地 (B)新竹丘陵 (C)嘉南平原 (D)臺北盆地。

16. (D) 臺灣近年來由於人口結構的變化，有許多來自世界各地的居民移入，形成多元化的特色。請問：目前遷移來臺定居的新住民而言，以附圖中何處的比例最高？



- (A)甲 (B)乙 (C)丙 (D)丁。

17. (A) 工業產品的生命週期如附圖所示，大概可分為四個階段。其中成長期的產品銷量雖未達高峰，然而因為價格較貴，故單位利潤最高，所以主要多位於產品接受度較高的歐美國家生產，此時其工業區位條件最可能為下列何者？



- (A)市場趨向 (B)政策優惠 (C)交通便捷 (D)勞工眾多。

18. (A)

新加坡是一個都市國家，只有郊區沒有鄉村。新加坡位處熱帶雨林氣候區，終年高溫多雨，但7~8月的氣溫，卻沒有像臺北這麼炎熱，很大的原因，要歸功都市綠化成功。

新加坡規畫道路時，預留很大的空間，種植行道樹。不只是綠化，地狹人稠的新加坡還設立自然保護區，推動都市的生物多樣性。

另外，位於郊區的新市鎮，透過完善規畫的大眾交通工具與市區聯絡，降低民眾開車需求，並透過收取高額汽車稅及汽車牌照管制等措施，減少汽車數量，解決塞車問題並降低空氣汙染。創造一個人民生活與生態保育兼顧的「花園都市」。

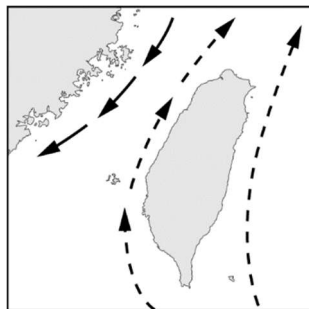
文中提及新加坡對汽車的限制，下列關於公路運輸的敘述何者正確？

- (A)機動性較高 (B)費用較低廉
(C)載重量較大 (D)汙染度較低。

19. (D) 1997 年以前，豬肉曾是臺灣最大宗的出口畜產品，也是全球第 2 大豬肉出口國，後來因「口蹄疫」爆發而被限制出口，退出國際市場；經過 21 年持續施打疫苗，直至 2020 年世界動物衛生組織才將臺灣從疫區除名，之後外銷產值每年超過新臺幣 8 億元。目前也為了防堵國際間致死率達 100% 的非洲豬瘟入侵，限制國人攜帶豬肉製品入境。臺灣豬隻容易受到傳染病的威脅，與下列何種環境特色有關？

- (A)降水量不足 (B)季風的吹拂
(C)農業技術差 (D)以欄牧為主。

20. (D) 洋流帶來魚群，有利於漁業活動的進行。附圖為臺灣附近洋流的分布情形，依圖中內容判斷，在下列何處海域最容易因為洋流交會，形成主要的漁場？



- (A)黃海海域 (B)太平洋上 (C)巴士海峽 (D)臺灣海峽。