

一、單一選擇題（每題5分，共100分）

- 1.() 南韓隊到臺灣來參加國際比賽時，總是會攜帶具有家鄉味的食物，尤其是泡菜更是不可缺少。請問：南韓當地盛行食用該食物的主要原因為何？ (A)土壤貧瘠 (B)氣候嚴寒 (C)降水量少 (D)地形崎嶇。

解析：和當地冬季氣候嚴寒不利種植蔬菜有關。

答案：(B)

- 2.() 在全球化趨勢下，日本的經濟發展正面臨其他國家競爭。請問：該國目前的工業發展方向主要為下列何者？ (A)高勞力工業 (B)低成本工業 (C)高附加價值工業 (D)原物料開採工業。

解析：日本在第二次世界大戰後憑藉創新研發能力與技術優良的勞工，生產高附加價值產品行銷全球。

答案：(C)

- 3.() 隨著薪資高漲及人口老化，日本為降低生產成本，將部分產業移至下列哪些工資較低廉的國家？ (A)中國、東南亞 (B)南韓、東南亞 (C)中國、南韓 (D)中國、印度。

解析：中國及東南亞等國家的工資較低廉。

答案：(A)

- 4.() 曉明的親戚裴帥在南韓的三星企業上班，優渥的待遇及福利，使得他在工作之餘無任何的後顧之憂。請問：裴帥最可能是下列哪一個產業的從業人員？ (A)農產加工業 (B)紡織業 (C)金融業 (D)科技業。

解析：三星屬於科技業為主。

答案：(D)

- 5.() 鄭和奉命下西洋時，由中國沿海出發，順風而下來到了東南亞地區，並在當地留下了許多遺跡。請問：當時他最可能在什麼季節出發，並順風來到了東南亞？ (A)春季 (B)夏季 (C)秋季 (D)冬季。

解析：冬季盛行東北季風，利於船隻前往位於中國南方的東南亞。

答案：(D)

- 6.() 南洋群島的東印度群島橫跨赤道兩側，其氣候類型應該為下列何者？ (A)熱帶季風氣候 (B)熱帶莽原氣候 (C)熱帶雨林氣候 (D)熱帶沙漠氣候

解析：(C)赤道附近屬於熱帶雨林氣候。

答案：(C)

- 7.() 東協國家近年的經濟發展相當迅速。請問：東協國家發展工業的優勢為何？甲、便宜的勞動力；乙、豐富的資源；丙、完善的交通；丁、高科技技術 (A)甲乙 (B)乙丙 (C)丙丁 (D)甲丁。

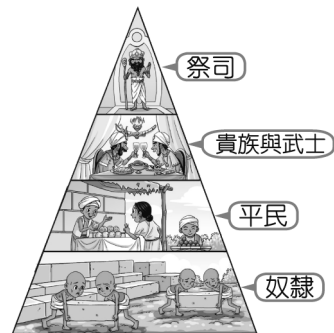
答案：(A)

- 8.() 小李放假時看到電視正在介紹印度之旅，尤其泰姬瑪哈陵的壯麗景觀更是令其嚮往。請問：在下列何時前往印度最為涼爽舒適？ (A)4月 (B)6月 (C)9月 (D)1月。

解析：11月～隔年2月為涼季。

答案：(D)

- 9.() 附圖是印度的某種制度，圖中四種階級彼此不通婚，身分、職業世襲。此制度應為何？



- (A)種族 (B)種姓 (C)井田 (D)莊園。

解析：附圖是印度的種姓制度，四種階級彼此不通婚，身分、職業世襲。

答案：(B)

- 10.() 印度寶萊塢電影近年來在臺灣的票房以「救救菜英文」的票房最佳，從電影中可以看到印度當地因為通行英文，因此促成了何種產業活動的發展？ (A)汽車工業 (B)紡織工業 (C)軟體工業 (D)石化工業。

解析：印度通行英文，有利軟體工業發展。

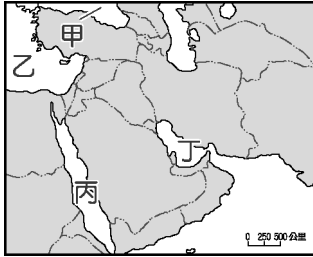
答案：(C)

- 11.() 人地關係出現問題時，容易形成環境問題。哪一種氣候區的土地過度開發利用時，最可能出現土壤鹽鹼化的現象？ (A)溼潤氣候 (B)寒帶氣候 (C)高地氣候 (D)乾燥氣候。

解析：(D)乾燥氣候過度開發，會導致土壤鹽鹼化。

答案：(D)

- 12.() 西亞四周為各海域所包圍，對其交通的影響甚大，如地中海即為西亞和南歐國家的主要航運路線。請問：該海域位於附圖中何處？



- (A)甲 (B)乙 (C)丙 (D)丁。

解析：甲為黑海，乙為地中海，丙為紅海，丁為波斯灣。

答案：(B)

- 13.() 隨著運輸技術的進步，人口的移動為便捷，促使國際勞工遷徙日益頻繁。埃及可憑藉宗教文化類似和語言相同的優勢，大量輸出勞工至下列何地？〔106.會考〕 (A)北美 (B)東亞 (C)西亞 (D)西歐。

解析：埃及宗教為伊斯蘭教，語言為阿拉伯語，與西亞相同。

答案：(C)

- 14.() 酒雖作為全球重要的飲品之一，但在某些地區，因為宗教或政治等因素是禁止製酒、賣酒或飲酒的，例如穆斯林禁止飲酒，因此在伊斯蘭世界多以法律明文禁止買賣酒類。根據上文判斷，下列哪個國家的酒類消費量可能最低？ (A)印度 (B)加拿大 (C)西班牙 (D)沙烏地阿拉伯。

解析：伊斯蘭教禁止製酒，所以酒類消費量最低。(A)印度多信奉印度教；(B)加拿大多信奉基督教；(C)西班牙多信奉天主教；(D)沙烏地阿拉伯多信奉伊斯蘭教。

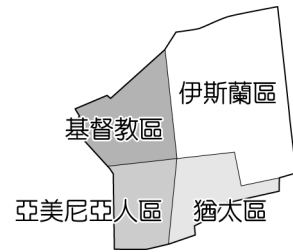
答案：(D)

- 15.() 「傳統的游牧生活鍛鍊他們堅毅的性格，禁食豬肉及喝酒戒律讓他們更加自律，作為伊斯蘭教的信徒，宗教戒律是唯一的生活規範。」請問：上文所敘述的是哪一個地區居民的生活特徵？ (A)東亞 (B)北亞 (C)南亞 (D)西亞。

解析：西亞以游牧為主，多信奉伊斯蘭教。

答案：(D)

- 16.() 附圖是某個都市舊城區圖，由圖中內容判斷，最可能是指下列哪一個都市？



- (A)參加 (B)麥地那 (C)巴格達 (D)耶路撒冷。

解析：由三種宗教（猶太教、基督教、伊斯蘭教）聚集可知是耶路撒冷。

答案：(D)

- 17.() 西亞的石油蘊藏量相當豐富，最主要的產油地區分布於下列何處？ (A)伊朗高原 (B)波斯灣沿岸 (C)地中海沿岸 (D)安納托力亞高原。

解析：西亞石油蘊藏量相當豐富，其中以波斯灣沿岸最為豐富。

答案：(B)

- 18.() 全球各大都市常會興建高塔作為地標，吸引許多觀光客前來。南韓首爾也不例外，首爾塔常出現在許多韓劇中，聽說在天氣好的時候，利用望遠鏡向西方可遠眺哪一個海洋？ (A)太平洋 (B)黃海 (C)日本海 (D)南海。

解析：(B)朝鮮半島西側緊鄰黃海。

答案：(B)

- 19.() 附圖為日本板塊位置示意圖，請問：這種地理位置對日本所造成的影響不包括下列何者？

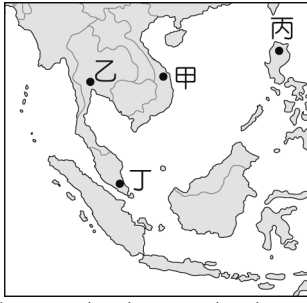


- (A)泡湯文化盛行 (B)山多平原少 (C)地震活動頻繁 (D)海岸線狹長。

解析：圖中顯示海陸板塊接觸位置，主要造成相關的地質活動，對於海岸線長短沒有影響。

答案：(D)

- 20.() 我國政府在2016年推動「新南向政策」，擴大與東南亞國家協會、南亞等國的經貿、產業等往來，希望為臺灣的經濟開創新局面。其實，附圖中東南亞的哪一個國家，由於風俗習慣和我國較為接近，派遣員工的適應情況良好，早已成為臺商投資重鎮？



(A)甲 (B)乙 (C)丙 (D)丁。

解析：(A)甲為越南，受中華文化的影響較深，因此生活習慣和我國較為相近。

答案：(A)