

一、單一選擇題 (每題3分,共99分)

- 1.() 電視劇《大長今》上映時曾掀起一股飲食風潮，泡菜、人蔘等食材大受歡迎。請根據其飲食特色加以判斷，該劇最可能呈現出哪一國的文化特色？ (A)南韓 (B)泰國 (C)美國 (D)日本。

答案：(A)

解析：由「泡菜、人蔘」判斷是南韓。

出處：試題

- 2.() 現居臺中的張爺爺，年輕時在上海是位理髮師。他回憶：局勢動盪後，理一次髮原本是55元，不到一個月理髮價已是550元，再隔一個月，必須收費1,260元，才能維持基本生計。請問：張爺爺年輕時所遇到的情況是？ (A)民國創立初期貨幣混亂 (B)北伐時期貨幣貶值 (C)國共內戰激化導致通膨 (D)美國斷交貨幣貶值。(4-3)

答案：(C)

出處：習作

- 3.() 一對夫妻正在聊天，如附圖所示。他們談論的主題與下列何者最相關？



- (A)檢察官的審判 (B)警察的職權 (C)報案的流程 (D)刑罰目的與種類。

答案：(B)

解析：警察協助檢察官偵查犯罪，起訴與否，由檢察官決定。

出處：試題

- 4.() 目前南韓的經濟活動相當發達，尤其在大型企業的主導下，競爭力更為強勁。請問：下列哪一個企業為南韓的大型財團，單一公司的營收占全國GDP的12%？ (A)SONY(索尼) (B)APPLE(蘋果) (C)SAMSUNG(三星) (D)PHILIPS(飛利浦)。

答案：(C)

解析：(C)三星為南韓大型財團。

出處：試題

- 5.() 導遊向遊客介紹某國：「它位於朝鮮半島，其娛樂產業蓬勃發展，電影、電視劇、偶像團體在各國熱賣，吸引許多外國觀光客來影劇拍攝場景朝聖。」導遊敘述的國家為下列何者？ (A)北韓 (B)日本 (C)中國 (D)南韓。

答案：(D)

解析：位於朝鮮半島的是北韓和南韓，但北韓只投入國防工業，較不重視民生工業。

出處：試題

- 6.() 小亭參加旅行社的馬來西亞五日遊，下列為這趟旅遊的行程說明資料，其中何者可能有誤？ (A)參觀當地的熱帶栽培業採收過程 (B)前往當地煉油廠參觀 (C)到全國盛行的佛教寺廟祈福 (D)清真寺的信徒禁食豬肉。

答案：(C)

解析：馬來西亞當地的宗教以伊斯蘭教為主。

出處：試題

- 7.() 東南亞的人口增加速度相當快，目前僅次於中國及印度，已成為世界第三大人口地區，其聚落發展及型態亦隨之改變。附圖為該地區的相關資料，影響其變化的主要原因為下列何者？

2010至2014年都市化率(%)

國家	2010年	2011年	2012年	2013年	2014年
泰國	44	45	47	48	49
越南	30	31	32	32	33
緬甸	31	32	32	33	34
柬埔寨	20	20	20	20	21
老撾	33	34	35	36	38

- (A)都市出生率逐年增加 (B)都市生活空間較大 (C)都市經濟發展快速 (D)都市交通順暢便利。

答案：(C)

解析：東南亞國家的都市發展相當快速，提供大量就業機會，因此吸引人口移入，導致各國都市化比例逐年增加。

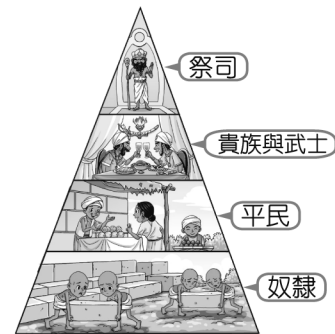
出處：素養題

- 8.() 東協國家近年的經濟發展相當迅速。請問：東協國家發展工業的優勢為何？甲、便宜的勞動力；乙、豐富的資源；丙、完善的交通；丁、高科技技術 (A)甲乙 (B)乙丙 (C)丙丁 (D)甲丁。

答案：(A)

出處：習作

- 9.() 附圖是印度的某種制度，圖中四種階級彼此不通婚，身分、職業世襲。此制度應為何？



- (A)種族 (B)種姓 (C)井田 (D)莊園。

答案：(B)

解析：附圖是印度的種姓制度，四種階級彼此不通婚，身分、職業世襲。

出處：試題

- 10.() 位於恆河口的孟加拉及其比鄰的印度阿薩姆邦，兩區的降水量皆相當豐沛，但經濟作物卻不同，孟加拉以黃麻為主，阿薩姆邦則以茶葉為重。造成兩地區作物差異的主因為何？ (A)地形 (B)交通 (C)勞工 (D)資金。

答案：(A)

解析：茶葉分布於丘陵地區，而黃麻則主要生長於平原地區。

出處：試題

- 11.() 隨著運輸技術的進步，人口的移動為便捷，促使國際勞工遷徙日益頻繁。埃及可憑藉宗教文化類似和語言相同的優勢，大量輸出勞工至下列何地？〔106.會考〕 (A)北美 (B)東亞 (C)西亞 (D)西歐。

答案：(C)

解析：埃及宗教為伊斯蘭教，語言為阿拉伯語，與西亞相同。

出處：各章節基會試題

- 12.() 酒雖作為全球重要的飲品之一，但在某些地區，因為宗教或政治等因素是禁止製酒、賣酒或飲酒的，例如穆斯林禁止飲酒，因此在伊斯蘭世界多以法律明文禁止買賣酒類。根據上文判斷，下列哪個國家的酒類消費量可能最低？ (A)印度 (B)加拿大 (C)西班牙 (D)沙烏地阿拉伯。

答案：(D)

解析：伊斯蘭教禁止製酒，所以酒類消費量最低。(A)印度多信奉印度教；(B)加拿大多信奉基督教；(C)西班牙多信奉天主教；(D)沙烏地阿拉伯多信奉伊斯蘭教。

出處：各章節基會試題

- 13.() 附圖是某個都市舊城區圖，由圖中內容判斷，最可能是指下列哪一個都市？



- (A)麥加 (B)麥地那 (C)巴格達 (D)耶路撒冷。

答案：(D)

解析：由三種宗教（猶太教、基督教、伊斯蘭教）聚集可知是耶路撒冷。

出處：試題

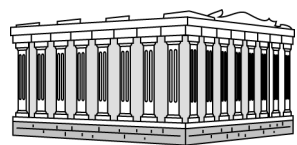
- 14.() 西亞的石油蘊藏量相當豐富，最主要的產油地區分布於下列何處？ (A)伊朗高原 (B)波斯灣沿岸 (C)地中海沿岸 (D)安納托力亞高原。

答案：(B)


解析：西亞石油蘊藏量相當豐富，其中以波斯灣沿岸最為豐富。

出處：試題

- 15.() 佩貞到世界各地旅遊，拍下許多照片給親友共賞。以下的四張照片，何者是尼羅河流域的古蹟？ (A)



(C)



(D)



答案：(D)

解析：(A)為希臘雅典的神殿；(B)為中國敦煌石窟；(C)為柬埔寨吳哥窟；(D)為尼羅河流域，埃及著名的獅身人面像與金字塔。

出處：試題

- 16.() 某位歷史學者指出，在這場發生於歐洲的大戰中，英軍自中國招募了近 10 萬人，法軍則招募了 4 萬人，這些人多數是不識字的農民或貧民，也有少數知識分子。請問：這場大戰，最有可能爆發於下列哪

個時期呢？ (A) 1810 年代 (B) 1850 年代 (C) 1910 年代 (D) 1950 年代。(1-3)

答案：(C)

出處：習作

- 17.() 中國近代史上某一時期，曾有教授和大學生主張以口語化的新文學取代舊式古典文學，並有意識地反對許多傳統觀念與習俗，將婦女從傳統束縛中解放出來。這樣的主張應出現於下列何時？ (A) 自強運動 (B) 百日維新 (C) 立憲運動 (D) 新文化運動。(2-1)

答案：(D)

出處：習作

- 18.() 在「舊傳統與新思潮」單元上完後，如果想了解更多新文化運動的相關內容，應優先查閱下列哪項刊物？ (A) 申報 (B) 新青年 (C) 萬國公報 (D) 點石齋畫報。(2-1)

答案：(B)

出處：習作

- 19.() 北伐完成後，國民政府宣布正式進入「以黨治國」的訓政時期。請問：這裡的黨是指下列何者？ (A) 中國共產黨 (B) 中國國民黨 (C) 民主進步黨 (D) 同盟會。

答案：(B)

解析：由國民黨一黨執政。

出處：試題

- 20.() 日本在第二次世界大戰前夕，國內軍國主義勢力抬頭。請問：下列何者和當時風氣無關？ (A) 提倡文人治國 (B) 擴充軍備 (C) 兒童進行軍事操練 (D) 侵略中國。

答案：(A)

解析：軍國主義以擴充軍備、侵略戰爭作為國家發展的優先理念，一切的政府施政和國民生活都要優先服從這個目標。

出處：試題

- 21.() 靜怡在書中看到一段話：「民國 20 年，日軍自行炸毀瀋陽附近的一段鐵路，然後藉口是中國軍隊所為，立即發兵進占東北。由此可知日本對中國的侵略野心。」以上的內容，敘述的應該是下列哪一事件的發生經過？ (A) 牡丹社事件 (B) 西安事變 (C) 九一八事變 (D) 滿洲國成立。(3-2)

答案：(C)

出處：習作

- 22.() 第二次世界大戰結束後，聯合國成立，為了避免再度發生類似二次大戰的大規模戰爭，聯合國成立安全理事會，可對破壞和平的國家出兵制裁，並設置五個常任理事國擁有否決權。請問：下列何者不是五個常任理事國之一？ (A) 日本 (B) 法國 (C) 蘇聯 (D) 中國。

答案：(A)

解析：安理會常任理事國有中、美、英、蘇、法五國。

出處：試題

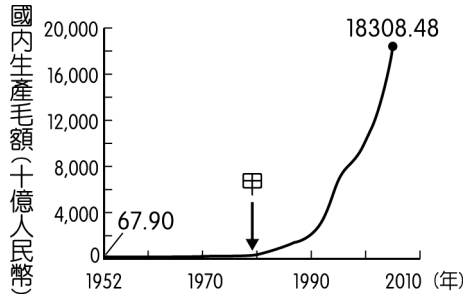
- 23.() 「國民政府宣布將遷都□□，以西南各省做為抗戰大後方，並利用中國廣土眾民的條件，制定長期抗戰方針。」請問：□□是指哪一個都市？ (A) 南京 (B) 成都 (C) 重慶 (D) 北平。(4-1)

答案：(C)

出處：習作

- 24.() 附圖呈現中國 1952 年至 2005 年國內生產毛額的數據資料。圖中曲線從甲處後有明顯變動的情況，最

可能與下列何者有關？〔102.基測〕



(A) 利用韓戰爆發契機，提高進口關稅 (B) 大躍進提倡生產，民眾盡全力煉鋼 (C) 發動文化大革命，進行全面的改造 (D) 實施改革開放政策，引進外來資金。

答案：(D)

解析：甲的時間點是文革後，鄧小平推動改革開放的時間，引進外來資金。

出處：各章節基會試題

25.() 毛澤東執政時，喊出經濟上「超英趕美」的口號，在外交上逐漸則想擺脫下列哪個國家的約束呢？(A) 美國 (B) 蘇聯 (C) 英國 (D) 法國。(5-1)

答案：(B)

出處：習作

26.() 二十世紀起，美國積極介入國際事務。1950年代起，東亞某一場以美軍為主力的軍事行動中，美國除了原子彈沒有動用外，幾乎把當時的尖端武器如直升機等都用了，也付出三十多萬傷亡的代價，最終還是被迫撤離。請問：這場軍事行動的地點，最有可能是下列何地？(A) 朝鮮半島 (B) 菲律賓 (C) 越南 (D) 泰國。(6-1)

答案：(C)

出處：習作

27.() 1950年代起，美國因應共黨國家在東亞的擴張，聯合友好國家採取圍堵政策。請問：下列選項中，何者是圍堵政策的產物？(A) 不結盟運動 (B) 雅爾達密約 (C) 東南亞公約組織 (D) 東南亞國家協會。(6-2)

答案：(C)

出處：習作

28.() 公民老師為今天的上課內容準備了四張海報，如附圖。請問：老師介紹的主題應與下列哪一法律有關？



(A) 《憲法》 (B) 《民法》 (C) 《性別工作平等法》 (D) 《社會秩序維護法》。

答案：(B)

解析：圖中生兒育女、遺產繼承屬於《民法》規範的私人間身分上的權利義務關係；交易買賣、簽訂契約則屬於《民法》規範的私人間財產上的權利義務關係。

出處：試題

29.() 下列關於調解的敘述，何者正確？(A) 調解是由各地區警察局受理 (B) 調解委員必須具備法官的資格 (C) 侵權行為引發的糾紛，可以透過調解來解決 (D) 調解與私下和解的效力，均與法院判決相同。

答案：(C)

出處：習作

30.() 碧舜在個人網誌上發文，依照內容所述，對於他行為的界定，下列何者正確？

動態更新

我才剛考到駕照，昨天就被警察攔下來說我違反《道路交通管理處罰條例》，並訓斥我騎車超速很危險，還開了一張罰單給我。這樣我算不算犯罪？

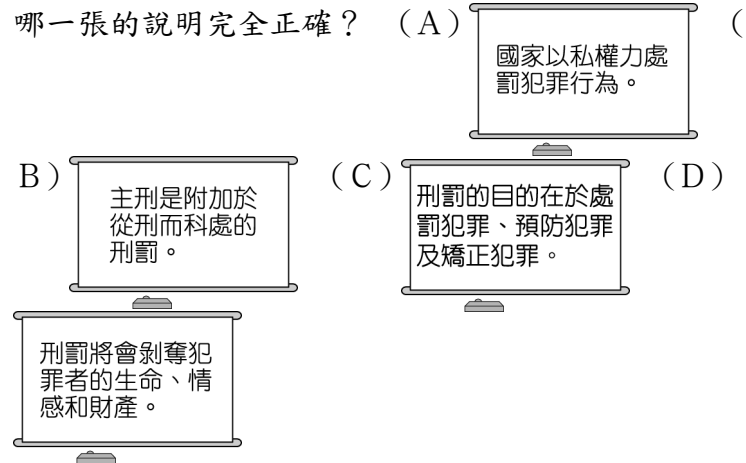
(A) 只有違法，沒有犯罪 (B) 只有犯罪，沒有違法 (C) 並不違法，也不屬於犯罪 (D) 不僅違法，而且屬於犯罪。

答案：(A)

解析：內容只提到違反交通法規，但沒有構成犯罪要件。

出處：試題

31.() 晉澤欲在課堂上介紹我國的刑罰，下列投影片中，哪一張的說明完全正確？(A)



答案：(C)

解析：(A) 應為「公權力」(B) 從刑附加於主刑科處(D) 剝奪犯罪者的自由、財產或生命。

出處：試題

32.() 警方破獲犯罪集團，落網的成員名單如下。根據《刑法》，成員中有哪幾位得減輕處罰？

名單	
甲、劉○榮 14 歲	丁、王○芳 15 歲
乙、花○鳳 17 歲	戊、蔡○吉 19 歲
丙、駱○城 25 歲	

(A) 甲乙丙 (B) 丙丁戊 (C) 甲乙丁 (D) 乙丁戊。

答案：(C)

解析：14 歲以上未滿 18 歲者為限制責任能力人，得減輕處罰。

出處：試題

33.() 阿康每年均依照規定繳稅，而臺北市國稅局卻通知他補繳前年的所得稅，阿康對這樣的行政處分不服氣。在法律上阿康可依什麼途徑來保障自己的權利？(A) 向市政府提出民事訴訟 (B) 向立法院請願 (C) 向法院提刑事訴訟 (D) 向財政部提起訴願。

答案：(D)

解析：阿康不服臺北市國稅局的行政處分，可依法向其上級機關(財政部)提起訴願，請求撤銷或變更原處分。

出處：試題