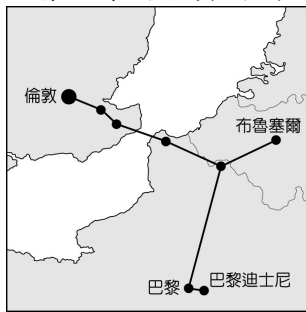


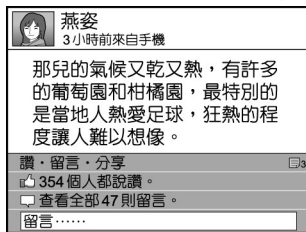
一、單一選擇題 (1~32 題每題 3 分，第 33 題 4 分。共 100 分)

- 1.(B) 英國的汽車相關產業勞工高達 82 萬人，對英國經濟貢獻良多。目前有跨國企業揚言將取消英國的汽車生產基地，是因英國退出歐盟後將會失去下列何項優勢？ (A)不再使用歐元為英國貨幣 (B)與歐盟成員國貿易不再免關稅 (C)歐盟總部將由英國倫敦移往他處 (D)英國工業產品規格會與歐陸不同。
- 2.(B) 東歐的範圍北起波羅的海，東南濱臨黑海，有許多國家分布在此。請問：目前多將這些國家合併畫為同一地理區最主要的理由為下列何者？ (A)自然環境平坦，往來交通無阻礙 (B)歷史上曾為共產國家，限制各國經濟發展方向 (C)多信仰伊斯蘭教，生活作息一致 (D)多為單一族群，少有戰亂。
- 3.(D) 進入 21 世紀後，人口結構對於各國的發展影響漸大，因此受到全球重視。請問：北歐各國引以為傲的社會福利政策目前備受考驗，是受到哪一人口問題的影響？ (A)幼兒出生率居高不下 (B)社會增加率大幅上升 (C)人口性別比不平均 (D)人口組成漸趨高齡化。
- 4.(A) 臺灣電子大廠鴻海在 2000 年即前往捷克投資生產，更在 2002 年完成新廠房的擴建，成為歐洲市場的蘋果電腦生產基地。請問：鴻海公司前往捷克設廠的主要原因為何？ (A)勞資便宜、關稅優惠 (B)研發重鎮、技術進步 (C)氣候優良、位置適中 (D)技術進步、資金充足。
- 5.(A) 附圖為歐洲境內某條重要的交通路線示意圖，請依據圖中資料判斷，這條交通路線必須興建隧道以穿越哪一個海域？



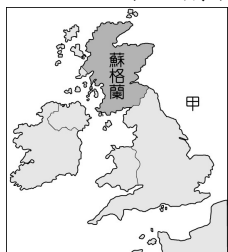
- (A)英吉利海峽 (B)直布羅陀海峽 (C)北海 (D)大西洋。

- 6.(D) 燕姿在臉書上分享她暑假到歐洲拍攝廣告的旅遊經歷如附圖。請問：燕姿所描述的地區，最可能位於何處？



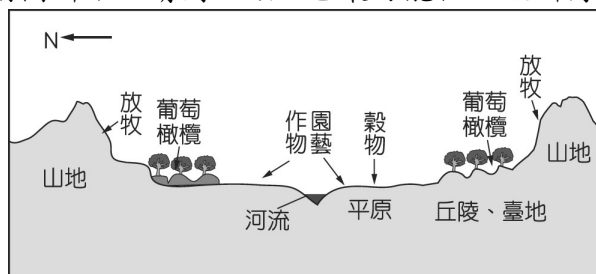
- (A)西歐 (B)東歐 (C)北歐 (D)南歐。

- 7.(B) 東歐的捷克為工業大國，由於共產時期累積下來的工業基礎雄厚，今日吸引許多企業到該國投資生產，以便產品能就近行銷歐洲市場。請問：若根據上文敘述判斷，這些工業產品的運輸路線多朝哪一方向運至市場銷售？ (A)東方 (B)西方 (C)南方 (D)北方。
- 8.(C) 附圖為英國領土示意圖，2016 年英國支持退出歐盟的一方在公投險勝，造成贊成留在歐盟的蘇格蘭地區欲發起獨立公投。由於蘇格蘭在甲海域擁有石油，因此對退出英國後的財政狀況深具信心。請問：甲是哪一海域？



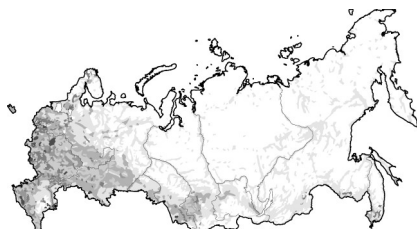
- (A)英吉利海峽 (B)地中海 (C)北海 (D)北極海。

- 9.(B) 歐洲某地區的農牧業活動分布如附圖所示，請問：該地區最可能位於歐洲何處？

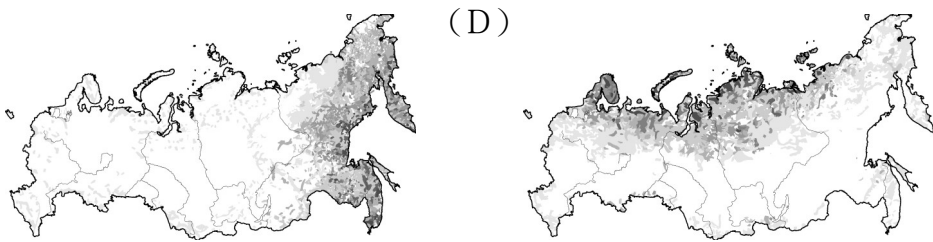


- (A)東歐 (B)南歐 (C)西歐 (D)北歐。

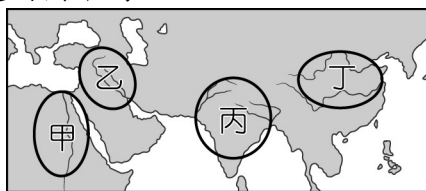
- 10.(A) 俄羅斯為世界上面積最大的國家，但是人口卻僅 1.4 億人，遠低於中、美等國。下列為該國主要人口分布概況的點圖，其中何者最為正確？ (A) (B) (C)



(C)



- 11.(A) 美洲的面積相當廣大，可以下列何項因素來區分，分成北美洲和中南美洲？ (A)文化特色 (B)氣候類型 (C)產業活動 (D)地形種類。
- 12.(D) 1月26日是澳洲的國慶日，為首批英國人移居澳洲的日子。近年來，澳洲的國慶日往往出現抗議的集會遊行，希望更改國慶日的日期。請問：此抗議聲浪的出現，主要是因為不認同下列何事？ (A)澳洲自英國獨立 (B)澳洲原住民起事 (C)澳洲開發金礦吸引投資 (D)將殖民起始日訂為國慶日。
- 13.(C) 「我不同意你的意見，但我以死捍衛你說話的權利。」一句最早出現於伊夫林·碧翠思·霍爾的著作中，用以歸納一位啟蒙時代學者的理念。請問：這本著作應是以下列哪位學者為主題？ (A)洛克 (B)盧梭 (C)伏爾泰 (D)孟德斯鳩。
- 14.(B) 歷史上首次證實地球是圓的，是因為何人的團隊完成了繞行地球一周的壯舉？ (A)哥倫布 (B)麥哲倫 (C)達伽馬 (D)亞美利哥。
- 15.(C) 西元1999年年底，中國收回被葡萄牙領有400多年的澳門。葡萄牙以一個位處西歐的小國，卻能遠渡重洋，並在西元16世紀時占據澳門，其主要原因是下列哪一史事所導致？ (A)文藝復興 (B)蒙古西征 (C)大航海時代 (D)三十年戰爭。
- 16.(B) 「巧克力的主要原料是可可豆，馬雅人最早將可可豆加水和香料製成飲用，16世紀初被探險家船隊發現並帶回西班牙，西班牙人將可可豆磨成了粉，並加入了水和糖加熱，這種飲料被稱為巧克力，深受歐洲大眾的歡迎。」請問：上文中的探險家應為何人？ (A)狄亞士 (B)哥倫布 (C)達伽馬 (D)麥哲倫。
- 17.(C) 這個事件在歷史上被視為是新時代的來臨，象徵人類進入一個新的階段；但對一些古文明和原住民而言，卻是空前的災難。請問：上述指的是哪一事件？ (A)宗教改革 (B)文藝復興 (C)大航海時代 (D)蒙古西征。
- 18.(C) 西方的歷史由「地中海時代」變為「大西洋時代」，此轉變是由於哪一事件的發生？ (A)日耳曼民族入侵西羅馬帝國 (B)伊斯蘭教勢力退出伊比利半島 (C)大航海時代 (D)三十年戰爭。
- 19.(B) 速食店的薯條普遍受大家的喜愛。請問：歐洲人最早能享用馬鈴薯等美洲作物，是因為下列何者的發生？ (A)文藝復興 (B)海外拓殖 (C)蒙古西征 (D)三十年戰爭。
- 20.(C) 有一個地區人民所信仰的宗教有嚴格的規定，將人民畫分成四個階級，各階級不得彼此通婚，能從事的職業也有限制，被稱為種姓制度。請問：上述的地區是附圖中何地？



(A)甲 (B)乙 (C)丙 (D)丁。

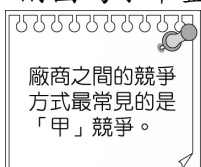
- 21.(D) 泰姬瑪哈陵位於印度北方邦阿格拉，是一座用白色大理石建造的陵墓，是印度知名度最高的古蹟之一。它是蒙兀兒王朝第五代皇帝沙賈汗為了紀念他的第二任妻子興建的陵墓。這座建築也被視為蒙兀兒帝國藝術風格最精緻的代表。請問：泰姬瑪哈陵的藝術風格不包括下列何者？ (A)波斯 (B)伊斯蘭 (C)印度 (D)英國。
- 22.(B) 19世紀，蒙兀兒帝國最後一任皇帝巴哈杜爾沙二世被流放至緬甸，其直系親屬中男性被追殺，至此蒙兀兒帝國完全失去對印度的統治權，隨之而來的是殖民母國的壓榨與不公對待。請問：上述的殖民母國應該是下列何者？ (A)法國 (B)英國 (C)葡萄牙 (D)荷蘭。
- 23.(C) 珍妮時常使用網路購物，且會貨比三家。今天在比價時看到網頁顯示附圖便立即下單購買。請問：由圖中內容判斷，廠商是透過哪一種方式吸引消費者的注意？



(A)企業形象 (B)多元化服務 (C)價格 (D)產品品質。

- 24.(C) 在競爭激烈的市場中，廠商善用各種方式吸引消費者的購買。下列何者為消費者在購買商品前應考量的因素？ (A)價格低是王道，黑心廠商也沒差 (B)品質好最重要，破壞環境不在意 (C)選擇善盡社會責任的製造廠商 (D)喜歡的偶像聯名商品都買。

- 25.(A) 附圖為小華整理課文的筆記，圖中「甲」應為下列何者？

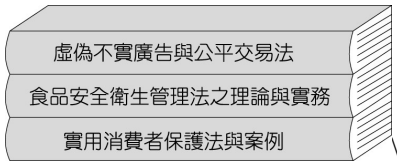


(A)價格 (B)企業形象 (C)服務項目 (D)產品品質。

- 26.(C) 根據附圖中人物所說的話判斷，他的店開幕後，最可能發生下列哪一狀況？



- (A)消費者的選擇變少 (B)市場競爭程度變低 (C)各店家將採取各種行銷策略 (D)各店家早餐價格將調漲。
- 27.(D) 小咪假日與父母同遊六福村，發現遊樂園賣的飲料比一般的貴，好奇的她詢問爸爸原因。請問：爸爸應如何回答才正確？ (A)園內飲料店家數量多 (B)園內遊客多 (C)品質與服務好 (D)缺乏同類型廠商競爭。
- 28.(C) 廠商之間惡性或不公平的競爭行為可能會損害消費者的權益，故政府必須制定相關法律。請問：下列哪部法律與保障消費者的權益無關？
(A)《消費者保護法》 (B)《食品安全衛生管理法》 (C)《社會秩序維護法》 (D)《公平交易法》。
- 29.(B) 小宜為完成學校報告，至圖書館借了三本書作為參考資料，如附圖。請問：他的報告主題應與下列何者最相關？



- (A)生產與消費 (B)保障消費者的權益 (C)廠商公平競爭的重要性 (D)廠商之間的競爭方式。
- 30.(C) 政府為了保障國民消費生活的安全，制定哪一部法律，規範消費者與廠商之間的消費關係？ (A)《公平交易法》 (B)《刑法》 (C)《消費者保護法》 (D)《著作權法》。
- 31.(A) 新臺幣是以紙鈔、硬幣為形式，在臺灣大家願意使用「新臺幣」交換所需物資，其主要的原因為何？
(A)政府以法令強制其具有價值 (B)新臺幣的材料本身就具有價值 (C)貨幣數量供不應求較具價值 (D)新臺幣的印製非常方便快捷。
- 32.(A) 王檢爾至早餐店購買吐司，牆上的價目表如附圖所示。請問：這份價目表主要顯示了貨幣的何項功能？

•肉鬆蛋吐司.....	35元
•豬肉蛋吐司.....	40元
•雞腿蛋吐司.....	45元
•牛肉蛋吐司.....	45元

- (A)價值衡量 (B)價值儲藏 (C)債務清償 (D)交易媒介。
- 33.(D) 某家速食店在 2018 年開放使用信用卡付款，發行儲值卡（例如：點點卡），而後又陸續接受 4 大電子票證（悠遊卡、一卡通、icash、有錢卡）與 LINE Pay 交易，使交易方式多元、便利。請問：上述未提起下列何項交易方式？
(A)塑膠貨幣 (B)行動支付 (C)電子支付 (D)商品貨幣。