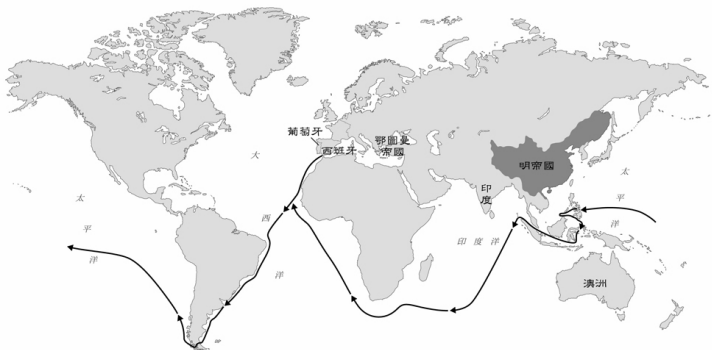


社會領域歷史科 9 上補考題庫

一、單一選擇題

- 1.(D) 1月26日是澳洲的國慶日，為首批英國人移居澳洲的日子。近年來，澳洲的國慶日往往出現抗議的集會遊行，希望更改國慶日的日期。請問：此抗議聲浪的出現，主要是因為不認同下列何事？
(A)澳洲自英國獨立 (B)澳洲原住民起事
(C)澳洲開發礦產吸引投資 (D)將殖民起始日訂為國慶日。
- 2.(A) 附圖所顯示的航線說明下列哪一史事？
(A)麥哲倫船隊繞行世界一周 (B)鄭和下西洋
(C)達伽馬抵達印度西岸 (D)哥倫布發現新大陸。



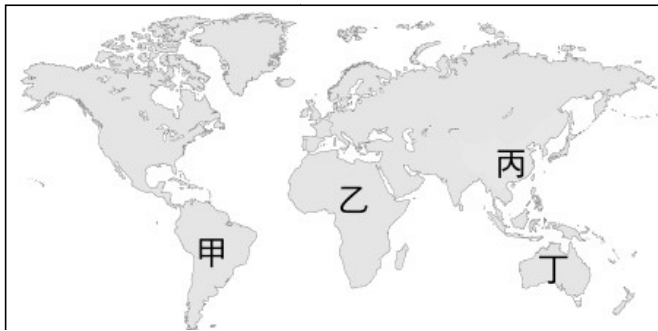
- 3.(B) 美牙在電視上看到巴西每年舉辦的嘉年華慶典活動頗為熱鬧，準備在隔年到里約熱內盧參加活動。請問：她應該學習下列哪種語言以便與當地人溝通？
(A)西班牙文 (B)葡萄牙文
(C)法文 (D)荷蘭文。
- 4.(D) 這個國家的王室資助海外探險活動，發現歐洲人前所未聞的美洲大陸，並在當地建立殖民地，開採大量黃金、白銀，成為十六世紀歐洲的富強國家。上述是哪一個國家？
(A)法國 (B)義大利
(C)葡萄牙 (D)西班牙。
- 5.(B) 今天，當人們希望初步了解某項事物時，常會為了方便借助網路上的「維基百科」等網站；在沒有線上百科的時代，則是借助大英百科全書等「百科全書」類的工具書。請問：開創此類著作風氣的是哪一位學者？
(A)伏爾泰 (B)狄德羅
(C)亞當斯密 (D)孟德斯鳩。
- 6.(C) 哥白尼是一位虔誠的基督徒，他堅信既然上帝創造了宇宙，就不會選擇用複雜的方式讓宇宙運行，宇宙的運行規律一定是簡潔又完美的，因此他在長期觀測後提出了什麼樣的主張？
(A)三大運動定律 (B)萬有引力定律
(C)太陽為宇宙中心 (D)地球為宇宙中心。
- 7.(C) 位於義大利北部的威尼斯不僅是文藝復興發展的重要城市，其商人更長期壟斷東西方貿易，關於其描述何者正確？
(A)位處大西洋沿岸的商業貿易中心，利於遠航
(B)贊助當地人哥倫布向西航行，抵達美洲
(C)中世紀末就常往來印度洋經商，並曾抵達印度
(D)跟隨發現新航路的腳步在亞非各地建立殖民地。
- 8.(C) 大航海時代的開啟與東西方之間的貿易有很大的關係。下列何者不是開啟大航海時代的原因？
(A)許多國家的王室願意投資支持
(B)歐洲對東方貨品需求增加
(C)貿易路線被蒙古人阻斷
(D)航海知識與技術的進步。

- 9.(D) 上理化課時，老師講述「停著的車子一開動，車上的人會往車後倒；行駛中的車子突然停住，車上的人會往車前傾。」如果想多了解此定律的內容，可閱讀下列何人的著作？
(A)哥白尼 (B)希羅多德
(C)歐幾里德 (D)牛頓。
- 10.(C) 現今臺灣許多天主教教堂，每逢假日均可見到菲律賓人前往禮拜，追溯其源由，是菲律賓最早曾受到何國統治之故？
(A)葡萄牙 (B)英國
(C)西班牙 (D)荷蘭。
- 11.(B) 依下文內容來看，這應該是在描述何人的事蹟？ (A)洛克 (B)伏爾泰
(C)盧梭 (D)孟德斯鳩。

他有「法蘭西思想之父」之稱，不僅在哲學上有卓越成就，也以捍衛公民自由，特別是言論自由、信仰寬容和司法公正聞名，儘管在他所處的時代審查制度十分嚴厲，但他仍然公開支持社會改革。

- 12.(A) 中世紀後期，歐洲人對於亞洲的貴重商品需求日增，但在陸路貿易路線上始終受到兩個地區的商人居中控制，導致價格昂貴，才促使他們轉往海上尋找前往東方的航路。請問：這兩個地區分別是？
(A)義大利、鄂圖曼
(B)拜占庭、鄂圖曼
(C)義大利、拜占庭
(D)鄂圖曼、阿拉伯
- 13.(B) 牛頓認為整個宇宙的運行活動都遵循著一定的法則，自然界的各種現象都可以納入此一系統中，宇宙的規律並非神祕不可測，自然現象看似變化多端，實際上都有一定的法則可循。這是受到此時期何種思想盛行的影響？
(A)主權在民
(B)理性思維
(C)天賦人權
(D)三權分立。
- 14.(B) 航海家狄亞士受到某歐洲國家王室資助，最終達成了哪項里程碑？
(A)繞過好望角抵達印度，發現通往亞洲新航路
(B)抵達非洲最南端，發現了好望角
(C)抵達現在的美洲，發現新大陸
(D)繞過麥哲倫海峽，發現太平洋。
- 15.(A) 呈上題，請問這個歐洲國家為？
(A)葡萄牙
(B)西班牙
(C)克羅埃西亞
(D)敘利亞。
- 16.(D) 隨著十五世紀以來新航路及新大陸的發現，世界各地的交流日益密切，相互帶來許多影響。有關附圖標示的位置，下列敘述何者正確？
(A)為開發殖民地，歐洲人從「甲」捕捉黑人，運往乙從事奴工

- (B)殖民者在「乙」開採銀礦，獲得大量財富
 (C)「丙」原生的農作物，如玉米、馬鈴薯，成為世界各地重要的食物來源
 (D)「丁」為英國的殖民地，眾多原住民被殖民者傳染疾病大量喪命。



17.(B) 理化老師在進行「溫度與溫度計」教學時，提到發明溫度計的是義大利的一名科學家，他還使用自己改良的望遠鏡，證實先前的「日心說」學說。

請問：此學者為何人？

- (A)哥白尼
 (B)伽利略
 (C)培根
 (D)牛頓。

18.(C) 18世紀何人所著的《民約論》，提出政府是受人民委託行使權力，政府的權力來自人民的同意？

- (A)伏爾泰
 (B)孟德斯鳩
 (C)盧梭
 (D)洛克。

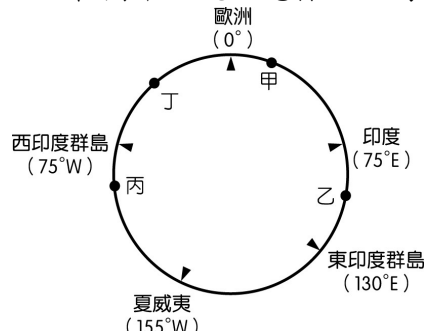
19.(D) 據說十六世紀某歐洲強權入侵印加帝國並擄走君王，印加子民竟用可填滿一整個房間的黃金以贖回皇帝。請問：下列敘述何者正確？

- (A)占領印加帝國的歐洲強權是葡萄牙
 (B)印加帝國位在大西洋沿岸
 (C)印加帝國位於今日的非洲
 (D)歐洲人的侵略導致印第安原住民的大量死亡。

20.(C) 美美、小雨、正傑、怡華四人討論啟蒙時代的思想，哪一個人的說法最接近盧梭的理論？

- (A)美美：「政府的行政權、立法權和司法權應該分立，發揮彼此制衡的功能，以避免專制獨裁的發生。」
 (B)小雨：「人生而平等，生命、自由、財產是不可被剝奪的權利，如果政府非法破壞人民權利，人民可以起而反抗。」
 (C)正傑：「人生而自由，人民是國家的主體，政府必須替大眾謀福利，權力來自人民的委託。」
 (D)怡華：「質疑教會的權威，抨擊教會的腐敗與迷信，主張宗教寬容及言論自由。」。

21.(A) 15世紀開始，許多歐洲探險家出海探尋通往亞洲的新航路。附圖是 15 世紀~18 世紀部分歐洲探險家到達地區的示意圖，其標示方式僅依照這些地區的經度位置排列，而未考慮其緯度位置。達伽馬在 1498 年的探險旅程中到達某洲的最南端，若要在圖中呈現，應標示於何處？



- (A)甲 (B)乙
 (C)丙 (D)丁。

22.(B) 16世紀時，耶穌會傳教士積極到歐洲以外的地區宣教，以擴展宗教版圖。他們也曾抵達中國宣教，促成了東西思想和文化的交流。請問耶穌會傳教士屬於下列哪個派別？

- (A)路德教派
 (B)羅馬公教
 (C)希臘正教
 (D)喀爾文教派

23.(A) 附圖為 1876 年製作的一幅木板畫，當中來自歐洲的征服者士兵，正在傳教士的指揮下，拉下美洲阿茲提克文明的偶像雕像。請問：歐洲的征服者是哪一個國家？



- (A)西班牙
 (B)荷蘭
 (C)美國
 (D)英國。

24.(C) 呈上題，美洲的阿茲提克文明，主要位於那個區域？

- (A)祕魯
 (B)巴西
 (C)墨西哥
 (D)巴拿馬。

25.(D) 工業革命為社會帶來許多重大影響，但是除了正面的幫助外，卻也帶來許多不良的後果，請問下列何者不是當時工業革命帶來的負面影響？

- (A)社會治安問題
 (B)環境汙染嚴重
 (C)城市人口擁擠
 (D)核子戰爭威脅。

26.(B) 小寬在做一個歷史人物的報告，附圖是他找到的資料，根據內容判斷，下列何者最可能出現在他的報告中？



- (A)因信稱義 (B)天賦人權
 (C)萬有引力 (D)重商主義。

27.(C) 台灣夜市最夯的小吃之一就是香噴噴的烤玉米了。玉米之所以可以傳播到全世界，與下列何者最相關？

- (A)宗教改革
 (B)蒙古西征
 (C)海外探險
 (D)文藝復興。

28.(C) 中華民國政府的政治架構採取五權分立的原則，這種權力分散概念，最早是來自啟蒙時期誰的主張？

- (A)盧梭
 (B)洛克

- (C)孟德斯鳩
(D)伏爾泰丁。


29.(D) 小安在書上讀到這段文字：「○○將當時的蒸汽機加以改良，使得機器的效率更為提高，連帶促成工業革命的興起，因此○○被後人稱為工業革命之父。」請問文中提到的○○應為何人？

- (A)牛頓
(B)哥白尼
(C)福特
(D)瓦特。

30.(A) 有一本書中提到：「自然享有一種權力，不但可以保有他的所有物——即他的生命、自由和財產——不受其他人的損害和侵犯。」請問這是誰的主張？

- (A)洛克
(B)孟德斯鳩
(C)伏爾泰
(D)盧梭。

31.(D) 大華在書上看到右側這個社會主義歷史上重要人物的照片，他想起老師曾在上課時介紹過他，請問：關於他的敘述何者錯誤？



- (A)他的名字叫做馬克思
(B)提倡共產主義
(C)他期望建立集體生產的社會
(D)最終目標是希望人人都有私人財產。

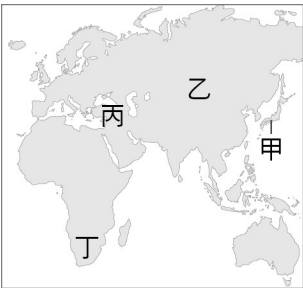
32.(D) 生活於 18 世紀末工業革命時代英國倫敦的威廉對於當時生活有許多的不滿，因此決定要參選議員施展抱負，請問：以下何者不可能是他提出來的政見？

- (A)改善因為工廠林立而造成的汙染問題
(B)增加員警人力以維護城鎮治安
(C)要求資本家增加工人的薪資
(D)逮捕日益增加的印地安移民。

33.(C) 歐洲的許多國家並不直接在亞洲統治殖民地，而是採取一種特殊的方式施行間接統治，此手段為下列何者？

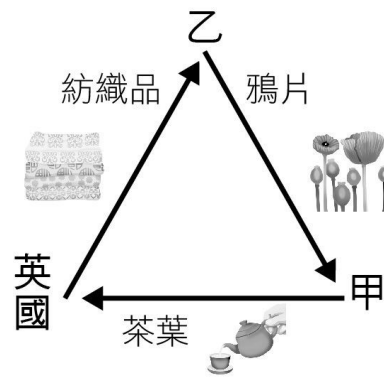
- (A)扶植當地華僑建立漢人政權
(B)透過耶穌會建立宗教團體
(C)成立東印度公司
(D)與伊斯蘭教徒組織合作。

34.(B) 曾有一大帝國征服印度，建立輝煌的國度，但在 17 世紀末由盛轉衰，逐步淪為英國的殖民地，而此帝國的祖先並非印度當地人，而是由亞洲的某處而來。請問，此帝國的祖先應該是由何處發跡？



- (A)甲 (B)乙 (C)丙 (D)丁。

35.(A) 附圖是 18 世紀英國在亞洲從事的三角貿易，這場貿易還曾發生軍事衝突。根據內容判斷，下列敘述何者正確？



- (A)甲應為清朝統治的中國
(B)乙的主要信仰為基督教
(C)英國因茶葉問題與甲爆發衝突
(D)英國因鴉片問題與乙爆發衝突。