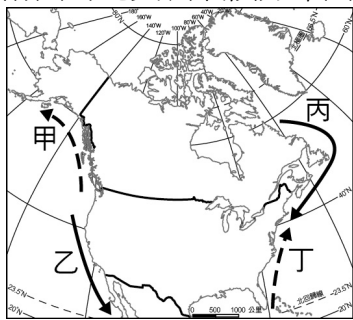


社會領域地理科 9 上補考題庫

年 班 號 姓名：

一、單選題：

- () 1. 附圖為北美洲氣候分布圖，請問圖中甲、丁分別為下列哪兩股洋流？



(A) 拉布拉多寒流、加利福尼亞涼流 (B) 北大西洋暖流、墨西哥灣流 (C) 阿拉斯加暖流、拉布拉多寒流 (D) 阿拉斯加暖流、墨西哥灣流

答案：(D)

- () 2. 北美洲範圍廣大，區域性氣候現象常常發生，下列敘述何者正確？ (A) 美國東南沿海及加勒比海沿岸颶風侵襲常發生於秋季 (B) 中南部大平原在春夏之際常有龍捲風災害 (C) 入冬後由於山脈阻礙，冷氣團不易南下 (D) 暴風雪的發生機會不高，每間隔數年才會發生一次

答案：(B)

- () 3. 馬克·吐溫所著的《湯姆歷險記》，其故事發生的地點在廣闊的平原區，順著旁邊南向的河流，可以一直到達墨西哥灣。書中這條「河流」最有可能為下列何者？ (A) 聖羅倫斯河 (B) 密西西比河 (C) 科羅拉多河 (D) 哈德遜河

答案：(B)

- () 4. 作為波音公司發源地的西雅圖，設有兩座波音觀光景點，是許多航空迷嚮往的旅遊城市。若想要前往西雅圖朝聖，則應該前往附圖中何處？



(A) 甲 (B) 乙 (C) 丙 (D) 丁

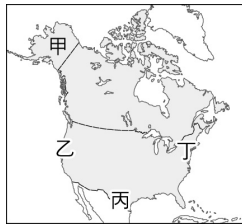
答案：(A)

- () 5. 美國職業籃球比賽（簡稱 NBA）是世界上最受矚目的職業運動之一。每支 NBA 球隊都有其所屬的城市，下列哪支球隊不是設立在美國本土境內？ (A) 紐約尼克隊 (B) 底特律活塞隊 (C) 多倫多暴龍隊 (D) 西雅圖超音速隊

答案：(C)

解析：多倫多市是加拿大的工業都市

- () 6. 圖為北美洲簡圖，圖中哪個區域是昔日歐洲移民最先的落腳處，因而開發較早？



(A) 甲 (B) 乙 (C) 丙 (D) 丁

答案：(D)

- () 7. 「你們必須教導你們的子孫，在他們腳下的土地，是我們先民的遺跡。」這是在 1850 年代某個族群的領導人所發表給美國政府的公開信，根據信中敘述，這個聲明稿最可能來自於哪個族群？ (A) 英國人 (B) 印第安人 (C) 印度人 (D) 亞洲人

答案：(B)

解析：印地安人為美洲地區的原住民族。

- () 8. 美洲陸塊由北半球延伸到南半球，為全球陸塊中跨緯距最大者。附圖為美洲簡圖，圖中虛線代表重要緯度線。下列哪條虛線最有可能是劃分南北半球重要的依據？



(A) 甲 (B) 乙 (C) 丙 (D) 丁

答案：(C)

解析：甲：北極圈；乙：北回歸線；丙：赤道；丁：南回歸線

()9. 北美洲的落磯山脈、南美洲的安地斯山脈主要都位於板塊碰撞與隱沒的區域，也就是著名的「環太平洋火山地震帶」。在其地形上會有什麼特徵？ (A)多火山、地震 (B)飽受冰河侵蝕 (C)地勢起伏較小 (D)平原面積廣大

答案：(A)

()10. 巴西國土面積廣大，但氣候較適合人居住，人口與產業活動集中的都市和商港多位在東南部，此地區因為濱臨哪個海域，海運便利，工商業較為發達？ (A)太平洋 (B)大西洋 (C)印度洋 (D)地中海

答案：(B)

解析：巴西東南部與大西洋海域交會。

()11. 當我們坐在巴西的咖啡店裡喝著「咖啡」，加了「砂糖」，又加點「巧克力」脆片及「香蕉」派，上述這些物產主要是來自於哪種農業經營方式？ (A)觀光農業 (B)溫室農業 (C)熱帶栽培業 (D)混合農業

答案：(C)

()12. 南美洲西部沿海因為某道洋流帶來大量浮游生物，而使沿海水產多樣。豐富的魚群也吸引大量海鳥前來覓食，雖堆積了數量驚人的鳥糞，卻形成天然肥料，也帶來另一項經濟收入。上述這道洋流是指下列何者？ (A)秘魯涼流 (B)福克蘭寒流 (C)墨西哥灣暖流 (D)加利福尼亞涼流

答案：(A)

()13. 如果某人要將美洲分為盎格魯美洲和拉丁美洲，最有可能是以下列哪種指標做為劃分依據？ (A)地形、氣候 (B)語言、文化 (C)政治、經濟 (D)宗教、語言

答案：(B)

解析：拉丁美洲多講拉丁語，屬於西班牙和葡萄牙文化，而盎格魯美洲屬於英法文化

()14. 南美洲東部地形以高原、盆地相間為主，其中面積最廣闊的盆地是下列何者？ (A)剛果盆地 (B)撒哈拉盆地 (C)亞馬孫盆地 (D)喀拉哈里盆地

答案：(C)

()15. 近來在國際煤、鐵礦及廢鋼等鋼鐵原物料行情高漲，加上市場擔憂中南美洲的○○國、澳洲礦場氣候和災變，導致供應趨緊，目前鐵礦砂價格每公噸漲破 170 美元，創下近 10 年來新高。上述的鐵砂大國○○國位在附圖中何處？



(A)甲 (B)乙 (C)丙 (D)丁

答案：(C)

()16. 在巴西的能源結構中，再生能源的比例高達 41%，高於世界平均的 14% 甚多，其中一項即是將○○提煉為乙醇做為汽車燃料使用。上文所述的○○為下列何者？ (A)稻米 (B)咖啡 (C)蔗糖 (D)鐵礦

答案：(C)

()17. 墨西哥在全球製造業供應鏈占有重要地位，是臺灣在美洲重要的生產基地。下列何者是墨西哥工業發展的優勢條件？ (A)是歐盟成員國 (B)蘊藏豐富鐵礦 (C)資金技術充足 (D)勞力成本低廉

答案：(D)

()18. 為維持地球上生物的多樣性與生態環境的永續，環境保護組織以及生物研究人員相當關切動植物基因的保存。下列哪個地區因為物種多樣，而有全球最豐富的動植物基因庫之稱？ (A)巴西高原 (B)亞馬孫盆地 (C)東非高原 (D)夏威夷群島

答案：(B)

解析：溫度高且潮濕的環境容易孕育生物，在該氣候條件下可找到很多物種，而亞馬孫盆地擁有全球最大之熱帶雨林，正是一個生物極多樣的地區。

()19. 中南美洲除了巴西講葡萄牙語外，其他國家主要以西班牙語為主。請問巴西在附圖中何處？



(A)甲 (B)乙 (C)丙 (D)丁

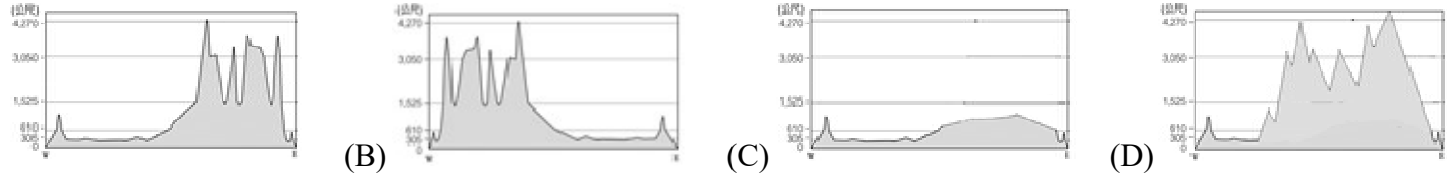
答案：(B)

()20. 吳小弟利用假期回到巴西的外婆家度假，他最可能須練習哪種語言，以便和講巴西母語的外婆溝通？ (A)英語 (B)法語 (C)葡萄牙語 (D)西班牙語

答案：(C)

解析：巴西過去曾為葡萄牙殖民地，葡萄牙語是當地的主要語言

- ()21. 北美洲面積遼闊，大致可分為三大地形區。若沿著北緯 40 度由西向東繪製地形剖面圖，下列何者正確？ (A)



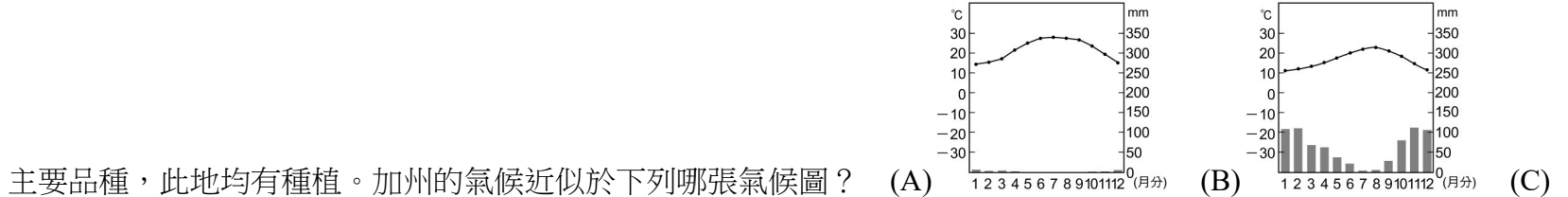
答案：(B)

- ()22. 美國境內的溫帶沙漠氣候區，乾燥少雨且溫差大，對當地發展的限制極大。該氣候區主要的成因為下列何者？ (A) 位於背西風坡 (B) 氣候垂直變化 (C) 副熱帶高壓籠罩 (D) 阿拉斯加暖流影響

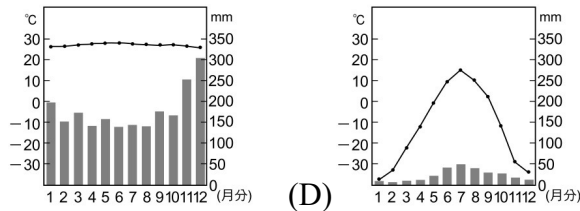
答案：(A)

解析：因位於洛磯山脈的背風側

- ()23. 美國加州的氣候得天獨厚，陽光充足，使得加州成為美國最大的葡萄酒產區，且葡萄酒種類繁多，幾乎所有歐洲的



主要品種，此地均有種植。加州的氣候近似於下列哪張氣候圖？ (A)



答案：(B)

- ()24. 附圖為《漫畫世界經濟》一書中所提及的美國農業發展特徵，這種農業發展特徵最有可能出現在美國哪個地理區？



- (A) 墨西哥灣沿岸 (B) 中部大平原 (C) 五大湖沿岸

(D) 西南內陸地區

答案：(B)

- ()25. 「我的家園在去年春天時，被一場天災摧毀了，但永遠無法忘記我生長的那片廣闊的平原。」以上敘述中的天災是指下列何者？ (A) 火山 (B) 洪水 (C) 龍捲風 (D) 地震

答案：(C)

解析：北美大平原中西部在春夏交替時，常有龍捲風出現

- ()26. 小美到美國中部平原玩，看到一望無際的玉米田、小麥田，小美想起地理老師上課時說過，美國中部受氣候影響，因此多種植耐旱、耐寒的玉米、小麥、棉花等。美國中部的作物分布主要受到下列哪種氣候類型影響？ (A) 寒帶氣候 (B) 高地氣候 (C) 溫帶大陸性氣候 (D) 夏雨型暖溫帶氣候

答案：(C)

- ()27. 小美是有錢的富二代，打算利用跨年假期開私人飛機橫越美國，一路先橫跨高聳的山脈，接著看到一望無際的平原，之後進入低緩山地，最後停在美國紐約結束旅程。小美行進的方向為下列何者？ (A) 由西向東 (B) 由東向西 (C) 由北向南 (D) 由南向北

答案：(A)

- ()28. 美國是全球最大的農業出口國之一，主要農產品包括了玉米、小麥、糖和菸草。北美洲的玉米帶及小麥帶大致位於哪個氣候區？ (A) 溫帶海洋性氣候 (B) 溫帶地中海型氣候 (C) 溫帶大陸性氣候 (D) 夏雨型暖溫帶氣候

答案：(C)

解析：北美洲的玉米帶及小麥帶位於中西部平原，為溫帶大陸性氣候

- ()29. 美國歷史上著名的南北戰爭，爆發的主要原因為黑奴問題，南方的地主蓄養黑奴是為了種植何種作物？ (A) 大豆 (B) 小麥 (C) 棉花 (D) 玉米

答案：(C)

- ()30. 北美的某州大部分地區屬副熱帶，最南部則屬熱帶，下雪是非常罕見的事情，有記錄的最早一場雪是發生在 1774 年的暴風雪，一些對下雪很不習慣的居民稱其為「不尋常的白雨」。該州最有可能位於附圖何處？



- (A) 甲 (B) 乙 (C) 丙 (D) 丁

答案：(D)

解析：題幹指出該州位於副熱帶的低緯地區，因此降雪不易，代號丁最符合，為佛羅里達州。