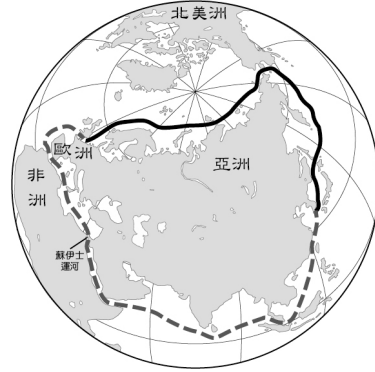


一、選擇：

- () 深圳為中國都市中崛起最為快速者，其所具備的優勢為何？(甲)位居中國海岸線中心 (乙)鄰近香港可經驗交流 (丙)原有都市規模巨大且人口多 (丁)政府提供優惠政策配合 (A)甲乙 (B)甲丙 (C)乙丙 (D)乙丁
- () 人類有紀錄以來，最低的溫度出現在南極的「沃斯托克」測站，於西元 1983 年 7 月 21 日測到的 -89.2°C 。請問：下列何者是造成南極氣溫比北極更低的原因？(A)北極降水比較稀少 (B)北極的緯度比較高 (C)南極海拔高度較高 (D)南極的人口比較多。
- () 從臺灣去南極觀光，通常是先搭飛機到最接近南極的地方，然後搭船出發，經過 3~4 天的航程，才會到達南極大陸。請問：最接近南極的地方應該位在下列哪一洲的南端呢？(A)亞洲 (B)歐洲 (C)南美洲 (D)北美洲。
- () 中國的族群組成多元，不同民族的分布地區因環境特性相異，而使其適地發展出各具特色的文化樣貌。請問：下列中國哪一個地理區，少數民族族系眾多、文化多元而複雜？(A)雲貴高原 (B)青藏高原 (C)華北平原 (D)塔里木盆地。
- () 西元 1979 年，中國提出「一胎化政策」的主要原因為何？(A)人口增加速度飛快 (B)人口教育素質低落 (C)育兒福利支出太高 (D)人口性別比例失衡。
- () 紐西蘭南島的面積大於北島，但第一級行政區(相當於臺灣的省、直轄市)南島只有 7 個，小於北島的 9 個，如附圖。請問：造成南島面積大，行政區卻少的原因為何？(A)北島的地形較複雜 (B)北島畜牧業較發達 (C)南島平原分布較廣 (D)南島人口密度較低。
- () 北極的「東北航道」(如附圖實線所示)是指穿越俄羅斯北方的北極海，聯絡大西洋和太平洋的航道，可縮短以往經過蘇伊士運河的路程(如附圖虛線所示)和時間。請問：下列哪兩個地區的運輸往來，最需要東北航道呢？(A)北美東岸——歐洲西岸 (B)北美東岸——非洲西岸 (C)歐洲西岸——亞洲東岸 (D)非洲東岸——亞洲東岸。

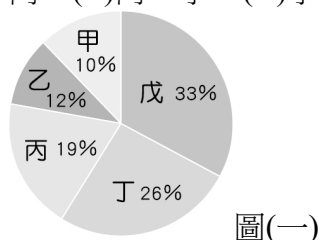


- () 中國西北部內陸地區降水普遍稀少，但部分地區仍可以夏季高山融雪所帶來的水源發展農業。請問：這種農業的類型稱為下列何者？(A)水田農業 (B)旱田農業 (C)集約農業 (D)綠洲農業。
- () 世界上僅存的兩種卵生哺乳類特有動物：針鼯、鴨嘴獸，只生存於澳洲。請問：澳洲擁有許多特有生物的原因為何？(A)地形高低起伏大 (B)氣候分布很複雜 (C)距其他大陸遙遠 (D)緯度分布範圍廣。
- () 中國某地的農民有句俗諺：「三天無雨苗發黃，下點急雨土沖光，山洪爆發遭大殃」，主要是因為該地區的土層質地鬆散，易受流水侵蝕，也導致地表形成千溝萬壑的地形特色。請問：這句俗諺最有可能是反映中國哪一個地形區農民的生活經驗？(A)東南丘陵 (B)黃土高原 (C)四川盆地 (D)準噶爾盆地。
- () 西元 2011 年 2 月 22 日，紐西蘭南島的基督城發生規模 6.3 的地震，造成基督城內許多建築坍塌，如附圖，導致 185 人死亡，是近代紐西蘭死亡人數最多的地震。請問：造成紐西蘭地震頻繁的原因為何？(A)位於太平洋板塊交界帶 (B)距離世界主要大陸遙遠 (C)冰河地形多分布於南島 (D)海平面不斷上升的影響。

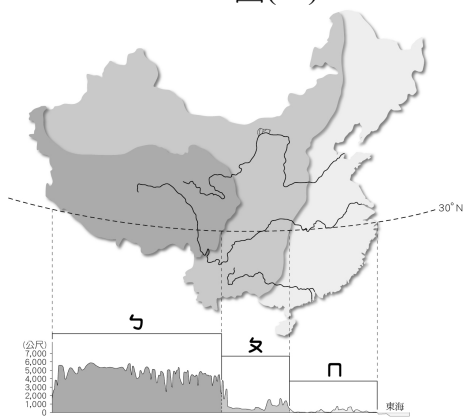


- () 清代中葉時，中國因人口大幅成長，一波外來的移民就近擁入沙漠邊緣的黃河河套地區開墾，以求獲得溫飽的糧食。請問：這波移民最有可能來自何地？(A)東南沿海 (B)東北地區 (C)四川盆地 (D)黃河中游。
- () 中國的居民大致由 55 個民族所組成，不同的民族分布在不同的地區，各自有其文化特色風貌。請問：中國人口數最多的民族為何？(A)漢族 (B)壯族 (C)滿族 (D)蒙古族。
- () 中國領土南北兩端的冷熱差異懸殊，1 月月均溫甚至可相差 40°C 以上。請問：造成此種差異的主要原因為何？(A)地勢高低不同 (B)距海遠近不一 (C)跨越緯度甚大 (D)有無季風影響。

15. () 太平洋復活節島上的原住民拉帕努伊人，使用的語言和哪一個民族最相近，屬於相同語系？ (A)西亞的猶太人 (B)亞洲的蒙古人 (C)臺灣的原住民族 (D)美洲的原住民族。
16. () 櫻桃是單價較高且不易保存的水果，夏季是主要採收的季節，通常在產地採收後，都以空運的方式，快速運送到臺灣。請問：下列 4 個節日，何者最可能買新鮮的紐西蘭櫻桃當禮物？ (A)春節 (B)母親節 (C)父親節 (D)中秋節。
17. () 中國的地勢大致可分成三級階梯。請問：分成三級階梯的主要依據為何？ (A)平均海拔高度 (B)地形種類多寡 (C)地質岩層排列 (D)主要山脈走向。
18. () 中國的人口空間分布不均，下列有關各地人口分布多寡的敘述，何者正確？ (A)東南部地形多山，人口總數少於西北部 (B)東北部乾燥少雨，人口密度小於西南部 (C)西南部交通不便，人口增加較東北部慢 (D)西北部工商發達，人口移入較東南部多。
19. () 中國東半部距海較近，氣候特性受季風影響顯著，下列何者為中國東半部的氣候特徵？ (A)受海洋影響，南北部溫差小 (B)受季風影響，冬夏乾溼分明 (C)因距海較近，全年降水平均 (D)因高度影響，高山雪厚風小。
20. () 中國的疆域幅員遼闊，境內地形複雜，可分為山地、高原、平原、盆地與丘陵等五大類型，且各類地形所占面積比例不一，如圖(一)所示。圖(二)為中國三級階梯地勢示意圖，請依所學判斷，圖(二)中「ㄅ」階梯所涵蓋的主要地形，為圖(一)中何者？ (A)甲、乙 (B)乙、丙 (C)丙、丁 (D)丁、戊。



圖(一)



圖(二)

21. () 中國地形複雜，下列哪一個地形區為世界最高的高原，有「世界屋脊」之稱？ (A)雲貴高原 (B)黃土高原 (C)青藏高原 (D)內蒙古高原。
22. () 中國各地氣候具有顯著的區域差異，下列關於中國氣候變化趨勢的描述，何者正確？ (A)東南→西北：溼→乾 (B)東北→西南：熱→冷 (C)西北→東南：熱→冷 (D)西南→東北：乾→溼。
23. () 近代以來，中國人口不斷增加，對糧食的需求也與時俱增。傳統中國農民常透過下列哪些方式，來增糧

食的生產？ (甲)製造堆肥以提高土壤肥沃度 (乙)研發殺蟲劑以利減少病蟲害 (丙)改良耕具用以提高耕作效率 (丁)發明農耕機器減少勞力使用 (戊)開發邊際土地擴大耕種面積 (A)甲乙丙 (B)甲丙戊 (C)乙丙丁 (D)丙丁戊。

24. () 中國唐代詩人李白曾遊於黃河中下游一帶的潁陽山(位今河南省)，並留下著名的詩篇將進酒，其寫道：「君不見黃河之水天上來，奔流到海不復回？」請問：黃河中下游一帶流向海洋的主要方向應為何？ (A)東北方 (B)西北方 (C)西南方 (D)正北方。
25. () 中國人口密度的分布受環境影響，具有各地高低不同的特性，大致而言，下列何種類型的行政區，其人口密度可能最低？ (A)省 (B)自治區 (C)直轄市 (D)特別行政區。