

- 1.() 高緯度地區的年均溫通常較低緯度地區為低，這和下列哪一項因素的關係最大？ (A)日照時間 (B)日照角度 (C)季風方向 (D)季風變化。

答案：(B)

解析：高緯地區太陽斜射，故氣溫較低。

出處：試題

- 2.() 氣候災害對於地球環境的影響相當大，如森林素有生態基因庫的稱號，然而出現下列何種異常氣候現象時，容易造成野火蔓延，導致森林面積縮小？ (A)地震 (B)水災 (C)強風 (D)旱災。

答案：(D)

解析：(D)乾旱容易造成野火蔓延，森林的面積減小。

出處：試題

- 3.() 大洋洲上數以萬計的島群分布於廣大的海域中，該地區的島嶼以下列哪兩類型為主？ (A)大陸島、火山島 (B)大陸島、珊瑚礁島 (C)火山島、珊瑚礁島 (D)火山島、大陸島。

答案：(C)

解析：大陸島多分布於陸塊的周邊海域。

出處：試題

- 4.() 澳洲聞名的「大堡礁」，為世界最大的珊瑚礁群，其海底世界可說是色彩繽紛、斑斕奪目，附圖為澳洲簡圖，大堡礁位於圖中哪一地區？



- (A)甲 (B)乙 (C)丙 (D)丁。

答案：(A)

解析：大堡礁位於澳洲東北部海岸。

出處：試題

- 5.() 2015 年 7 月紐西蘭商品價格指數創下史上最大單月跌幅，其中紐西蘭某項最重要出口商品價格下跌幅度高達 23.1%，被認為是這波經濟衰退的主因。若以紐西蘭的經濟發展加以判斷，上述的重要出口商品最可能為下列何者？ (A)鐵砂 (B)乳製品 (C)小麥 (D)石油。

答案：(B)

解析：紐西蘭的經濟以乳製品出口為主。

出處：試題

- 6.() 觀光業的收入是紐西蘭重要的財源，當地吸引遊客的主要觀光資源為何？ (A)文化遺跡 (B)現代建築 (C)自然景觀 (D)音樂美食。

答案：(C)

解析：紐西蘭的人口稀少，自然景觀少受破壞，故吸引大批遊客。

出處：試題

- 7.() 大洋洲中的薩摩亞 2011 年 12 月 30 日不見了，因為該國為了和鄰近的貿易夥伴國家更密切合作，於是決定在 2011 年 12 月 29 日更換時區，直接跳到 2011 年 12 月 31 日。上述「鄰近的貿易夥伴國家」是指下列何者？ (A)中國、日本 (B)英國、法國 (C)美國、加拿大 (D)澳洲、紐西蘭。

答案：(D)

解析：薩摩亞的鄰國是澳洲、紐西蘭。

出處：試題

- 8.() 南極為世界共管區域，甚至臺灣亦曾派員前往當地進行科學研究。請問：下列有關南極地區的特色敘述，何者錯誤？ (A)氣溫最冷 (B)降水量稀少 (C)位置最南 (D)年溫差最大。

答案：(D)

解析：南極終年嚴寒，因此年溫差不大。

出處：試題

- 9.() 北極海為各大洲間的最短航線，所以航空交通相當發達。請問：飛越北極海的主要航空路徑不包括下列何者？ (A)北美洲—歐洲 (B)亞洲—北美洲 (C)亞洲—非洲 (D)歐洲—亞洲。

答案：(C)

解析：北極海為歐、亞、北美三洲間的最短海域，不包括非洲地區。

出處：試題

- 10.() 南極大陸受限於地理條件，所進行的主要活動為下列何者？ (A)開採石油 (B)航空交通 (C)金融貿易 (D)科學研究。

答案：(D)

解析：南極大陸氣候嚴寒，無人定居，只有科學家在此進行研究。

出處：試題

- 11.() 下列哪個港口是 19 世紀中外交流的重要據點，英國商人也大量將鴉片等貨品囤積於此地。而該港口也是欽差大臣林則徐奉旨禁菸的第一站？ (A)上海 (B)寧波 (C)福州 (D)廣州。

答案：(D)

出處：試題

- 12.() 一位清帝國的外交官員在 1880 年代到某國考察後，將心得寫成報告。在他的報告中提到：「這個國家全力翻轉體制，進行改革。以他國長處為師，並派員出國學習新知……槍炮霹靂，軍容壯盛。」請問：這位清帝國外交官員考察的國家，最有可能是下列何者？ (A)菲律賓 (B)朝鮮 (C)俄羅斯 (D)日本。

答案：(D)

出處：習作

- 13.() 下框是清代某位大臣呈給朝廷的奏摺內容。請判斷這位大臣陳奏的內容，最有可能與下列何者有關？

臣記得，兩年前，朝廷選送六位廣方言館學生到北京考試，後來總理衙門來函稱讚這六名學生表現卓越。有鑑於新開埠的港口及地方上新建的學堂亟需人才，將由這批學生來擔任相關職務。

- (A)呼應廣州禁絕鴉片 (B)因應英法聯軍進攻 (C)推動自強運動 (D)推動立憲運動。

答案：(C)

出處：習作

- 14.() 位於北海道的函館市，因一個西力衝擊的歷史事件，成為日本最早開港通商的港口之一。而這次的開港通商，對日本造成很大的影響。有關開港通商的原因與影響，下列敘述何者正確？ (A)造成這次開港通商的歷史事件，是為牡丹社事件 (B)這個歷史事件，與俄國有關 (C)開港通商後，日本國內排外的氣氛消失 (D)這個歷史事件，間接促成日本的明治維新。

答案：(D)

出處：習作

15.() 福澤諭吉身為日本 19 世紀末的新知識分子，他鼓吹維新政策，他寫過一篇《脫亞論》，認為日本應該選離亞洲惡鄰，才能加入列強行列。請問：福澤諭吉的論點後來成為哪一個改革的推力之一？ (A) 明治維新 (B) 大化革新 (C) 自強運動 (D) 百日維新。

答案：(A)

解析：19 世紀末日本的改革為明治維新。

出處：試題

16.() 清帝國與日本簽訂《馬關條約》後，丘逢甲不禁悲嘆：「宰相有權能割地，孤臣無力可回天。」請問：詩中的「割地」指的是何者？ (A) 琉球 (B) 越南 (C) 臺灣、澎湖 (D) 山東。

答案：(C)

出處：試題

17.() 光緒皇帝是晚清在位時間較久的皇帝，但他在位期間權力牢牢控制在姨母慈禧太后手中，光緒皇帝生平唯一一次企圖推翻慈禧太后，並推行新政是下列哪一事件？ (A) 庚子後新政 (B) 戊戌變法 (C) 戊戌政變 (D) 自強運動。

答案：(B)

出處：試題

18.() 1905 年的中國報紙報導：「這一場戰爭，是君主立憲戰勝君主專制的最佳寫照。我們的政府應該也要仿行君主立憲的體制，讓國家富強。」根據上述的內容，所指的應是下列哪場戰爭？ (A) 鴉片戰爭 (B) 英法聯軍 (C) 日俄戰爭 (D) 八國聯軍。

答案：(C)

出處：習作

19.() 曉鈴是清末出生於哈爾濱的姑娘，她和男友自由戀愛 5 年了，父母親並不反對她的戀情。假日時，她和男友會坐「西式馬車」去「番菜館吃西餐」、或是去「戲院看電影」等，生活自在又愜意。請問：曉鈴最有可能是生活在下列哪個年代的人？ (A) 1780 年代 (B) 1800 年代 (C) 1890 年代 (D) 1650 年代。

答案：(C)

解析：《南京條約》後，中國開放通商，故選(C)。

出處：試題

20.() 日俄戰爭爆發後，戰爭結果引發知識分子熱切討論。請問：當時除了口耳相傳以外，還有什麼傳播媒體是一般民眾迅速獲得新知的方式？ (A) 看電視 (B) 看網路新聞 (C) 讀報紙 (D) 滑手機。

答案：(C)

解析：清末時，報刊往往能提供即時報導。

出處：試題

21.() 清末民初的新知識分子，他們對新知識不排斥，也致力於傳播新思想。請問：下列何者是他們成年後日常生活中最可能發生的狀況？ (A) 家中只能點蠟燭 (B) 平常穿傳統服裝，完全不穿西服 (C) 和朋友拿著報紙討論時事 (D) 託朋友遞信，官方郵政系統尚未出現。

答案：(C)

解析：清末時已出現電燈、郵政系統，也有民間辦的報紙，可供大眾討論。

出處：試題

22.() 現今我們可以利用許多方式聯繫遠方友人，像是寫信、電話、視訊軟體等，但在科技不發達的時代就沒有這麼方便了。請問：現代化的郵政機構要到何

時才出現？ (A) 明代中期 (B) 明末 (C) 清初 (D) 清末。

答案：(D)

解析：清末重要的通商口岸城市已設立郵政機構。

出處：試題

23.() 一位外國旅行者來華時曾提到：「讀到本地報章報導，中國第一間女學堂終於正式開學。令人意外的是，儘管招生廣告已經在幾天前發出，但開學這一天卻是乏人問津。」請問：這位旅行者，最有可能記錄的年代是 (A) 17 世紀後期 (B) 18 世紀後期 (C) 19 世紀後期 (D) 20 世紀後期。

答案：(C)

出處：習作

24.() 某城市觀光資料提到：「本市原本是一個小縣城，是晚清首次對外開港的五大港之一，此後，外國人移居本地漸增，也開闢棋盤式的西式道路，西方物質文明快速輸入。」請問：此城市最有可能是下列何者？ (A) 南京 (B) 安平 (C) 天津 (D) 上海。

答案：(D)

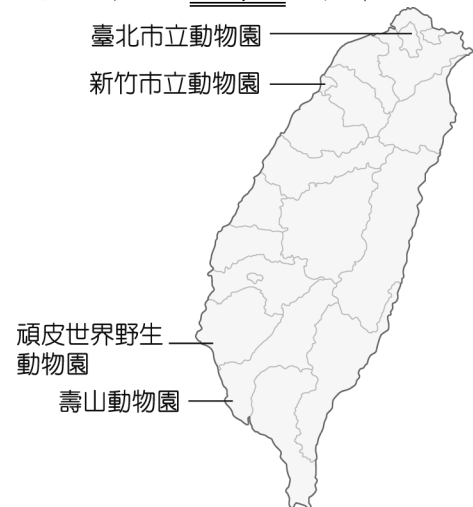
出處：習作

25.() 如果中央與地方的權限發生爭議時，應該如何解決？ (A) 聲請大法官審查《憲法》 (B) 由總統出面調停 (C) 由立法院解決 (D) 由行政院出面協商。

答案：(C)

出處：試題

26.() 正赫對動物有興趣，預計利用暑假和家人走訪臺灣知名的動物園，如附圖所示。圖中各動物園所在的行政區中，哪一個不屬於直轄市？



(A) 臺北市立動物園 (B) 新竹市立動物園 (C) 頑皮世界野生動物園 (D) 壽山動物園。

答案：(B)

解析：圖中臺北市（臺北市立動物園）、臺南市（頑皮世界野生動物園）、高雄市（壽山動物園）都是直轄市，只有新竹市不是直轄市。

出處：試題

27.() 新北市全力打造「全臺借書最強卡」，繼 2017 年與基隆市、2018 年與臺北市展開閱讀資源共享的區域合作後，2019 年持續將閱讀服務向南延伸到桃園市，透過四縣市的跨域合作，來營造北北基桃的閱讀生活圈。未來只要透過一張借書證，就可以互相借閱四市圖書，給予民眾 2,000 萬本書的多元選擇，將有近千萬的民眾可受惠。有關該措施所反映出的地方政府職權，下列何者最為正確？ (A) 此政策為教育文化項目，是中央政府的權限 (B) 透過跨區域合作的方式，可以擴大圖書資源 (C) 資源共享法律上只限於同一生活圈的北北基 (D) 此為跨

縣市的區域合作，需由中央政府推動。

答案：(B)

出處：習作

28.() 某鎮盛產青梅，但因缺乏行銷與其他文化導覽吸引遊客駐足，無法提升知名度，導致青梅滯銷。為了解決上述問題，下列何者最可能是該鎮公所採行的方法？ (A)舉辦特色產業活動 (B)興建公有停車場 (C)舉債彌補業者損失 (D)立法維持交易秩序。

答案：(A)

解析：舉辦地方產業特色活動，吸引人潮。

出處：試題

29.() 商業周刊與參玖參公民平臺共同編製「地方財政昏迷指數」，調查顯示苗栗縣負債從200多億元增加到600多億元，財政狀況是全臺唯一進入「瀕臨腦死」的縣市。腦死定義為「到急迫改革的程度，若不立即重新設定財務策略，或中央政府及時給予援手，該縣市的財務運作將停頓終止。」而縣議員調到一筆「25年來沒有刪過的預算」資料，才發現預算裡竟然包含「退休公教人員聯誼」等跟縣政無關的項目。根據上文，苗栗縣財政出現問題的主因為何？ (A)苗栗縣自籌財源困難 (B)預算缺乏監督，財政惡化 (C)中央政府統籌分配稅款過少 (D)地方財政必須全額依賴中央支援。

答案：(B)

出處：習作

30.() 附圖為學校所舉辦的各項活動通知，身為國中生的我們，可藉由參加下列哪一項活動來參與政治？ (A)

~校慶園遊會義賣活動~
日期：9月25日
響應愛地球義賣二手物

(B) ~海外遊學夏令營~
日期：8月7日~8月13日
學習獨立自主、視野國際化

(C) ~安養院愛心陪伴歡度中秋~
日期：9月5日
溫馨佳節、關懷老人志工服務

(D) ~政黨競選總部參觀活動~
日期：12月16日
體驗政治參與、學習選舉程序

答案：(D)

出處：試題

31.() 以下是小蔡一家人在週六的行程安排。請問：當中有哪幾項屬於政治參與？

- (甲)爸爸：參加社區清潔活動。
- (乙)媽媽：替候選人助選。
- (丙)小蔡：上網選購外文圖書。
- (丁)妹妹：收看政論節目。

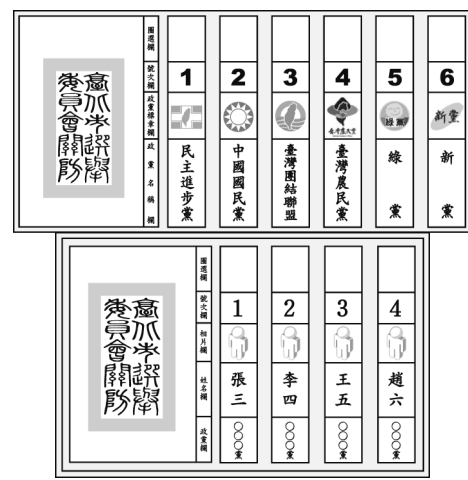
(A)甲乙 (B)乙丁 (C)甲丙 (D)乙丙。

答案：(B)

解析：媽媽和妹妹安排的行程屬之。

出處：試題

32.() 附圖中的選票應是出現在下列哪一項公職人員選舉？




(A)總統、副總統 (B)縣、市長 (C)立法委員 (D)直轄市議員。

答案：(C)

解析：立法委員採單一選區兩票制選舉，一票選人，一票選黨。

出處：試題

33.() 附圖中的投票流程為人民參與公共事務的一種方式，若投票結果表示該議題未獲通過，則該議題在幾年內不得再提出？



(A)半年 (B)1年 (C)2年 (D)3年。

答案：(C)

解析：此圖為公民投票流程簡圖，根據《公民投票法》規定，若該議題不通過，則2年內不得再提出。

出處：試題

34.() 在2018年底的大選與公投正如火如荼開票時，竟有網友公然在網路上發文，亮出自己公投圈票的照片，其廢票意圖明顯。該名網友必須了解哪項選舉投票的原則，以免再犯？ (A)普通原則 (B)平等原則 (C)直接原則 (D)無記名原則。

答案：(D)

出處：習作

35.() 由於全球暖化，造成氣候變遷，導致某些國家可能會因為海平面上升而面臨被淹沒的威脅。請問：哪一洲的島國面臨這樣的威脅？這個國家將因此失去哪項國家構成的要素？ (A)亞洲；人民 (B)大洋洲；領土 (C)亞洲；政府 (D)大洋洲；主權。

答案：(B)

出處：習作