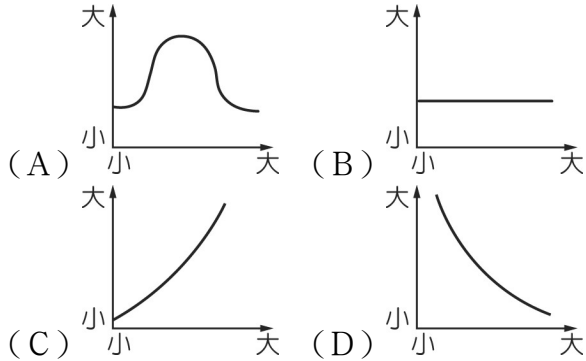


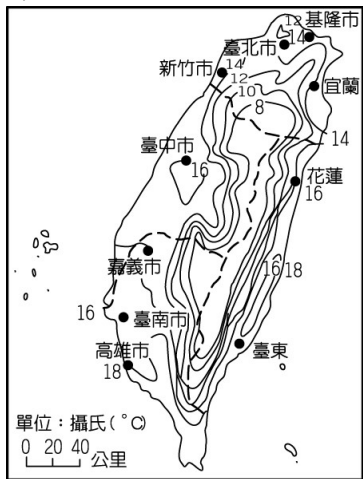
社會領域 社會科 7上 補考題庫卷(三科合考)

一、單題 (1~30 每題 3 分, 31~35 每題 2 分)

1. (C) 坡度的大小和河川的流速關係甚大, 若以橫座標代表流速, 縱座標代表坡度, 兩者之間的關係應該為下列何者?



2. (B) 臺灣河川水位易受到地形及氣候的影響, 根據附圖臺灣某季節的氣溫分布圖來看, 此時下列哪一條河川的水位最高?



- (A) 高屏溪
(B) 淡水河
(C) 濁水溪
(D) 大甲溪。

3. (B) 某年中央氣象局氣象站所測得的溫度資料如附表所示, 請問: 表中所顯示出來的氣溫數值應該為下列何者?

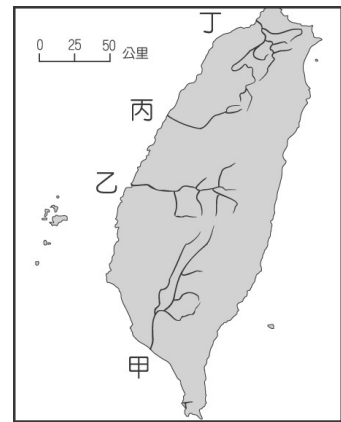
測站	溫度 (°C)
臺北	29.1
宜蘭	28.4
嘉義	28.0
臺南	27.9
高雄	28.3

- (A) 一月均溫
(B) 七月均溫
(C) 年均溫
(D) 年溫差。

4. (A) 臺灣到了冬天, 有時候氣溫急驟降低, 經常低於 10°C, 寒風刺骨, 稱為寒流。下列對於寒流的形成原因, 何者正確?

- (A) 大陸高氣壓南下
(B) 西南季風強勁
(C) 空氣對流旺盛
(D) 低氣壓籠罩。

5. (B) 附圖中哪一條河川的入海處最靠近北回歸線?

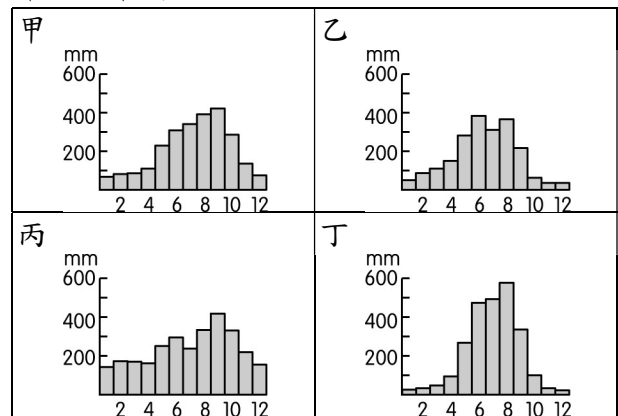


- (A) 甲 (B) 乙 (C) 丙 (D) 丁。

6. (C) 地形對氣候的影響, 以下列哪些方面最為顯著?
(甲) 緯度 (乙) 氣溫 (丙) 季風 (丁) 降水量

- (A) 甲乙
(B) 乙丙
(C) 乙丁
(D) 甲丁。

7. (C) 臺灣北、中、南、東四個區域的降水量分布圖如附圖所示。請問: 其中哪一個較可能為北部地區的降水分布圖?



- (A) 甲 (B) 乙
(C) 丙 (D) 丁。

8. (B) 王先生觀察臺灣近日的氣壓分布狀況, 發現目前太平洋高氣壓正籠罩在臺灣上空, 因此最可能形成何種天氣狀況?

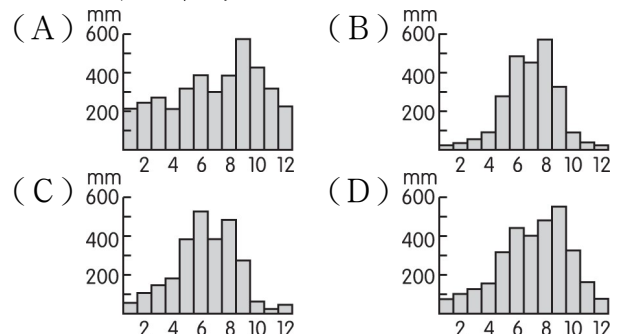
- (A) 連日陰雨
(B) 晴空萬里
(C) 強風豪雨
(D) 午後陣雨。

9. (B) 在水循環的過程中, 降水的形式不包括下列何者? (A) 雨水 (B) 水氣 (C) 冰雪 (D) 冰雹。

10. (B) 「未吃五月節粽, 破裘不甘放。」此一氣候諺語最可能是形容何項天氣因子的變化?

- (A) 風向 (B) 氣溫
(C) 風速 (D) 降水量。

11. (A) 若依河川流域的水資源利用便利性而言, 下列哪一個降水分布型態最有利於河川水位穩定, 沿岸地區取水灌溉最為便利?



26. (C) 近日教育部部長針對校園霸凌引發之憾事，發文重申教育部與全體教育工作者最重要的責任就是不讓任何孩子因為任何原因受到歧視霸凌。請問：學校應避免霸凌事件再度發生，才能落實學生何項權利保障？
- (A) 學習權
(B) 受教育權
(C) 身體自主權
(D) 人格發展權。
27. (B) 今天開班會，討論事項的主題是選出校慶表演節目。請問：下列哪一項情境會使得明萍提出附圖發言，以解決開會過程的問題？

主席，我要提出秩序問題。



- (A) 班會開始先選出主席、司儀、紀錄
(B) 靖博擔任紀錄，宣布會議名稱和開會目的
(C) 主席以先提議先表決的方式，請同學們表決討論主題
(D) 涵真在臨時動議時舉手發言，提出改善上課秩序的建議。
28. (D) 美新參觀某部落成立的原住民族教育中心，並聽取該中心的工作簡報。請問：下列哪一項內容最不可能出現在簡報中？
- (A) 母語歌謠教唱班
(B) 祭典文化研習班
(C) 編織技藝傳承班
(D) 人工智慧機器人研發班。
29. (B) 達娜伊谷溪是山美部落的傳統漁場，曾有外來人士使用毒魚、電魚、炸魚等不當方式破壞生態，造成當地臺灣特有魚種鮎魚岌岌可危。因此族人組成河川保育委員會和巡邏隊，並申請封溪，多年的努力，終於讓鮎魚復育成功。上述山美部落的作法，隱含了原住民族的何種觀念？
- (A) 社會規範應隨時代變遷
(B) 人類應與自然環境和平共存
(C) 自然資源應與他人共享
(D) 維護傳統應兼顧競爭力。
30. (C) 班上小組討論時，大家分享對原住民族部落意義的理解，下列何人的認知較為正確？
- (A) 小珮：成員彼此間的權利義務關係由法律規定
(B) 小旭：一個部落通常由多個原住民族共同組成
(C) 小純：部落是依其傳統規範、共同生活結合而成的團體
(D) 小奈：部落的領導組織是由政府單位指派。
31. (D) 關於「身體自主權」的敘述，下列何者正確？
- (A) 只要我喜歡，有什麼不可以
(B) 生死相許，必定不離不棄
(C) 不問對錯，只問相不相挺
(D) 愛惜自己，尊重別人。
32. (D) 當全班正要對同學提出的議案進行表決時，正好學校的廣播器故障，發出刺耳的聲音，干擾了表決的進行，此時同學可以對主席提出下列何者？
- (A) 宣布散會
(B) 臨時動議
(C) 秩序問題
(D) 權宜問題。
33. (B) 如有遇到同學或師生之間的性騷擾事件，學校的處理流程順序，何者正確？

- 甲.被害人(或父母)/檢舉人提出申請
乙.彙報主管機關
丙.性別平等教育委員會調查、輔導
丁.學務處(教導處或訓導處)受理

- (A) 甲乙丙丁
(B) 甲丁丙乙
(C) 乙甲丙丁
(D) 丙甲丁乙。

34. (C) 呈上題，學校處理性騷擾事件的方式與步驟，是根據哪條法律的規定？

- (A) 《教育基本法》
(B) 《校園性別平等法》
(C) 《性別平等教育法》
(D) 《妨礙性自主法》

35. (A) 根據原住民委員會的核定，目前臺灣原住民族共有幾族幾部落？

- (A) 16族 736個部落
(B) 16族 637個部落
(C) 17族 736個部落
(D) 17族 637個部落。

(試題結束)