

# 臺中市立公明國民中學 八年級下學期 地理+公民科 補考題庫

一、單選題：每格 4 分、共 100 分

- ( ) 1. 基督教、佛教與伊斯蘭教並列為世界三大宗教，這三者皆起源於下列何處？ (A)亞洲 (B)歐洲 (C)美洲 (D)非洲

答案：(A)

- ( ) 2. 「此地全年乾燥少雨，景色單調，縱橫交錯的管線從各地穿過，沙漠區有許多地下水井灌溉的新農墾區。」上述地理景觀最可能出現於亞洲的哪個半島？ (A)朝鮮半島 (B)印度半島 (C)中南半島 (D)阿拉伯半島

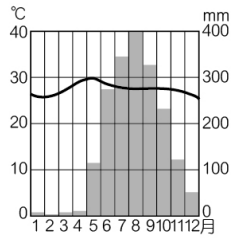
答案：(D)

解析：阿拉伯半島氣候乾燥少雨，當地盛產石油，有建油管輸送至其他地區

- ( ) 3. 印度和巴基斯坦紛爭不斷，其中宗教差異也是重要的因素之一。印度與巴基斯坦分別信仰哪種宗教？ (A)印度教、伊斯蘭教 (B)印度教、佛教 (C)伊斯蘭教、天主教 (D)印度教、天主教

答案：(A)

- ( ) 4. 附圖為菲律賓首都馬尼拉氣候圖，由圖可推判何種氣候資訊？



- (A)夏乾冬雨，乾溼分明 (B)7、8月降水受鋒面滯留影響 (C)夏季吹東北季風，迎

風面多雨 (D)終年高溫多雨，屬於熱帶氣候

答案：(D)

解析：(A)改夏雨冬乾；(B)改颱風；(C)改西南季風。

- ( ) 5. 附圖中的標誌為六芒星，又稱大衛之星，上下兩正三角形代表男性與女性能量的象徵。為了銘記猶太人復國的勝利，於是使用六芒星在該國國旗上。該國最可能為下列哪個國家？



- (A)沙烏地阿拉伯 (B)敘利亞 (C)以色列 (D)埃及

答案：(C)

- ( ) 6. 「……西元 1281 年夏季，忽必烈派出一支載有 15 萬士兵的艦隊進攻日本，要求歸順，日本人奮力抗擊長達七周。正值此時，一場『神風』毀掉半數以上的蒙古軍，解救了日本的危機。」根據當地的氣候特性判斷，文中的「神風」最可能是下列何者？ (A)季風 (B)颱風 (C)沙塵暴 (D)盛行西風

答案：(B)

解析：日本每年夏季，常有來自西太平洋的颱風侵襲，強風和豪雨往往造成災害。文中的「神風」最可能的是颱風。

- ( ) 7. 伊斯蘭教是比較沒有種族偏見的宗教，但在西亞卻也數度因種族的歧見而留下難以抹滅的傷痛。以色列與阿拉伯之間的紛爭，就是哪兩種不同種族的對抗？ (A)波斯人和阿拉伯人 (B)猶太人和波斯人 (C)土耳其人和猶太人 (D)猶太人和阿拉伯人

答案：(D)

解析：以色列為猶太人，阿拉伯國家多為阿拉伯人

- ( ) 8. 南韓近年來經濟實力相當強大，尤其三星企業集團極具競爭力，產品行銷世界各國，賺取了大量外匯。上述企業可能以下列哪個產業類別為發展重點？ (A)汽車工業 (B)電子產業 (C)紡織工業 (D)鋼鐵工業

答案：(B)

- ( ) 9. 伊斯蘭教主要盛行於西亞阿拉伯半島，但在非洲哪個國家也可以發現清真寺的蹤跡？ (A)南非共和國 (B)肯亞 (C)剛果民主共和國 (D)埃及

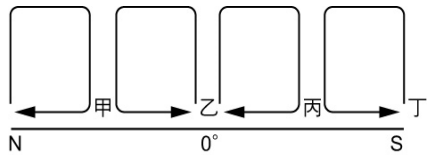
答案：(D)

- ( ) 10. 日本一直是世界上的經濟強國，其商品行銷全世界，每年臺灣對日本的貿易總是處於入超的狀態。臺灣對日本入超所代表的意義為何？ (A)臺灣賣到日本的商品總值超過日本賣給臺灣的商品

總值 (B)臺灣每年只購買日本的商品 (C)日本是臺灣的重要經濟夥伴 (D)臺灣向日本買的商品總值多過日本向臺灣買的商品總值

答案：(D)

- ( )11. 附圖為全球高、低氣壓之風向示意圖。西亞應位於圖中哪個地區？



(A)甲 (B)乙 (C)丙 (D)丁

答案：(A)

解析：西亞受副熱帶高氣壓沉降氣流影響而乾燥少雨，又西亞位於北半球，因此位於甲區

- ( )12. 印度半島上的塔爾沙漠與恆河三角洲，同為副熱帶高壓所籠罩，但前者氣候乾燥少雨，後者卻易有水患成災，導致此種差異出現的原因為何？ (A)經度、地形 (B)季風、地形 (C)季風、洋流 (D)距海遠近、洋流

答案：(B)

解析：印度東北部山區因夏季西南季風而有地形雨，恆河三角洲地勢低窪，易有水患。塔爾沙漠距離山地較遠，季風微弱，水氣不足以成雲致雨，加上副熱帶高壓籠罩，氣流下沉，因此形成沙漠。

- ( )13. 張先生參觀私人博物館時，不慎撞到館內陳列的清朝蟠龍花瓶，使得花瓶當場碎裂。依照《民法》規定，後續的賠償問題應如何處理較為適當？ (A)設法以快乾黏妥花瓶碎片 (B)趁機逃跑，製造不在場證明 (C)尋找外觀類似的花瓶替代 (D)以金錢賠償弄碎的花瓶

答案：(D)

- ( )14. 根據《兒童權利公約》與我國《憲法》的規定，兒童能享有充足的食物、乾淨的飲用水、基本的醫療服務與適當的生活水準，此內容所指的是下列哪一項權利？ (A)參與權 (B)受保護權 (C)發展權 (D)生存權

答案：(D)

- ( )15. 由調解委員會製作的調解書，必須經過何種程序才具備與法院確定判決同等的效力？ (A)當事人簽名並蓋章 (B)經由縣(市)政府同意 (C)經過法院核定通過 (D)全體調解委員簽名

答案：(C)

- ( )16. 上課時，老師請同學舉出「權利救濟」的實例。下列哪位同學的舉例最符合「權利救濟」的意義？ (A)阿光：「我家加裝鐵窗就是要防止小偷入侵。」 (B)小華：「我媽曾擔任志工，負責照顧獨居老人。」 (C)阿明：「我爺爺到法院提起訴訟，要求鄰居還錢。」 (D)小燕：「我爸參加勞工街頭遊行，以爭取加薪。」

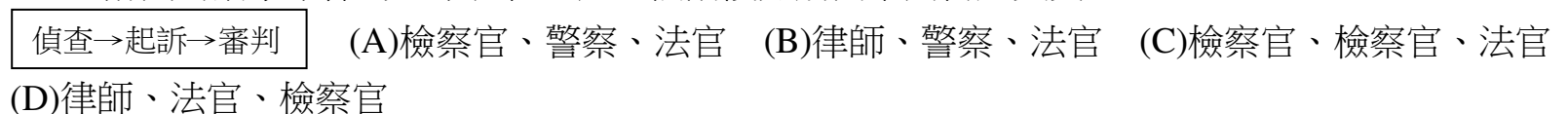
答案：(C)

- ( )17. 「雅來客」蛋糕店近來名聞遐邇，每到假日購買蛋糕的民眾必定大排長龍。這間蛋糕店除了蛋糕好吃之外，其中較特別的是老闆收留很多國中中輟生來當店員與學徒。下列是這間店的工作規定，其中哪項有可能違反《勞動基準法》？ (A)每日工作 8 小時 (B)為求蛋糕現做現賣，每日均要從凌晨 4 點開始準備材料 (C)上班不得遲到早退 (D)為求衛生，一定要戴帽子與手套

答案：(B)

解析：依據《勞動基準法》的規定，童工例假日不得工作，午後 8 點至隔天凌晨 6 點也不能工作

- ( )18. 附圖為刑事案件的基本流程，此三個階段分別由下列何人負責？



答案：(C)

解析：有調查職權者為警察、檢察官；有起訴職權者為檢察官；有審判職權者為法官。

- ( )19. 紹洋在下雨天的夜晚不幸撞傷路人甲，雙方決定私下和解。兩人選擇以上述方達成的協議的原因不可能為下列何者？ (A)希望以最迅速的方式解決紛爭 (B)想要有公正的政府機關從中調停 (C)希望能花費最少的費用解決紛爭 (D)希望節省時間、費用

答案：(B)

- ( )20. 某市議員公開質疑市長涉及違法炒地皮，於是市長在律師陪同下，前往地方檢察署按鈴申告。關於上述的內容，以下解讀何者正確？ (A)市長的行為屬於提出告訴 (B)按鈴申告行為須委任律師 (C)法官受理申告並展開審理 (D)接受申告者沒有起訴權限

答案：(A)

解析：到檢察署按鈴申告，是向檢察官提出告訴。(B)告訴不須委任律師；(C)由檢察官受理申告並開始偵查；(D)檢察官有起訴權限。

( )21. 根據附圖內容判斷，以下分析何者正確？

法務部公告將提出《科技偵查法》，以利警方辦案。民間團體表示，此法侵害個人隱私，立法必須謹慎。以德國為例，政府必須在「其他偵查手段沒有顯著效益」的前提下，才可以向法官聲請進行通訊監察。

(A)行政法規可任意限制《憲法》規範權利 (B)政府行政管制應

該考慮到人民權利保障 (C)民間團體顧慮此後將無法尋求行政救濟 (D)即使為了辦案也絕對不可限制人民權利

答案：(B)

解析：(A)不可任意限制；(C)疑慮是行政管制過度侵害人民權利；(D)為了公益仍可能侵害部分人民權利。

( )22. 某店家老闆僱用不滿 10 歲的小孩，並利用其叫賣商品時的可愛模樣來招攬顧客，店家老闆最可能會因違反哪種法律而受罰？ (A)《公平交易法》 (B)《勞動基準法》 (C)《消費者保護法》 (D)《少年事件處理法》

答案：(B)

( )23. 阿宸（17 歲）喜歡炫耀，某日偷開父親的高級跑車到住家附近兜風，心想只在家附近不會有大礙，結果在路口轉彎時不小心撞到前方正在停紅燈的機車，幸好機車騎士沒有受傷。依據我國法律規定，此時阿宸應該負起何種責任？ (A)阿宸的父母親須負連帶賠償責任 (B)等阿宸滿二十歲後再來賠償 (C)由於機車騎士沒有受傷，所以阿宸不必負擔任何責任 (D)阿宸屬於限制行為能力人，因此不必負擔任何責任

答案：(A)

解析：阿宸未滿 18 歲，屬於限制行為能力人，法定代理人（父母親或監護人）須負連帶賠償責任

( )24. 年齡是決定個人行為是否具有法律效力的重要因素。若僅依年齡判斷，附圖四人的年齡由小到大應為下列何者？

甲：從今天起我適用《少年事件處理法》  
乙：從今天起我不受《兒童及少年福利與權益保障法》的保護  
丙：從今天起我符合童工的資格，可以合法工作  
丁：從今天起我可以在各項選舉投下神聖的一票

(A)丙甲乙丁 (B)甲乙丁丙 (C)甲丙乙丁 (D)乙丁丙甲

答案：(C)

解析：甲 12 歲；乙 18 歲；丙 15 歲；丁 20 歲。

( )25. 20 歲的阿慶在網路遊戲中的天幣與寶物被偷走，他心有不甘，於是入侵他人電腦並偷取天幣與寶物。就在此事發生的幾個月後，立法院通過《刑法》的修訂，增列「妨害電腦使用罪」，以規範電腦駭客行為。阿慶的行為是否構成犯罪？ (A)是，阿慶屬於完全行為能力人 (B)是，偷竊行為屬於犯罪行為 (C)否，因為犯罪當時必須符合法律規定才構成犯罪 (D)否，民事糾紛並非犯罪行為

答案：(C)

解析：由於當時尚未增列「妨害電腦使用罪」，因此阿慶的行為不構成犯罪。