

臺中市公明國中 7下社會領域 歷史科 補考題庫卷

班級：

姓名：

座號：

一、選擇：(解答在後)

- ()中華民國政府在接收臺灣後，許多措施和制度的實施，都讓臺灣人民感到失望。民國 36 年，臺灣北部爆發了大規模民眾反抗政府的事件。而促使此事件爆發的導火線與下列何者的關係最密切？ (A)取締鴉片販賣 (B)為匪宣傳 (C)違法示威抗議 (D)查緝私菸。
- ()二二八事件後，當時的中央政府為彌補此次事件所造成的傷害，曾經謀求補救措施，下列相關敘述何者有誤？ (A)將行政長官陳儀解職 (B)將行政長官公署改為臺灣省政府 (C)成立處理委員會向受害者道歉 (D)派人員來臺調查。
- ()總督府的檔案中，有許多戰爭信件的紀錄。七年忠班的學生正在閱讀這些檔案，其中文山郡 Limogan 社「竹田信男」的通信〈不能輸〉中說：「當我登陸時，抱著以高砂族第一回代表的名譽，絕不能輸給其他族，願以粉身碎骨報國的決心。因此今後只要我有能力，為了高砂族的名譽、為了幫助無敵皇軍，願認真作事。」關於這份資料，下列哪一位同學的判讀是正確的？ (A)欣儀：這些高砂族是前往中國協助日本作戰 (B)宜柔：信中提到粉身碎骨報國，展現出對臺灣的認同 (C)永祥：此內容展現政府安撫漢人政策的成功 (D)季衡：這些高砂族應是前往南洋作戰。
- ()這年，我國在外交與兩岸關係上發生重大變化，原因是我國退出聯合國，以及中華人民共和國加入聯合國，上述事件發生在什麼時候？ (A)民國 60 年 (B)民國 61 年 (C)民國 62 年 (D)民國 63 年。
- ()日治時期，臺灣總督府實施統一貨幣與度量衡的政策，為日後臺灣帶來何種影響？ (A)與中國的貿易量占比大幅提升 (B)有助於人口調查的進行 (C)大量進口外國商品 (D)加速日本與臺灣間的資金、商品的流通與交易。
- ()根據民國 36 年實施的《憲法》規定，國民大會為全國最高權力機構，國大代表任期六年，由人民選舉產生，並有修訂《憲法》及選舉總統的職權。然而，第一屆國民大會代表卻從民國 37 年持續任職到 80 年，被譏為「萬年國代」。請問：這樣不符合《憲法》規定的現象，直到哪一位總統任內才改變？ (A)李登輝 (B)蔣經國 (C)蔣中正 (D)馬英九。
- ()附表統整了臺灣某歷史事件發生的背景，請問：此歷史事件最有可能是下列何者？ (A)西來庵事件 (B)霧社事件 (C)二二八事件 (D)國共內戰。

政治上	政府政策失當，部分公務員貪汙失職，引起臺籍士紳不滿
社會上	軍警作威作福，失業人數增加
經濟上	物價高漲，民生物資遭壟斷
文化上	臺灣與中國隔閡頗久，政府不夠了解臺灣實況

- ()下表是西元 1950~1988 年間，臺灣核准登記的媒體家數統計表。請問：促成西元 1988 年核准登記的報紙、通訊社等數量激增的主要原因為何？ (A)政府鼓勵出版事業，以對抗中共的文化大革命 (B)異議人士批判政局，促成社會運動的風起雲湧 (C)知識分子關心社會，以行動捍衛言論出版自由 (D)政府宣布解除戒嚴，全面開放言論出版的自由。

年度	報紙(種)	雜誌(種)	通訊社(家)	出版社(家)
1950	44	184	28	—
1961	31	686	42	587
1971	31	1534	43	1395
1987	31	3422	44	2965
1988	126	3708	126	3191

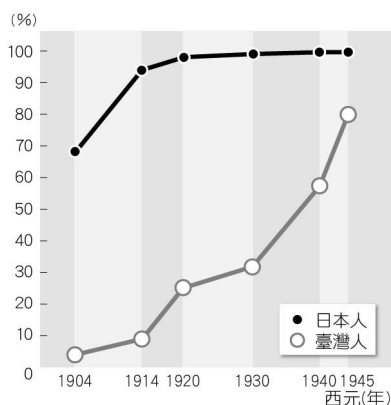
- ()附表為四個年分的臺灣稻米產量和輸出量，西元 1938 年的產量與輸出量與西元 1900 年相比，增加的數量幅度相當大，這種情形應與下列何者有關？ (A)嘉南大圳的完工 (B)全臺人口數暴增 (C)蔗糖產量供過於求 (D)二次大戰進入尾聲，臺米被徵收送日。

年代(西元)	產量(萬石)	輸出量(萬石)
1900	286	44
1909	460	98
1934	900	450
1938	982	520

- ()民國四十年代，政府將外銷農產品所獲取的利潤，轉投資工業生產，反映哪一項經濟發展主張？ (A)以農業培養工業 (B)以工業發展農業 (C)工業日本，農業臺灣 (D)工業臺灣，農業南洋
- ()在一本介紹臺灣紙幣的書上，有一張如附圖的紙幣，紙幣上印有「株式會社」、「臺灣銀行」和「臺灣銀行券」等字樣。請問：關於這張紙幣，下列敘述何者錯誤？ (A)是日治時期發行的紙幣 (B)由臺灣第一個現代化的金融機構所發行 (C)推行南進政策的結果 (D)目的是為了減少交易爭議。



12. ()附圖是日治時期臺灣學齡兒童就學率曲線圖。請問：一九四〇年代，臺籍兒童的就學率迅速上升的原因為何？ (A)總督府廣設小學校 (B)總督府推動義務教育 (C)讀書可以保證就業 (D)臺人變富裕可付學費。



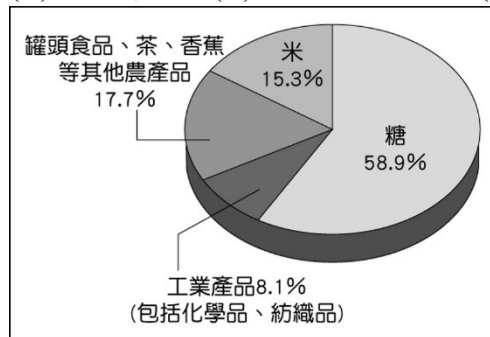
13. ()臺灣自劉銘傳時期開始開鑿深井供水，此為臺北公共給水之開始。日治時期更設立淨水場，提供住戶日常用水。請問：這樣的作法是為落實下列哪個要求？ (A)守時觀念 (B)現代衛生觀念 (C)守法觀念 (D)鼓勵放足斷髮。
14. ()從前有一首在民間流行的歌曲：「消滅朱毛，殺漢奸，殺漢奸；收復大陸，解救同胞，服從領袖，完成革命；三民主義實行，中華民國復興；中華復興，民國萬歲；中華民國萬萬歲！……」此歌曲最可能流行於下列哪一個時期？ (A)武力對峙時期 (B)政治對峙時期 (C)民間交流時期 (D)皇民化運動時期
15. ()西元 1899 年，臺灣第一個現代化的銀行——臺灣銀行，在臺北開幕。請問：臺灣銀行是在臺灣歷史的哪個階段設立？ (A)鄭氏在臺時期 (B)清帝國時期 (C)日治時期 (D)中華民國時期。

16. ()阿發伯感嘆歲月流逝，勾起他年輕時當「保正」的回憶。在阿發伯的回憶裡，哪一項不可能出現？ (A)要正確調查戶口 (B)監督居民打掃環境 (C)表揚民眾善行 (D)協助修改法律條文。


17. ()花田一路一家人在西元 1903 年從日本搬遷到臺灣定居，一路明年就要 8 歲了，根據當時政府規定，8 歲的學童都要接受學校的正式教育，則一路最可能會就讀下列哪一所學校？ (A)金瓜石小學校 (B)艋舺公學校 (C)角板山蕃童教育所 (D)總督府中學校。

18. ()附圖是臺灣某一時期的各項出口產品所占的比例，這應該是哪個時期的比例圖？ (A)進口替代

- (B)出口導向 (C)十大建設時期 (D)產業升級。



19. ()第二次世界大戰後，中華民國政府因為哪個事件而明令動員戡亂？ (A)中日戰爭退敗 (B)「二二八事件」擴大 (C)國共內戰漸趨激烈 (D)民眾示威遊行。
20. ()清代臺灣建省後劉銘傳擔任首任巡撫，在臺灣推動自強新政，進行現代化的建設；日治時期，日本在臺灣進一步拓展了現代化建設的規模。請問：下列何者是這兩個時期都有的建設項目？ (A)統一幣制與度量衡 (B)在臺灣興築鐵路 (C)興建淡水、基隆等地的炮臺 (D)進行全面的戶口與人口普查。
21. ()知名電玩《返校》改編成電影後轟動全臺。故事的背景是在「白色恐怖」時期的翠華中學，殷翠涵老師因帶領學生私下舉辦讀書會，卻不幸遭舉報，導致諸多師生被抓，且有不少人失去生命。請問：翠華中學師生們受難，主要是因為當時哪條法律的緣故？ (A)《動員戡亂時期臨時條款》 (B)《組織犯罪防制條例》 (C)《中華民國憲法》 (D)《戒嚴令》。
22. ()西元 1974 年，在第二次世界大戰結束近三十年後，人們在印尼叢林裡發現了獨活下來的高砂義勇隊成員，名為中村輝夫。請問：從他隸屬的部隊來看，他應屬於哪個族群？ (A)日本人 (B)閩南人 (C)客家人 (D)原住民。
23. ()附圖的漫畫，描述日治時期蔗農的心酸，主要是因為當時日資製糖會社擁有特權，使得臺灣蔗農一直處於被壓榨卻又無可奈何的狀況。請問：上述日資製糖會社主要具有何種特權？ (A)可決定甘蔗輸出地區 (B)可決定甘蔗的品種 (C)可決定種植甘蔗的地區 (D)可決定收購甘蔗的價格。



24. ()某一時期，政府公布了《臺灣省各縣市街道名稱改正辦法》，規定像是紀念日本人物、宣揚日本國威等含義的地名都應改掉，以能夠發揚中華民族精神、宣傳三民主義、紀念中國偉人等新名稱代替。請問：這樣的規定最有可能出現於何時？ (A)一九〇〇年代 (B)一九二〇年代 (C)一九四〇年代 (D)一九八〇年代。

25. ()新竹科學工業園區的設立，代表臺灣的產業發展逐漸轉型到哪種類型？ (A)輕工業 (B)重工業 (C)高科技產業 (D)國防工業。

解答：

一、選擇：(每個題目 4 分，共 100 分)

1. 《答案》D

2. 《答案》C

詳解：當時政府並未向受害者道歉。

3. 《答案》D

詳解：從「高砂族」及「為了幫助無敵皇軍」可知，竹田信男應是皇民化運動下的高砂義勇軍。(A)高砂義勇軍多為配合南進政策而派往南洋作戰；(B)應是展現對日本的認同；(C)是對原住民的教化政策成功。

4. 《答案》A

5. 《答案》D

6. 《答案》A

詳解：中華民國政府播遷臺灣，政府因大陸地區失守以致長期未進行國大代表改選，直至李登輝總統時代才進行國大代表改選。

7. 《答案》C

8. 《答案》D

9. 《答案》A

10. 《答案》A

11. 《答案》C

12. 《答案》B

詳解：西元 1943 年，總督府為了配合皇民化運動而實施義務教育，因此就學率快速增加。

13. 《答案》B

14. 《答案》A

15. 《答案》C

16. 《答案》D

17. 《答案》A

詳解：日治初期，在臺日人的初等教育是就讀「小學校」，學習內容與日本本國一致，臺人就讀「公學校」、原住民就讀「蕃童教育所」，中學校則是中等教育，花田一路是 8 歲的在臺日人，故就讀小學校。

18. 《答案》A

詳解：「進口替代」時期，以農業培養工業，農產品比例偏高。

19. 《答案》C

20. 《答案》B

詳解：劉銘傳興建基隆到新竹的鐵路(臺北至新竹段於邵友濂任內通車)，日治時期完成西部縱貫鐵路，故選(B)。

21. 《答案》D

詳解：(A)《動員戡亂臨時條款》主要是擴充總統權力，並非限縮人權；(B)主要是針對刑案，如暴力犯罪等；(C)《憲法》用於保障人權，而非限縮人權；(D)《戒嚴令》限縮人民自由與基本人權，包括集會、結社、言論、出版、營業時間等權利，符合題幹。

22. 《答案》D

23. 《答案》D

24. 《答案》C

詳解：由題幹可知當時的政府極力想去除日本化的痕跡，代之以中華文化及特定意識型態，故應發生於剛接收臺灣的一九四〇年代。

25. 《答案》C