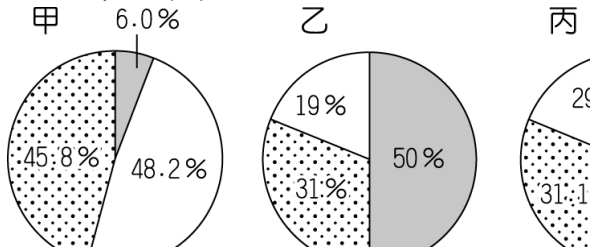


一、單一選擇題 (每題 2.5 分, 共 100 分)

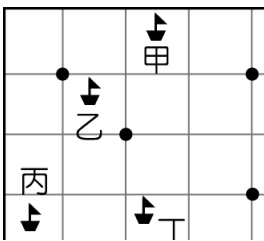
- 1.(C) 下列有關臺灣人口分布與遷移的敘述何者正確？ (A)移入臺灣的人口全來自中國與東南亞國家 (B)臺灣移出的人口全都因工作、求學而移出 (C)北部因工作機會較多，為主要人口移入地 (D)整體而言，臺灣的人口分布狀態十分平均。

- 2.(C) 產業結構的變遷反映出一國的經濟發展，附圖為星星國三個不同階段的產業結構圖，若依其發展順序，應該為下列何者？



- (A)甲乙丙 (B)乙甲丙 (C)乙丙甲 (D)甲丙乙。

- 3.(B) 臺灣遠洋漁業的作業範圍遍及全球，卻也常因為誤入他國經濟海域而產生糾紛。附圖中的黑點分別為四個島國的位置，圖中哪一艘作業漁船最可能出現上述情況？



- (A)甲 (B)乙 (C)丙 (D)丁。

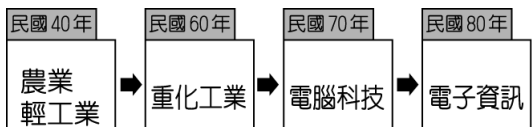
- 4.(B) 附圖為恩宇和美國來的泰勒參觀臺灣農村的經過，恩宇說的限制包括下列哪一項？



- (A)氣候溼熱 (B)地形起伏 (C)土壤肥沃 (D)降水季節集中。

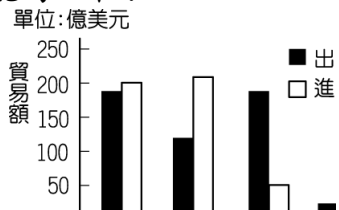
- 5.(C) 陶淵明〈歸園田居〉詩中：「種豆南山下，草盛豆苗稀。晨興理荒穢，帶月荷鋤歸。」這種清晨下田鬆土除草，星月下才扛著鋤頭回家歇息的田園生活，恰可以形容臺灣農業經營的哪一種特色？ (A)耕地狹小 (B)技術先進 (C)集約度高 (D)休閒產業興起。

- 6.(D) 臺灣各階段的主要產業類別如附圖所示，根據圖中資料判斷，下列有關產業發展的敘述何者最為正確？




- (A)所需勞動人口數逐漸增加 (B)國家經濟發展程度下降 (C)產品附加價值愈來愈低 (D)產業發展由需大量低廉勞工轉向資本密集度高。

- 7.(B) 附圖為某年甲、乙、丙、丁四個國家與臺灣的貿易額統計圖，已知臺灣對日本的入超額最大。請問：何者最可能為日本？



- (A)甲 (B)乙 (C)丙 (D)丁。

- 8.(C) 恩宇是一位上班族，附圖為他在週末到鄰近的聚落度假，星期一再返回工作地點的示意圖。請問：若以圖中資料判斷，則有關甲、乙兩聚落的敘述何者正確？



- (A)乙聚落的生活較悠閒 (B)甲聚落的每人生活空間較小 (C)乙聚落的對外交通較優越 (D)甲聚落的工商業較發達。

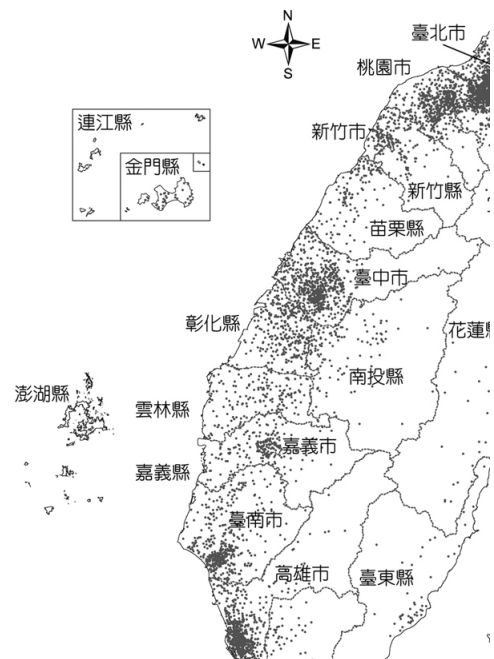
- 9.(C) 2015 年臺灣登革熱疫情嚴重，病例破萬，中央政府成立疫情指揮中心，全面防堵疫情的擴散。附表為截至 2015 年 9 月 24 日的登革熱病例的分布統計圖，根據表中資訊判斷，要特別加強防疫工作的區域位於附圖中哪一區域？

縣市	病例數	縣市	病例數	縣市	病例數
臺南市	13,960	嘉義縣	13	宜蘭縣	3
高雄市	1,858	新竹縣	12	花蓮縣	3
屏東縣	61	新竹市	9	南投縣	3
新北市	33	嘉義市	9	基隆市	2
臺中市	32	彰化縣	7	金門縣	2
臺北市	29	雲林縣	6	苗栗縣	2
桃園市	25	澎湖縣	4	臺東縣	1



- (A)甲 (B)乙 (C)丙 (D)丁。

- 10.(A) 根據衛服部統計，104 年臺灣各縣市醫院中，平均每一萬人的病床數，以花蓮縣的 122.2 床位居全臺第一；而臺北市排名倒數第五，平均一萬人口僅有 32.9 個病床數。但花蓮縣醫療院所僅有 277 家，臺北市卻有高達 6,675 家的醫療院所。根據下圖，上述現象可以如何解釋？



- (甲)花蓮縣人口密度高，因此所擁有的病床數高
(乙)花蓮縣人口密度低，因此每萬人相對擁有較多病床數
(丙)臺北市人口密度高，因此醫療院所數量相對較多
(丁)臺北市人口密度低，因此每萬人相對擁有較少病床數

(戊)以平均每萬人口病床數作為縣市醫療資源足夠與否的統計並不全面

(A)乙丙戊 (B)甲丙戊 (C)乙丁戊 (D)甲丁戊。

11.(C) 附圖是某一文件的部分內容，此文件最可能是下列何者？

眾，遂行統治。今得知您片，外無援兵，孤軍頑抗，能體察大清皇帝聖旨，應行抵抗，讓民眾免於戰火之害

(A)法軍將領給清廷的戰帖 (B)日本給牡丹社原住民的公告 (C)日本給臺灣民主國的勸降書 (D)臺灣民主國給日本總督的通牒。【改寫自 106 年會考】

12.(A) 2002 年，南投縣某位年過 80 歲的原住民長老回憶：「小時候，日本人為了進一步開發山區森林與樟腦資源，經常用很少的薪水雇用部落成員到深山負責砍伐或搬運，也常派出警察到部落巡視、駐紮。這些高壓統治政策，逼迫我們只好武裝起來反抗。」請問：這位原住民長老回憶的抗日事件，最有可能是下列何者？ (A)霧社事件 (B)西來庵事件 (C)牡丹社事件 (D)臺灣民主國。

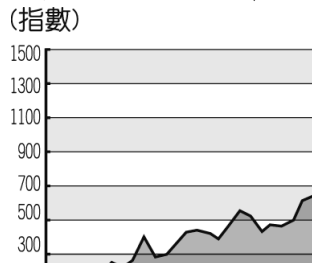
13.(D) 小波找到一幅日治時期的諷刺漫畫(如附圖)，圖中描述著為了改善日治初期臺灣財政不良，總督府藉由實施哪一商品的專賣，來獲取龐大的利潤？



(A)茶葉 (B)蔗糖 (C)酒品 (D)鴉片。

14.(D) 「□竣工後，原本只有五千公頃的水田變為十五萬公頃。其灌溉區一片欣欣向榮，水稻一年三作，成為全國最大的米倉。」請問：文中的□應該是指哪一項水利灌溉工程？ (A)瑠公圳 (B)曹公圳 (C)八堡圳 (D)嘉南大圳。

15.(A) 琍穎在做段考複習時，看到課本上有一張「臺灣輕工業生產指數圖」(如附圖)。請問：圖中在 1930 年代以後，生產指數大幅上升的原因為何？



(A)日月潭發電所的完工 (B)基隆到高雄鐵路完工通車 (C)蓬萊米新稻種的培植成功 (D)日本政府推行皇民化運動。

16.(D) 有一段描述臺灣教育發展史的資料提到：「直到 1941 年後，日本政府為爭取臺灣民心，始將小學校、公學校改制為國民學校，以示平等待遇，實則仍分為第一、二、三號表不同的課程。」根據上文，促成當時臺灣教育措施改變的原因為何？ (A)內地延長主義 (B)南進政策 (C)殖民地特殊統治 (D)皇民化運動。

17.(D) 下列為臺灣某份刊物上刊載的文章：

今日針對普及衛生思想，監督指導的單位須以身作則，首先應喚起市街庄行政人員的自覺，有效配合地方上保甲的力量。此外，藉由小學校、公學校對衛生教育的提倡、社會上報章雜誌的宣傳，來提升民眾的衛生意識。

根據內容判斷，此段文章主要在討論下列何者？ (A)荷蘭聯合東印度公司推動衛生教育 (B)中華民國政府規畫與施行衛生教育 (C)清代開港通商時，傳教士引進公共衛生觀念 (D)日本統治時期，政府與民間推廣公共衛生觀念。【106 年會考】

18.(A) 阿康的爺爺是日本治臺時期的保正，他回憶以前都要協助警察宣布政令，挨家挨戶巡視環境清潔、抓老鼠、清水溝、垃圾清運等工作，也提到當時沒有人敢隨地吐痰或亂丟垃圾。請問：在這樣的作為之下，臺灣社會最明顯的改變為何？ (A)死亡率下降 (B)出生率下降 (C)生產力大增 (D)人口高齡化。

19.(A) 阿康的爺爺是日治時期的保正，他回憶以前都要協助警察宣布政令，挨家挨戶巡視環境清潔、抓老鼠、清水溝、垃圾清運等工作，也提到當時沒有人敢隨地吐痰或亂丟垃圾。請問：在這樣的作為之下，臺灣社會最明顯的改變為何？ (A)死亡率下降 (B)出生率上升 (C)生產力大增 (D)人口高齡化。

20.(D) 下表為日治時期某一年臺灣的教育狀況，從表中可看出當時的教育情形為何？

項目	基礎教育		中等學校學生數	專門學校學生數	高等教育學生數
	學生數	學齡兒童就學率			
日本人	23,711 人	98.2%	477 人	6,856 人	220 人
臺灣人	210,727 人	28.4%	251 人	4,642 人	28 人

(A)臺人基礎教育較日人更為普及 (B)升學管道暢通，臺人紛紛入學 (C)臺人與日人都有平等的受教權 (D)臺人基礎教育不足且升學不易。【改寫自 91 年基測】

21.(A) 附圖為 1940 年代的一則舊剪報，當時此事件造成臺灣民情激憤，演變成後來一連串事情的導火線。請問：剪報中所報導的事件為何？



(A)二二八事件 (B)國共內戰 (C)日本戰敗投降 (D)實施白色恐怖。

22.(B) 1950、1960 年代，政府為鞏固在臺政權，且擔憂匪諜滲透，因此過度使用以下條文，甚至不需依法律程序審判就隨意逮捕民眾。請問：當時的時空背景為何？

意圖破壞國體、竊據國土或以非法之方法變更國憲、顛覆政府，而著手實行者，處七年以上有期徒刑；首謀者，處無期徒刑。預備或陰謀犯前項之罪者，處六月以上五年以下有期徒刑。


(A)戰後臺灣初期 (B)白色恐怖時期 (C)解除戒嚴之後 (D)國共內戰爆發。

23.(D) 目前我國總統由人民選舉產生，任期四年，可連選連任一次，但歷史上我國第 1~5 任的總統都是由蔣中正擔任，他可以不斷連任總統的原因為何？ (A)《中華民國憲法》的規定 (B)在美國授權監督下

的委託 (C)當時正值白色恐怖而需要強人領導 (D)《動員戡亂時期臨時條款》擴大總統職權。

24.(B) 老師在用投影機播放一則新聞：「新北市烏來區境內山高谷深，當地原住民族多為泰雅族人，因而設有烏來泰雅民族博物館，展覽該族相關的文物風俗。相傳三百多年前，該族族人狩獵至此，發現南勢溪冒出熱水與輕煙，齊呼『uraikirofu』，意為冒煙的熱水，這就是烏來地名的由來。近年因泡湯文化盛行，各式溫泉旅館在此林立，但有業者以低價向鄉公所承租河川地，後來卻未依照申請目的使用，反而違規建造溫泉飯店，經偵查後發現有圖利之嫌，相關單位人員已將違法者依法起訴。」請問：這則新聞的標題，最有可能是下列哪一則？ (A)發展觀光救經濟，政府應放寬法規管制 (B)傳統土地遭侵占，原住民文化加速流失 (C)烏來正名不能等，原住民地名應該尊重 (D)傳統文化大復活，原住民泡湯很有一套。

25.(C) 以下是戰後臺灣發行的四本雜誌，請利用名稱與封面判斷何者與原住民運動有密切關係？



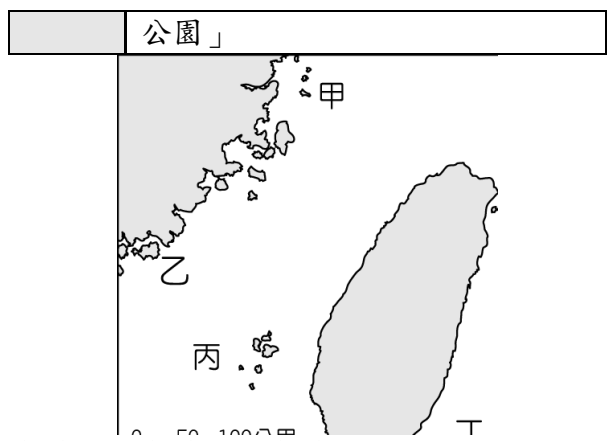
26.(D) 附圖是某時期中華民國政府對於出版社送審的一本辭典的審查結果，請根據圖片內容判斷，這本辭典可能因為哪些因素被裁決查扣？

不妥……應予查扣。
 和國之首都」等字樣，
 「北京」稱為「中華人
 稱為「中國之民主聖地

(A)涉及二二八事件之內容 (B)透露我國國防、外交之機密 (C)充滿日本殖民文化思想 (D)涉及共產主義與中共政權之內容。【改寫自 104 年會考】

27.(B) 附表為某地的簡介，請依內容判斷，找出該地在附圖上的位置？

位置	臺灣西方的離島
歷史特色	兩岸武力對抗時，此地曾發生兩次重大戰役
景觀特色	地質結構上與中國大陸相連，古蹟及文化景觀眾多，成立「國家



(A)甲 (B)乙 (C)丙 (D)丁。

28.(C) 正宇家裡很貧窮，幸好有「阿逗仔」對臺的援助，才得以溫飽。他常常穿著上有「中美合作」字樣的麵粉袋內褲，打著赤膊跑去迎接「阿逗仔」的軍隊，快樂地撿著他們給的罐頭食品。請問：此與哪一歷史事件有關？ (A)臺灣光復 (B)臺美斷交 (C)韓戰爆發 (D)解除戒嚴。

29.(B) 附表是某些年分臺灣佃農每年每公頃收益統計，表中的數字演變反映出政府的哪一項政策？

年代	佃農稻穀收益數
1948 年	1,947 公斤
1949 年	2,788 公斤
1953 年	3,991 公斤
1968 年	6,925 公斤

(A)提高農會功能並興修水利工程 (B)實施三七五減租與耕者有其田 (C)推動六年經建計畫以振興農業 (D)推動十大建設，帶動國內景氣復甦。

30.(B) 人類因應生存需要，經由創造或學習而來的一切成果，都屬於文化的範圍，而附圖中的情境可以表達文化的哪一項特徵？



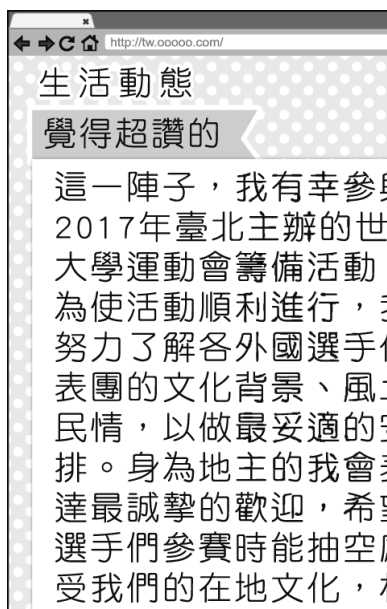
(A)普遍性 (B)差異性 (C)位階性 (D)優越性。

31.(D) 明亨為說明主流文化與次文化的內涵，節錄了一則新聞報導如附圖，根據圖中內容，下列敘述何者正確？

國內要聞
 開齋節是伊斯蘭教相當重要日，如同我們過農曆新年，車站籌備了慶祝活動邀請數

(A)在我國，過開齋節屬於主流文化 (B)以文化等級來說，農曆新年優於開齋節 (C)在我國，伊斯蘭教文化無法與其他文化並存 (D)開齋節活動的舉辦，塑造了臺灣文化的多元色彩。

32.(C) 潔憶在網誌上更新最新動態(如附圖所示)，根據內容判斷，下列敘述何者正確？



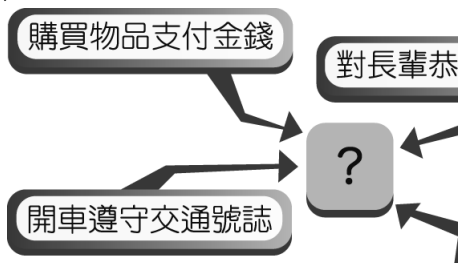
(A) 潔憶的作法將導致文化衝突擴大 (B) 國際互動不利於在地文化的發展 (C) 舉辦世界大學運動會有助於培養多元文化精神 (D) 文化交流的速度在此類活動中較為緩慢。

33.(B) 根據附圖中的對話可知，該齣偶像劇的拍攝呈現出下列何種意義？



(A) 推崇外來文化，促進雙方文化融合 (B) 發展文化創意產業，發揚本土文化特色 (C) 遵循強勢文化，尊重與包容多元文化 (D) 淘汰低等文化，追求高等文化。

34.(A) 卉茵準備以附圖的範例來說明某主題的意義與重要性。請問：此圖中間未揭露的主題文字較可能是下列何者？



(A) 社會規範 (B) 社會安全 (C) 社會服務 (D) 社會正義。

35.(A) 隨著時代變遷，價值觀念愈來愈多元，每個人都應享有自由權利，附圖中益勝應學習做到下列何者？




(A) 了解拉傑遵守的社會規範，避免發生衝突和誤會 (B) 鼓勵拉傑嘗試不同的飲食文化，適應環境 (C) 蒐集相關資訊，勸導拉傑改信其他宗教 (D) 邀請其他朋友與會，說服拉傑順應團體生活。

36.(C) 下列宥成所從事的行為，何者不符合團體的概念？

(A) 成立物理學讀書會 (B)



(D) 與好友組成搖滾樂



37.(C) 瓊卿參加圖書館舉辦有獎徵答活動，如附圖所示，她應填入下列何者才是正確解答？

有獎徵答

小明歸屬於一非志願團體，並基於自己的意願及興趣而加入。請問：這個團體應該是下列何者？
(甲)宗親會 (乙)校友會
(丙)家庭 (丁)政黨

(A) 甲 (B) 乙 (C) 丙 (D) 丁。

38.(A) 老師請同學們舉出「結社自由」的例子，下列哪位同學的發言最正確？ (A) 小星：我在學校組了一個樂樂棒球社 (B) 阿良：我前往觀賞臺語歌手的告別演唱會 (C) 花花：我和家人週末時相約看國片 (D) 柚子：我參加遊行以表達對核電的看法。

39.(A) 下列是四家傳播媒體所做的新聞標題，其中哪一則最可能受到 NCC 的懲處？ (A)



40.(B) 有一份雜誌報導：

臺灣男女薪資差異從 1960 年代開始顯著地縮小。1960 年時，男性平均每賺 100 塊錢，女性只賺 65 元。2015 年時，男性賺 100 塊錢時，女性可以賺 83 元。1960 年代，女性要多工作 200 天，才能和男性收入相當。現在，女性只要多工作 54 天。

我們可以怎麼判斷這份報導想表達的主旨？ (A) 臺灣社會已達性別平權 (B) 同工不同酬的情況仍存在 (C) 女性每年只工作 200 天，是收入較低的主因 (D) 女性只要更努力工作，就能改善性別歧視。