

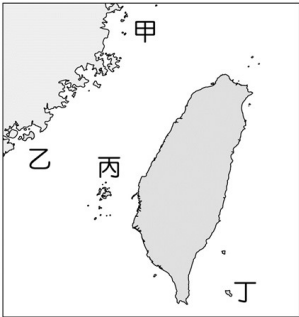
班級：

姓名：

座號：

一、選擇：(每個題目 4 分，共 100 分)

1. ()附圖為臺灣及其鄰近島嶼位置圖，請問在哪一個離島可以看到如照片中的景觀？ (A)甲 (B)乙 (C)丙 (D)丁。



《答案》C

詳解：照片為澎湖縣西吉嶼的海蝕洞及玄武岩景觀。甲為馬祖、乙為金門、丙為澎湖，丁為蘭嶼。

2. ()臺灣野鳥協會的成立目的為推廣賞鳥活動、保育野鳥、救援野鳥等。而近年來，其對於移除高美溼地的互花米草以避免外來種的危害也不遺餘力，希望臺灣的鳥類能在多樣性的環境下世代繁衍下去。由文中敘述可以看出該協會的何種特徵？ (A)組織成員專業分工 (B)自主決定工作目標 (C)經費來自民眾捐款 (D)成員自由決定退出。

《答案》B

3. ()彤彤到欣欣家作客，欣欣說：「我們家使用的是雕花燈具及裝飾品，比你們平常使用的日光燈來得高級。」欣欣的說法隱含下列何種概念？ (A)文化位階 (B)文化傳承 (C)文化尊重 (D)主流文化。

《答案》A

詳解：將文化分成高低優劣，屬於文化位階的概念。

4. ()臺灣區域差距的擴大，與下列何者關係最小？ (A)產業發展 (B)年平均所得 (C)交通建設 (D)氣候變遷。

《答案》D

5. ()都市與鄉村的主要差異不包括下列何者？ (A)都市居民主要從事二、三級產業 (B)都市的人口密度較大 (C)都市的交通發展較發達 (D)都市面積較小。

《答案》D

6. ()根據統計，至民國 109 年臺灣的外籍配偶人數已高達 56 萬人，對於愈來愈多的外籍配偶，政府應該提出一些方案來因應，下列何者最為可行？ (A)禁止外籍配偶來臺 (B)鼓勵多生女嬰以杜絕外籍配偶 (C)向世界人權組織抗議 (D)透過政策協助新住民適應在臺的語言和生活。

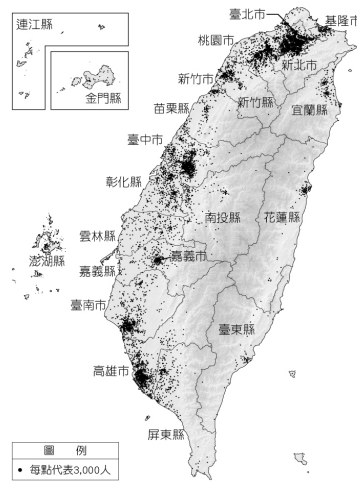
《答案》D

詳解：對於日益增多的外籍配偶，該做的是協助其盡快融入臺灣社會，而非一味禁止或不認同。

7. ()下列何者不是臺灣農業經營的特徵？ (A)每位農民平均擁有的土地面積廣大 (B)單位面積產量高 (C)農業商品化 (D)農業技術先進。

《答案》A

8. ()附圖為臺灣地區在民國 108 年時的人口分布點子圖。若臺灣的面積約為 36,000 平方公里，且人口密度為 651 人/平方公里，則推估圖上的點子數量約為多少？(每點代表 3,000 人) (A)2,871 點 (B)3,548 點 (C)7,812 點 (D)5,557 點。



《答案》C

詳解：人口密度=人口總數/面積。臺灣人口總數約 $36,000 \times 651 = 23,436,000$ 人。由圖知每點代表 3,000 人， $23,436,000 \div 3,000 = 7,812$ 點。

9. ()我們可以利用課餘的時間多參與團體事務，藉以培養服務社會的精神，為社會貢獻一分心力，也可以透過參與活動的過程，拓展自我的視野。下列哪些是適合國中生參與的團體事務？ (甲)參加愛心義賣活動 (乙)參加學校社團活動 (丙)投入競選活動 (丁)加入幫派組織 (A)甲乙 (B)甲丙 (C)乙丁 (D)丙丁。

《答案》A

10. ()下列何者不是臺灣北、中、南部的科學園區中，主要規畫設立的產業？ (A)半導體 (B)精密機械 (C)螺絲加工 (D)生物科技。

《答案》C

詳解：科學園區以技術密集的高科技產業為主；螺絲加工則為勞力密集的加工業。

11. ()每個社會都有一套為大多數人遵循與認同的文化，稱為下列何者？ (A)傳統文化 (B)主流文化 (C)文化差異 (D)次文化。

《答案》B

12. ()臺灣東部又稱「後山」，早期被視為化外之地，發展較晚，直到沈葆楨抵臺才開始大規模開發。請問：造成上述特徵的主因可能為何？ (A)山脈阻隔 (B)河川阻隔 (C)氣候不佳 (D)水源不足。

《答案》A

詳解：東部區域昔日因中央山脈阻隔，不易穿越，而成為臺灣本島最晚開發的地區。

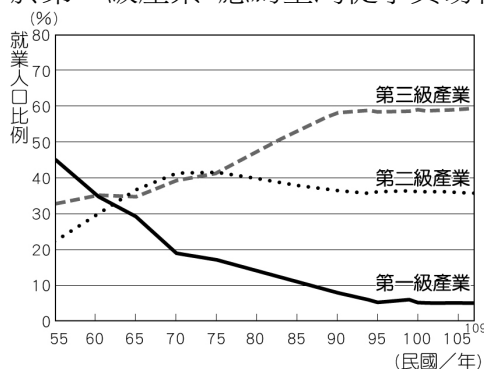
13. ()臺灣的工業發展歷經數個階段，下列哪一個時期為配合十大建設，以發展石化、造船與鋼鐵等重工業為主？ (A)民國四十年代 (B)民國五十年代 (C)民國六十年代 (D)民國七十年代。

《答案》C

14. ()下列關於北宜高速公路的敘述，何者正確？ (A)即為國道2號 (B)又稱蔣中正高速公路 (C)聯繫蘭陽平原和臺北盆地 (D)縮短臺北到高雄的行車時間。

《答案》C

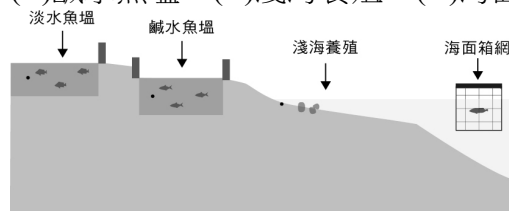
15. ()附圖為臺灣歷年三級產業就業人口比例變化圖，有關民國55~60年間三級產業比例的敘述，何者正確？ (A)此時就業人口以第一級產業為主，爾後依序為第二級產業、第三級產業 (B)此時就業人口以第三級產業為主，爾後依序為第二級產業、第一級產業 (C)此時第二級產業就業人口高於第三級產業，應為工業逐漸起步，就業人口增加 (D)此時第三級產業就業人口高於第二級產業，應為臺灣從事貿易相關就業人口較多。



《答案》D

詳解：(A)(B)就業人口數量依序排列為第一級產業、第三級產業、第二級產業；(C)當時第三級產業人口比例大於第二級產業。

16. ()臺灣養殖漁業的發展，最早可追溯到西元1661年，在西元1970年成功開發人工飼料後，搭配機械、冷凍加工等技術後，養殖漁業開始邁向集約化和企業化，在一九八〇年代更出口到國際市場。然西元1988年因汙染、疾病及地層下陷、生態破壞等問題呈現衰退，直至西元2000年後，隨著永續發展意識的抬頭才逐漸轉型。請問：附圖中哪一種養殖漁業方式分布區域，與該環境問題發生區域最不重疊？ (A)淡水魚塭 (B)鹹水魚塭 (C)淺海養殖 (D)海面箱網。



《答案》D

詳解：該環境問題為地層下陷，目前臺灣最嚴重的下陷區域為彰化、雲林、屏東沿海，而箱網養殖地點為海上，與該環境問題無關。

17. ()「人類從事陸上水產養殖已經有數千年的歷史，一直到一九六〇年代以後，利用人工繁殖種苗及配合飼料的現代化方式，才使養殖業快速興起。近年由於過度開發，在不少國家已發生濫伐紅樹林、過度抽用地下水，以及海水入侵沿岸、水質優養化等不良後果，對生態環境造成相當大的負面衝擊。然而臺灣周圍有

廣大的水域可供發展海洋養殖，雖然易受到颱風的威脅，但海流、水質、水溫等其他環境條件則有利於發展箱網養殖。」上述是臺灣發展箱網養殖的介紹，請問將陸上養殖轉為發展箱網養殖的原因為何？ (A)人類生活空間不足 (B)開發沿岸造成海沙流失 (C)超抽地下水導致地層下陷 (D)沿岸漁業產值下降。

《答案》C

18. ()政府針對新住民開辦許多課程、講座，最主要目的為何？ (A)增加工作技能，促進產業升級 (B)協助其適應臺灣文化、習俗 (C)均衡區域發展，減少人口外流 (D)掌握新住民行蹤，了解其動向。

《答案》B

19. ()除了給予弱勢群體特別的待遇與保障，同時也強調逐步提升社會整體的生活福祉，讓每個人都能擁有幸福美好的生活。為了達到此一理想，政府應制訂下列何種政策？ (A)社會規範 (B)多元文化 (C)社會福利 (D)經濟發展。

《答案》C

20. ()小娟看到一則新聞標題：「根據調查指出，多數小學生的休閒時間幾乎都在看電視、上網。」上述標題內容顯示出何種社會化途徑對小學生的影響力？ (A)家庭 (B)學校 (C)同儕團體 (D)傳播媒體。

《答案》D

21. ()「先天丘陵的地形讓此地舉辦的馬拉松號稱為全臺最硬的賽道，賽事沿途將經過坑道、鐵堡等著名的軍事景點，讓跑者們能身歷其境彷彿在戰地之中，呼應著此地標榜的事在人為精神。」請問：文中所描述的馬拉松賽事，最有可能在下列哪一個地點舉辦？ (A)馬祖 (B)綠島 (C)蘭嶼 (D)澎湖群島。

《答案》A

22. ()法律可以對違法者施以強制處罰，這是因為法律以下列何者作為後盾？ (A)倫理道德 (B)宗教信仰 (C)風俗習慣 (D)公權力。

《答案》D

23. ()若前往義大利的山頂小鎮、日本的沖繩島，或是佛羅里達州的任何一座城鎮度假，你會發現老年人出現在生活當中的比例特別高。原來的婦產科醫院、親子遊樂中心被退休之家或保健診所取代。請問：以上現象可由下列何數據看出？ (A)社會增加率 (B)人口密度 (C)扶養比 (D)平均壽命。

《答案》D

詳解：(A)(B)與年齡結構無關；(C)扶養比包含幼年人口與老年人口，故無法單獨看出老年人口之比例。(D)平均壽命愈長，代表醫療衛生愈進步，老年人口比例也就愈高。

24. ()臺灣東部區域的地方建設較緩慢，且有人口外流、勞動力老化的現象，其主要影響因素為何？ (A)居民居住環境品質較差 (B)工商業發展較緩慢 (C)環境受到汙染和過度擁擠 (D)自然生態的破壞。

《答案》B

25. ()鄉村與都市雖然有許多不同的特徵，但也互相依存，下列何者主要是由都市提供給鄉村的資源？ (A)就業 (B)糧食 (C)原料 (D)勞力。

《答案》A