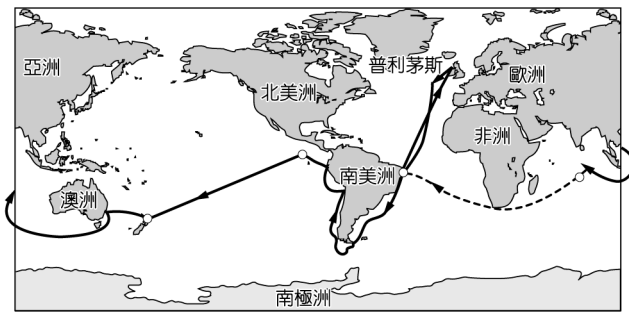
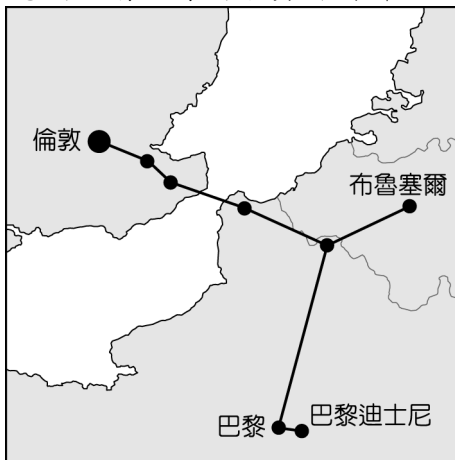


一、單一選擇題

- 1.(B) 英國的汽車相關產業勞工高達 82 萬人，對英國經濟貢獻良多。目前有跨國企業揚言將取消英國的汽車生產基地，是因英國退出歐盟後將會失去下列何項優勢？ (A)不再使用歐元為英國貨幣 (B)與歐盟成員國貿易不再免關稅 (C)歐盟總部將由英國倫敦移往他處 (D)英國工業產品規格會與歐陸不同。
- 2.(B) 英國艦艇由該國沿海的港口——普利茅斯出發，開啟了環遊世界的旅程，若根據附圖中資料判斷，該艦前往南美洲時須經過哪一個海洋？



- (A)地中海 (B)大西洋 (C)太平洋 (D)印度洋。
- 3.(B) 東歐的範圍北起波羅的海，東南濱臨黑海，有許多國家分布在此。請問：目前多將這些國家合併畫為同一地理區最主要的理由為下列何者？ (A)自然環境平坦，往來交通無阻礙 (B)歷史上曾為共產國家，限制各國經濟發展方向 (C)多信仰伊斯蘭教，生活作息一致 (D)多為單一族群，少有戰亂。
- 4.(D) 進入 21 世紀後，人口結構對於各國的發展影響漸大，因此受到全球重視。請問：北歐各國引以為傲的社會福利政策目前備受考驗，是受到哪一人口問題的影響？ (A)幼兒出生率居高不下 (B)社會增加率大幅上升 (C)人口性別比不平均 (D)人口組成漸趨高齡化。
- 5.(A) 臺灣電子大廠鴻海在 2000 年即前往捷克投資生產，更在 2002 年完成新廠房的擴建，成為歐洲市場的蘋果電腦生產基地。請問：鴻海公司前往捷克設廠的主要原因為何？ (A)勞資便宜、關稅優惠 (B)研發重鎮、技術進步 (C)氣候優良、位置適中 (D)技術進步、資金充足。
- 6.(A) 附圖為歐洲境內某條重要的交通路線示意圖，請依據圖中資料判斷，這條交通路線必須興建隧道以穿越哪一個海域？



- (A)英吉利海峽 (B)直布羅陀海峽 (C)北海 (D)大西洋。
- 7.(D) 世界著名的坎城影展就在法國南端的蔚藍海岸舉辦，來自世界各地知名影星到此參展，成為當地的年度盛事。附圖照片為當地美麗的景色，請問：圖中的海洋為下列何者？

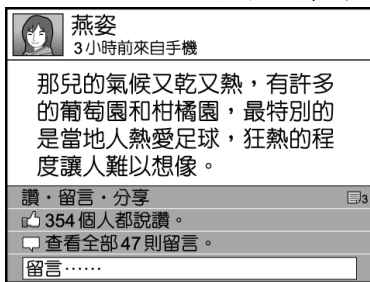


- (A)大西洋 (B)北海 (C)黑海 (D)地中海。
- 8.(B) 歐洲大陸的水運交通相當發達，是經濟發展的重要命脈。附圖為西歐最重要的河道流域圖，該河道構成了下列哪一組運輸路線？



(A) 羅亞爾河—大西洋 (B) 萊因河—北海 (C) 多瑙河—黑海 (D) 波河—地中海。

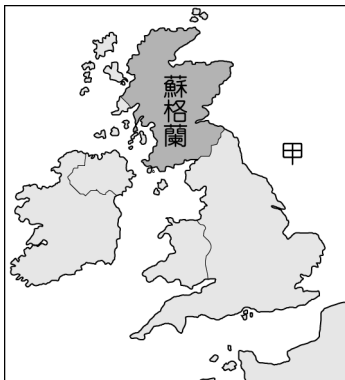
9.(D) 燕姿在臉書上分享她暑假到歐洲拍攝廣告的旅遊經歷如附圖。請問：燕姿所描述的地區，最可能位於何處？



(A) 西歐 (B) 東歐 (C) 北歐 (D) 南歐。

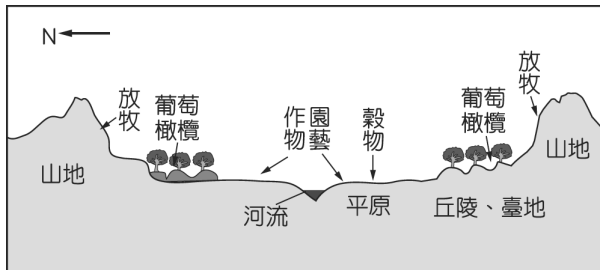
10.(B) 東歐的捷克為工業大國，由於共產時期累積下來的工業基礎雄厚，今日吸引許多企業到該國投資生產，以便產品能就近行銷歐洲市場。請問：若根據上文敘述判斷，這些工業產品的運輸路線多朝哪一方向運至市場銷售？ (A) 東方 (B) 西方 (C) 南方 (D) 北方。

11.(C) 附圖為英國領土示意圖，2016年英國支持退出歐盟的一方在公投險勝，造成贊成留在歐盟的蘇格蘭地區欲發起獨立公投。由於蘇格蘭在甲海域擁有石油，因此對退出英國後的財政狀況深具信心。請問：甲是哪一海域？



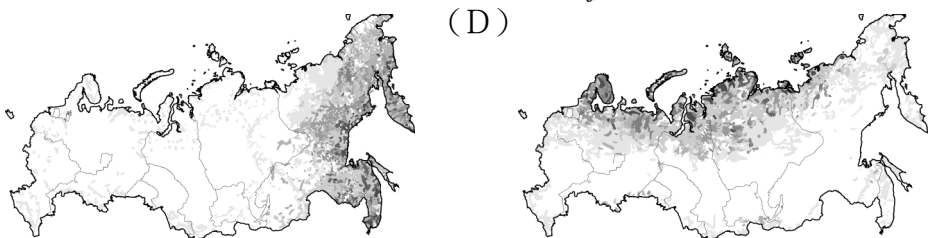
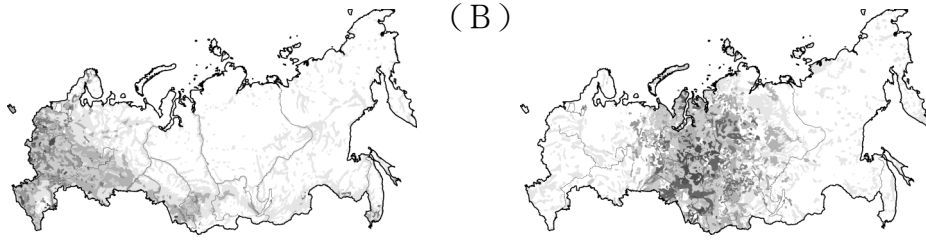
(A) 英吉利海峽 (B) 地中海 (C) 北海 (D) 北極海。

12.(B) 歐洲某地區的農牧業活動分布如附圖所示，請問：該地區最可能位於歐洲何處？

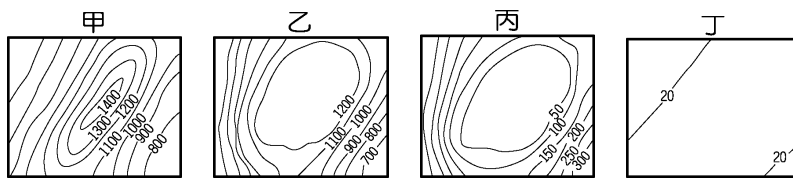


(A) 東歐 (B) 南歐 (C) 西歐 (D) 北歐。

13.(A) 俄羅斯為世界上面積最大的國家，但是人口卻僅 1.4 億人，遠低於中、美等國。下列為該國主要人口分布概況的點圖，其中何者最為正確？ (A) (B) (C)

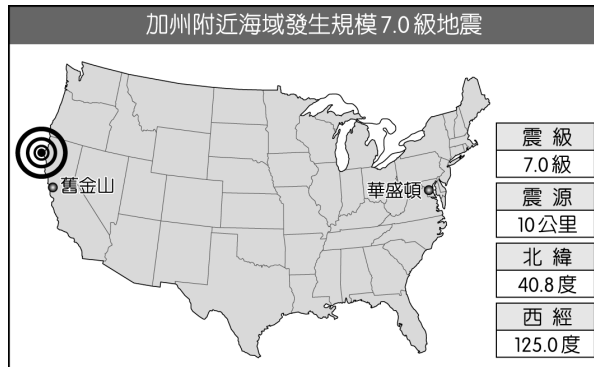


14.(C) 王博士參加了俄羅斯北部廣大的西伯利亞開發計畫，從莫斯科出發，一路搭乘西伯利亞鐵路向東前進，直到太平洋岸的海參崴港。請問：他在沿途中所見到的地形種類不包括下列何者？



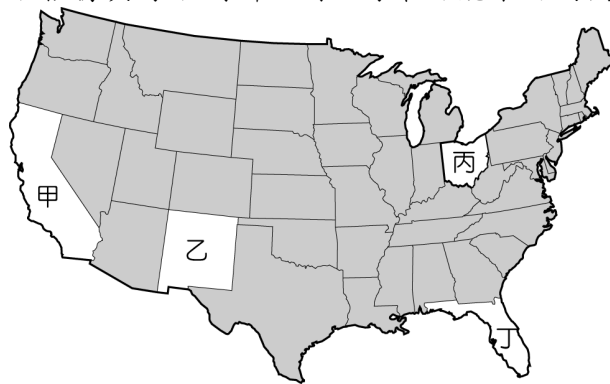
(A)甲 (B)乙 (C)丙 (D)丁。

- 15.(A) 美洲的面積相當廣大，可以下列何項因素來區分，分成北美洲和中美洲？ (A)文化特色 (B)氣候類型 (C)產業活動 (D)地形種類。
- 16.(C) 美國聯合航空一架國際航班在舊金山起飛後發現機械故障，但由於機上的燃料消耗少，導致著陸重量過大，可能會造成迫降時的危機，因此機師只好在鄰近的海洋上空不斷打圈，直到達安全降落的重量，才再返回舊金山降落維修。請問：上文中的海洋應為下列哪一海域？ (A)哈德孫灣 (B)墨西哥灣 (C)太平洋 (D)大西洋。
- 17.(B) 在第四紀時，範圍廣大的大陸冰河曾覆蓋北美洲北部，對當地的自然環境造成影響。請問：目前美國哪一項地理特性和當時曾遭冰河覆蓋有關？ (A)西部水力資源豐沛，水電充足 (B)中部大平原北部，湖泊星羅棋布 (C)東部阿帕拉契山脈蘊藏豐富礦產 (D)西南部乾燥少雨，形成沙漠氣候。
- 18.(A) 附圖為 CNN 的新聞快報內容，主播應提醒下列哪一地區的民眾需特別注意後續災難的發生，須做好相關預防措施？



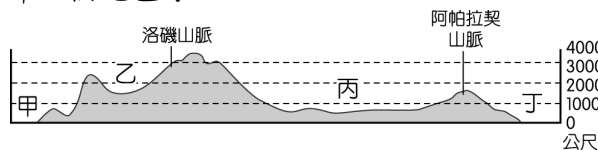
(A)太平洋沿岸 (B)大西洋沿岸 (C)墨西哥灣沿岸 (D)北極海沿岸。

- 19.(A) 美國足球大聯盟 (MLS) 成立後積極拉攏知名球星，讓觀眾人數及技術水準快速上升。其中某地區的球隊取名為地震隊，和當地的自然環境關係甚大。若根據其隊名判斷，則該隊最可能來自附圖中哪一州？



(A)甲 (B)乙 (C)丙 (D)丁。

- 20.(D) 美國的面積廣大，依其特性分成不同區域，而各區域的產業活動皆不相同。在 911 恐怖攻擊事件中受創嚴重的美國金融中心——紐約市，位於附圖中的哪一個地區？



(A)甲 (B)乙 (C)丙 (D)丁。

- 21.(D) 美國近兩年來因為頻傳狂牛症的疫情，使該國的牛肉出口受到影響，包括臺灣皆曾禁止美國牛肉的進口。請問：美國的牛肉生產主要位於附圖中哪一個地區？



(A)甲 (B)乙 (C)丙 (D)丁。

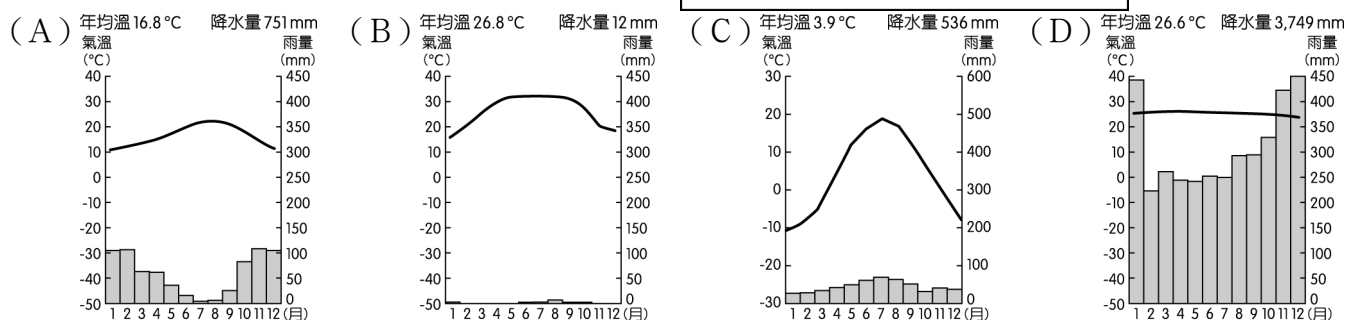
- 22.(D) 「該國的農場面積廣大，利用機械化的生產方式、專業化的生產過程，讓這些農場主人收入豐富，成為世界重要的農業輸出國。」請根據上文敘述判斷，該國應該為下列何者？ (A)日本 (B)臺灣 (C)中國 (D)美國。
- 23.(B) 著名電影《亂世佳人》的時代背景為美國南北戰爭，此戰事爆發的原因和黑人的解放與否有關。當時黑人為棉花產區的主要勞動力。請問：美國的棉花產區主要位於何處？ (A)五大湖區 (B)南部平原 (C)中西部平原 (D)太平洋沿岸。
- 24.(A) 南美洲肆虐的「茲卡病毒」主要於溼熱地區蔓延，日前竟在溫帶的荷蘭爆出 10 例確診案。根據荷蘭衛生當局調查報告，這 10 個確診案例都曾經到中南美洲度假，返國後才出現身體不適相關症狀。請問：荷蘭確診案例者前往旅遊的地點最可能位於附圖中何處？



(A)甲 (B)乙 (C)丙 (D)丁。

25.(B) 中美洲國家的經濟多依賴原料及熱帶栽培業的出口，但其中哪一個國家因為有運河通行費的相關收入，經濟情況較其他中美洲國家穩定？ (A)瓜地馬拉 (B)巴拿馬 (C)墨西哥 (D)尼加拉瓜。

26.(D) 附圖為茲卡病毒警戒圖，以圖中茲卡病毒警戒區判斷，其分布的氣候環境包括下列哪一氣候？



27.(A) 智利北部的阿塔卡馬沙漠，曾創下連續 173 個月未降水紀錄。但在 2016 年卻因受到全球氣候異常影響，鄰近的海域水氣大增，而在當地降下大雨，雨後竟然出現一片粉紅花海。請問：上文中的海域應該為下列何者？ (A)太平洋 (B)大西洋 (C)加勒比海 (D)墨西哥灣。

28.(B) 植物學家 Mary 到中南美洲進行考察，若她從 GPS 上判斷目前的位置為西經 60 度、南緯 2 度。請問：她所見到的植物景觀為何？ (A)寸草不生的漠地 (B)樹叢茂密的雨林 (C)疏林高草的莽原 (D)高聳整齊的針葉林。

29.(C) 「多元的合成文化是該洲的區域特色之一。由於奴隸貿易和歐洲殖民的背景，當地居民多出現通婚現象，因此形成血統融合的混血族群。非洲的舞蹈、印第安的服裝、歐洲人的宗教信仰在此融合，成為當地的文化特色。」請問：上文所述地區應該為下列何者？ (A)北美洲 (B)亞洲 (C)南美洲 (D)大洋洲。

30.(C) 丁丁在旅遊日記上記載：「今天我參觀一處大型農場，農場內有工人宿舍、學校、天主教堂；除了宿舍附近種有一些蔬菜和水果外，農場內最主要的作物是咖啡。」請問：該種農場景觀最常出現在下列何處？ (A)德干高原 (B)中南半島 (C)巴西高原 (D)伊比利半島。

31.(D) 2016 年由巴西所籌畫的里約奧運簡單而熱鬧，在開幕儀式上以代表著該國的綠色與黃色為主色調，強調環保與大自然，同時向世界表達保護當地有「地球之肺」稱謂的自然景觀之美。請問：上述的自然景觀應為下列何者？ (A)安地斯山 (B)火山熔岩 (C)珊瑚礁島 (D)熱帶雨林。

32.(A) 亞馬孫雨林的生態資源相當豐富，為地球重要的基因庫，對於醫藥衛生的貢獻極大。請問：當地生態資源豐富的主要成因為何？ (A)終年高溫多雨 (B)地表土壤肥沃 (C)流域面積廣大 (D)氣候垂直變化。

33.(C) 2016 巴西里約奧運舉辦時，來自世界各地的運動員齊聚一堂，如何溝通便成了大問題，其中下列哪一參賽國家的語言與巴西主要語言相同，而較無溝通問題？ (A)西班牙 (B)印度 (C)葡萄牙 (D)法國。

34.(B) 秘魯為傳說中的黃金王國，面積約有臺灣的 35 倍大，其中庫斯科城曾為印加帝國的首都，當地的黃金神塔見證了當時帝國的繁榮。但後來受到外來入侵者的掠奪，將黃金白銀搜刮一空，空留廢墟供後人憑弔。請問：這個外來入侵者最可能為下列何者？ (A)英國人 (B)西班牙人 (C)葡萄牙人 (D)荷蘭人。

35.(B) 中南美洲的熱帶栽培業發達，成為當地重要的經濟來源，然而主要出口國的經濟卻多不穩定。請問：其主要因素為何？ (A)工資大幅上漲 (B)市場價格波動 (C)產品不易運輸 (D)耕種面積不大。