

一、單一選擇題（每題4分，共100分）

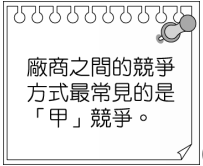
- 1.(C) 珍妮時常使用網路購物，且會貨比三家。今天在比價時看到網頁顯示附圖便立即下單購買。請問：由圖中內容判斷，廠商是透過哪一種方式吸引消費者的注意？



(A) 企業形象 (B) 多元化服務 (C) 價格 (D) 產品品質。

- 2.(C) 在競爭激烈的市場中，廠商善用各種方式吸引消費者的購買。下列何者為消費者在購買商品前應考量的因素？ (A) 價格低是王道，黑心廠商也沒差 (B) 品質好最重要，破壞環境不在意 (C) 選擇善盡社會責任的製造廠商 (D) 喜歡的偶像聯名商品都買。

- 3.(A) 附圖為小華整理課文的筆記，圖中「甲」應為下列何者？



(A) 價格 (B) 企業形象 (C) 服務項目 (D) 產品品質。

- 4.(C) 根據附圖中人物所說的話判斷，他的店開幕後，最可能發生下列哪一狀況？



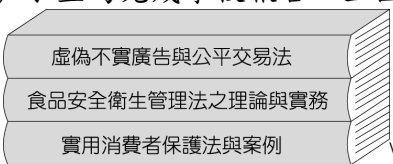
(A) 消費者的選擇變少 (B) 市場競爭程度變低 (C) 各店家將採取各種行銷策略 (D) 各店家早餐價格將調漲。

- 5.(D) 小咪假日與父母同遊六福村，發現遊樂園賣的飲料比一般的貴，好奇的她詢問爸爸原因。請問：爸爸應如何回答才正確？ (A) 園內飲料店家數量多 (B) 園內遊客多 (C) 品質與服務好 (D) 缺乏同類型廠商競爭。

- 6.(C) 廠商之間惡性或不公平的競爭行為可能會損害消費者的權益，故政府必須制定相關法律。請問：下列哪部法律與保障消費者的權益無關？

(A) 《消費者保護法》 (B) 《食品安全衛生管理法》 (C) 《社會秩序維護法》 (D) 《公平交易法》。

- 7.(B) 小宜為完成學校報告，至圖書館借了三本書作為參考資料，如附圖。請問：他的報告主題應與下列何者最相關？



(A) 生產與消費 (B) 保障消費者的權益 (C) 廠商公平競爭的重要性 (D) 廠商之間的競爭方式。

- 8.(C) 政府為了保障國民消費生活的安全，制定哪一部法律，規範消費者與廠商之間的消費關係？ (A) 《公平交易法》 (B) 《刑法》 (C) 《消費者保護法》 (D) 《著作權法》。

- 9.(A) 新臺幣是以紙鈔、硬幣為形式，在臺灣大家願意使用「新臺幣」交換所需物資，其主要的原因為何？

(A) 政府以法令強制其具有價值 (B) 新臺幣的材料本身就具有價值 (C) 貨幣數量供不應求較具價值 (D) 新臺幣的印製非常方便快捷。

- 10.(A) 王檢爾至早餐店購買吐司，牆上的價目表如附圖所示。請問：這份價目表主要顯示了貨幣的何項功能？

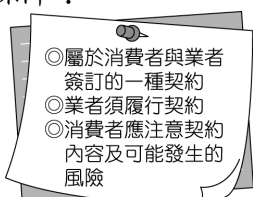


(A) 價值衡量 (B) 價值儲藏 (C) 債務清償 (D) 交易媒介。

- 11.(D) 某家速食店在2018年開放使用信用卡付款，發行儲值卡（例如：點點卡），而後又陸續接受4大電子票證（悠遊卡、一卡通、icash、有錢卡）與LINE Pay交易，使交易方式多元、便利。請問：上述未提起下列何項交易方式？

(A) 塑膠貨幣 (B) 行動支付 (C) 電子支付 (D) 商品貨幣。

- 12.(B) 儲值卡為預付型交易，先付錢，再分期、分次享受商品或服務。請問：附圖中有關儲值卡的規定是受到哪一部法律的保障？



(A) 《公平交易法》 (B) 《消費者保護法》 (C) 《社會秩序維護法》 (D) 《食品安全衛生管理法》。

- 13.(D) 公民課時分組討論貨幣價值與國際貿易的關係，附表為各組討論後的回答，請問：哪一組別的內容正確？

組別	回答
黑熊組	我國貨幣貶值，有利進口。
帝雉組	我國貨幣升值，所需支付的進口成

	本增加。
獼猴組	新臺幣的升貶，對我國貨物進出口無影響。
石虎組	新臺幣貶值時，有利我國商品出口至國外。

(A)黑熊組 (B)帝雉組 (C)獼猴組 (D)石虎組。

14.(A) 幾個朋友聚在一起聊天，分享日常生活，下列何人提及的行為能夠賺取外匯？

(A) 去年我賣到中東的虱目魚賺了不少錢。
 (B) 我在超市買了西班牙進口的橄欖油。
 (C) 去日本時，我喜歡採購當地的土產。
 (D) 我每個週末一定會光顧夜市的臭豆腐攤。

15.(C) 小龍發現看的報紙標題缺了一角，只能看出「無現金社會不遠！○○○○比例逐年增，囉經濟成市場主流」。請問：○○○○最可能為下列何項內容以及判斷理由？

(A)紙鈔支付，因為增加現金使用 (B)行動支付，因為增加現金使用 (C)行動支付，因為減少現金使用 (D)錢幣支付，因為減少現金使用。

16.(C) 俗話說：「殺頭的生意有人做，賠本的生意無人做。」可見多數人從事市場勞動，其主要目的是下列何者？

(A)避免災難 (B)賺賠不計 (C)獲取收入 (D)捨己為人。

17.(D) 下列敘述中，何人為就業者？

(A)阿強結婚後自願在家中當家庭煮夫 (B)念國中的阿香放學後幫爸爸分攤麵攤的工作 (C)阿榮正在高雄服兵役 (D)王小姐就任科技公司經理。

18.(C) 某公司員工發現，公司加班費未依法律規定給付，甚至規定遲到1分鐘就扣100元。儘管老闆出面澄清，加班費都有照規定給付，而會對員工遲到行為作出懲處，是因為其出勤狀況不佳。不過，勞工局表示，遲到罰錢按薪資比例計算，否則既屬違法。勞工局所說的法律是哪部法律？(A)憲法 (B)民法 (C)勞動基準法 (D)性別工作平等法。

19.(A) 附圖是新聞報導中的標題，若新聞事件中的受害者要尋求權利救濟，下列哪一項法律最能提供他協助？



(A)《性別工作平等法》 (B)《勞動基準法》 (C)《就業服務法》 (D)《性別平等教育法》。

20.(C) 附表中四位老闆互相分享自己聘僱員工的標準，哪一位老闆的回答最適當？

行業別	回答
飲料店老闆	我一律僱用正妹，這樣比較吸引客人。
超商老闆	我只僱用男生，因為搬貨需要力氣。
速食店老闆	我只在意工作能力，其他的沒差。
加油站老闆	我不錄取中年人，年紀太大了。

(A)飲料店老闆 (B)超商老闆 (C)速食店老闆 (D)加油站老闆。

21.(B) 政府舉辦的座談會中，主持人開場白：「無論是在臺灣或西方先進國家，男女的性別薪資差異一直都是待改進的大問題，例如索尼影業遭駭事件，意外揭露好萊塢確實存在著『男女同工不同酬』的問題，這也讓許多女演員紛紛站出來發聲，試圖扭轉電影圈長存的潛規則……。」請問：下列何者最可能是這場座談會的主題？

(A)職場性騷擾防治 (B)改善性別歧視的職場環境 (C)職場安全衛生的重要性 (D)如何保障童工基本權益。

22.(C) 下列四位企業負責人的發言中，何人的說法符合「取之於社會，用之於社會」的精神？

(A) 今年海外投資計畫重點在研發新技術。
 (B) 企業合作模式將使年度獲利爬升。
 (C) 本公司成立基金會以扶助弱勢為目的。
 (D) 新產品將上市，會由時下偶像藝人代言。

23.(D) 企業在追求利潤的同時，還有一些經營時應該遵守的準則，下列哪一項不包括在內？

(A)兼顧所有相關者的利益 (B)善盡社會責任 (C)保護生態環境 (D)投入競選活動。

24.(C) 阿利安人以種姓制度統治印度，他們相信，每一階級只要履行在世的義務，下輩子將輪迴到較高的等級。請問：古印度社會接受種姓制度的「誘因」為何？

(A)正向誘因：貴族若為惡將會淪為奴隸 (B)正向誘因：奴隸可經由考試升為貴族 (C)負向誘因：祭司若未履行義務，會落到低等階級 (D)負向誘因：平民若履行義務，可以升至高等階級。

25.(B) 17世紀初，英國東印度公司掌控印度的貿易；17世紀中期，法國加入競爭的行列，但最後仍由英國控制印度。根據以上敘述，英國對印度的掌控，最符合下列何種資源分配的方式？

(A)抽籤 (B)先占先贏 (C)輪流使用 (D)預約登記。