

台中市立公明國中 七上 社會領域地理科 補考題庫

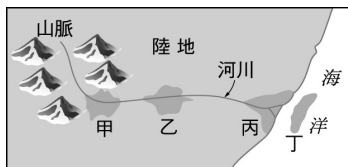
班級:

姓名:

座號:

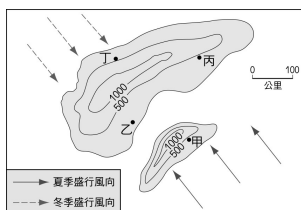
一、單選題：每題 4 分，共 100 分

- (B) 1. 為保育臺灣的自然景觀及資源，達到永續利用的目標，我們最應該採取下列哪項措施？(A)多開發水資源 (B)注重水土保持 (C)超限度利用 (D)多建觀光設施
- (C) 2. 下列哪項因素造成臺灣河川的沖刷力很強？
(A)水系多 (B)降水量集中 (C)河川短小流急 (D)山地在中偏東
- (C) 3. (甲)衛星影像圖(乙)航空照片圖(丙)地形剖面圖(丁)分層設色圖。以上哪種地圖類型最容易看出地形起伏？(A)甲 (B)乙 (C)丙 (D)丁
- (A) 4. 為了保護桃園藻礁珍稀生態系，桃園市政府把觀新藻礁畫定為保護區，計畫興建藻礁生態教室，加強巡護藻礁生態。市政府的政策與下列哪項概念最為相關？(A)環境保育 (B)超限利用 (C)水土保持 (D)災害防治
- (A) 5. 安真想在這條河川附近興建度假民宿，為避免土石流的侵襲，她最好不要選擇哪個地點？



(A)甲 (B)乙 (C)丙 (D)丁

- (B) 6. 雲林麥寮台塑工業區蓋在離岸的沙洲上。下列的離島當中，何者也屬於沙洲島？
(A)蘭嶼 (B)旗津 (C)龜山島 (D)貓鼻頭
- (C) 7. 由於下列哪項因素的影響，使得臺灣大部分的河川都由東向西注入臺灣海峽？
(A)臺灣島東西寬度較窄 (B)降雨季節集中夏季 (C)臺灣山地位居中央偏東 (D)河川坡度很大
- (D) 8. 請根據你對臺灣海岸地形的認識，判斷下列哪個方案可能有誤？
(A)尋訪珊瑚礁 — 墾丁浮潛之行 (B)沙灘排球 PK 賽 — 稱霸西海岸之旅 (C)驚嘆北海岸 — 參拜女王頭之行 (D)嘗鮮蚵大饗客 — 東部瀉湖之旅
- (B) 9. 附圖是兩個島嶼的相對位置和等高線圖。附圖中，何地的年降水量最少？



(A)甲 (B)乙 (C)丙 (D)丁

- (B) 10. 在高鐵的沿線中，看不到下列哪個地理區？(A)桃園臺地 (B)宜蘭平原 (C)臺中盆地 (D)嘉南平原
- (B) 11. 金門和馬祖形成的原因為何？(A)海底火山噴出岩漿堆積而成 (B)沿海丘陵因海水上升而沒入海中所形成 (C)海底珊瑚礁露出水面而形成(D)地殼變動和大陸分離而形成。
- (B) 12. 如果將一地的地形起伏，以一條曲線表示，垂直軸表示高度，水平軸表示距離，則這種圖就稱為什麼？
(A)分層設色圖 (B)地形剖面圖 (C)衛星影像圖 (D)等高線地形圖
- (B) 13. 宥喬看見一個「了解氣候」選單。下列哪句話最不可能在這個選單內出現？(A)春天後母面 (B)晴時多雲偶陣雨 (C)未吃五月粽，破裘不敢放 (D)西北雨，落不過田

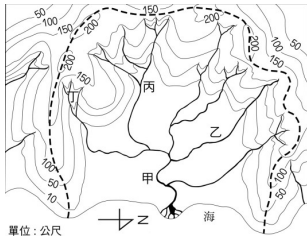
埂

- (B)14. 小琪拍攝了附圖美麗的風景照，讚嘆大自然的驚奇，下列何者為小琪拍攝的方向？



(A)由南向北 (B)由北向南 (C)由東向西 (D)由西向東

- (A)15. 附圖是某個流域的等高線圖。依據資料判斷，圖中河流主流大致往哪個方向流動？



(A)東方 (B)南方 (C)西方 (D)北方

- (B)16. 就臺灣四大區域而言，偏重水力發電的水庫，多分布於哪個區域？

(A)北部區域 (B)中部區域 (C)東部區域 (D)南部區域

- (B)17. 附表資料中關於天氣與氣候的比較，下列何者正確？

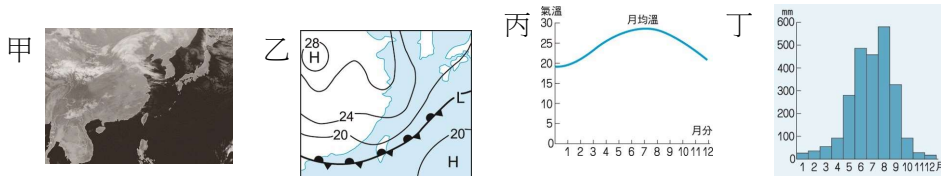
	甲：時間	乙：意義	丙：描述
天氣	長	大氣的變化	冬暖夏涼
氣候	短	大氣平均狀態	晴時多雲偶陣雨

(A)甲 (B)乙 (C)丙 (D)三者都對

- (C)18. 一般而言，河川的作用力有：(甲)搬運(乙)侵蝕(丙)堆積，從上游到下游間，主要的作用力依序為何？ (A)甲乙丙 (B)乙丙丁 (C)乙甲丙 (D)丙乙甲

- (D)19. 臺灣年降水量約有 2,500 毫米，但仍有水資源不足的困擾，下列何者與此現象較無關？(A)島窄山高、坡陡流急 (B)降雨時空分配不均 (C)地狹人稠、人口密度高 (D)水庫不足、水圳過多

- (A)20. 下列四圖中，哪些資料所需要的觀測時間最短？



(A)甲、乙 (B)乙、丙 (C)丙、丁 (D)甲、丁

- (B)21. 早期西南沿海發展鹽業，除因地形平坦之外，何者亦為發展此產業的重要因素？

(A)丘陵廣布，梯田多 (B)冬季乾燥，日照強 (C)人口稠密，密度高 (D)河川短小，流速快

- (A)22. 在臺灣的地形中，所占面積最大的地形為何？ (A)山地 (B)臺地 (C)高原 (D)丘陵

- (D)23. 通常在地面氣象站所設置的觀測儀器中，不包括下列何者？

(A)百葉箱 (B)風向計 (C)雨量計 (D)探空儀

- (A)24. 新北市市政府推出『夜航新店溪、淡水河』航線，假日邀請街頭藝人在船上駐唱，希望帶動臺灣河川的觀光價值。」臺灣的河川除了上述價值外，最適合發展何種用途？

(A)實施水力發電 (B)運輸工業用品 (C)連接南北交通 (D)提供上下游航運

- (B)25. 臺灣島山地面積廣大，下列哪座山脈縱貫全島，為臺灣的脊梁？

(A)玉山山脈 (B)中央山脈 (C)雪山山脈 (D)海岸山脈