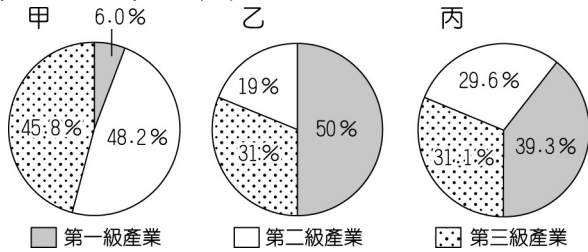
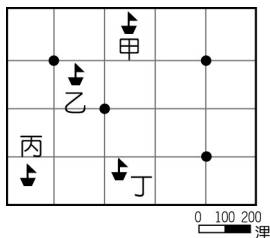


一、單一選擇題（每題3分，共99分）

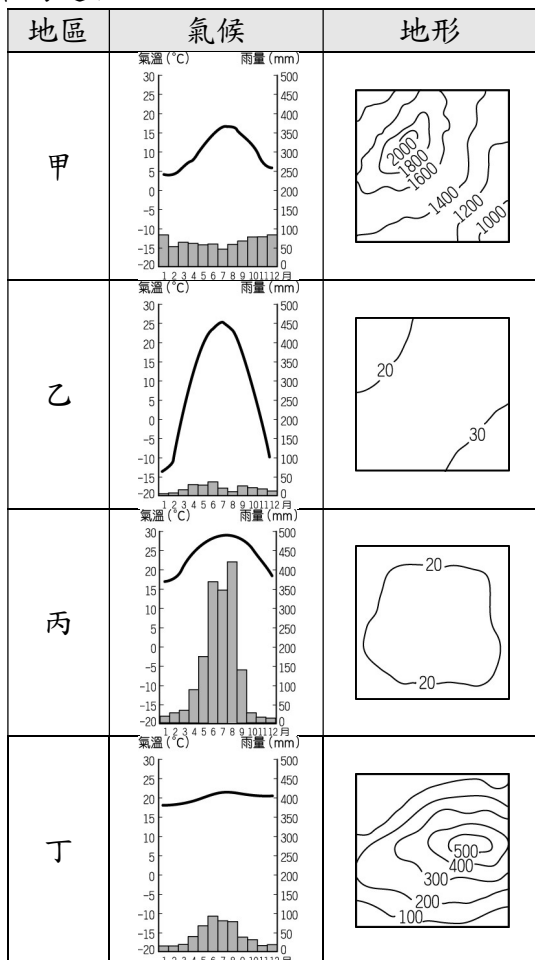
- 1.(C) 下列有關臺灣人口分布與遷移的敘述何者正確？
(A)移入臺灣的人口全來自中國與東南亞國家 (B)臺灣移出的人口全都因工作、求學而移出 (C)北部因工作機會較多，為主要人口移入地 (D)整體而言，臺灣的人口分布狀態十分平均。
- 2.(C) 產業結構的變遷反映出一國的經濟發展，附圖為星星國三個不同階段的產業結構圖，若依其發展順序，應該為下列何者？



- (A)甲乙丙 (B)乙甲丙 (C)乙丙甲 (D)甲丙乙。
- 3.(B) 臺灣遠洋漁業的作業範圍遍及全球，卻也常因為誤入他國經濟海域而產生糾紛。附圖中的黑點分別為四個島國的位置，圖中哪一艘作業漁船最可能出現上述情況？



- (A)甲 (B)乙 (C)丙 (D)丁。
- 4.(C) 食品加工業多分布於農業原料生產地，若王老闆要開設製糖工廠，其設廠地點的自然環境以下列何者最為適合？



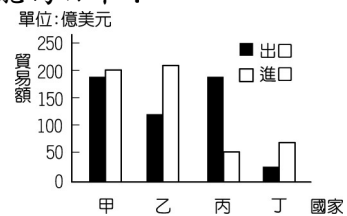
- (A)甲 (B)乙 (C)丙 (D)丁。
- 5.(B) 附圖為恩宇和美國來的泰勒參觀臺灣農村的經過，恩宇說的限制包括下列哪一項？




- (A)氣候溼熱 (B)地形起伏 (C)土壤肥沃 (D)降水季節集中。
- 6.(C) 陶淵明〈歸園田居〉詩中：「種豆南山下，草盛豆苗稀。晨興理荒穢，帶月荷鋤歸。」這種清晨下田鬆土除草，星月下才扛著鋤頭回家歇息的田園生活，恰可以形容臺灣農業經營的哪一種特色？ (A)耕地狹小 (B)技術先進 (C)集約度高 (D)休閒產業興起。
- 7.(D) 臺灣各階段的主要產業類別如附圖所示，根據圖中資料判斷，下列有關產業發展的敘述何者最為正確？



- (A)所需勞動人口數逐漸增加 (B)國家經濟發展程度下降 (C)產品附加價值愈來愈低 (D)產業發展由需大量低廉勞工轉向資本密集度高。
- 8.(C) 隨著經濟發展，臺灣產業結構有大幅度的轉變。下列有關目前臺灣產業的敘述，哪一項是正確的？
(A)由於農村勞力充沛，農耕技術先進，農業經營集約度高 (B)每位農民耕地廣大，生產成本較低，農產品可大量出口 (C)工業已由早期勞力密集工業，逐漸升級到資本密集工業和技術密集工業 (D)國際貿易發達，自民國60年代以來，每年都是入超，累積了頗多的外匯。
- 9.(B) 附圖為某年甲、乙、丙、丁四個國家與臺灣的貿易額統計圖，已知臺灣對日本的入超額最大。請問：何者最可能為日本？



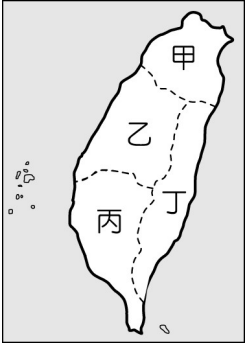
- (A)甲 (B)乙 (C)丙 (D)丁。
- 10.(C) 恩宇是一位上班族，附圖為他在週末到鄰近的聚落度假，星期一再返回工作地點的示意圖。請問：若以圖中資料判斷，則有關甲、乙兩聚落的敘述何者正確？



- (A)乙聚落的生活較悠閒 (B)甲聚落的每人生活空間較小 (C)乙聚落的對外交通較優越 (D)甲聚落的工商業較發達。
- 11.(C) 2015年臺灣登革熱疫情嚴重，病例破萬，中央政府成立疫情指揮中心，全面防堵疫情的擴散。附表為截至2015年9月24日的登革熱病例的分布統計圖，根據表中資訊判斷，要特別加強防疫工作的區域位於附圖中哪一區域？

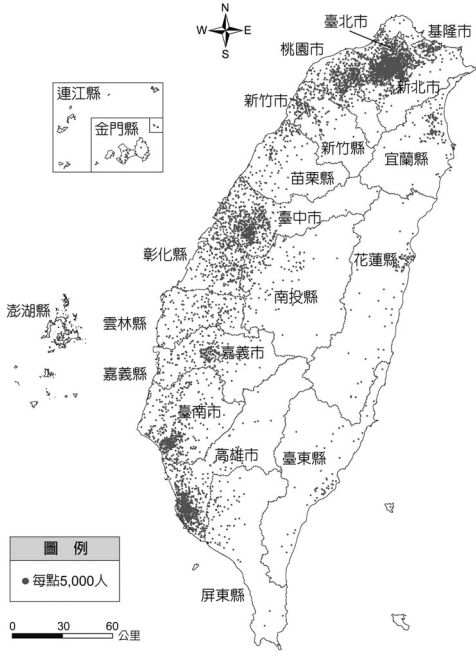
縣市	病例數	縣市	病例數	縣市	病例數
臺南市	13,960	嘉義縣	13	宜蘭縣	3
高雄市	1,858	新竹縣	12	花蓮縣	3
屏東縣	61	新竹市	9	南投縣	3

新北市	33	嘉義市	9	基隆市	2
臺中市	32	彰化縣	7	金門縣	2
臺北市	29	雲林縣	6	苗栗縣	2
桃園市	25	澎湖縣	4	臺東縣	1



(A)甲 (B)乙 (C)丙 (D)丁。

12.(A) 根據衛服部統計，104 年臺灣各縣市醫院中，平均每一萬人的病床數，以花蓮縣的 122.2 床位居全臺第一；而臺北市排名倒數第五，平均一萬人口僅有 32.9 個病床數。但花蓮縣醫療院所僅有 277 家，臺北市卻有高達 6,675 家的醫療院所。根據下圖，上述現象可以如何解釋？



(甲)花蓮縣人口密度高，因此所擁有的病床數高
(乙)花蓮縣人口密度低，因此每萬人相對擁有較多病床數
(丙)臺北市人口密度高，因此醫療院所數量相對較多
(丁)臺北市人口密度低，因此每萬人相對擁有較少病床數
(戊)以平均每萬人口病床數作為縣市醫療資源足夠與否的統計並不全面

(A)乙丙戊 (B)甲丙戊 (C)乙丁戊 (D)甲丁戊。

13.(C) 附圖是某一文件的部分內容，此文件最可能是下列何者？



(A)法軍將領給清廷的戰帖 (B)日本給牡丹社原住民的公告 (C)日本給臺灣民主國的勸降書 (D)臺灣民主國給日本總督的通牒。【改寫自 106 年會考】

14.(A) 2002 年，南投縣某位年過 80 歲的原住民長老回憶：「小時候，日本人為了進一步開發山區森林與樟腦資源，經常用很少的薪水雇用部落成員到深山負責砍伐或搬運，也常派出警察到部落巡視、駐紮。這些高壓統治政策，逼迫我們只好武裝起來反抗。」請問：這位原住民長老回憶的抗日事件，最有可能是下列何者？ (A)霧社事件 (B)西來庵事件 (C)牡丹社事件 (D)臺灣民主國。

15.(D) 小波找到一幅日治時期的諷刺漫畫（如附圖），

圖中描述著為了改善日治初期臺灣財政不良，總督府藉由實施哪一商品的專賣，來獲取龐大的利潤？



(A)茶葉 (B)蔗糖 (C)酒品 (D)鴉片。

16.(D) 「□竣工後，原本只有五千公頃的水田變為十五萬公頃。其灌溉區一片欣欣向榮，水稻一年三作，成為全國最大的米倉。」請問：文中的□應該是指哪一項水利灌溉工程？ (A)瑠公圳 (B)曹公圳 (C)八堡圳 (D)嘉南大圳。

17.(A) 琿穎在做段考複習時，看到課本上有一張「臺灣輕工業生產指數圖」（如附圖）。請問：圖中在 1930 年代以後，生產指數大幅上升的原因為何？



(A)日月潭發電所的完工 (B)基隆到高雄鐵路完工通車 (C)蓬萊米新稻種的培植成功 (D)日本政府推行皇民化運動。

18.(A) 附表為日治時期臺灣各行業生產值比率表。請問：臺灣農業生產值比率下降的原因何在？

年度	項目	農業	礦業	漁林業	工業
1915～1919		55.0	2.8	3.4	38.8
1920～1924		50.3	2.9	5.6	41.2
1925～1929		52.5	3.0	5.7	38.8
1930～1934		48.7	3.0	5.0	43.3
1935～1939		48.0	4.4	4.6	43.0
1940～1942		41.5	4.5	6.6	47.4

(單位：%)

(A)進行工業化 (B)日本政府忽視農業發展 (C)地力枯竭，限制農業發展 (D)農民反抗運動頻繁，不利農業發展。

19.(D) 下表為日治時期某一年臺灣的教育狀況，從表中可看出當時的教育情形為何？

項目	基礎教育		中等學校學生數	專門學校學生數	高等教育學生數
	學生數	學齡兒童就學率			
日本人	23,711 人	98.2%	477 人	6,856 人	220 人
臺灣人	210,727 人	28.4%	251 人	4,642 人	28 人

(A)臺人基礎教育較日人更為普及 (B)升學管道暢通，臺人紛紛入學 (C)臺人與日人都有平等的受教權 (D)臺人基礎教育不足且升學不易。【改寫自 91 年基測】

20.(D) 有一段描述臺灣教育發展史的資料提到：「直到 1941 年後，日本政府為爭取臺灣民心，始將小學校、公學校改制為國民學校，以示平等待遇，實則仍分為第一、二、三號表不同的課程。」根據上文，促成當時臺灣教育措施改變的原因為何？ (A)內地延長主義 (B)南進政策 (C)殖民地特殊統治 (D)皇民化運動。

21.(D) 下列為臺灣某份刊物上刊載的文章：

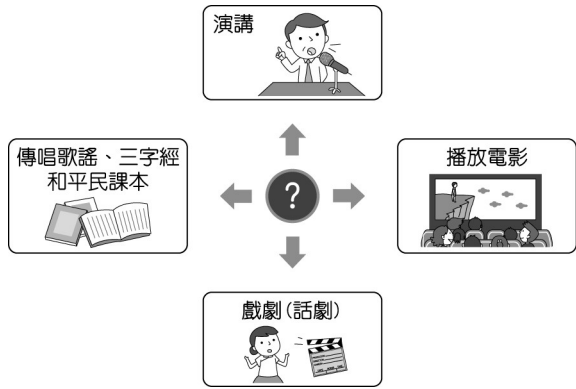
今日針對普及衛生思想，監督指導的單位須以身作

則，首先應喚起市街庄行政人員的自覺，有效配合地方上保甲的力量。此外，藉由小學校、公學校對衛生教育的提倡、社會上報章雜誌的宣傳，來提升民眾的衛生意識。

根據內容判斷，此段文章主要在討論下列何者？ (A)荷蘭聯合東印度公司推動衛生教育 (B)中華民國政府規畫與施行衛生教育 (C)清代開港通商時，傳教士引進公共衛生觀念 (D)日本統治時期，政府與民間推廣公共衛生觀念。

【106 年會考】


22.(B) 附圖的漫畫說明了日本治臺時期某個組織舉辦的活動，希望藉由這些活動能啟迪民智。請問：這個組織為何？



(A)臺灣議會設置請願運動 (B)臺灣文化協會 (C)臺灣民眾黨 (D)臺灣地方自治聯盟。

23.(A) 阿康的爺爺是日治時期的保正，他回憶以前都要協助警察宣布政令，挨家挨戶巡視環境清潔、抓老鼠、清水溝、垃圾清運等工作，也提到當時沒有人敢隨地吐痰或亂丟垃圾。請問：在這樣的作為之下，臺灣社會最明顯的改變為何？ (A)死亡率下降 (B)出生率上升 (C)生產力大增 (D)人口高齡化。

24.(A) 附圖為 1940 年代的一則舊剪報，當時此事件造成臺灣民情激憤，演變成後來一連串事情的導火線。請問：剪報中所報導的事件為何？



(A)二二八事件 (B)國共內戰 (C)日本戰敗投降 (D)實施白色恐怖。

25.(B) 1950、1960 年代，政府為鞏固在臺政權，且擔憂匪諜滲透，因此過度使用以下條文，甚至不需依法律程序審判就隨意逮捕民眾。請問：當時的時空背景為何？

意圖破壞國體、竊據國土或以非法之方法變更國憲、顛覆政府，而著手實行者，處七年以上有期徒刑；首謀者，處無期徒刑。預備或陰謀犯前項之罪者，處六月以上五年以下有期徒刑。

(A)戰後臺灣初期 (B)白色恐怖時期 (C)解除戒嚴之後 (D)國共內戰爆發。

26.(D) 目前我國總統由人民選舉產生，任期四年，可連選連任一次，但歷史上我國第 1~5 任的總統都是由蔣中正擔任，他可以不斷連任總統的原因為何？ (A)《中華民國憲法》的規定 (B)在美國授權監督下的委託 (C)當時正值白色恐怖而需要強人領導 (D)《動員戡亂時期臨時條款》擴大總統職權。

27.(B) 老師在用投影機播放一則新聞：「新北市烏來區


境內山高谷深，當地原住民族多為泰雅族人，因而設有烏來泰雅民族博物館，展覽該族相關的文物風俗。相傳三百多年前，該族族人狩獵至此，發現南勢溪冒出熱水與輕煙，齊呼『uraikirofu』，意為冒煙的熱水，這就是烏來地名的由來。近年因泡湯文化盛行，各式溫泉旅館在此林立，但有業者以低價向鄉公所承租河川地，後來卻未依照申請目的使用，反而違規建造溫泉飯店，經偵查後發現有圖利之嫌，相關單位人員已將違法者依法起訴。」請問：這則新聞的標題，最有可能是下列哪一則？ (A)發展觀光救經濟，政府應放寬法規管制 (B)傳統土地遭侵占，原住民文化加速流失 (C)烏來正名不能等，原住民地名應該尊重 (D)傳統文化大復活，原住民泡湯很有一套。

28.(D) 附圖是某時期中華民國政府對於出版社送審的一本辭典的審查結果，請根據圖片內容判斷，這本辭典可能因為哪些因素被裁決查扣？

俄華辭典內容載有「延安」
稱為「中國之民主聖地」，
「北京」稱為「中華人民共
和國之首都」等字樣，確有
不妥……應予查扣。

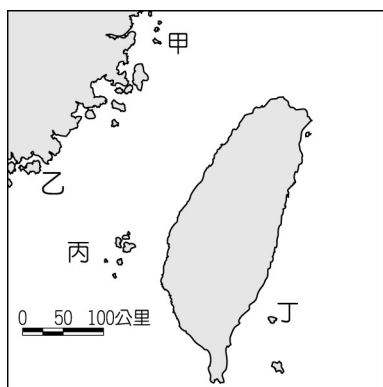
(A)涉及二二八事件之內容 (B)透露我國國防、外交之機密 (C)充滿日本殖民文化思想 (D)涉及共產主義與中共政權之內容。【改寫自 104 年會考】

29.(C) 以下是戰後臺灣發行的四本雜誌，請利用名稱與封面判斷何者與原住民運動有密切關係？



30.(B) 附表為某地的簡介，請依內容判斷，找出該地在附圖上的位置？

位置	臺灣西方的離島
歷史特色	兩岸武力對抗時，此地曾發生兩次重大戰役
景觀特色	地質結構上與中國大陸相連，古蹟及文化景觀眾多，成立「國家公園」



(A)甲 (B)乙 (C)丙 (D)丁。

31.(C) 正字家裡很貧窮，幸好有「阿逗仔」對臺的援助，才得以溫飽。他常常穿著上有「中美合作」字樣的麵粉袋內褲，打著赤膊跑去迎接「阿逗仔」的軍隊，快樂地撿著他們給的罐頭食品。請問：此與哪一歷史事件有關？ (A)臺灣光復 (B)臺美斷交 (C)韓戰爆發 (D)解除戒嚴。

32.(B) 附表是某些年分臺灣佃農每年每公頃收益統計，表中的數字演變反映出政府的哪一項政策？

年代	佃農稻穀收益數
1948 年	1,947 公斤
1949 年	2,788 公斤
1953 年	3,991 公斤
1968 年	6,925 公斤

(A)提高農會功能並興修水利工程 (B)實施三七五減租與耕者有其田 (C)推動六年經建計畫以振興農業 (D)推動十大建設，帶動國內景氣復甦。

33.(C) 婷婷在蒐集有關臺灣農業發展的資料時，得到有關臺灣自耕地與佃耕地比例變化的統計資料，如附表所示。根據表中內容顯示，導致此一變化的主要原因為何？

西元	1948 年	1953 年	1956 年
土地			
自耕地	56%	83%	85%
佃耕地	44%	17%	15%

(A)日本統治結束，土地歸還人民 (B)二二八事件後的土地賠償 (C)政府遷臺後的土地改革 (D)經濟快速成長後，帶動農業發展。

一、單一選擇題 (每題 3 分，共 99 分)

1.答案：(C)

2.答案：(C)

解析：隨著經濟活動的發展，第一級所占比例會逐漸減少。

3.答案：(B)

解析：經濟海域的範圍為 200 浬，因此乙船已進入其中兩國的經濟海域，容易發生漁業糾紛。

4.答案：(C)

解析：製糖廠主要分布於甘蔗生產地，自然環境以熱帶平原為主。

5.答案：(B)

解析：臺灣氣候適合農業活動發展，但因人口密集、山多平原少，因此形成集約的耕作方式。

6.答案：(C)

解析：文中敘述可知投入大量時間、勞力，是集約農業特色。

7.答案：(D)

解析：(A)逐漸降低(B)發展程度漸佳(C)附加價值愈來愈高。

8.答案：(C)

解析：(A)農村人口外流(B)耕地狹小(D)出超才可累積外匯。

9.答案：(B)

解析：入超是進口大於出口的情況。入超額最大是乙國，故

乙國可能是日本。

10.答案：(C)

解析：通常在週六時會前往鄉村度假，而週一則回到都市上班。(A)甲聚落(B)(D)乙聚落。

11.答案：(C)

解析：主要病例位於臺南市及高雄市，都屬於南部區域。

12.答案：(A)

13.答案：(C)

14.答案：(A)

解析：霧社位於今南投縣仁愛鄉，1930 年霧社事件，為賽德克族頭目莫那魯道所領導的原住民抗日運動，依題文來看選(A)。(B)西來庵事件發生在 1915 年，為漢人武裝抗日運動。(C)牡丹社事件發生在 1874 年，清帝國時期，日本出兵攻打臺灣南部。(D)臺灣民主國為 1895 年馬關條約簽訂後，臺人抗拒日本接收所成立。

15.答案：(D)

解析：日本總督府將鴉片、樟腦列為專賣商品，由政府獨占經營。

16.答案：(D)

解析：由「水田面積增加、全國最大的米倉」，可以推知是灌溉嘉南平原的嘉南大圳。

17.答案：(A)

解析：1934 年，日月潭發電所完工，有穩定的電力供應，得以發展軍需工業與輕工業。

18.答案：(A)

解析：1930~1945 年是日本統治臺灣的工業化時期，欲建設臺灣成為日本的南進基地。

19.答案：(D)

20.答案：(D)

解析：臺灣總督府為配合皇民化運動，取消小學校、公學校的區別，一律稱為「國民學校」。

21.答案：(D)

22.答案：(B)

解析：臺灣文化協會啟迪民智的措施有發行《臺灣民報》、設立讀報社、舉辦演講會。

23.答案：(A)

解析：藉由環境清潔工作，臺灣傳染病逐漸獲得控制，死亡率因此下降。

24.答案：(A)

解析：圖為 1947 年有關二二八事件導火線的報導，由查緝私菸、擊斃老百姓可判斷。

25.答案：(B)

解析：1950、1960 年代政府藉由戒嚴統治，壓制反對意見，造成白色恐怖。

26.答案：(D)

27.答案：(B)

28.答案：(D)

解析：延安是中共兩萬五千里長征最後的據點，也是西安事變的發生處，故與中國共產黨最有關。

29.答案：(C)

30.答案：(B)

解析：金門曾在 1949 年時，發生「古寧頭戰役」，1958 年時，發生「八二三炮戰」，其位於圖中乙地。

31.答案：(C)

32.答案：(B)

解析：1950 年前後，政府陸續推動三七五減租、公地放領、耕者有其田等農地改革，佃農因而成為自耕農，生產意願大為提高。

33.答案：(C)