








臺中市立公明國民中學

八年級上學期 家政科補考題庫

一、單選題：每題 4 分 共 100 分

1. (C) 合宜的服裝色彩會使氣色看起來較佳，下列關於色彩在服裝上的運用，何者敘述有誤？ (A)與膚色相同或對比的色彩會強調其膚色 (B)高彩度的顏色因顏色強烈，會使膚色看起來較淺 (C)膚色偏黑的人應穿著黑色衣物，膚色才不會顯得暗沉 (D)灰暗色系容易使膚色看起來乾燥。
2. (B) 組成我們日常衣著的纖維有哪兩大類？ 甲、機能性纖維；乙、人造纖維；丙、再生纖維；丁、天然纖維 (A)丙丁 (B)乙丁 (C)甲丁 (D)乙丙。
3. (B) 身材圓潤的花媽，穿戴下列何者服飾，可以為她的儀容加分？ (A)螢光色潮 T (B)腰部有縮口設計的密直條上衣 (C)造型寬鬆的短褲 (D)大圓框眼鏡。
4. (D) 下列何者並非成功的服裝秀所必須具備的要件？ (A)合乎主題的展示服裝 (B)模特兒完美的動態顯示 (C)情境音樂、燈光等氣氛營造 (D)華麗的舞臺。
5. (C) 暑假時，書彥和家人一起去宜蘭玩，不但搭船出海看鯨豚，還上太平山國家森林遊樂區吸收芬多精。請問：在這趟旅程中，他們在穿著上應該注意什麼？ 甲、穿著應考量防晒，選擇防紫外線的材質；乙、穿著黑色或深色衣物；丙、加強衣著的保暖性；丁、考慮防蚊蟲叮咬，避免穿鮮豔的服裝。(A)乙丙 (B)甲丙 (C)甲丁 (D)乙丁。
6. (A) 一般來說，棉質 T 恤加牛仔褲的打扮，適合什麼樣的場合？ (A) 活動性低的非正式場合 (B)活動性高的非正式場合 (C)莊嚴的場合 (D)任何場合皆適合。
7. (D) 金帥是服裝秀的模特兒，想穿能修飾他圓臉的 T 恤，下列何種領型能達到此目地？ (A)平口 (B)圓領 (C)高領 (D)V 領。
8. (B) 下列關於衣物清洗方法的說明，何者錯誤？ (A)衣物若沾有醬油、油墨、血跡等汙漬，應先處理後再清洗 (B)任何一種材質的衣服，都可以用洗衣機清洗 (C)晾晒衣物時，衣物間的間距越大，通風效果越好 (D)少用烘乾機，多採用自然風乾、晾乾，是比較環保的做法。
9. (A) 下列哪一種衣物只適合以吊掛的方式收納？ (A)絲質洋裝 (B)棉質 T 恤 (C)牛仔短裙 (D)柔軟具彈性的內搭褲。
10. (D) 洗衣三步驟，依序為何？ 甲、清洗；乙、預先處理；丙、晾晒。(A)丙乙甲 (B)甲乙丙 (C)乙丙甲 (D)乙甲丙。
11. (C) 關於標示的內容為何？ (A)不可脫水 (B)不可水洗 (C)不可烘乾 (D)不可乾洗。
12. (A) 關於標示的內容為何？ (A)不可漂白 (B)須手洗 (C)不可乾洗 (D)不可脫水。
13. (A) 關於標示，下列何者正確？ (A)懸掛滴乾 (B)平放乾燥 (C)烘乾後平放 (D)不可擰扭。
14. (B) 下列關於基本手縫技巧的說明，何者有誤？ (A)拿針與持布的方式要正確 (B)穿針時一定要使用穿線器，徒手無法成功 (C)將布縫合時，要預留一些縫分 (D)針對不同的狀況，需要用到不同的手縫技巧。
15. (D) 剛開始學習手縫，應該注意什麼事，才能在操作時更加得心應手？ 甲、要認識各種用具與用途；乙、要認識手縫基本功及相關認知；丙、購買高級的手縫工具；丁、要培養良好的手縫習慣 (A)甲乙丙 (B)甲丙丁 (C)乙丙丁 (D)甲乙丁。
16. (D) 下列關於毛邊縫的說明，何者正確？ (A)又稱作千鳥縫 (B)褲管、裙襞脫線可用此縫法 (C)用於填充物開口處的縫合 (D)可讓布的邊緣不易產生毛邊。
17. (D) 學會基本手縫法後，可以運用在哪些

事物上？ 甲、製作邀請卡；乙、改造衣服；丙、未來事業發展方向；丁、修補衣物。 (A)甲乙丙 (B)甲乙丁 (C)乙丙丁 (D)甲乙丙丁。

18. (C) 製作筆袋時，過程中需要先固定摺邊才能縫合，這時候可以利用哪一種工具幫助自己？ (A)針插 (B)錐子 (C)珠針 (D)頂針器。
19. (D) 製作手縫小物時，必須先依據設計稿裁布，此時可以利用什麼工具在布上畫出裁剪記號？ (A)油性筆 (B)原子筆 (C)蠟筆 (D)粉片。
20. (B) 媽媽最近迷上手縫，今天正忙著製作面紙包，正進行到要固定布料時，竟一時找不到珠針可以使用，請問：她可以利用哪一種手縫法暫時代替珠針固定布料？ (A)回針縫 (B)平針縫 (C)斜針縫 (D)藏針縫。
21. (A) 關於飾品搭配原則，下列何者不正確？ (A)飾品多就是有型 (B)避免強化臉型 (C)配戴大小因人而異 (D)展現個人特色。
22. (C) 在賣場裡展示的新衣服，都附有洗燙處理標示，請問：下列哪一種圖示代表衣服可以用洗衣機清洗？  
(A)  (B)  (C)   
(D) .
23. (C) 因著不同織法，而有不同彈性變化的布，是下列哪一種？ (A)紗織布 (B)不織布 (C)針織布 (D)梭織布。
24. (B) 不同的衣物需要用不同的方式清洗，下列哪些衣物最適合用洗衣機清洗？  
甲、西裝外套；乙、純棉白 T 恤；丙、條紋襯衫；丁、內衣褲；戊、絲質洋裝；己、牛仔褲。 (A)甲乙丁 (B)乙丙己 (C)丙戊己 (D)乙戊己。
25. (A) 下列哪些服飾，是準備去銀行面試的莉媚可以考慮的？ 甲、長袖棉質 T 恤；乙、粉藍色素面襯衫；丙、牛仔褲；丁、灰色梭織長褲；戊、慢跑鞋；己、皮鞋。 (A) 乙丁己 (B)甲丁己 (C)乙丙己 (D)甲丙戊。