



一、單一選擇題 (每題 2.5 分，共 100 分)

1.(C) 附圖是某一文件的部分內容，此文件最可能是下列何者？




- (A)法軍將領給清廷的戰帖 (B)日本給牡丹社原住民的公告
(C)日本給臺灣民主國的勸降書 (D)臺灣民主國給日本總督的通牒。【改寫自 106 年會考】

2.(D) 小波找到一幅日治時期的諷刺漫畫(如附圖)，圖中描述著為了改善日治初期臺灣財政不良，總督府藉由實施哪一商品的專賣，來獲取龐大的利潤？



- (A)茶葉 (B)蔗糖 (C)酒品 (D)鴉片。

3.(C) 恩宇是一位上班族，附圖為他在週末到鄰近的聚落度假，星期一再返回工作地點的示意圖。請問：若以圖中資料判斷，則有關甲、乙兩聚落的敘述何者正確？



- (A)乙聚落的生活較悠閒 (B)甲聚落的每人生活空間較小
(C)乙聚落的對外交通較優越 (D)甲聚落的工商業較發達。

4.(B) 有一份雜誌報導：

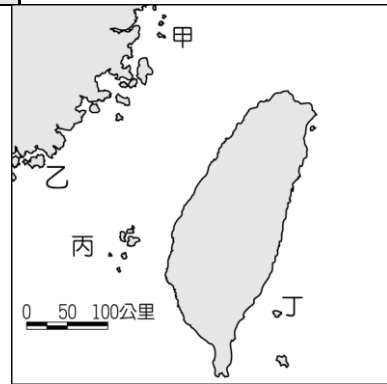
臺灣男女薪資差異從 1960 年代開始顯著地縮小。
1960 年時，男性平均每賺 100 塊錢，女性只賺 65 元。
2015 年時，男性賺 100 塊錢時，女性可以賺 83 元。
1960 年代，女性要多工作 200 天，才能和男性收入相當。
現在，女性只要多工作 54 天。

我們可以怎麼判斷這份報導想表達的主旨？ (A)臺灣社會已達性別平權 (B)同工不同酬的情況仍存在 (C)女性每年只工作 200 天，是收入較低的主因 (D)女性只要更努力工作，就能改善性別歧視。

5.(B) 附表為某地的簡介，請依內容判斷，找出該地在附圖上的位置？

位置	臺灣西方的離島
歷史	兩岸武力對抗時，此地曾發生兩次重大戰役
特色	次重大戰役

景觀特色	地質結構上與中國大陸相連，古蹟及文化景觀眾多，成立「國家公園」
------	---------------------------------



- (A)甲 (B)乙 (C)丙 (D)丁。

6.(A) 附圖為泰國、緬甸的風俗習慣，身為地球村的我們如果多加了解相關知識，將有助於增進下列哪一內涵？

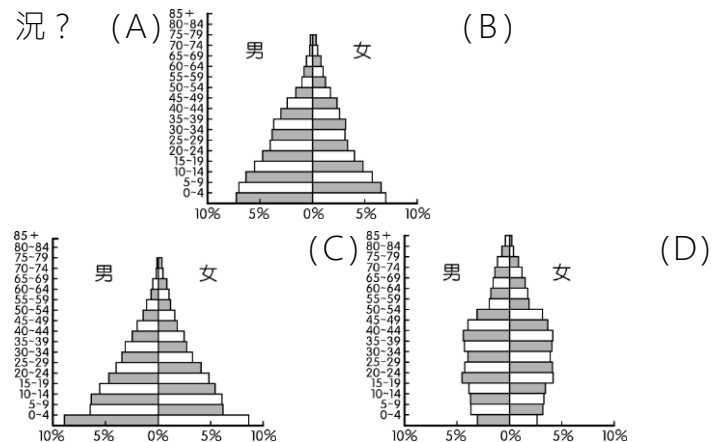


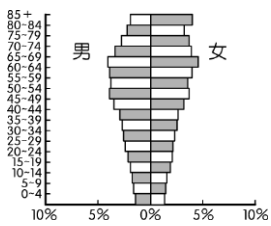
- (A)擴展國際視野 (B)肯定在地文化 (C)帶動文化創新 (D)探索文化遺跡。

7.(B) 臺灣於何時開始實施陽曆，並引進一週七天的星期制？ (A)清帝國晚期 (B)日本殖民統治時期 (C)中華民國成立之後 (D)中華民國遷臺以後。

8.(C) 臺灣加入世界貿易組織 (WTO) 後，對農業經營的衝擊很大，為因應此狀況，未來最適合的農業發展方向為何？ (A)粗放經營以降低成本 (B)設法開闢山林，增加耕地面積 (C)建立品牌及行銷，提升農產品的價值 (D)推廣農業機械化，以增加農產。

9.(C) 臺灣四十多年來歷經社會經濟的改變，人口組成出現明顯的變化。請問：下列何者最接近目前的狀況？ (A) (B)





- 10.(B) 日本接收臺灣展開殖民統治初期，臺灣人民的抗日行動始終沒有間斷，其抗日型態的演變為何？
 (A) 始終以武裝抗爭方式進行 (B) 從武裝抗日轉為政治、社會抗爭 (C) 從政治、社會運動抗爭，轉為假借宗教信仰進行抗爭 (D) 從政治、文化的抗爭轉為武裝抗日。
- 11.(A) 為了維持社會秩序，人與人之間的互動有一套行為準則，使人的行為有遵循的方向，知道哪些事應該做、哪些事不應該做，而這套行為準則稱為下列何者？
 (A) 社會規範 (B) 自然法則 (C) 因果循環 (D) 宗教戒律。

12.(A) 關於文化的意義，下列哪一位同學的發言最正確？

(A) 人類創造或學習而來的一切成果，都可稱為文化。
 (B) 通俗音樂難登大雅之堂，不屬於文化範圍。

小玥

小潤

(C) 未開發的原始森林，屬於珍貴的文化遺跡。
 (D) 文化的內容只包含藝術、文學、電影、音樂。

小昆

小茹

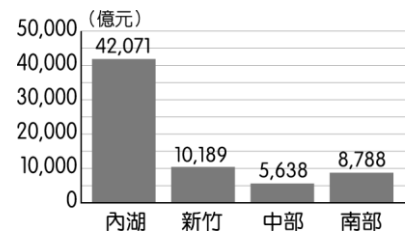
13.(B) 附表是臺灣自耕地與佃耕地的比例變化。之所以會出現這種變化的主要原因為下列何項？

項目	1948年	1953年	1956年
自耕地	56%	83%	85%
佃耕地	44%	17%	15%

- (A) 美麗島事件後的土地賠償 (B) 中華民國政府遷臺後的土地改革 (C) 日本戰敗後，臺灣農民接收日本人的田地 (D) 高科技產業發達後，帶動農業發展。

14.(C) 現下臺灣年輕人流行打工度假，趁著年輕到澳洲或美加等地工作，開拓自己的視野，再回國進入職場。這種現象對於澳洲等國家而言，屬於何種特色的人口遷移？
 (A) 具拉力的永久性遷移 (B) 具推力的永久性遷移 (C) 具拉力的暫時性遷移 (D) 具推力的暫時性遷移。

15.(C) 高科技產業的發展與生產為臺灣主要的發展重點，附圖為目前全臺四大科技園區的營業額狀況。請問：其中營業額最高的園區主要位於哪一個縣市內？



(A) 新竹 (B) 臺中 (C) 臺北 (D) 臺南。

16.(D) 下列關於「風俗習慣」與「法律」的敘述，哪些正確？
 (甲) 風俗習慣是長期累積而成的；法律則為國家依一定程序所制定出來的
 (乙) 法律是人類社會最早發展出來的一種社會規範形式
 (丙) 風俗習慣是所有成員都必須遵守的，具有明確性與強制性
 (丁) 過年圍爐、清明掃墓、成年禮都屬於風俗習慣
 (A) 丙丁 (B) 甲乙 (C) 甲丙 (D) 甲丁。

17.(D) 附圖是日治時期的一張宣傳海報，內容是「時間是金，時間不待，請互相遵守時間」。這是哪種運動的宣傳海報？



(A) 放足 (B) 斷髮 (C) 守法 (D) 守時。

18.(C) 小明希望能藉由參與團體事務來付出愛心、體驗生命，並從中獲得自我實現的成就感。請問：小明應參加下列哪一團體才能成就自己的想法？
 (A) 中國國民黨 (B) 空服人員職業工會 (C) 兒童福利聯盟 (D) 音樂社。

19.(D) 1971年，臺灣退出聯合國，國際處境愈加艱難。臺灣退出聯合國後，取代我國進入聯合國的是下列何者？
 (A) 美國 (B) 日本 (C) 南韓 (D) 中華人民共和國。

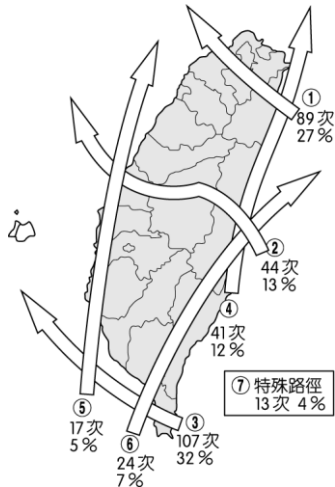
20.(A) 臺灣為推廣觀光業，曾經推行「長宿計畫」，希望吸引鄰近國家如日本的退休人員前來臺灣長住，為服務業帶來新的商機。若根據環境優美、生活悠閒等條件判斷，下列哪一個地區最為適合？
 (A) 花蓮 (B) 臺中 (C) 臺北 (D) 高雄。

21.(B) 蔣經國時期，臺灣面對中共的和平統戰，採取「三不政策」加以回應。請問：「三不政策」的內容為何？
 (A) 不接觸、不通商、不妥協 (B) 不接觸、不談判、不妥協 (C) 不統一、不交流、不通話 (D) 不統一、不談判、不通話

D)不通航、不通郵、不通商。

22.(A) 展望未來，為了加強國家的競爭力，今後必須加速發展何種產業，使臺灣成為尖端科技和產業技術的重鎮？ (A)高科技產業 (B)加工出口產業 (C)民生工業 (D)國防工業。

23.(D) 臺灣位於西太平洋上，每年都會受到颱風的侵襲，附圖為歷年侵臺的颱風路線圖。請問：哪一個區域受到颱風直接侵襲的機率最高？



(A)北部區域 (B)中部區域 (C)南部區域 (D)東部區域。

24.(A) 美國記者 Diana 來臺灣進行採訪，希望能了解阿美族著名的豐年祭特色。請問：她應該前往下列何處採訪？ (A)東部區域 (B)南部區域 (C)中部區域 (D)北部區域。

25.(D) 「日本治臺時期，由於在臺升學不易，臺人有志青年踴躍前往日本留學，至 1945 年為止，留日學生共達二十萬人。」上述說明日本殖民統治時期臺灣教育的何種現象？ (A)崇拜東洋的心態 (B)總督府以「國民」看待臺人，給予相同的教育機會 (C)總督府鼓勵臺人子弟赴日習醫，故人數最多 (D)總督府的差別待遇，使臺人子弟未能享受公平的教育機會。

26.(D) 日治時期，總督府可以瓦解反抗勢力，且能確實掌握臺灣的戶口，奠定堅實的統治基礎，與下列何者有關？ (A)臺灣民主國 (B)軍隊與壯丁團 (C)警察與軍隊 (D)警察與保甲制度。

27.(C) 主流文化是指社會上多數人認同的價值、信仰及規範。下列哪些是臺灣目前的主流文化？(甲)追求民主價值(乙)強調人人平等(丙)推崇純素飲食習慣(丁)愛惜地球，重視環保 (A)甲乙丙 (B)乙丙丁 (C)甲乙丁 (D)甲丙丁。

28.(A) 第二次世界大戰結束後，國民政府撤退來臺，曾經有一段時間，因為獲得某國的援助，所以跟該國關係密切，亦有利於西方文化的傳入。請問：此國家為下列何者？ (A)美國 (B)日本 (C)韓國 (D)中國。

29.(C) 下表是智孝在課堂上報告某個專題的部分內容，根據表中資料判斷，下列何者最有可能是她報告的主題？

團體	內容	進行期間
車禍受難者救援協會	推動強制汽車責任保險法通過	1990~1996年
婦女新知基金會	推動兩性工作平等法通過	1990~2001年
董氏基金會	推動菸害防制法通過	1991~1997年
兒童福利聯盟	推動兒童及少年福利法通過	2001~2003年

註：兩性工作平等法已於 2008.01.16 修正為性別工作平等法；兒童及少年福利法已於 2011.11.30 修正為兒童及少年福利與權益保障法。

(A)政黨擬定公共政策 (B)遊說對於政策影響不大 (C)利益團體影響政策制定 (D)舉辦公民投票。

30.(D) 日本治臺時期，新知識分子推動政治社會運動不遺餘力，除了與日本殖民政府作抗爭外，也著重在啟迪民智、喚醒民族意識，以文化活動來達成文化教育的目標。請問：以上是以哪一機構來推動的？ (A)臺北天然足會 (B)臺灣議會 (C)臺灣總督府 (D)臺灣文化協會。

31.(C) 《史記》記載，漢孝文帝勤政愛民，在位時施行德政，發放糧食、生活必需品等救助弱勢人民，安定民心，其執政主要成就便在於穩定漢初社會秩序，發展經濟，開創文景之治。由上述可知，為達到此一目的，何種政策的重要性？ (A)國防外交 (B)教育文化 (C)社會安全 (D)國民經濟。

32.(B) 七年級的小咪於假日和父母一同到臺北市萬華觀光，發現當地街友問題嚴重。請問：對於社會底層的弱勢者，我們應該抱持何種態度？ (A)不努力才會成為街友 (B)每個人都有可能陷入經濟或社會不公平的困境 (C)可憐之人必有可恨之處 (D)督促政府制定政策驅趕街友。

33.(C) 附表為四個城市人民從事各級產業比例圖，請依表中資料判斷，哪一個城市經濟的發展程度最高？

城市	第一級產業	第二級產業	第三級產業
甲	80%	10%	10%
乙	30%	50%	20%
丙	10%	30%	60%
丁	35%	35%	30%

(A)甲 (B)乙 (C)丙 (D)丁。

34.(A) 附圖中的期刊是臺灣在 1950 年代檯面上可以聽到異議聲響的出版品，內容刊登的文章主要為檢討臺灣內部問題，及批評國民黨政府政策弊病，因而引發當局不滿。請問：上述最後導致主辦雜誌的何人

遭逮捕？



(A)雷震 (B)陳澄波 (C)陳儀 (D)陳誠。

35.(C) 以下為一位少數族群代表與政府官員協商時所做出的回應，他的憂慮應是擔心政府造成以下何者？

政府以主觀立場認為我們的生活方式不夠進步，因此制定這項政策，但這是我們族群獨特的風俗習慣和信仰方式，並未對他人造成危害，若強制我們遵循政策，將導致傳統文化難以傳承，請政府多多傾聽族人的聲音。

(A)次文化 (B)多元文化 (C)文化位階 (D)文化差異。

36.(D) 「張燈結彩喜洋洋，勝利歌兒大家唱，唱遍城市和村莊，臺灣光復不能忘.....。」以上這首《臺灣光復紀念歌》，是為了慶祝臺灣脫離哪個政權的統治？〔91. 第二次基測修訂〕 (A)荷蘭 (B)鄭氏 (C)清朝 (D)日本。

37.(A) 2017 年夏天，浩誠和可欣從高雄到臺北來觀看世大運的精彩賽事，兩人各自利用不同交通方式前往。浩誠約花了 5 個小時到達、可欣則用了 1.5 小時到達臺北。請問：這兩人分別各是利用何種交通方式？ (A)高速公路、高鐵 (B)高鐵、高速公路 (C)高鐵、省道 (D)捷運、省道。

38.(A) 我國的人口政策受到出生率大幅下降的影響，而出現轉變，由早期的鼓勵節育轉為近年來的鼓勵生育。造成上述現象的主要因素中，不包括下列何者？ (A)人口密度過高 (B)結婚年齡延後 (C)婦女就業率高 (D)不婚族群增加。

39.(B) 1937 年中日戰爭爆發後，日本為了提高臺灣人民對日本的向心力，故推動哪一項政策，欲讓臺灣人的語言、風俗、習慣等均與日本沒有差異？ (A)保甲制度 (B)皇民化運動 (C)警察政治 (D)殖民地特殊統治。

40.(B) 宜蘭屬於東部優質生活產業軸，有豐富的人文與自然資源，配合悠閒慢活的生活步調，觀光業興盛。宜蘭冬山鄉的伯朗大道，整片綠色稻田也成為新興景點，不過卻有遊客闖進田裡拍照而踩壞稻子，不僅破壞美景，遊客離開後，踩壞的稻子損失農民得自己負擔，行徑相當誇張。請問：遊客不聽勸阻，闖進田裡拍照而踩壞稻子，違反哪項社會規範？ (A)風俗習慣 (B)倫理道德 (C)法律規範 (D)宗教信仰。(地理 6-1、公民 2-2)