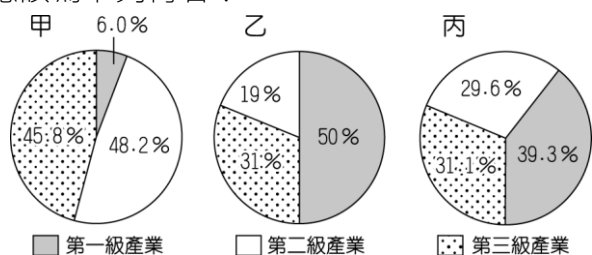


一、單一選擇題 (每題 3 分，共 99 分)

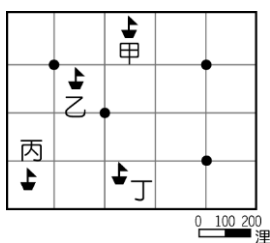
1.() 下列有關臺灣人口分布與遷移的敘述何者正確？
 (A)移入臺灣的人口全來自中國與東南亞國家 (B) 臺灣移出的人口全都因工作、求學而移出 (C)北部因工作機會較多，為主要人口移入地 (D)整體而言，臺灣的人口分布狀態十分平均。

2.() 產業結構的變遷反映出一國的經濟發展，附圖為星星國三個不同階段的產業結構圖，若依其發展順序，應該為下列何者？



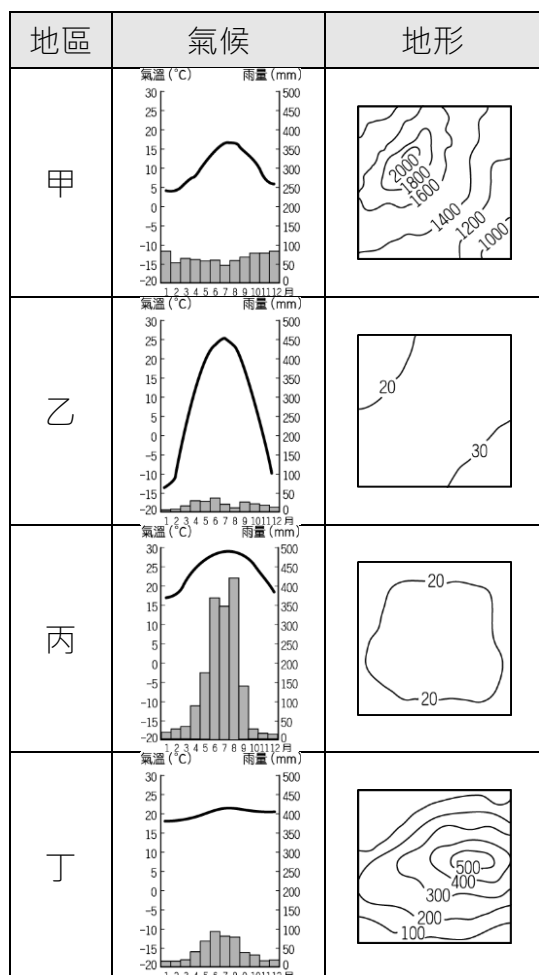
(A)甲乙丙 (B)乙甲丙 (C)乙丙甲 (D)甲丙乙。

3.() 臺灣遠洋漁業的作業範圍遍及全球，卻也常因為誤入他國經濟海域而產生糾紛。附圖中的黑點分別為四個島國的位置，圖中哪一艘作業漁船最可能出現上述情況？



(A)甲 (B)乙 (C)丙 (D)丁。

4.() 食品加工業多分布於農業原料生產地，若王老闆要開設製糖工廠，其設廠地點的自然環境以下列何者最為適合？



(A)甲 (B)乙 (C)丙 (D)丁。

5.() 附圖為恩宇和美國來的泰勒參觀臺灣農村的經過，恩宇說的限制包括下列哪一項？



(A)氣候溼熱 (B)地形起伏 (C)土壤肥沃 (D)降水季節集中。

6.() 陶淵明〈歸園田居〉詩中：「種豆南山下，草盛豆苗稀。晨興理荒穢，帶月荷鋤歸。」這種清晨下田鬆土除草，星月下才扛著鋤頭回家歇息的田園生活，恰可以形容臺灣農業經營的哪一種特色？ (A)耕地狹小 (B)技術先進 (C)集約度高 (D)休閒產業興起。

7.() 臺灣各階段的主要產業類別如附圖所示，根據圖中資料判斷，下列有關產業發展的敘述何者最為正確？

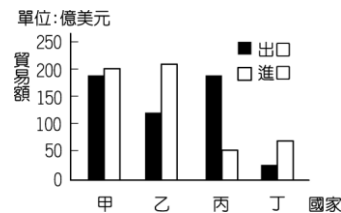


(A)所需勞動人口數逐漸增加 (B)國家經濟發展程度下降 (C)產品附加價值愈來愈低 (D)產業發展由需大量低廉勞工轉向資本密集度高。

8.() 隨著經濟發展，臺灣產業結構有大幅度的轉變。下列有關目前臺灣產業的敘述，哪一項是正確的？


(A)由於農村勞力充沛，農耕技術先進，農業經營集約度高 (B)每位農民耕地廣大，生產成本較低，農產品可大量出口 (C)工業已由早期勞力密集工業，逐漸升級到資本密集工業和技術密集工業 (D)國際貿易發達，自民國 60 年代以來，每年都是入超，累積了頗多的外匯。

9.() 附圖為某年甲、乙、丙、丁四個國家與臺灣的貿易額統計圖，已知臺灣對日本的入超額最大。請問：何者最可能為日本？



(A)甲 (B)乙 (C)丙 (D)丁。

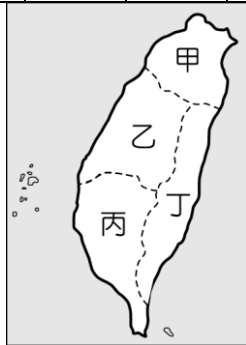
10.() 恩宇是一位上班族，附圖為他在週末到鄰近的聚落度假，星期一再返回工作地點的示意圖。請問：若以圖中資料判斷，則有關甲、乙兩聚落的敘述何者正確？



- (A)乙聚落的生活較悠閒 (B)甲聚落的每人生活空間較小
(C)乙聚落的對外交通較優越 (D)甲聚落的工商業較發達。

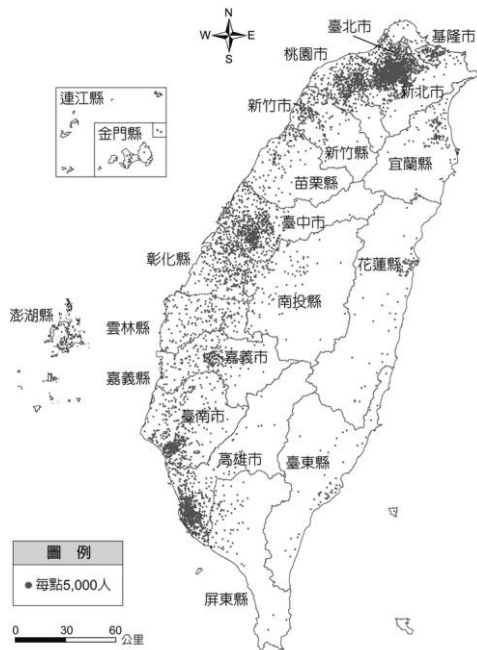
11.() 2015 年臺灣登革熱疫情嚴重，病例破萬，中央政府成立疫情指揮中心，全面防堵疫情的擴散。附表為截至 2015 年 9 月 24 日的登革熱病例的分布統計圖，根據表中資訊判斷，要特別加強防疫工作的區域位於附圖中哪一區域？

縣市	病例數	縣市	病例數	縣市	病例數
臺南市	13,960	嘉義縣	13	宜蘭縣	3
高雄市	1,858	新竹縣	12	花蓮縣	3
屏東縣	61	新竹市	9	南投縣	3
新北市	33	嘉義市	9	基隆市	2
臺中市	32	彰化縣	7	金門縣	2
臺北市	29	雲林縣	6	苗栗縣	2
桃園市	25	澎湖縣	4	臺東縣	1



- (A)甲 (B)乙 (C)丙 (D)丁。


12.() 根據衛服部統計，104 年臺灣各縣市醫院中，平均每一萬人的病床數，以花蓮縣的 122.2 床位居全臺第一；而臺北市排名倒數第五，平均一萬人口僅有 32.9 個病床數。但花蓮縣醫療院所僅有 277 家，臺北市卻有高達 6,675 家的醫療院所。根據下圖，上述現象可以如何解釋？



- (甲)花蓮縣人口密度高，因此所擁有的病床數高
(乙)花蓮縣人口密度低，因此每萬人相對擁有較多病床數
(丙)臺北市人口密度高，因此醫療院所數量相對較多
(丁)臺北市人口密度低，因此每萬人相對擁有較少病床數
(戊)以平均每萬人口病床數作為縣市醫療資源足夠與否的統計並不全面

- (A)乙丙戊 (B)甲丙戊 (C)乙丁戊 (D)甲丁戊。

13.() 附圖是某一文件的部分內容，此文件最可能是下列何者？



- (A)法軍將領給清廷的戰帖 (B)日本給牡丹社原住民的公告
(C)日本給臺灣民主國的勸降書 (D)臺灣民主國給日本總督的通牒。【改寫自 106 年會考】

14.() 2002 年，南投縣某位年過 80 歲的原住民長老回憶：

「小時候，日本人為了進一步開發山區森林與樟腦資源，經常用很少的薪水雇用部落成員到深山負責砍伐或搬運，也常派出警察到部落巡視、駐紮。這些高壓統治政策，逼迫我們只好武裝起來反抗。」

請問：這位原住民長老回憶的抗日事件，最有可能是下列何者？ (A)霧社事件 (B)西來庵事件 (C)牡丹社事件 (D)臺灣民主國。

15.() 小波找到一幅日治時期的諷刺漫畫（如附圖），圖中描述著為了改善日治初期臺灣財政不良，總督府藉由實施哪一商品的專賣，來獲取龐大的利潤？



- (A)茶葉 (B)蔗糖 (C)酒品 (D)鴉片。

16.() 「竣工後，原本只有五千公頃的水田變為十五萬公頃。其灌溉區一片欣欣向榮，水稻一年三作，成為全國最大的米倉。」請問：文中的應該是指哪一項水利灌溉工程？ (A)瑠公圳 (B)曹公圳 (C)八堡圳 (D)嘉南大圳。

17.() 琍穎在做段考複習時，看到課本上有一張「臺灣輕工業生產指數圖」（如附圖）。請問：圖中在 1930 年代以後，生產指數大幅上升的原因為何？



- (A)日月潭發電所的完工 (B)基隆到高雄鐵路完工通車
(C)蓬萊米新稻種的培植成功 (D)日本政府推行皇民化運動。

18.() 附表為日治時期臺灣各行業生產值比率表。請問：臺灣農業生產值比率下降的原因何在？

年度	項目			
	農業	礦業	漁林業	工業
1915 ~ 1919	55.0	2.8	3.4	38.8

1920~1924	50.3	2.9	5.6	41.2
1925~1929	52.5	3.0	5.7	38.8
1930~1934	48.7	3.0	5.0	43.3
1935~1939	48.0	4.4	4.6	43.0
1940~1942	41.5	4.5	6.6	47.4

(單位：%)

(A)進行工業化 (B)日本政府忽視農業發展 (C)地力枯竭，限制農業發展 (D)農民反抗運動頻繁，不利農業發展。

19.() 下表為日治時期某一年臺灣的教育狀況，從表中可看出當時的教育情形為何？

項目	基礎教育		中等學校學生數	專門學校學生數	高等教育學生數
	學生數	學齡兒童就學率			
日本人	23,711人	98.2%	477人	6,856人	220人
臺灣人	210,727人	28.4%	251人	4,642人	28人

(A)臺人基礎教育較日人更為普及 (B)升學管道暢通，臺人紛紛入學 (C)臺人與日人都有平等的受教權 (D)臺人基礎教育不足且升學不易。【改寫自 91 年基測】

20.() 有一段描述臺灣教育發展史的資料提到：「直到 1941 年後，日本政府為爭取臺灣民心，始將小學校、公學校改制為國民學校，以示平等待遇，實則仍分為第一、二、三號表不同的課程。」根據上文，促成當時臺灣教育措施改變的原因為何？ (A)內地延長主義 (B)南進政策 (C)殖民地特殊統治 (D)皇民化運動。

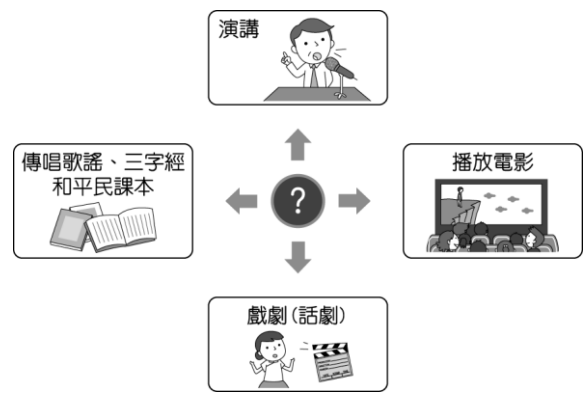
21.() 下列為臺灣某份刊物上刊載的文章：

今日針對普及衛生思想，監督指導的單位須以身作則，首先應喚起市街庄行政人員的自覺，有效配合地方上保甲的力量。此外，藉由小學校、公學校對衛生教育的提倡、社會上報章雜誌的宣傳，來提升民眾的衛生意識。

根據內容判斷，此段文章主要在討論下列何者？ (A)荷蘭聯合東印度公司推動衛生教育 (B)中華民國政府規畫與施行衛生教育 (C)清代開港通商時，傳教士引進公共衛生觀念 (D)日本統治時期，政府與民間推廣公共衛生觀念。

【106 年會考】


22.() 附圖的漫畫說明了日本治臺時期某個組織舉辦的活動，希望藉由這些活動能啟迪民智。請問：這個組織為何？



(A)臺灣議會設置請願運動 (B)臺灣文化協會 (C)臺灣民眾黨 (D)臺灣地方自治聯盟。

23.() 阿康的爺爺是日治時期的保正，他回憶以前都要協助警察宣布政令，挨家挨戶巡視環境清潔、抓老鼠、清水溝、垃圾清運等工作，也提到當時沒有人敢隨地吐痰或亂丟垃圾。請問：在這樣的作為之下，臺灣社會最明顯的改變為何？ (A)死亡率下降 (B)出生率上升 (C)生產力大增 (D)人口高齡化。

24.() 附圖為 1940 年代的一則舊剪報，當時此事件造成臺灣民情激憤，演變成後來一連串事情的導火線。請問：剪報中所報導的事件為何？



(A)二二八事件 (B)國共內戰 (C)日本戰敗投降 (D)實施白色恐怖。

25.() 1950、1960 年代，政府為鞏固在臺政權，且擔憂匪諜滲透，因此過度使用以下條文，甚至不需依法律程序審判就隨意逮捕民眾。請問：當時的時空背景為何？

意圖破壞國體、竊據國土或以非法之方法變更國憲、顛覆政府，而著手實行者，處七年以上有期徒刑；首謀者，處無期徒刑。預備或陰謀犯前項之罪者，處六月以上五年以下有期徒刑。

(A)戰後臺灣初期 (B)白色恐怖時期 (C)解除戒嚴之後 (D)國共內戰爆發。

26.() 目前我國總統由人民選舉產生，任期四年，可連選連任一次，但歷史上我國第 1~5 任的總統都是由蔣中正擔任，他可以不斷連任總統的原因為何？ (A)《中華民國憲法》的規定 (B)在美國授權監督下的委託 (C)當時正值白色恐怖而需要強人領導 (D)《動員戡亂時期臨時條款》擴大總統職權。

27.() 老師在用投影機播放一則新聞：「新北市烏來區境內山高谷深，當地原住民族多為泰雅族人，因而設有烏來泰雅民族博物館，展覽該族相關的文物風俗。相傳三百多年前，該族族人狩獵至此，發現南勢溪



冒出熱水與輕煙，齊呼『uraikirofu』，意為冒煙的熱水，這就是烏來地名的由來。近年因泡湯文化盛行，各式溫泉旅館在此林立，但有業者以低價向鄉公所承租河川地，後來卻未依照申請目的使用，反而違規建造溫泉飯店，經偵查後發現有圖利之嫌，相關單位人員已將違法者依法起訴。」請問：這則新聞的標題，最有可能是下列哪一則？ (A)發展觀光救經濟，政府應放寬法規管制 (B)傳統土地遭侵占，原住民文化加速流失 (C)烏來正名不能等，原住民地名應該尊重 (D)傳統文化大復活，原住民泡湯很有一套。


28.() 附圖是某時期中華民國政府對於出版社送審的一本辭典的審查結果，請根據圖片內容判斷，這本辭典可能因為哪些因素被裁決查扣？

不妥……應予查扣。
和國之首都」等字樣，確有
「北京」稱為「中華人民共
稱為「中國之民主聖地」，
俄華辭典內容載有「延安」

(A)涉及二二八事件之內容 (B)透露我國國防、外交之機密
(C)充滿日本殖民文化思想 (D)涉及共產主義與中共政權之內容。【改寫自 104 年會考】

29.() 以下是戰後臺灣發行的四本雜誌，請利用名稱與封面判斷何者與原住民運動有密切關係？

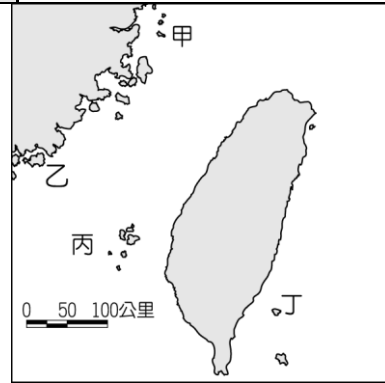
(A)  (B)  (C)

(D)  

30.() 附表為某地的簡介，請依內容判斷，找出該地在附圖上的位置？

位置	臺灣西方的離島
歷史	兩岸武力對抗時，此地曾發生兩次重大戰役
特色	

景觀特色
地質結構上與中國大陸相連，古蹟及文化景觀眾多，成立「國家公園」



(A)甲 (B)乙 (C)丙 (D)丁。

31.() 正宇家裡很貧窮，幸好有「阿逗仔」對臺的援助，才得以溫飽。他常常穿著上有「中美合作」字樣的麵粉袋內褲，打著赤膊跑去迎接「阿逗仔」的軍隊，快樂地撿著他們給的罐頭食品。請問：此與哪一歷史事件有關？ (A)臺灣光復 (B)臺美斷交 (C)韓戰爆發 (D)解除戒嚴。

32.() 附表是某些年分臺灣佃農每年每公頃收益統計，表中的數字演變反映出政府的哪一項政策？

年代	佃農稻穀收益數
1948 年	1,947 公斤
1949 年	2,788 公斤
1953 年	3,991 公斤
1968 年	6,925 公斤

(A)提高農會功能並興修水利工程 (B)實施三七五減租與耕者有其田 (C)推動六年經建計畫以振興農業 (D)推動十大建設，帶動國內景氣復甦。

33.() 婷婷在蒐集有關臺灣農業發展的資料時，得到有關臺灣自耕地與佃耕地比例變化的統計資料，如附表所示。根據表中內容顯示，導致此一變化的主要原因為何？

	西元	1948 年	1953 年	1956 年
土地				
自耕地		56%	83%	85%
佃耕地		44%	17%	15%

(A)日本統治結束，土地歸還人民 (B)二二八事件後的土地賠償 (C)政府遷臺後的土地改革 (D)經濟快速成長後，帶動農業發展。

一、單一選擇題 (每題 3 分，共 99 分)

1. 答案：(C)

2. 答案：(C)

解析：隨著經濟活動的發展，第一級所占比例會逐漸減少。

3. 答案：(B)

解析：經濟海域的範圍為 200 浬，因此乙船已進入其中兩國的經濟海域，容易發生漁業糾紛。

4. 答案：(C)

解析：製糖廠主要分布於甘蔗生產地，自然環境以熱帶平原為主。

5.答案：(B)

解析：臺灣氣候適合農業活動發展，但因人口密集、山多平原少，因此形成集約的耕作方式。

6.答案：(C)

解析：文中敘述可知投入大量時間、勞力，是集約農業特色。

7.答案：(D)

解析：(A)逐漸降低(B)發展程度漸佳(C)附加價值愈來愈高。

8.答案：(C)

解析：(A)農村人口外流(B)耕地狹小(D)出超才可累積外匯。

9.答案：(B)

解析：入超是進口大於出口的情況。入超額最大是乙國，故乙國可能是日本。

10.答案：(C)

解析：通常在週六時會前往鄉村度假，而週一則回到都市上班。(A)甲聚落(B)(D)乙聚落。

11.答案：(C)

解析：主要病例位於臺南市及高雄市，都屬於南部區域。

12.答案：(A)

13.答案：(C)

14.答案：(A)

解析：霧社位於今南投縣仁愛鄉，1930年霧社事件，為賽德克族頭目莫那魯道所領導的原住民抗日運動，依題文來看選(A)。(B)西來庵事件發生在1915年，為漢人武裝抗日運動。(C)牡丹社事件發生在1874年，清帝國時期，日本出兵攻打臺灣南部。(D)臺灣民主國為1895年馬關條約簽訂後，臺人抗拒日本接收所成立。

15.答案：(D)

解析：日本總督府將鴉片、樟腦列為專賣商品，由政府獨占經營。

16.答案：(D)

解析：由「水田面積增加、全國最大的米倉」，可以推知是灌溉嘉南平原的嘉南大圳。

17.答案：(A)

解析：1934年，日月潭發電所完工，有穩定的電力供應，得以發展軍需工業與輕工業。

18.答案：(A)

解析：1930~1945年是日本統治臺灣的工業化時期，欲建設臺灣成為日本的南進基地。

19.答案：(D)

20.答案：(D)

解析：臺灣總督府為配合皇民化運動，取消小學校、公學校的區別，一律稱為「國民學校」。

21.答案：(D)

22.答案：(B)

解析：臺灣文化協會啟迪民智的措施有發行《臺灣民報》、設立讀報社、舉辦演講會。

23.答案：(A)

解析：藉由環境清潔工作，臺灣傳染病逐漸獲得控制，死亡率因此下降。

24.答案：(A)

解析：圖為1947年有關二二八事件導火線的報導，由查緝私菸、擊斃老百姓可判斷。

25.答案：(B)

解析：1950、1960年代政府藉由戒嚴統治，壓制反對意見，造成白色恐怖。

26.答案：(D)

27.答案：(B)

28.答案：(D)

解析：延安是中共兩萬五千里長征最後的據點，也是西安事變的發生處，故與中國共產黨最有關。

29.答案：(C)

30.答案：(B)

解析：金門曾在1949年時，發生「古寧頭戰役」，1958年時，發生「八二三炮戰」，其位於圖中乙地。

31.答案：(C)

32.答案：(B)

解析：1950年前後，政府陸續推動三七五減租、公地放領、耕者有其田等農地改革，佃農因而成為自耕農，生產意願大為提高。

33.答案：(C)