

一、選擇-:(每題 0 分。共 0.0 分):

1. ()附圖為北歐的挪威布呂根民宅景觀，其雙斜式的屋頂和下列哪一項環境特徵最有關？
(A)冬季積雪 (B)日照不足 (C)蚊蟲眾多 (D)森林廣布。



《答案》A

2. ()有家航空公司的廣告以「真正的斯堪地那維亞(Scandinavia)是什麼？」為主題，說明從古維京時期以來，該地居民喜歡探索世界、吸收新知，才能造就今日的社會發展。請問：此一廣告說明的是下列歐洲哪一個地區居民的生活特色？ (A)甲 (B)乙 (C)丙 (D)丁。



《答案》A

詳解：甲區為北歐，地形主體為斯堪地那維亞半島。

3. ()歐洲的地形以平原為主，面積廣大的歐洲大平原主要分布於下列哪兩個區域內？ (A)北歐、西歐 (B)西歐、南歐 (C)西歐、東歐 (D)南歐、東歐。

《答案》C

4. ()歐洲三面環海有如大半島，西部濱臨海域之處船隻往來頻繁，經濟繁榮。請問：歐洲西部濱臨哪一個海域？ (A)北極海 (B)大西洋 (C)太平洋 (D)地中海。

《答案》B

5. ()歐洲三面環海，利於向海洋發展，十五世紀末起歐洲人開啟大航海時代，在世界各地

建立殖民地。請問：關於歐洲周圍海洋敘述，下列何者錯誤？ (A)歐洲越過印度洋可抵達美洲 (B)歐洲北部地區緯度已高，深入北極海 (C)歐洲南隔地中海與非洲相望 (D)海灣深入內陸且海岸線綿長，為歐洲特色。

《答案》A

詳解：歐洲與美洲之間隔著大西洋。

6. ()西歐地區海岸線綿長，相鄰的海域不包括下列何者？ (A)北海 (B)黑海 (C)大西洋 (D)波羅的海。

《答案》B

7. ()南歐地區受板塊擠壓，多火山與地震，如義大利的龐貝城即因火山爆發，整座城市被火山灰掩埋，消失於歷史中。上述的古城位於附圖中的哪一個區域？ (A)甲 (B)乙 (C)丙 (D)丁。



《答案》B

詳解：圖中甲為伊比利半島、乙為義大利半島、丙為巴爾幹半島、丁為安納托利亞高原。

8. ()「這條鐵路是世界上最長的鐵路，它穿越了歐、亞分界的山脈，世界最廣大的森林帶，還跨越了冰封的凍土地帶，最終抵達太平洋，被稱為俄羅斯的『脊柱』。」請問：此一鐵路路線主要行駛於下列哪一個地區？ (A)阿爾卑斯山 (B)巴爾幹半島 (C)歐俄平原 (D)西伯利亞。

《答案》D

9. ()俄羅斯的人口大多集中在歐俄平原，西伯利亞地區人口稀少，影響此種人口分布的原因為何？ (A)時區差異 (B)氣候條件 (C)海岸性質 (D)鄰國多寡。

《答案》B

10. ()俄羅斯天然資源豐富，最主要的出口貨物為下列何項資源？ (A)木材 (B)農產 (C)鐵砂 (D)油氣。

《答案》D

11. ()北美洲的三大地形主體，由西向東依序為何？ (A)高山→平原→低山、丘陵與高原 (B)低山、丘陵與高原→高山→平原 (C)盆地→高山→平原 (D)盆地→高原→低山、丘陵與高原。

《答案》A

12. ()美國是個移民大國，擁有多元的種族構成，但是從西元 1950 年至 2021 年，新移民的陸續遷入，使得某最大核心族群所占的人數比例，已從 90%降至只有 70%出頭。請

問：上述所說的最大核心族群為下列何者？ (A)歐裔白人 (B)非裔黑人 (C)拉丁裔 (D)亞裔。

《答案》A

13. () 附圖為加拿大某小學的社會科課程，從課程內容可以看出北美洲的哪一項人文特色？ (A)五種官方語言 (B)多元族群的社會 (C)受美國文化影響甚深 (D)善用人才創造競爭力。

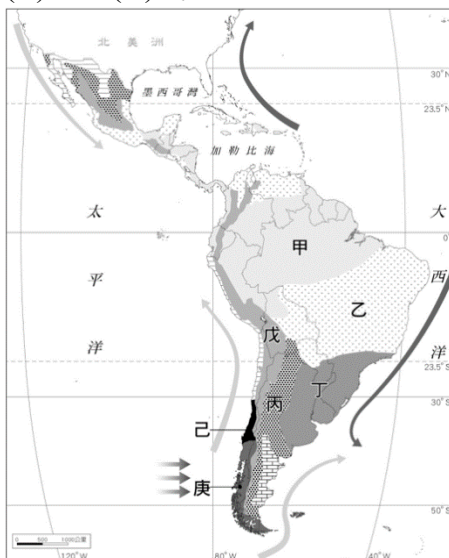
2月	華人新年——製作鞭炮裝飾、年獸故事
3月	認識巴西嘉年華
6月	法語話劇比賽《悲慘世界》
9月	猶太新年——吃圓麵包、沾蜂蜜的蘋果、魚頭、石榴

《答案》B

14. () 下列哪一地理事實與「智利位居南美洲板塊和納茲卡板塊的接觸帶」關係最密切？ (A)漁產豐富 (B)氣候多樣 (C)涼流流經 (D)地震頻繁。

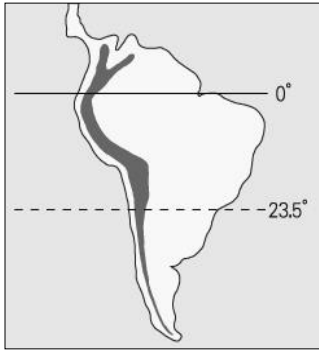
《答案》D

15. () 「萊蒂西亞協議 (the Leticia Pact)」由玻利維亞、巴西、哥倫比亞、厄瓜多、法屬圭亞納、秘魯和蘇利南共同簽署，促進亞馬孫國家的合作，期望能以更有效的合作方式來保護雨林生態。請問：此協議保護對象主要分布於附圖哪一個地區？ (A)甲 (B)乙 (C)丁 (D)戊。



《答案》A

16. () 附圖為南美洲簡圖。根據資料判斷，圖中南北延伸的色塊是指下列何者？ (A)洛磯山脈 (B)安地斯山脈 (C)阿帕拉契山脈 (D)阿爾卑斯山脈。



《答案》B

17. () 「羊駝」是產於下列何處的特有種動物，其皮毛保暖，是經濟價值很高的紡織原料？
(A)安地斯山脈 (B)亞馬孫盆地 (C)北美大平原 (D)西伯利亞山地。


《答案》A

18. () 小名到某地區參加熱鬧的嘉年華會，拍攝照片如附圖所示。他發現當地的遊行融合了黑人、印第安及拉丁文化，相當有特色。請問：他所前往的國家最可能為何？ (A)美國 (B)巴西 (C)智利 (D)阿根廷。



《答案》B

19. () 《美墨加協定(USMCA)》原名為《北美自由貿易協定(NAFTA)》，是美洲的區域性經貿協定，NAFTA 旗幟應為下列何者？

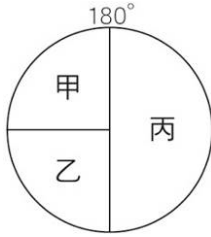


《答案》B

20. () 南島語族是世界唯一主要分布在島嶼上的語系，目前約有 4 億人使用南島語。請問：南島語族大多分布在哪些洋面的島嶼上？ (甲)太平洋 (乙)大西洋 (丙)印度洋 (丁)北極海 (A)甲乙 (B)甲丙 (C)乙丙 (D)丙丁。

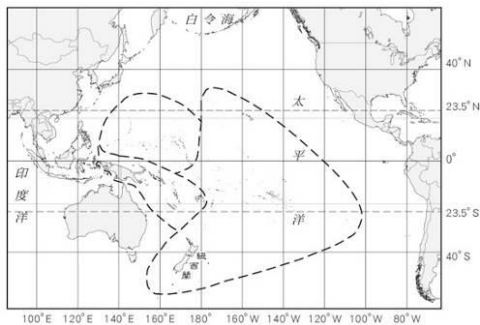
《答案》B

21. () 附圖為大洋洲三大島群位置示意圖，甲、乙、丙分別代表不同的島群。請問：丙區的島嶼多以高島為主，地勢較高，可攔截水氣，且土壤肥沃，農業條件佳。依上述判斷，丙區的島嶼最可能多屬於下列兩種類型？(甲)火山島 (乙)大陸島 (丙)珊瑚礁島 (丁)沙洲島 (A)甲乙 (B)甲丙 (C)乙丙 (D)丙丁。



《答案》A

22. () 附圖為大洋洲各島群的分布圖。以紐西蘭所處的位置判斷，其原住民族毛利人最可能是來自下列哪一個島群？(A)美拉尼西亞 (B)密克羅尼西亞 (C)玻里尼西亞 (D)索羅門群島。



《答案》C

詳解：紐西蘭屬於玻里尼西亞島群的範圍。

23. () 上地理課時，阿毛發現紐西蘭的降水空間分布有明顯的區域差異。地理老師說，這與當地某項自然特徵有關。請問：其主要原因最可能為何？(A)緯度高低 (B)地勢高低 (C)迎風背風 (D)距海遠近。

《答案》C

24. () 珊瑚礁能夠保護濱海地區免於受到極端氣候侵害，也能確保數百萬人的食物來源。近年來受到全球暖化影響，澳洲大堡礁珊瑚白化嚴重，影響生態甚鉅。請問：此一地理現象的變化，將導致附圖中澳洲哪一個行政區的居民受到直接影響？(A)北領地 (B)昆士蘭 (C)新南威爾斯 (D)維多利亞。



《答案》B

詳解：大堡礁位於澳洲東北方。

25. () 附圖是某個國家在耶誕節時所販售的吊飾，穿著清涼的耶誕老人手上拿著冰淇淋，前方還有一隻該國的特有生物鸚鵡。請問：此國(或地區)最可能為下列何者？ (A)紐西蘭 (B)夏威夷 (C)澳洲 (D)帛琉。

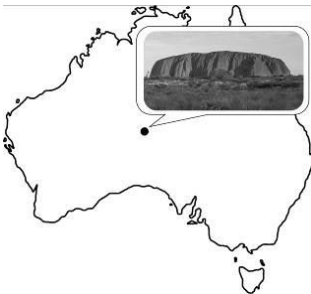


《答案》C

26. () 澳洲的地形可以明顯分成三部分，其中西部地形區占了全國面積三分之二，從東向西直抵印度洋海岸，寬約 2,250 公里，以巨大堅硬的花岡岩構成。請問：澳洲西部地形以下列何者為主？ (A)山地 (B)平原 (C)高原 (D)盆地。

《答案》C

27. () 附圖的岩塊是澳洲原住民具有重要的宗教和文化意義的聖地。該民族在岩塊周邊生活了數萬年，當地是他們聚集議事的地方。在岩塊中的奇特洞穴里，還能看到該民族祖先留下的古老繪畫和岩雕。若現在氣候與昔日相同，則原住民活動地區的氣候特徵與下列何者最相符？ (A)終年乾燥少雨 (B)終年高溫多雨 (C)夏乾熱冬暖溼 (D)夏暖溼冬冷乾。



《答案》A

詳解：圖中岩塊位於澳洲中部，屬於熱帶沙漠氣候區，終年乾燥少雨。

28. () 澳洲、紐西蘭早期農、礦產品都以歐洲市場為主，西元 1973 年以後才逐漸將貿易重心移往亞洲國家。請問：澳、紐早期貿易對象以歐洲市場為主，與下列何者關係最密切？ (A)空間距離較近 (B)曾受英國統治 (C)亞洲國家抵制進口 (D)加入歐洲聯盟。

《答案》B

29. () 附圖為北極地區原住民族的傳統生活方式及民居，此原住民族群為下列何者？ (A)毛利人 (B)匹美人 (C)貝都因人 (D)因紐特人。



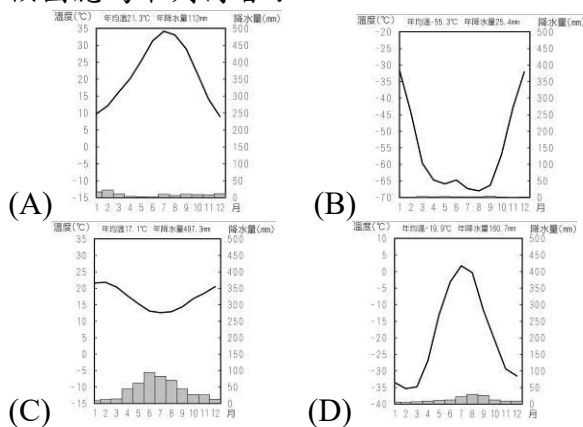
《答案》D

詳解：因紐特人居住於北極圈內，冰屋為其傳統民居。

30. () 因紐特人為分布在北極圈周圍的美洲原住民，大約於西元前 1,000 年越過○○海來到美洲，他們身上有著寬鼻子、黑直髮的蒙古人特徵，主要的謀生方式為獵捕海魚、海生哺乳動物。請問：「○○海」應為下列哪一海域？ (A)地中海 (B)白令海 (C)北海 (D)愛琴海。

《答案》B

31. () 每年的 4 月 25 日是「世界企鵝日」，英國慈善機構「英國南極遺產信託基金會」在網路上公開徵才，要招聘 4 人在西元 2022 年 10 月底至 2023 年 3 月，赴南極洛克羅伊港 (Port Lockroy) 經營全球最南端的郵局，工作內容包括：計算巴布亞企鵝的數量並觀察牠們，工資從每月約 1,600 美元到 2,300 美元不等。請問：文中提及的工作地點，其氣候圖應為下列何者？



《答案》B

詳解：企鵝主要分布於南極地區，該地區屬於南半球的寒帶氣候。

32. () 因紐特人居住於北極圈內，是美洲原住民之一，世代生活在極北的嚴寒之地，傳統上海豹、馴鹿等極地動物是他們千百年來賴以維生的資源。為了禦寒，因紐特人需要吃下大量高热量的肉類，動物的毛皮、油脂更為他們抵禦酷寒，也是搭建帳篷、製作皮筏等主要材料。請問：上述因紐特人的主要生活方式為何？ (A)漁獵 (B)游牧 (C)放牧 (D)游耕。

《答案》A

33. () 附圖為宗霖參加繪畫比賽的投稿作品。其繪畫主題應與下列哪一個議題最相關？ (A)全球暖化 (B)颱風侵襲 (C)土石流增加 (D)水資源汙染。



《答案》A

34. () 近年來全球氣候變遷，使得兩極及高山地區冰山融化，對地勢低平、四周海域遼闊的大洋洲直接產生的影響為何？ (A)地表隆起，河川侵蝕加劇 (B)地層下陷，地下水遭海水入侵 (C)海平面上升，淹沒部分土地 (D)溫帶海域的珊瑚白化嚴重。

《答案》C

35. () 居住在伊朗高原上的波斯人，於西元前六世紀建立橫跨歐、亞、非三洲的大帝國。他們信仰的宗教相信世界存在善、惡兩股勢力，在世界末日來臨前，善神會戰勝惡神。請問：波斯人的宗教信仰為何？ (A)道教 (B)佛教 (C)基督教 (D)祆教。

《答案》D

36. () 古代有一個西亞民族，擅於航海經商，主要活動在地中海地區，對於文化傳播頗有貢獻。請問：這是指哪一個民族？ (A)埃及人 (B)蘇美人 (C)腓尼基人 (D)巴比倫人。

《答案》C

37. () 在大航海時代時，許多歐洲探險家前往南邊的陸地進行探險活動，並掠奪了一些戰利品。其中，喜歡舉辦宴會的貴族，常常在宴會中拆解一些從探險家手中買來的珍稀文物。例如：開啟精緻的棺具，並解除棺具中屍體的繃帶，令賓客驚聲連連。請問：這件文物的產生最可能與該地文化的哪一個面向有關？ (A)經濟 (B)宗教 (C)軍事 (D)曆法。

《答案》B

詳解：題幹所指為埃及木乃伊，主要是受到宗教觀念中死而復生的觀念影響。

38. () 家丞為了使歷史報告的內容更加豐富活潑，在某個章節中放上如附圖的漫畫，從圖中內容判斷，這個章節的名稱應該是下列何者？ (A)印度古文明 (B)西亞古文明 (C)埃及古文明 (D)中國古文明。



《答案》C

39. () 摩亨約達羅遺址建於西元前 2500 年，其雖以農業為主，卻有神殿、住宅、大浴場、穀倉、下水道等設施，都市規畫相當完善，令挖掘此處的考古學家十分吃驚。請問：此遺址位於附圖中哪一條河流下游？ (A)甲 (B)乙 (C)丙 (D)丁。



《答案》C

40. () 華梵大學以宗教思想為施教方針，期勉學生畢業後能將慈悲與智慧的種子散播於社會的各角落，並在校園立阿育王柱，鼓勵學子效法阿育王，為社會謀求福祉。請問：華梵大學是以哪一宗教為立校宗旨？ (A)基督教 (B)伊斯蘭教 (C)佛教 (D)道教。

《答案》C

詳解：阿育王定佛教為國教。

41. () 沙魯是位貴族，平日信奉婆羅門教，相信輪迴與因果報應的觀念，他的身分從出生的那一刻便決定了。依此判斷，沙魯所處的社會應實行下列哪一種制度？ (A)封建制度 (B)民主制度 (C)種姓制度 (D)禮樂制度。

《答案》C

詳解：阿利安人為了維護少數民族的統治利益，利用種姓制度將人民分為四大階級。

42. () 雅卡莎從印度到臺灣留學，她告訴同學：她的祖先在古代印度是屬於社會中的最高階級。請問：雅卡莎的祖先應是哪一種身分？ (A)貴族 (B)武士 (C)祭司 (D)平民。

《答案》C

43. () 小元上臺做歷史報告，並展示附圖給同學觀看：「由於這個地區地小山多、海岸曲折、島嶼密布，各地往來交通不便，因此形成獨立的城邦政治，成為此地人民政治社會的特色。」請問：小元報告的主題可能與下列何者有關？ (A)西亞文明 (B)波斯文明 (C)埃及文明 (D)希臘文明。



《答案》D

44. ()他是古希臘作家，他把旅行中的所聞所見，著成《歷史》一書，被後世稱為「歷史學之父」。請問：「他」是下列何者？ (A)荷馬 (B)歐幾里德 (C)阿基米德 (D)希羅多德。

《答案》D

45. ()歷史作品是記載人類發展的重要參考資料，東西方在歷史學的發展上均有高度成就；其中，希臘有一位作者撰寫了西方最早的歷史作品，他淡化了傳統由神主宰人的觀念，著眼於人的事蹟，被稱為「歷史學之父」。請問：這位作者是何人？ (A)荷馬 (B)歐幾里德 (C)阿基米德 (D)希羅多德。

《答案》D

46. ()羅馬共和時期，政治大權由下列哪一個機構所掌握？ (A)共和院 (B)議會 (C)元老院 (D)軍隊。

《答案》C

47. ()屋大維登上羅馬的大位之後，往後的兩百年間，國勢相對平穩與繁榮，史家稱此時期為「羅馬和平」。請問：此時期是出現在羅馬的哪一個時期？ (A)帝國時期 (B)共和時期 (C)王政時期 (D)東羅馬帝國時期。

《答案》A

48. ()羅馬人的哪一種性格，促使其所興建的多半是馬路、引水道、劇場等大型公共工程？ (A)浪漫 (B)務實 (C)悲觀 (D)樂觀。

《答案》B

49. ()兩千多年前，有一個民族已經在法典上明定：「在未確認一個人有罪之前，應視他為無罪」的先進法律觀念。這是指哪一個民族？ (A)希臘人 (B)羅馬人 (C)蘇美人 (D)巴比倫人。

《答案》B

50. ()西歐在成為日耳曼民族世界的同時，在東方的拜占庭帝國仍然屹立不搖。六世紀時，有位君王積極恢復羅馬帝國的領土，曾經一度收復義大利、北非和西班牙等地。請問：這位君主應是下列何者？ (A)屋大維 (B)查士丁尼 (C)君士坦丁 (D)凱撒。

《答案》B

51. ()羅馬共和時期曾經出現一位具有實力的軍事將領，他因為掌握軍權而逐漸大權獨攬，

成為政壇的獨裁者，造成政局紛亂。不過，他也因為獨裁作風而遭刺殺身亡，結束了傳奇的一生。請問：上述所提的這位軍事將領，最有可能是下列哪一位？ (A)凱撒 (B)亞歷山大 (C)屋大維 (D)查士丁尼。

《答案》A

52. () 中古時期的歐洲，有人稱其為「黑暗時代」，當時哪一個宗教在此時超越國家、民族，成為西方世界的一盞明燈？ (A)佛教 (B)伊斯蘭教 (C)基督教 (D)猶太教。

《答案》C

53. () 附圖為西亞地區的傳統生活景觀。請問：類似的生活方式在非洲的哪一地區也可以見到？ (A)北部 (B)中部 (C)西部 (D)東部。



《答案》A

詳解：這是乾燥氣候區，圖片呈現的是伊斯蘭教徒的生活方式。北非在阿拉伯帝國建立後，也成為伊斯蘭教的教區。

54. () 小芳到土耳其最大城市旅遊，發現此處位於歐、亞大陸之間，每日許多上班族利用渡輪往返於兩大洲。此城市古蹟眾多，曾為古時東羅馬帝國，以及鄂圖曼帝國的首都。請問：小芳旅遊的地點是哪裡？ (A)雅典 (B)亞歷山卓 (C)羅馬 (D)伊斯坦堡。

《答案》D

55. () 文藝復興時期的著名畫作《最後的晚餐》，為下列何者所繪製的作品？ (A)達文西 (B)拉斐爾 (C)米開朗基羅 (D)薄伽丘。

《答案》A

56. () 下列哪一位人物並不屬於文藝復興時代的藝術家？ (A)達文西 (B)歐幾里德 (C)米開朗基羅 (D)拉斐爾。

《答案》B

57. () 隨著數位時代的來臨，許多博物館和美術館開始提供線上參觀體驗。而在眾多博物館和美術館的館藏中，文藝復興時期的作品仍是大眾矚目的焦點。請問：下列哪一件作品是文藝復興時期畫家拉斐爾的代表作？ (A)《最後的晚餐》 (B)《蒙娜麗莎》 (C)《創世紀》 (D)《聖母像》。

《答案》D

詳解：《最後的晚餐》、《蒙娜麗莎》是達文西的代表作，《創世紀》是米開朗基羅的代表作。

58. () 中古後期，歐洲有一批學者致力於研究拉丁語與希臘語文獻，希望能藉此將古老文化當中的真理帶進當今的年輕城市中。請問：我們通常怎麼稱呼這些人？ (A)文創工作者 (B)人文主義者 (C)共產主義者 (D)社會運動者。

《答案》B

詳解：由敘述可知此處指的是文藝復興時期的學者，其透過研究古代文獻而展現出濃厚的人文關懷，故被稱之為人文主義者。

59. () 歐洲中古時期沿襲羅馬帝國的傳統與語言，以拉丁文為主要書寫文字；文藝復興時期受人文主義的影響，出現認同自身的文化，以自身所屬地域的語文寫作的「方言文學」。若想知道當時義大利地區方言文學的發展，可以參看下列哪一本書籍？ (A)《薄伽丘論愛情》 (B)《名師點評荷馬》 (C)《莎士比亞十四行詩》 (D)《從 0 開始圖解達文西集》。

《答案》A

詳解：(A)薄伽丘為義大利方言文學的代表作家。

60. () 由於宗教改革的影響，十六世紀歐洲區分成原來的羅馬公教與新教兩派。請問：下列哪一個國家不是羅馬公教的信仰範圍？ (A)西班牙 (B)葡萄牙 (C)英格蘭 (D)法國。

《答案》C

61. () 布魯特是位虔誠的信徒，相信人能否得救早已由上帝預先選定，自己所能做的只是努力工作，以現世成就來榮耀上帝。請問：他最可能是下列哪一教派的信徒？ (A)希臘正教 (B)喀爾文教派 (C)英格蘭國教派 (D)天主教耶穌會。

《答案》B

62. () 最早從事新航路的探險，並在印度建立貿易中心，打破阿拉伯人對東方貿易路線壟斷的是哪一個國家？ (A)英國 (B)荷蘭 (C)葡萄牙 (D)西班牙。

《答案》C

63. () 大航海時代，美洲作物的傳入使世界許多地區糧食缺乏的問題獲得紓解。請問：下列哪些是傳至歐洲及亞洲的新物產？ (甲)葡萄 (乙)玉米 (丙)番薯 (丁)小米 (戊)馬鈴薯 (A)甲乙丙 (B)甲丙戊 (C)乙丙丁 (D)乙丙戊。

《答案》D

64. () 哥白尼與伽利略的學說均受到基督教會的壓迫，主要是因為他們的何種學說與教會思想產生爭端？ (A)物種起源 (B)優勝劣敗 (C)適者生存 (D)太陽中心說。

《答案》D

65. () 小晴在一位科學家的傳記中讀到一段話：「地球重力的吸引作用會賦予物體重量，並使它們向地面落下。」依此研判，這最有可能是哪一位科學家的傳記？ (A)牛頓 (B)哥白尼 (C)希羅多德 (D)阿基米德。

《答案》A

66. () 十七世紀末，某位英國思想家強調「天賦人權」的理論，認為人類生來便擁有生命、財產和自由的權力，有權反抗侵犯人民權力的君主。這個論點對之後美國與法國的政治發展有相當重大的影響。請問：這位思想家是下列何者？ (A)盧梭 (B)培根 (C)洛克 (D)孟德斯鳩。

《答案》C

67. () 某位思想家主張政府若不能保護人民的三大權利，人民有權可以起來反抗，甚至推翻這個政府。這位思想家是下列何者？ (A)洛克 (B)盧梭 (C)伏爾泰 (D)孟德斯鳩。

《答案》A

68. () 小緹在某篇資料中看到如下敘述：「此時的發明不僅帶動了器物的進化，也使西方社會型態在未來數百年間持續的影響至世界各地。不過在當時，技師和經營者們能夠產出優秀的成果，並不是仰仗理論和科學，而是透過經驗和常識的累積。」該敘述最可能在說明下列何者發生的原因？ (A)工業革命 (B)文藝復興 (C)科學革命 (D)啟蒙運動。

《答案》A

詳解：該敘述著重器物進化的原因和對西方社會造成的影響，應指工業革命。

69. () 工業革命造成的結果，不包括下列哪一項？ (A)造成社會主義的出現 (B)產生貧富不均和勞工問題 (C)促成啟蒙運動思潮的產生 (D)歐洲各國因此富強，激烈爭奪海外的殖民地。

《答案》C

70. () 為了解決工業革命帶來的種種問題，何種思潮的學說紛紛應運而生？ (A)人文主義 (B)社會主義 (C)科學革命 (D)啟蒙運動。

《答案》B

71. () 在吃的方面，不但要吃得飽，吃得好，更要講究色、香、味俱全，以及良好用餐氣氛，這種「好還要更好」的想法，說明了人們的哪種心態？ (A)知足常樂 (B)健康理念 (C)欲望無窮 (D)資源有限。

《答案》C

72. () 個人在面臨選擇的時候，應該選擇怎樣的機會成本？ (A)最低者 (B)最高者 (C)次高者 (D)平均值。

《答案》A

73. () 下表為小美對不同旅遊地點的期待感，假設她單純依照自身的期待感做選擇，則她選擇前往下列何處旅遊的機會成本為最低？ (A)雲林古坑 (B)臺南關子嶺 (C)嘉義阿里山 (D)無法判斷。

旅遊地點	期待感
雲林古坑	80 單位
臺南關子嶺	100 單位
嘉義阿里山	90 單位

《答案》B


74. () 臺灣交通安全事故多，甚至有「行人地獄」的惡名，為保障用路人安全，交通部修正並實施汽機車行經行人穿越道不暫停禮讓行人優先通行的罰則，將小型車與大型車的處罰提高到 3,600 元，機車則是維持處罰 1,200 元。交通部是採用下列何種誘因，來減少不禮讓行人的行為？ (A)物質誘因 (B)正向誘因 (C)金錢誘因 (D)非金錢誘因。

《答案》C


75. ()小華和家人利用星期日到木柵動物園參觀，在入園時拿到了「新光特展館(大貓熊館)入場券」，票券上記載可入館參觀的時段，遊客必須依票券所示場次時段憑券入館，無票券者禁止入館。木柵動物園是採用下列何種方式分配該展館的使用？ (A)抽籤 (B)輪流使用 (C)相互協調 (D)預約登記。

《答案》B


76. ()公民課時，老師詢問同學：「商品價格如何影響消費者的消費行為？」下列同學的回答何者有誤？

(A)  昊文


消費者評估價格以
購買商品，是一種資
源分配。

(B)  允喬

消費者購買商
品，無須進行資源
分配

(C)  吉力

商品價格的支付是
消費者付出的成本

(D)  可青

消費者通常會根
據價格高低決定
購買數量。

《答案》B

77. ()下列四人的行為，何者屬於消費者所從事的「消費行為」？ (A)律君捐款給慈善團體 (B)信君購買房屋 (C)賢淑撿到一本雜誌 (D)采靜受贈一輛汽車。

《答案》B

78. ()生產者是製造產品或提供服務的人，也就是生產行為的決策者。依此判斷，下列何者不是生產者？ (A)乘客 (B)果農 (C)麵包店的老闆 (D)市場的菜販。

《答案》A

79. () 產品的出售價格乘以賣出數量，就是生產者的什麼？ (A) 所得 (B) 銷貨收入 (C) 利潤 (D) 消費支出。

《答案》B

80. () 年貨大街許多攤商為了吸引客人，推出免費試吃活動，希望能刺激買氣，全力拚業績。上述攤商舉辦該活動的主要目的應為下列何者？ (A) 降低利潤 (B) 減少供給量 (C) 提升銷售量 (D) 降低生產成本。

《答案》C

81. () 廠商間若有任何妨礙公平交易的行為，可能違反下列哪一部法律？ (A) 《社會秩序維護法》 (B) 《消費者保護法》 (C) 《勞動基準法》 (D) 《公平交易法》。

《答案》D

82. () 由於產品與推銷方式不斷更新，消費者容易因資訊欠缺而受矇騙，導致權益受到損害，因此政府制定下列何種法律，來保障消費者權益？ (A) 《消費者保護法》 (B) 《社會秩序維護法》 (C) 《商標法》 (D) 《專利法》。

《答案》A

83. () 在自由市場，各國除專業化分工、各司其職外，還必須從事下列哪一項活動，才能享受國際分工帶來的好處？ (A) 投資 (B) 消費 (C) 交易 (D) 儲蓄。

《答案》C

84. () 附圖是同學們報告時提到的貨幣特徵，下列何者最有可能為其報告的主題？ (A) 商品貨幣 (B) 硬幣與紙鈔 (C) 以物易物 (D) 法定貨幣。

一、衡量物品的價值有公平標準
二、以雙方都能接受的物品作為交易媒介
三、本身也具有商品價值

《答案》A

詳解：從關鍵特徵「本身也具有商品價值」可以推論為商品貨幣。

85. () 多多打棒球時，不小心打破鄰居家的玻璃窗，最後多多父母出面道歉，賠了鄰居 1,000 元。上述內容最能顯現貨幣的哪項功能？ (A) 交易媒介 (B) 價值衡量 (C) 價值儲存 (D) 債務清償。

《答案》D

86. () 在童話故事「傑克與魔豆」裡，傑克用 1 頭牛跟老爺爺換了神奇豆子，這是採用下列何種交易方式？ (A) 以物易物 (B) 商品貨幣 (C) 法定貨幣 (D) 金屬貨幣。

《答案》A

87. () 發明貨幣的主要目的在於促進交易，而貨幣有多種不同的形式，下列何者屬於貨幣？

(甲)新臺幣(乙)儲值卡 (丙)信用卡 (丁)會員卡 (A)甲 (B)甲乙 (C)乙丙 (D)丙丁。

《答案》A

88. ()宸瑄向朋友抱怨，他的某種「支付工具」遺失了，撿到的人非常可惡，非但沒有還給他，還拿去盜用，幸好與該項支付工具連結的特定帳戶已經剩下沒多少錢，所以損失並不嚴重。此外，因為他特別進行了「記名」的動作，所以警方沒多久就找到這個盜用的人。宸瑄遺失的「支付工具」最有可能是下列何者？ (A)信用卡 (B)儲值卡 (C)金融卡 (D)提款卡。

《答案》B

詳解：題目中的支付工具必須與特定帳戶連結，而且要先存入現金才能使用，故此工具為儲值卡。

89. ()四位網友在討論信用卡的使用，內容如下——

小春：先儲值一定的金額，出門就不用帶現金了。

小夏：我喜歡刷卡，因為可以先享受後付款。

小秋：須注意繳款日，以免累積欠款成為卡奴。

小冬：這只是支付工具，最終還是要以貨幣償還。

其中何者的說法有誤？ (A)小春 (B)小夏 (C)小秋 (D)小冬。

《答案》A

90. ()每一個國家為了和他國進行交易，都會準備國際上普遍接受的外國貨幣作為支付工具，也就是下列何者？ (A)商品貨幣 (B)外匯 (C)所得 (D)機會成本。

《答案》B

91. ()關於無酬勞動的概念，下列描述何者最為恰當？ (A)勞動的付出可以獲得金錢報酬 (B)勞動的付出無法獲得實質報酬 (C)勞動的付出可以獲得實質報酬 (D)勞動的付出只可以獲得物質報酬。

《答案》B

詳解：無酬勞動指的是勞動者的付出無法獲得實質報酬。

92. ()基於契約自由原則，勞工與雇主應為平等的關係，但是在職場上卻經常出現勞資不對等的情形，下列何者最有可能是造成此種現象的原因？ (A)勞工提供雇主在生產行為的協助 (B)我國並未制定法規保障勞工權益 (C)雇主掌握工作時數及薪資發放權力 (D)勞工不具有提出訴訟的權利。

《答案》C

93. ()歐洲三面環海，南歐及北歐兩個分區多半島，因為海洋與陸地交錯分布，使海灣得以深入內陸地區，而有利於航運與貿易的發展。請問：下列哪一個半島所在的分區，與

其它三者不同？ (A)伊比利半島 (B)義大利半島 (C)巴爾幹半島 (D)斯堪地那維亞半島。

《答案》D

94. ()自大航海時代起，許多歐洲國家開始進行海外探險，試著尋找歐洲航行至印度的航道，當時哥倫布在越渡大西洋後所達的島群，便稱之為西印度群島。請問：西印度群島位於哪一個海域中？ (A)北海 (B)地中海 (C)加勒比海 (D)波羅的海。

《答案》C

95. ()十八世紀時，一位法國學者聯合許多學者共同進行某項工作。雖然這些學者哲學觀點和宗教思想不盡相同，但都崇尚理性思維。他們在各自的領域發揮專長，進行知識學術的整合，使人們更便於檢索知識的相關內容。上述這些學者共同進行的工作為何？ (A)合力編寫百科全書 (B)改革基督教教會腐敗弊端 (C)研究如何翻譯聖經內容 (D)探究古希臘、羅馬典籍精神

《答案》A

96. ()「一位貨車司機正準備駕車入境歐盟，荷蘭海關人員翻找車上是否有禁止進入歐盟的蔬菜、水果、肉類或奶製品。最後官員將司機準備在路上享用的火腿三明治沒收，並耐心的對一臉茫然的司機表示：『自西元 2021 年 1 月 1 日開始，你們國家的人民就不能攜帶容易腐敗的商品進入歐盟。』」請問：文中描述的這名貨車司機，最可能來自下列哪一個國家？ (A)英國 (B)德國 (C)比利時 (D)義大利。

《答案》A

詳解：英國於西元 2020 年脫離歐盟。

97. ()「衆神各個都擁有很強的欲望，有些甚至比人類的欲望還要強烈。他們行事全憑自己的愛好，隨心所欲，完全不顧慮其他神或人類的看法和喜惡憎恨，這很大程度上是基於神的長生不老以及強大的超自然力量所賦予的強烈優越感和超脫感。」以上描述，應該是哪一個地區的信仰觀念？ (A)波斯 (B)埃及 (C)蘇美 (D)希臘。

《答案》D

98. ()西元 1517 年，日耳曼地區的神學教授對於當時腐敗的教會有許多不滿，其中一項就是贖罪券的販賣。對此，教授洋洋灑灑寫了《九十五條論綱》貼到教堂門口，希望與眾人公開進行神學討論，沒想到這篇公告在當地的學生之間大量流傳，開啟了教授與羅馬教廷之間的戰爭。請問：這位教授是何人？ (A)喀爾文 (B)馬丁路德 (C)亨利八世 (D)羅耀拉。

《答案》B

99. ()西元 1983 年 7 月 21 日，科學家曾在南極的沃斯托克站測得 -89.2°C 的低溫；西元 2010 年 8 月 10 日，科學家利用新的衛星數據，更在南極東部的高地測得有紀錄以來最寒冷的溫度：大約是 -93°C 。請問：下列何者是造成南極氣溫比北極更低的原因？ (A)北極降水比較稀少 (B)北極的緯度比較高 (C)南極海拔高度較高 (D)南極的人口比較多。

《答案》C

詳解：南極地形主體為高原，地勢較高，溫度較低；且南極為陸地，北極為海洋，受比

熱影響，南極的溫度比北極低。

100. ()一本傳記中提到：「這位領導者以卓越的智慧和強硬的手段，完成了羅馬由共和邁向帝國的轉變，並解決了羅馬共和末期的各種危機，締造了一個新的帝國時代……。」此傳記的名稱應該是何者？ (A)凱撒傳 (B)屋大維傳 (C)君士坦丁傳 (D)亞歷山大傳

《答案》B

詳解：屋大維解決了羅馬共和晚期的危機，締造了一個帝國的新時代。