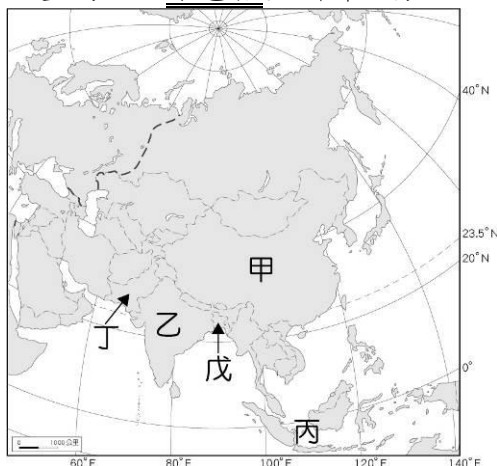


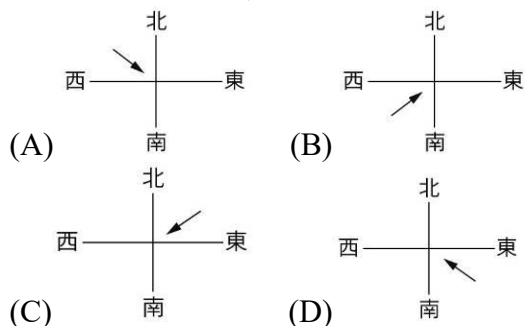
一、選擇-:(每題 0 分。共 0.0 分):

1. () 附圖甲～戊為季風亞洲人口總數前五名的國家，依據其分布位置判斷，這五個國家所涵蓋的地區不包括亞洲哪一分區？ (A)東亞 (B)南亞 (C)北亞 (D)東南亞。



《答案》C

2. () 「札幌雪祭」是北海道最具代表性也是最大規模的活動，每年吸引著全世界各地的旅人，在冬季飛往北海道欣賞這場「雪」的華麗之宴。日本冬季的降雪，與哪一道季風經過日本海並挾帶大量水氣有關？



《答案》A

詳解：日本冬季吹西北季風。

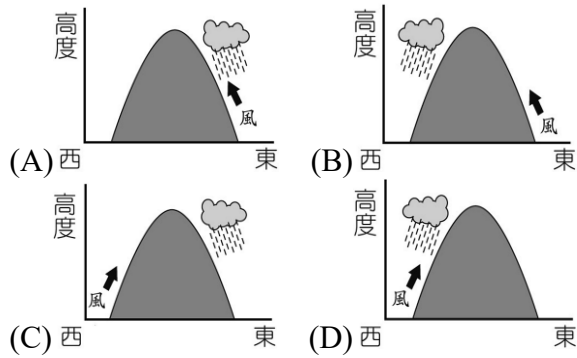
3. () 日本首都東京位於本州島的哪一個平原上？ (A)關東平原 (B)濃尾平原 (C)近畿平原 (D)伊豆平原。

《答案》A

4. () 流經日本列島的寒、暖洋流分別為下列何者？ (A)寒流：黑潮、暖流：親潮 (B)寒流：親潮、暖流：黑潮 (C)寒流：黑潮、暖流：中國沿岸流 (D)寒流：中國沿岸流、暖流：親潮。

《答案》B

5. ()日本因四面環海，相較於緯度相近的朝鮮半島、中國華北，氣候較為溫暖多雨。請問：日本冬季降水的主要類型為下列何者？



《答案》D

6. ()日本北海道的傳統民宅，屋簷多為傾斜設計，其目的為方便積雪滑落。請問：當地冬季凝結降雪的水氣主要源於哪一個海域？ (A)黃海 (B)南海 (C)太平洋 (D)日本海。

《答案》D

7. ()朝鮮半島的傳統民居深受自然環境影響，有關其傳統民居的敘述，下列何者正確？ (A)受地震頻繁影響，以木造建築為主 (B)因冬季嚴寒，建築中常見取暖設施 (C)地勢相當低平，屋頂多為平頂建築 (D)夏季相對涼爽，屋牆多為厚實少窗。

《答案》B

8. ()位於日本北陸地區的白川鄉，有著 300 年歷史的合掌村聚落，以特殊的 A 字型屋頂建築聞名，有如童話屋的景觀，每年吸引國內外遊客前往參觀。請問：其屋頂造型，主要與當地的何種自然環境有關？ (A)冬季多強風 (B)夏季降雨量多 (C)秋季多強颱風 (D)冬季多降雪。

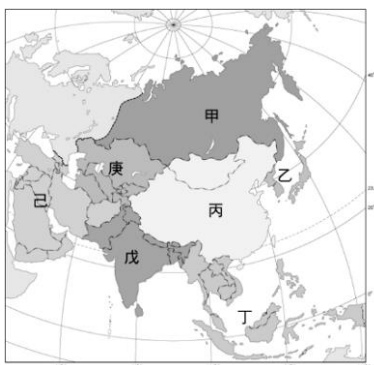
《答案》D

詳解：當地冬季多降雪，積雪易壓壞屋頂，因此加大屋頂斜度，讓雪自動落下。

9. ()朝鮮半島地形大致上可呈現「豕」字型，其中上半部是指哪一個地形區？ (A)蓋馬高原 (B)太白山脈 (C)沿海平原 (D)南部谷灣。

《答案》A

10. ()附圖為亞洲分區圖，日本列島與朝鮮半島位在圖中的哪一個分區範圍內？ (A)乙 (B)丁 (C)戊 (D)己。



《答案》A

11. () 亞洲為世界面積最大的洲別，因內部地理環境的差異，習慣上分為北亞、東亞、南亞、西亞等七大分區。請問：東北亞主要包含哪些國家？ (A)中國、日本、南韓 (B)日本、北韓、南韓 (C)中國、臺灣、日本 (D)蒙古、北韓、俄羅斯。

《答案》B

12. () 東北亞包括南、北韓和日本等三國，下列關於其環境的敘述中，屬於三個國家的共同點有幾項？ (甲)皆屬季風亞洲範圍 (乙)地形以盆地和平原為主 (丙)皆位於板塊交界帶 (丁)文化均受到中國影響 (A)一項 (B)二項 (C)三項 (D)四項。

《答案》B

詳解：(乙)山地為主的地形。(丙)東北亞三國只有日本位於板塊交界帶。

13. () 日式料理中常見魚的相關料理。請問：日本漁業發達的原因與下列何者無關？ (A)氣候較暖溼 (B)海岸線曲折 (C)寒暖流交會 (D)捕撈技術佳。

《答案》A

14. () 西元 2013 年，聯合國正式將南韓醃漬泡菜的「越冬泡菜文化」列入文化遺產，醃漬泡菜的文化因代代相傳，更強化了南韓人對於自身的認同感。南韓人最初醃漬泡菜是為了因應哪一項自然環境的限制？ (A)平原狹小，糧食不足 (B)土壤貧瘠，收成有限 (C)緯度較高，冬季嚴寒 (D)夏雨冬乾，降水較少。

《答案》C

詳解：冬季嚴寒，蔬果不易生長，將蔬菜加以醃製或令其發酵成韓式泡菜(辛奇，Kimchi)儲存。

15. () 附表為部分日本和南韓的文化特色，由表中可觀察出日、韓曾經受到中國的影響很深，其原因為何？ (A)位置相對鄰近 (B)皆為季風氣候 (C)同處板塊交界 (D)民族語言相同。

國家	文化特色
日本	飲茶、花道
南韓	春節祭祖、韓醫、漢字


《答案》A

詳解：日、韓靠近中國，自古受其影響極大。

16. () 香香暑假時前往「東北亞博覽會」參觀，會中詳細介紹東北亞各種自然環境以及其影響，香香在會中最有可能看到下列哪一種描述？ (A)朝鮮半島夏季相當的炎熱，故醃製辣泡菜 (B)朝鮮半島寒暖流交會，是世界重要漁產國 (C)日本列島地震頻繁，傳統民居以磚屋為主 (D)日本列島鄰近中國，文化發展受其影響深。

《答案》D

17. () 康和國中二年級視覺藝術課結合綜合領域的家政課，要同學畫出最喜愛的食物，附圖是小華所畫的作品。請問：小華最愛的料理是源自於哪一國家？ (A)北韓 (B)中國 (C)南韓 (D)日本。



《答案》D

詳解：圖中料理為壽司，是日本的飲食特色。

18. ()臺灣與日本同樣位於板塊交界帶，地殼不穩定，這樣的地理位置條件會給兩國帶來什麼影響？ (A)皆以稻米為主食 (B)皆有豐富的溫泉資源 (C)皆有南北狹長的國土形狀 (D)皆以佛教為主要宗教信仰。

《答案》B

詳解：(A)為氣候所影響；(C)板塊交界帶與國土走向沒有直接關係；(D)為文化傳播，與地理特徵無關。

19. ()日本為世界重要工業大國，工業產品出口為該國重要經濟來源。請問：日本工業發展以哪些類型為主？ (A)汽車、高科技工業 (B)電子零件組裝、高科技代工 (C)農產品加工、紡織 (D)石化、造船。

《答案》A

20. ()日本重要工業區多集中在太平洋沿岸，其主要原因不包含下列何者？ (A)地形平坦 (B)交通便利 (C)鄰近航線 (D)礦產豐富。

《答案》D

詳解：日本位處板塊交界帶，屬新褶曲山脈，礦產不豐，工業原料需仰賴國外進口。

21. ()二次大戰後，亞洲哪一個國家工業快速發展，而成為帶動亞洲經濟的領導者？ (A)中國 (B)日本 (C)新加坡 (D)南韓。

《答案》B

22. ()日本經濟雖高度發展，但也曾經因為多數企業赴海外投資，導致失業率提高、產業衰退等危機。請問：關於上述日本產業外移的原因，下列何者正確？ (A)國外工業技術較好 (B)國內員工薪資偏高 (C)出口資源獲得稅金 (D)進口產品賺取獎金。

《答案》B

23. ()西元 2024 年全球最有價值的百大品牌中，汽車業的占比超過其他任何行業，呈現持續回升的趨勢，其中又以日本豐田(TOYOTA)位居首位，顯示出其在全球的經濟影響力。請問：日本經濟可以如此高度發展的原因，下列何者正確？ (A)工業技術先進 (B)專注國內市場 (C)壯年人口比例高 (D)石油資源豐富。

《答案》A

24. ()日本與東南亞、南亞、非洲各國有許多工業上的分工。請問：日本與他國作工業分工的主要原因為何？ (A)外國技術精良 (B)節省生產成本 (C)進口工業產品 (D)取得投資外匯。

《答案》B

25. ()日本政府發布的《觀光白皮書》內呈現不同外國旅客主要的消費方向。澳洲人是所有旅客中花最多錢在住宿方面的，臺灣人則主要買藥品和保健相關產品，而歐美旅客訪日的最大動機則是「體驗日本的傳統文化和歷史」。請問：下列何者較不符合歐美旅客感興趣的旅遊內容？ (A)偶像團體 (B)和服體驗 (C)體驗茶道 (D)京都祇園祭。

《答案》A

26. ()日本為全球重要的經濟大國，該國目前主要的生產優勢為下列何者？ (A)勞力眾多 (B)礦產豐富 (C)技術先進 (D)位置優越。

《答案》C

27. ()近年來，日本、南韓推動智慧型農業政策，如農業產銷輔助人工智慧、無人駕駛耕耘機等，這項政策的推動除了因應未來市場需求以外，還受到什麼因素的影響？ (A)氣候異常愈發頻繁 (B)國土空間嚴重不足 (C)農業勞動人口減少 (D)水土流失增加風險。

《答案》C

28. ()南韓的影視產業相當發達，綜藝節目、連續劇、偶像團體等都有專門的經紀公司打理，產值驚人。這項文化產業除了有政府的大力支持外，主要還要透過什麼方式才能使其輸出順利名揚海外？ (A)廉價影視產品出口 (B)發達的網際網路 (C)結合傳統工藝祭典 (D)譯成英語行銷全球。

《答案》B

29. ()北韓的工業發展比南韓早，主要與下列哪一個因素關係可能最密切？ (A)勞力較多 (B)礦產資源較豐 (C)學術水準較高 (D)經濟高度發展。

《答案》B

30. ()南韓政府扶植 Samsung(三星)與 LG 等大型財團，其電子產業享譽國際；但南韓發展工業時卻有一些條件不如北韓，下列何者為真？ (A)地形較崎嶇 (B)氣候較寒冷 (C)礦產較缺乏 (D)勞工素質較低。

《答案》C

詳解：南韓礦產不豐，工業原料多仰賴進口。

31. ()朝鮮半島的平原地區因地勢平坦，成為人口與耕地的主要分布區。請問：朝鮮半島的精華區主要分布於下列何處？ (A)中、韓邊界 (B)黃海沿岸 (C)日本海沿岸 (D)停戰線沿線。

《答案》B

詳解：朝鮮半島的平原多分布於西南部黃海沿岸。

32. ()日本與南韓不約而同以「文化產業」作為國家重要發展策略，有關兩國的文化產業發展的內容，何者正確？ (A)南韓的京都祇園祭、高山祭等吸引國際觀光 (B)南韓遊戲產業發達，如任天堂、PS 等 (C)日本動漫引領全球，如寶可夢、鋼彈等 (D)日本 KPOP 偶像團體與流行音樂打入歐、美等市場。

《答案》C

詳解：(A)為日本著名祭典。(B)為日本的遊戲機。(D)KPOP 偶像團體與流行音樂為韓流。

33. ()北韓的經濟發展較南韓落後，可是卻有一項比南韓更具有優勢的發展條件，也是北韓重要的經濟收入來源。請問：這項經濟發展優勢是指下列何者？ (A)礦產豐富 (B)勞工技術 (C)政府政策 (D)交通便利。

《答案》A

34. ()近年來，由於南韓影視文化的廣泛傳播，「韓流」席捲全球，而南韓美食作為韓流的主要組成部分之一，「韓食文化」也愈來愈被其他國家的民眾所接受。請問：下列何者是在推廣韓流的韓劇中，最不可能見到的美食？ (A)生魚片 (B)人參雞 (C)泡菜湯 (D)辣炒年糕。

《答案》A

詳解：生魚片是日本的飲食文化。

35. ()南韓為世界重要出口大國，下列何者為其目前主要的工業發展主力之一？ (A)消費性電子 (B)農產加工品 (C)成衣紡織 (D)塑膠玩具、玩偶。

《答案》A

36. ()近年來南韓工業快速發展，其不少產品在全球供應鏈中已占有一席之地，下列哪些產品符合上述？ (A)石油、天然氣 (B)咖啡、香蕉 (C)家具、玩具 (D)手機、家電。

《答案》D

37. ()清朝統治以來，一直對於貿易活動有諸多限制，當時西方國家為了改善與中國的通商貿易關係，便派遣使臣前來中國。請問：最早為了貿易問題，派遣使者來中國的是哪一個國家？ (A)法國 (B)英國 (C)德國 (D)美國。

《答案》B

詳解：(B)英國曾兩度派遣使臣來華，希望中國可以放寬對外貿易的限制。

38. ()近代中國的對外關係，是由閉關自守走向商埠開放，最後逐漸與國際社會接軌。請問：這是從哪一場戰爭開始的？ (A)鴉片戰爭 (B)英法聯軍 (C)甲午戰爭 (D)八國聯軍。

《答案》A

39. ()曉明在網路讀到一段文字：「隨著午夜鐘聲響起，香港在歷經一百五十多年的殖民統治後，終於在西元 1997 年 6 月 30 日回歸中國。」請問：香港最早割讓給外國與下列哪一個史實的關係最為密切？ (A)鴉片戰爭 (B)清法戰爭 (C)甲午戰爭 (D)英法聯軍。

《答案》A

40. ()在臺海兩岸尚未進行直航之前，飛機由臺灣起飛後多會經由某個前英國殖民地轉機，再抵達中國，是為兩岸三地交流的模式。請問：該地區應為何？ (A)澳門 (B)海南 (C)香港 (D)上海。

《答案》C

41. ()在十九世紀中葉以前，中國周遭的國家必須例行向中國進貢。但在哪一事件之後，這樣的進貢關係已開始轉變？ (A)鴉片戰爭 (B)清法戰爭 (C)英法聯軍 (D)牡丹社事件。

《答案》A

42. ()該機關成立象徵中國開始進入西方主導的世界外交體系。對外不僅只限於通商或傳教等單方面的管理，而是與各國開始建立政府與政府間的正式往來關係。請問：該機關應為下列何者？ (A)驛站 (B)市舶司 (C)商館 (D)總理各國事務衙門。

《答案》D

43. ()清末受到西方列強不斷侵略後，終於開始著手進行現代化的改革，自強運動是清末第一次改革運動。關於自強運動，下列敘述何者正確？ (A)改革內容多是以武器製造與民生產業等制度的革新 (B)最終受到英法聯軍攻入北京後，承認改革失敗 (C)被迫從天朝中心觀走出，成立總理各國事務衙門 (D)是受到鴉片戰爭的衝擊而進行的現代化改革。

《答案》C

詳解：(A)改革以效仿西方的器物技藝；(B)(D)是受到英法聯軍影響而推動改革。

44. ()日本於牡丹社事件時出兵攻擊臺灣，並迫使清廷承認其攻擊行動是「保民義舉」。請問：日本當時所欲保護的「民」所指為何？ (A)朝鮮 (B)琉球 (C)越南 (D)緬甸。

《答案》B

詳解：日本為了琉球漁民在牡丹社被殺害之事出兵臺灣。

45. ()甲午戰後，中國戰敗並簽訂喪權辱國的《馬關條約》，當時的知識分子深感痛心，於是號召各地的舉人一同上書，希望陳述自身對於國家局勢的改革意見。請問：當時號召舉人共同上書的應該是誰？ (A)林則徐 (B)李鴻章 (C)劉銘傳 (D)康有為。

《答案》D

詳解：康有為曾經號召舉人一同上書，上書七次才得到皇帝答應變法的回應。

46. ()一位清代官員說道：「中國即將進行政治變革，推動君主立憲政體，使君權受到部分約制，全國都將有一部可以依循的憲法。」請問：這位官員提到的體制改變應該是學習自何國？ (A)俄國 (B)日本 (C)法國 (D)英國。

《答案》B

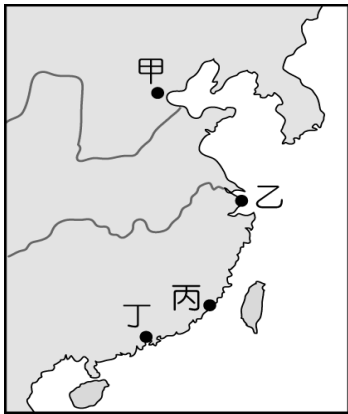
47. ()淑如在網頁搜尋欄中打上幾個關鍵字：『「上海」、「萬國公報」、「總理衙門」、「留美幼童」。』根據關鍵字判斷，淑如可能在查找下列何項訊息？ (A)列強侵略下的中國民眾日常 (B)接受歐美新知的管道與媒介 (C)傳統科舉制度下的考科內容 (D)日俄之間的戰爭引爆關鍵點。

《答案》B

詳解：上海是最早開港通商的港口，《萬國公報》是介紹西方史地的報紙，總理衙門後來處理外交事宜，留美幼童則是在自強運動時期到美國學習新知的學生，四個關鍵字的

共通點就是接受西方新知。

48. ()根據數據統計，某地在十九世紀中葉開始從各地鄉村湧進大量人士，尋找工作機會。最多人應徵的工作是洋人的幫傭、港口旁的苦力，以及酒店裡的服務生。而該地也因為位於長江的終點，利用港口位置優勢，趁機一躍而上成為最現代化的城市。請問：上述所指的「某地」應該是附圖中哪一個城市？



(A)甲 (B)乙 (C)丙 (D)丁。

《答案》B

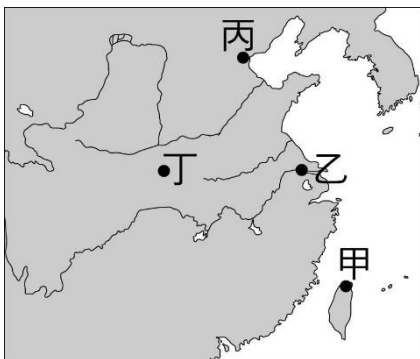
詳解：甲為天津，乙為上海，丙為廈門，丁為廣州。文中提到人們從各地鄉村湧進該城市，應徵的工作大多與外國人的生活相關；又提到地理位置為長江終點，故可知應是開港通商後的上海。

49. ()西元 2021 年，上海市已經擁有了數千家咖啡店，請問：源於西方的咖啡文化最早在什麼時候進入上海？ (A)清乾隆時期，英國馬加爾尼出使中國時帶進中國 (B)明末阿拉伯商人經海路經商時傳入 (C)鄭和下西洋時期，由船隊帶進中國 (D)一八四〇年代因鴉片戰爭，開放五口通商後傳入。

《答案》D

詳解：鴉片戰爭後上海開港，許多西方人在上海租界生活定居，將咖啡等文化帶入中國。

50. ()西元 1887 年，為了慶賀英國維多利亞女王登基五十週年，住在中國各通商口岸的英國人舉辦了各式各樣的慶祝活動。如果英國駐中國記者威廉想要以這些在華慶祝活動為主題製作專題報導，則他應該要把採訪邀請寄送給附圖中哪些地方的英國同胞？ (A)甲乙丙 (B)甲乙丁 (C)甲丙丁 (D)乙丙丁。



《答案》A

詳解：中國通商口岸集中在沿江或沿海，故選甲(淡水)、乙(上海)、丙(天津)。

51. ()《南京條約》開港通商後，除了帶給中國新的器物 and 制度，也改變了社會文化。下列何者為當時引入的新式娛樂？ (A)品茶 (B)賽馬 (C)佛教藝術 (D)飲用葡萄酒。

《答案》B

52. ()俊傑是一位身處於晚清的知識分子，他希望獲得西方政治、經濟等新知以推動政治革新。請問：他應該透過下列哪些方式比較可能達到目的？ (A)到通商口岸閱讀報紙書籍 (B)努力讀書參加科舉考試 (C)到上海體驗賽馬文化 (D)信仰基督教成為虔誠教徒。

《答案》A

詳解：(A)報章雜誌在通商口岸發展，會傳播許多西方新知，知識分子也藉此發表政治革新的理念。(B)科舉以熟讀儒家思想為主。(C)賽馬是娛樂項目。(D)信仰基督教不見得會接收西方政治、經濟新知。

53. ()某份出版品的性質是綜合性報刊，為戊戌政變後梁啟超於日本籌辦。其內容廣博，包括政治、經濟、時事、道德、軍事、法律、學術、宗教、思想、歷史、地理、文學藝術、雜說、筆記及古今中外知識。請問：這份報刊是下列何者？ (A)《臺灣民報》 (B)《新民叢報》 (C)《萬國公報》 (D)《自由中國》。

《答案》B

詳解：梁啟超在戊戌政變後流亡日本，後創辦《新民叢報》，西元 1902 年於日本橫濱出版。(A)《臺灣民報》為日治時期臺灣人所創辦的報紙。(C)《萬國公報》為美籍傳教士創辦，起先以傳教為主，後期也介紹了西方各國的狀況。(D)《自由中國》為民國 49 年雷震於臺灣創辦的雜誌。

54. ()阿燦是清代的知識分子，自小生活在上海，在清廷開放與外國通商後，阿燦在街道上經常可見外國人經商買賣、傳播宗教，有時他會與外國人交談，得知西方各國不同於中國的風俗民情，進而對西方國家物質文明與現代思想產生興趣。請問：阿燦可以透過哪一讀物更加了解西方國家的文明與思想？ (A)《臺灣民報》 (B)《萬國公報》 (C)《自由中國》 (D)《四書集注》。

《答案》B

詳解：《萬國公報》為美國傳教士於西元 1868 年在上海創辦發行的刊物，內容初期側重傳教，之後亦介紹西方各國的地理、歷史、文明等知識，為知識分子接觸西方思想的重要管道。(A)《臺灣民報》為日治時期臺灣人所創辦的報紙。(C)《自由中國》為民國 49 年雷震於臺灣創辦的雜誌。(D)《四書集注》為南宋朱熹所著。

55. ()上海簡稱「滬」，是中國的經濟、金融、貿易和航運中心，也是中國人口最多的城市。早在清朝末年，上海就已經是中西方文化交流的重要窗口。請問：上海之所以成為清末的通商口岸，是因為下列哪一個條約？ (A)《北京條約》 (B)《天津條約》 (C)《南京條約》 (D)《馬關條約》。

《答案》C

詳解：《南京條約》部分內容：清政府向英方開放沿海的廣州、福州、廈門、寧波、上海五處港口，進行貿易通商。

56. ()晚清時期，政治改革興盛，知識分子在各種媒體上發表對時局的看法，著名的三次政治改革有西元 1861 年的自強運動、西元 1898 年的戊戌變法，以及西元 1901 年的清末新政。請問：下列何者不是造成改革興盛的主要原因？ (A)報紙、雜誌的蓬勃發展 (B)西方文化交流 (C)吃西餐、喝咖啡 (D)被迫開放通商。

《答案》C

詳解：(A)、(B)、(D)都能促進思想交流。

57. ()志遠在圖書館中找到一張上海的古地圖，並且判定這張地圖是在清末繪製的。請問：志遠之所以能這樣判定，應該是在圖中發現了何種行政區劃？ (A)番界 (B)租界 (C)有主地 (D)保甲。

《答案》B

58. ()小康在報紙上看到了洋行刊登的藥品銷售廣告，請問他最有可能身處的是下列哪一個時代？ (A)宋代 (B)明代 (C)清朝前期 (D)晚清。

《答案》D

詳解：洋行得以進入中國、外國人得以辦報，是開港通商以後的事情。

59. ()趙錢來到一個城市，這裡有電燈，交通工具可以選擇搭乘電車，路上很多人穿著西服、戴洋帽，朋友邀他去看賽馬、吃西餐。上述的生活體驗，最有可能發生在什麼時間點的什麼城市？ (A)1890 年，上海 (B)1945 年，烏魯木齊 (C)1832 年，天津 (D)1899 年，青島。

《答案》A

詳解：南京條約開放五口通商後，上海成為最具代表、融合中西文化的城市。

60. ()清末時期有許多報刊雜誌創立，其中有個報刊的創建者為外國傳教士，其創刊的目的本來是傳遞基督教義，之後改名並開始介紹西方各國的地理、歷史、政治等新知，也介紹西方新知與清帝國對外關係等政治消息，因此有不少的政治人物也有訂閱，如光緒皇帝、康有為、梁啟超等。該報刊改名後名稱為何？ (A)《新民叢報》 (B)《臺灣民報》 (C)《萬國公報》 (D)《自由中國》。

《答案》C

詳解：(A)《新民叢報》由梁啟超逃到日本後創辦，內容包括政治、經濟及古今中外知識等，並非傳教。(B)《臺灣民報》為日治時期臺灣人所創辦的報紙。(D)《自由中國》為民國 49 年雷震於臺灣創辦的雜誌。

61. ()身為清末民初的上海女性，最有可能出現下列何種生活上的改變？ (A)在家從父、出嫁從夫、夫死從子 (B)上學堂，接受新式教育的薰陶 (C)二至三足歲時，便開始裹小腳 (D)家貧女子恐不能逃脫童養媳的宿命。

《答案》B

詳解：(A)、(C)、(D)大多為清末民初以前的女子所擁有的經歷。

62. () 古代中國對於婦女有著許多禮教上的束縛，如「女子無才便是德」、「三從四德」等。而這樣的現象，到了晚清時期有明顯的改變，其原因為何？ (A)傳教士透過報紙等宣揚新思想 (B)慈禧太后透過政令強力要求 (C)清末戊戌變法、庚子後新政等改革中提及 (D)利瑪竇在中國大力提倡女權運動。

《答案》A

詳解：報紙、基督教傳教士等大力提倡，婦女地位於晚清時期明顯提升。

63. () 「秋瑾出生於官宦之家，成年後奉父母之命嫁與富有人家，但對於婚姻生活非常不滿意的她，不顧家人的反對，前往外國留學……。」從上文的敘述中，我們可以判斷秋瑾是哪一個時代的人物？ (A)宋代初期 (B)元代末年 (C)明代初期 (D)清代末期。

《答案》D

詳解：晚清的婦女地位提升，女性擁有自主權。

64. () 「秋風秋雨愁煞人」，相傳是中國女性參政先聲秋瑾的遺言，生在清末的秋瑾，致力突破傳統對於女性的限制，改變女性在家庭與社會的地位。依她的生平事蹟，她最不可能主張下列何者？ (A)遵從三從四德 (B)女性受新式教育 (C)女性投入職場 (D)反對纏足。

《答案》A

詳解：三從四德是中國古代對女性行為的規範，是秋瑾等女權運動者所欲突破的。

65. () 小菲是清朝人，畢業於第一間中國人投資興辦的經正女塾(女學堂)，放假最喜歡穿著美美的洋裝與朋友相約去老德記喝咖啡，享受番菜，飯後再搭乘人力車去看電影。上述的生活經歷最早應出現在何時？ (A)十八世紀末 (B)十九世紀初 (C)十九世紀末 (D)二十世紀初。

《答案》C

詳解：十九世紀中期，南京條約開放五口通商後，西方物質文明與現代思想快速傳入。

66. () 颱風即將來臨，大家都很關心放假的情形，紛紛鎖定電視新聞節目，等待各地方政府發布停止上班上課的訊息。上述地方政府的作為，屬於下列何種概念？ (A)五權分立 (B)水平分權 (C)主權在民 (D)地方自治。

《答案》D

67. () 為了解決少子化問題，各縣市政府推出生育津貼及相關政策，希望藉此提升生育率。上述縣市政府的作為，屬於下列何種概念？ (A)五權分立 (B)水平分權 (C)主權在民 (D)地方自治。

《答案》D

68. () 關於中央與地方的權限劃分，具有因地制宜性質的事務由地方負責。依此規定，地方政府具有哪些權力而設有行政機關與立法機關？ (A)司法權、考試權 (B)考試權、行政權 (C)行政權、立法權 (D)立法權、司法權。

《答案》C

69. () 地方政府建設道路，提供人民更便利的生活，這是屬於地方政府的哪一項自治事務？
(A)安全衛生 (B)教育文化 (C)經濟發展 (D)社會服務。

《答案》C

70. () 我國為了能針對不同地區人民的需要，提供適切的服務，因此設有什麼機關，負責提供各項服務，處理各項地方自治事務？ (A)民眾服務處 (B)地方政府 (C)中央政府 (D)監理處。

《答案》B

71. () 在市政府工作的明玲整理每個月的施政報告時，應將下列何者歸納到「安全衛生」的類別中？ (A)辦理兒童公托服務 (B)提供流感疫苗注射 (C)輔導在地產業轉型 (D)藝文團體下鄉服務。

《答案》B

72. () 國輝帶著未滿週歲的女兒到衛生所施打公費疫苗，這項地方政府提供的措施，與下列何者應屬相同類別的自治事項？ (A)老人安養服務 (B)都市更新計畫 (C)垃圾清運工作 (D)文化中心展覽。

《答案》C

73. () 地方政府辦理社會福利與老人安養等服務，這是屬於地方政府的何種自治事務範圍？
(A)社會服務 (B)經濟發展 (C)教育文化 (D)安全衛生。

《答案》A

74. () 全國一致性的事務是由中央政府統籌辦理，而下列何者即屬之？ (A)拓寬市區道路 (B)推動務實外交 (C)環境汙染舉發 (D)路燈故障處理。


《答案》B

75. () 當中央政府與地方政府就行政權與立法權的管轄範圍有爭議時，應交由哪一個機關負責解決？ (A)總統 (B)大法官 (C)立法院 (D)監察院。

《答案》C

詳解：當中央與地方的權限劃分發生爭議時，《憲法》規定交由立法院負責解決。

76. () 下列是庭暄在報紙看到的一則新聞，該則新聞因時間較久而有所汙損。

九合一選舉即將在年底登場，高雄縣市合併後的原住民區長、區民代表於西元 2014 年修改
 後恢復選舉，高市桃源區及茂林區區長競選均呈現一對一對決局勢，唯那瑪夏區出現參選爆炸，多達 5 人角逐區長寶座。

根據新聞內容判斷，該汙損處應為下列何者？ (A)《憲法》 (B)《民法》 (C)《國

籍法》 (D)《地方制度法》。

《答案》D

77. ()在臺北工作的華智，每次選舉都會返回桃園市復興區投票，儘管不住在家鄉，仍希望自己神聖的一票能為家鄉選出優秀的公職人員。下列各地區中，何者與桃園市復興區一樣，均屬於直轄市山地原住民區？ (A)高雄市楠梓區 (B)新北市瑞芳區 (C)臺中市和平區 (D)桃園市楊梅區。

《答案》C

78. ()下列何者並非直轄市？ (A)桃園市 (B)新竹市 (C)臺中市 (D)臺南市。

《答案》B

79. ()下列哪一部法律，讓我國人民可以針對不符合人民訴求的政策或法案，自行提案投票，要求政府即時制定或修正？ (A)《國籍法》 (B)《地方制度法》 (C)《公民投票法》 (D)《公職人員選舉罷免法》。

《答案》C

80. ()「公民監督國會聯盟」原名「社會立法運動聯盟」，除了定期舉辦國會監督論壇，匯集各界人士的意見之外，也會提出立法委員評鑑報告，以持續監督國會、改善國會生態為目標。根據上述判斷，「公民監督國會聯盟」的組成，有助於哪一項理念的推展？ (A)政治參與 (B)地方自治 (C)權力分立 (D)取得政權。

《答案》A

81. ()人民企圖影響政府人事及決策而採取的實際行動，稱為下列何者？ (A)政治參與 (B)社會參與 (C)人權保障 (D)分權制衡。

《答案》A

82. ()孝威在行事曆上記錄了未來一星期的活動行程，包括：

- | |
|--|
| (甲)到合歡山健行。
(乙)參加馬拉松路跑比賽。
(丙)到美式餐廳與大學同學聚會。
(丁)參加市長候選人的競選辯論會。 |
|--|

其中哪一項屬於政治參與的方式？ (A)甲 (B)乙 (C)丙 (D)丁。

《答案》D

83. ()下列何者不屬於選舉的功能？ (A)協調政府各部門的意見 (B)選出公職人員 (C)合法組成政府 (D)落實責任政治。

《答案》A

84. ()人民對不同政黨候選人的政見表示贊成或反對的看法，主要是透過下列何種方式？ (A)遊說 (B)選舉 (C)抗爭 (D)叩應。

《答案》B

85. ()在民主國家，執政黨若在選舉中獲勝，便取得繼續執政的合法性基礎；若競選失敗，則產生新的執政黨，不致發生衝突或暴動。這種過程可顯現選舉的哪一項功能？ (A)促進權力分立 (B)追求社會正義 (C)發展自由經濟 (D)合法組成政府。

《答案》D

86. ()下列何者不屬於我國公職人員選舉時，投票人必須具備的法定資格？ (A)年滿 20 歲 (B)具有中華民國國籍 (C)戶籍設在選舉區達 4 個月以上 (D)受監護宣告。

《答案》D

87. ()「一人一票，票票等值」指的是下列哪一種選舉原則？ (A)普通 (B)平等 (C)直接 (D)無記名。

《答案》B

88. ()我國選舉採取□□原則，其目的是在保障選民的自由意志與安全。上述□□指的是下列何者？ (A)無記名 (B)平等 (C)普通 (D)直接。

《答案》A

旅居國外的知名影星專程回臺投票卻出包了！他將自己的私章當成圈票章蓋在選票上，使得神聖一票變成廢票。過去該影星也曾因走出圈票處後亮票而引發爭議，甚至吃上官司……。

89. ()以下是有關立法委員選舉的新聞報導：根據內容判斷，上述影星的行為已違反下列哪一項選舉原則？ (A)普通 (B)平等 (C)直接 (D)無記名。

《答案》D

90. ()阿旺想要參與我國公職人員的選舉，以實現其政治理念和服務社會的熱忱。阿旺至少必須年滿幾歲，才有參選資格？ (A)20 歲 (B)23 歲 (C)26 歲 (D)30 歲。

《答案》B

91. ()每年 5 月 5 日不但是日本的端午節，也是日本的兒童節，為慶祝男孩茁壯長大，處處可見到鯉魚旗隨風飄揚的景象。若以日本夏季盛行風向判斷，此時旗幟多朝哪一方向飄去？ (A)東北方 (B)東南方 (C)西南方 (D)西北方。

《答案》D

92. ()在中國近代史上，此處的租界開闢最早，存在時間最長，面積最大，經濟的發展十分快速，對周邊地區的近現代歷史發展產生了深遠影響，成為中國人接觸西方文化的一個重要窗口，上述的「此處」應該是指何者？ (A)南京 (B)上海 (C)北京 (D)天津

《答案》B

93. () 新北市政府啟用加強身心障礙者照顧及工作技能培訓的小型作業所「三重五華日間照顧服務中心」，市長表示多照顧一個身心障礙者就能多幫助一個家庭，減輕其家庭的經濟負擔。請問：以上敘述屬於何種地方政府的自治事項？ (A)教育文化 (B)安全衛生 (C)社會服務 (D)經濟發展。

《答案》C

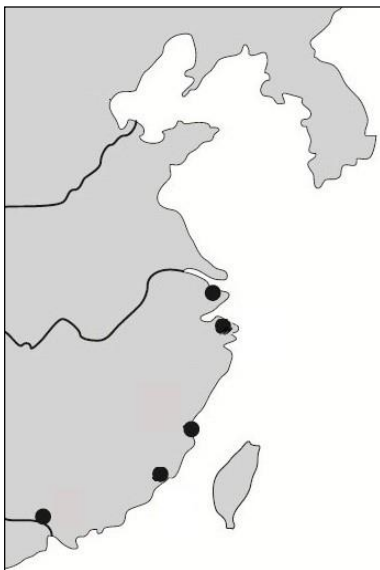
94. () 王教授為新聞系學生出了一份作業，要求大家擇一歷史事件編輯成新聞稿件，再由王教授親自撰寫事件影響。附圖是某學生的作業節錄，根據其內容判斷，下列何者是王教授會撰寫的評論？ (A)清政府下詔預備立憲，增強國力 (B)清政府開放通商口岸，割地賠款 (C)士人要求推動明治維新，變法圖強 (D)開放外人至中國設工廠，打擊民生。

**歷時五小時，我國黃海海戰
損失慘重！**

依據本新聞臺特派記者回報，自西元 1894 年 9 月我國北洋水師開始與敵軍交戰。歷經五個多小時的對戰結果，我國損失致遠、經遠、超勇、揚威、廣甲五艘軍艦，死傷官兵多達六百餘人。

《答案》D

95. () 潘因是清末往返歐洲與中國貿易的洋商。受到當時的政治局勢影響，他的貿易範圍如附圖所示。下列何者是潘因有可能出現的生活體驗？ (A)聽聞英國使者與乾隆皇帝因禮儀問題爭吵 (B)目睹傳教士在中國內地傳教時與居民衝突 (C)到臺灣進行貿易時須經由日本政府同意 (D)若不幸有貿易糾紛可不受中國法律管束。



《答案》D

96. () 蔣阮是十九世紀末期的臺灣商人，準備前往中國開創新事業。他拜託認識的牙商，為他尋找符合以下條件的房子：「生活機能好，最好有電燈、電車。鄰近商業區，充滿多樣就業機會。能接觸西方文明，房子周圍充滿西方風情。」請問：牙商應推薦下列何地的房子給蔣阮？ (A)上海 (B)西安 (C)洛陽 (D)武漢。

《答案》A

97. () 近年隨著韓劇的流行，南韓的文化、料理、流行時尚等風靡全亞洲。韓劇裡展現的衣食住行、言行舉止，皆能呈現出南韓的民族特色。請問：在古裝韓劇中，韓服和傳統禮制處處可見中國文化的影子，其原因為何？ (A)自然環境影響 (B)同源民族遷移 (C)中國政治壓迫 (D)地理位置鄰近。

《答案》D

詳解：南韓因鄰近中國，傳統服飾、建築、禮制等皆受到中國的影響。

98. () 日本在西元 2022 年以前是世界最大的汽車出口國，但此一情況已於西元 2023 年開始出現改變，由中國出口的汽車數量攀升到世界第一，但臺灣的進口車中還是以日系車款的比例為最高。依據下列圖片的資訊判斷，文中提及臺灣占比最高的車款最不可能為下列哪一廠牌？



(A)



(B)



(C)



(D)

《答案》D

詳解：(D)為南韓現代汽車的品牌標誌。

99. () 西元 1845 年，中英簽訂上海租地章程，自此上海開始租界的歷史。此後，法國與美國相繼在上海設立租界。關於租界的敘述，下列何者正確？ (A)提供中國民眾居住 (B)對中國領土主權沒有影響 (C)此區的外國人受中國政府管轄 (D)此區出現電燈、電車等許多現代化措施。

《答案》D

詳解：各國可在中國的通商口岸劃定區域，提供僑民居住或經商。在租界內，外國人不受中國政府管轄，有如「國中之國」，破壞中國領土主權的完整。

100. ()地方自治是指地方政府由地方上的人民依法選舉並組織，自行管理地方上的公共事務。下列何者是我國推動地方自治的主要目的？ (A)中央政府透過地方政府，統一管理地方事務 (B)地方人民可以直接向中央政府反映生活需求 (C)促使各個地方政府相互競爭，獲得更多資源 (D)提供地方人民參與治理地方公共事務的機會。

《答案》D