

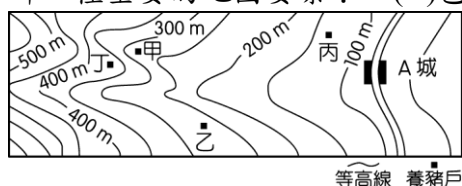
年 班 座號： 姓名：

## 一、選擇-：(每題 0 分。共 0.0 分)：

1. ( ) 每天早上升旗時，從教室走到操場的路上，筱琪總是被陽光照射得睜不開眼睛。請問：操場位於教室的哪一個方向？ (A)東方 (B)西方 (C)南方 (D)北方。

《答案》A

2. ( ) 附圖為小胖在地理實察後，所繪製的「A 城附近養豬戶分布圖」。請問：此圖缺少下列哪一種重要的地圖要素？ (A)色彩 (B)圖例 (C)方位 (D)比例尺。



《答案》D

詳解：地圖無方向標時，以地圖上方為北方。但此圖中無比例尺，因此養豬戶與 A 城間的實際距離無法得知。

3. ( ) 某次路跑活動以臺東縣政府為集合點，為了讓大家順利找到集合位置，主辦單位在文宣上公告下列四種找到集合點的方法。請問：下列何者並非絕對位置的敘述？ (A)位於臺東市中山路 276 號 (B)在地圖(E, 08)的座標上 (C)在中山路與大同路交叉口 (D)位於臺東火車站東南方，開車 10 分鐘可達。

《答案》D

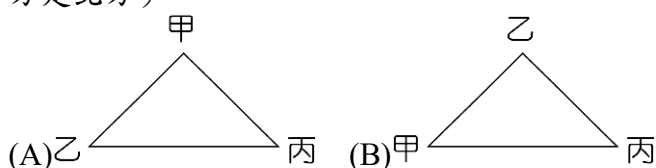
詳解：利用方位、距離敘述兩地位置關係屬於「相對位置」的概念。兩道路交叉路口較類似座標概念，故為「絕對位置」。

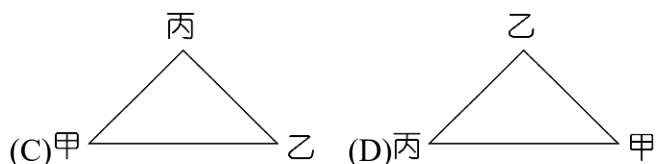
4. ( ) 連續假日時，四位同學在社群中分享各自出遊時的情況，請問：何者的位置表達方式和其他三個人不同？ (A)家豪：我現在人在鹿野高臺熱氣球正前方打卡 (B)淑芬：我離故宮南院還有 300 公尺，等會可以去拍照留念 (C)承恩：我現在人在南投中興新村裡面參觀臺灣省政府 (D)詠晴：我人在華納威秀 4DX 影廳的 A5 座位上準備看電影。

《答案》D

詳解：家豪、淑芬、承恩提到方位和距離都屬於相對位置，只有詠晴提到座標位置，屬於絕對位置。

5. ( ) 在附圖的各相對位置中，何者表示「甲在乙的西南方，乙在丙的西北方」？(註：圖上方是北方)





《答案》B

詳解：依題目敘述可判斷出三者間的相對位置。

6. ( ) 用來劃分東、西半球以及南、北半球依序是哪兩條經緯線？ (A) 本初經線、赤道 (B) 赤道、國際換日線 (C) 本初經線、國際換日線 (D) 回歸線、極圈。

《答案》A

7. ( ) 下列哪一個縣市的位置，是位在臺灣的最南端？ (A) 臺南市 (B) 臺中市 (C) 屏東縣 (D) 花蓮縣。

《答案》C

8. ( ) 下列何者並非臺灣的領土？ (A) 龜山島 (B) 太平島 (C) 琉球群島 (D) 馬祖列嶼。

《答案》C

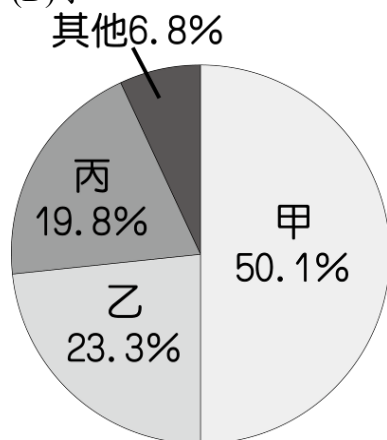
9. ( ) 臺灣領土包括臺灣本島與離島，面積約 36,000 平方公里。請問：關於臺灣行政區的敘述，何者完全正確？ (A) 臺灣本島不臨海的行政區僅宜蘭縣 (B) 臺灣本島位於釣魚臺列嶼的東北方 (C) 東沙島為高雄市管轄，太平島為屏東縣管轄 (D) 金門列嶼、馬祖列嶼為距離中國最近的離島。

《答案》D

10. ( ) 距離臺灣較遠的東沙島與太平島，其行政區劃上隸屬於哪一個行政區管轄？ (A) 澎湖縣 (B) 屏東縣 (C) 高雄市 (D) 金門縣。

《答案》C

11. ( ) 亞太經濟合作組織為一區域性經濟組織，由位於太平洋周邊多個國家或地區所組成。附圖為全球主要海洋的面積比例圖，何者最可能為太平洋？ (A) 甲 (B) 乙 (C) 丙 (D) 丁。



《答案》A

12. ( ) 臺灣特有生物眾多，為臺灣生態環境的一大特色。請問：何者非臺灣特有生物？ (A) 石虎 (B) 臺灣藍鵲 (C) 櫻花鉤吻鮭 (D) 臺灣長鬃山羊。

《答案》A

13. ( ) 臺灣島有許多高山，此現象主要是因為下列哪些板塊互相擠壓所造成？(甲)歐亞板塊 (乙)菲律賓海板塊 (丙)非洲板塊 (丁)澳洲板塊 (A)甲乙 (B)甲丁 (C)乙丙 (D)丙丁。

《答案》A

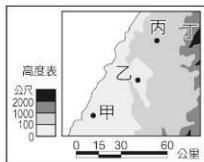
14. ( ) 改變地表形貌的力量，主要可以分為外營力與內營力兩種。所謂內營力是指地球內部的熱力作用，下列何者即屬於內營力的作用？(A)冰河侵蝕 (B)風力侵蝕 (C)河流堆積 (D)板塊擠壓。

《答案》D

15. ( ) 臺灣最高峰位於下列哪一座山脈之中？(A)阿里山山脈 (B)中央山脈 (C)玉山山脈 (D)雪山山脈。

《答案》C

16. ( ) 附圖為臺灣某地區的分層設色圖，請問：乙地最可能是何種地形？(A)山地 (B)丘陵 (C)平原 (D)盆地。



《答案》D

17. ( ) 「這兩天中午十分炎熱，但午後卻下起雷陣雨。」這種短時間的大氣變化稱為什麼？(A)氣候 (B)天氣 (C)洋流 (D)水文。

《答案》B

18. ( ) 風向是指風的來向，通常可用風向標來觀測風向。請問：下列選項中，何者代表「西北風」？(A)↘ (B)↙ (C)↗ (D)↖。

《答案》A

19. ( ) 臺灣哪一個地區，降雨季節分布最平均？(A)北部 (B)中部 (C)南部 (D)東部。

《答案》A

20. ( ) 下列何者並非臺灣常見的氣候災害？(A)寒害 (B)大風雪 (C)豪雨 (D)乾旱。

《答案》B

21. ( ) 以海岸地形和降雨季節的兩種分布情況來看，臺灣四周海岸何處最適合晒鹽？(A)北海岸——夏季 (B)東海岸——夏季 (C)西海岸——冬季 (D)恆春半島海岸——春季。

《答案》C

22. ( ) 臺灣西南部的雲林、嘉義、臺南一帶，昔日鹽田遍布，為當地居民提供不少就業機會。這些地區適合晒鹽，主要與下列哪一項氣候特性關係密切？(A)四季有雨 (B)冬

春乾燥 (C)迎東北季風 (D)海岸線較長。

《答案》B

23. ( )臺灣主要河川的分水嶺是下列哪一座山脈？ (A)阿里山山脈 (B)中央山脈 (C)玉山山脈 (D)雪山山脈。

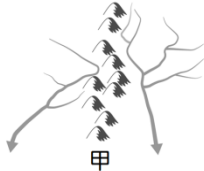
《答案》B

24. ( )高屏溪位於臺灣南部，分布於南投縣南端、嘉義縣東端、臺東縣西端，及高雄市、屏東縣的 23 個鄉鎮市區，面積為全臺第一。請問：上文描述的是哪一個河流觀念？ (A)水系 (B)流域 (C)支流 (D)分水嶺。

《答案》B

詳解：文中並未介紹高屏溪的主支流與分水嶺，文中提到面積為全臺第一，指的是流域面積。

25. ( )在水文的相關概念中，包含了水系、集水區、流域及分水嶺。附圖中的甲屬於下列哪一種概念？ (A)水系 (B)流域 (C)集水區 (D)分水嶺。



《答案》D

26. ( )世界各地進入金屬器時期的時間不盡相同，而臺灣約是在何時進入金屬器時期？ (A)七千年前 (B)三千年前 (C)兩千年前 (D)一千年前。

《答案》C

27. ( )下列哪一個文化遺址，是臺灣目前發現最早的文化？ (A)卑南文化 (B)圓山文化 (C)大坌坑文化 (D)長濱文化。

《答案》D

28. ( )考古學家將史前時代分為「舊石器時代」、「新石器時代」及「金屬器時代」，主要是依據下列何者進行劃分？ (A)族群的空間分布 (B)時間的長短 (C)遠古人類使用器具的材質與製作方式 (D)已知用火。

《答案》C

詳解：考古學家根據遠古人類使用器具的材質和製作方式，將史前石代分為「舊石器時代」、「新石器時代」及「金屬器時代」。

29. ( )長濱文化遺址最初發現於臺東縣長濱鄉的八仙洞。請問：這個史前文化遺址是依據下列何者來命名？ (A)依照發現者的姓名 (B)發現遺址地點的較小地名(如鄉鎮名) (C)發現遺址地點的較大地名(如縣市名) (D)依照當時考古隊的喜好。

《答案》B

詳解：史前文化的命名，通常是以首先發現遺址的較小地名(鄉鎮名、村名)來稱呼。

30. ( )考古學家根據挖掘出來的遺物及遺跡，來推測史前時代人類的生活情形。附圖為甲、乙、丙三文化層，由古至今排列，下列何者正確？

丙 文化層
乙 文化層
甲 文化層

- (A)甲：大坌坑、乙：圓山、丙：十三行  
(B)甲：十三行、乙：圓山、丙：大坌坑  
(C)甲：圓山、乙：十三行、丙：大坌坑  
(D)甲：圓山、乙：大坌坑、丙：十三行。

《答案》A

詳解：甲至丙由古至今排列順序為：大坌坑文化、圓山文化、十三行文化。

31. ( )臺灣原住民族曾歷經遷移，在與外來者接觸後，有過不同的分類和名稱。例如：清帝國時期，政府依照某些標準，將原住民族分為「熟番」或「生番」。請問：曾被稱作「生番」的原住民族，到了日治時期最可能被稱呼為下列何者？ (A)高山族 (B)高砂族 (C)原住民 (D)平埔族。

《答案》B

詳解：(A)高山族為中華民國時期對「山地同胞」的通稱。(C)原住民為西元 1994 年後由政府正名。(D)平埔族在清帝國時期大多被稱為「熟番」。

32. ( )噶瑪蘭通判柯培元曾寫下《熟番歌》：「人畏生番猛如虎，人欺熟番賤如土；強者畏之弱者欺，無乃人心太不古！熟番歸化勤躬耕，山田一甲唐人爭，唐人爭去餓且死，翻悔不如從前生。……」文中提及「生番」和「熟番」，當時的政府如何區分兩者？ (A)是否從事農耕 (B)居住在山區或平地 (C)是否納稅、服勞役 (D)是否會說漢語。

《答案》C

詳解：清代政府依是否納稅、服勞役區分「熟番」與「生番」。

33. ( )西元 1624 年，哪一國進占臺灣南部，成為最先占領臺灣的歐洲人？ (A)西班牙 (B)英國 (C)荷蘭 (D)葡萄牙。

《答案》C

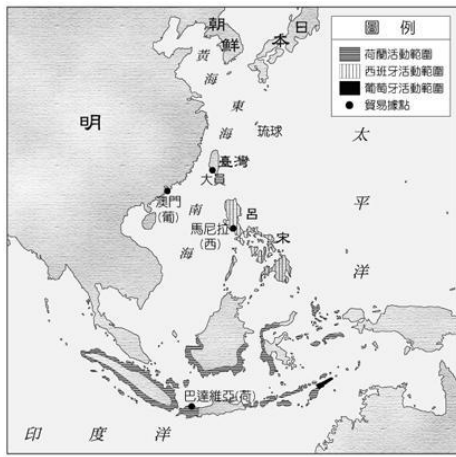
34. ( )到荷蘭旅遊，會發現到處可買到印尼的食品，同時也有許多印尼的餐館開立在各城市或鄉鎮，這與想買印尼食品、貨物卻必須刻意找尋的臺灣形成強烈對比。這個歐洲國家竟然比亞洲的臺灣更受印尼文化影響的原因，和荷蘭曾殖民過印尼三百年之久有關。請問：荷蘭當時授權的殖民統治機構「荷蘭聯合東印度公司」在印尼的殖民總部為何處？ (A)大員 (B)澳門 (C)馬尼拉 (D)巴達維亞。

《答案》D

詳解：荷蘭聯合東印度公司亞洲總部在巴達維亞，也就是今天印尼首都雅加達。

35. ( )附圖是荷蘭、西班牙、葡萄牙在某時期於亞洲的貿易據點分布圖。請問：這個時期大概在何時？ (A)十四～十五世紀 (B)十六～十七世紀 (C)十八～十九世紀 (D)二十～二十一世紀。





《答案》B

36. ( ) 自荷蘭在臺時期到鄭氏在臺時期，下列何者一直都是相當重要的出口商品？ (A) 香料 (B) 鹿皮 (C) 軍需品 (D) 稻米。

《答案》B

37. ( ) 西元 1626 年，西班牙人出兵北臺灣，陸續占領雞籠、淡水等地。請問：西班牙人占領臺灣，目的是為了向哪一個國家發展貿易？ (A) 中國 (B) 日本 (C) 朝鮮 (D) 菲律賓。

《答案》B

38. ( ) 十七世紀，澎湖曾短暫被荷蘭人占領，臺灣南、北部也先後為荷蘭人和西班牙人占領，作為貿易及傳教的中心。請問：荷蘭與西班牙占領臺灣，是因為臺灣哪一項優越的條件所致？ (A) 物產 (B) 位置 (C) 氣候 (D) 地形。

《答案》B

39. ( ) 有一本書的結尾如此寫道：「雖然揆一長官和他的評議會面對國姓爺圍城之時，行止處處都如值得尊敬的人一般，但同樣終歸枉然，未能使他們免於巴達維亞的質疑和囚禁。」請問：以下敘述何者錯誤？ (A) 國姓爺所圍之城，為今日的淡水紅毛城 (B) 文中的「巴達維亞」即為現今之「雅加達」 (C) 文中的「揆一長官」應是任職於荷蘭聯合東印度公司 (D) 揆一長官於西元 1662 年向國姓爺投降，並撤離臺灣。

《答案》A

詳解：(A)應是荷蘭人在臺灣的行政中心熱蘭遮城，今日的安平古堡。

40. ( ) 西元 1641 年兩軍交戰前夕，一封緊急信件(如附圖)被交到某軍官手中。請問：信中「該地」可能是下列何者？ (A) 臺南 (B) 嘉義 (C) 雲林 (D) 基隆。

#### 最後通牒

貴國戰備實力已遠不及我軍，限期內退出該地，則我方將善待城內居民將士，並提供必要物資，派船送回馬尼拉城。

《答案》D

詳解：西班牙據有淡水、基隆、宜蘭等地，並以菲律賓的馬尼拉為亞洲貿易根據地，西

元 1642 年被荷蘭人驅逐。

41. ( ) 鄭成功英年早逝，他在西元 1662 年去世之前，曾吩咐五弟鄭襲日後能輔佐世子鄭經；不料鄭襲的部眾卻與鄭經廝殺，鄭經幸賴○○之助，於次年年初才順利即位。○○對於將漢人的典章制度移植臺灣頗有貢獻。請問：文中所述的「○○」最可能是下列何人？ (A)鄭芝龍 (B)陳永華 (C)鄭克塽 (D)顏思齊。

《答案》B

詳解：鄭經在臺灣的建設成果，得力於陳永華甚多，陳永華也素有「鄭家諸葛」之譽。

42. ( ) 某位歷史人物在今日臺灣各地留有不同的傳說，例如：他吃過的魚被稱作「國聖魚」，南投縣有「國姓鄉」。請問：有關這位歷史人物的貢獻以下何者正確？ (A)最早打造臺灣為國際貿易轉運站 (B)最早帶領漢人移墾西部平原 (C)最早在臺建立漢人政權 (D)最早將臺灣納入中國版圖。

《答案》C

43. ( ) 「□□的部隊開始朝著普羅民遮城進攻，鼓聲隆隆作響，號角嘹亮不絕，旗幟在風中飄揚。這是一項非常聰明的行動，臺灣長官揆一與同僚都預期□□一定先攻打熱蘭遮城堡，但□□卻繞過了他們的防衛布置。要是普羅民遮城被拿下，如此一來，熱蘭遮城必定遭到包圍而難逃投降的命運了……」請判斷上述這場戰役中的□□應是以下何者？ (A)鄭芝龍 (B)顏思齊 (C)沈有容 (D)鄭成功。

《答案》D

44. ( ) 老師要同學們觀察一張大航海時代的臺灣地圖(如附圖)，請問：這張地圖應該如何解釋才正確？ (A)漢人開墾地點 (B)葡萄牙登陸地點 (C)日本人貿易地點 (D)荷蘭、西班牙據臺地點。



《答案》D

詳解：荷蘭占據南部大員、赤崁等；西班牙占領北部淡水、雞籠、蛤仔難等地。

45. ( ) 「這裡曾經是西拉雅族四大社之一，但因為當地居民曾偷襲荷蘭人，後遭到荷蘭人聯合西拉雅族其他社鎮壓，被迫簽訂條約……。」以上歷史描述最適合放在臺南市的哪一個地區？ (A)新化區 (B)官田區 (C)左鎮區 (D)麻豆區。

《答案》D

詳解：關鍵字句「當地居民曾偷襲荷蘭人，導致部落受到荷蘭人鎮壓」，可推測這是麻

豆社事件。

46. ( ) 原住民很早就懂得耕作，他們通常在離家不遠的地方找一塊地，先將樹林砍掉，然後以火焚燒，利用焚燒所留下來的灰燼作為肥料，等待來年土地肥沃之後，再以樹枝做的木棍在土地上挖洞播種。二、三年之後，土地利用得差不多了，又換鄰近的另一塊地砍林燒樹，周而復始。請問：這種耕種的方式稱為什麼？ (A)精耕細作 (B)集約農業 (C)游耕 (D)觀光農業。

《答案》C

47. ( ) 1670 年，臺灣中部的沙轆社與外來政權發生衝突，造成眾多平埔族群與漢人死傷慘重，也讓當地的部落聯盟分崩離析。這個部落聯盟可能是下列何者？ (A)大肚王 (B)卑南王 (C)噶瑪蘭族 (D)馬賽族。

《答案》A

詳解：從「臺灣中部」、「漢人與平埔族」等關鍵詞，應可判斷是大肚王。

48. ( ) 清帝國統治臺灣早期，漢人男女比例嚴重失衡，下列哪一個臺灣諺語的出現與這種情況有關？ (A)天公疼憨人 (B)人在做天在看 (C)日頭赤炎炎，隨人顧性命 (D)有唐山公，無唐山媽。

《答案》D

49. ( ) 清朝《續修臺灣縣志》這本書中寫著：「蛤仔難沃足以容眾，險足以藏奸……，民之所趨，不可棄也。」指出了蛤仔難的重要。下列何人對於蛤仔難的開發極為重要？ (A)鄭經 (B)吳沙 (C)施琅 (D)曹謹。

《答案》B

詳解：蛤仔難是指宜蘭，吳沙在此地開發墾殖，成果甚豐。

50. ( ) 清帝國時期，沈葆楨奉命來臺，當時他為了加強海防，曾在安平、旗後等地修築炮臺，他架設炮臺的地點均位於臺灣哪一地區？ (A)北部 (B)南部 (C)東部 (D)離島。

《答案》B

51. ( ) 同學們相約到臺中世界花卉博覽會豐原園區參觀水利設施，導覽人員說：「這個水圳的建設能夠成功，主要是來自於漢人與原住民之間的相互合作，原住民同意提供土地，水圳開鑿完成後則共享水利灌溉的方便……。」同學們參觀的應是哪一個水利建設？ (A)八堡圳 (B)曹公圳 (C)瑠公圳 (D)貓霧揀圳。

《答案》D

詳解：貓霧揀圳是清帝國時期，原住民與漢人合作完工、分享水源的正面示例。

52. ( ) 清帝國時期，臺灣的對外貿易已有所進展，當時與哪一個地區或國家的貿易往來最為繁盛？ (A)日本 (B)英國 (C)中國大陸 (D)荷蘭。

《答案》C

53. ( ) 西元 1738 年，來自泉州府的三邑人聯合募款興建艋舺龍山寺，主祀觀音菩薩，終年

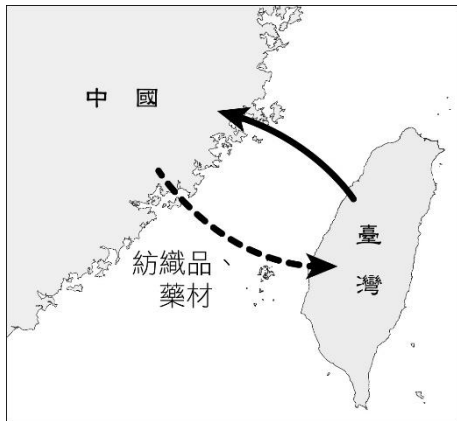


香火鼎盛，也成為「頂郊」聚會議事中心。請問：三邑人組成「頂郊」的主要目的最可能為何？ (A)避免商業惡性競爭 (B)凝聚宗教信仰力量 (C)合股進行土地開發 (D)推廣文化教育事業。

《答案》A

詳解：「郊」是清帝國治理臺灣初期的商業組織。

54. ( ) 附圖為清帝國治臺早期，中國大陸與臺灣之間的貿易情況，當時臺灣出口至中國大陸的農產品主要為何？



(A)稻米、樟腦 (B)樟腦、茶葉 (C)稻米、蔗糖 (D)蔗糖、茶葉。

《答案》C

詳解：清帝國早期，臺灣稻米、甘蔗廣為種植，成為出口至中國大陸的主要商品。

55. ( ) 臺灣移墾社會的特色之一，即是民變為數不少，故有「三年一小反、五年一大亂」的俗諺。請問：造成此種現象的原因不包括下列何者？ (A)祕密結社盛行 (B)商業蕭條 (C)會黨林立 (D)吏治不良。

《答案》B

56. ( ) 著名電影《艋舺》描述臺北市萬華地區的黑道分子，為了爭奪地盤而展開暴力火拼；事實上，一百多年前此地的確曾發生過類似的場景。請問：這是指下列哪一種衝突動亂？ (A)反清復明運動 (B)分類械鬥 (C)原住民抗爭 (D)官逼民反。

《答案》B

57. ( ) 臺北市芝山岩有一同歸所，墓碑對聯「同歸原有數，一所豈無緣」，導覽人員用臺灣諺語補充：「少年若無一次慙，路邊哪有有應公」，說明了這些沒有親人埋葬的屍骨，是因什麼原因合葬於同歸所？ (A)械鬥罹難者 (B)瘟疫罹難者 (C)戰爭罹難者 (D)偷渡罹難者。

《答案》A

詳解：萬善同歸集體合葬，為械鬥罹難者。

58. ( ) 「臺中市大甲媽祖國際觀光文化節」被 Discovery 探索頻道認為是世界三大宗教盛事活動之一，而大甲媽祖遶境進香也被行政院文建會指定為「國家重要民俗活動」。進香路線橫跨臺中、彰化、雲林、嘉義等四個縣市，在長達九天八夜的進香遶境過程中，往返的路程長達 340 多公里，巡幸 100 多間宮廟，每年都吸引數十萬，甚至百萬人參

與，場面浩大壯觀。請問：「大甲媽祖遶境進香」是屬於何種民俗性質？ (A)開臺祖 (B)唐山祖 (C)宗族組織 (D)移民信仰。

《答案》D

詳解：媽祖信仰成為臺灣普遍的信仰文化特色，超越原有祖籍神祇。

59. ( )清帝國時期，臺灣開始出現西式醫院與學校，這主要應該歸功於何者的努力？ (A)外交官 (B)傳教士 (C)商人 (D)軍人。

《答案》B

60. ( )靜香到圖書館翻閱一本人物傳記，書中的目次如附下所示。

第 6 部 淡水的宣教總部

第 29 章 淡水描繪

第 30 章 培訓本地傳教者

第 31 章 牛津學堂

第 32 章 婦女傳教的成果

第 33 章 醫療工作及醫院

第 34 章 我們和長老教會

第 35 章 回顧與前瞻

請問：這本書是下列何人的傳記？

(A)馬雅各 (B)沈光文 (C)馬偕 (D)施琅。

《答案》C

詳解：關於臺灣淡水的宣教工作，以及牛津學堂等說明，可見是關於馬偕的傳記。

61. ( )今日的淡水老街可以看到許多有關於馬偕的足跡，以及他所留下的建築。下列建築與馬偕最有關聯？ (A)淡水小白宮 (B)紅毛城 (C)真理大學 (D)漁人碼頭。

《答案》C

詳解：舊名理學堂大書院的真理大學，於 1882 年興建而成，是馬偕致力於臺灣新式教育的代表之一。

62. ( )平埔族人原本沒有姓氏只有名字，乾隆 23 年(西元 1758 年)，清廷諭令：「平埔各族薙髮同時賜姓」。當時賜給平埔族群的姓氏包括：潘、陳、劉、戴、李、王、錢、斛、蠻、林等，實際上取用潘姓最多。請問：此政策之用意為何？ (A)加速平埔族群漢化 (B)開山撫番政策 (C)傳播漢人信仰 (D)防止改信基督教。

《答案》A

詳解：乾隆皇帝賜姓平埔族人，加速平埔族群的漢化，並方便管理戶口。

63. ( )開港通商對臺灣社會造成很大的影響，也對原住民族群產生巨大的衝擊，除了西方宗教的傳入、對原始山林的破壞等情況之外，清廷的「開山撫番」行動，導致原住民嚴重的死傷。下列哪一事件即是清帝國治理時期的原漢衝突事件？ (A)郭懷一事件 (B)大肚王國事件 (C)大港口事件 (D)牡丹社事件。

《答案》C

詳解：(A)郭懷一是漢人抗荷。(B)大肚王國是鄭氏時期。(D)牡丹社事件是日本攻打南臺灣原住民。

64. ( )為了促進性別平等，政府制定與修改了一些相關法規。其中有三個專為促進性平而設置的法律，一般簡稱「性平三法」。以下何者為非？ (A)《民法》 (B)《性騷擾防治法》 (C)《性別平等教育法》 (D)《性別平等工作法》。

《答案》A

詳解：《民法》中雖有性別平等的相關規定，但並非促進性平的專法。

65. ( )媒體報導某知名大學男大生對前幾任女友暴力相向、軟禁甚至性侵對方等，女方向校方反應，校方回應表示已啟動性平會並展開調查。校方組成性平會所依法源應為下列何者？ (A)《民法》 (B)《性別平等教育法》 (C)《性別平等工作法》 (D)《性騷擾防治法》。

《答案》B

詳解：在校園中發生的性平事件，是依《性別平等教育法》的規定來組成性平會調查。

66. ( )性別平等的意義除了追求人人有公平發展的機會，更要破除下列何者？ (A)性別刻板印象 (B)自我實現 (C)生理性別 (D)人性尊嚴。

《答案》A

67. ( )小東在一本雜誌上看到以下標章——



此一標章與下列何者有關？ (A)家庭暴力 (B)環境保育 (C)性騷擾 (D)身心障礙。

《答案》C

68. ( )父母親生下子女，親子之間就具有何種關係？ (A)直系血親 (B)旁系血親 (C)婚姻關係 (D)收養關係。

《答案》A

69. ( )電影《非常主播》描述一位電臺主播，接到一個單親媽媽的 Call-in，感人悲涼故事擄獲了大批聽眾的心。沒想到的是，這位單親媽媽竟然是主播自己年少時所生的女兒，並且在十幾歲就生下兒子。三人就這樣展開了同居生活。下列何者並非電影中所提及的家庭生活模式？ (A)三代家庭 (B)隔代教養家庭 (C)單親家庭 (D)折衷家庭。

《答案》B

70. ( )著名的家事律師賴律師觀察到，當現代人認為另一半不如預期或達不到自己要求時，可能很快放棄與對方溝通，雙方因此而漸漸疏離，最後走上離婚一途。下列哪一種作法有助維持家人親密關係？ (A)管教子女都由太太負責 (B)薪水交給先生處理 (C)家務共同討論分工 (D)夫妻相互查看對方手機訊息。

《答案》C

71. ( )學生在校園裡成立自治組織、訂定規範，自行管理公共事務，稱為下列何者？ (A)學生參政 (B)暴民政治 (C)學生自治 (D)市民自治。

《答案》C

72. ( )在學生自治的過程中，國中生可以學習到下列何種民主素養？ (A)如何否決別人的意見 (B)如何尊重別人的意見 (C)如何與學校師長抗爭 (D)如何表現自己的優點。

《答案》B

73. ( )下列何者是形成社區的重要因素之一，也是居民解決社區所面臨的問題，或推動社區發展時，容易在心理上產生歸屬感而驅使居民團結的力量？ (A)社區意識 (B)社區營造 (C)社區情感 (D)社區參與。

《答案》A

74. ( )「部落」是原住民於一定區域內，依其傳統規範結合而成之團體，並經中央主管機關核定。前述主管機關為以下何者？ (A)內政部 (B)部落管理委員會 (C)文化部 (D)原住民族委員會。

《答案》D

詳解：依據《原住民族委員會組織法》之規定，行政院設原住民族委員會，為我國原住民族事務最高主管機關。(B)為部落內可自行成立的部落組織。

75. ( )位於新竹縣的司馬庫斯部落，在居民的共識凝聚之下，實行「互助共生」制度，打造具有原住民族特色的產業活動，以期追求部落的永續發展。司馬庫斯部落的做法展現了下列何種精神？ (A)社區組織 (B)部落永續發展 (C)部落會議 (D)部落社區化。

《答案》B

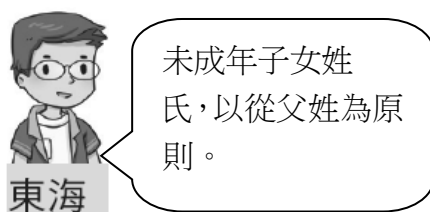
76. ( )由主流與若干支流構成的河川系統，稱為下列何者？ (A)水系 (B)集水區 (C)流域 (D)分水嶺

《答案》A

77. ( )課堂中老師請四位同學報告民法關於配偶平權的規定。下列哪一位同學的報告內容最正確？



(A)



(B)



夫妻婚後，妻以從夫姓為原則，若另有約定，則從其約定。

(C)



夫妻可以選擇採用何種財產管理分配制度。

(D)



夫妻結婚後，原則上以夫之住所為住所。

《答案》C

詳解：《民法》關於夫妻財產分配已修法，第 1004 條規定：「夫妻得於結婚前或結婚後，以契約就本法所定之約定財產制中，選擇其一，為其夫妻財產制。」另第 1005 條也規定：「夫妻未以契約訂立夫妻財產制者，除本法另有規定外，以法定財產制，為其夫妻財產制。」故夫妻可以選擇採取何種夫妻財產制，故選(C)芳蒂之報告內容為正解。(A)子女姓氏由父母共同約定。(B)夫妻各保有其姓氏為原則。(D)夫妻平等協議其婚姻住所。

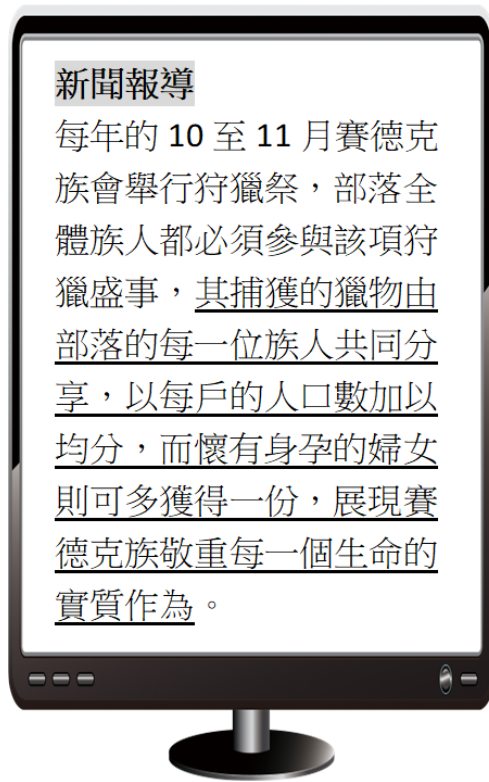
78. ( )在學校中，我們會透過班會來討論與決定班級的公共事務，下列有關班會進行方式的說明何者正確？ (A)由導師宣布會議的開始及開會的目的 (B)會議之前提出動議並由一人以上附議 (C)表決採取先提名先表決及多數決原則 (D)討論事項完畢後交由導師報告及講評

《答案》C

詳解：班會進行表決時應以先提名先表決及多數決為原則，故(C)為正解。(A)應由主席宣布會議名稱、議程與開會目的，並非由導師宣布。(B)會議之前應為提出書面之提案，且須有一人以上附署。若是會議中，則是以口頭方式提出動議，且須有一人以上附議。(D)依照開會程序，應該由主席與班級幹部進行工作報告後，再進行討論事項。而導師講評則是在主席宣布散會後才進行。

79. ( )附圖新聞報導內容的畫線處，代表了原住民族部落的何種精神？ (A)互助扶持的共享精神 (B)崇敬祖先的部落倫理 (C)各司其職的部落自治 (D)復興文化的在地認同





《答案》A

詳解：原住民族對於土地的仰賴很深，過去原住民族時常以獵物分享與共工形式，達成部落互助與扶持。新聞報導內容畫線處主要在說明原住民族捕獲獵物時，依部落規範獵物應當與族人一同分享之共享精神。故正解為(A)。畫線處的內容主要在說明原住民族部落互助共享與敬重生命的精神，未提及(B)崇敬祖先、(C)各司其職、(D)復興文化的內容。

80. ( ) 近來社區治安問題頻傳，居民著手繪製社區安全檢測地圖，積極與學校單位及附近店家共同合作，標示並記錄社區內的治安死角，向相關單位申請加裝路燈與監視器，並組織守望相助巡守隊，以尋求社區治安的改善。從上述內容判斷，下列何者是解決社區問題的關鍵因素？ (A)政府補助措施 (B)店家積極協助 (C)居民主動參與 (D)警察加強巡邏

《答案》C

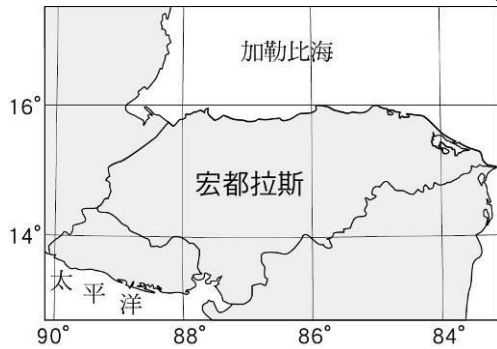
詳解：題文中提及的各項解決措施，均經由居民主動規畫與執行，故可據以判斷(C)居民的主動參與是解決社區問題的關鍵因素。故(C)為正解。

81. ( ) 氣象預報：「在南海附近成颱的米克拉持續增強，暴風圈由 80 公里擴展成 120 公里。米克拉生成於北緯 19.4 度、東經 118.3 度，飛速朝臺灣海峽而來，預計中心朝偏北方向通過澎湖西方近海，上午從金門附近登陸中國。昨晚到今日上午是米克拉最為接近臺灣的時候。」由文中敘述判斷，下列何者顯示的是米克拉颱風的「絕對位置」？ (A)米克拉在南海附近成颱 (B)米克拉生成於北緯 19.4 度、東經 118.3 度 (C)米克拉中心朝偏北方向通過澎湖西方近海 (D)米克拉從金門附近登陸中國。

《答案》B

82. ( ) 新聞報導，西元 2023 年宏都拉斯共和國宣布與我國斷交，正式結束長達 82 年的外交關係。東東為了了解更多關於該國的背景知識，而到圖書館借閱關於宏都拉斯共和國

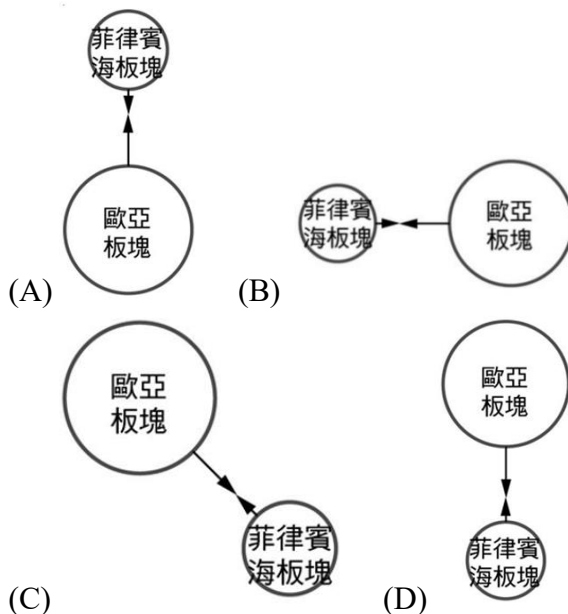
的地圖，如附圖所示。請問：關於東東對地圖的解讀，下列何者正確？ (A)宏都拉斯和臺灣都是屬於東半球的國家 (B)宏都拉斯屬於溫帶氣候，氣溫較臺灣低 (C)臺灣晚上 6 點時，宏都拉斯為早上 4 點 (D)宏都拉斯位於南半球，季節與臺灣相反。



《答案》C

詳解：依照經度可知宏都拉斯位於西半球；當地是低緯度，屬於熱帶；當地時區是西 6 區(90°W)，故時差 14 小時；宏都拉斯依緯度可知位於北半球。

83. ( ) 位於花蓮縣玉里鎮的舊鐵路橋興建於日治昭和 5 年(西元 1930 年)，橋的中段剛好位於板塊交界處，每年因地殼擠壓運動造成橋墩落差。由於維修困難，加上行車安全考量，現已改建為「玉富自行車道」，是全臺第一條改建自鐵路的自行車道，獨一無二的板塊交界處地標也成為許多遊客拍照的景點。請問：若要利用圖示來呈現上述板塊交界的相對位置及推擠方向，下列哪一張示意圖最正確？



《答案》C

84. ( ) 新聞報導「綠蠵龜(*Chelonia mydas*)是海洋保育類野生動物，國內產卵地為澎湖、蘭嶼、琉球嶼及南沙群島的太平島。其中小琉球海域據調查有多達兩百隻海龜棲息，有『海龜之島』美譽。」文中出現的島嶼中，哪些屬於珊瑚礁島？ (A)澎湖、蘭嶼 (B)澎湖、太平島 (C)蘭嶼、琉球嶼 (D)琉球嶼、太平島

《答案》D

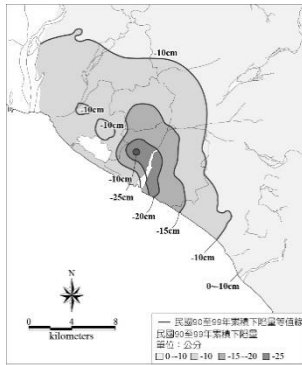
85. ( ) 附圖是士林攔河堰的周邊地圖，其位於苗栗縣泰安鄉，主要功能是攔引○○溪的溪水後，引水送往鯉魚潭水庫調蓄使用，除了用以供應苗栗縣及大臺中地區的各種用水之外，也藉以利用 264 公尺之引水落差供應水力發電之用。請問：上文中的「○○溪」，

最可能是下列哪一條河流？ (A)淡水河 (B)大安溪 (C)濁水溪 (D)曾文溪。



《答案》B

86. ( )地層下陷為地層向下移動，其發生原因可分為天然因素及人為因素兩類。附圖為屏東地層下陷累積量等高線圖，若要避免此種現象持續惡化，採用下列哪一種作法效果可能最顯著？ (A)上游興建水庫 (B)執行河川汙染管制 (C)中、下游設立攔河堰 (D)控制抽取量不可超出補注量。



《答案》D

87. ( )西元 1877 年，臺灣鎮總兵吳光亮率兵進入東部，欲開拓水尾至大港口的道路，此舉引發阿美族奇密社、納納社、阿棉社民眾的反抗，並在大港口發生衝突。由於久攻不下，吳光亮採用懷柔手段，宴請原住民族人，等到族人酒酣耳熱、無力反抗之際，便趁機殺害，導致大批阿美族青年喪生。消息傳到部落後，族人開始逃往山區或投靠其他部落。上述的事件，應發生在現今哪一個地方？ (A)臺東卑南 (B)宜蘭頭城 (C)嘉義鹿草 (D)花蓮豐濱。

《答案》D

88. ( )附圖為阿芳和阿華的對話。根據對話內容判斷，阿芳可向政府尋求何種協助？ (A)對先生實施感化教育 (B)剝奪先生的親權 (C)要求先生接受親職教育 (D)向法院聲請保護令。

阿芳：我先生常用言語侮辱、脅迫我，讓我每天都感到驚恐、害怕。



阿華：別再默默忍受了，還是盡快請政府介入以提供協助吧！



《答案》D

89. ( ) 以下是阿桃在網路上搜尋到的一則新聞——

竹仔腳聚落藝術改造計畫是由土溝農村文化營造協會與臺南藝術大學建築所合作，在鄉間營造藝術化空間。這些藝術作品承載著社區民眾共同的記憶與故事，民眾是參與者也是作品的主角，由於呈現了平民生活的內涵，所以觀看者也能夠親近理解。土溝的聚落藝術作品更獲得第二屆公共藝術獎「最佳民眾參與獎」的肯定。

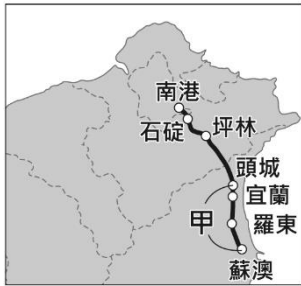


根據內容判斷，其所主要呈現的概念為何？ (A)性別平權的建立 (B)人性尊嚴的維護 (C)社區的永續經營 (D)社區人口的外移。

《答案》C

詳解：追求社區的永續發展，是居民共同努力的目標。

90. ( ) 圖(十六)為蔣渭水高速公路路線圖，其中甲路段經過的地形主要為下列何者？ (A)山地 (B)平原 (C)丘陵 (D)盆地。【108 教育會考】



《答案》B

詳解：蘇澳是中央山脈的起點，因此圖中蔣渭水高速公路的甲路段，主要地形為雪山山脈與中央山脈之間的蘭陽(宜蘭)平原，故選(B)。

91. ( )表(二)為甲國人口發展趨勢的推估數據。根據表中內容判斷，政府最可能以下列哪一項政策來面對此種發展趨勢？ (A)增加多元入學管道 (B)提高失業給付金額 (C)保障性別平等權利 (D)健全老人福利制度。【109 教育會考】

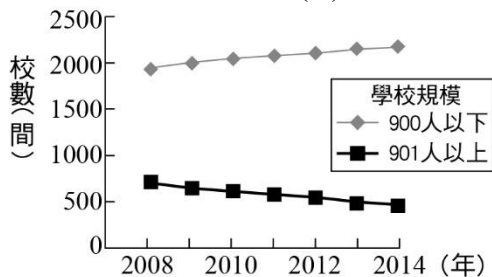
表(二)

年分 (年)	人口結構(%)		
	14 歲 以下	15-64 歲	65 歲 以上
2000	21.2	70.3	8.5
2008	17.0	72.6	10.4
2016	13.2	73.4	13.4
2036	10.3	61.3	28.4
2056	8.0	52.5	39.5

《答案》D

詳解：表格資料為甲國人口發展趨勢。資料中的 65 歲以上人口由 8.5%增加到 39.5%，顯示該國已邁入高齡社會，推判該國政府應該針對此規畫老人福利政策，答案應為 (D)。而 14 歲以下人口由 21.2%降至 8.0%，但無涉(A)增加多元入學管道；15~64 歲勞動人口雖有下降趨勢，但無提及失業率是否提高，故與(B)提高失業給付金額無關，資料中更無提及性別相關數據，因此與(C)保障性別平等權利也無關。

92. ( )圖(二十)顯示 2008 至 2014 年臺灣不同規模的國小校數變化，此種變化趨勢與下列哪一臺灣社會現象的關係最密切？ (A)國內的生育率下降 (B)外籍配偶人數增加 (C)國民義務教育延長 (D)隔代教養家庭增加。【110 教育會考】



圖(二十)

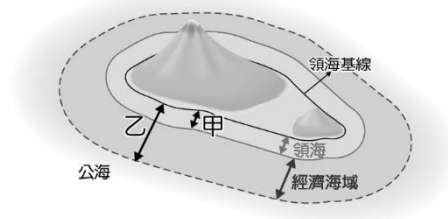
《答案》A

詳解：圖中可見國小 901 人以上規模的學校數逐漸減少，900 人以下規模的學校數略微增加，表示國小就學的人數日益減少，愈來愈多國小的學生數無法達到 901 人，此一現象與國內的生育率下降，導致的少子化現象有關。(B)外籍配偶人數增加可能會使得出



生人數增加，與圖中現象背離。(C)臺灣國民義務教育現已達 12 年，而教育時限延長與生產意願沒有直接關係。(D)隔代教養家庭是父母因工作或其他各種原因無法直接照顧子女而形成，與生育率無直接關係。

93. ( ) 附圖是老師在解釋某概念時所呈現的示意圖，依據圖中資訊判斷，其中甲、乙分別代表下列何者？ (A) 甲：10 浬、乙：100 浬 (B) 甲：12 浬、乙：200 浬 (C) 甲：20 浬、乙：100 浬 (D) 甲：20 浬、乙：200 浬。



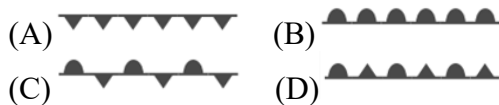
《答案》B

詳解：甲為領海基線外推出領海的距離，因此應為 12 浬；乙為領海基線外推出經濟海域的距離，因此應為 200 浬。

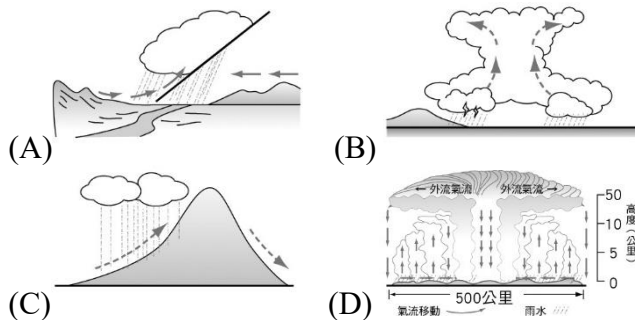
94. ( ) 請閱讀文章並回答下列問題。

隨著鋒面遠離，梅雨季結束，天氣型態也跟著改變。天氣風險公司宣布臺灣正式進入夏季，未來將偏向以午後山區熱對流降水為主的夏季型天氣。該公司指出白天須注意陸地上的熱對流發展，預期今日大部分熱對流降水會集中在山區，以及北部、東半部的平地一帶。熱對流發達的區域易有些局部較大的雨勢，民眾須注意午後的天氣變化，隨身攜帶雨具，而前往山區及溪邊活動的朋友也要特別小心溪水暴漲等問題。

- ( ) (1) 梅雨季的鋒面在地面天氣圖中呈現的符號應為下列何者？



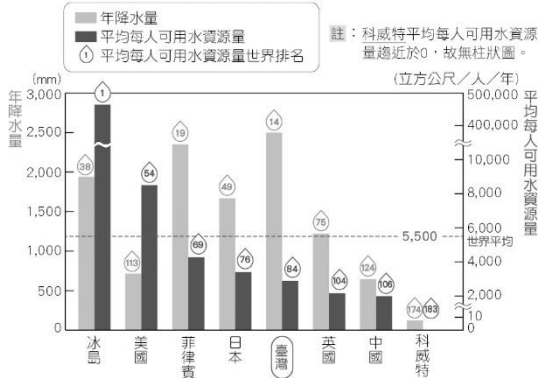
- ( ) (2) 文中提到的夏季型天氣，其降水成因與下列哪一張圖最相符？



《答案》(1)C (2)B

詳解：(1)梅雨鋒面屬於滯留鋒，故選(C)。(A)冷鋒。(B)暖鋒。(D)無此符號。(2)夏季型天氣的降水主因為熱對流導致，故選(B)對流雨。(A)鋒面雨。(C)地形雨。(D)颱風雨。

95. ( ) 附圖是臺灣與其他國家的年降水量及平均每人可用水資源量的比較圖，由圖可發現臺灣年降水量與平均每人可用水資源量的世界排名，存在著顯著差異，其主要原因為何？ (A)地形平坦 (B)人口稠密 (C)地處低緯 (D)面積廣大。



《答案》B

詳解：臺灣年降水量多，但因人口稠密，因此平均每人分到的水資源量相對較少。

96. ( ) 某本書上寫到：「中國明清兩朝都曾實施海禁。但從時間上說，明朝海禁的時間長於清。兩朝海禁，背後的動力相似，皆出於沿海地域安全考慮。……但從成效來看，『尺板不得出海』的政策，打擊了地方經濟，切斷了沿海百姓生計，反而迫使更多商、民鋌而走險，加入武裝海商集團，成為盜寇。王直、顏思齊、李旦、鄭芝龍等前後數代海商／海盜首領，從東亞多邊貿易中聚集大量財富，又周旋於中、日、葡萄牙、西班牙、荷蘭大勢力之間，成為從東海到南海最大的海上軍事集團，控制著海禁時代從日本、中國、東南亞諸島到暹羅的貿易途徑。」關於上述內容的說明，何者正確？ (A)明朝海禁實施成功，有效清除沿海各地的倭寇 (B)顏思齊屬於商人，因此不是海禁要對付的目標 (C)海商貿易的對象僅僅只限於臺灣以及中國兩地 (D)清帝國時期的海禁對於沿海的經濟有負面影響

《答案》D

詳解：(A)明朝海禁迫使更多商、民鋌而走險，加入武裝海商集團，成為盜寇，因此無法有效清除沿海各地的倭寇。(B)顏思齊屬於亦盜亦商的海商，都是政府海禁政策要對付的目標。(C)海商貿易的對象除了臺灣、中國外，還包含日本、東南亞等各國。(D)清帝國時期的海禁打擊了地方經濟，切斷了沿海百姓生計，對於沿海的經濟有負面影響。

97. ( ) 愛斯基委是一名傳教士，他在西元 1630 年來臺接續傳教工作，以淡水為中心，將傳福音擴展到今日的北投、八里、臺北和新莊一帶。在臺灣傳教的 16 年當中，先後有三十多位傳教的教士來到臺灣，使當時臺灣北部信奉 [ ] 的原住民不下四千人。上述 [ ] 內應該填上哪一個宗教？ (A)道教 (B)佛教 (C)基督教 (D)天主教

《答案》D

詳解：西元 1626~1642 年間，西班牙以臺灣北部為據點，其傳遞的宗教是天主教。

98. ( ) 在臺灣到處可見教堂與禮拜堂，足見受外來宗教影響頗深。請問：關於這些外來宗教傳入臺灣的敘述，下列何者錯誤？ (A)在北部傳教的傳教士代表是馬偕 (B)傳教士在

臺灣以醫療、教育作為傳教方式 (C)西方宗教在臺傳播較廣的是基督教長老教會  
(D)清帝國時期開港通商後，傳教士首度來到臺灣傳教

《答案》D

詳解：十七世紀時，荷蘭人與西班牙人曾將基督教與天主教傳入臺灣，所以清帝國時期並非首度。

99. ( ) 下列關於班級會議角色任務的敘述，何者錯誤？ (A)主席—維持會場秩序 (B)司儀—宣達會議程序 (C)紀錄—記錄決議的要點 (D)導師—處理提案討論、表決。

《答案》D

詳解：(D)導師在會議中僅提示會議規則。討論時不提供意見，也不加入表決。

100. ( ) 在某會議中，會議主席表示：「一群人對於其居住地區的公共事務具有共同意識，更重要的是執行力與行動力。所謂『一個實踐，勝過一百個理論』，再完善的計畫，如果沒有實踐，就可能淪為空談。」上述主席的說法，主要在強調下列何者的重要性？  
(A)社區治安 (B)社區參與 (C)部落會議 (D)學生自治。

《答案》B

詳解：會議主席強調執行力與行動力，這顯示他強調的是社區參與。故(B)為正解。