
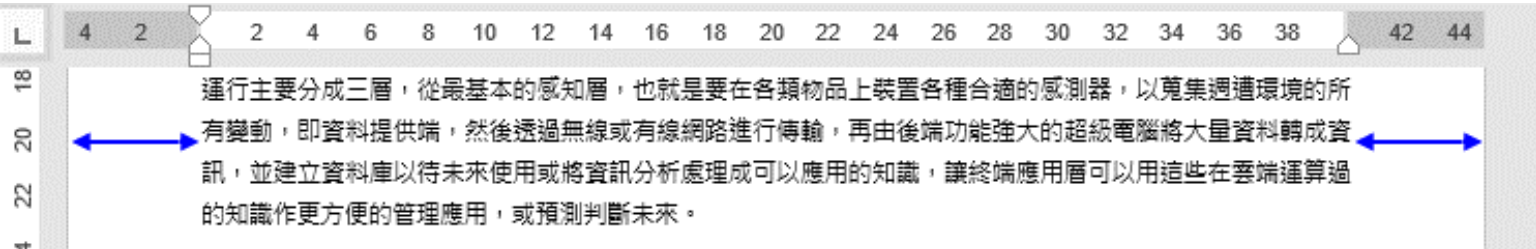
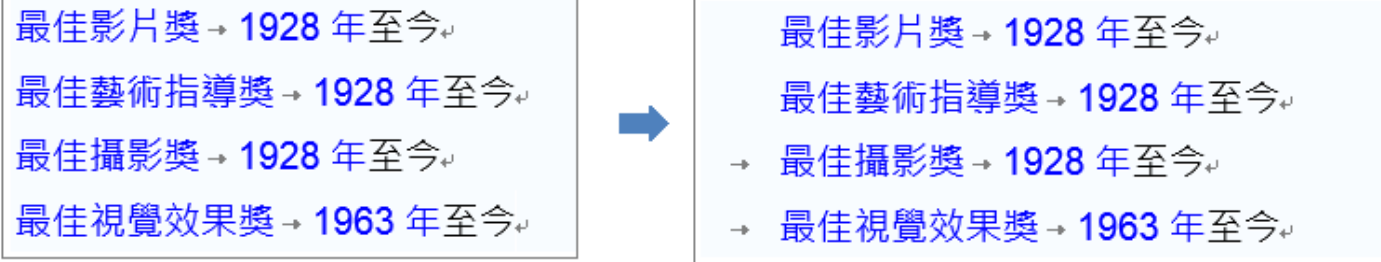

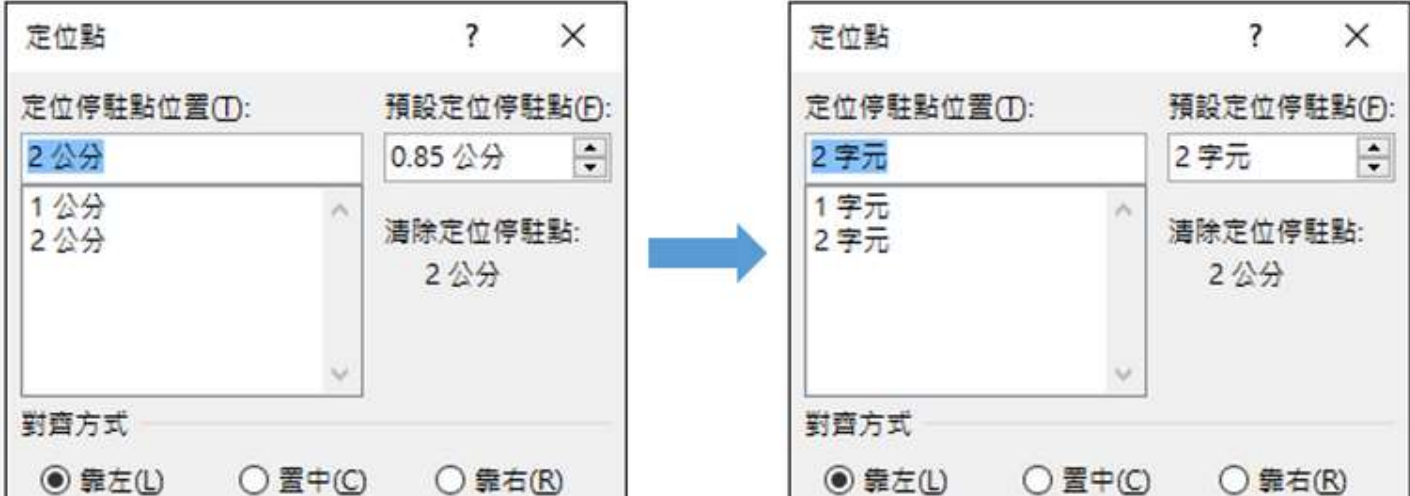



109 學年度臺中市國民中學技藝競賽【商業與管理職群】學科題庫



| 題號 | 答案 | 題目 |
|-----|----|--|
| 1. | 1 | 在 Word 2016 中，欲顯示「水平尺規」及「垂直尺規」，必須處於下列哪一項檢視模式？ (1)整頁模式 (2)大綱模式 (3)草稿 (4)閱讀模式 |
| 2. | 1 | 開放文件格式 (OpenDocument Format, ODF) 的文件格式 (OpenDocument Text) 副檔名為下列哪一項？ (1).odt (2).ods (3).odp (4).odg |
| 3. | 2 | 在 Word 2016 中，執行「另存新檔」時，可透過下列哪一項設定文件開啟的保護密碼？ (1)儲存選項 (2)一般選項 (3)Web 選項 (4)壓縮圖片 |
| 4. | 2 | 在 Word 2016 中，假設當機前尚未存檔，系統會自動將未儲存的檔案以下列哪一項格式保留？ (1)*.sad (2)*.asd (3)*.odt (4)*.xps |
| 5. | 2 | 在 Word 2016 中，欲使大家看到最新的變更內容，可將文件透過電子郵件的下列哪一項方式傳送？ (1)以附件傳送 (2)傳送連結 (3)以 XPS 傳送 (4)以 PDF 傳送 |
| 6. | 2 | 在 Word 2016 中，欲在螢幕上同時顯示同一份文件的不同頁面，可透過「檢視/視窗」的下列哪一項功能？ (1)切換視窗 (2)分割 (3)同步捲動 (4)並排顯示 |
| 7. | 2 | 如附圖所示，在 Word 2016 中，透過下列哪一項按鍵，可在功能區顯示各功能的按鍵提示？ (1)[Shift]鍵 (2)[Alt]鍵 (3)[Ctrl]鍵 (4)[Ctrl]+[Shift]鍵 |
| | |  |
| 8. | 2 | Word 2016 搭配 Windows 10 作業系統最大的特色在於加入下列哪一項搜尋功能，可插入更多網路照片或是引用來源？ (1)Foxy (2)Bing (3)Google (4)Baidu |
| 9. | 3 | 如附圖所示，在 Word 2016 中，從頁緣到文字邊界的距離決定於下列哪一項功能的設定？ (1)印表機的機型 (2)「段落」的「縮排」 (3)「版面配置」的「邊界」 (4)「版面配置」的「大小」 |
| | |  |
| 10. | 3 | 在 Word 2016 中，欲設定表單文件中，只允許填寫表單的部分可被編輯，其餘內容皆被保護，可透過下列哪一項功能？ (1)標示為完稿 (2)以密碼加密 (3)限制編輯 (4)限制存取 |
| 11. | 3 | 在 Word 2016 列印長文件時，每張紙最多可設定列印幾頁？ (1)4 (2)8 (3)16 (4)視印表機廠牌而定 |
| 12. | 3 | 欲查看 Word 2016 與舊版本文件之間所有不支援的功能差異，可透過「檔案/資訊」的下列哪一項功能？ (1)摘要資訊 (2)保護文件 (3)查看問題 (4)管理文件 |
| 13. | 3 | 如附圖所示，在 Word 2016 中，在句首輸入[Tab]鍵後，希望出現的是左邊縮排或定位點符號，可透過「自動校正」選項的下列哪一項設定？ (1)自動校正 (2)自動格式設定 (3)輸入時自動套用格式 (4)拼字及文法檢查 |
| | |  |
| 14. | 3 | 在 Word 2016 中，欲加入自訂命令和特殊功能來擴充 Microsoft Office Word 的功能，可透過下列哪一項功能？ (1)範本 (2)巨集 (3)增益集 (4)快速組件 |
| 15. | 3 | 在 Word 2016 中，欲計算文件中不含空白的字元數，可透過下列哪一項設定？ (1)「常用/編輯/尋找」的「進階尋找」 (2)「導覽」的「搜尋文件」 (3)「校閱/校訂」的「字數統計」 (4)在狀態列上按滑鼠右鍵 |
| 16. | 3 | 如附圖所示，在 Word 2016 中，在尺規上拖曳游標的同時按下哪一項按鍵，即可顯示定位點與兩邊界的距離？ (1)[Shift]鍵 (2)[Ctrl]鍵 (3)[Alt]鍵 (4)[Ctrl]+[Shift]鍵 |
| | |  |

| 題號 | 答案 | 題目 |
|-----|----|---|
| 17. | 3 | <p>如附圖所示，在 Word 2016 中，文件中經常看到自動產生的紅色或藍色波浪底線，常影響編輯時的視覺，欲將這些波浪底線隱藏起來的設定為下列哪一項？ (1)選取後，由「字型」的「底線樣式」選擇「無」 (2)選取後，由「字型」的「底線色彩」選擇「白色」 (3)由「檔案/選項」的「校訂」取消勾選所有拼字及文法錯誤的選項 (4)由「檔案/選項」的「校訂」取消勾選所有自動校正的選項</p> <p>The history of Lithuania between 1219 and 1295 covers the <u>establishment</u> and early history of the Grand Duchy of Lithuania, <u>firt</u> Lithuanian state. 1219, twenty-one Lithuanian dukes sign <u>an</u> peace treaty with Galicia-Volhynia – first proof that the Baltic tribes were uniting. <u>despite</u> warfare with two Christian orders, the Livonian Order and the <u>TeutonicKnights</u>, the Grand Duchy of Lithuania was established and gained some</p> |
| 18. | 3 | <p>在 Word 2016 中，欲查詢 Word 的版本與產品識別碼，可透過「檔案」的下列哪一項功能？ (1)資訊 (2)意見反應 (3)帳戶 (4)選項</p> |
| 19. | 3 | <p>在 Word 2016 中，欲用 A4 紙張印出 A5 大小的文件時，可透過「列印」的下列哪一項功能進入設定「配合紙張調整大小」？ (1)印表機內容 (2)頁面 (3)每張 1 頁 (4)版面設定</p> |
| 20. | 3 | <p>如附圖所示，在 Word 2016 中，欲將「定位停駐點位置」的單位，由「公分」改為「字元」，可透過「檔案/選項」的「進階」設定下列哪一項功能？ (1)將「顯示度量單位」設定為「公分」 (2)將「顯示度量單位」設定為「字元」 (3)勾選「顯示字元寬度單位」 (4)取消勾選「顯示字元寬度單位」</p>  |
| 21. | 3 | <p>如附圖所示，在 Word 2016 中，欲設定在螢幕上顯示特定水平間距的格線，下列哪一項作法正確？ (1)「檢視/顯示」的「格線」 (2)「檔案/選項」的「顯示」 (3)「版面配置/版面設定」的「文件格線」 (4)「表格工具/版面配置」的「檢視格線」</p>  |
| 22. | 3 | <p>在 Word 2016 中，若在「版面配置」中找不到「稿紙設定」的功能時，可從「檔案/選項」中的哪一項進入新增此項功能？ (1)自訂功能區 (2)快速存取工具列 (3)增益集 (4)信任中心</p> |
| 23. | 4 | <p>在 Word 2016 設定文件各邊界時，下列哪一項是無效的輸入？ (1)2 公分 (2)2 pt (3)2 pi (4)2 cm</p> |
| 24. | 4 | <p>如附圖所示，在 Word 2016 中，當整篇文章的段落設定「與前、後段距離」為「0 行」及「行距」為「12 pt」後，發現段落中的行距與間距都比預期的還要大，則修正方法為下列哪一項？ (1)取消勾選「段落」的「文件格線被設定時，自動調整右側縮排」設定 (2)取消勾選「段落」的「相同樣式的各段落之間不要加上間距」設定 (3)取消勾選「段落」的「文件格線被設定時，貼齊格線」設定 (4)點選「版面設定/文件格線」的「沒有格線」設定</p> <p>德國汽車工業的百年發展史</p> <p>德國是現代汽車的發祥地，是生產汽車歷史最悠久的國家，自從 1886 年卡爾·本茨發明第一輛汽車至今，德國的汽車工業已經走過了 120 多年的發展歷程。</p> <p>回顧這 120 多年的歷史，德國汽車工業的發展也和世界其他國家一樣，經歷了</p> |
| 25. | 4 | <p>在 Word 2016 從「檔案/資訊」中的哪一項功能按下「開啟檔案位置」，可立即開啟檔案存放的資料夾視窗？ (1)保護文件 (2)檢查文件 (3)管理文件 (4)摘要資訊</p> |

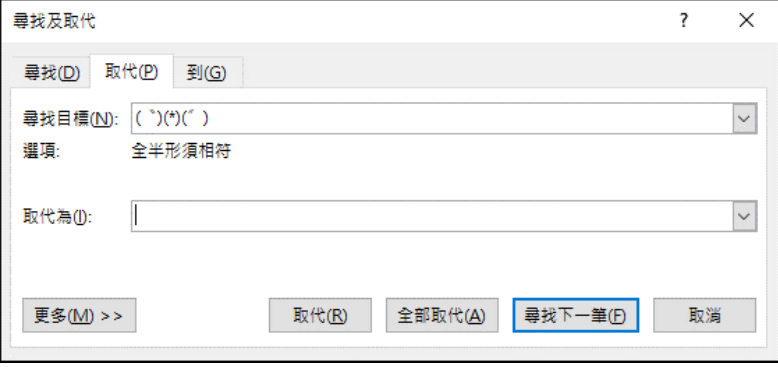
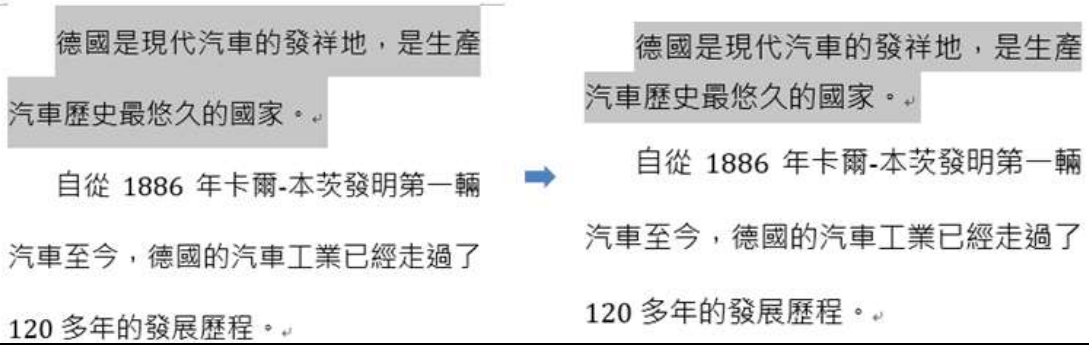
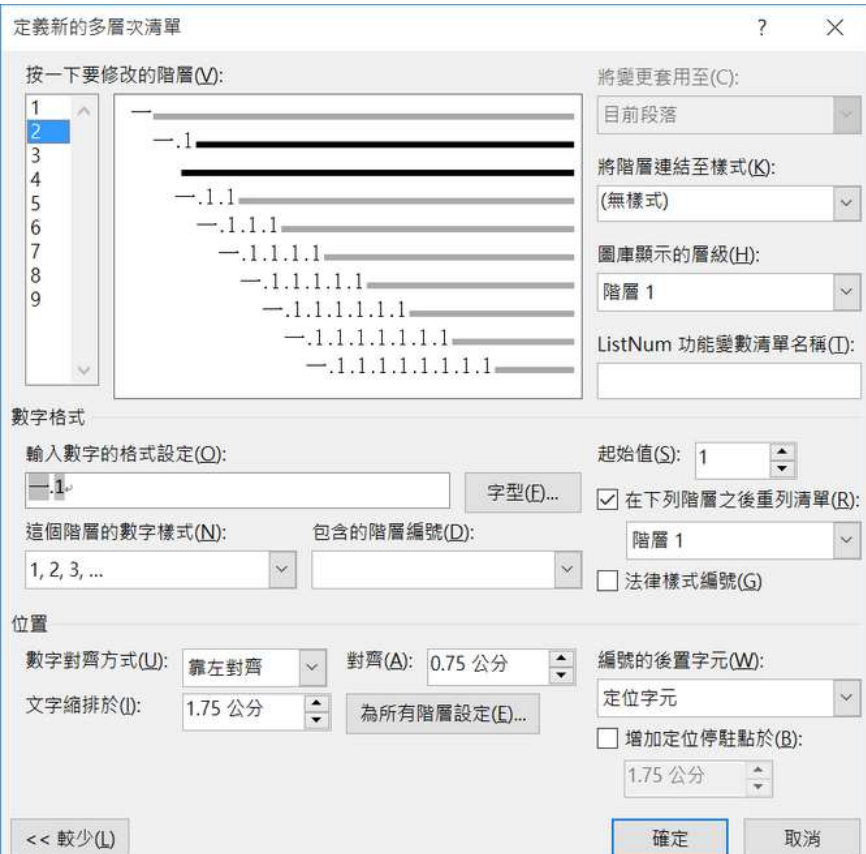
109 學年度臺中市國民中學技藝競賽【商業與管理職群】學科題庫

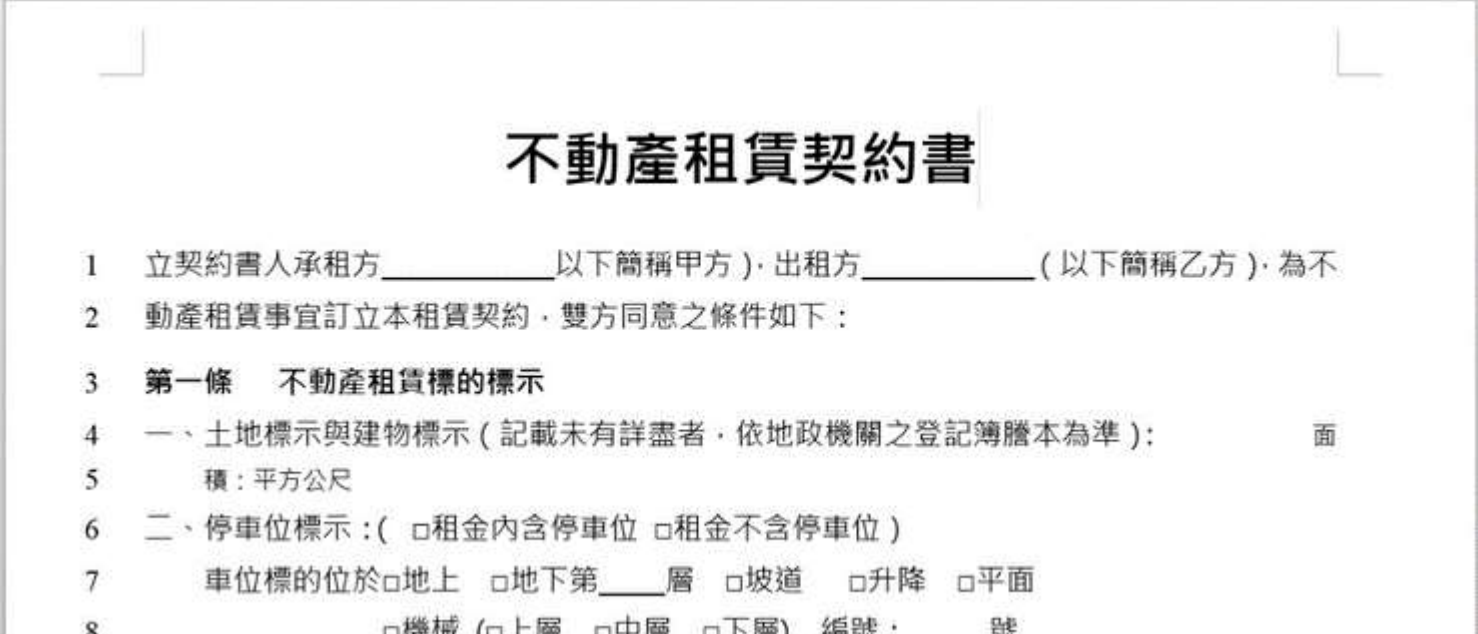


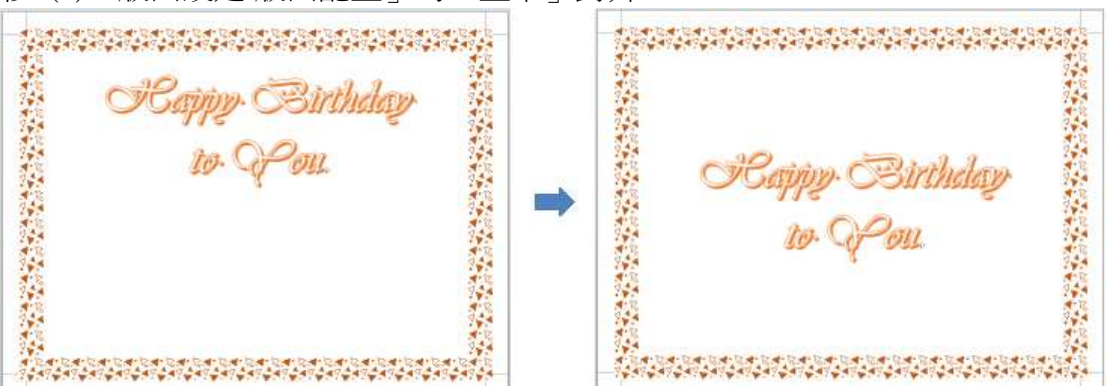

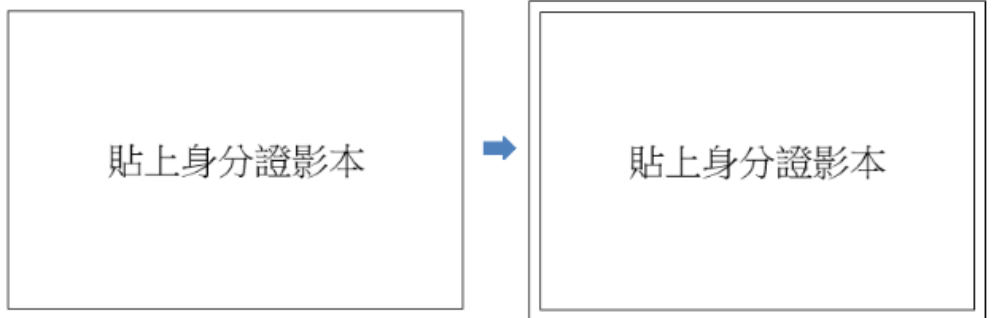



| 題號 | 答案 | 題目 |
|-----|----|---|
| 26. | 4 | 在 Word 2016 中，在編輯文件時，欲快速得知目前輸入點的位置是在哪一節的哪一頁的哪一行，可透過下列哪一項作法？ (1)「常用/編輯/尋找」的「進階尋找」 (2)「校閱」的「字數統計」 (3)直接顯示在狀態列的左邊 (4)在狀態列上按滑鼠右鍵查看 |
| 27. | 4 | 如附圖所示，在 Word 2016 中開啟檔案時，若經常會出現「受保護的檢視」的訊息，可透過下列哪一項進入設定停用此項保護的檢視？ (1)「檔案/選項」的「進階」 (2)「檔案/選項」的「顯示」 (3)「檔案/選項」的「增益集」 (4)「檔案/選項」的「信任中心/信任中心設定」  |
| 28. | 4 | 如附圖所示，在 Word 2016 中，欲將彩色 Office 佈景主題色彩改為「白色」或「深灰色」，可透過下列哪一項功能？ (1)「設計/佈景主題」 (2)「設計/頁面色彩」 (3)「設計/色彩」 (4)「檔案/選項」  |
| 29. | 4 | 在線上儲存 Word 2016 文件後，可透過下列哪一項來連結或電子郵件邀請小組成員開啟文件，進行即時協同製作的共同作業？ (1)「插入」的「超連結」 (2)「插入」的「線上視訊」 (3)「校閱」的「追蹤修訂」 (4)「檔案」的「共用」 |
| 30. | 1 | 如附圖所示，在 Word 2016 中，關於「世界」的文字變化，最便捷的作法是利用下列哪一項功能？ (1)圍繞字元 (2)插入圖案 (3)插入符號 (4)插入 SmartArt 圖形  |
| 31. | 1 | 在 Word 2016 中，輸入英文句子時，第一個英文字母若無法自動轉為大寫，可由「檔案/選項/校訂/自動校正選項」的下列哪一項進入設定？ (1)自動校正 (2)自動格式設定 (3)輸入時自動套用格式 (4)拼字及文法檢查 |
| 32. | 1 | 如附圖所示，在 Word 2016 中，欲使填滿色彩的文字變成鏤空，可透過下列哪一項功能？ (1)文字效果 (2)移除背景 (3)設定透明色彩 (4)裁剪  |
| 33. | 1 | 在 Word 2016 中，欲選取一段文字句子，可先按住下列哪一項按鍵，再於句子的任何一個文字上按下滑鼠左鍵？ (1)[Ctrl]鍵 (2)[Alt]鍵 (3)[Shift]鍵 (4)[Ctrl]+[Shift]鍵 |
| 34. | 2 | 在 Word 2016 中，欲在「參考資料」窗格內取得特定的字或詞的翻譯，可先按住[Alt]鍵後，再執行下列哪一項設定？ (1)選取特定的字或詞 (2)在特定的字或詞之前按下滑鼠左鍵 (3)在特定的字或詞之後按下滑鼠左鍵 (4)在特定的字或詞之間按下滑鼠左鍵 |
| 35. | 2 | 如附圖所示，在 Word 2016 中，欲一次選取矩形區域的文字，須先按住下列哪一項按鍵再拖曳滑鼠？ (1)[Ctrl]鍵 (2)[Alt]鍵 (3)[Shift]鍵 (4)[Enter]鍵  |
| 36. | 3 | 如附圖所示，在 Word 2016 中，欲隱藏文字的黃色醒目提示色彩，可透過下列哪一項設定？ (1)關閉  按鈕 (2)將文字醒目提示色彩改為無色彩 (3)取消勾選「檔案/選項/顯示」中的「顯示螢光筆標記」 (4)取消勾選「檔案/選項/顯示」中的「顯示所有的格式化標記」 <p>1933 年希特勒上臺，為了達到他的個人目的，希特勒把魏瑪共和國時期已經規劃好的高速公路建設和國民轎車的生產提上了日程表，把發展汽車工業及與此相關的行業擺到十分顯著的位置。這對於當時的德國來說，在剛剛經歷了二十年代末、三十年代初世界性的經濟大蕭條後，汽車的誘人前景和迅速發展起來的高速公路網，使此後的三十年代再次成為德國汽車生產的「黃金時代」。</p> |

| 題號 | 答案 | 題目 |
|-----|----|--|
| 37. | 3 | <p>如附圖所示，在 Word 2016 中，欲使大小相同的數字按比例或等寬排列，可透過下列哪一項功能？ (1)「字型」的「間距」 (2)「字型」的「縮放比例」 (3)「文字效果」的「數字樣式」 (4)「亞洲方式配置」的「最適文字大小」</p> <p>數字按比例排列： 12345678910</p> <p>數字按等寬排列： 12345678910</p> |
| 38. | 3 | <p>如附圖所示，在 Word 2016 中，相同的文字套用 Gabriola 字型，欲要變成以下的文字外觀，可透過下列哪一項設定？ (1)套用「文字藝術師」的「樣式」 (2)套用「文字效果」的「連字」 (3)套用「文字效果」的「文體集」 (4)套用「文字效果」的「大綱」</p> <p><i>The quick red fox The quick red fox</i></p> <p><i>quick red fox The quick red fox</i></p> <p><i>quick red fox The quick red fox</i></p> |
| 39. | 3 | <p>在 Word 2016 中，將選取的文字套用某一樣式，卻發現其字型無法與套用樣式的格式一致時，此時該如何處理選取的文字？ (1)按[F9]鍵，更新樣式設定 (2)再套用一次該樣式 (3)先執行「字型」的「清除所有格式設定」，再套用該樣式 (4)先套用「內文」樣式，再套用該樣式</p> |
| 40. | 3 | <p>如附圖所示，在 Word 2016 中，欲用「取代」功能，將全文中的粗體字串前後分別插入「及」符號，可在「取代為」輸入下列哪一項內容？ (1)* (2)^ (3)^& (4)^?</p> <p>工作職銜和工作職務，例如電腦程式設計師、電腦程式設計、零售商店經理、多家零售商店管理階層；學位或證照（例如行銷學士學位、行銷學士、CPA、LPN）。</p>  <p style="text-align: center;">↓</p> <p>工作職銜和工作職務，例如「電腦程式設計師」、「電腦程式設計」、「零售商店經理」、「多家零售商店管理階層」；學位或證照（例如「行銷學士學位」、「行銷學士」、「CPA」、「LPN」）。</p> |
| 41. | 3 | <p>如附圖所示，在 Word 2016 中，欲運用「取代」功能選取文件中所有全形空格或半形空格時，可在「尋找目標」中輸入下列哪一項內容？ (1)全形空格及半形空格 (2)由「指定方式」選取「不分行空格」 (3)由「指定方式」選取「空白區域」 (4)由「指定方式」選取「省略符號」</p>  |
| 42. | 4 | <p>如附圖所示，在 Word 2016 中，欲使文字外框變成漸層的線條，可透過下列哪一項功能？ (1)「文字藝術師」的「文字效果」 (2)「文字藝術師」的「文字外框」 (3)「字型」的「文字效果與印刷樣式」 (4)「字型」的「文字效果」</p> <p>美 → 美</p> |
| 43. | 4 | <p>在 Word 2016 中文文件中使用了相當多的半形標點符號，如：「,、;、!、:、?、()」，可使用下列哪一項功能快速將這些半形標點符號改為全形「，、；、！、：、？、（）」？ (1)執行「常用/編輯」的「尋找」 (2)執行「常用/編輯/尋找」的「進階尋找」 (3)執行「常用/編輯」的「取代」 (4)全選後，執行「字型」的「大小寫轉換」</p> |
| 44. | 4 | <p>在 Word 2016 中，選取段落中的文字時，欲避免自動選取對應的段落標記，下列哪一項作法正確？ (1)選取時，游標由後往前拖曳文字 (2)關閉 ，隱藏段落標記的顯示 (3)勾選「檔案/選項/進階」的「使用智慧段落選取」 (4)取消勾選「檔案/選項/進階」的「使用智慧段落選取」</p> |


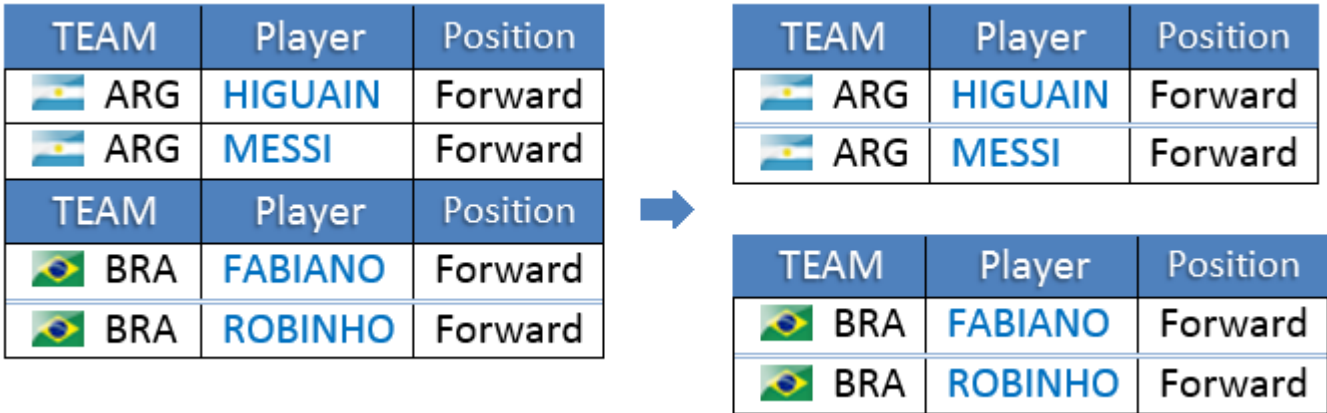
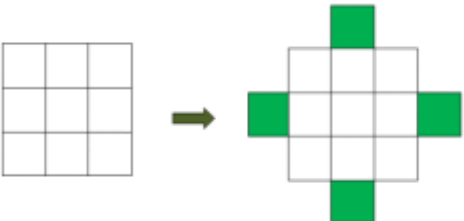
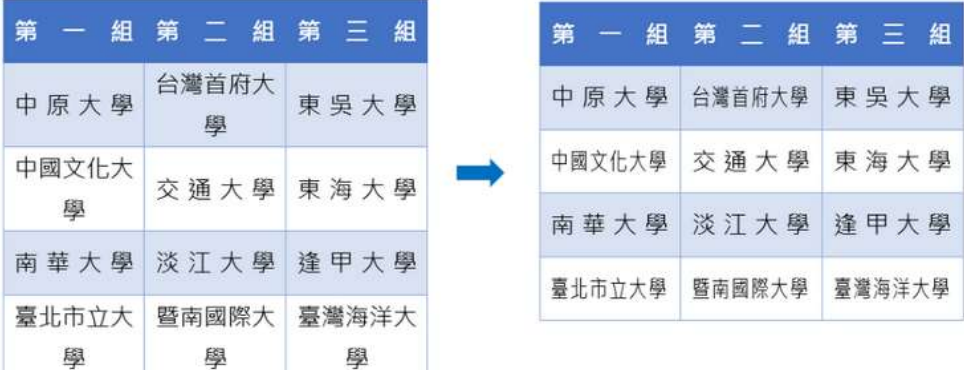
| 題號 | 答案 | 題目 |
|-----|----|--|
| 45. | 4 | 在 Word 2016 中，下列哪一項按鍵，可快速移除從網路複製的文件中所有的超連結文字？ (1)[F9]鍵 (2)[Ctrl]+[F9]鍵 (3)[Shift]+[F9]鍵 (4)[Ctrl]+[Shift]+[F9]鍵 |
| 46. | 1 | 在 Word 2016「導覽窗格」中的標題文字是依據下列哪一項設定來顯示其階層？ (1)「段落」的「大綱階層」 (2)「多層次清單」的「階層」 (3)套用的「樣式」 (4)「編號」的「編號樣式」 |
| 47. | 1 | 在 Word 2016 中，當單字太長，超過一行文字的結尾，Word 會將單字移到下一行的開頭，造成文字中的空隙太大，欲保持文字間寬度的均勻，可透過下列哪一項功能設定？ (1)斷字 (2)最適文字大小 (3)分散對齊 (4)字元間距 |
| 48. | 1 | 在 Word 2016 中，在多節文件的某頁面上選取部分橫書文字，按下「文字方向」下拉選單中的「垂直」功能後，下列敘述哪一項正確？ (1)該節的所有頁面皆變成直書 (2)只有選取的部分會變成直書 (3)選取的文字會以直書單獨放在一頁 (4)選取的文字會自動以分節符號與其他文字隔開 |
| 49. | 1 | 在 Word 2016 中，欲避免段落的最後一行文字單獨列印在整頁的頂端，可透過「段落」的下列哪一項設定？ (1)段落遺留字串控制 (2)與下段同頁 (3)段落中不分頁 (4)段落前分頁 |
| 50. | 1 | 在 Word 2016 中，在預設情況下，Word 的「行號」功能會為文件中每一行編號，但不會對下列哪一個項目顯示行號？ (1)與文字排列的表格 (2)與文字排列的圖片 (3)與文字排列的圖表 (4)與文字排列的文字方塊 |
| 51. | 2 | <p>如附圖所示，在 Word 2016 中，欲使段落中的文字與圖片置中對齊於同一水平線上，可透過下列哪一項功能？ (1)「段落」的「縮排與行距」 (2)「段落」的「中文印刷樣式」 (3)「字型」的「進階」 (4)「版面設定」的「版面配置」</p>  |
| 52. | 2 | <p>請參閱附圖進行作答。 (1)0 公分 (2)2 公分 (3)2 字元 (4)4 字元</p> <p>如附圖所示，在 Word 2016 定義多層次清單時，若設定第 3 階的「(1)」數字編號設定「靠右對齊」、對齊「2 公分」，則「文字縮排於」需輸入下列哪一項的值，才能使其結果如附圖中選取段落的對齊效果？</p>  <p>3. 案例 3：歐盟汽車警報系統</p> <ol style="list-style-type: none"> (1) 一旦發生交通事故時，當車中的緊急呼叫動。 (2) 或是安全氣囊、車輛撞擊感應器等裝置或車輛受到撞擊。 (3) 系統即會透過 GPS 導航模組及 GSM/GPRS。 (4) 將事故發生時間、車輛所在位置、車輛資訊、傳輸至緊急呼叫中心。 (5) 通知醫療急救人員與警察等相關單位，立即救援與事故處理。 <p>4. 案例 4：智慧水利系統 - 感知太湖</p> <ol style="list-style-type: none"> (1) 此系統是透過佈建於湖中的感測器，蒐集實、水質等水文資訊。 (2) 幫助研究人員瞭解太湖的水文及水汙染等藍藻打擾的地點與情形。 (3) 透過此系統，亦可在需要時，即時調度管協助。 |
| 53. | 2 | 在 Word 2016 中，在長達數頁的文件中，欲控制標題段落必須與其後段的内容同一頁，可透過「段落」的下列哪一項設定？ (1)段落遺留字串控制 (2)與下段同頁 (3)段落中不分頁 (4)段落前分頁 |
| 54. | 2 | 在 Word 2016 中，在預設定位停駐點之後，按下列哪一項按鍵後，定位點便會按照指定的距離停駐在頁面上？ (1)[F3]鍵 (2)[Tab]鍵 (3)[Alt]鍵 (4)[Insert]鍵 |
| 55. | 2 | <p>如附圖所示，在 Word 2016 中，欲將粗體文字編輯成上下兩列，可透過下列哪一項功能？ (1)組排文字 (2)並列文字 (3)表格 (4)文字方塊</p> <p>立契約書人承租方_____ (以下簡稱甲方) 出租方_____ (以下簡稱乙方)，為不動產租賃事宜訂立本租賃契約，雙方同意之條件如下：</p> <p style="text-align: center;">↓</p> <p>立契約書人承租方_____ (以下簡稱甲方) 出租方_____ (以下簡稱乙方)，為不動產租賃事宜訂立本租賃契約，雙方同意之條件如下：</p> |
| 56. | 2 | 在 Word 2016 中，下列哪一項格式無法透過「取代」功能來指定尋找的目標？ (1)醒目提示 (2)網底字元 (3)樣式 (4)圖文框 |

109 學年度臺中市國民中學技藝競賽【商業與管理職群】學科題庫

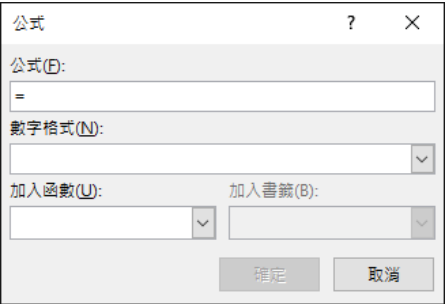
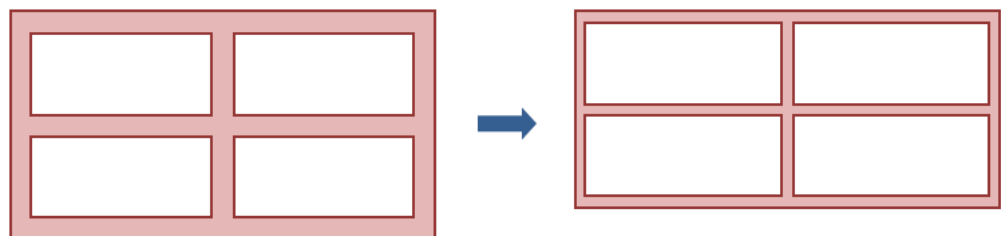
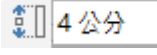

| 題號 | 答案 | 題目 |
|-----|----|--|
| 57. | 3 | <p>如附圖所示，在 Word 2016 中，透過「取代」功能，將文中所有的 ` ` 符號改為[]符號（如：`TQC` 改為[TQC]），若在「尋找目標」輸入「(`*)(`）」，則在「取代為」應輸入下列哪一項內容？ (1)(D)*(I) (2)(D)*(I) (3)[\2] (4)[/2]</p>  |
| 58. | 3 | <p>如附圖所示，在 Word 2016 中，欲使文件中的□符號對齊，最便捷的作法為下列哪一項？ (1)插入半形空格 (2)插入全形空格 (3)插入定位點 (4)插入分欄</p> <p>□冷氣機__台 □ 沙 發__組 □ 電視櫃__組 □床 組__組 □ 洗衣機__台 □ 鞋 櫃__組 □ 梳妝台__組 □ 烘碗機__台 □ 電 視__台 □ 衣 櫃__組 □ 冰 箱__台 □ 熱水器__台</p> <p style="text-align: center;">↓</p> <p>□冷氣機__台 □ 沙 發__組 □ 電視櫃__組 □床 組__組 □ 洗衣機__台 □ 鞋 櫃__組 □ 梳妝台__組 □ 烘碗機__台 □ 電 視__台 □ 衣 櫃__組 □ 冰 箱__台 □ 熱水器__台</p> |
| 59. | 3 | <p>如附圖所示，在 Word 2016 中，在保持文字大小 14 pt、與前後段距離 0 pt、單行間距的設定下，欲將左圖中選取的段落編輯成右圖的段落間距，下列哪一項作法正確？ (1)由「段落」減少「最小行高」的距離設定值 (2)由「段落」將「與前、後段距離」設定為「自動」 (3)由「段落」取消勾選「文件格線被設定時，貼齊格線」 (4)由「版面設定」點選「沒有格線」</p>  |
| 60. | 3 | <p>在 Word 2016 中，在同一頁的橫書文件中，欲將某幾段文字改為直書的作法，下列哪一項正確？ (1)選取要直書的文字，執行「直書/橫書」的「垂直」 (2)選取要直書的文字，執行「亞洲方式配置」的「橫向文字」 (3)將要直書的文字插入「繪製垂直文字方塊」內 (4)在橫書與直書文字間插入「分節符號」，再執行「直書/橫書」的「垂直」</p> |
| 61. | 3 | <p>如附圖所示，在 Word 2016 中，定義多層次清單時，若第 1 階的數字格式為「一」，第 2 階的數字格式預設為「一.1」，要如何改成「1.1」？ (1)刪除預設的「一」，改輸入「1」 (2)取消「包含的階層編號」設定 (3)勾選「法律樣式編號」 (4)無法設定</p>  |

| 題號 | 答案 | 題目 |
|-----|----|---|
| 62. | 3 | 在 Word 2016 中，若一行文字內含有大型的文字字元、圖形或公式，則該段落的行距應使用下列哪一項設定較為適當？ (1)單行間距 (2)固定行高 (3)最小行高 (4)輸入最大物件的高度值 |
| 63. | 3 | 如附圖所示，在 Word 2016 中，運用下列哪一項功能，可以自動計算文件中的行數，並在各行文字旁顯示適當的行號，且此功能適用於指令碼或法律合約中？ (1)編號 (2)數字 (3)行號 (4)排序  |
| 64. | 4 | 在 Word 2016 中，透過「取代」功能，將文中所有的「TQC」文字取代為剛複製的 TQC.tif 圖片「TQC」，在「尋找目標」輸入「TQC」，而「取代為」應輸入下列哪一項內容？ (1)TQC.tif (2)[Ctrl]+[V]鍵 (3)選取「指定方式」的「圖形」 (4)選取「指定方式」的「[剪貼簿]內容」  |
| 65. | 4 | 如附圖所示，在 Word 2016 中，欲產生文件中的「●●●●●●」，最便捷的作法為下列哪一項？ (1)連續輸入「.」字元 (2)插入「•」符號，連續複製 (3)插入線條圖案，設定虛線類型 (4)插入定位點，設定前置字元  |
| 66. | 4 | 如附圖所示，在 Word 2016 中，欲使卡片中的文字自動對齊頁面的垂直置中位置，可透過下列哪一項功能？ (1)「段落/縮排與行距」的「置中對齊」 (2)「段落/中文印刷樣式」的「置中」對齊 (3)「字型/進階」的「位置」調整位移 (4)「版面設定/版面配置」的「置中」對齊  |
| 67. | 1 | 在 Word 2016 中，防止表格列被分隔在不同頁面上，可由「表格內容」對話方塊設定下列哪一項功能？ (1)取消勾選「允許列超越頁分隔線」 (2)將表格改為「文繞圖」對齊方式 (3)勾選「自動調整成內容大小」 (4)取消勾選「自動換列」 |
| 68. | 1 | 如附圖所示，在 Word 2016 中，欲增加表格與儲存格之間間距，下列哪一項作法正確？ (1)由「表格內容」的「表格」索引標籤的「選項」設定 (2)由「框線及網底」的「框線」索引標籤，設定「寬」的值 (3)由「框線及網底」的「框線」索引標籤，選取  樣式 (4)由「表格內容」的「儲存格」索引標籤的「選項」設定  |
| 69. | 1 | 在 Word 2016 中，欲刪除表格的內容，可在選取整個表格後，執行下列哪一項作法？ (1)按下[Delete]鍵 (2)按下[Backspace]鍵 (3)按滑鼠右鍵，執行「刪除表格」 (4)按  按鈕 |
| 70. | 2 | 在 Word 2016 中，欲平均分配所選取之欄寬，可透過下列哪一項功能？ (1)  按鈕 (2)  按鈕 (3)固定欄寬 (4)自動調整內容 |

109 學年度臺中市國民中學技藝競賽【商業與管理職群】學科題庫

| 題號 | 答案 | 題目 |
|-----|----|--|
| 71. | 2 | <p>如附圖所示，在 Word 2016 中，欲讓插入表格內的圖片與框線無距離的作法，下列哪一項正確？ (1)指定表格的慣用寬度與列的高度 (2)將儲存格的邊界皆設為 0 (3)取消勾選「允許儲存格間有間距」 (4)取消勾選「自動調整成內容大小」</p>  |
| 72. | 2 | <p>如附圖所示，在 Word 2016 中，欲將一個表格分為二個表格，可透過下列哪一項作法？ (1)分割儲存格 (2)分割表格 (3)清除 (4)手繪表格</p>  |
| 73. | 2 | <p>在 Word 2016 中，關於「重複標題列」功能的敘述，下列哪一項正確？ (1)只能作用於表格的第一列 (2)無法作用在巢狀表格 (3)可作用在文繞圖的表格 (4)無法作用於強迫分頁的表格</p> |
| 74. | 2 | <p>在 Word 2016 中，下列哪一項按鍵，可以在表格儲存格內插入定位點？ (1)[Tab]鍵 (2)[Ctrl]+[Tab]鍵 (3)[Shift]+[Tab]鍵 (4)[Alt]+[Tab]鍵</p> |
| 75. | 2 | <p>在 Word 2016 中，欲依據儲存格內文字的多寡自動調整欄寬，可透過下列哪一項作法？ (1)「自動調整」的「自動調整視窗」 (2)「自動調整」的「自動調整內容」 (3)「自動調整」的「固定欄寬」 (4)取消勾選「表格內容」中「欄」的「慣用寬度」</p> |
| 76. | 2 | <p>在 Word 2016 中，要鎖定插入的公式以防止更新其結果，可先選取公式，然後按下列哪一項按鍵？ (1)[Ctrl]+[F9]鍵 (2)[Ctrl]+[F11]鍵 (3)[F9]鍵 (4)[F11]鍵</p> |
| 77. | 3 | <p>在 Word 2016 中，文字的開頭項目是 1：字母、2：數字或日期、3：標點符號或符號，當執行「排序」時，若指定依「筆劃」類型排序，則順序規則為下列哪一項？ (1)1、2、3 (2)2、1、3 (3)3、2、1 (4)2、3、1</p> |
| 78. | 3 | <p>在 Word 2016 中，在表格中的各欄位，欲依照英文字母來排序清單時，排序「類型」應指定為下列哪一項？ (1)字母 (2)文字 (3)筆劃 (4)數字</p> |
| 79. | 3 | <p>在 Word 2016 中，下列哪一項情況下的表格無法進行合併？ (1)表格寬度不同 (2)表格對齊方式不同 (3)文繞圖的表格 (4)表格的欄寬或列高不同</p> |
| 80. | 4 | <p>如附圖所示，在 Word 2016 中，欲將左圖編輯成右圖的四個綠色區域，可透過下列哪一項作法？ (1)插入欄 (2)插入列 (3)插入儲存格 (4)手繪表格</p>  |
| 81. | 4 | <p>如附圖所示，在 Word 2016 中，對於固定寬度儲存格的內容，可透過下列哪一項功能，快速以最適文字大小排列在一行？ (1)「儲存格大小」的「自動調整內容」 (2)「儲存格大小」的「自動調整視窗」 (3)「亞洲方式配置」的「最適文字大小」 (4)「表格內容」的「儲存格」</p>  |

109 學年度臺中市國民中學技藝競賽【商業與管理職群】學科題庫

| 題號 | 答案 | 題目 |
|-----|----|--|
| 82. | 4 | <p>如附圖所示，在 Word 2016 中，在固定欄寬的儲存格中，欲將左圖表格內的文字排列編輯成右圖表格，可透過下列哪一項作法？ (1)執行「段落」的「分散對齊」 (2)執行「段落」的「最適文字大小」 (3)取消勾選「表格選項」的「允許儲存格間有間距」 (4)減少「表格選項」的「左」、「右」儲存格邊界距離</p>  |
| 83. | 4 | <p>在 Word 2016 中，當輸入的文字超過表格的欄寬時，且不希望 Word 自動依據文字來調整欄寬，可透過「表格內容」中的哪一項索引標籤進入設定「自動換列」？ (1)表格 (2)列 (3)欄 (4)儲存格</p> |
| 84. | 4 | <p>如附圖所示，在 Word 2016 對話方塊中，若要相加儲存格左方及上方位置的數字，可在「公式」方塊中輸入下列哪一項內容？ (1)=SUM(LEFT) (2)=SUM(ABOVE) (3)=SUM(ABOVE,LEFT) (4)=SUM(LEFT,ABOVE)</p>  |
| 85. | 4 | <p>在 Word 2016 中，含有頁面框線的文件，在列印時發現頁面的下框線無法完整印出，可透過下列哪一項調整改善？ (1)調整印表機的設定 (2)增加版面配置的下邊界距離 (3)增加框線從文字至下邊界的距離 (4)增加框線從頁緣至下邊界的距離</p> |
| 86. | 4 | <p>如附圖所示，在 Word 2016 中，欲將左圖的表格編輯成右圖的表格，可透過下列哪一項作法？ (1)調整表格寬度 (2)調整框線寬度 (3)調整儲存格邊界 (4)調整儲存格間距</p>  |
| 87. | 4 | <p>如附圖所示，在 Word 2016 中，當表格框線設定為「無」時，若不想在螢幕上看見表格的格線，可透過下列哪一項作法？ (1)將表格的框線設定為白色 (2)取消勾選「檢視」的「格線」 (3)取消勾選「版面設定」的「在螢幕上顯示格線」 (4)關閉「檢視格線」</p>  |
| 88. | 4 | <p>如附圖所示，在 Word 2016 中，欲讓表格內儲存格的高度不受插入圖片的影響，下列哪一項作法正確？ (1)由「儲存格大小」的「自動調整」選擇「固定欄寬」 (2)由「儲存格大小」的  輸入指定的列高值 (3)由「表格內容」的「列」指定「列高為」為「最小高度」 (4)由「表格內容」的「列」指定「列高為」為「設定」</p>  |
| 89. | 1 | <p>如附圖所示，在 Word 2016 中，欲在移動物件或調整大小時，同時看見文件內容的排列變更，可透過下列哪一項功能勾選「拖曳時更新文件內容」？ (1)「檔案/選項」的「一般」 (2)「檔案/選項」的「顯示」 (3)「檔案/選項」的「校訂」 (4)「檔案/選項」的「印刷樣式」</p>  |

109 學年度臺中市國民中學技藝競賽【商業與管理職群】學科題庫

| 題號 | 答案 | 題目 |
|------|----|--|
| 90. | 1 | 在 Word 2016 中，關於「裁剪」功能的敘述，下列哪一項正確？ (1)裁剪掉的部分仍是圖片檔的一部分 (2)裁剪後的圖片檔案會變小 (3)裁剪後的圖片無法復原 (4)裁剪的區域可以是不規則邊緣 |
| 91. | 1 | 如附圖所示，在 Word 2016 中，欲快速的將左邊圖片編輯成右邊圖片，可透過下列哪一項功能？ (1)裁剪成圖形 (2)變更圖案 (3)編輯端點 (4)變更圖片  |
| 92. | 1 | 如附圖所示，在 Word 2016 中，欲快速的將左圖編輯成右圖，可透過下列哪一項「圖片效果」功能？ (1)預設格式 (2)陰影 (3)浮凸 (4)立體旋轉  |
| 93. | 1 | 在 Word 2016 中，由下列哪一項所填滿的頁面底圖，不受螢幕顯示的縮放比例而改變？ (1)材質 (2)圖樣 (3)圖片 (4)漸層 |
| 94. | 2 | 在 Word 2016 中，要將選取的物件（包括圖案、圖片、文字方塊）組成一群組，但「群組」按鈕仍呈現灰色，可能為下列哪一項原因？ (1)各物件屬性不同，故無法同時選取 (2)某物件「文繞圖」可能設定為「與文字排列」 (3)各物件「文繞圖」的設定皆不同 (4)各物件不在同一圖層上 |
| 95. | 2 | 在 Word 2016 中，群組的物件，在下列哪一項情況下無法取消群組的設定？ (1)不同屬性的物件 (2)與文字排列 (3)不同層次 (4)在繪圖畫布內 |
| 96. | 2 | 在 Word 2016 中，欲從重疊的浮動圖片中選取某張圖片，最便捷的作法是透過下列哪一項功能？ (1)選取物件 (2)選取窗格 (3)剪貼簿 (4)進階尋找 |
| 97. | 2 | 在 Word 2016 中，若繪製了多個文字方塊，欲將它們連結在一起，讓文字可從一個方塊接續到另一個方塊，可透過下列哪一項功能？ (1)插入標號 (2)建立連結 (3)書籤 (4)交互參照 |
| 98. | 2 | 在 Word 2016 中，欲將 PowerPoint 投影片插入文件中播放，可透過下列哪一項功能？ (1)插入「線上視訊」 (2)插入「物件」 (3)複製、貼上 (4)插入「圖片內容控制項」 |
| 99. | 2 | 在 Word 2016 中，在預設情況之下，執行下列哪一項功能的效果無法由印表機輸出？ (1)浮水印 (2)頁面色彩 (3)頁面框線 (4)佈景主題 |
| 100. | 3 | 在 Word 2016 中，欲刪除圖片的裁剪區域，可透過下列哪一項功能？ (1)裁剪 (2)移除背景 (3)壓縮圖片 (4)變更圖片 |
| 101. | 3 | 在 Word 2016 中，欲連結外部的圖表檔案至文件中，須從「插入」的下列哪一項功能執行？ (1)「表格」的「Excel 試算表」 (2)「圖例」的「圖表」 (3)「文字」的「物件」 (4)「文字」的「文字檔」 |
| 102. | 3 | 如附圖所示，在 Word 2016 中，欲將左邊圖案內的文字編輯成右邊圖案，可透過下列哪一項功能？ (1)執行「最適文字大小」 (2)執行「分散對齊」 (3)縮小「文字方塊」的邊界 (4)縮小「文字間距」  |
| 103. | 3 | 在 Word 2016 中，透過「檔案/選項」的下列哪一項功能，可讓文件中的圖形以空白方塊代替顯示，以增強捲動效能？ (1)一般 (2)顯示 (3)進階 (4)校訂 |
| 104. | 3 | 如附圖所示，「陽明山國家公園」是張插入的圖片非文字，在 Word 2016 中，可透過「圖片工具/格式」的「調整」中的下列哪一項功能將圖片中的黑色改為白色效果？ (1)美術效果 (2)色彩 (3)校正 (4)移除背景  |
| 105. | 3 | 在 Word 2016 中，欲快速選取 SmartArt 圖形中的所有文字，可以透過下列哪一項功能？ (1)轉換成文字 (2)取消群組 (3)文字窗格 (4)重設圖形 |
| 106. | 3 | 在 Word 2016 調整圖片大小時，若要維持比例並將中心保持在相同位置，需在拖曳縮放控點的同時按住下列哪一項按鍵？ (1)[Shift]鍵 (2)[Ctrl]鍵 (3)[Ctrl]+[Shift]鍵 (4)[Ctrl]+[Alt]鍵 |


109 學年度臺中市國民中學技藝競賽【商業與管理職群】學科題庫

| 題號 | 答案 | 題目 |
|------|------|--|
| 107. | 4 | <p>如附圖所示，在 Word 2016 中，欲將左圖編輯成右圖，可透過 SmartArt 工具的下列哪一項功能？ (1)改變版面配置 (2)升階 (3)降階 (4)從右至左</p>  |
| 108. | 4 | <p>在 Word 2016 中，關於「螢幕擷取畫面」功能可以擷取的畫面，下列哪一項正確？ (1)Word 2016 的視窗畫面 (2)所有開啟的視窗畫面 (3)處於最小化的視窗 (4)除目前的 Word 2016 外，在螢幕上可看得到的任一開啟視窗畫面</p> |
| 109. | 4 | <p>如附圖所示，在 Word 2016 中，欲在圖案上輸入文字，並確保圖案與文字如影隨行，可透過下列哪一項方式輸入文字？ (1)插入「文字藝術師」 (2)插入「文字方塊」 (3)插入「新增註解」 (4)插入「新增文字」</p>  |
| 110. | 4 | <p>在 Word 2016 中，好的圖片可讓文件截然不同，但有時候希望圖片顏色稍淺一點，才不會搶了文字的光彩，要如何調整圖片的透明度來達到這個目的？ (1)由「圖片工具/格式/調整」的「色彩」執行「重新著色」 (2)由「圖片工具/格式/調整」的「色彩」執行「設定透明色彩」 (3)由「圖片工具/格式/調整」的「校正」變更「亮度/對比」 (4)先將相片填滿無邊框的矩形圖案裡，再由「設定圖案格式」調整「透明度」</p> |
| 111. | 4 | <p>如附圖所示，在 Word 2016 中，欲在文件中設計這種按鈕，最便捷的作法是透過下列哪一項功能？ (1)插入「矩形」圖案，套用「圖案效果」 (2)插入「按鈕形」圖案，套用「圖案效果」 (3)插入「控制項」，套用「圖案效果」 (4)插入「SmartArt 圖形」，套用「SmartArt」樣式</p>  |
| 112. | 1 | <p>如附圖所示，在 Word 2016 中，在「版面設定/版面配置」中的「頁首與頁緣距離」是指附圖中的哪一段距離？ (1)1 (2)2 (3)3 (4)4</p>  |
| 113. | 1 | <p>在 Word 2016 中，目錄和圖表目錄是使用下列哪一項功能變數來收集標記的文字？ (1)TOC (2)TOA (3)TOF (4)TC</p> |
| 114. | 1 | <p>在 Word 2016 中，A 文件檔是直向橫書，B 文件檔是橫向直書，若將 B 文件檔插入 A 文件中，則會呈現為下列哪一項結果？ (1)直向橫書 (2)橫向直書 (3)直向直書 (4)橫向橫書</p> |
| 115. | 1 | <p>在 Word 2016 中，書目是指在建立文件時所參閱或引述的來源清單，Word 會根據下列哪一項自動產生書目？ (1)插入引文 (2)插入索引 (3)引文標記 (4)插入註腳</p> |
| 116. | 12 | <p>在 Word 2016 中，若要一次查看所有的註腳或章節附註，需在下列哪些檢視模式之下執行「顯示註腳及章節附註」？ (1)大綱模式 (2)草稿 (3)整頁模式 (4)閱讀模式</p> |
| 117. | 12 | <p>在 Word 2016 中，關於功能變數 { TOC \o "1-3" \h \n } 建立目錄的敘述，下列哪些正確？ (1)TOC 是「建立目錄」功能變數 (2)\o "1-3" 參數是根據「大綱階層 1-3」的文字來建立目錄 (3)\h 參數是隱藏目錄頁碼的顯示 (4)\n 參數是插入目錄中的頁碼</p> |
| 118. | 12 | <p>在 Word 2016 中，長篇文件的頁首若要自動顯示該頁所屬的章標題文字，可透過下列哪些設定？ (1)插入「交互參照」的「標題」 (2)插入「功能變數」的「StyleRef」 (3)插入「功能變數」的「Title」 (4)插入「書目」</p> |
| 119. | 12 | <p>在 Word 2016 中，若希望可以看到文件中修改過的地方，並以註解來說明修改的原因，然後決定接受或拒絕這些變更，此時必須開啟下列哪些功能？ (1)追蹤修訂 (2)新增註解 (3)比較 (4)插入註腳</p> |
| 120. | 12 | <p>在 Word 2016 中，欲移除文件的追蹤修訂，可透過下列哪些設定？ (1)「接受」修訂 (2)「拒絕」修訂 (3)關閉「追蹤修訂」 (4)停止「鎖定追蹤」</p> |
| 121. | 1234 | <p>在 Word 2016 中，「追蹤修訂」可以追蹤文件中的變更，下列哪些正確？ (1)註解 (2)檢閱者 (3)筆跡 (4)搬移</p> |
| 122. | 1234 | <p>在 Word 2016 中，當您與其他人一起處理某文件或自行編輯文件時，可開啟「追蹤修訂」功能，即可查看到文件中下列哪些變更？ (1)新增 (2)刪除 (3)移動 (4)格式設定</p> |
| 123. | 124 | <p>在 Word 2016 中，從格式建立新樣式時，除了「段落」之外，還可以設定下列哪些樣式類型？ (1)字元 (2)表格 (3)圖片 (4)清單</p> |

109 學年度臺中市國民中學技藝競賽【商業與管理職群】學科題庫

| 題號 | 答案 | 題目 |
|------|-----|---|
| 124. | 124 | 在 Word 2016 中，於已建立目錄的文件上，新增了數頁文字後，可使用下列哪些方式更新目錄？ (1)選取目錄後，按下[F9]鍵 (2)選取目錄後，執行「目錄」的「更新目錄」 (3)選取目錄後，執行「目錄」的「新增文字」 (4)選取目錄後，按滑鼠右鍵，選取「更新功能變數」 |
| 125. | 13 | 在 Word 2016 中，主控文件和子文件各使用不同的範本，若將子文件作為展開的主控文件的一部分，進行檢視或列印，則下列敘述哪些正確？ (1)會以主控文件範本的樣式來顯示子文件 (2)會以子文件範本的樣式來顯示子文件 (3)會以主控文件範本的樣式來列印子文件 (4)會以子文件範本的樣式來列印主文件 |
| 126. | 13 | 在 Word 2016 中，在「大綱模式」中，不會顯示出文件中的下列哪些內容？ (1)段落格式設定 (2)文字格式設定 (3)插圖 (4)表格 |
| 127. | 134 | 在 Word 2016 中，下列哪些無法作為書籤的名稱？ (1)圖片 1 (2)圖片_1 (3)Fig 1 (4)Fig-1 |
| 128. | 14 | 在 Word 2016 中，欲讓不同章節有各自的頁首及頁尾內容，可透過下列哪些功能？ (1)插入「分節符號」 (2)勾選「第一頁不同」 (3)勾選「奇偶頁不同」 (4)關閉  按鈕 |
| 129. | 14 | 在 Word 2016 中，關於「註腳或章節附註」設定的敘述，下列哪些正確？ (1)使用註腳提供詳細註解，使用章節附註提供來源引文 (2)註腳必放在每頁結尾處，章節附註必放在文件結尾處 (3)要刪除註腳或章節附註，必須刪除註解中的文字 (4)在文件中的每一節可使用不同的編號方式 |
| 130. | 2 | 在 Word 2016 中，論文或專題寫作時會含有大量的表格，可透過下列哪一項功能設定「標號自動設定」後，讓每插入一個表格後即自動在表格上方設定標號？ (1)交互參照 (2)插入標號 (3)功能變數 (4)Word 選項 |
| 131. | 2 | 在 Word 2016 中，以手動插入功能變數時，需先按下列哪一項按鍵，產生  功能變數字元後再輸入指令？ (1)[Alt]+[F9]鍵 (2)[Ctrl]+[F9]鍵 (3)[Shift]+[F9]鍵 (4)[{+}]鍵 |
| 132. | 2 | 在 Word 2016 中，欲在頁尾自動顯示本頁的頁碼，可插入下列哪一項功能變數？ (1)NumPages (2)Page (3)PageRef (4)RevNum |
| 133. | 23 | 在 Word 2016 中，若要刪除第一頁的頁首或頁尾，可透過下列哪些設定？ (1)「頁首及頁尾工具」的「導覽」取消勾選「連結至前一節」 (2)「頁首及頁尾工具」的「設計」勾選「首頁不同」 (3)「版面設定」的「版面配置」勾選「第一頁不同」 (4)在第一頁與第二頁之間插入一分節符號 |
| 134. | 23 | 在 Word 2016 中，必須在下列哪些情況下，才能變更或刪除註腳或章節附註上方的分隔線？ (1)進入頁首及頁尾層 (2)進入草稿 (3)進入大綱模式 (4)進入閱讀模式 |
| 135. | 24 | 在 Word 2016 中，欲以替代文字快速輸入常用的圖表、重複性文字、表格或表單等，可透過下列哪些功能設定？ (1)取代 (2)自動圖文集 (3)功能變數 (4)自動取代字串 |
| 136. | 3 | 在 Word 2016 中，使用下列哪一項功能，可將選取的段落文字新增為目錄中的內容？ (1)TOC 功能變數 (2)TC 功能變數 (3)「目錄」的「新增文字」 (4)「目錄」的「自訂目錄」 |
| 137. | 3 | 在 Word 2016 中，為防止文件樣式或套用樣式的文件格式被修改，可採取下列哪一項保護文件的措施？ (1)標示為完稿 (2)以密碼加密 (3)限制編輯 (4)限制存取 |
| 138. | 3 | 在 Word 2016 中，透過下列哪一項作法，可讓文件的頁碼從第二頁開始顯示？ (1)在第一頁最後一段之後插入一個「下一頁」分節符號 (2)直接刪除第一頁的頁碼 (3)勾選「版面設定/版面配置」的「第一頁不同」 (4)勾選「版面設定/版面配置」的「奇偶頁不同」 |
| 139. | 3 | 在 Word 2016 中，新增、刪除或移動註腳後，可使用下列哪一項方式對註腳及章節附註的參照標記重新編號？ (1)選取全文後，按[F9]鍵自動更新 (2)選取註解中的文字後，按[F9]鍵自動更新 (3)Word 會自動編號 (4)存檔後再重新開啟 |
| 140. | 3 | 在 Word 2016 中，切換到大綱模式後，發現所有文字都在同一層級，造成此結果的原因為下列哪一項？ (1)因為文件未使用階層設定 (2)因為大綱模式的「階層」與段落中的「階層」設定不同 (3)因為文件不是套用內建的標題樣式 (4)因為所有的文字段落未套用樣式 |
| 141. | 3 | 如附圖所示，這是一篇報告的封面，在 Word 2016 中，如何調整各段落的間距，且位於最後一行的日期也不會跳到下一頁？ (1)將「段落」的「文字對齊方式」設為「置中」 (2)將「版面配置」的頁面「垂直對齊方式」設為「置中」 (3)將「版面配置」的頁面「垂直對齊方式」設為「左右對齊」 (4)將「段落」的「與前段距離」和「與後段距離」設為「自動」  |
| 142. | 3 | 在 Word 2016 中，插入「封面頁」之後，在封面頁預設的[文件標題]或[作者]區會自動顯示文字，這些資料是取自下列哪一項設定的內容？ (1)自動圖文集 (2)書籤及交互參照 (3)文件摘要資訊 (4)文字方塊 |

109 學年度臺中市國民中學技藝競賽【商業與管理職群】學科題庫

| 題號 | 答案 | 題目 |
|---|----|--|
| 143. | 3 | 在 Word 2016 中，欲在長篇文件調整各章的排列順序，最便捷的作法為下列哪一項？ (1)「剪下」欲移動的整章內容，拖曳至指定的位置「貼上」 (2)選取欲移動的整章內容，拖曳至指定的位置 (3)開啟「導覽」窗格的「標題」，拖曳標題至指定的位置 (4)在「主控文件」下，「建立」子文件 |
| 144. | 3 | 在 Word 2016 中，以「內文」樣式完成的長篇文件，在不變更文件原有的排版下，欲快速製作目錄的作法為下列哪一項？ (1)無法製作目錄 (2)重複「複製」標題文字，至目錄頁「貼上」 (3)先設定各標題段落的「大綱階層」，再由「目錄」的「自訂目錄」 (4)先將標題段落套用「標題 1」、「標題 2」...樣式，再執行「目錄」的「自訂目錄」 |
| 145. | 3 | 在 Word 2016 中，透過下列哪一項功能，可讓文中出現的（參閱 圖 5）中的「圖 5」與指定圖片的標號永遠一致？ (1)超連結 (2)書籤 (3)交互參照 (4)插入標號 |
| 146. | 4 | 在 Word 2016 中，欲使長篇文件的奇偶數頁之頁首標示不同，關鍵在於下列哪一項設定？ (1)在頁首位置插入含「*（奇數頁）」及「*（偶數頁）」的內建樣式 (2)在「版面設定/邊界」選取「多頁」為「左右對稱」 (3)在「版面設定/版面配置」勾選「第一頁不同」 (4)在「版面設定/版面配置」勾選「奇偶頁不同」 |
| 147. | 4 | 在 Word 2016 中，欲變更所有超連結文字的顏色或底線色彩，可透過下列哪一項功能？ (1)尋找 (2)取代 (3)功能變數 (4)樣式 |
| 148. | 4 | 在 Word 2016 中，欲建立目錄，可透過下列哪一項功能變數？ (1)TA (2)TC (3)TOA (4)TOC |
| 149. | 4 | 如附圖所示，在 Word 2016 中，在下列哪一項情況中，會出現頁首虛線下的「同前」？ (1)Word 預設頁首內容會與前一頁內容相同 (2)有二頁以上的內容時 (3)有插入頁首內容時 (4)有分節符號時 |
|  | | |
| 150. | 4 | 在 Word 2016 中，當按[F9]鍵後仍然無法更新功能變數的結果，表示該功能變數可能已被鎖定，可按下列哪一項按鍵解除鎖定？ (1)[F11]鍵 (2)[Shift]+[F11]鍵 (3)[Ctrl]+[F11]鍵 (4)[Ctrl]+[Shift]+[F11]鍵 |