

臺中市立烏日國民中學 113 學年度第一學期 社會科 一年級第三次定期評量

※選擇題，每題 2 分，50 題共 100 分

1. 阿土哥是清康熙時期的泉州人，聽人家說臺灣未開發的土地廣大、工作機會多，決定到臺灣打拚。他來到臺灣，可能有怎樣的遭遇？ (A)政府主張土地國有，提供耕作工具與種子，使他的生活安定 (B)多數平原地區已被開發，他只能依循法規前往深山進行開墾(C)他申請攜家帶眷來臺，終於獲得政府許可，一家在臺灣團聚(D)開墾土地時，原有水源不敷使用，他只好集資自行修築水圳
2. 清帝國統治臺灣後，陸續開放臺灣港口與中國大陸進行航運、交易，鄰近這些港口的市街常因商品、人口、財富的聚集而快速發展起來。下列何者即是當時因靠近港口而發達的市街代表？ (A)打狗(B)雞籠(C)鹿港(D)諸羅
3. 清代臺灣吏治不良，駐防軍隊軍紀敗壞，加上民間秘密結盟風氣盛行，經常發生反抗官府的民變。下列何者最能解釋民變的意義？ (A)地方反抗中央 (B)佃農反抗地主(C)奴隸反抗雇主 (D)人民反抗官府

【題組】請閱讀右圖並回答問題：

4. 茶葉、蔗糖、樟腦的產地分別位於圖中哪個區域？ (A)甲、乙、丙(B)甲、丙、乙(C)乙、甲、丙(D)丙、乙、甲
5. 開港通商後，關於臺灣主要外銷商品的敘述，何者正確？ (A)這些輸出品主要經由郊商外銷到全球 (B)丙地商品的產地主要分布於丘陵地 (C)甲地所產商品是開港後最大宗輸出品 (D)乙地所生產的商品出口歷史最為悠久區



6. 開港通商對臺灣社會造成很大的影響，也對原住民族群產生巨大的衝擊，除了西方宗教的傳入、對原始山林的破壞等情況之外，清廷的「開山撫番」行動，導致原住民族嚴重的死傷。下列哪一事件即是清帝國時期的原漢衝突事件？ (A)牡丹社事件 (B)大港口事件 (C)郭懷一事件 (D)林爽文事件
7. 平埔族人原本沒有姓氏只有名字，乾隆 23 年(西元 1758 年)，清廷諭令：「平埔各族薙髮同時賜姓」。當時賜給平埔族群的姓氏包括：潘、陳、劉、戴、李、王等，實際上取用潘姓最多。請問：這項政策的用意為何？ (A)加速平埔族群漢化(B)防止改信基督教(C)「開山撫番」政策(D)傳播漢人信仰
8. 若要設計一個展示西方文化影響的展覽，應該如何選擇展品以反映其在臺灣的傳入過程？ (A)展示西方傳教士的文物與教育設施模型(B)只展出傳統臺灣工藝品(C)僅展示現代科技產品(D)展出本地民俗活動物品
9. 清帝國時期，臺灣哪些主要商品被出口到日本和東南亞等地？ (A)棉花、鐵器、陶瓷(B)魚類、木材、香料(C)茶葉、絲綢、藥材(D)米、糖、樟腦
10. 清帝國時期，西方文化主要透過哪種途徑傳入臺灣？ (A)商業貿易(B)政府交流(C)宗教傳教(D)戰爭征服
11. 志龍在整理家中舊物時，發現一份清代的族譜，上面記載了祖先從福建渡海來臺的經過，以及在臺灣開墾土地、建立家族的歷程。根據這份族譜，對清代臺灣社會可以做出哪些

合理的推論？(A)清政府嚴格限制漢人來臺，族譜記載的移民過程可能是非法的(B)清代臺灣的移民主要來自中國東南沿海，並在臺灣形成新的社會結構(C)臺灣原住民族群在清代已完全融入漢人社會，不再保留自己的文化(D)清代臺灣的社會結構與中國大陸完全相同，沒有任何本土特色

12. 崔傘在整理家中古物時，發現一份清代的契約文書，上面記載了祖先向原住民購買土地的過程。根據這份文書，對清代臺灣的族群關係可以做出哪些合理的推論？(A)漢人與原住民之間存在經濟往來，但也可能存在土地爭議(B)清政府嚴格禁止漢人與原住民之間的土地交易(C)原住民完全接受漢人的土地制度，自願放棄傳統領地(D)漢人與原住民之間的土地交易完全公平，沒有任何衝突

13. 仁變在參觀臺南的祀典武廟時，發現廟宇建築風格獨特，融合了閩南和泉州的特色。導覽員告訴他，這座廟宇始建於清康熙年間，是當時移民為了祈求平安而建造的。根據這些資訊，下列關於清代臺灣移民社會的推論，何者最為合理？ (A)清代臺灣的宗教建築完全模仿中國大陸的風格，沒有本土特色(B)清政府大力支持宗教建設，以穩定臺灣社會秩序(C)臺灣原住民族群積極參與漢人宗教活動，促進族群融合(D)清代臺灣的移民主要來自福建和廣東，並帶來原鄉的宗教信仰和建築風格

14. 清帝國時，政府最初只開放鹿耳門（臺南）與廈門對渡通航，但後來陸續開放鹿港、八里坌等港口。此舉將造成哪項商業現象？(A)促成鹿港與艋舺繁榮，帶動周邊市街興起(B)新增港口上繳稅收降低，導致財政赤字(C)地方港口間競爭加劇，衰退對渡貿易(D)導致府城成為唯一能對渡的商業中心

15. 「一府二鹿三艋舺」為人熟知的口訣，指清帝國時代臺南府城、彰化鹿港、臺北艋舺三地的繁盛。下列對此現象的主因描述，何者最恰當？(A)皆因西方洋行集中於基隆與淡水，帶動北部繁榮(B)三處各自設備完善軍港設施，成為重要軍事據點(C)這些城鎮緊鄰貿易港口，海運交通常年頻繁(D)鹿港與艋舺曾長期禁止外國商人進出，以維持獨佔

16. 清代臺灣文人連橫在《臺灣通史》中寫道：「自康熙二十三年開始，准許偕眷渡臺，於是移民日眾，而宗族亦隨之而立。」這段史料最能說明清代臺灣社會的哪項特點？(A)原住民族群逐漸被同化，失去原有文化特色(B)漢人移民社會逐漸形成，宗族組織開始建立(C)清政府加強對臺灣的軍事管控，限制人口流動(D)臺灣社會階級分明，宗族勢力凌駕於官方之上

17. 以下是一位清代官員對臺灣的描述：「臺灣地處海外，民風剽悍，漢人與番人雜處，時有械鬥發生。」根據這段史料，下列關於清代臺灣社會的敘述，何者最為合理？(A)原住民族群完全接受漢化，與漢人和平共處(B)清政府嚴格管控漢人移民，有效避免族群衝突(C)漢人與原住民之間存在緊張關係，社會秩序不穩定(D)臺灣社會階級分明，漢人與原住民各自生活在不同區域

18. 附表為臺灣四地的一月月均溫，其中恆春一月月均溫達 20.7°C，遠較其他三地高，主要是受何種因素影響？ (A)季風 (B)地形 (C)緯度 (D)距海遠近

地點	恆春	蘇澳	嘉義	淡水
一月 月均溫 (°C)	20.7	16.4	16.5	15.2

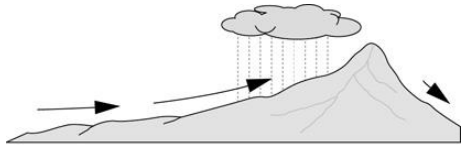
19. 海水淡化的成本較一般自來水高約四至七倍，因此臺灣只有全年降水皆稀少的地區才會設置。請問：附圖四個地點之中，何處最有可能設置海水淡化廠？ (A)甲 (B)乙 (C)丙 (D)丁。



20. 中央氣象局的專業人員根據資料分析，將天氣資訊繪製成圖表，圖上有等壓線、鋒面中央氣象局的專業人員根據資料分析，將天氣資訊繪製成圖表，圖上有等壓線、鋒面等代表天氣狀況的符號。請問：此種天氣圖表的名稱為何？ (A)衛星雲圖 (B)衛星影像圖 (C)地面天氣圖 (D)等高線地形圖

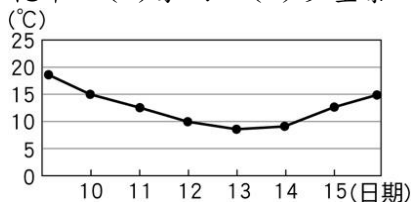
21. 寧寧去合歡山遊玩時帶了一包洋芋片，到山上後發現餅乾外包裝膨脹，體積變得比原本在平地時還要大。請問：造成上述現象的原因為何？ (A)氣溫較低 (B)緯度較高 (C)氣壓較低 (D)空氣較冷

22. 大氣中的水氣以雨、雪、冰雹等型態飄降到地面的情形，稱為「降水」，降水又可分為三大類型。附圖的降水類型屬於下列何者？ (A)對流雨 (B)地形雨 (C)鋒面雨 (D)颱風雨。



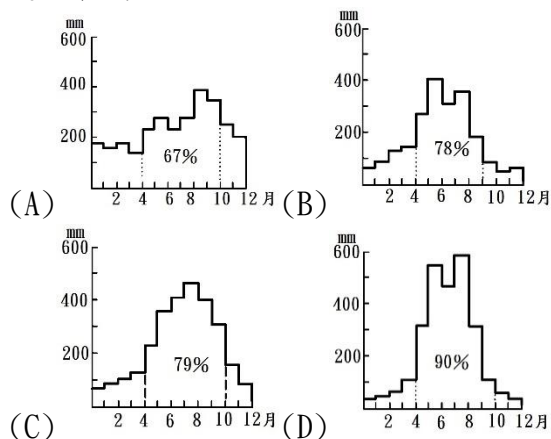
氣流移動 ——→ 雨水

23. 附圖為臺北氣象站於1月10日~15日的「日均溫」變化圖，此時最可能會出現下列哪一種天氣災害？ (A)寒害 (B)乾旱 (C)豪雨 (D)沙塵暴。



24. 臺灣年降水量充沛，但是平均每人可再生水資源卻不算豐富，主要是哪些因素造成的？ (A)蒸發量大且人口密集 (B)土地面積狹小且人口密集 (C)土地面積狹小且山地地形廣布 (D)河川流速快且降水季節分布不均

25. 就臺灣降雨季節變化而言，下列四張降水量圖何者最可能是位在高雄地區？



26. 小勛暑假到嘉義縣東石鄉海邊體驗採蚵、坐牛車，隔天再到阿里山健行做森林浴。在山上時，他感受到氣溫比平地涼

爽許多。請問：造成兩地氣溫差異的主要原因為何？ (A)緯度 (B)高度 (C)氣壓 (D)風速

27. 臺灣西南部地區對於地下水抽取量較大，其主要原因為何？ (A)都市人口密集用水量大 (B)乾季較長、農漁業用水需求量大 (C)夏季高溫炎熱蒸發量大 (D)河川短小、河川上游年降水量少

28. 由主流與若干支流構成的河川系統，稱為下列何者？ (A)水系 (B)集水區 (C)流域 (D)分水嶺

29. 水資源得來不易，在積極開發水資源的同時，也必須做好水資源管理。請問：下列何種作法無助於水資源的保育或開發？ (A)確實做好河川汙染的管制 (B)減少地表人工鋪面的面積 (C)在集水區要做好水土保持 (D)地下水抽取量大於補注量

30. 早在日治時期，殖民政府便有「治水必須先治山」的概念，積極在河川上游劃分保安林區，以保護山地林野。請問：若在降水條件不變下，此舉會對水文環境造成哪些影響？ (甲)地下水位上升 (乙)大雨後水位急遽升高 (丙)河川流量減少 (丁)河流輸砂量減少 (A)甲乙 (B)乙丙 (C)甲丙 (D)甲丁

【題組】民國106年7月底，尼莎、海棠兩個颱風接連襲臺，海棠颱風雖然是輕度颱風，但仍造成不少災情。附圖為海棠颱風的資料，分別是颱風路徑、颱風等級與七級暴風半徑範圍，根據附圖請回答下列問題。



31. 下列關於海棠颱風的敘述，請問何者有誤？ (A)颱風造成的風雨對東部影響較小 (B)海棠颱風的暴風半徑為100公里 (C)颱風與東北季風結合，雨勢驚人而造成災情 (D)海棠颱風為輕度颱風，風力較強颱風和中颱弱

32. 海棠颱風出海後仍持續為臺灣帶來雨勢，若以海棠颱風侵臺路徑來看。請問：下列哪些地區在颱風警報解除後，其累積的降水量可能最高？ (A)高雄、屏東地區 (B)宜蘭、花蓮地區 (C)新竹、苗栗地區 (D)基隆、臺北地區

【題組】小明全家以種植果樹維生，附圖為果園與鄰近水系的分布位置，請回答下列問題。



33. 自去年開始，小明發現某地區因興建道路工程，以至於果園附近河流若遇豪雨，時常淹沒果園；而乾季時河流水位過低，時常無水可用。由此判斷，何地最有可能興建此道路工程？ (A)甲 (B)乙 (C)丙 (D)丁。

34. 此道路工程的主管機關預計召開會議討論小明所發現的問題，希望在會議中能夠尋得解方。請問：該主管機關應邀請哪一個領域的專家學者參與會議，較有可能獲得建設性的建議或解決策略？ (A)地層下陷 (B)水土保持 (C)河川汙染 (D)水果產銷。

35. 學校在安排學生健康檢查前，皆會分發「健康檢查說明暨受檢同意書」，內容包含檢查項目、進行方式與注意事項，並特別明訂：檢查涉及身體隱私部位時，如胸部、腹部、泌尿及生殖器，如果感到不舒服，可立即提出。上述針對學生健康檢查的規範，最主要是基於哪一項理由？ (A)保障學生的財產自由權 (B)保障校園的秩序與安全 (C)保障學生尊嚴與隱私權 (D)保障校園師生倫理和諧。

36. 布農族人 Talum Suqluman(漢人姓名為王光祿)曾因持有槍械並狩獵保育類動物，違反相關法律而被判刑，許多原住

民族團體憤而示威抗議，認為該判決結果是導因於不了解原住民族在傳統領域的狩獵文化與習俗，引起社會大眾關注。根據上文判斷，原住民族面臨部落危機時採取了下列何種因應策略？

(A)要求政府正名來保障原住民族的權益 (B)要求政府設置專責機構處理相關事務 (C)發動部落抗爭爭取原住民族群的權益 (D)積極推動部落永續發展創造就業生機

37. 校園的公共事務因涉及的對象及適用範圍的不同，可以參與決定的人也會不同。下列各項公共事務可以參與其決定者的說明，何者最正確？

(A)合作社工讀生的薪水由全校師生開會決定 (B)校慶紀念衫的樣式由學務處及老師們決議 (C)校園公共事務只有跟校長及老師們有關係 (D)班會可以表決全班提供書籍至班級圖書區。

38. 布農族的卡度部落召開部落會議，積極推動部落傳統領域的劃設工作，針對與邵族傳統領域出現重疊爭議的土地，希望能提出新事證，以和平理性的方式進行協商、化解爭端。根據上述判斷，對於原住民族而言，部落會議主要具備了何項功能？ (A)繼承土地劃分 (B)決定部落事務 (C)學習祖先智慧 (D)尋找文化根源。

39. 近來社區治安問題頻傳，居民著手繪製社區安全檢測地圖，積極與學校單位及附近店家共同合作，標示並記錄社區內的治安死角，向相關單位申請加裝路燈與監視器，並組織守望相助巡守隊，以尋求社區治安的改善。從上述內容判斷，下列何者是解決社區問題的關鍵因素？ (A)政府補助措施 (B)店家積極協助 (C)居民主動參與 (D)警察加強巡邏

40. 臺灣首支國產火箭「飛鼠一號」在發射前，獲得當地原住民族召開部落會議認可後，也將由部落舉行傳統祈福儀式，請祖靈保佑發射順利。上述政府或私人於原住民族土地或部落及其周邊一定範圍內之公有土地從事土地開發、資源利用等，應諮商並取得原住民族或部落同意或參與，這是依據下列何項法律的規定？ (A)《國家語言發展法》 (B)《中華民國憲法》 (C)《原住民族基本法》 (D)《原住民族教育法》。

41. 瑞士的非營利組織「尊嚴」(DIGNITAS)，是由人權律師莫奈利在西元1998年創立，組織目標是在病人活著和臨終時，通過醫師諮詢，依照病人的自由選擇，讓病人選擇以「藥物」結束自己的生命。請問：站在人性尊嚴的角度，下列敘述何者正確？ (A)該組織的作法使人們免於受到社會不公平對待 (B)該組織的作法會使個人的人性尊嚴受到侵犯 (C)該組織的作法侵犯個人隱私，故政府應該禁止實施 (D)對於個人的生命擁有自我決定權是該組織推行此作法的目標。

42. 某校園中驚傳有老師在辦公室對同事性騷擾，消息傳出後，校內師生議論紛紛。當事人任職的學校應該依據哪一部法律進行處理？ (A)《性別平等教育法》 (B)《性別平等工作法》 (C)《性騷擾防治法》 (D)《刑法》。

43. 小彤和阿洺兩人相戀10年，兩人決定在交往紀念日步入禮堂，雙方父母親互稱「親家」，上述「親家」在我國《民法》上是屬於下列哪一個親屬關係？ (A)血親的配偶，姻親 (B)配偶的血親，姻親 (C)血親的配偶的血親，沒有關係 (D)配偶的血親的配偶，沒有關係。

44. 俗話說：「三歲看大，七歲看老。」這話有一定的科學道理。萬丈高樓平地起，幼兒時期是身心發展的重要階段，孩子的個性雖屬雛形，但對以後的心理發展卻具有深遠的影響。由此可知，下列何者是塑造個人人格最重要的場所？ (A)醫院 (B)家庭 (C)學校 (D)社區。

45. 新聞報導臺東縣達仁鄉阿朗壹部落曾傳出巡守隊人員看到近乎絕跡的臺灣雲豹，因此阿朗壹部落召開部落會議，決議封山保護其傳統領域，自主調查雲豹蹤跡，禁絕外人入內狩獵，並要求林務局停止伐木等干擾。林務局回應，完全尊重部落決定。上述新聞呈現出哪些概念？(甲)部落對環境永

續的重視 (乙)政府尊重原住民部落的事務 (丙)原住民爭取社會福利 (丁)部落設備的重建與更新 (A)甲乙 (B)丙丁 (C)甲丙 (D)乙丁。

46. 「多數決」不只提倡少數服從多數，更強調「多數尊重少數」的原則，下列何者符合該原則的精神？ (A)對於表決結果，人人都須遵守 (B)少數人的意見，也須有表達的權利 (C)多數人的想法須配合少數人的意見做讓步 (D)少數人的意見與多數人的意見都須一併實施。

47. 社區的公共事務需要所有社區居民的參與，下列哪一個人的行為最符合社區參與的表現？ (A)柏丞到社區活動中心打籃球 (B)玫綺經營一家便利商店 (C)聿昊在自家陽臺栽種各種植物 (D)小瑜捐助社區裝設監視攝影機。

48. 依據《原住民族語言能力認證辦法》，族語包含聽、說、讀、寫能力，不受到國籍、族別及年齡的限制，可參加任一等級的族語能力認證。嘉義縣原住民族重點學校學生在109年參加初、中級認證中，通過率高達95%；阿里山鄒族在鄉內開辦族語傳習教室，提供一般民眾及學生多元族語的學習管道，並設置傳統名稱標示，讓居民洽公時可接觸到標有鄒語文字的指示牌，藉此營造出族語環境，鼓勵族人日常生活中說出族語。請根據上文判斷，下列分析何者正確？ (A)國家以法律保障族語的文化主體認同 (B)原住民族重點學校的設立呈現族語保留的困境 (C)族語教室為族語對外進行諮商的場所 (D)名稱標示看出社會運動中族語的地位。

49. 「社區」及「部落」的組成要素不同，但兩者仍有許多的共同點，其中下列何者屬之？ (A)都能團結居民，使居民擁有歸屬感 (B)都需由政府主導，才能改變區域樣貌 (C)都有成立發展協會，維護區域文化 (D)都有共同文化、價值觀，供居民遵循。

50. 開班會時，香微反對全班去參觀博物館，引起主席郁嵐的不悅，因此禁止她發言。上述郁嵐的做法是否稱職？ (A)稱職，避免香微浪費大家的時間 (B)不稱職，因為不尊重他人的發言權 (C)稱職，因為發揮了主導權 (D)不稱職，因為沒有人提出權宜問題。

臺中市立烏日國民中學 113 學年度第一學期 社會科 一年級第三次定期評量

※選擇題，每題 2 分，50 題共 100 分

1. 阿土哥是清康熙時期的泉州人，聽人家說臺灣未開發的土地廣大、工作機會多，決定到臺灣打拚。他來到臺灣，可能有怎樣的遭遇？ (A)政府主張土地國有，提供耕作工具與種子，使他的生活安定 (B)多數平原地區已被開發，他只能依循法規前往深山進行開墾(C)他申請攜家帶眷來臺，終於獲得政府許可，一家在臺灣團聚(D)開墾土地時，原有水源不敷使用，他只好集資自行修築水圳
2. 清帝國統治臺灣後，陸續開放臺灣港口與中國大陸進行航運、交易，鄰近這些港口的市街常因商品、人口、財富的聚集而快速發展起來。下列何者即是當時因靠近港口而發達的市街代表？ (A)打狗(B)雞籠(C)鹿港(D)諸羅
3. 清代臺灣吏治不良，駐防軍隊軍紀敗壞，加上民間秘密結盟風氣盛行，經常發生反抗官府的民變。下列何者最能解釋民變的意義？ (A)地方反抗中央 (B)佃農反抗地主(C)奴隸反抗雇主 (D)人民反抗官府

【題組】請閱讀右圖並回答問題：

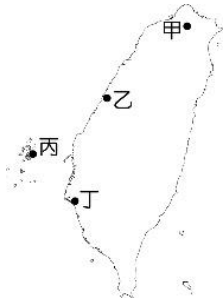
4. 茶葉、蔗糖、樟腦的產地分別位於圖中哪個區域？ (A)甲、乙、丙(B)甲、丙、乙(C)乙、甲、丙(D)丙、乙、甲
5. 開港通商後，關於臺灣主要外銷商品的敘述，何者正確？ (A)這些輸出品主要經由郊商外銷到全球 (B)丙地商品的產地主要分布於丘陵地 (C)甲地所產商品是開港後最大宗輸出品 (D)乙地所生產的商品出口歷史最為悠久區
6. 開港通商對臺灣社會造成很大的影響，也對原住民族群產生巨大的衝擊，除了西方宗教的傳入、對原始山林的破壞等情況之外，清廷的「開山撫番」行動，導致原住民族嚴重的死傷。下列哪一事件即是清帝國時期的原漢衝突事件？ (A)牡丹社事件 (B)大港口事件 (C)郭懷一事件 (D)林爽文事件
7. 平埔族人原本沒有姓氏只有名字，乾隆 23 年(西元 1758 年)，清廷諭令：「平埔各族薙髮同時賜姓」。當時賜給平埔族群的姓氏包括：潘、陳、劉、戴、李、王等，實際上取用潘姓最多。請問：這項政策的用意為何？ (A)加速平埔族群漢化(B)防止改信基督教(C)「開山撫番」政策(D)傳播漢人信仰
8. 若要設計一個展示西方文化影響的展覽，應該如何選擇展品以反映其在臺灣的傳入過程？ (A)展示西方傳教士的文物與教育設施模型(B)只展出傳統臺灣工藝品(C)僅展示現代科技產品(D)展出本地民俗活動物品
9. 清帝國時期，臺灣哪些主要商品被出口到日本和東南亞等地？ (A)棉花、鐵器、陶瓷(B)魚類、木材、香料(C)茶葉、絲綢、藥材(D)米、糖、樟腦
10. 清帝國時期，西方文化主要透過哪種途徑傳入臺灣？ (A)商業貿易(B)政府交流(C)宗教傳教(D)戰爭征服
11. 志龍在整理家中舊物時，發現一份清代的族譜，上面記載了祖先從福建渡海來臺的經過，以及在臺灣開墾土地、建立家族的歷程。根據這份族譜，對清代臺灣社會可以做出哪些



- 合理的推論？(A)清政府嚴格限制漢人來臺，族譜記載的移民過程可能是非法的(B)清代臺灣的移民主要來自中國東南沿海，並在臺灣形成新的社會結構(C)臺灣原住民族群在清代已完全融入漢人社會，不再保留自己的文化(D)清代臺灣的社會結構與中國大陸完全相同，沒有任何本土特色
12. 崔傘在整理家中古物時，發現一份清代的契約文書，上面記載了祖先向原住民購買土地的過程。根據這份文書，對清代臺灣的族群關係可以做出哪些合理的推論？(A)漢人與原住民之間存在經濟往來，但也可能存在土地爭議(B)清政府嚴格禁止漢人與原住民之間的土地交易(C)原住民完全接受漢人的土地制度，自願放棄傳統領地(D)漢人與原住民之間的土地交易完全公平，沒有任何衝突
13. 仁變在參觀臺南的祀典武廟時，發現廟宇建築風格獨特，融合了閩南和泉州的特色。導覽員告訴他，這座廟宇始建於清康熙年間，是當時移民為了祈求平安而建造的。根據這些資訊，下列關於清代臺灣移民社會的推論，何者最為合理？(A)清代臺灣的宗教建築完全模仿中國大陸的風格，沒有本土特色(B)清政府大力支持宗教建設，以穩定臺灣社會秩序(C)臺灣原住民族群積極參與漢人宗教活動，促進族群融合(D)清代臺灣的移民主要來自福建和廣東，並帶來原鄉的宗教信仰和建築風格
14. 清帝國時，政府最初只開放鹿耳門（臺南）與廈門對渡通航，但後來陸續開放鹿港、八里坌等港口。此舉將造成哪項商業現象？(A)促成鹿港與艋舺繁榮，帶動周邊市街興起(B)新增港口上繳稅收降低，導致財政赤字(C)地方港口間競爭加劇，衰退對渡貿易(D)導致府城成為唯一能對渡的商業中心
15. 「一府二鹿三艋舺」為人熟知的口訣，指清帝國時代臺南府城、彰化鹿港、臺北艋舺三地的繁盛。下列對此現象的主因描述，何者最恰當？(A)皆因西方洋行集中於基隆與淡水，帶動北部繁榮(B)三處各自設備完善軍港設施，成為重要軍事據點(C)這些城鎮緊鄰貿易港口，海運交通常年頻繁(D)鹿港與艋舺曾長期禁止外國商人進出，以維持獨佔
16. 清代臺灣文人連橫在《臺灣通史》中寫道：「自康熙二十三年開始，准許偕眷渡臺，於是移民日眾，而宗族亦隨之而立。」這段史料最能說明清代臺灣社會的哪項特點？(A)原住民族群逐漸被同化，失去原有文化特色(B)漢人移民社會逐漸形成，宗族組織開始建立(C)清政府加強對臺灣的軍事管控，限制人口流動(D)臺灣社會階級分明，宗族勢力凌駕於官方之上
17. 以下是一位清代官員對臺灣的描述：「臺灣地處海外，民風剽悍，漢人與番人雜處，時有械鬥發生。」根據這段史料，下列關於清代臺灣社會的敘述，何者最為合理？(A)原住民族群完全接受漢化，與漢人和平共處(B)清政府嚴格管控漢人移民，有效避免族群衝突(C)漢人與原住民之間存在緊張關係，社會秩序不穩定(D)臺灣社會階級分明，漢人與原住民各自生活在不同區域
18. 附表為臺灣四地的一月月均溫，其中恆春一月月均溫達 20.7°C，遠較其他三地高，主要是受何種因素影響？ (A)季風 (B)地形 (C)緯度 (D)距海遠近

地點	恆春	蘇澳	嘉義	淡水
一月月均溫(°C)	20.7	16.4	16.5	15.2

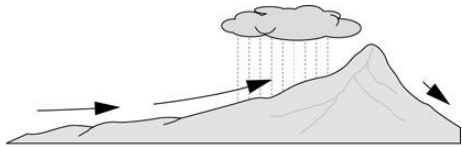
19. 海水淡化的成本較一般自來水高約四至七倍，因此臺灣只有全年降水皆稀少的地區才會設置。請問：附圖四個地點之中，何處最有可能設置海水淡化廠？ (A)甲 (B)乙 (C)丙 (D)丁。



20. 中央氣象局的專業人員根據資料分析，將天氣資訊繪製成圖表，圖上有等壓線、鋒面中央氣象局的專業人員根據資料分析，將天氣資訊繪製成圖表，圖上有等壓線、鋒面等代表天氣狀況的符號。請問：此種天氣圖表的名稱為何？ (A)衛星雲圖 (B)衛星影像圖 (C)地面天氣圖 (D)等高線地形圖

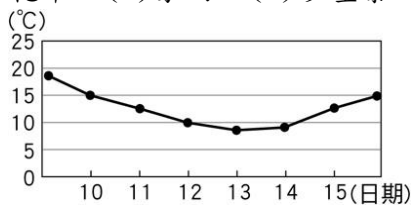
21. 寧寧去合歡山遊玩時帶了一包洋芋片，到山上後發現餅乾外包裝膨脹，體積變得比原本在平地時還要大。請問：造成上述現象的原因為何？ (A)氣溫較低 (B)緯度較高 (C)氣壓較低 (D)空氣較冷

22. 大氣中的水氣以雨、雪、冰雹等型態飄降到地面的情形，稱為「降水」，降水又可分為三大類型。附圖的降水類型屬於下列何者？ (A)對流雨 (B)地形雨 (C)鋒面雨 (D)颱風雨。



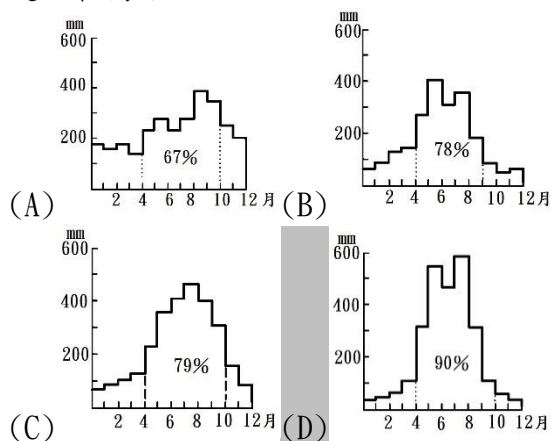
氣流移動 ——→ 雨水

23. 附圖為臺北氣象站於1月10日~15日的「日均溫」變化圖，此時最可能會出現下列哪一種天氣災害？ (A)寒害 (B)乾旱 (C)豪雨 (D)沙塵暴。



24. 臺灣年降水量充沛，但是平均每人可再生水資源卻不算豐富，主要是哪些因素造成的？ (A)蒸發量大且人口密集 (B)土地面積狹小且人口密集 (C)土地面積狹小且山地地形廣布 (D)河川流速快且降水季節分布不均

25. 就臺灣降雨季節變化而言，下列四張降水量圖何者最可能是位在高雄地區？



26. 小勛暑假到嘉義縣東石鄉海邊體驗採蚵、坐牛車，隔天再到阿里山健行做森林浴。在山上時，他感受到氣溫比平地涼

爽許多。請問：造成兩地氣溫差異的主要原因為何？ (A)緯度 (B)高度 (C)氣壓 (D)風速

27. 臺灣西南部地區對於地下水抽取量較大，其主要原因為何？ (A)都市人口密集用水量大 (B)乾季較長、農漁業用水需求量大 (C)夏季高溫炎熱蒸發量大 (D)河川短小、河川上游年降水量少

28. 由主流與若干支流構成的河川系統，稱為下列何者？ (A)水系 (B)集水區 (C)流域 (D)分水嶺

29. 水資源得來不易，在積極開發水資源的同時，也必須做好水資源管理。請問：下列何種作法無助於水資源的保育或開發？ (A)確實做好河川汙染的管制 (B)減少地表人工鋪面的面積 (C)在集水區要做好水土保持 (D)地下水抽取量大於補注量

30. 早在日治時期，殖民政府便有「治水必須先治山」的概念，積極在河川上游劃分保安林區，以保護山地林野。請問：若在降水條件不變下，此舉會對水文環境造成哪些影響？ (甲)地下水位上升 (乙)大雨後水位急遽升高 (丙)河川流量減少 (丁)河流輸砂量減少 (A)甲乙 (B)乙丙 (C)甲丙 (D)甲丁

【題組】民國106年7月底，尼莎、海棠兩個颱風接連襲臺，海棠颱風雖然是輕度颱風，但仍造成不少災情。附圖為海棠颱風的資料，分別是颱風路徑、颱風等級與七級暴風半徑範圍，根據附圖請回答下列問題。



31. 下列關於海棠颱風的敘述，請問何者有誤？ (A)颱風造成的風雨對東部影響較小 (B)海棠颱風的暴風半徑為100公里 (C)颱風與東北季風結合，雨勢驚人而造成災情 (D)海棠颱風為輕度颱風，風力較強颱風和中颱弱

32. 海棠颱風出海後仍持續為臺灣帶來雨勢，若以海棠颱風侵臺路徑來看。請問：下列哪些地區在颱風警報解除後，其累積的降水量可能最高？ (A)高雄、屏東地區 (B)宜蘭、花蓮地區 (C)新竹、苗栗地區 (D)基隆、臺北地區

【題組】小明全家以種植果樹維生，附圖為果園與鄰近水系的分布位置，請回答下列問題。



33. 自去年開始，小明發現某地區因興建道路工程，以至於果園附近河流若遇豪雨，時常淹沒果園；而乾季時河流水位過低，時常無水可用。由此判斷，何地最有可能興建此道路工程？ (A)甲 (B)乙 (C)丙 (D)丁。

34. 此道路工程的主管機關預計召開會議討論小明所發現的問題，希望在會議中能夠尋得解方。請問：該主管機關應邀請哪一個領域的專家學者參與會議，較有可能獲得建設性的建議或解決策略？ (A)地層下陷 (B)水土保持 (C)河川汙染 (D)水果產銷。

35. 學校在安排學生健康檢查前，皆會分發「健康檢查說明暨受檢同意書」，內容包含檢查項目、進行方式與注意事項，並特別明訂：檢查涉及身體隱私部位時，如胸部、腹部、泌尿及生殖器，如果感到不舒服，可立即提出。上述針對學生健康檢查的規範，最主要是基於哪一項理由？ (A)保障學生的財產自由權 (B)保障校園的秩序與安全 (C)保障學生尊嚴與隱私權 (D)保障校園師生倫理和諧。

36. 布農族人 Talum Suqluman(漢人姓名為王光祿)曾因持有槍械並狩獵保育類動物，違反相關法律而被判刑，許多原住

民族團體憤而示威抗議，認為該判決結果是導因於不了解原住民族在傳統領域的狩獵文化與習俗，引起社會大眾關注。根據上文判斷，原住民族面臨部落危機時採取了下列何種因應策略？

- (A)要求政府正名來保障原住民族的權益 (B)要求政府設置專責機構處理相關事務 (C)發動部落抗爭爭取原住民族群的權益 (D)積極推動部落永續發展創造就業生機

37. 校園的公共事務因涉及的對象及適用範圍的不同，可以參與決定的人也會不同。下列各項公共事務可以參與其決定者的說明，何者最正確？

- (A)合作社工讀生的薪水由全校師生開會決定 (B)校慶紀念衫的樣式由學務處及老師們決議 (C)校園公共事務只有跟校長及老師們有關係 (D)班會可以表決全班提供書籍至班級圖書區。

38. 布農族的卡度部落召開部落會議，積極推動部落傳統領域的劃設工作，針對與邵族傳統領域出現重疊爭議的土地，希望能提出新事證，以和平理性的方式進行協商、化解爭端。根據上述判斷，對於原住民族而言，部落會議主要具備了何項功能？ (A)繼承土地劃分 (B)決定部落事務 (C)學習祖先智慧 (D)尋找文化根源。

39. 近來社區治安問題頻傳，居民著手繪製社區安全檢測地圖，積極與學校單位及附近店家共同合作，標示並記錄社區內的治安死角，向相關單位申請加裝路燈與監視器，並組織守望相助巡守隊，以尋求社區治安的改善。從上述內容判斷，下列何者是解決社區問題的關鍵因素？ (A)政府補助措施 (B)店家積極協助 (C)居民主動參與 (D)警察加強巡邏

40. 臺灣首支國產火箭「飛鼠一號」在發射前，獲得當地原住民族召開部落會議認可後，也將由部落舉行傳統祈福儀式，請祖靈保佑發射順利。上述政府或私人於原住民族土地或部落及其周邊一定範圍內之公有土地從事土地開發、資源利用等，應諮商並取得原住民族或部落同意或參與，這是依據下列何項法律的規定？ (A)《國家語言發展法》 (B)《中華民國憲法》 (C)《原住民族基本法》 (D)《原住民族教育法》。

41. 瑞士的非營利組織「尊嚴」(DIGNITAS)，是由人權律師莫奈利在西元1998年創立，組織目標是在病人活著和臨終時，通過醫師諮詢，依照病人的自由選擇，讓病人選擇以「藥物」結束自己的生命。請問：站在人性尊嚴的角度，下列敘述何者正確？ (A)該組織的作法使人們免於受到社會不公平對待 (B)該組織的作法會使個人的人性尊嚴受到侵犯 (C)該組織的作法侵犯個人隱私，故政府應該禁止實施 (D)對於個人的生命擁有自我決定權是該組織推行此作法的目標。

42. 某校園中驚傳有老師在辦公室對同事性騷擾，消息傳出後，校內師生議論紛紛。當事人任職的學校應該依據哪一部法律進行處理？ (A)《性別平等教育法》 (B)《性別平等工作法》 (C)《性騷擾防治法》 (D)《刑法》。

43. 小彤和阿洺兩人相戀10年，兩人決定在交往紀念日步入禮堂，雙方父母親互稱「親家」，上述「親家」在我國《民法》上是屬於下列哪一個親屬關係？ (A)血親的配偶，姻親 (B)配偶的血親，姻親 (C)血親的配偶的血親，沒有關係 (D)配偶的血親的配偶，沒有關係。

44. 俗話說：「三歲看大，七歲看老。」這話有一定的科學道理。萬丈高樓平地起，幼兒時期是身心發展的重要階段，孩子的個性雖屬雛形，但對以後的心理發展卻具有深遠的影響。由此可知，下列何者是塑造個人人格最重要的場所？ (A)醫院 (B)家庭 (C)學校 (D)社區。

45. 新聞報導臺東縣達仁鄉阿朗壹部落曾傳出巡守隊人員看到近乎絕跡的臺灣雲豹，因此阿朗壹部落召開部落會議，決議封山保護其傳統領域，自主調查雲豹蹤跡，禁絕外人入內狩獵，並要求林務局停止伐木等干擾。林務局回應，完全尊重部落決定。上述新聞呈現出哪些概念？(甲)部落對環境永

續的重視 (乙)政府尊重原住民部落的事務 (丙)原住民爭取社會福利 (丁)部落設備的重建與更新 (A)甲乙 (B)丙丁 (C)甲丙 (D)乙丁。

46. 「多數決」不只提倡少數服從多數，更強調「多數尊重少數」的原則，下列何者符合該原則的精神？ (A)對於表決結果，人人都須遵守 (B)少數人的意見，也須有表達的權利 (C)多數人的想法須配合少數人的意見做讓步 (D)少數人的意見與多數人的意見都須一併實施。

47. 社區的公共事務需要所有社區居民的參與，下列哪一個人的行為最符合社區參與的表現？ (A)柏丞到社區活動中心打籃球 (B)玫綺經營一家便利商店 (C)聿昊在自家陽臺栽種各種植物 (D)小瑜捐助社區裝設監視攝影機。

48. 依據《原住民族語言能力認證辦法》，族語包含聽、說、讀、寫能力，不受到國籍、族別及年齡的限制，可參加任一等級的族語能力認證。嘉義縣原住民族重點學校學生在109年參加初、中級認證中，通過率高達95%；阿里山鄒族在鄉內開辦族語傳習教室，提供一般民眾及學生多元族語的學習管道，並設置傳統名稱標示，讓居民洽公時可接觸到標有鄒語文字的指示牌，藉此營造出族語環境，鼓勵族人日常生活中說出族語。請根據上文判斷，下列分析何者正確？ (A)國家以法律保障族語的文化主體認同 (B)原住民族重點學校的設立呈現族語保留的困境 (C)族語教室為族語對外進行諮商的場所 (D)名稱標示看出社會運動中族語的地位。

49. 「社區」及「部落」的組成要素不同，但兩者仍有許多的共同點，其中下列何者屬之？ (A)都能團結居民，使居民擁有歸屬感 (B)都需由政府主導，才能改變區域樣貌 (C)都有成立發展協會，維護區域文化 (D)都有共同文化、價值觀，供居民遵循。

50. 開班會時，香微反對全班去參觀博物館，引起主席郁嵐的不悅，因此禁止她發言。上述郁嵐的做法是否稱職？ (A)稱職，避免香微浪費大家的時間 (B)不稱職，因為不尊重他人的發言權 (C)稱職，因為發揮了主導權 (D)不稱職，因為沒有人提出權宜問題。

1-10	DCDBC	BAADC
11-20	BADAC	BCCCC
21-30	CBABD	BBADD
31-40	CAABC	CDBCC
41-50	DBCBA	BDAAB