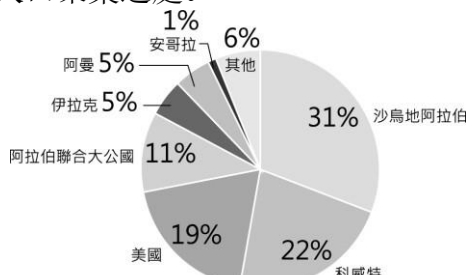


# 臺中市立大道國中 113 學年度第二學期社會科八年級補行評量題庫


命題範圍：第四冊

年 班 號 姓名：

## 一、單選題

- 20 世紀初，西亞與北非發現大量石油，為這些地區帶來巨大的改變。請問：下列哪一個現象**並不是**發現石油後對西亞與北非產生的影響？（A）產油國的國民所得提升（B）因資源爭奪產生更多紛爭（C）經濟結構由工商業轉為農業（D）產油國與非產油國間貧富差距擴大。
- 附圖為 2021 年臺灣原油進口來源國比例圖。請問：在臺灣原油主要進口國中會見到下述哪項景觀？（A）氣候炎熱多雨，雨林廣布（B）受盛行西風影響，夏雨冬乾（C）氣候乾燥，居民傳統衣著寬鬆（D）尼羅河三角洲為人口聚集之處。  



進口來源國	比例
沙烏地阿拉伯	31%
科威特	22%
美國	19%
阿拉伯聯合大公國	11%
伊拉克	5%
阿曼	5%
安哥拉	1%
其他	6%


▲ 2021 年臺灣原油進口來源國比例圖
- 漠南非洲歷年饑荒不絕，面臨嚴重的糧食問題，成為國際長年關注的焦點。除氣候與戰爭因素外，漠南非洲常見饑荒主要尚與下列哪些原因有關？（甲）過度的開墾導致沙漠化加劇（乙）出生率下降導致高齡化嚴重（丙）經濟作物種植排擠糧食作物（丁）大量技術移民進入境內謀生（A）甲乙（B）甲丙（C）乙丙（D）乙丁。
- 漠南非洲的農牧業活動受自然環境與現代科技影響，各地的活動型態皆不相同。下列有關兩者的配對中，何者最為相關？（A）熱帶沙漠氣候—綠洲農業（B）熱帶雨林氣候—酪農業（C）熱帶莽原氣候—地中海型農業（D）溫帶地中海型氣候—熱帶栽培業。
- 小翰搭飛機經過漠南非洲，從高空中往下看，發現一條長達數百公里的裂谷，這條裂谷被稱為「地球臉上最大的傷痕」，中間穿插了相當多個湖泊、火山群。請問：該裂谷形成的原因為何？（A）火山作用（B）斷層陷落（C）河川切割（D）風化侵蝕。
- 位於東非的盧安達，因為長期的種族衝突，在 1994 年爆發死傷數十萬人的種族屠殺。為了不讓悲劇再度發生，現今盧安達政府將種族滅絕罪寫入憲法中，並設立「反種族滅絕委員會」，以回應這場全民的傷痛。根據上述內容判斷，盧安達政府的作為，想要傳達的想法為下列何者？（A）維護人性尊嚴（B）加深種族歧視（C）限度個人發展（D）減少貧富差距。
- 清末，朝野人士面對外力的衝擊，提出不少意見。一日，小周在路上看到一張標語寫著：「驅逐韃虜，恢復中華，創建民國，平均地權。」請問：張貼此標語的應為下列何派人士？（A）立憲派（B）守舊派（C）投降派（D）革命派。
- 陳同學為了準備課堂報告在網站上尋到一張銀幣相片，如附圖。請你協助陳同學判斷，這個銀幣最有可能與下哪位人物有關呢？  


（A）孫中山（B）梁啟超（C）宋教仁（D）袁世凱。
- 某人認為「中國文字，既難傳載新事新理，且為腐毒思想之巢窟，廢之誠不足惜。……當此過渡時期，唯有先廢漢字，且存漢語，而改用羅馬字母書之。」請問：這段言論，最有可能出現於下列哪一時代的中國呢？（A）1810 年代（B）1860 年代（C）1910 年代（D）1960 年代。

- 附圖是民國 7 年的諷刺漫畫「誰謂中國人民能享受幸福耶」。圖中的人民跟在軍閥後面，身上背著各種包裹（負擔），呈現了人民的經濟壓力。請問：這張諷刺漫畫主要希望表達下列哪些現象？



- （甲）人民受到軍閥的奴役與壓榨（乙）軍閥掌握中國人民的生死大權（丙）人民無法脫離軍閥控制的困境（丁）人民在軍閥的引導下自立自強（A）甲乙丙（B）甲乙丁（C）甲丙丁（D）乙丙丁。
- 民國初年，有位著名學者徵求結婚對象，他開出下列條件：「必須不纏足；必須識字；如相處不睦，可以離婚。」條件提出後，引起時人討論，有人認為傷風敗俗，也有人認為開風氣之先。請問：這些婚配條件，與下列哪一思想發展有關呢？（A）男女平等觀念風行（B）兒童文學的產生（C）引入共產主義思想（D）白話文開始流行。
  - 靜怡在書中看到一段話：「民國 20 年，日軍自行炸毀瀋陽附近的一段鐵路，然後藉口是中國軍隊所為，立即發兵進占東北。由此可知日本對中國的侵略野心。」以上的內容，敘述的應該是下列哪一事件的發生經過？（A）牡丹社事件（B）西安事變（C）九一八事變（D）滿洲國成立。
  - 附圖是一幅宣傳海報，此宣傳海報最早可能在下列何時何地傳布？  


（A）1919～1930 年的臺北（B）1949～1960 年的臺北（C）1916～1928 年的瀋陽（D）1932～1945 年的瀋陽。
  - 2019 年 12 月報載，婦女救援基金會將紀錄片阿媽的秘密原始膠捲捐贈給國家電影中心。婦援會表示，本片忠實記錄戰時受害者臺灣阿嬤們的故事。請問：該片的主題，最有可能是下列何者？（A）南京大屠殺（B）珍珠港事件（C）核爆受難者（D）慰安婦事件。
  - 「國民政府宣布將遷都□□，以西南各省做為抗戰大後方，並利用中國廣土眾民的條件，制定長期抗戰方針。」請問：□□是指哪一個都市？（A）重慶（B）成都（C）南京（D）北平。
  - 現居臺中的張爺爺，年輕時在上海是位理髮師。他回憶：局勢動盪後，理一次髮原本是 55 元，不到一個月理髮價已是 550 元，再隔一個月，必須收費 1,260 元，才能維持基本生計。請問：張爺爺年輕時所遇到的情況是？（A）民國創立初期貨幣混亂（B）北伐時期貨幣貶值（C）國共內戰激化導致通膨（D）美國斷交貨幣貶值。
  - 毛澤東執政時，喊出經濟上「超英趕美」的口號，在外交上逐漸則想擺脫下列哪個國家的約束呢？（A）美國（B）蘇聯（C）英國（D）法國。
  - 附圖是描繪中國某時期出現的情況，根據內容判斷，此圖最可能呈現下列何者？  


（A）義和團事變（B）文化大革命（C）新文化運動（D）四川保路運動。
  - 中國於 1970 年代末推動的改革開放政策，帶動經濟快速

成長，但是卻加深區域發展失衡現象。下列關於中國的新聞報導，何者最能反映中國區域發展不均的現象？

(A) 今年出現的多起沙塵暴，已直接威脅北京、上海及南京等大都市 (B) 推動海上絲路計畫，發展從中國沿海港口經印度洋至歐洲的航線 (C) 農曆春節將湧現數億人次返鄉人潮，堪稱地表最大規模的人口移動 (D) 南方近年降雨減少，旱象環生，南水北調將威脅南方用水的供應量。

20. 1954 年，美國某位國務卿召開記者會，宣告即將與中華民國外交部部長簽約，是要讓兩國未來的共同軍事合作，能有長期正式條約作為依據。請問：該約最可能為下列何者？ (A) 開羅宣言 (B) 臺灣關係法 (C) 雅爾達密約 (D) 中美共同防禦條約。

21. 汪老師在課堂上展示了一張示意圖，請判斷汪老師上課的內容，應與哪個國際組織有關？



圖，  
下列  
(A)  
(B)

世界貿易組織

東南亞國家協會

(C) 東南亞公約組織

(D) 亞太經濟合作會議。

22. 就讀國二的小明開車門時，沒注意到後方來車，導致機車騎士摔車受傷，有關其行為衍生的法律責任問題，下列敘述何者正確？

(A) 小明非故意，因此沒有法律責任

(B) 小明涉及侵權行為，但因未成年不用負責

(C) 小明涉及債務不履行，騎士可要求解除契約

(D) 小明的損害賠償責任，由法定代理人連帶負責。

23. 「紓解訟源」是近年司法改革的重點之一，其目的是希望讓民眾在提起訴訟前，能透過公正且具有與法院確定判決相同效力的途徑來解決糾紛，這種方式既可避免耗時的訴訟程序，也能減少司法資源的浪費。下列哪種處理方式最符合「紓解訟源」的作法？

(A) 房客租金逾期繳交，雙方簽訂和解契約

(B) 為解決遺產糾紛，直接在法官面前和解

(C) 車禍無人受傷，雙方私下和解賠償損失

(D) 遭友積欠債務，至調解委員會聲請調解。

24. 1949 年，因國共情勢惡化，政府頒布戒嚴令限制人民各種自由，此後民眾可能未經公開審判便被拘留或槍決。依照今日法律，此種做法違背哪種原則？

(A) 無罪推定原則 (B) 主權在民原則

(C) 誠實信用原則 (D) 罪刑法定原則。

25. 新聞報導：汶萊是東南亞第一個實施穆斯林教法的國家，2019 年 4 月起將實施嚴刑峻法，規定同性戀、通姦罪犯會以石刑處死，竊盜罪也面臨斷肢酷刑，且行刑過程由穆斯林群眾共同見證。從上文畫線處判斷，汶萊的嚴刑峻法最想達到的刑罰效果為下列何者？ (A) 懲罰犯罪者

(B) 教育犯罪者 (C) 懲罰一般民眾 (D) 警告一般民眾。

26. 國中生小安寄一封陳情信給某位公職人員，信中敘述父親因沉迷賭博，導致家中債臺高築，害他的父母離異、家庭破碎，希望有人能幫幫他，讓父親不再沉溺賭海。該名公職人員收到信後立刻啟動偵辦，循線破獲非法賭場，並依法對賭場業者與賭徒提起公訴。根據上述內容判斷，小安寄信的對象應是下列何者？

(A) 法官 (B) 律師 (C) 檢察官 (D) 警察局局長。

27. 某新聞報導：「以往發生街頭暴力，除由當事人提告傷害罪之外，公權力僅能用社會秩序維護法來裁處，且往往罰錢了事。現在刑法修法後，可將公共場所鬧事的人逮捕並判刑。」這可能帶來什麼改變？

(A) 會增加警方執行公權力的負擔 (B) 民眾更加忽視公共鬧事的問題 (C) 社會秩序維護法喪失存在意義

(D) 以刑事處分嚇阻街頭暴力發生。

(D) 以刑事處分嚇阻街頭暴力發生。

28. 下列關於行政罰的說明，何項敘述較為正確？

(A) 行政罰是行政處分的一種方式

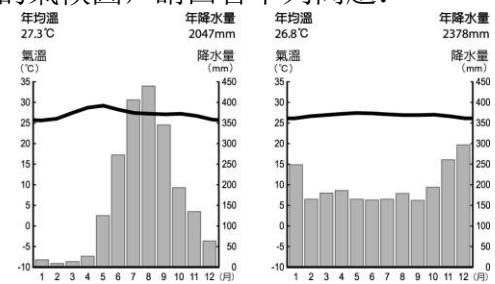
(B) 只有一般民眾才會受到行政罰

(C) 是立法機關對違規者做的裁罰

(D) 拘役和罰金皆屬於行政罰方式。

## 二、題組

- 【一】東南亞因大部分位處北回歸線至南緯 10 度之間，太陽長年直射，以熱帶氣候為主。甲、乙圖為東南亞某兩地的氣候圖，請回答下列問題：



甲 乙  
▲東南亞某兩地的氣候圖

29. 從甲氣候圖中，可以看出該地哪些氣候特徵？

(A) 降水季節分布不均 (B) 屬於溫帶季風氣候

(C) 夏熱冬涼，全年有雨 (D) 年溫差大，日溫差小。

30. 甲圖和乙圖最主要的差異是什麼？

(A) 年均溫高低 (B) 是否有乾季 (C) 年溫差大小

(D) 降水量多寡。

31. 甲圖的降水季節分布與臺灣哪個縣市最類似？


(A) 高雄市 (B) 桃園市 (C) 宜蘭縣 (D) 基隆市。

- 【二】請閱讀下方文章回答問題：

瓦拉納西是印度著名的歷史古城，享有「印度之光」的稱號。信奉甲宗教的教徒們認為瓦拉納西死去，並在印度人視為「母親之河」的乙河河畔火化，能夠超脫生死輪迴的循環，獲得救贖。此外，他們也相信在這條河川沐浴後，即可洗滌汙濁的靈魂。

然而，由於絡繹不絕的信徒在該河川火化與沐浴，加上其他社會變遷，使河川遭受嚴重的汙染，並威脅居民健康，成為印度當局棘手的公共衛生難題。

(參考資料：改寫自羅米塔·薩魯亞，死亡之前的最後住所：印度聖城瓦拉納西，BBC 英倫網，2019/07/06)。



▲印度瓦拉納西的河畔

32. 代表根據文中的描述，甲宗教應為何種宗教？□

(A) 佛教 (B) 印度教 (C) 伊斯蘭教 (D) 基督教。

33. 「在印度人視為『母親之河』的乙河河畔火化，能夠超脫生死輪迴的循環，獲得救贖。」請問：乙河的名稱應為何？

(A) 恆河 (B) 印度河 (C) 尼羅河 (D) 淡水河。

34. 該條河川汙染嚴重的原因，除了宗教的因素外，還可能與哪項社會變遷有關？

(A) 海面上升導致海水倒灌

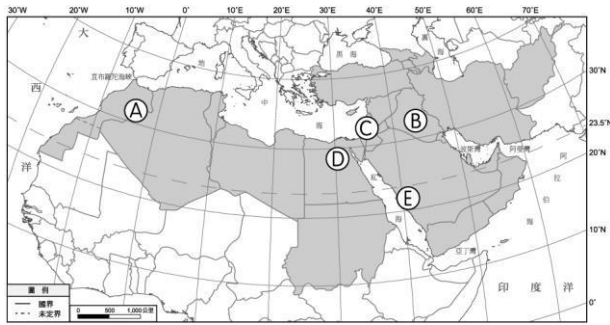
(B) 飼養的食用牛隻帶來廢水

(C) 人口快速增長帶來家庭廢水

(D) 發展養殖漁業而超抽地下水。

- 【三】西亞與北非受氣候乾燥的限制，多以畜牧為主，少數

有水灌溉的地區得以發展灌溉農業。近年來，因人口成長，此區的灌溉面積不斷增加。請根據題目的敘述，判斷不同的灌溉方式分別出現在何處。



▲西亞與北非灌溉類型分布圖

35. 利用渠道引幼發拉底河及底格里斯河的河水灌溉農田。請問：位於附圖中的何處？ (A)A (B)B (C)C (D)D。
36. 請問附圖中的何處，在興建水壩以前，因河水定期氾濫、沖積，形成帶狀綠洲、河口三角洲？ (A)A (B)B (C)C (D)D。
37. 地中海東岸的某國利用電腦控制灌溉水量，除了可節省灌溉用水外，也能避免土壤鹽鹼化。請問：某國位於附圖中的何處？ (A)A (B)B (C)C (D)D。

【四】請閱讀下列文章後，回答問題：

臺北市一名母親氣急敗壞怒罵超商店員，為何不阻止孩子買點數？據了解，該名母親的 9 歲兒子將壓歲錢拿去買遊戲點數，且金額竟高達 1 萬元。男童母親表示：「我是一個很辛苦的媽媽，我的小孩連國小都還沒畢業，他懂什麼呢？為什麼要讓他花這樣多的錢？」對此，店員表示自己也很無奈，因為購買當下，他也有提醒男童，一旦儲值後便無法退款，但男童仍堅持購買。

（資料來源：9 歲童萬元壓歲錢買遊戲點數，媽怒衝超商哽咽喊：知不知道錢難賺，東森新聞雲，2019/5/14）

38. 上文中購買點數的男童，屬於民法規定的何種行為能力人？ (A)無行為能力人 (B)限制行為能力人 (C)完全行為能力人。
39. 該超商與男童之間的買賣契約，其效力為何？ (A)該契約完全有效 (B)該契約自始無效力 (C)該契約經過男童的母親拒絕承認後無效 (D)該契約在經過店員詢問確認購買意願後生效。
40. 上文中的超商店員面對這起買賣，應如何處理，才不會產生法律上的疑義？ (A)順應男童，使其完成交易 (B)與男童交易時，應要求簽訂書面契約 (C)交易當時須有證人，才能證明此交易有效 (D)要求男童須有法定代理人同意的證明，才能完成交易

【五】請閱讀下列文章後，回答問題：

大學生毅鈞一時興起，在未經欣晴同意情況下，輸入其帳號、密碼，退選欣晴的選課，欣晴發現後向學校反應，學校報警後才發現，竟然只是同學間的惡作劇。雖然情況不嚴重，但檢察官偵查終結，仍以「妨害電腦使用罪」起訴毅鈞。

毅鈞的行為已觸犯刑法的兩種犯罪行為。首先，輸入欣晴的帳號密碼，入侵其電腦，觸犯刑法第 358 條入侵電腦或相關設備罪；將欣晴已經選好的課退選，導致欣晴選課權益受損，則觸犯刑法第 359 條破壞電腦紀錄罪。根據刑法規定，以上兩種犯罪行為皆屬於告訴乃論。

（資料來源：改寫自好玩幫同學退選課，破壞電腦紀錄被起訴，天秤座法律網，2009/07/16。）

41. 根據上文，下列敘述何者正確？ (A)此案件的偵查開端為被害人主動告發 (B)此案件是由檢察官起訴，因此為「公訴」 (C)此案件是由檢察官起訴，因此為非告訴乃論 (D)此案件為告訴乃論 因此被害人不可以撤回告訴
42. 下列何者可能是上述案件的後續發展？ (A)見毅鈞深有悔意，欣晴決定撤回告訴 (B)檢察官審理後，判處毅鈞 3 年有期徒刑 (C)法院判決確定後，由法官執行該項判決的處罰 (D)由於證據充分，因此法院未經審判即判定毅鈞有罪。

【六】請閱讀下列文章後，回答問題：

阿甘和父親相依為命，但由於父子間關係不好，因此一旦阿甘需要錢，就用偷竊解決，這使得他反覆進出少年觀護所。他在高中時喪父，儘管得以合法打工，但生活仍然困難，雖有社工和朋友的幫忙，依然無法脫離錢不夠用的困境，甚至一直處在借錢的債務人身分。最後他只好回到那習慣的生活方式——偷：「年紀到了」，則到監獄坐牢服刑期。

出獄後，阿甘想對過去的自己說：「可以先尋求幫助，如果真的不行的話，找警察吧！無論如何，我會試著找尋一些新的管道，接受別人幫助，不要走偏。」

與阿甘類似的故事，在少年法院屢見不鮮。我國司法院未來將建置「行政先行」機制，在 2023 年 7 月 1 日後，先由「少年輔導委員會」結合福利、教育、心理、醫療等相關資源，對曝險少年施以適當輔導，如評估確有必要，才請求少年法院處理；故未來將實現行政輔導先行，再以司法為後循，協助曝險少年不偏離常軌，不受環境危害。

（資料來源：改寫自 1. 謝孟穎，直到被關才能吃飽三餐！從小偷到 18 歲，貧困少年告白：如果人生能重來，我也不想犯罪，風傳媒，2019/06/26。2. 吳政峰，少事法立院初審過關 12 歲以下兒童去刑罰化，自由時報，2019/05/21。）

43. 根據上文判斷，阿甘喪父前的違法行為，適用何項法律處理？ (A)民法 (B)社會秩序維護法 (C)少年事件處理法 (D)兒童及少年福利與權益保障法。
44. 關於阿甘的故事，下列敘述何者正確？ (A)阿甘是生長在隔代教養家庭的環境 (B)喪父前的違法行為屬少年保護事件 (C)高中時與人借錢是受到刑法的規範 (D)出獄後如再犯罪會被少年法院審判。
45. 上文中「年紀到了」是指年滿幾歲？ (A)12 歲 (B)14 歲 (C)18 歲 (D)20 歲。

社會科年級補行評量題庫答案

1	C	2	C	3	B	4	A	5	B
6	A	7	D	8	D	9	C	10	A
11	A	12	C	13	D	14	D	15	A
16	C	17	B	18	B	29	C	20	D
21	B	22	D	23	D	24	A	25	D
26	C	27	D	28	A	29	A	30	B
31	A	32	B	33	A	34	C	35	B
36	D	37	C	38	B	39	C	40	D
41	B	42	A	43	C	44	B	45	C