

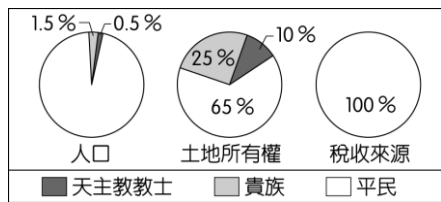
臺中市立大道國中 113 學年度第二學期社會科九年級補行評量題庫

命題範圍：第六冊

九年 班 號 姓名：

一、單選題


- 1535 年，據傳歐洲的航海家航行至今天巴西的東北角，看到椰林覆蓋、風景宜人，便發出「歐琳達」(Ó, linda!, 美麗之意)的讚嘆，後來此處便被稱為「歐琳達」(Olinda)。請問：此地之得名，與臺灣何種地名的命名方式類似？
(A)東番 (B)大員 (C)小琉球 (D)福爾摩沙。
- 臺灣的地名可以判斷出當時的自然環境，作為研究當時區域地理的素材。地名中有「滴」字的地區，當地較容易出現何種天然災害？
(A)山崩 (B)水患 (C)強風 (D)寒害。
- 近年來，臺灣在各方面跟上國際的腳步，例如：政府推行「碳足跡標籤」計畫。請問：此項計畫，與國際上因應全球化危機的哪項行動不謀而合？
(A)各國推行文化尋根之旅 (B)召開國際刑警組織大會 (C)聯合國峰會通過巴黎協定 (D)世界衛生組織公告傳染地區。
- 附圖攝於某個以佛教為主的國家，可見麥當勞叔叔雙手合十，親切優雅地迎接眾人到訪之畫面。請問：這位麥當勞叔叔最可能出現在哪個國家？
(A)泰國 (B)印尼 (C)南韓 (D)俄羅斯。
- 跨國企業麥當勞刻意讓各地的麥當勞叔叔擁有不一樣的造型，用意最可能為何？
(A)省下廣告費用，節省生產成本 (B)大量使用當地資源，薄利多銷 (C)考量在地文化特色，增加業績 (D)為了宣傳特定產品，刺激買氣
- 臺灣在全球化的過程中，積極擴展對外貿易的發展，並申請加入國際組織。我國即於 2002 年正式成為世界貿易組織(WTO)的第 144 個會員，雖有利於對外貿易活動的進行，但是農業活動卻受到嚴重的衝擊。因此，政府此時應適時輔導本土的農業朝向何種方向發展？
(A)增加農業產量 (B)農地改為工廠 (C)引進外勞耕作 (D)提高農產品質。
- 2017 年，美國總統川普發布行政命令，禁止 7 個國家的公民入境美國，但此命令卻遭到聯邦法官凍結。請問：關於上述事件，下列敘述何者正確？
(A)此為國會授意司法機關進行阻擋的結果
(B)此事充分展現社會契約論的主權在民概念
(C)此為行政、司法、立法三權分立、互相制衡的成果
(D)此為國際社會大加撻伐，川普總統自知理虧的結果。
- 附圖呈現某事件前夕，當地的社會情況。此事件最可能是下列何者？
(A)美國獨立
(B)法國大革命
(C)日本大化革新
(D)中國武昌起事。
- 19 世紀前期開始，拉丁美洲展開風起雲湧的獨立運動，此時美國總統門羅發表宣言，有助鞏固各國的獨立。請問：門羅宣言的主要內容應為下列何者？
(A)美洲事務由美洲國家解決，反對歐洲干預 (B)以正統為原則，主張恢復各國王室統治權 (C)以武力威脅各國簽訂條約，開放通商口岸 (D)推廣自由、平等、博愛的精神，喚醒民族意識。
- 有一場演講，內包含了方言文學、德意志帝國的建立與義大利的統一運動。請問：這場演講的主題最可能是下列何者？
(A)歐洲軍備武器的進步 (B)歐洲科學革命的誕生 (C)歐洲宗教改革的開端 (D)歐洲民族意識的發展。
- 一本老舊的歐洲史書這麼敘述：「19 世紀時，巴爾幹半島上因為列強的介入，各地區相繼獨立。同時也因為新興國家間的領土糾紛與列強干預，在 20 世紀初引發牽扯歐洲



各國的大戰……。」由於書本老舊髒汙，之後的部分無法閱讀。請問：這個牽扯歐洲各國的大戰為下列何者？

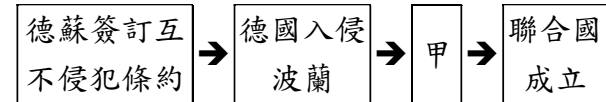
- (A)三十年戰爭 (B)拿破崙戰爭 (C)德法戰爭
(D)第一次世界大戰。

12. 附圖是政治諷刺漫畫，呈現一帝國在某戰爭結束後，因被迫簽署和約而產生的變化，此戰爭可能是下列何者？

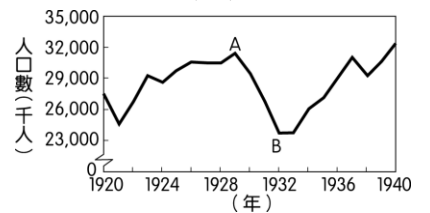


- (A)拿破崙戰爭
(B)德法戰爭
(C)第一次世界大戰
(D)第二次世界大戰。

13. 如下圖所示，依照時間發展順序，「甲」應是下列哪場戰爭？
(A)美國獨立戰爭 (B)拿破崙戰爭 (C)第一次世界大戰 (D)第二次世界大戰。



14. 附圖是 1920 年至 1940 年美國「非農業就業人口數」的統計圖，其中由 A 至 B 的變化，主要與下列何者有關？



- (A)黑人奴隸獲得解放，投入工業生產 (B)政府施行福利政策，保障勞工生活
(C)國家投入大戰，青年至海外作戰 (D)銀行與工廠倒閉，社會經濟衰退。

非農業就業人口數：

從事農業以外的就業人口數，主要指製造業與服務業。

15. 2003 年，SARS 疫情肆虐全臺，當時受到居家隔离的學生只能在家自習。2021 年，新型冠狀病毒疫情嚴重，政府宣布三級警戒，但學校師生可透過各式線上平臺學習。下列何者最適合用來說明 2003~2021 年學習方式所產生的變化？
(A)科技運用於電腦輔助教學與學習平臺，使學習不受時空限制 (B)教師能透過通訊科技監控學生的生活、掌握學生的學習狀況 (C)網路的普及使溝通更即時，也大幅提升學生媒體識讀的能力 (D)透過社群媒體，可號召學生組成社團，並實際參與公共事務。
16. 根據下列內容判斷，最有可能探討下列哪個主題？
邁入 21 世紀，海洋資源已開始面臨耗竭的危機。探究其根源，與科技發展有密切關係，從罐頭、冷凍技術的發明，漁船、漁具的更新，科學化的漁撈方式，都使魚群數目急速減少；但消費者卻很難察覺，只是疑惑為何魚愈來愈貴。
(A)過度運用科技引發資源耗竭 (B)冷凍技術的發明增加了成本 (C)漁撈技術的進步使漁民失業 (D)氣候變遷對海洋環境的破壞。
17. 小花看到某篇報導，請推斷小花看的資料可能跟什麼主題有關？
臺灣的盜版風氣始於 1960 年代，解嚴後，娛樂產業的盜版情形幾乎到不可收拾的地步，以電子軟體、雜誌、漫畫等為大宗。當時政府在著作權益的法令上一直沒有重視，直到 1990 年初期美國將我國列為觀察中地區，立法院才在 1992 年通過著作權法。經過多年發展，正視著作權的年代終於來臨。
(A)智慧財產權的取得方式 (B)我國智慧財產權的發展 (C)盜版對臺灣經濟的影響 (D)人民如何抵制盜版產業
18. 課堂上，同學們針對全球化的議題進行討論，下列哪位同學的發言正確？
(A)榆鈞：以多種面向快速流動，每種面向相互重疊、交互影響 (B)志翔：因為科技及交通運輸等因素的改善，才興起的新概念 (C)元廷：可透過有形的跨國企業擴張，但不能傳導無形的文化 (D)詒真：有助於經濟發展，縮短各國貧富差距，促進勞工權益。

19. 附圖為浩誠在圖書館看到某本書的部分內容。從內容推知，該書最適合做為以下哪個主題的討論素材？

我們生活中追求 CP 值高的便宜商品，其實伴隨著看不見的成本。
 跨國企業為降低生產成本，將物品外包到世界某個不為人知的窮鄉僻壤去製造，剝削當地的勞工，以追求商品的低價，這就是 CP 值的真實來源。

CP 值：為性能與價格的比值，CP 值高，代表該商品效能好又便宜。

- (A) 全球商品多樣性 (B) 跨國投資的風險 (C) 勞動權益的保障 (D) 跨國界經濟犯罪。
20. 美美在網路上看到下述的訊息。請問：我國無法以「中華民國」名義加入聯合國的原因為何？
 1971 年我國退出聯合國，也被迫退出隸屬於聯合國之下的世界衛生組織。1997 年開始，我國積極重返 WHO 和 WHA，並嘗試以不同名義爭取參加，足足努力了 12 年，終於以中華臺北的名稱，取得 WHA 觀察員身分。
- (A) 國際條約的束縛 (B) 經濟發展實力不足
 (C) 國家主權不被承認 (D) 已加入其他國際組織。
21. 新聞報導：臺灣的飲食文化歷經數次改變，先在 1949 年後蘊含了中國各地菜色，後來又因全球化現象，融入了速食餐點風味。請問：1949 年發生什麼事件，導致臺灣的飲食文化有了改變？ (A) 國共內戰失利 (B) 白色恐怖事件 (C) 二二八事件的處理不當 (D) 修訂動員戡亂時期臨時條款。
22. 下述內容說明臺灣透過何種方式與世界接軌？
 臺灣是世界盃足球賽的球衣製造商，這件具綠色概念的球衣，是由回收寶特瓶製成的纖維和布料所生產出來，平均每 8 個寶特瓶可製成 1 件球衣，不僅顯示臺灣紡織技術的優勢，也見證我國對環境保護、節能減碳的承諾，獲得國際肯定。
- (A) 提供國際援助 (B) 加入國際組織 (C) 簽署國際公約 (D) 善盡國際責任。
23. 就讀大學的欽耀想要利用暑假做一件有意義的事，下圖是他瀏覽的網站畫面。若欽耀報名此計畫，可以實踐哪項世界公民責任？

暑假海外國際志工服務團
 熱情招募


教育就是希望
 你可以影響更多人的生命
 讓我們將這份愛心和希望
 從臺灣帶向世界各地

內容：教育服務、文化服務、勞動服務
 地點：柬埔寨、菲律賓、尼泊爾、蒙古

- (A) 關心國際情勢的變化 (B) 展現合宜的國際禮儀
 (C) 以實際行動積極貢獻自我 (D) 使用社群網路建立溝通橋梁。

二、題組

【一】附圖是臺灣地名由來示意圖，由圖回答下列問題。



24. 台窩灣是指今日何處？
 (A) 安平 (B) 鹿港 (C) 萬華 (D) 高雄。
25. Tayovan 的地名與哪一族群相關？
 (A) 閩南人 (B) 平埔族 (C) 高山族 (D) 客家人。
26. 設立臺灣府，屬於臺灣哪一個時期的行政區劃？
 (A) 鄭氏 (B) 清帝國 (C) 日治 (D) 民國。

【二】請閱讀下列敘述，並回答問題：

臺灣的地名與歷史產業有密切的關聯。例如：「鎮」與「營」的相關地名，是因為當地曾實施寓兵於農的「軍屯」；而「大稻埕」則是晒穀場的意思；「張犁」、「甲」代表土地的計算單位；「股」是墾戶募集資金，墾成後分配土地股份；「結」是漢人墾地「結首」制的代稱，這些地名都反映當時農業開墾的狀況。除此之外，地名含有「樟」或「腦」者多半與製造樟腦有關，而含有「茶」字者大多為產茶區域，地名若有「蔗」、「廓」，則大多是製糖的聚落。

27. 代表軍屯的「鎮」或「營」等地名，最可能分布於哪個地區？ (A) 臺北 (B) 新竹 (C) 臺中 (D) 臺南。
28. 含有「茶」字的地名，最可能分布哪個地區？ (A) 新竹丘陵 (B) 嘉南平原 (C) 海岸山脈 (D) 花東縱谷平原。
29. 根據以上資料與你的歷史知識判斷，下列地名的出現，依照時代先後應如何排序？(甲)嘉義(乙)松山(丙)林鳳營
 (A) 甲乙丙 (B) 乙丙甲 (C) 丙甲乙 (D) 丙乙甲。

【三】請閱讀下列敘述，並回答問題：

臺灣與紐西蘭在世界貿易組織架構下，以會員身分締約，雙方於 2013 年簽署「臺澎金馬個別關稅領域與紐西蘭經濟合作協定」。協定共計 25 章，包括貨品貿易、原產地規則、關務程序與合作、跨境服務貿易，以及環境、原住民族、影視共同製作等合作議題，藉此臺灣與紐西蘭之間的貿易關係將更加緊密。

30. 簽署協定後，臺灣的何種產品最可能因該協定而迎來較大的商機？ (A) 麵粉 (B) 棉花 (C) 玉米 (D) 蝴蝶蘭。
31. 臺灣積極與其他國家簽訂經濟合作協定，對於農業生產而言有什麼優點？ (A) 擴大市場通路 (B) 減少交通成本 (C) 降低糧食進口量 (D) 降低農產運送損壞。

【四】請閱讀短文後，回答下列問題：

有本書的內容提及：「棉織工廠都是大型建築，工廠主人為了充分利用空間，各樓層都盡量壓低高度……工廠往往晝夜開工，夜間照明須燃燒大量的蠟燭，但幾乎沒有通風設備。因此，在新鮮空氣不足的情況下，工廠裡瀰漫著工人身上的汗臭味以及機油、棉絮、蠟燭等發出的惡濁氣味。……這種惡劣的工作環境導致這個地區傳染病流行，並且造成許多人的死亡。」

32. 下列哪一學說的出現，曾對上述的現象提出批評，期盼能改善此種情形？ (A) 人文主義 (B) 社會主義 (C) 天賦人權 (D) 主權在民。
33. 請依據內容判斷本書書名應為下列何者？
 (A) 文藝復興時期的手工業 (B) 科學革命的成就
 (C) 啟蒙運動的思想改革 (D) 工業革命的搖籃。

【五】下圖是 1899 年刊載於美國雜誌上的政治漫畫，標題為「日本在美國的支持下初次參加社交活動」，請觀察圖片並回答問題：



34. 請根據畫中出席者所代表的國家推斷：所謂「參與社交活動」應是指下列何事？ (A) 加入非洲的瓜分 (B) 參與維也納會議 (C) 躋身列強之林 (D) 控制美洲的事務。
35. 日本能夠獲得介紹，正式「參加社交活動」因為日本完成下列哪些事情？ 甲、明治維新；乙、擊敗中國；丙、擊敗俄國；丁、取得殖民地
 (A) 甲乙丙 (B) 甲乙丁 (C) 甲丙丁 (D) 乙丙丁。

【六】請閱讀短文後，回答下列問題：

蘇聯解體前，民生物資匱乏、貨幣超發嚴重，導致貨幣貶值，幾乎所有商品都出現短缺。

蘇聯解體後，歷經兩次經濟轉型的陣痛。2004年起，俄羅斯聯邦經濟開始起飛；2011年，GDP增長4.3%。擺脫了共產計畫經濟的俄羅斯人民，解放了生產力，並取得驚人的經濟發展成績。然而，近年出現不斷下滑的趨勢、多年出現負增長。故此後，經濟問題是俄羅斯政府在國內面臨的主要挑戰。

(資料來源：改寫自陸南泉，俄羅斯經濟轉型30年評析，2021年。)

36. 本文最可能被下列哪本書籍引用？
 (A) 二次大戰與蘇聯 (B) 冷戰後的俄羅斯
 (C) 俄國與共產革命 (D) 計畫經濟的前景。
37. 上文提到的俄羅斯聯邦，是蘇聯解體後成立的聯邦制國家，其目前參加的區域性政治組織應為下列何者？
 (A) 北大西洋公約組織 (B) 華沙公約組織
 (C) 獨立國家國協 (D) 國際聯盟。

【七】請閱讀下列文章後，回答問題：

根據媒體報導，國人一年喝掉 28 億杯咖啡。在龐大的市場需求下，咖啡豆需仰賴進口，才能維持穩定價格。然而，在全球咖啡市場中，咖啡農遭到剝削已非新聞，例如：非洲衣索比亞的咖啡豆價格，每公斤不足 10 元新臺幣。

為了對抗不平等的貿易，出現了公平貿易咖啡的生產。在國際公平貿易標準認可下，不僅提供咖啡農合理的收購價格，也鼓勵加入公平貿易組織的農民們採用對環境友善的生產方式。同時，消費者也可以透過這樣的商業網絡，追溯咖啡產品的來源，創造更好的自然及社會環境。然而，多數跨國咖啡企業僅有少部分產品是選用符合公平貿易的咖啡豆。

「每一次消費，都是改變未來的選擇。」面對咖啡農處境不利的情況，我們的消費行為與偏好也是改善的關鍵之一，唯有大家體認到公平貿易的意義與重要性，並實踐追求公平正義的理念、監督企業合理分配利潤並減少剝削，社會才能有所轉變，進而形塑一個更美好的地球村。

(資料來源：改寫自 1. 臺灣人一年能喝掉 28 億杯咖啡！業者老是推「買一送一」卻不降價有原因。民視新聞網，2021/02/22。2. 公平貿易咖啡·公平貿易咖啡豆—Fairtrade Taiwan，2021/3/18。)

38. 從上文可知，我國是透過何種方式滿足咖啡市場的供給？
 (A) 基因改造技術 (B) 仰賴國際貿易
 (C) 強化環境保護 (D) 改善消費偏好。
39. 由本文可知，公平貿易咖啡之所以提供合理收購價格，最主要是希望落實什麼目標？
 (A) 減少國際間的衝突 (B) 推行咖啡飲用風氣
 (C) 增加咖啡農生產意願 (D) 解決貿易利潤分配不均。
40. 消費者選購公平貿易的商品，其行為同時也是在落實何種公民德性？ (A) 遵守法律規範 (B) 理性互動溝通
 (C) 追求社會正義 (D) 提升自身知能。

【八】請閱讀下列文章後，回答問題：

2020 年中，總統蔡英文宣布自 2021 年起開放含「萊克多巴胺」的美國豬肉。政府表示：在國際互動上，強調國家間的互惠，我國若欲與美國建立更良好的關係，禁止美豬、美牛進口的貿易障礙，是不可迴避的問題，並列舉日本與南韓均已依照國際標準予以開放，臺灣若堅守禁令，恐將面臨全球孤立的處境。

此政策引發民眾反彈，本土豬農擔憂豬肉市場受到便宜的進口豬肉衝擊，影響銷售，而多數民眾則擔心食品安全問題。對此，農委會表示：進口豬肉因口感與新鮮度不佳，火腿、香腸、肉鬆等加工肉類業者可能採用，但一般消費者的購買意願應該不高。豬肉業者也表示願意清楚標示產地，減少消費者在購買上的疑慮。(資料來源：改寫自萊劑美豬開放吵翻天爭議點、始末一次看，聯合新聞網，2021/03/12。)

41. 根據上文，下列敘述何者正確？
 (A) 開放美豬進口後，我國豬肉將失去市場競爭力
 (B) 國際關係也是國際貿易政策所需考量的因素之一
 (C) 開放美豬進口，是為了滿足國內消費者飲食需求
 (D) 我國進口美國豬肉，將增加我國的國際貿易收入。
42. 開放美豬進口對我國造成不小衝擊，從文中敘述來看，下列何者作法最有可能減緩民眾對進口美豬的焦慮？
 (A) 清楚標示國產豬與進口豬的產地來源
 (B) 強調國家間的互惠關係與全球的處境
 (C) 說明國產豬與進口豬的口感及價格差異
 (D) 舉出日本與南韓已開放美豬進口的消息。

113-2 社會科九年級補行評量題庫答案

1	D	2	B	3	C	4	A	5	C
6	D	7	C	8	B	9	A	10	D
11	D	12	C	13	D	14	D	15	A
16	A	17	B	18	A	29	C	20	C
21	A	22	D	23	C	24	A	25	B
26	B	27	D	28	A	29	C	30	D
31	A	32	B	33	D	34	C	35	B
36	B	37	C	38	B	39	D	40	C
41	B	42	A						