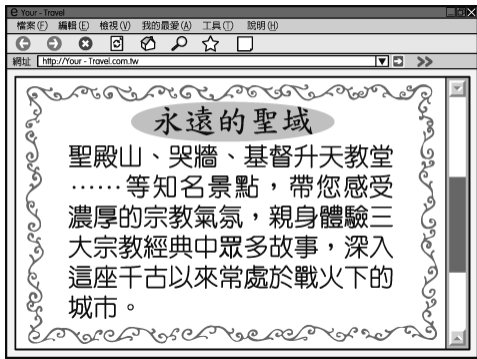
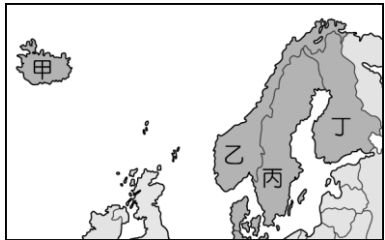


地理試題

- 1.()世界著名的落磯山脈為哪兩個海陸板塊撞擊所形成的高山，地勢高聳，多火山、地震活動？(A)太平洋板塊、歐亞板塊(B)大西洋板塊、歐亞板塊(C)大西洋板塊、美洲板塊(D)太平洋板塊、美洲板塊。
- 2.()蔚藍家想一起前往歐洲某國旅行，大家討論該國著名的景點活動，由附圖的對話中可知蔚藍家要前往的是哪一國家？(A)義大利 (B)法國 (C)西班牙 (D)希臘。
- 3.()河川流域面積大小影響沿岸地區的聚落分布。請問：目前世界上流域面積最廣的河川為下列何者？(A)多瑙河(B)尼羅河(C)亞馬孫河(D)密西西比河。
- 4.()依林到歐洲拍攝歌曲《布拉格廣場》的音樂錄影帶，若導演欲到布拉格當地拍攝，須前往哪一個國家？(A)波蘭 (B)義大利 (C)捷克 (D)德國。
- 5.()拉丁美洲位於赤道所經過的地區，當地的語言及文化主要受哪些國家所影響？(A)英國、法國(B)西班牙、葡萄牙(C)德國、瑞典(D)義大利、土耳其。
- 6.()北歐的芬蘭利用天然的冰蝕湖和當地盛產的針葉林發展出著名的芬蘭浴，是旅遊當地的觀光客必定體驗的活動。請問：芬蘭位於附圖中何處？(A)甲 (B)乙 (C)丙 (D)丁。
- 7.()孝介在網路上看到一則旅行社的廣告如附圖，由圖中資訊可知，這是在宣傳哪一都市的旅遊行程？(A)伊斯坦堡 (B)麥加 (C)耶路撒冷 (D)杜拜。
- 8.()曉明在 google earth 觀看中南美洲的國家分布狀況。請問：他在衛星影像中見到面積最大的國家為下列何者？(A)智利(B)巴西(C)巴拿馬(D)巴拉圭。
- 9.()歐洲地區以其特色不同而分為數個區域，其中阿爾卑斯山為主要山脈。位於阿爾卑斯山以南的地區稱為南歐。請問：南歐主要的地形型態為下列何者？(A)大陸 (B)群島 (C)半島 (D)岬角。
- 10.()奧地利多次舉辦「滑雪障礙世界盃」賽事，利用當地的地形環境來進行，增加比賽的難度。前往奧地



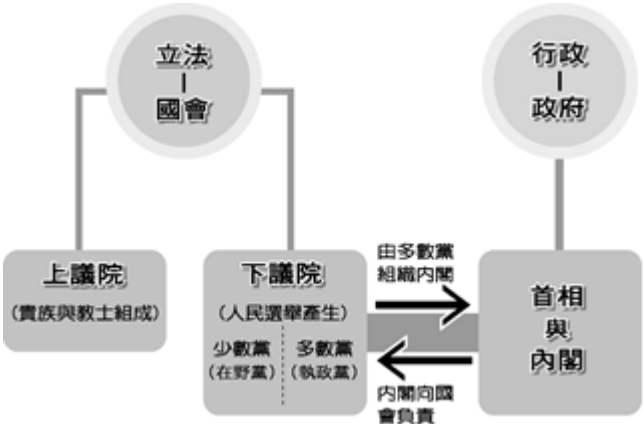
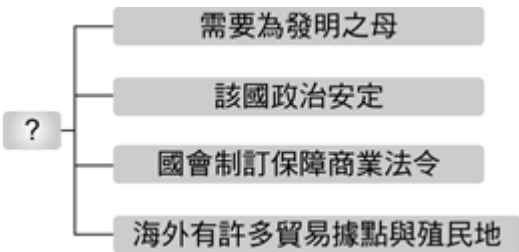
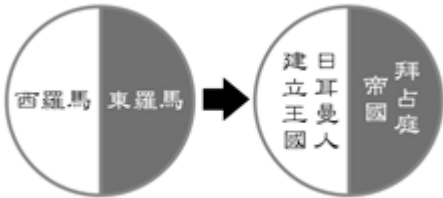
利參賽的滑雪選手必須克服哪一地形的障礙？(A)平原 (B)高原 (C)盆地 (D)山地。

地理答案：

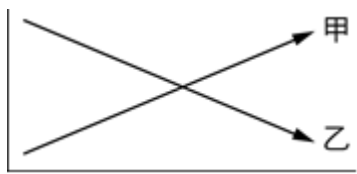
- 1.(D) 2.(C) 3.(C) 4.(C) 5.(B)
6.(D) 7.(C) 8.(B) 9.(C) 10.(D)

歷史試題

- 11.()孕育每個文明的時空背景不盡相同，因此每個文明各有其獨特性。中國文化、西亞文化、埃及文化與印度文化的共同特色為何？(A)都是亞洲人所創 (B)都是印歐民族所創 (C)都發源於大河沿岸 (D)都開始於西元前二千年。
- 12.()阿民在復習歷史，發現中國的漢朝與羅馬帝國有許多相似之處。請問：何者不是漢朝與羅馬帝國的共同點？(A)都是大一統帝國(B)都曾遭受北方民族的襲擾(C)後來都分裂為兩部(D)都曾向外開疆拓土。
- 13.()由附圖的演變內容判斷，這與下列何事件有關？(A)蒙古入侵 (B)匈奴入侵 (C)土耳其入侵 (D)阿拉伯入侵。
- 14.()路易斯是個 15 世紀後期的商人，他很想到亞洲去貿易，但是聽說陸地上的道路被某民族所阻礙，因此只好選擇海上航路冒險一試。請問：他聽說的某民族應該是下列哪一種人？(A)蒙古人 (B)塞爾柱土耳其人 (C)阿拉伯人 (D)鄂圖曼土耳其人。
- 15.()附圖是某大事件的歷史背景因素。請問：這最有可能是以下哪一事件？(A)美國獨立運動 (B)工業革命 (C)科學革命 (D)啟蒙運動。
- 16.()下列是某場演講中主持人所發送的資料。根據內容判斷，該場演講應是介紹哪一個國家首先發展出來的制度？(A)美國 (B)法國 (C)俄國 (D)英國。



- 17.()老師上課時，黑板上展示附圖，用以代表十七、十八世紀時歐洲兩個國家王權消長情形。由此圖推論，甲、乙兩者各可能是哪個國家？(A)法國、俄國 (B)英國、普魯士 (C)法國、英國 (D)普魯士、俄國。



- 18.()電影「韋小寶」裡有幕情節描述，皇帝在鰲拜尚未被審判定罪前，就派韋小寶將鰲拜的財產全部充公。上述皇帝的作法，抵觸歐洲啟蒙時代哪位學者的重要主張？(A)孟德斯鳩 (B)伏爾泰 (C)盧梭 (D)洛克。
- 19.()小青參加百萬小學堂節目，其中一題題目如附圖，小青應選擇哪個答案才能正確過關？(A)土耳其人 (B)阿拉伯人 (C)中國人 (D)羅馬人。



- 20.()明瑞到歐洲旅遊，導遊說：「在歷史上，這個國家曾被羅馬帝國、西哥德王國及伊斯蘭教政權統治過，所以它是一個具有多種文化特色的國家。」依此推斷，最可能是下列哪一個國家？(A)英國 (B)法國 (C)埃及 (D)西班牙。

歷史答案：

- 11.(C) 12.(C) 13.(B) 14.(D) 15.(B)
16.(D) 17.(C) 18.(D) 19.(B) 20.(D)

公民試題

- 21.()關於經濟學所討論的「稀少」，下列敘述何者正確？(A)「稀少」等於貧窮 (B)不花代價就可取得的資源都具有「稀少性」 (C)擁有上億財產的人，不會面臨「稀少」的問題 (D)對都市居民來說，清新的空氣具有「稀少」的性質。
- 22.()下列為四位同學對比較利益法則的理解，何者觀念正確？(A)小芬：每個國家只進口本國具比較利益的產品 (B)小珊：價格低多買即是符合比較利益法則 (C)小文：比較利益法則是分工的基礎 (D)小蕙：比較利益法則運用的是絕對優勢。
- 23.()張家一家人為籌措房子的頭期款，分別提出各種理財計畫。請問：下列何人的建議最符合「安全、低風險」的條件？(A)媽媽：「我建議購買政府公債，累積利息，等時間到了再贖回來。」 (B)姐姐：「我覺得投資股票獲利比較高，能夠快速累積財富。」 (C)妹妹：「樂透彩又加碼，我建議拿積蓄去購買樂透彩券，只要中大獎，我們就發財了。」 (D)爸爸：「最近新臺幣貶值，我建議購買外國貨幣，賺取匯差。」

- 24.()附圖是甲、乙二國在國際貿易競爭現況的分析。根據內容判斷，文中所指不利乙國產品競爭力的原因，最可能是下列何者？(A)生產要素不足 (B)商品售價較高 (C)區域統合瓦解 (D)勞動所得增加。

甲國與乙國所出口的產品性質與成本均非常相近，但甲國即將加入某關稅同盟，而乙國卻因不是會員，產品仍須繳納高額關稅才得以進入該關稅同盟的市場，這個因素對乙國產品的競爭力將有很大的衝擊。

- 25.()阿丁是噹噹銀行的信用卡用戶，附表列出該银行信用卡消費累積點數可兌換的商品，以及阿丁對各項商品喜好程度的排序情形。請問：若阿丁使用已累積的 5,000 點兌換一臺數位相機，根據內容判斷，他做此選擇的機會成本為何？(A)甲 (B)乙 (C)丙 (D)丁。

選項	所需點數	商品名稱	喜好之排序
甲	5,000	電子辭典	4
乙	5,000	運動手錶	2
丙	5,000	數位相機	1

- 26.()阿峰擺攤賣水蜜桃，廣告看板上標明「一斤 200 元」，結果乏人問津。據此判斷，均衡價格可能是多少元？(A) 180 元 (B) 200 元 (C) 210 元 (D) 220 元。
- 27.()阿中擁有多張信用卡，因而過度消費，導致積欠卡債多達 200 萬元。他無力還款，造成個人信用不良。請問：此狀況最有可能對他造成下列何種影響？(A)以後很難再向金融機構借錢 (B)可以向其它金融機構繼續借錢 (C)對求職工作不會造成任何影響 (D)不會在銀行以外的任何機構留下信用記錄。
- 28.()下列關於「生產成本」的敘述，何者正確？(A)使用資本所支付的代價為地租 (B)使用勞動所支付的代價為薪資 (C)使用土地所支付的代價為利息 (D)生產者自己參與生產，不須估算成本。
- 29.()關於企業型態與投資經營的原則，下列敘述何者正確？(A)生產者使用各項生產要素時所支付的代價，就是「投資」 (B)股份有限公司的資產若不足承擔虧損時，須以共同經營者的私人財產來支付 (C)企業透過與其他企業合作來增加生產成本 (D)企業透過投資，可以擴充生產規模、提升產品品質、提高生產利潤。
- 30.()下列是亦婕在雜誌上看到的部分文章。根據內容判斷，該段文字說明了下列哪項意涵？(A)企業發展與政府決策的落差 (B)環境保育對經濟發展的威脅 (C)社會福利影響政府經濟評估 (D)經濟發展不應忽略生態環境。

近幾十年來，中亞地區的人民為了大量種植棉花等經濟作物，而引河水灌溉，使鹹海面積縮小二分之一，水量減少為從前的三分之一，湖水含鹽濃度提高，幾乎為一般海水含鹽濃度的四倍，形成生態上的浩劫。

公民答案：

- 21.(D) 22.(C) 23.(A) 24.(B) 25.(B)
26.(A) 27.(A) 28.(B) 29.(D) 30.(D)