


地理科


01. 如下附圖的降水類型最可能為下列何者？(A)對流雨 (B)地形雨 (C)鋒面雨 (D)颱風雨。
02. 新竹素有「風城」之稱，全臺知名的米粉及柿餅即是利用旺盛的「九降風」(東北季風)風乾的。下列有關於風的敘述，何者有誤？(A)空氣由高氣壓往低氣壓流動形成風 (B)風是指空氣水平的流動 (C)風向是指風的去向 (D)風速是指空氣的流動速度。



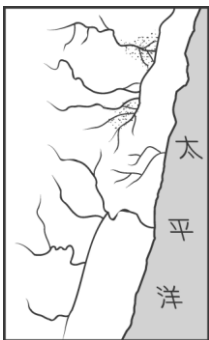
03. 大氣的溫度變化主要受到地理環境的因素影響，附表中為常見的氣溫影響因素。請問：若僅考慮表中要素而言，何地的平均溫度最高？(A)甲 (B)乙 (C)丙 (D)丁。

	甲	乙	丙	丁
緯度	高	高	低	低
海拔高度	高	低	高	低

04. 安迪攜帶了乾糧參加登山活動，卻發現在平地時和在山頂時，包裝外觀有了改變，如附圖所示。請問：造成這種問題的最主要因素為何？(A)氣溫變化 (B)氣壓大小 (C)風力強弱 (D)日照溫度。



05. 近年來，豪雨經常造成水患頻傳，若要觀測降水量的多寡，其測量單位為下列何者？(A) m (B) km (C) cm (D) mm。
06. 地球中的水分子會不斷地循環，生生不息。請問：地面上的水分子如何回到天空中？(A)降水 (B)凝結 (C)蒸發 (D)逕流。
07. 臺灣某地區的河川流向受到地形阻隔的影響，如圖(一)所示。請問：圖(一)這種水系型態分布於圖(二)中的何處？(A)甲 (B)乙 (C)丙 (D)丁。



▲圖(一)



▲圖(二)

08. 臺灣西岸地區的南北走向橋梁分布特別密集。請問：這種交通特色和哪一項因素的關係最大？(A)河川流向 (B)降水分布 (C)季風風向 (D)土壤特性。
09. 臺灣的河川共有一百多條，然而僅少數河川具有航運的功能。請問：造成這種現象的主要因素為下列何者？(A)集水區水量多 (B)河川流量變化大 (C)河川結冰期長 (D)河川出口不佳。
10. 臺灣三大河：(甲)淡水河(乙)濁水溪(丙)高屏溪。依長度由長至短排列，正確順序為何？(A)甲乙丙 (B)乙甲丙 (C)丙乙甲 (D)乙丙甲。

1	A	2	C	3	B	4	B	5	D
6	C	7	D	8	A	9	B	10	D

歷史科

11. 根據考古研究，五萬年前居住在臺灣的人類已知用敲擊的方式製作石器，並懂得利用石器來採集、狩獵和漁撈。請問：這是屬於哪一時期人類的生活？(A)舊石器時代 (B)新石器時代 (C)金屬器時代 (D)歷史時代
12. 彌豆子將臺灣的史前文化整理出下表，若依發展的時間順序排列，請問：下列何者正確？(A)甲乙丙丁 (B)乙丙丁甲 (C)丙乙甲丁 (D)丁乙甲丙

地區	時代	甲	乙	丙	丁
北部		十三行文化	網形文化	大坌坑文化	圓山文化
中部		蔦松文化	—		牛稠子文化
東部		靜浦文化	長濱文化		卑南文化

13. 人類的發展，可以分成史前時代和歷史時代，其劃分標準是什麼？(A)有無使用文字 (B)有無發展出國家觀念 (C)有無社會組織 (D)有無用火的經驗。
14. 炭治郎到位於臺東的國立臺灣史前文化博物館參觀，館裡的一項常設展中，展出品是從石板棺出土的精美陪葬品，包括六千多件的玉器，以及石刀、石鏹、石杵等石器，陶器則有陶罐、陶偶、陶蓋等，均相當精美或具有高度的實用性。請問：此項展覽最可能以哪一文化為主題？(A)圓山文化 (B)卑南文化 (C)十三行文化 (D)大坌坑文化
15. 西元 1684 年，清朝哪一位皇帝決定將臺灣正式納入版圖？(A)康熙 (B)雍正 (C)乾隆 (D)嘉慶
16. 清帝國統治臺灣後不久，即頒布「渡臺禁令」。請問：下列有關「渡臺禁令」的敘述，何者符合史實？(A)除配偶外，規定禁止攜帶男眷 (B)禁令執行時寬時嚴，移民偷渡情形仍然普遍 (C)渡臺證照手續相當複雜，但不難申請 (D)規定女子須申請渡臺證照，才允許到臺灣居住
17. 臺灣古地圖上有所謂的「土牛界」的存在。請問：土牛界是清領時期用來畫分何者的依據？(A)漢人、臺人 (B)閩人、客人 (C)漢人、原住民 (D)生番、熟番
18. 清帝國統治時期，來臺移民多有其原鄉信仰，但下列哪些是跨地域與族群的共同守護神？(甲)媽祖 (乙)土地公 (丙)開漳聖王 (丁)三山國王 (A)甲乙 (B)甲丙 (C)甲丁 (D)乙丁

19. 清帝國統治後期有幾場戰爭影響到臺灣，請問：下列哪一場戰爭促使清廷開放臺灣港口，外國勢力正式進入臺灣？
(A)中法戰爭 (B)日軍侵臺 (C)英法聯軍 (D)牡丹社事件
20. 基隆市有一處清帝國統治時期建造的法國陣亡將士公墓，紀念光緒年間某次戰役的慘烈，這次戰役使清廷更為重視臺灣，而促成臺灣建省。請問：這是指哪一場戰爭？(A)中法戰爭 (B)英法聯軍 (C)八國聯軍 (D)甲午戰爭。

11	A	12	B	13	A	14	B	15	A
16	B	17	C	18	A	29	C	20	A

公民科

21. 臺灣位於東亞島弧上，北接東北亞地區，南接東南亞各國，這樣的地理位置具備經濟發展的優勢，因此吸引來自不同國籍的人來臺灣發展，進而與臺灣人結婚共組家庭。此種家庭生活模式為下列何者？ (A)兩地家庭 (B)跨國婚姻家庭 (C)頂客家庭 (D)重組家庭。

★請閱讀以下文章，並回答問題：

莫拉克風災造成當時高雄縣甲仙鄉小林村覆滅，但倖存的「小林人」並未沉溺於傷痛，反而努力復振流逝的文化。部分倖存的族人移居杉林區日光小林社區，族人們在復振產業及文化中找到重新生存的價值，也在溯源中發現自己原來是大武壠族，而非泛稱的平埔族，對自己的根源有更深體認。日光小林社區自獲得高雄市文化局挹注經費後，開辦「大武壠族歌舞文化節」，作為重現文化溯源成果的舞臺，許多離鄉遊子也於此時重返故鄉相聚，傳承文化香火。也有一些部落青年返鄉，發表記載小林獨特工藝的專書用手說的故事，或者像大武壠族後裔徐銘駿一樣，從傳統植物的田野調查做起，探索先輩的生活智慧，完成種回小林村的記憶一書，並在「大武壠族歌舞文化節」中發表。

(資料來源：改寫自聯合報，2019/04/13)

22. 日光小林社區的大武壠族人透過歌舞文化節，所傳達的理念不包含下列何者？ (A)凝聚族人的向心力 (B)塑造族人的身分認同 (C)傳承族人的傳統文化 (D)參與集會保護部落權益。
23. 在高雄小林村的大武壠族人，雖然經歷嚴重的風災，但部落青年反而更努力維繫傳統文化。請問：部落青年的作法符合下列何者？ (A)傳承自我文化 (B)重視文化交流 (C)回歸主流文化 (D)尊重外來文化。
24. 大武壠族後裔徐銘駿完成種回小林村的記憶一書，其所展現的部落精神為何？ (A)彼此照顧的互助精神 (B)部落與土地的連結 (C)以部落為單位的分配概念 (D)原住民族自治的理念。

★現代家庭生活模式呈現出多樣化的面貌，依據下列情境的介紹，判斷分別屬於哪種家庭生活模式？並於空格中填上正確代號。

A. 單親家庭、B. 隔代教養家庭、C. 重組家庭、D. 頂客家庭、AB. 兩地家庭、AC. 跨國婚姻家庭

25. 爸爸和媽媽在我小時候就離婚了，我跟爸爸一起住。去年，爸爸再婚，我們家有了一個新媽媽，新媽媽也有一個小孩，現在我家共有四個人。【 】
26. 我和太太都忙於事業，錯過生小孩的時機，因此我們沒有小孩。【 】
27. 我爸爸在中國工作，兩個月回來臺灣一次，我和媽媽每天透過視訊和爸爸聯絡。【 】

★「權力」代表政府依法行使的職權，「權利」代表法律保障人民所應享有的生活利益，兩者形成現代法治國家的重要核心。請依據下列各種情境，填入正確答案。

(A)政府行使的權力 (B)人民享有的權利

28. 公民依法行使選舉權。
29. 法官可以依法判決犯人罪刑。
30. 警察可以依法要求民眾配合酒駕臨檢。

21	B	22	D	23	A	24	B	25	C
26	D	27	AB	28	B	29	A	30	A